

تم تحميل هذا الملف من موقع المناهج الكويتية



جوزاء القهيدي

الملف أطلس خرائط داعم للمقرر الدراسي

موقع المناهج ← ملفات الكويت التعليمية ← الصف الثاني عشر الأدبي ← جغرافيا ← الفصل الأول

روابط مواقع التواصل الاجتماعي بحسب الصف الثاني عشر الأدبي



روابط مواد الصف الثاني عشر الأدبي على تلغرام

[الرياضيات](#)

[اللغة الانجليزية](#)

[اللغة العربية](#)

[التربية الاسلامية](#)

المزيد من الملفات بحسب الصف الثاني عشر الأدبي والمادة جغرافيا في الفصل الأول

<a href="#">توزيع مقرر الجغرافيا لعام</a>	1
<a href="#">نماذج اختبارات ممتازة في مادة الجغرافيا</a>	2
<a href="#">مذكرة سلمان الفارسي في مادة الجغرافيا</a>	3
<a href="#">نموذج احابة اختبار لنهاية الفترة الدراسية الاولى في مادة الجغرافيا</a>	4
<a href="#">نموذج احابة امتحان الفترة الاولى 20162017</a>	5



ثانوية درة الهاشمية  
قسم التاريخ والجغرافيا



# أطلس خرائط مقرر "قضايا البيئة والتنمية المعاصرة"

العام الدراسي ٢٠٢١-٢٠٢٢  
الفصل الدراسي الأول



مديرة المدرسة:  
أ.ساره المطيري

رئيسة القسم:  
أ.وضحة النصافي

إعداد المعلمة:  
جوزاء القهيدي

إيطاليا

موقع  
المنهج الكويتية  
almanahj.com/kw

- المقر الرئيسي حالياً لمنظمة الأغذية والزراعة للأمم المتحدة (الفاو)  
- المقر الرئيسي لبرنامج الأغذية العالمي



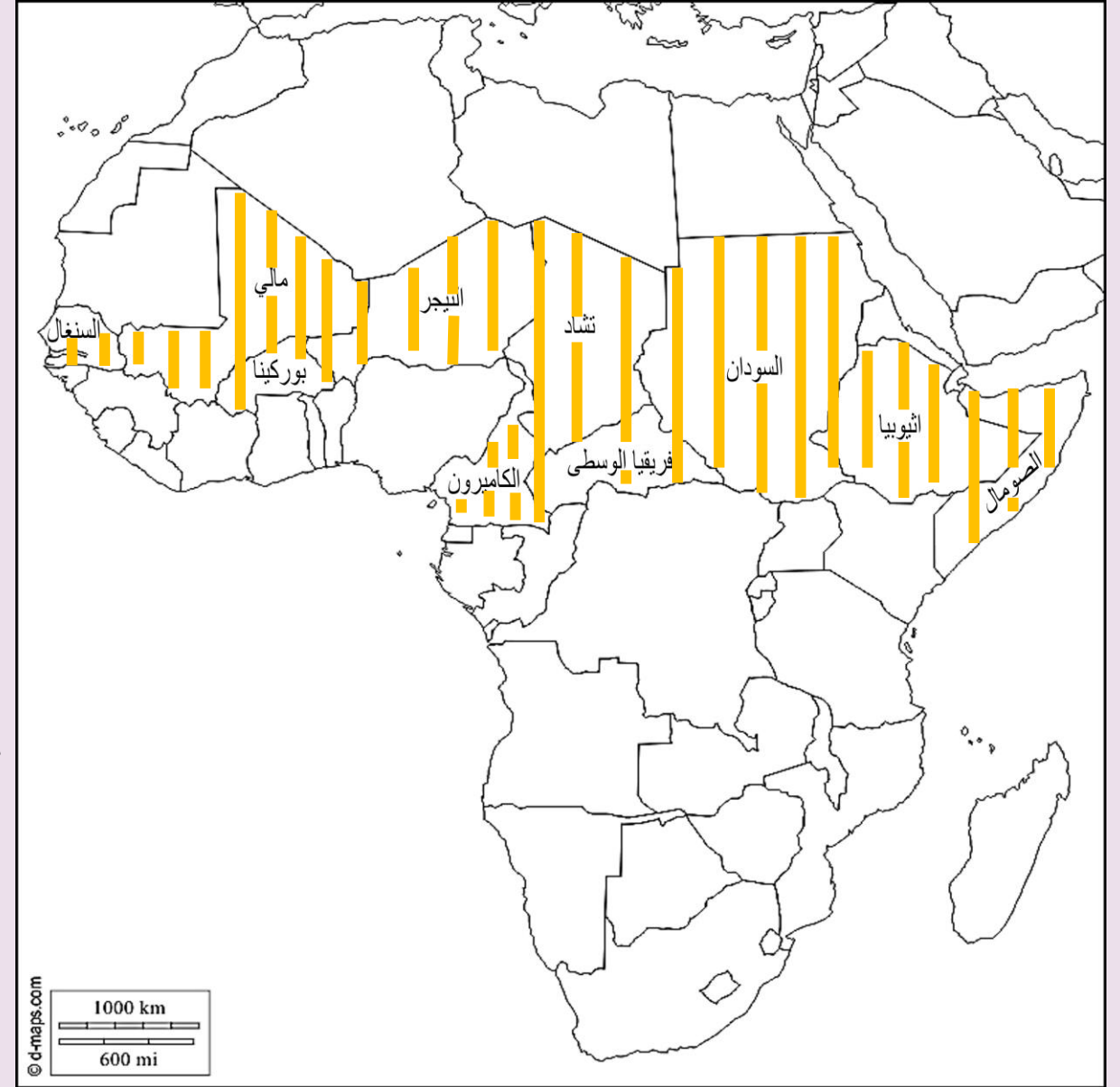
## دول حزام الجوع الأفريقي

دول تمتد من السنغال غرباً إلى الصومال شرقاً  
ومن تشاد والنيجر شمالاً إلى أفريقيا الوسطى جنوباً  
(بين دائرتي عرض ٨-١٨ شمالاً)

ك م  
ص  
٣٢



حددي  
دول حزام  
الجوع  
الأفريقي؟







٥ - الدولة التي تعرضت لغزو الجراد عام ٢٠٠٥ م



الدولة التي لعبت المعتقدات الدينية الوضعية دوراً فاعلاً في صنع المشكلة الغذائية

## دول تعاني من مشكلة الغذاء (ص ٣٩-٤٠)







- المقر الرئيسي لصندوق الأمم المتحدة لرعاية  
الطفولة (اليونيسيف)





## دول مجلس التعاون لدول الخليج العربي

ك م  
ص  
٤٤

إعداد المعلمة: جوزاء القهيدي





الخرطوم

- مدينة تقع فيها المنظمة العربية للتنمية الزراعية، ومقر الهيئة العربية للاستثمار والإنماء الزراعي

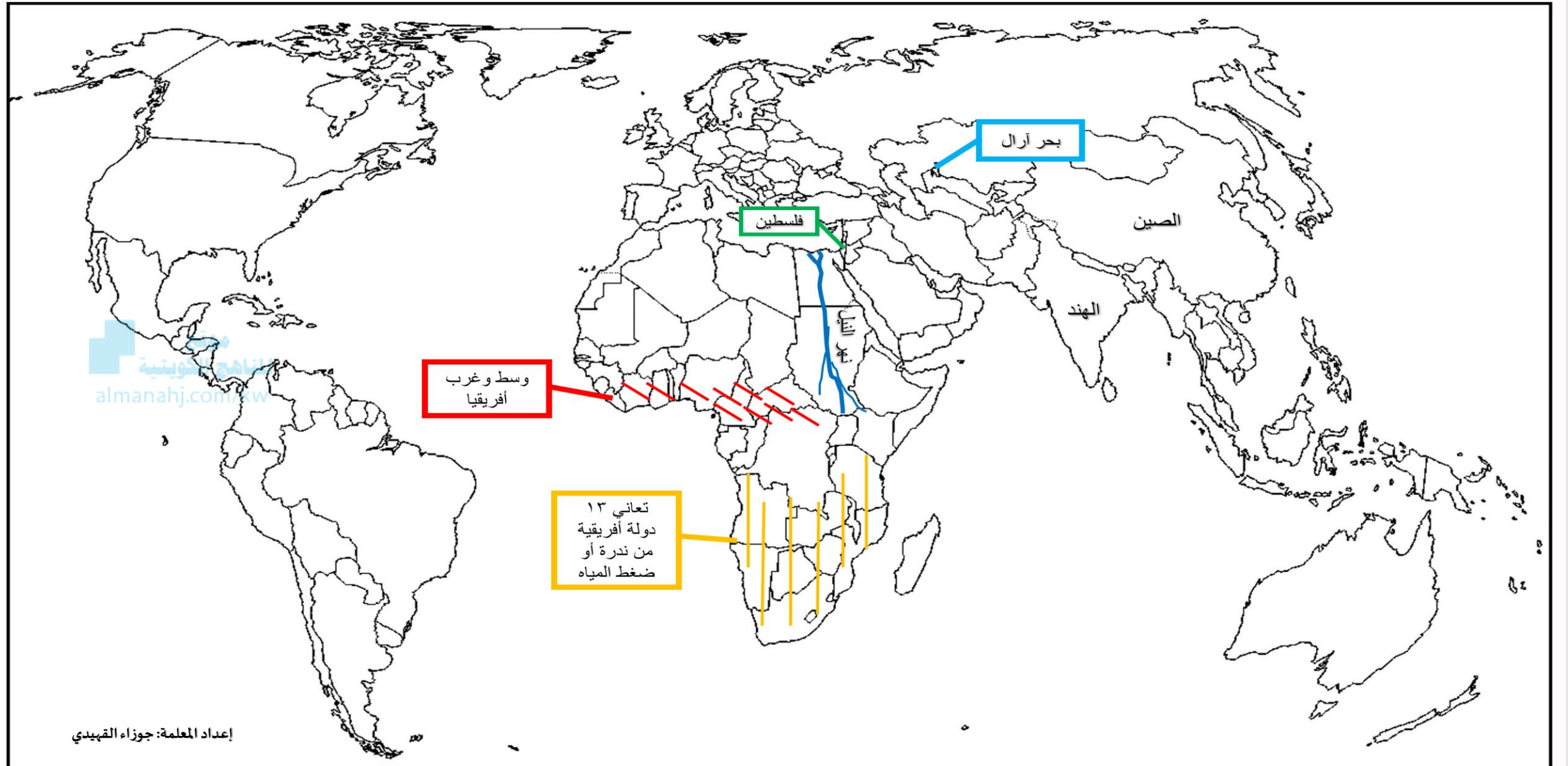
إعداد المعلمة: جوزاء القهبيدي

موقع  
الناهج الكويتية  
almanahj.com/kw



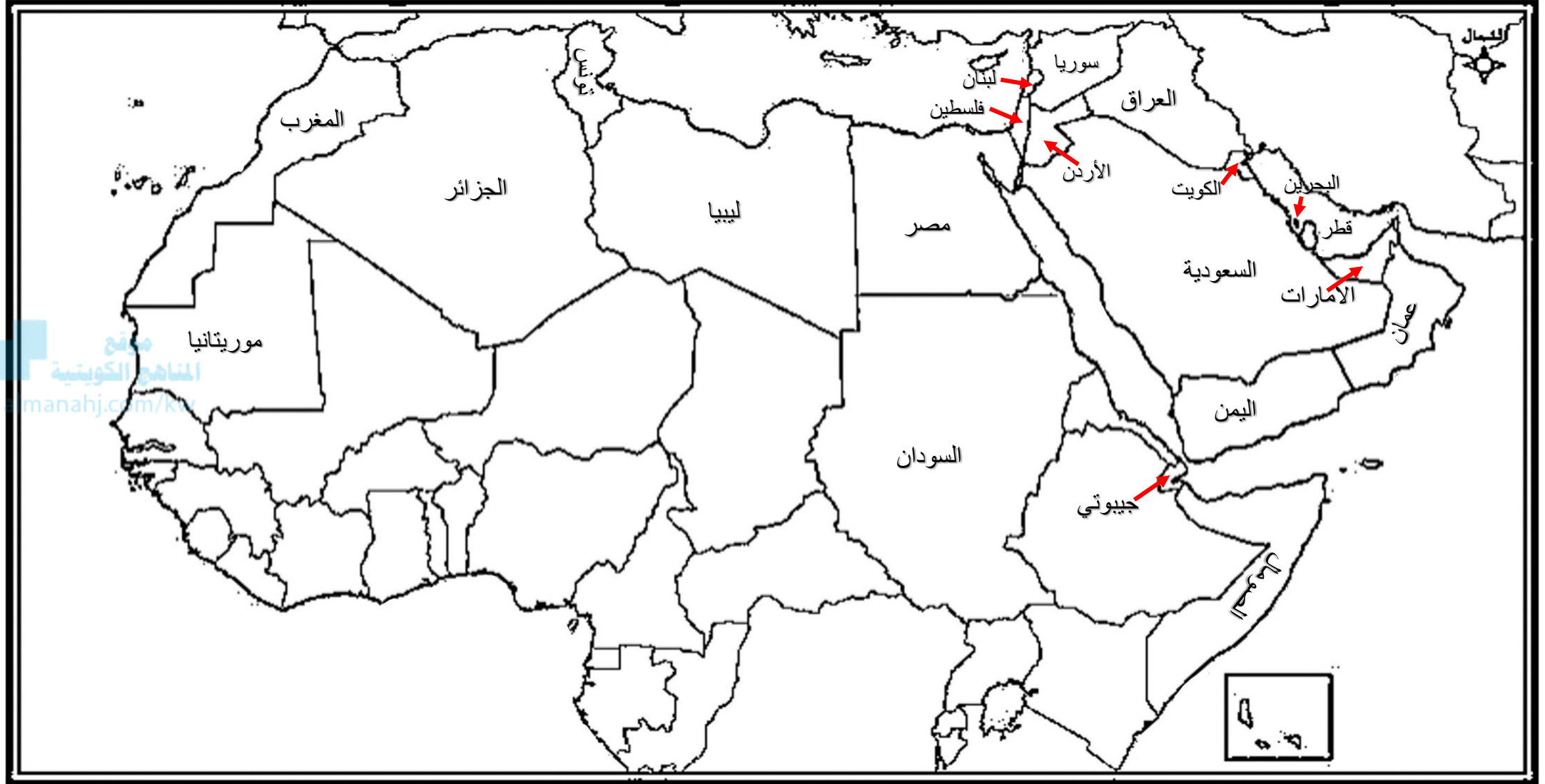
بعض الدول العربية  
الأفريقية التي تعاني  
نقصاً حاداً في الأغذية  
في الفترة ما بين  
عامي (١٩٩٩م -  
٢٠٠٣م)  
الرجوع ل ك م ص ٥٣

## دول تعاني ظهور مشكلة الماء فيها (ص ٦٠)



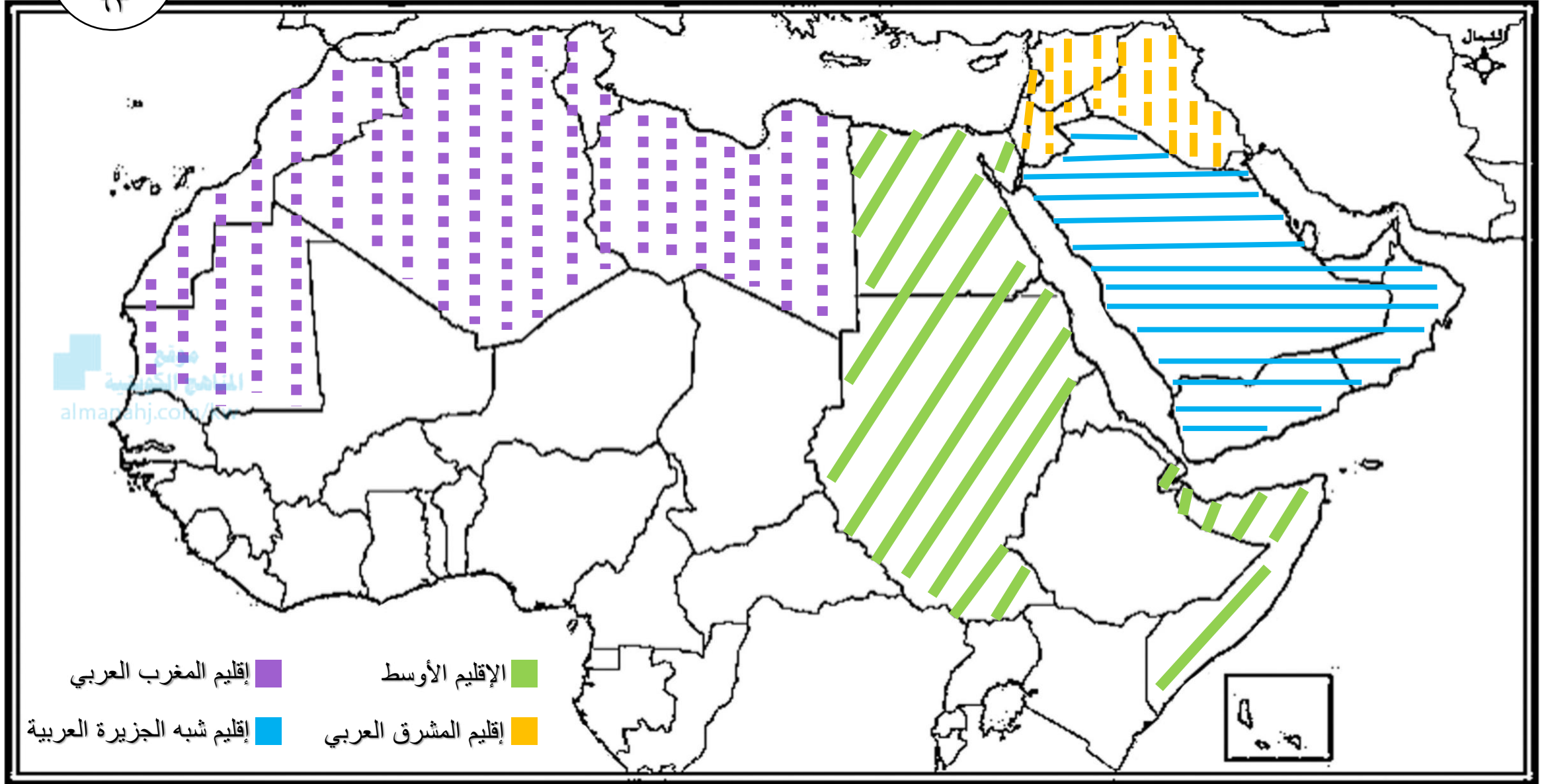


# دول الوطن العربي



## التوزيع الجغرافي للموارد المائية العربية

ك م  
٢٣



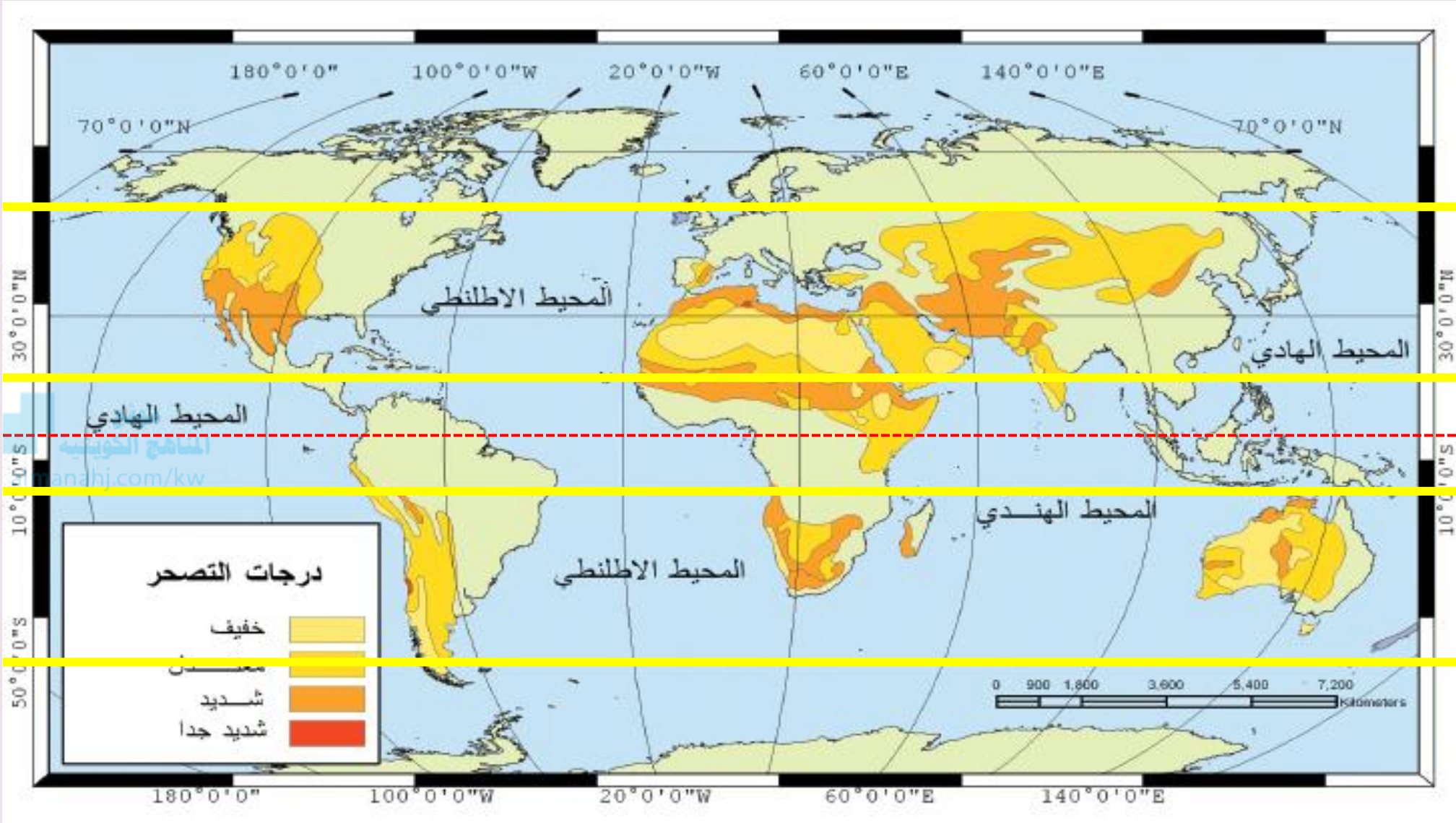
## التوزيع الجغرافي للتصحّر في العالم

تتخصّر المناطق  
الجافة وشبه  
الجافة بين  
دائرتي عرض  
١٠-٥٠ شمالاً  
وجنوباً في نصف  
الكرة الأرضية

دائرتي  
١٠-٥٠  
شمالاً

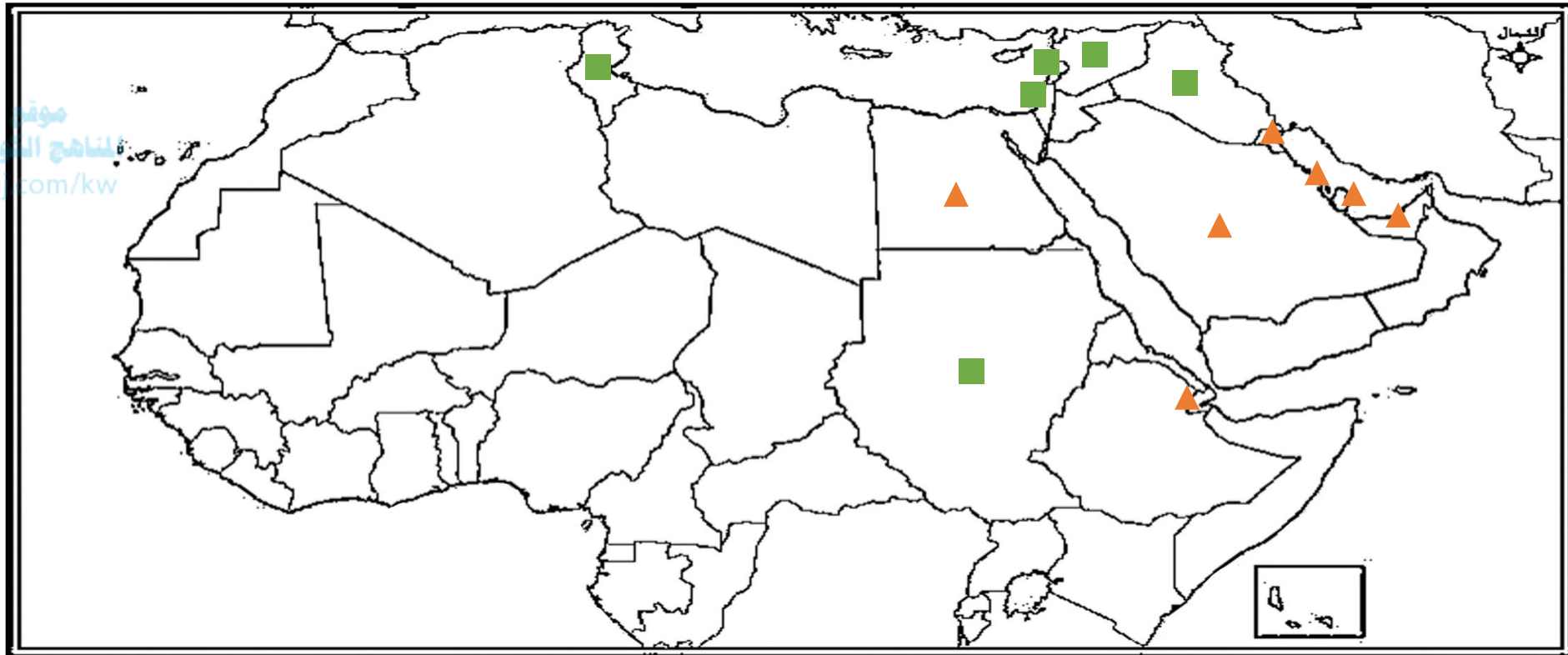

دائرتي  
١٠-٥٠  
جنوباً

خط  
الاستواء

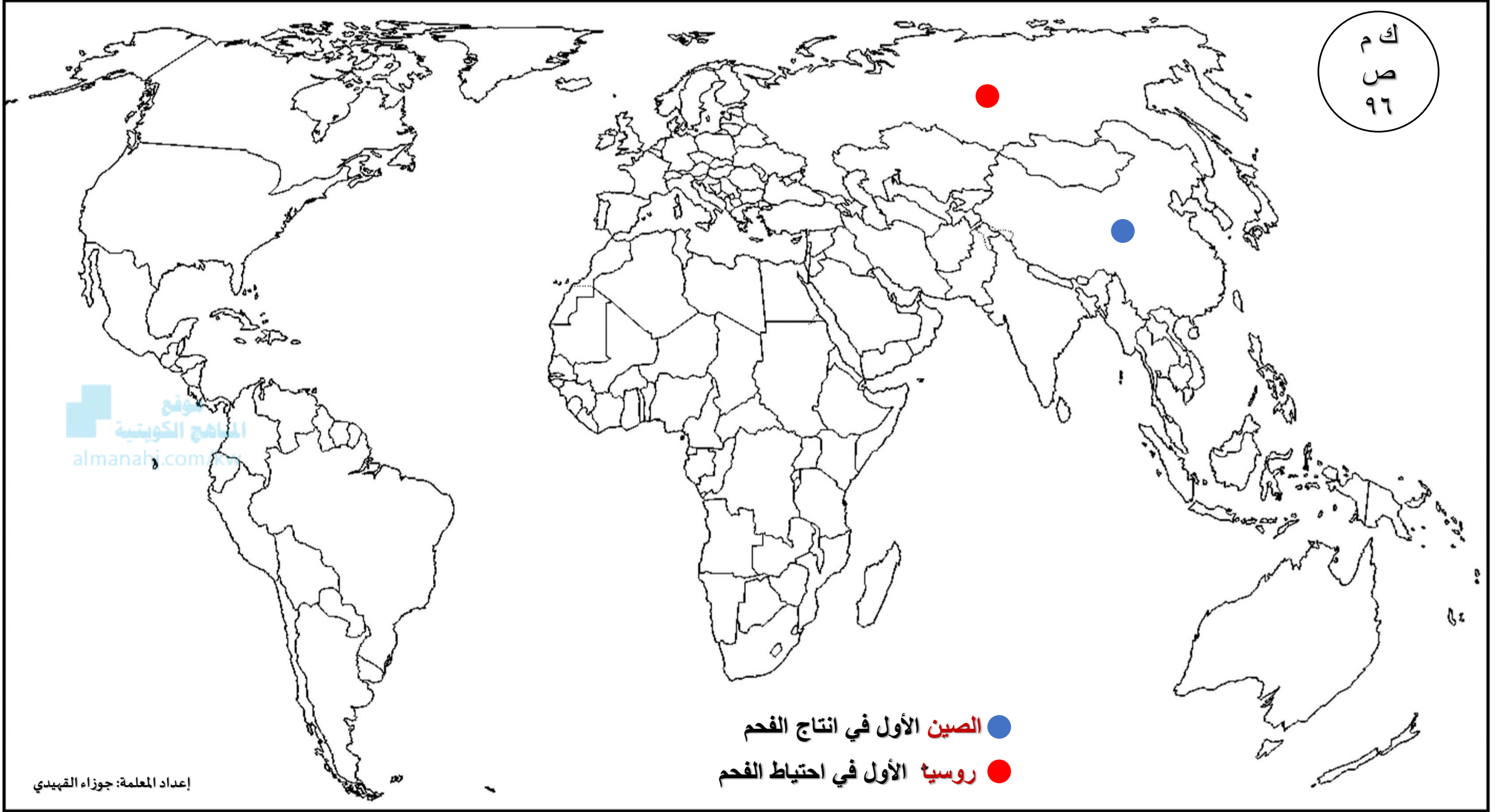




## تنقسم الدول العربية إلى مجموعتين حسب نسب التصحر فيها:







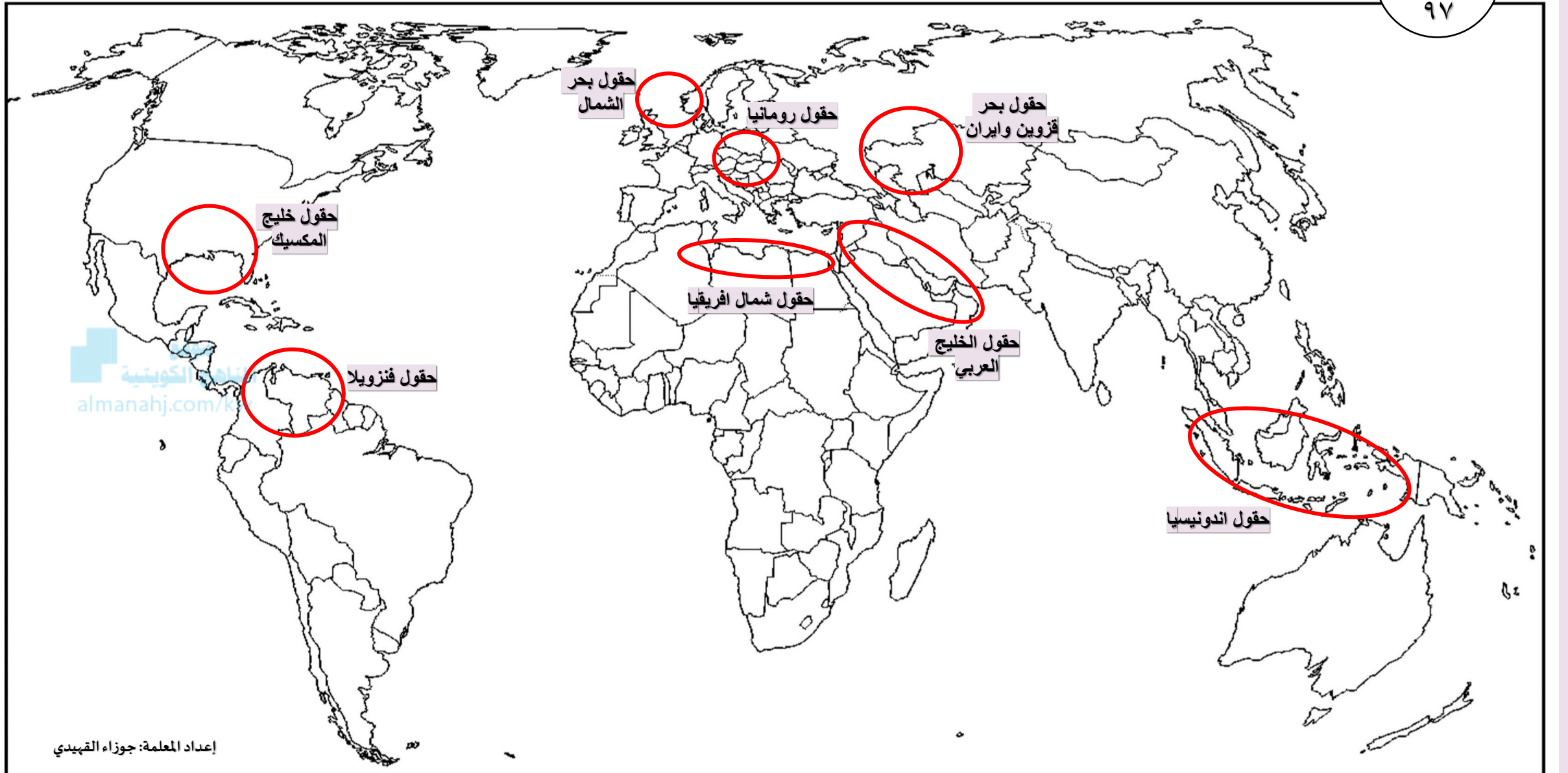
## توزيع حقول الفحم في العالم

ك م  
ص  
٩٧



## توزيع حقول البترول في العالم

ك م  
ص  
٩٧





● بريطانيا أولى في استهلاك الغاز الطبيعي  
● روسيا الأولى في احتياط الغاز الطبيعي



ك  
ل  
م  
١٠٢

الموقع  
المنهج الكويتية  
almanahi.com.kw



■ (تشيلي) أول دولة استخدمت الطاقة الشمسية في تحلية مياه البحر عام ١٨٩٢ م

إعداد المعلمة: جوزاء القهيدى

ك م  
ص  
١٠٤



■ **فرنسا** من الدول الرائدة في استخدام عملية المد والجزر في توليد الكهرباء

إعداد المعلمة: جوزاء القهيدى

الموقع  
المنهج الكويتية  
almanahj.com.kw

ك م  
١٠٥



المناهج الكويتية  
almanahj.com.kw

■ النرويج نجحت في عام ١٩٨٥ م في بناء محطتين لتوليد الكهرباء من طاقة الأمواج  
▲ اليابان نجحت في بناء محطة لتوليد الكهرباء من طاقة الأمواج

إعداد المعلمة: جوزاء القبيدي



ك  
م  
١٠٥





ك م  
ل  
١٠٥



الموقع  
الطابع الكويتية  
almanahj.com.kw

● من أهم الدول العربية في إنتاج الطاقة الكهربائية

إعداد المعلمة: جوزاء القهيدى



# كل التوفيق لخريجاتنا



#دفعة\_الأمل\_٢٠٢٢

