

تم تحميل هذا الملف من موقع ملفات الكويت التعليمية



[com.kwedufiles.www//:https](https://www.kwedufiles.com)

*للحصول على أوراق عمل لجميع الصفوف وجميع المواد اضغط هنا

* للحصول على أوراق عمل لجميع مواد الصف الثاني عشر الأدبي اضغط هنا

<https://kwedufiles.com/12>

* للحصول على جميع أوراق الصف الثاني عشر الأدبي في مادة جغرافيا وجميع الفصول, اضغط هنا

<https://kwedufiles.com/12geography>

* للحصول على أوراق عمل لجميع مواد الصف الثاني عشر الأدبي في مادة جغرافيا الخاصة بـ الفصل الثاني اضغط هنا

<https://www.kwedufiles.com/12geography2>

* لتحميل كتب جميع المواد في جميع الفصول للـ الصف الثاني عشر الأدبي اضغط هنا

<https://www.kwedufiles.com/grade12>

للحصول على جميع روابط الصفوف على تلغرام وفيسبوك من قنوات وصفحات: اضغط هنا [bot_kwlinks/me.t//:https](https://t.me/bot_kwlinks)

الروابط التالية هي روابط الصف الثاني عشر الأدبي على مواقع التواصل الاجتماعي

مجموعة الفيسبوك

صفحة الفيسبوك

مجموعة التلغرام

بوت التلغرام

قناة التلغرام

رياضيات على التلغرام



السؤال الأول: يتكون من (أ - ب - ج) :

أ- أكمل العبارات التالية بما يناسبها فيما درست: (٥ درجات)

- أهم الغازات الصناعية المسؤولة عن الفجوة الكبيرة الموجودة في طبقة الأوزون اسمها كربونات الكلوروفلور ص ١١٦
- نسبة الغلاف المائي من مساحة الكرة الأرضية تبلغ حوالي ٧٠....% ص ١١٨
- مقر منظمة السلام الأخضر العالمية مدينة فانكوفر ص ١٢٥
- التركيب السكاني الذي يقسم السكان إلى فئات حسب نوع النشاط الذي يمارسه الفرد اسمه التركيب الاقتصادي ص ١٣٩
- انخفاض أعداد المواليد بحيث يكون أقل من أعداد الوفيات اسمه النمو الصفري ص ١٣٥

ب- ضع خطأً صحیحاً من بين الخيارات التي تلي كل عبارة: (٥ درجات)

- ١- بُعد بيني توجد بيوتها وبيوتها الإنسان الذي يقوم بنشاطاته المختلفة: ص ١٤
أ- الأيكولوجي ب- الاقتصادي والاجتماعي ج- القيمي د- الثقافي
- ٢- دول حزام الجوع الإفريقي بين دائرتي عرض: ص ٣٢
أ- ١٥-٥٥ شمالاً ب- ١٦-٥٦ شمالاً ج- ١٧-٥٧ شمالاً د- ١٨-٥٨ شمالاً
- ٣- العالم الذي أشار إلى أن التصحر هو خطر للنظام البيئي للأرض بفعل تأثير الإنسان: ص ٧١
أ- درنج ب- مورينمور ج- راب د- أوبرفيل
- ٤- الطاقة التي استخدمت منذ آلاف السنين في تحريك السفن الشراعية: ص ٩٣
أ- البيولوجية ب- الشمسية ج- الرياح د- المد والجزر
- ٥- شعار برنامج الأغذية العالمي: ص ٤٨



ج- صوب ما تحته خط في العبارات التالية: (٤ درجات)

| م | العبارة | التصويب |
|---|---|--------------|
| ١ | جملة عدد السكان ÷ جملة الدخل = <u>الكثافة الزراعية</u> ص ١٤٠ | الاقتصادية |
| ٢ | زعيم قبيلة بني خالد الذي بنى حصن مدينة الكويت قديماً اسمه <u>الشيخ صباح الأول</u> ص ١٤٦ | براك بن عريع |
| ٣ | بدأت الحكومة الكويتية بهدم السور الثالث في عام ١٩٥٥م ص ١٤٨ | ١٩٥٧م |
| ٤ | الرأسامات التي تطبع الخرائط بالمقياس المطلوب وطبقاً للاحتياجات هي <u>الشبكات</u> ص ١٦٣ | الطابعات |



التربية



وزارة

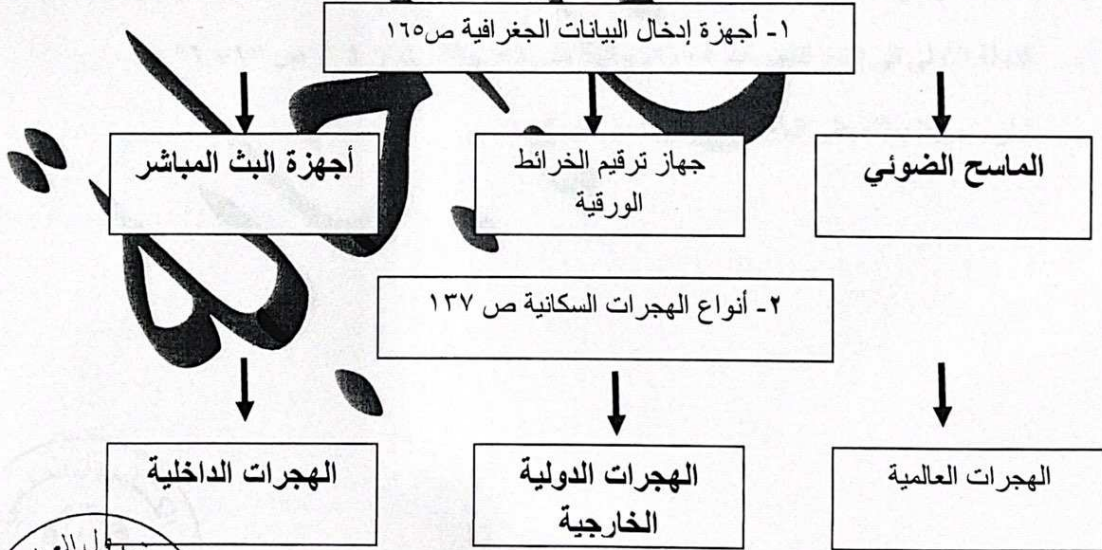
التوجيه الفني العام للاجتماعيات

السؤال الثاني يتكون من: (أ - ب - ج):

أ- أكتب المفاهيم أو المصطلحات الدالة على العبارات التالية: (٦ درجات)

| م | المفهوم | العبرة |
|---|--------------------|--|
| ١ | البيئة | الوسط أو الإطار الذي يعيش فيه الإنسان ويستمد منه عناصر ومقومات الحياة الأساسية ويمارس فيه نشاطاته المختلفة. ص ١٤ |
| ٢ | الطاقة | القدرة على القيام بعمل ما. ص ٩٣ |
| ٣ | جغرافية العمران | العلم الذي يهتم بدراسة أنماط استخدام الأرض وطبيعة المباني المختلفة بالإقليم. ص ١٤٤ |
| ٤ | الجغرافيا السياسية | دراسة الوحدات أو الأقاليم السياسية كظواهرات على سطح الأرض، وما تشتمل عليه هذه الوحدات من شعوب وجماعات. ص ١٥٥ |
| ٥ | الموارد | جميع المصادر التي يمكن الحصول منها على المياه وهي مياه الأنهار ومياه الأمطار والمياه الجوفية. المحلاة من مياه البحر ص ٦٣ |
| ٦ | جوع مزمن | لا يتمكن الناس من الحصول على ما يكفي من الغذاء لفترة طويلة بسبب الفقر الناتج من المشاكل الاقتصادية ص ٥٥ |

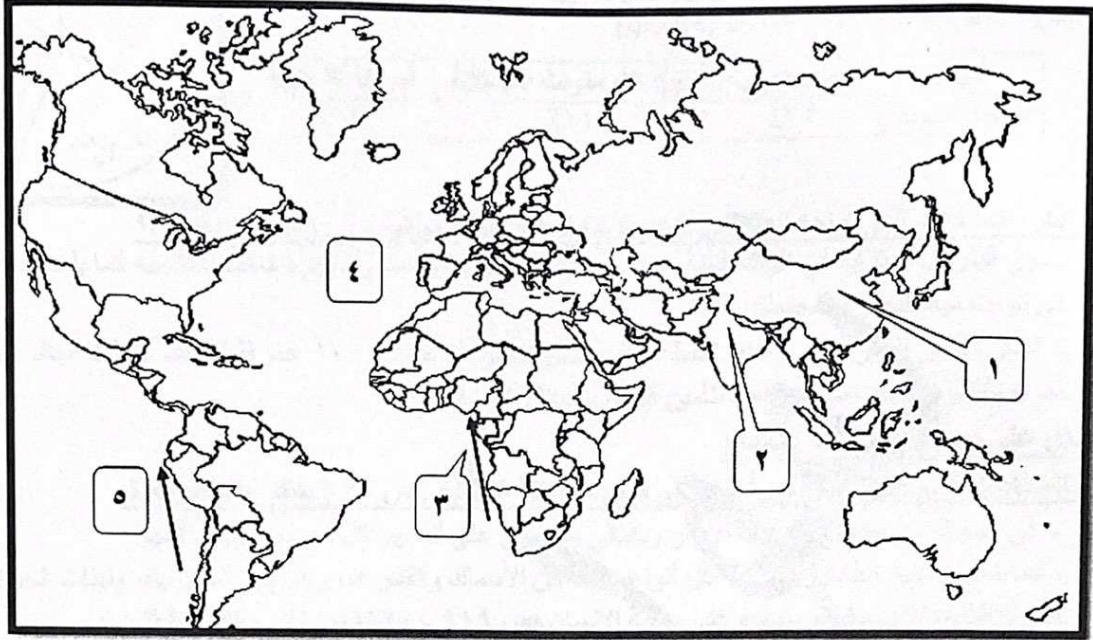
ب- أكمل المخططات السهمية التالية: (٤ درجات)



وزارة التربية والتعليم
التوجيه الفني العام للإجتماعيات

تابع / السؤال الثاني:

ج- لاحظ خريطة العالم التي أمامك ثم أكتب الرقم الدال على العبارات التالية: (٤ درجات)




- المحيط الاطلنطي يمثلته على الخريطة الرقم (٤) ص ١٠
- الدولة التي يقع فيها مستوى الماء من ١ الى ٣ متر سنوياً يمثلها على الخريطة الرقم (٢) ص ٦٠
- الدولة الأولى في إنتاج الفحم عام ٢٠٠٥م يمثلها على الخريطة الرقم (١) ص ٩٦ + ٩٧
- تيار بنجويلا يمثلته على الخريطة الرقم (٣) ص ١٢٣



وزارة التربية

التوجيه الفني العام للإجتماعيات



السؤال الثالث: يتكون من (أ - ب - ج):

أ- لاحظ الدائرة البيانية التي أمامك ثم أجب عن الأسئلة التي تليها : ص ٩٨

- ١- حول إلى جدول نسبة إنتاج البترول عام ٢٠٠٦م لكل من: -
أ- الدول العربية ب- دول الكومنولث ج- أمريكا الشمالية.
(درجتان = نصف درجة لكل نقطة + نصف درجة لتصميم)

| الدول | الدول العربية | دول الكومنولث المستقلة | أمريكا الشمالية |
|----------------|---------------|------------------------|-----------------|
| النسبة المئوية | ٣٢% | ١٦% | ١٥% |

٢- أذكر- المشكلات التي تواجه العالم من تزايد الاعتماد على استخدام البترول . (درجتان) ص ٩٨

- دور البترول المتزايد في تلوث البيئة وبخاصة الهواء نتيجة الغازات والأبخرة المتصاعدة منه كما يلعب دور كبير في تلويث مياه البحار والمحيطات.
- قصر العمر الافتراضي لإنتاج النفط حيث أفضل لتقدير له حوالي ١٠٠ عام فقط لذلك يخطط العالم من الآن لمواجهة فترة بعد نضوب النفط لتأمين الحياة للأجيال القادمة .

ب- **دليل على صحة المخاوف العالمية:**

١- **للمعتقدات الدينية:** دوراً فاعلاً في صنع المشكلة العالمية . ص ٣٦ (يكتفى بنقطة واحدة)

- في الهند تقديس بعض المذبحات الأضراس وبالتالي يحرمون على أنفسهم أكل لحومها وشرب لبنها.
- كما تحرم بعض القبائل أكل أنواع معينة من الأسماك والقشريات رغم غنى لحمها بالبروتينات الحيوانية.

٢- **للتلوث الضوئي:** مخاطر عديدة على صحة الإنسان ص ١١٩ - ١٢٠ (درجتان يكتفى بنقطتين)

- التعرض الدائم والمستمر لمصدر الضوء يسبب إجهاداً مستديماً في السمع.
 - التأثيرات النفسية مثل في القلق والتوتر.
 - تأثيرات سلبية على الجهاز العصبي مما يؤدي إلى الإصابة بالآلام الشديدة في الرأس.
 - تؤدي إلى عدم القدرة على تمييز الأصوات ولها انعكاسات خطيرة على جهاز القلب.
- ٣- **لنظم المعلومات الجغرافية:** عدة فوائد على مستوى التشغيل والصيانة. ص ١٧٥ - ١٧٦ (ثلاث درجات - يكتفى بثلاث نقاط)
- البيانات الجغرافية التفصيلية والمرافق كالمساحة ودقيقة ومهمة ويسهل الحصول عليها .
 - توفير الوقت والجهد اللازمين للوصول إلى المعلومة المطلوبة وسرعة العمل على أسس علمية ومنع تكرار نفس العمل مرات عديدة.
 - تحديد الأولويات طبقاً للتقارير الناتجة من النظام.
 - إمكانية تنفيذ برامج الصيانة لوجود الأسس العلمية لتطبيقها.

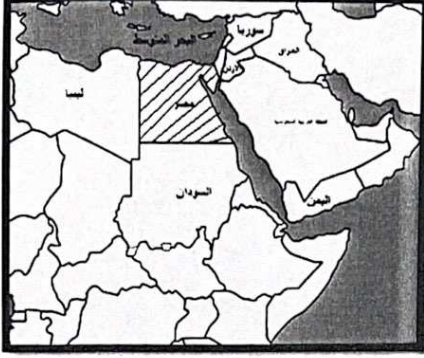
ج- **فرق بين كل مما يلي: (٤ درجات)**

| مشكلة الجوع ص ٣١ | سوء التغذية ص ٣١ |
|--|--|
| - نقص كمية الغذاء عن الحد الأدنى المقبول. | - نقص كمية الغذاء عن الحد المطلوب من العناصر الغذائية (البنائية) و(الوقائية) . |
| البيئة الطبيعية ص ١٧ | البيئة المشيدة ص ١٧ |
| - عبارة عن المظاهرة الطبيعية التي لا دخل للإنسان في وجودها أو استخدامها. | - البنية الأساسية المادية التي شيدها الإنسان ومن النظم الاجتماعية والمؤسسات التي أقامها. |



السؤال الرابع : يتكون من (أ - ب - ج) :

أ- لاحظ خريطة الدول الأعضاء في لجنة الاسكوا التي أمامك ثم نفذ ما هو مطلوب منك: (٣ درجات)



١- ظلل الدولة الإفريقية التابعة للجنة الاسكوا ص ١٣٦

٢- العام الذي تأسست فيه لجنة الاسكوا: ١٩٧٣ م.....

٣- اذكر الهدف من إنشاء هذه اللجنة.

- دعم التعاون الاقتصادي والاجتماعي بين دول المنطقة من

أجل تحقيق التكامل الإقليمي من طريق توحيد السياسات القطاعية.

ب- علل لما يلي :

١- للمحيطات دور مهم في الحفاظ على الأنظمة البيئية العالمية. (يكتفى بنقطتين - درجتان) ص ٢٠

تعتبر وسائط النقل والطاقة.

وزارة التربية

- توفر جزء كبير من غذاء سكان (البروتين).

- تساعد على إدامة الحياة والحيوانات.

- لها دور فعال في التأثير على المناخ العالمي.

٢- الاستقرار البشري في مرحلة النشأة العمرانية في البيئة الحضرية. (يكتفى بنقطتين - درجتان) ص ١٤٧

- تجارة وصيد السمك - الغوص واستخراج اللؤلؤ - الزراعة ووجود المياه الجوفية العذبة

٣- نظم المعلومات الجغرافية المتقدمة تجذب الاستثمار وتنمي السياحة. (يكتفى بنقطتين - درجتان) ص ١٨١

- دراسة الإمكانيات والتسهيلات المتاحة داخل المدينة وجوارها.

- تحديد أفضل استخدام للأراضي والمشروعات.

- الاستفادة من التكنولوجيا حيث تكون عادة مصاحبة للازدحام الحضري.

- شهادات التكامل الإداري والايزو فهذه الأمور تتطلب نظم المعلومات الجغرافية.

- الجوائز الدولية للمدن فهي تعتمد على وجود نظام معلومات جغرافي فعال ومحدوثه.

ج - أجب عما يلي :

١- عدد العوامل الطبيعية المسببة لمشكلة الغذاء في دول مجلس التعاون لدول الخليج العربية . ص ٤٤

- قلة موارد المياه

- التربة رملية

- تحرك الرمال

- ارتفاع درجة الحرارة

٢- اذكر مميزات استخدام مشتقات البترول على مستوى العالم . ص ٩٧ (يكتفى بنقطتين - درجتان)

- كمية الطاقة الناتجة من البترول كبيرة.

- سهولة نقل البترول من مناطق الإنتاج إلى مناطق الاستهلاك.

- يعد البترول من العناصر الأساسية في كثير من الصناعات الكيماوية.

