

تم تحميل هذا الملف من موقع المناهج الكويتية



مي متعب العنزي

الملف خريطة مرجعية جغرافية للمقرر

موقع المناهج ← ملفات الكويت التعليمية ← الصف الثاني عشر الأدبي ← جغرافيا ← الفصل الأول

روابط مواقع التواصل الاجتماعي بحسب الصف الثاني عشر الأدبي



روابط مواد الصف الثاني عشر الأدبي على تلغرام

[الرياضيات](#)

[اللغة الانجليزية](#)

[اللغة العربية](#)

[التربية الاسلامية](#)

المزيد من الملفات بحسب الصف الثاني عشر الأدبي والمادة جغرافيا في الفصل الأول

توزيع مقرر الجغرافيا لعام	1
نماذج اختبارات ممتازة في مادة الجغرافيا	2
مذكرة سلمان الفارسي في مادة الجغرافيا	3
نموذج احابة اختبار لنهاية الفترة الدراسية الاولى في مادة الجغرافيا	4
نموذج احابة امتحان الفترة الاولى 20162017	5



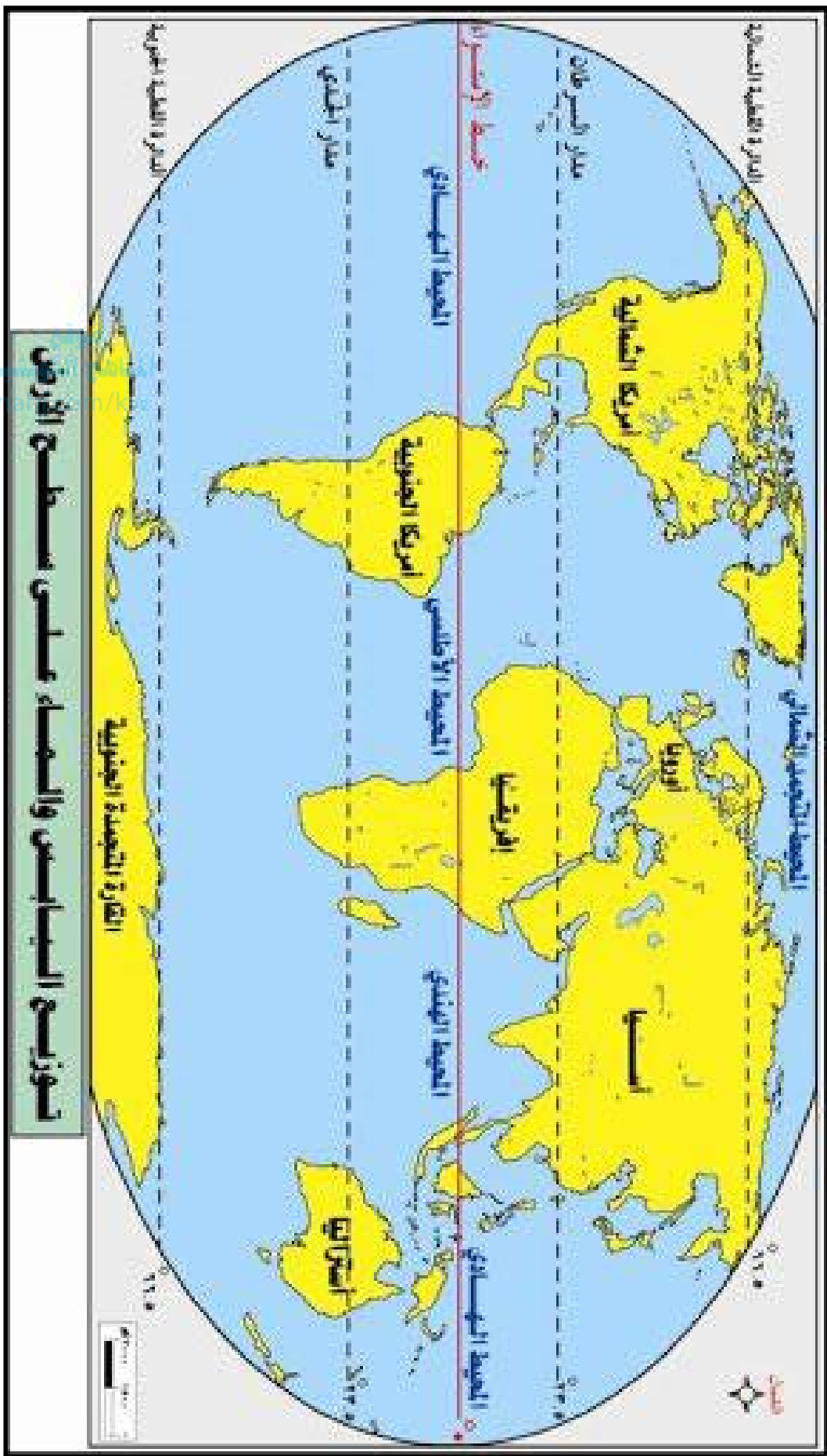
دولة الكويت
وزارة التربية
التوجيه الفني العام للاجتماعيات
ثانوية ام ميسر الانصارية للبنات
قسم التاريخ والجغرافيا

موقع
المناهج الكويتية
almanahj.com/kw

الخرائط

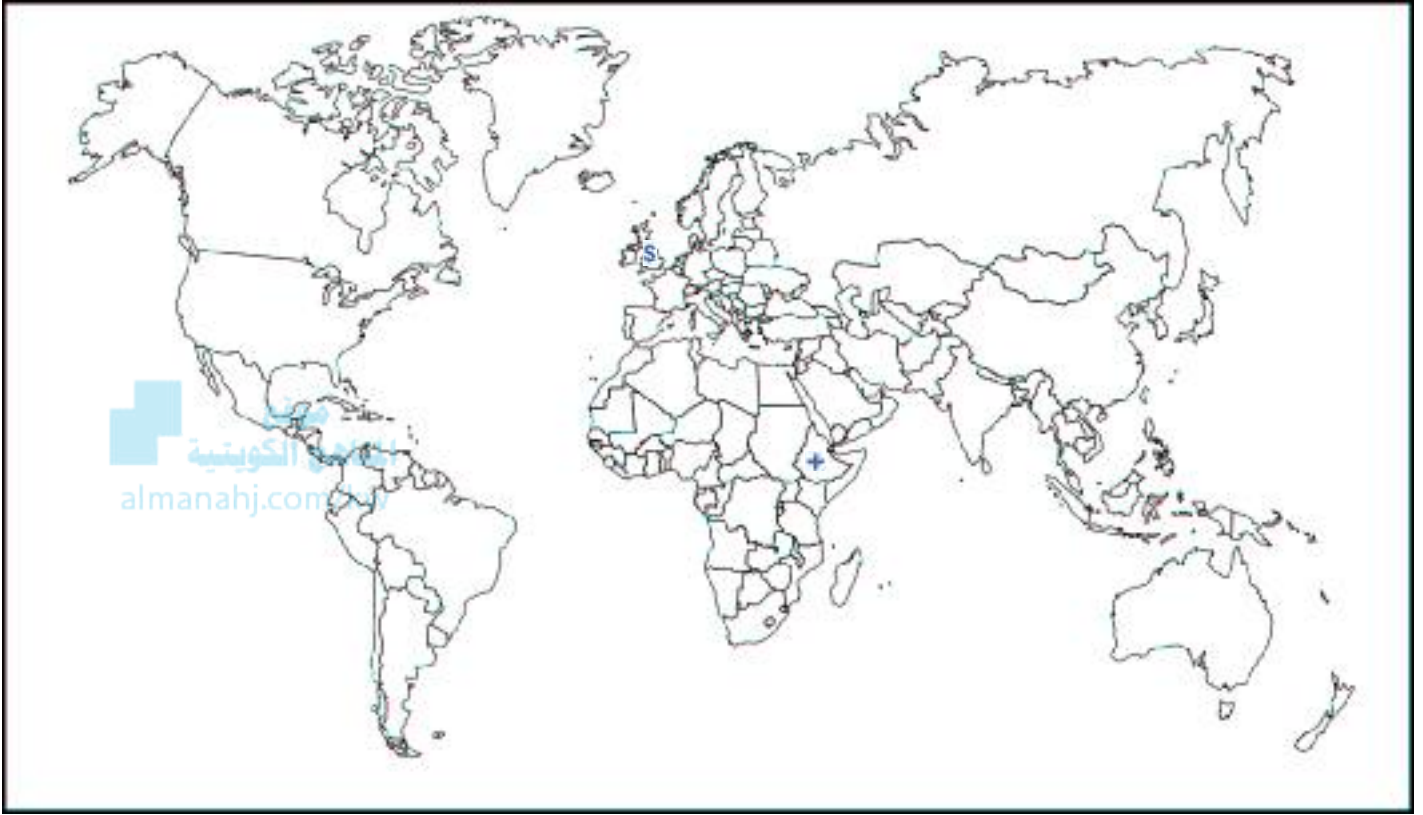
اعداد :
أ. مي متعب العنزي

خريطة قارات العالم والمحيطات :



المحور الاول : مدخل تعريفى للبيئة :

السؤال الاول : لاحظي خريطة العالم التي امامك ثم اجيبي عن الاسئلة التالية :



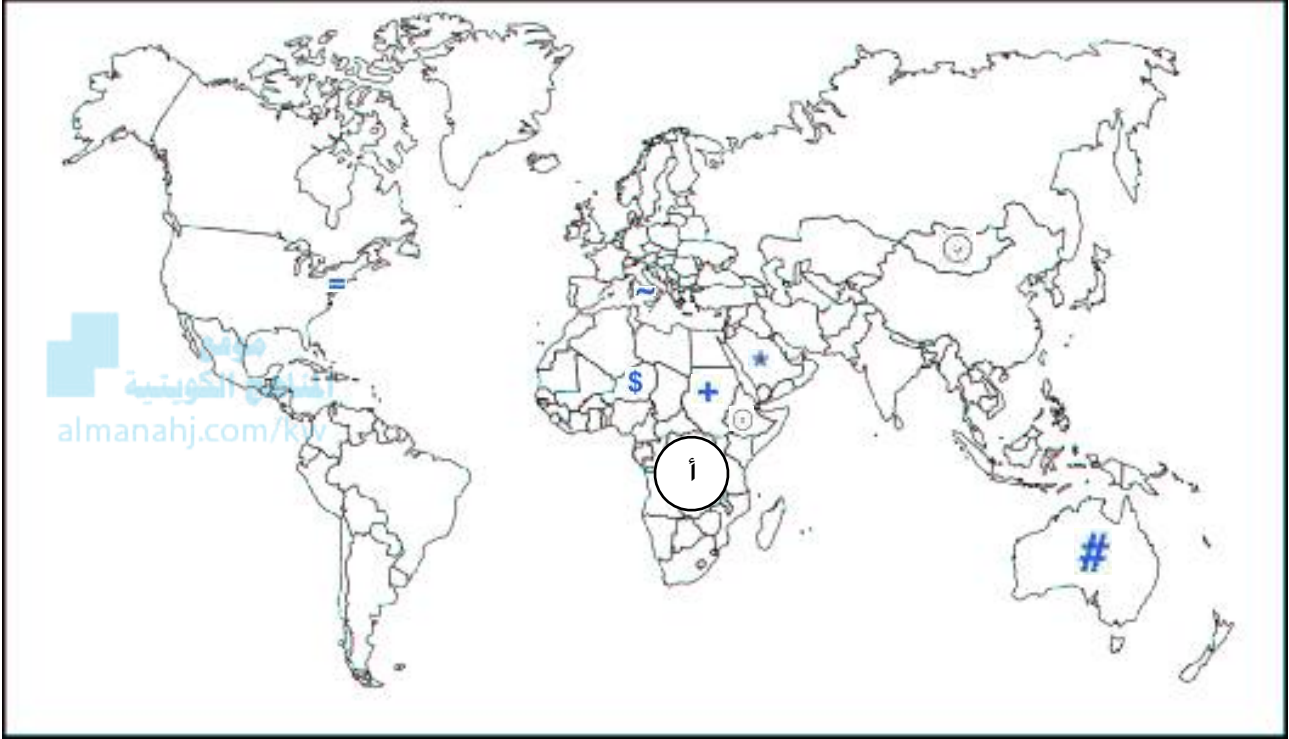
١- المرحلة الرابعة من مراحل تطور العلاقة بين الإنسان والبيئة المرتبطة بشكل خاص في الثورة الصناعية التي شهدتها ..اوروبا الغربية " بريطانيا " ... \$

٢- الدولة التي تعتبر من أكثر البلدان عرضة لتأثيرات تغير المناخ ..اثيوبيا .. +

المحور الثاني : مشكلة الغذاء والماء :

أ- مشكلة الغذاء :

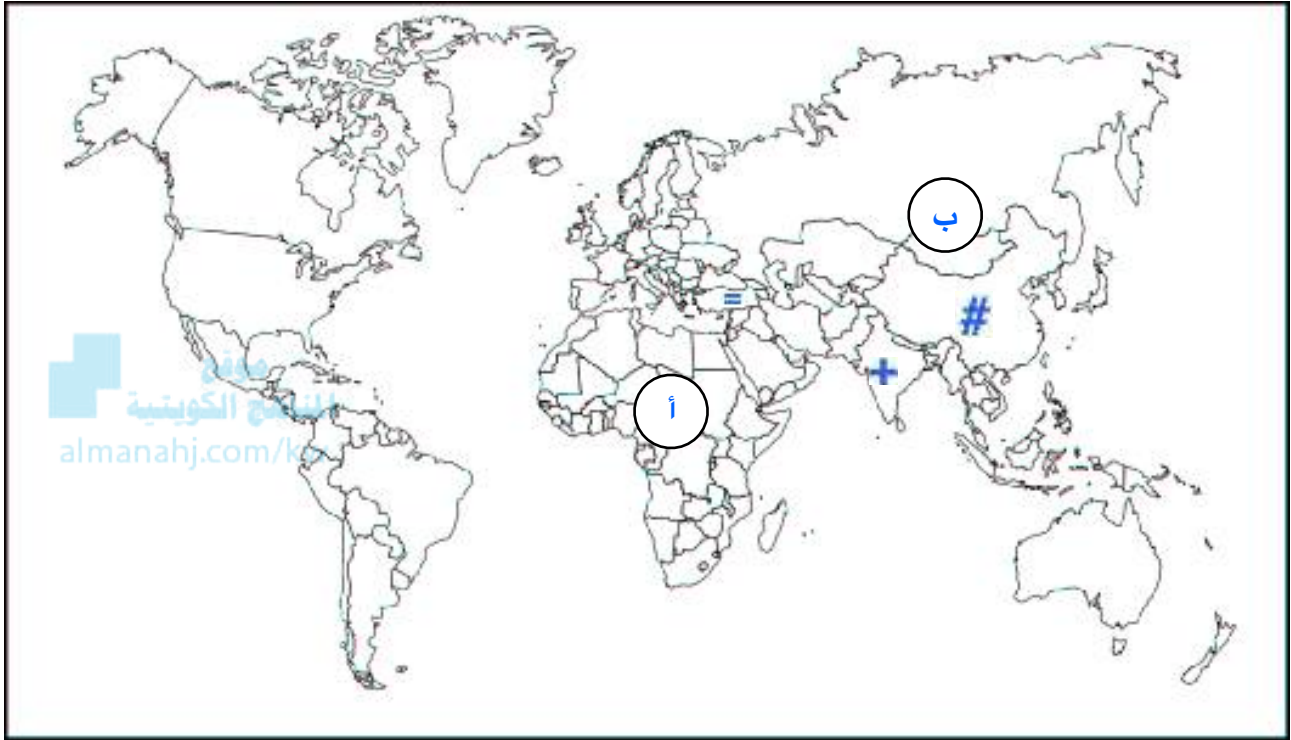
السؤال الاول : لاحظي خريطة العالم التي امامك ثم اجيبي عن الاسئلة التالية :



- ١- المقر الرئيسي لمنظمة الاغذية والزراعة للأمم المتحدة .. روما ... ~
- ٢ - القارة الوحيدة التي تخلو من مشكلة الجوع استراليا ... #
- ٣- القارة التي يوجد بها حزام الجوع يمثلها الحرف ... افريقيا ... أ
- ٤- الدولة التي تواجه ٤٢٪ من السكان نقص التغذية يمثلها الحرب .. منغوليا .. ب
- ٥- الدولة التي تواجه ٤٤٪ من السكان نقص التغذية يمثلها الحرب .. اثيوبيا .. ج
- ٦- الدولة التي هاجر منها نحو ١٠٠ الف شخص هرباً من المجاعة .. السودان .. +
- ٧- الدولة التي تواجه ٣٥٪ من سكانها خطر المجاعة نتيجة الجفاف والجراد.. النيجر .. \$
- ٨- المقر الرئيسي لصندوق الأمم المتحدة لرعاية الطفولة اليونيسيف .. نيويورك .. =
- ٩- الدولة التي حققت اكتفاء ذاتيا في إنتاج القمح في موسم ١٩٨٤م .. السعودية .. *

ب- مشكلة الماء :

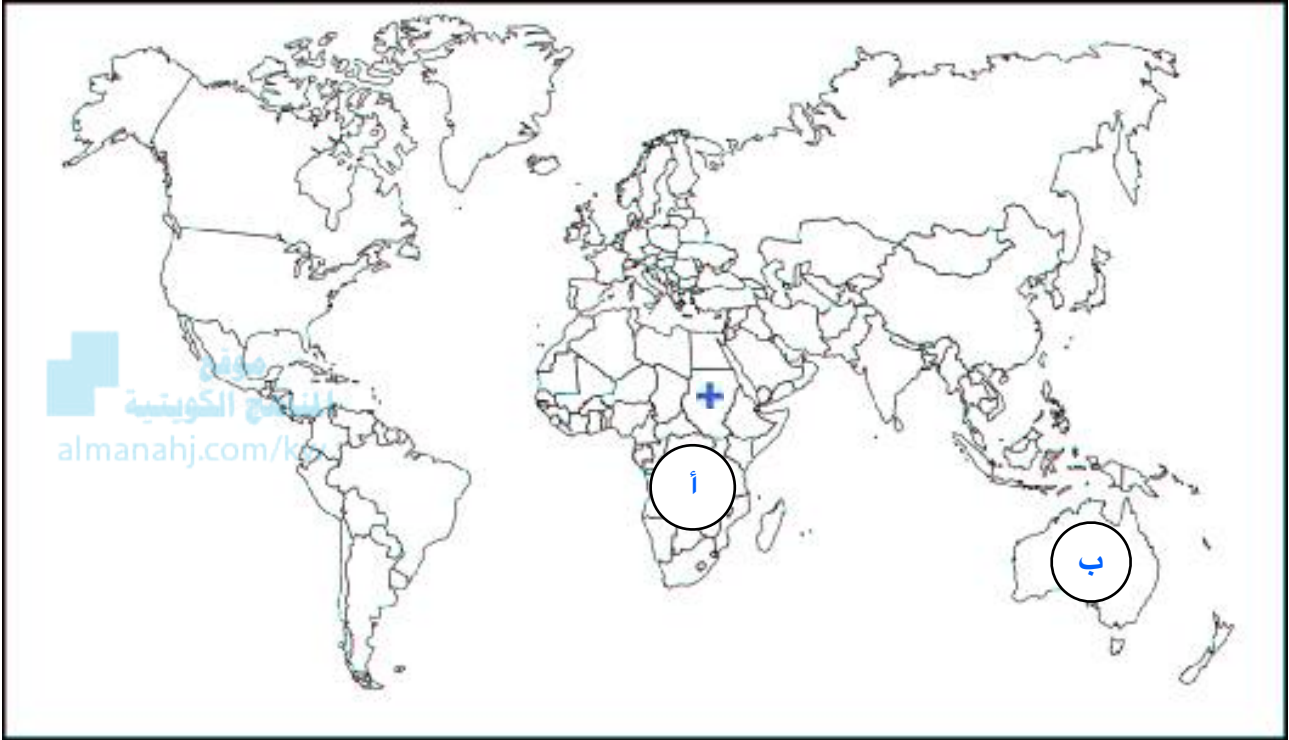
السؤال الاول : لاحظي خريطة العالم التي امامك ثم اجيبي عن الاسئلة التالية :



- ١- القارة الاقل من حيث توفير المياه النقية لسكانها يمثلها الحرف ... **افريقيا** ... **أ**
- ٢- القارة الثانية من حيث توفير المياه النقية يمثلها الحرف ... **اسيا** ... **ب**
- ٣- الدولة التي تتحكم في أعالي روافد نهري دجلة والفرات ... **تركيا** ... **=**
- ٤- الدولة التي يقل بها مستوى الماء بنسبة ١,٥ متر سنوياً .. **الصين** .. **#**
- ٥- الدولة التي يقل بها مستوى الماء من ١ الى ٣ متر سنوياً .. **الهند** .. **+**

المحور الثالث : مشكلة التصحر :

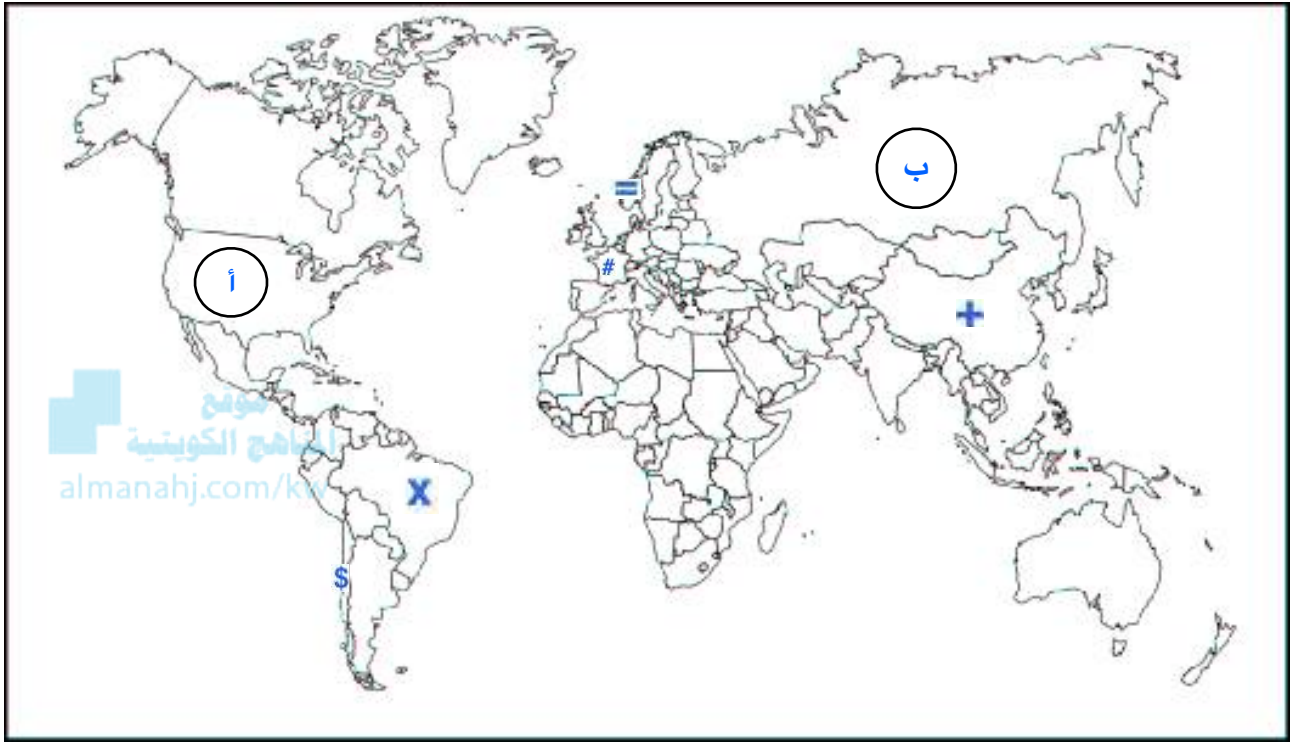
السؤال الاول : لاحظي خريطة العالم التي امامك ثم اجيبي عن الاسئلة التالية :



- ١- القارة التي تحتوي على أكبر مساحة من أراضي المناطق الجافة وشبه الجافة يمثلها الحرف .. **افريقيا** .. أ
- ٢- القارة التي توجد بها أكبر نسبة مئوية من أراضي المناطق الجافة يمثلها الحرف .. **استراليا** .. ب
- ٣- اغنى بلد عربي بالمصادر المائية .. **السودان** .. +

المحور الرابع : مشكلة الطاقة :

السؤال الاول : لاحظي خريطة العالم التي امامك ثم اجيبي عن الاسئلة التالية :



- ١- الدولة الاولى عالمياً في انتاج الفحم .. **الصين** .. +
- ٢- الدولة الاولى في احتياطي الفحم يرمز له الحرف .. **روسيا الاتحادية** .. ب
- ٣- اول دول العالم في استخدام الطاقة النووية كأسلحة للدمار الشامل في الحرب العالمية الثانية يرمز له الحرف .. **الولايات المتحدة الامريكية** .. أ
- ٤- الدولة التي حفر بها اول بئر للغاز الطبيعي عام ١٨٢٠ م يرمز له الحرف .. **الولايات المتحدة الامريكية** .. أ
- ٥- الدولة الاولى في استخدام الطاقة الشمسية في تحلية مياه البحر عام ١٨٩٢ م .. **شيلي** .. \$
- ٦- الدولة الرائدة في استخدام عملية المد والجزر في توليد الكهرباء .. **فرنسا** .. #
- ٧- الدول التي نجحت في بناء محطات لتوليد الكهرباء من طاقة الأمواج .. **النرويج** .. =
- ٨- الدول التي استخدمت الكحول الايثلي كوقود للسيارات .. **البرازيل** .. x

