

تم تحميل هذا الملف من موقع ملفات الكويت التعليمية



[com.kwedufiles.www//:https](https://www.kwedufiles.com)

\*للحصول على أوراق عمل لجميع الصفوف وجميع المواد اضغط هنا

\* للحصول على أوراق عمل لجميع مواد الصف الثاني عشر الأدبي اضغط هنا

<https://kwedufiles.com/12>

\* للحصول على جميع أوراق الصف الثاني عشر الأدبي في مادة جغرافيا وجميع الفصول, اضغط هنا

<https://kwedufiles.com/12geography>

\* للحصول على أوراق عمل لجميع مواد الصف الثاني عشر الأدبي في مادة جغرافيا الخاصة بـ الفصل الثاني اضغط هنا

<https://www.kwedufiles.com/12geography2>

\* لتحميل كتب جميع المواد في جميع الفصول للـ الصف الثاني عشر الأدبي اضغط هنا

<https://www.kwedufiles.com/grade12>

للحصول على جميع روابط الصفوف على تلغرام وفيسبوك من قنوات وصفحات: اضغط هنا [bot\\_kwlinks/me.t//:https](https://t.me/bot_kwlinks)

الروابط التالية هي روابط الصف الثاني عشر الأدبي على مواقع التواصل الاجتماعي

مجموعة الفيسبوك

صفحة الفيسبوك

مجموعة التلغرام

بوت التلغرام

قناة التلغرام

رياضيات على التلغرام

العام الدراسي: ٢٠٢٠/٢٠٢١ م  
الزمن: ساعتان وربع  
عدد الصفحات: ٦

امتحان نهاية الفترة الدراسية الثانية  
لمقرر (قضايا البيئة والتنمية المعاصرة)  
للفصل الثاني عشر الأدبي

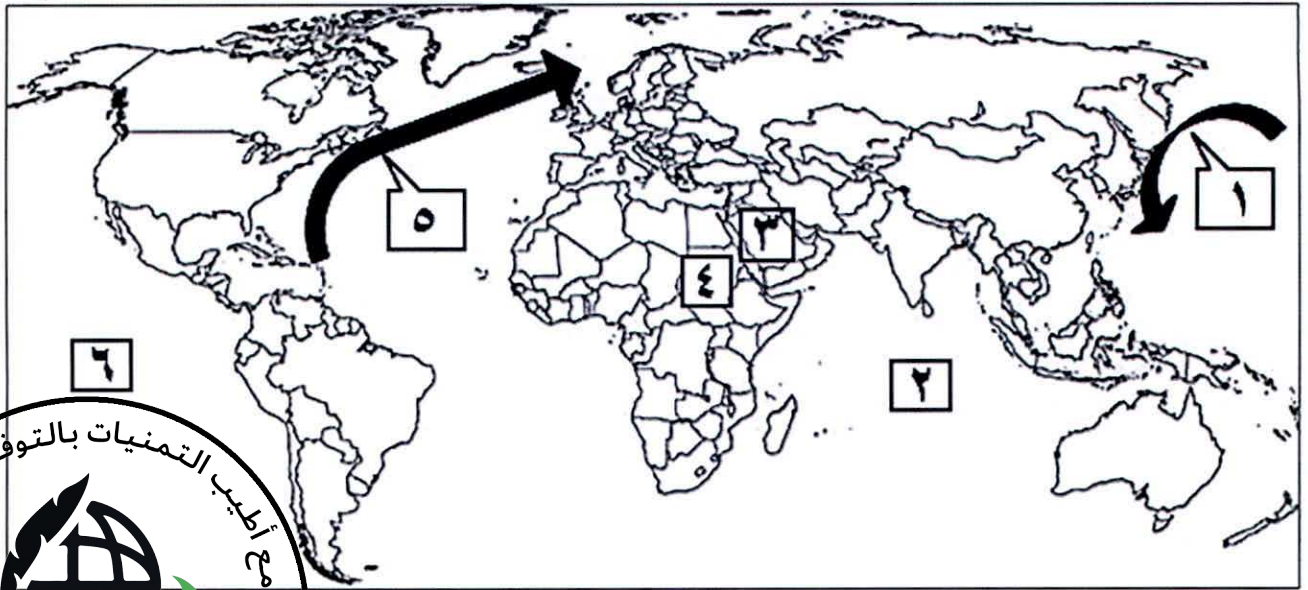
دولة الكويت  
وزارة التربية  
التوجيه الفني العام للاجتماعيات

نموذج الإجابة

أجب عن جميع الأسئلة التالية

السؤال الأول: موضوعي يتكون من (أ، ب، ج، د)

(أ) لاحظ خريطة العالم التي أمامك ثم أكتب الرقم الدال على العبارات التالية: (  $3 \times 1 = 3$  درجات )



- تيار الخليج الدافئ يمثله على الخريطة الرقم ..... ٥ ..... ١٢٣ ص

- المحيط الهادي يمثله على الخريطة الرقم ..... ٦ ..... ١٢٣ ص

- دولة عربية عضوة في منظمة الأسكوا يمثّلها على الخريطة الرقم ..... ٣ ..... ١٣٦ ص

(ب) أكمل العبارات التالية بما يناسبها: (  $5 \times 1 = 5$  درجات )

١- الإشعاعات التي تمتصها وترشحها طبقة الأوزون اسمها فوق البنفسجية ص ١١٥

٢- عدد آبار النفط الكويتية التي تم تدميرها وإشعال النار بها أثناء الغزو العراقي تبلغ ٧٢٧ بنراً ص ١٣٠

٣- القطاع السكني في التركيب الداخلي لمدينة الكويت القديمة يتكون من حي الشرق والقبلة وحي اسمه المرقاب ص ١٤٩

٤- رقم دائرة العرض التي تتماشى معها الحدود السياسية بين كندا والولايات المتحدة الأمريكية هو ٤٥° شمالاً ص ١٥٧

٥- زعيم قبيلة بني خالد الذي بنى الحصن الصغير اسمه براك بن عريعر ص ١٤٦



وزارة التربية  
التوجيه الفني العام للاجتماعيات

تابع / السؤال الأول: الموضوعي

( ج ) ضع خطاً تحت الخيار الصحيح من بين الخيارات التي تلي كل عبارة: ( ٣×١ = ٣ درجات )

١- العام الذي تم فيه بناء سور الكويت الثالث : ص ١٤٨

د- ١٩٥٠م

ج- ١٩٤٠م

ب- ١٩٣٠م

أ- ١٩٢٠م

٢- الوصلات بين الخادم وبين الأجهزة المتصلة به وتقوم بإتاحة التبادل المعلوماتي بين الأجهزة والحاسب: ص ١٦٣

د-البيانات التفصيلية

ج - الشبكات

ب-نظام التشغيل

أ-الخادم

٥- كارتوجرافية الامتداد المكاني لظاهرة التصحر تم تطبيقها في دولة الكويت لمزارع : ص ١٧٢

د- الوفرة

ج- الصليبية

ب- الفنتاس

أ- العبدلي

(د) أكتب المفاهيم أو المصطلحات الدالة على العبارات التالية: ( ٣×١ = ٣ درجات )

١- ( غلاف الأرض الجوي ) طبقة تتكون من عدة غازات تحيط بالكرة الأرضية. ص ١١٤

٢- ( صافي الهجرة ) الفرق بين أعداد المهاجرين الداخلين وأعداد المهاجرين الخارجين. ص ١٣٥

٣- ( الأيزو ) منظمة عالمية للمقاييس والمواصفات وتدخل في جميع المجالات التي تتطلب الجودة والنوعية. ص ١٧٦



وزارة التربية  
التوجيه الفني العام للإجتياز



**السؤال الثاني: الموضوعي ويتكون من (أ، ب، ج )**

**(أ) صحح ما تحته خط في العبارات التالية : ( ١×٥ = ٥ درجات )**

١	المرحلة التي ينهار فيها النظام الأيكولوجي ويصبح غير قادر على العطاء تسمى <u>التلوث الخطر</u> ص ١١٤	<u>التلوث المدمر</u>
٢	تهجير وجلب العمالة الأفريقية إلى الأمريكتين للعمل والإقامة الدائمة يعتبر مثلاً <u>للهجرات الدولية</u> ص ١٣٨	<u>الهجرات العالمية</u>
٣	الخبير البريطاني الذي كلفته الحكومة الكويتية لوضع المخطط الهيكلي الثاني عام ١٩٧٠م اسمه <u>بول هورسمان</u> . ص ١٥٠	<u>كولن بوكانن</u>
٤	مناهج البحث في <u>الجغرافيا السياسية</u> الذي يقوم على دراسة المجتمع البشري في الدولة يسمى <u>منهج جونز</u> . ص ١٥٦	<u>المنهج الوظيفي</u> <u>(الملائمة السياسية)</u>
٥	عملية يتم فيها تحويل الخرائط الورقية إلى خرائط رقمية تعرف <u>بالمسح الهندسي</u> . ص ١٦٦	<u>ترقيم الخرائط</u>



**( ب ) صل بين العبارات في المجموعة ( أ ) مع ما يناسبها من العناصر في المجموعة ( ب ) في الجدول التالي بوضع الرقم المناسب : ( ١×٣ = ٣ درجات ) ص ١٤٥**

المجموعة ( أ ) دوافع نشأة المدن	الرقم المناسب	المجموعة ( ب ) المدن
١ - الدافع السياسي	٣	الأقصر
٢ - الدافع الاقتصادي الصناعي	٤	بني
٣ - الدافع الاقتصادي السياحي	٢	المحلة الكبرى
	١	واشنطن



تابع / السؤال الثاني : الموضوعي

( ج ) أكمل المخططات السهمية التالية بما يناسبها مما درست : (  $2 \times 3 = 6$  درجات ) يكتفى بنقطتين

١- العوامل الطبيعية المسببة للتلوث الهوائي: ص ١١٥

الغازات الطبيعية  
/الغبار

الغازات المنبعثة  
من البراكين

غاز الأوزون

١- طرق تطهير مياه الشرب من التلوث المائي : ص ١٩

الأوزون

الأشعة فوق البنفسجية

الكلور

٣- مجالات استخدام نظم المعلومات الجغرافية: ص ١٦٧

مراقبة البيئة والقياسات  
البيئية/الرعاية الصحية

تطبيقات النظم الدفاعية  
/التطبيقات العمرانية

إدارة وتشغيل المرافق  
العامة



وزارة التربية  
التوجيه الفني العام للإجتماعيات





**السؤال الثالث: مقالتي يتكون من (أ، ب، ج) :**

**(أ) لاحظ الشكل الذي أمامك ثم أجب عما يليه من أسئلة: ( لكل إجابة درجة = ٣ درجات)**

**١-الشعار المقابل يمثل إدارة اسمها : الإدارة البحرية والجوية الأمريكية NOAA ص ١٢٤**

**٢-(( الطبيعة تعرضت لضربة شديدة فيما يتعلق بالعناصر البرية والبحرية والجوية في دولة الكويت ))**

**- ما أسم قائل العبارة السابقة؟ الدكتور سيلفيا ايرل. ص ١٢٤**

**٣- فسر - النظرية التي تستند عليها فكرة الربط بين الأعاصير التي أصابت بعض الدول واحترق الآبار. ص ١٢٧**

- ان احترق الآبار يؤدي إلى تدفئة وتسخين شديد للهواء والأرض وزيادة الأمطار الموسمية مما يترتب عليه ارتفاع مناسب مياه الأمطار والبحيرات في العالم .

**(ب) ما مقترحاتك كيفية معالجة مشاكل التلوث البيئي التالية مما درست: ( لكل إجابة درجة = ٤ درجات)**

مشكلة التلوث الضوضائي ص ١٢٠	مشكلة التلوث الهوائي ص ١١٧
١- الصيانة المستمرة لآلات المصانع.	١- استخدام مصادر الطاقة البديلة ( المتجددة ).
٢- مراقبة المصانع وتحديد ساعات العمل.	٢- التوسع في زراعة الأشجار على جوانب الطرق وحول المدن لدورها الفعال في تنقية الهواء كذلك في تقليل سرعة الرياح المحملة بالأتربة مما يؤدي إلى ترسب التراب.
٣- إصدار التشريعات اللازمة ومتابعة تطبيقها خاصة المتعلقة بوسائل النقل.	٣- تدوير النفايات.
٤- زراعة الأشجار التي تساعد في الحد من الضوضاء .	٤- استخدام مصادر الوقود قليلة التلوث .
٥- إبعاد المدارس والمستشفيات عن مصادر الضوضاء.	٥- وضع أجهزة لعوادم المركبات لتنقية الهواء.
٦- إبعاد المطارات ومحطات السكك الحديدية عن المناطق السكنية. ( يكتفى بنقطتين)	٦- الفحص الدوري لعوادم السيارات وفرض القوانين الحازمة
	٧- تخطيط المواصلات. ( يكتفى بنقطتين)

**(ج) عدد لما يلي: ( لكل إجابة درجة = ٧ درجات)**

**١- العوامل البشرية التي تتحكم في توزيع السكان على سطح الأرض. ص ١٤٠ يكتفى بثلاث نقاط**

\* العامل الديموغرافي . \* النقل بين مراكز تجمع السكان .

\* العامل التكنولوجي . \* العامل الحضاري .

**٢- الأسباب الرئيسية وراء بقاء مدينة الكويت وتطورها بعد نشأتها الأولى. ص ١٤٦ - ١٤٧ يكتفى بنقطتين**


- الموقع الجغرافي المتميز على رأس الخليج العربي والمحاطة من الشمال بمياه الجون .

- العمل في التجارة وخاصة الخارجية . - سياستها المتزنة داخلياً وخارجياً .

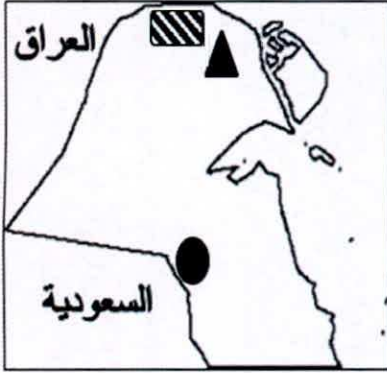
**٣- أجهزة ادخال البيانات الجغرافية. ص ١٦٥ يكتفى بنقطتين**

- الماسح الضوئي Scanner . - جهاز ترقيم الخرائط الورقية Digitizer .

- أجهزة البث المباشر Real-time Data .







**السؤال الرابع: مقال (اجباري) يتكون من (أ، ب، ج)**  
**(أ) لاحظ خريطة دولة الكويت ثم نفذ المطلوب: (لكل إجابة درجة = ٤ درجات)**

١- حدد باستخدام الرموز التالية: ص ١٢٤

\* الرمز (●) على حقل المناقيش. درجة واحدة

\* الرمز (▲) على حقل الروضتين. درجة واحدة

٢- علل: استخدام الجيومعلوماتية في المنطقة المظللة بالرمز (■) ص ١٧٤.

\* رصد مراحل تدهور الغطاء النباتي في مزارع العبدلي بشمال الكويت

\* قياس المعدل السنوي للتدهور \* التنبؤ بطبيعة التدهور مستقبلا وطرح حلول مناسبة. (درجتان) يكتفى بنقطتين

**(ب) فسر ما يلي: (لكل إجابة درجة = ٦ درجات)**

١- للتلوث الهوائي آثار اقتصادية. ص ١١٧ يكتفى بنقطتين

\* السيطرة على أضرار التلوث الهوائي ومعالجة الهواء صعبة للغاية وباهظة التكاليف.

\* الأضرار للموارد المائية والأسماك والنتيجة عن التلوث الهوائي، تقدر تكاليفها في حدود ٣ مليارات دولار سنوياً في الولايات المتحدة الأمريكية.

\* الأضرار التي تصيب المحاصيل والغابات والصحة تزيد تكاليفها عن ١٠ مليارات دولار سنوياً.

٢- حفظ المعلومة الجغرافية في صورة ورقية يتسبب في معوقات مختلفة. ص ١٧٧ يكتفى بنقطتين

\* احتمال التلف والضياع وارد. \* نسخ الخرائط قد يكون غير دقيق ويؤدي إلى تشويه في الرسوم.

\* صعوبة التحديث السريع للخريطة الورقية. \* تعامل الجهات المختلفة بخرائط مختلفة لنفس النطاق الجغرافي.

٣- نظم المعلومات الجغرافية تساهم في دعم الجذب السياحي والاستثماري. ص ١٨١ يكتفى بنقطتين

\* توفر لنا دراسة الإمكانيات والتسهيلات المتاحة داخل المدينة وحولها

\* تحديد أفضل استخدام للأراضي والمشروعات.

\* الاستفادة من التكنولوجيا حيث تكون عادة مصاحبة للزدهار الحضاري.

\* شهادات التكامل الإداري والأيزو فهذه الأمور تتطلب نظم المعلومات الجغرافية.

\* الجوائز الدولية للمدن، فهي تعتمد على وجود نظام معلومات جغرافي فعال ومتطور.

**(ج) قارن بين كل من: (لكل إجابة درجة = ٤ درجات)**

وجه المقارنة	ال عمران الريفي (القرية) ص ١٤٤	ال عمران الحضري (المدينة) ص ١٤٤
الخصائص	<p>* أصغر من المدينة حجماً وعدداً من حيث السكان والخدمات التي تقدم في كل منها.</p> <p>* يعتمد سكانها على الزراعة أو الرعي.</p> <p>* الوحدات السكنية منفردة وارتفاعها لا يتعدى الطابق أو الطابقين.</p> <p>* تقدم القليل من الخدمات التخصصية لسكانها.</p> <p>(يكتفى بنقطتين)</p>	<p>* أكبر المناطق العمرانية من حيث المساحة وعدد السكان.</p> <p>* تتميز بتعدد الوظائف والخدمات وتنوع الأنشطة الاقتصادية بها.</p> <p>* شوارعها أكثر اتساعاً وامتداداً وتنظيماً.</p> <p>* تضخم وارتفاع الوحدات السكنية أو العمران الرأسي الذي يعرف بناطحات السحاب.</p> <p>* يعتمد سكانها على الصناعة أو التجارة أو السياحة أو الأنشطة الخدمية أو تجمع بين هذه الوظائف كلها في آن واحد.</p> <p>(يكتفى بنقطتين)</p>

