

تم تحميل هذا الملف من موقع ملفات الكويت التعليمية



[com.kwedufiles.www//:https](https://www.kwedufiles.com)

*للحصول على أوراق عمل لجميع الصفوف وجميع المواد اضغط هنا

* للحصول على أوراق عمل لجميع مواد الصف الحادي عشر الأدبي اضغط هنا

<https://kwedufiles.com/11>

* للحصول على جميع أوراق الصف الحادي عشر الأدبي في مادة جغرافيا وجميع الفصول, اضغط هنا

<https://kwedufiles.com/11geography>

* للحصول على أوراق عمل لجميع مواد الصف الحادي عشر الأدبي في مادة جغرافيا الخاصة بـ الفصل الأول اضغط هنا

<https://www.kwedufiles.com/11geography1>

* لتحميل كتب جميع المواد في جميع الفصول للـ الصف الحادي عشر الأدبي اضغط هنا

<https://www.kwedufiles.com/grade11>

* لتحميل جميع ملفات المدرس سعود المونس اضغط هنا

[bot_kwlinks/me.t//:https](https://t.me/bot_kwlinks)

للحصول على جميع روابط الصفوف على تلغرام وفيسبوك من قنوات وصفحات: اضغط هنا

الروابط التالية هي روابط الصف الحادي عشر الأدبي على مواقع التواصل الاجتماعي

مجموعة الفيسبوك

صفحة الفيسبوك

مجموعة التلغرام

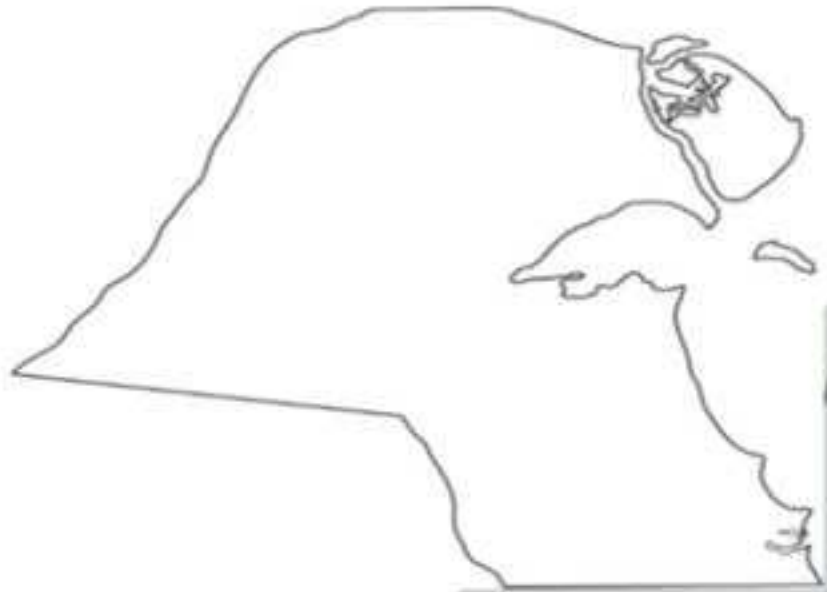
بوت التلغرام

قناة التلغرام

رياضيات على التلغرام

مصادر المعلومات الجغرافية (الخريطة) الدرس صفحة ٣٧ إلى ٤٠

س١/ انظر الخريطة المقابلة ثم: اذكر عناصر الخريطة الناقصة.

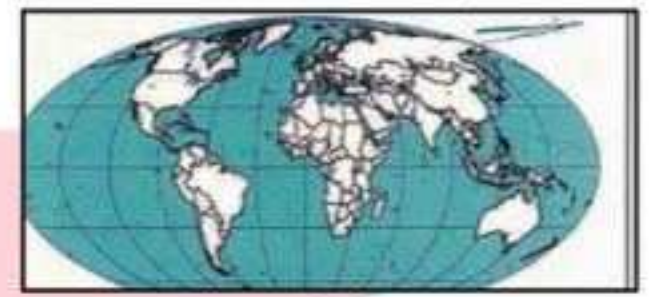


- ١-
- ٢-
- ٣-
- ٤-

س٢/ اكتب الاسم او المصطلح العلمي للعبارات التالية:

- ١- (رسم أو صورة توضيحية مصغرة لمظاهر سطح الأرض أو لجزء منه ممثلة على لوحة مستوية بمقياس رسم معين.)
- ٢- (الحد الذي يضم جميع محتويات الخريطة.)
- ٣- (عملية إسقاط لشبكة خطوط الطول ودوائر العرض من السطح الكروي إلى السطح المستوي للخريطة.)
- ٤- (خريطة لمساحة صغيرة من سطح الأرض لدولة ما تضاف خريطة ركنية صغيرة الحجم تبين موقع المنطقة الصغيرة بالنسبة للدولة ككل.)

س٣/ انظر الأشكال التالية ثم: حدد نوع المسقط المستخدم في الخرائط.



س٤/ اذكر ما يلي:

أ- مصادر المعلومات الجغرافية.

- ١-
- ٢-
- ٣-
- ٤-
- ٥-

ب- أنواع اتجاه الشمال.

١-

٢-

٣-

ج- الأسس التي يجب مراعاتها عند الكتابة على الخريطة.

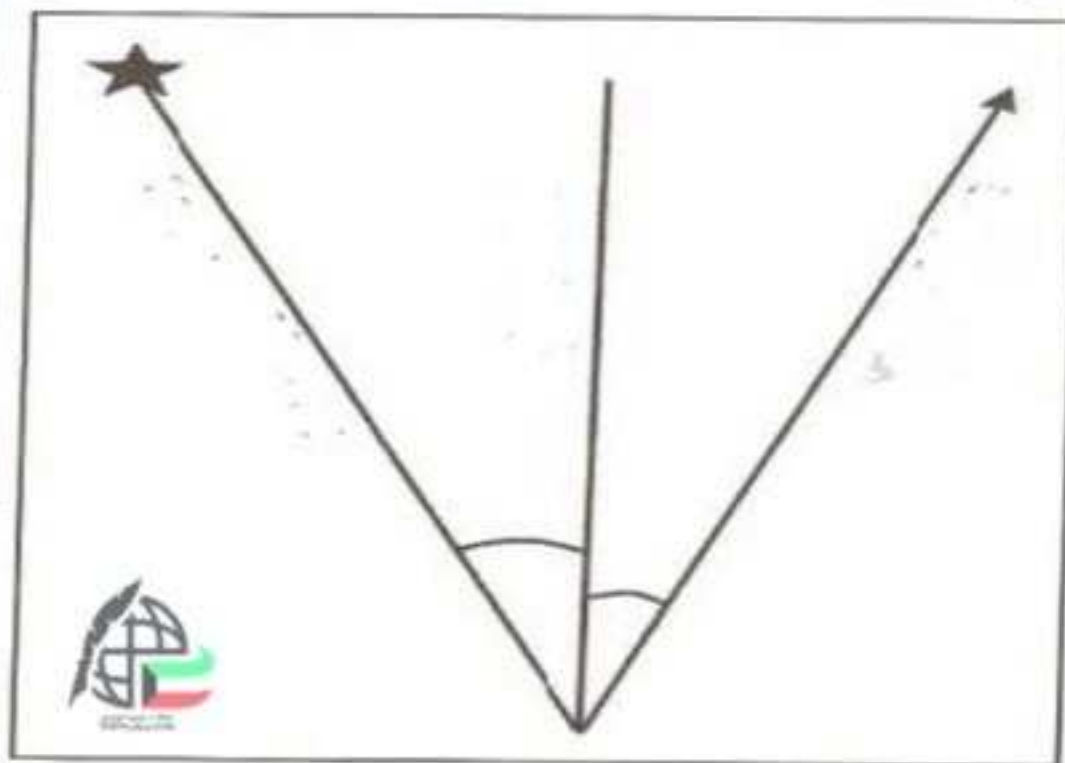
١-

٢-

٣-

٤-

س ٥/ اكتب على الشكل التالي: أنواع اتجاهات الشمال.



س ٦/ فرق بين: أنواع مقاييس الرسم.

١-

٢-

٣-

٤-

قناة أ. سعود المونس
WWW.Q84S.COM