

تم تحميل هذا الملف من موقع ملفات الكويت التعليمية



[com.kwedufiles.www//:https](https://www.kwedufiles.com)

*للحصول على أوراق عمل لجميع الصفوف وجميع المواد اضغط هنا

* للحصول على أوراق عمل لجميع مواد الصف العاشر اضغط هنا

<https://kwedufiles.com/10>

* للحصول على جميع أوراق الصف العاشر في مادة تاريخ وجميع الفصول, اضغط هنا

<https://kwedufiles.com/10history>

* للحصول على أوراق عمل لجميع مواد الصف العاشر في مادة تاريخ الخاصة بـ الفصل الأول اضغط هنا

<https://www.kwedufiles.com/10history1>

* لتحميل كتب جميع المواد في جميع الفصول للـ الصف العاشر اضغط هنا

<https://www.kwedufiles.com/grade10>

* لتحميل جميع ملفات المدرس مذكرات الصفوة اضغط هنا

[bot_kwlinks/me.t//:https](https://t.me/bot_kwlinks)

للحصول على جميع روابط الصفوف على تلغرام وفيسبوك من قنوات وصفحات: اضغط هنا

الروابط التالية هي روابط الصف العاشر على مواقع التواصل الاجتماعي

مجموعة الفيسبوك

صفحة الفيسبوك

مجموعة التلغرام

بوت التلغرام

قناة التلغرام

رياضيات على التلغرام

2021م

للتوصيل

60431360



مذكرات

الصفوة

إختيارك الأول

العاشر

الحف

تاريخ الكويت

المادة

سلسلة مذكرات الصفوة لجميع المراحل

الفصل الأول: معالم الكويت الجغرافية والاقتصادية

أولاً: الموقع والمساحة

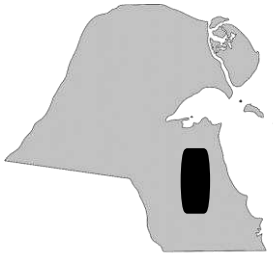
- عدد أهمية دراسة موقع دولة الكويت.
- عدد أهداف دراسة موقع الدول.
- إبراز القيمة الفعلية لها
- معرفة المصالح الحيوية لها
- معرفة الدور الذي يمكن أن تمارسه.
- أكتب باختصار عن الموقع الفلكي والجغرافي لدولة الكويت.
- عدد مميزات الموقع الفلكي والموقع الجغرافي لدولة الكويت.

أولاً: الموقع الفلكي	ثانياً: الموقع الجغرافي
<ul style="list-style-type: none"> - تمتد دولة الكويت بين خطي عرض 28,45 إلى 30,05 شمال خط الاستواء. - كما تمتد بين خطي طول 46,30 إلى 48,30 شرق خط غرينتش. 	<ul style="list-style-type: none"> - تقع في الركن الشمالي الشرقي لشبه الجزيرة العربية. - يحدها من الشمال والشمال الغربي دولة العراق. - يحدها من الجنوب والجنوب الغربي المملكة السعودية - يحدها من الشرق الخليج العربي.




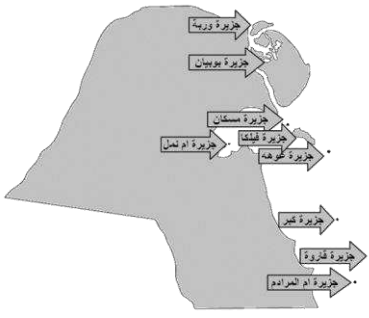
- عدد مميزات موقع دولة الكويت.
 - يمثل تحاية طبيعية لطريق الهند الملاحي البحري.
 - يمثل البوابة الرئيسية لشمال شرق الجزيرة العربية.
 - يشتهر بكونه منطقة (ترانزيت) منطقة لعبور التجارة قليلة الضرائب.
 - يحتوي على أحد أهم الموانئ في شمال إقليم الإحساء.
 - أكسب موقعها الكويتيين مهارة نقل التجارة بين موانئ الخليج والهند وإفريقيا.
- أكمل الجمل التالية بما يناسبها :
 1. تقع دولة الكويت بالنسبة لشبه الجزيرة العربية في الركن «الشمالي الشرقي»
 2. تقع دولة الكويت بالنسبة للخليج العربي في أقصى الركن «الشمالي الغربي»
 3. الدولة التي تحد دولة الكويت من جهة الشمال والشمال الغربي تسمى «العراق»
 4. الدولة التي تحد دولة الكويت من جهة الجنوب والجنوب الغربي تسمى «المملكة العربية السعودية»
 5. المسطح المائي الذي تطل عليه دولة الكويت من جهة الشرق يسمى «الخليج العربي»
 6. المضيق الذي يربط الخليج العربي بخليج عمان يسمى «هرمز»
 7. تمتد دولة الكويت بين خطي عرض ((28,45 و 30,05)) شمال خط الاستواء.
 8. تمتد دولة الكويت بين خطي طول ((46,30 و 48,30)) شرق خط غرينتش .
 9. مساحة دولة الكويت تقدر بنحو ((17,818 ألف)) كم²

ثانياً: التضاريس

• أذكر أهم التضاريس في دولة الكويت .

السهول	التلال	الهضاب	الأودية الجافة	الجزر
- (شمال الكويت): سهل الروضتين.	- (شمال الكويت): تلال حافة جال	- هضبة الأحمدى.	- وادي الباطن	- بوبيان - وربة
- (جنوب الكويت): سهل البرقان.	- الزور - كراع		.	- مسكان - عوهه
- (غرب الكويت): سهل الدبدبة .	- (جنوب الكويت): تلال وارة - برقان			- فيلكا - أم النمل
	- القرين .			- قاروه - أم المرادم
				- الشويخ - كبر

• حدد على خريطة دولة الكويت التضاريس المحددة بالجدول .

السهول بالشكل ○	التلال بالشكل △	الأودية بالشكل ----	اسماء الجزر
			

• بم تفسر ؟:

• «زيادة أهمية سهل برقان منذ ثلاثينيات القرن الماضي»

- بسبب اكتشاف النفط ، حيث يضم أكبر حقول النفط الكويتية وهو حقل برقان .

• «صلاحية بعض مناطق الكويت دون غيرها للزراعة»

- بسبب توافر المياه الجوفية فيها .

• أكمل الجمل التالية بما يناسبها :

1. اتجاه انحدار سطح دولة الكويت من الغرب إلى «الشرق»
2. أعلى ارتفاع في الكويت في المناطق الغربية يقدر بنحو ((300)) متر فوق سطح البحر
3. ارتفاع سلسلة تلال حافة جال الزور يقدر بنحو ((137)) متراً.
4. ارتفاع سلسلة تلال كراع المرو يقدر بنحو ((183)) متراً.
5. المسافة التي تقطعها هضبة الأحمدى من الشمال للجنوب تقدر بنحو ((30)) كم

6. أقصى ارتفاع لهضبة الاحمدي يقدر بنحو ((137)) متراً
7. السهل الذي يحتل مساحة كبيرة من غرب وجنوب الكويت يسمى ((الديدية))
8. أشهر السهول في دولة الكويت حيث يمتد باتجاه الجنوب يسمى ((برقان))
9. السهل الذي يقع شمال الكويت وينحدر باتجاه الشرق والشمال الشرقي يسمى ((الروضتين)).
10. أشهر الأودية الصحراوية الجافة ويفصل بين الحدود الكويتية العراقية يسمى ((وادي الباطن))
11. المسافة التي يقطعها الحد الفاصل بين الحدود الكويتية العراقية (وادي الباطن) يقدر بنحو ((150)) كم

ثالثاً : جزر الكويت

- رتب الجزر الكويتية حسب موقعها من الشمال إلى الجنوب في الجدول التالي:

وربة	بوبيان	مسكان	فيلكا	عوهه	أم النمل	الشويخ	كبر	قاروه	أم المرادم
------	--------	-------	-------	------	----------	--------	-----	-------	------------

- بم تفسر ؟
- ((طمع العراق خلال مراحل صراعه مع دولة الكويت في جزيرتي وربية وبوبيان))
 - حيث كانت ستمنحه منفذاً بحرياً على الخليج العربي .
- عدد الأهمية التاريخية لجزيرة فيلكا .
 - يوجد بها بقايا وشواهد تاريخية وأثرية متعددة.
 - يعمل فيها العديد من البعثات الاستكشافية.
 - ذكرها الرحالة الغربيون وكذلك المصادر اليونانية والرومانية .
- أكمل الجمل التالية بما يناسبها :
 1. جزر دولة الكويت عددها ((10))
 2. أكبر وأهم الجزر الكويتية تسمى ((بوبيان))
 3. الجزيرة الكويتية الثانية من حيث المساحة تسمى ((فيلكا))
 4. نسبة المساحة التي تشغلها جزيرة بوبيان من إجمالي مساحة الكويت تبلغ ((5)) %
 5. الجزيرة الكويتية التي شهدت تواجداً سكانياً قبل الغزو العراقي البائد تسمى ((فيلكا))
 6. الجزيرة التي تقع داخل جون الكويت تسمى ((أم النمل))
 7. آخر الجزر التابعة لدولة الكويت من جهة الشمال تسمى ((وربية))
 8. آخر الجزر التابعة لدولة الكويت من جهة الجنوب تسمى ((أم المرادم))

رابعاً : المناخ

• فرق بين المميزات المناخية للفصول الأربعة في دولة الكويت.

فصل الصيف	فصل الشتاء	فصل الخريف	فصل الربيع
<ul style="list-style-type: none"> - طويل حار جاف . - تتراوح درجة الحرارة بين 42 إلى 48 درجة . - تهب رياح مثيرة للغبار . - ترتفع نسبة الرطوبة . 	<ul style="list-style-type: none"> - قصير دافئ ممطر - تصل درجة الحرارة إلى 18 درجة مئوية . - الأمطار قليلة وغير منتظمة. 	<ul style="list-style-type: none"> - ترتفع فيه نسبة الرطوبة . - تقل فيه درجة الحرارة نسبياً. 	<ul style="list-style-type: none"> - قصير معتدل .

• فرق بين كل من .

(الرياح الشمالية الغربية)	(الرياح الجنوبية الشرقية) الكوس	(الرياح الشمالية الشرقية) السموم	السرايات
<ul style="list-style-type: none"> - رياح جافة بفعل المرتفع السيبيري، تهب معظم أيام السنة وتعمل على خفض درجة الحرارة صيفاً وتجعل الجو شديد البرودة شتاءً. 	<ul style="list-style-type: none"> - رياح رطبة دافئة بفعل المنخفض السوداني تهب من الجنوب الشرقي متسببة في رفع الحرارة والرطوبة صيفاً واعتدال الحرارة وسقوط الامطار شتاءً. 	<ul style="list-style-type: none"> - رياح جافة جداً تهب في الظهيرة خلال فصل الصيف من اتجاه الشمال والشمال الشرقي وتعمل على رفع درجة الحرارة وتثير الأتربة. 	<ul style="list-style-type: none"> - عواصف ترابية تهب في أواخر الربيع وأوائل الصيف فتثير الغبار وتكون مصحوبة عادة بعواصف رعدية متسببة في سقوط المطر الشديد

• بم تفسر ؟ :

• تعرض الكويت لمناخ قار جاف قاس.

- نظراً للموقع الفلكي للكويت حيث تمتد بين خطي عرض 28,45 إلى 30,05 شمالاً وخطي طول 46,30 و 48,30 شرقاً.

• اختلاف وتمايز المناخ في دولة الكويت.

- بسبب المناخ الجاف، وقلة رطوبته، وزيادة نسبة التبخر العالية، وقلة الأمطار.

• تمييز الرياح الشمالية الغربية بالجفاف.

- بسبب المرتفع السيبيري.

• تمييز الرياح الجنوبية الشرقية بالرطوبة والدنيء.

- بسبب المنخفض السوداني.

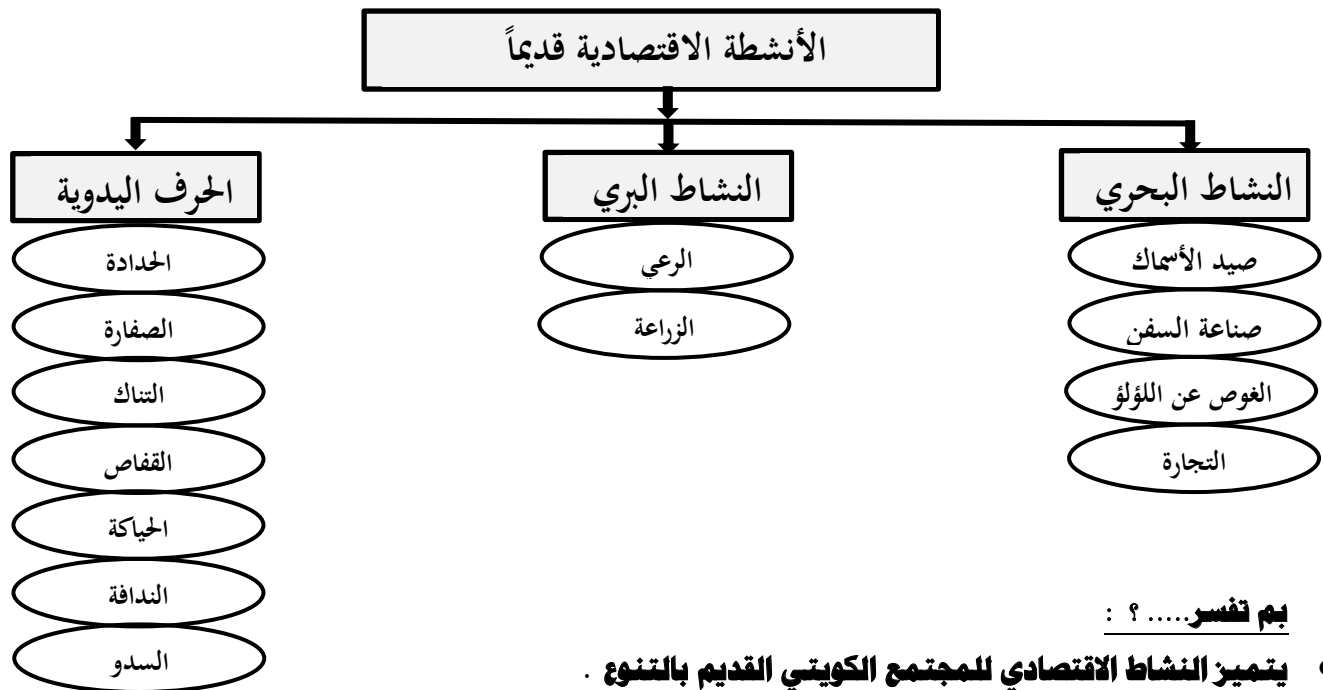
- **عدد مميزات الرياح الشمالية الغربية**
- **أذكر أهم الآثار المناخية للرياح الشمالية الغربية .**
 - تهب معظم أيام السنة
 - تعمل على خفض درجة الحرارة صيفاً .
 - رياح جافة بفعل المرتفع السيبيري .
 - تجعل الجو قارس البرودة شتاءً .
- **أكمل الجمل التالية بما يناسبها :**
 1. اتجاه الرياح السائدة على دولة الكويت من الجهة «الشمالية الغربية»
 2. الرياح الجنوبية الشرقية التي تتميز بالرطوبة والدفيء متأثرة بالمنخفض السوداني تعرف باسم «الكوس»
 3. الرياح الجافة جداً التي تهب في الظهيرة خلال فصل الصيف من اتجاه الشمال والشمال الشرقي تعرف باسم «السموم»
 4. ظاهرة مناخية تهب في أواخر الربيع وأوائل الصيف فتثير الغبار تعرف باسم «السرايات»

خامساً: السكان

- **عدد عناصر البناء السياسي التي افتقدتها الكويت قبل نزول العتوب بها .**
 - أولاً: «السلطة» التي تحكم وتدير شؤون الجماعات - ثانياً: «الحدود السياسية» التي تصنعها هذه السلطة
- **دلل أو برهن على صحة العبارة التالية :**
- **«يعود الوجود البشري في منطقة الكويت إلى أكثر من أربعة آلاف عام قبل الميلاد»**
 - لوجود بقايا الآثار الحضارية القديمة التي عثر عليها في مناطق مختلفة ، كجزيرة فيلكا ووارة وتلال القرين وجنوب الوفرة وبرقان .
- **بم تفسر ؟:**
- **«قلة الوافدين في دولة الكويت بعد عام 1990م»**
 - بسبب العدوان ، واحتلال النظام العراقي البائد للكويت وما تبع ذلك من هجرة كبيرة للوافدين إلى أوطانهم .
- **أكمل الجمل التالية بما يناسبها :**
 1. حضارة قديمة على أرض الكويت ترجع إلى أكثر من أربعة آلاف عام قبل الميلاد تسمى «العبيد»
 2. العام الذي تم فيه عمل أول تعداد سكاني في دولة الكويت «(1957)» ميلادياً
 3. الجهة الرسمية التي قامت بإجراء أول تعداد سكاني في دولة الكويت عام 1957م اسمها «دائرة الشؤون الاجتماعية»
 4. الأمير الراحل الذي تم في عهده أول تعداد سكاني في دولة الكويت هو الشيخ «عبد الله السالم الصباح»
 5. عدد سكان الكويت في آخر تعداد سكاني يقدر بنحو «(4000052)» نسمة .
 6. نسبة الوافدين في دولة الكويت عام 1990 م من إجمالي عدد السكان يقدر بنحو «(72)» %

الأنشطة الاقتصادية قديماً

- أكمل مخطط الأنشطة الاقتصادية في دولة الكويت قديماً بما يناسبه



- بم تفسر..... ؟ :

- يتميز النشاط الاقتصادي للمجتمع الكويتي القديم بالتنوع .

– حيث يجمع بين النشاط البري (الرعي والزراعة) والنشاط البحري (الصيد والغوص وصناعة السفن والتجارة البحرية)

- للخليج العربي أهمية تجارية قديماً

- يشكل الخليج العربي حلقة وصل واتصال حضاري وإنساني لمختلف الشعوب التي عاشت بالقرب منه

- يقع في متوسط من قارات العالم القديم
- يعتبر أحد أذرع المحيط الهندي .
- وجود قوة بشرية كان لها دور مهم في الحراك الاقتصادي..
- وجود مضيق هرمز الذي يربط بين الخليج العربي وخليج عمان .
- تنوع الموارد الطبيعية البرية والبحرية للدول التي تطل عليه

- فرق بين كل من طريق الحرير البري وطريق الحرير البحري .

طريق الحرير البري	طريق الحرير البحري
– هو الطريق البري الشمالي حيث يبدأ من الصين حتى أوروبا.	– هو الطريق البحري الغربي يبدأ من أحد الموانئ الصينية (كانتون) ثم يلتف حول سواحل الهند ليدخل بحر العرب ليتفرع إلى فرعين الأول يتجه شمالاً للخليج العربي والثاني يتجه غرباً للبحر الأحمر

- أكمل الجمل التالية بما يناسبها :

1. من أهم القرى الزراعية خارج مدينة الكويت قديماً « قرية الجهراء وقرية الفحيحيل »
2. المحيط الذي يعتبر الخليج العربي أحد أذرعه في شبه الجزيرة العربية يسمى « الهندي »
3. الميناء الصيني الذي كان يبدأ منه طريق الحرير البحري قديماً يسمى « كانتون »

أولاً: النشاط البحري

1 نشاط صيد السمك

- **بم تفسر ؟ : اتجاه معظم الكويتيين قديماً للعمل في النشاط البحري أو سيادة النشاط البحري قديماً في الكويت من غيره من الأنشطة.**
- نظراً لوقوع الكويت في منطقة صحراوية ، قليلة الموارد ، شحيحة الامطار ، ذات مناخ قاسي ، وتربة رملية لا يصلح أغلبها للزراعة.
- نشاط صيد الأسماك في دولة الكويت قديماً .**

أنواع الأسماك	طرق الصيد	أهم السفن	أماكن الصيد
- الزبيدي - الهامور	- الصيد بالشباك	- الشوعي	- فيلكا - مسكان
- الصبور - النقرور	- الصيد بالخطور	- الهواري	- وربة - الصبية
- البياح - السبيطي	- الصيد بالقرقرور	- الجالبوت	- خور الزبير
- الربيان.	- الصيد بالإضاءة (القمبار)		- رأس الزور
	- الصيد بالميدار (السنارة)		

2 نشاط صناعة السفن

- **عدد أهم أنواع السفن الكويتية قديماً**
- الجالبوت - السنوك - الشوعي - البغلة - البقارة - البوم - البتيل
- **عدد العوامل التي ساهمت في ازدهار صناعة السفن قديماً في الكويت.**
- توفير الأيدي العاملة لصناعة السفن .
- براعة الأيدي العاملة من الأساتذة والقلاليف .
- هبوب الرياح الموسمية التي ساعدت على دفع السفن نحو شواطئ الهند .
- **دليل أو برهن على صحة العبارة التالية « اعتراز دولة الكويت بترائها البحري » .**
- اتخذت صورة سفينة (البوم) الكويتي شعاراً للدولة .
- تجميل المؤسسات بصور ومشاهد تعبر عن ارتباط شعب الكويت بترائهم البحري .

• أكمل الجمل التالية بما يناسبها :

1. نوع من أنواع السفن الكويتية اتخذتها دولة الكويت لتكون شعار لها تسمى «البوم»
2. يطلق على الشخص الذي يقوم بتصميم السفينة قديماً اسم «الأستاذ»
3. يطلق على الشخص الذي يقوم ببناء وصنع السفينة قديماً اسم «القلاف»
4. طريقة صيد قديمة حيث يتجمع السمك حول سراج يحمله الصياد فيقوم بضربة بآلة حادة كالسيف «القمبار أو الإضاءة»
5. مخازن المواد المستخدمة في صناعة السفن تعرف باسم «العمائر»

نشاط الغوص عن اللؤلؤ

3

- عدد افراد طاقم السفينة العاملة في حرفة الغوص ووظيفة كل واحد منهم

المهنة	الوظيفة
النوخدة	- قائد السفينة وربانها - المسؤول عن تحديد أماكن الغوص - صاحب الحق في إعطاء إذن للبحارة بالمغادرة - ملهم بالاتجاهات البحرية والمسالك والطرق - عليه اتخاذ جميع القرارات على السفينة.
المجدي	- رئيس البحارة والمسؤول عن إدارة السفينة من الداخل.
الغيص	- الشخص الذي يغوص في قاع البحر بحثاً عن المحار.
السيب	- الشخص الذي يقوم بسحب الغيص للسطح بالإضافة إلى مساعدة الغيص في فتح المحار.
النهام	- الشخص الذي ينشد المواويل تشجيعاً لطاقم السفينة.
الرضيف	- صغار سن يقومون ببعض الأعمال الأقل من السيب.
الطواش	- تاجر اللؤلؤ.

- **بم تفسر ؟ : كساد تجارة الغوص على اللؤلؤ في الكويت قديماً**

- بسبب ظهور اللؤلؤ الصناعي عام 1928م

- **فرق بين كل من الدشة والقفال .**

الدشة	القفال
- بداية موسم الغوص وتبدأ في شهر مايو .	- نهاية موسم الغوص في شهر سبتمبر أو أكتوبر .

- **دليل أو برهن على صحة العبارة التالية « لحرفة الغوص على اللؤلؤ تأثير كبير على أهل الكويت ».**

- قوت العلاقات بين السكان واصلت قيم الصدق والأمانة .

- ساهمت في تعاون المجتمع .

- ساهمت في تكوين الأسرة الواحدة والاحترام المتبادل .

- الالتزام والطاعة .

- **أكمل الجمل التالية بما يناسبها :**

1. أشهر حرفة مارسها الكويتيين منذ نشأة بلدهم وحتى أوائل الخمسينات تسمى «**الغوص على اللؤلؤ**»

2. قانون صدر عام 1940م في عهد الشيخ أحمد الجابر لينظم علاقة العمل بين النوخذة والبحارة يعرف ب «**قانون الغواصين**»

3. العام الذي كسدت فيه تجارة الغوص على اللؤلؤ بسبب ظهور اللؤلؤ الصناعي ((1928)) ميلادياً

4. بداية موسم الغوص على اللؤلؤ تعرف باسم «**الدشة**»

5. نهاية موسم الغوص على اللؤلؤ تعرف باسم «**القفال**»

6. الشهر الذي يبدأ فيه موسم الغوص عن اللؤلؤ في الكويت «**مايو**»

7. العام الذي صدر فيه قانون الغواصين في الكويت ((1940)) ميلادياً

8. أمير البلاد الذي صدر في عهده قانون الغواصين هو الشيخ «**أحمد الجابر الصباح**».

9. رئيس البحارة والمسؤول عن إدارة السفينة من الداخل يعرف باسم «**المجدي**»

