

تم تحميل هذا الملف من موقع ملفات الكويت التعليمية



[com.kwedufiles.www//:https](https://www.kwedufiles.com)

*للحصول على أوراق عمل لجميع الصفوف وجميع المواد اضغط هنا

* للحصول على أوراق عمل لجميع مواد الصف العاشر اضغط هنا

<https://kwedufiles.com/10>

* للحصول على جميع أوراق الصف العاشر في مادة كيمياء وجميع الفصول, اضغط هنا

<https://kwedufiles.com/10chemistry>

* للحصول على أوراق عمل لجميع مواد الصف العاشر في مادة كيمياء الخاصة بـ الفصل الأول اضغط هنا

<https://www.kwedufiles.com/10chemistry1>

* لتحميل كتب جميع المواد في جميع الفصول للـ الصف العاشر اضغط هنا

<https://www.kwedufiles.com/grade10>

[bot_kwlinks/me.t//:https](https://t.me/bot_kwlinks)

للحصول على جميع روابط الصفوف على تلغرام وفيسبوك من قنوات وصفحات: اضغط هنا

الروابط التالية هي روابط الصف العاشر على مواقع التواصل الاجتماعي

مجموعة الفيسبوك

صفحة الفيسبوك

مجموعة التلغرام

بوت التلغرام

قناة التلغرام

رياضيات على التلغرام

(الأسئلة في (7) صفحات)

دولة الكويت

وزارة التربية

التوجيه الفني العام للعلوم

امتحان الفترة الدراسية الأولى - العام الدراسي 2017 - 2018 م

المجال الدراسي : كيمياء لاصف العاشر - الزمن : ساعتان

أولاً : الأسئلة الموضوعية (15 درجة)

السؤال الأول :

(أ) أكتب بين القوسين الإسم أو المصطلح العلمي الذي تدل عليه كل عبارة مما يلي: ($6 \times 0.5 = 3$)

- 1- عدد الكم الذي يحدد عدد تحت مستويات الطاقة في كل مستوى طاقة. (.....)
- 2- عند ترتيب العناصر بحسب ازدياد العدد الذري , يحدث تكرار دوري للصفات الفيزيائية والكيميائية . (.....)
- 3- عناصر فلزية حيث يحتوي كل من تحت مستوى الطاقة s وتحت مستوى الطاقة d المجاور له على الإلكترونات. (.....)
- 4- نصف المسافة بين نواتي ذرتين متماثلتين (نوع واحد) في جزئ ثنائي الذرة . (.....)
- 5- الرابطة التي تساهم فيها ذرة واحدة بكل من إلكترونات الرابطة اي تنقسم زوج الإلكترونات ذرة واحدة بين ذرتين . (.....)
- 6- مجموعة من الجذول الدوري تحتوي على العناصر التي تقع إلكتروناتها الخارجية في تحت المستوى (np^1) . (.....)

(ب) ضع علامة (✓) في المربع المقابل للإجابة الصحيحة التي تكمل كلا من الجمل التالية : (5×1=5)

1- إذا كانت ($n=3$, $l=1$) فإن رمز تحت المستوى المقصود هو :

3p ☐

4f ☐

3s ☐

3d ☐

2- العنصر الأقل سالبية كهربية من بين العناصر التالية هو :

${}_{9}\text{F}$ الفلور ☐

${}_{11}\text{Na}$ الصوديوم ☐

${}_{55}\text{Cs}$ السيزيوم ☐

${}_{17}\text{Cl}$ الكلور ☐

3- العناصر المثالية هي التي يكون ترتيبها الإلكتروني ينتهي بتحت المستوى :

p أو f ☐

p أو s ☐

d أو s ☐

p أو d ☐

4- ينتهي التوزيع الإلكتروني لعنصر النحاس Cu 29 ب :

$[\text{Ar}] 4s^2 3d^9$ ☐

$[\text{Ar}] 4s^1 3d^5$ ☐

$[\text{Ar}] 4s^2 3d^4$ ☐

$[\text{Ar}] 4s^1 3d^{10}$ ☐

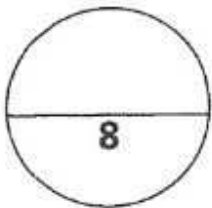
5- يمكن تحضير البورون B بتفاعل أكسيده مع فلز :

الألمنيوم ☐

النحاس ☐

المغنيسيوم ☐

الحديد ☐



درجة السؤال الاول

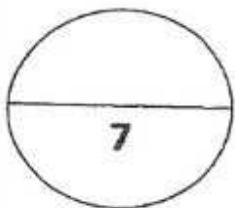
السؤال الثاني :

(أ) أملأ الفراغات في كل من العبارات والمعادلات التالية بما يناسبها علمياً : (5×1=5)

- 1- رمز تحت المستوى الذي عدد أفلاكه يساوي (7) هو
- 2- السيليكون Si_{21} و الجرمانيوم Ge_{32} من عناصر ويستخدمان في تصنيع الشرائح الرقيقة لأجهزة الكمبيوتر .
- 3- كلما تحركنا من اليسار إلى اليمين عبر الدورة الواحدة فإن نصف القطر الذري
- 4- $Na_{(g)} + 496kJ/mol \longrightarrow \dots\dots\dots + e^{-}$
- 5- تسمى مجموعة العناصر اللافلزية التي تقع في مجموعة (7A) ومن بينها الكلور والبروم

(ب) اكتب كلمة (صحيحة) بين القوسين المقابلين للعبارة الصحيحة وكلمة (خطأ) بين القوسين المقابلين للعبارة الخطأ : (4×0.5=2)

- 1- عدد الأفلاك في المستوى الرئيسي الثاني يساوي 4. (.....)
- 2- ترتبط ذرتي الأكسجين في جزي الأكسجين برابطة تساهمية ثنائية. (.....)
- 3- يعتبر البوتاسيوم أحد فلزات المجموعة الأولى ويستخدم في تبريد المفاعلات النووية . (.....)
- 4- عناصر المجموعة 1A هي أقل الفلزات المعروفة نشاطاً وفعالية . (.....)



درجة السؤال الثاني

ثانياً: الأسئلة المقالية (23) درجة

(أجب عن جميع الأسئلة التالية الثالث ، الرابع ، الخامس)

السؤال الثالث :

(أ) ما المقصود بكل مما يلي : (3 = 3x1)

1- مبدأ باولي للاستبعاد :

2- الجدول الدوري الحديث :

3- عناصر المجموعة 2A :

(ب) أكمل الجدول التالي : (2 = 4x0.5)

اسم المركب أو الأيون	صيغته الكيميائية
.....	Ca^{2+}
نيتريد المغنيسيوم
أنيون الكبريتات
.....	NH_3

(ج) اختر من المجموعة (أ) ما يناسبه من المجموعة (ب) . (2.5 = 1x2.5)

المجموعة (أ)	المجموعة (ب)
1- كاتيون Mg^{+2}	تقل خلال المجموعة بزيادة العدد الذري
2- أيون Cl^{-}	أقل نصف قطر من الذرة المتعادلة التي تتكون منها
3- الفلور	أكبر من نصف قطر الذرة المتعادلة التي تتكون منها
4- طاقة جهد التأين الأول	$x + e \rightarrow x^{+} + \text{طاقة}$
5- السالبية الكهربائية -	أكبر العناصر في السالبية الكهربائية

درجة السؤال الثالث

(4)

7.5

السؤال الرابع :

(أ) علل لما يلي تعليلاً علمياً سليماً موضحاً إجابتك بالمعادلات كلما أمكن : ($2 \times 1.5 = 3$)

1- عدد الإلكترونات المفردة في ذرة النيتروجين $7N$ يساوي ثلاثة إلكترونات .

.....
.....

2- تتميز المركبات الأيونية بدرجات انصهار عالية .

.....
.....

(ب) : باستخدام الترتيب الإلكتروني النقطية للعناصر التالية : ^{19}K , ^{16}O , 1H , ^{17}Cl ($2 \times 1.5 = 3$)

مستخدماً الترتيبات الإلكترونية النقطية وضح :

1- طريقة الارتباط بين العنصرين (^{16}O , ^{19}K)

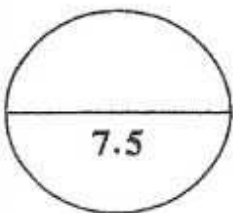
نوع الرابطة المتكونة :

2- طريقة الارتباط بين العنصرين (^{17}Cl , 1H) .

نوع الرابطة المتكونة :

(ج) من الجدول التالي قارن بين كل من : ($6 \times 0.25 = 1.5$)

وجه المقارنة	صوديوم ^{11}Na	كلور ^{17}Cl
الحجم الذري (أكبر - أصغر)
الترتيب الإلكتروني في تحت المستويات
عدد الإلكترونات المفردة



درجة السؤال الرابع

السؤال الخامس:

(أ) : ثلاث عناصر رموزها الافتراضية هي (M , X , Y , Z) ترتيبها الإلكتروني هو (3-5x6)

M	Z	Y	X	الرموز الافتراضية الترتيب الإلكتروني
[He].2s ² .2p ⁴	[Ne].3s ²	[Ar].4s ² .3d ¹	[He].2s ² .2p ⁵	

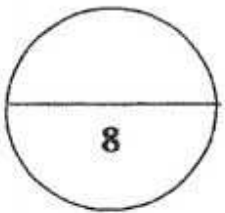
- 1- يقع العنصر X في الجدول الدوري في الدورة.....
- 2- نصف القطر الذري للذرة X من نصف القطر للأيون X⁺.
- 3- نوع العنصر Z..... ونوع العنصر Y
- 4- أ) نصف القطر الذري للذرة X..... من الذرة M .
- ب) السالبية الكهربية للذرة Z من السالبية الكهربية للذرة X .

(ب) وضح بكتابة المعادلات الكيميائية الرمزية فقط كل مما يلي : (3 درجات)

- 1- اتحاد الصوديوم مع الماء البارد .
.....
- 2- تفاعل الألمنيوم مع الأكسجين .
.....
- 3- اتحاد النيتروجين بالهيدروجين عند درجات الحرارة المنخفضة نسبيا في وجود عامل حفاز وتحت ضغط مرتفع.
.....

(ج) اختر من المجموعة (أ) ما يناسبها من المجموعة (ب) ثم ضع الرقم في المربع المقابل : ($4 \times 0.5 = 2$)

الرقم	المجموعة (أ)	الرقم	المجموعة (ب)
1	الفسفور		مادة صناعية مهمة يمكن الحصول عليها بتسخين كربونات الكالسيوم على درجة حرارة مرتفعة.
2	الكلور		مادة صلبة لونها أصفر باهت ولا تذوب في الماء وعرفت من العصور القديمة
3	أكسيد الكالسيوم أو الجير الحي		يستخدم في تنقية إمدادات مياه المدن وأحواض السباحة ومياه الصرف الصحي
4	الكبريت		يلعب دورا مهما في DNA الوراثي الذي يوجه التغيرات الكيميائية في خلايا الإنسان



درجة السؤال الخامس

انتهت الاسئلة مع تمنياتنا بالتوفيق