

تم تحميل هذا الملف من موقع ملفات الكويت التعليمية



[com.kwedufiles.www//:https](https://www.kwedufiles.com)

*للحصول على أوراق عمل لجميع الصفوف وجميع المواد اضغط هنا

* للحصول على أوراق عمل لجميع مواد الصف العاشر اضغط هنا

<https://kwedufiles.com/10>

* للحصول على جميع أوراق الصف العاشر في مادة رياضيات وجميع الفصول, اضغط هنا

<https://kwedufiles.com/10math>

* للحصول على أوراق عمل لجميع مواد الصف العاشر في مادة رياضيات الخاصة بـ الفصل الثاني اضغط هنا

<https://www.kwedufiles.com/10math2>

* لتحميل كتب جميع المواد في جميع الفصول للـ الصف العاشر اضغط هنا

<https://www.kwedufiles.com/grade10>

للحصول على جميع روابط الصفوف على تلغرام وفيسبوك من قنوات وصفحات: اضغط هنا [bot_kwlinks/me.t//:https](https://t.me/bot_kwlinks)

الروابط التالية هي روابط الصف العاشر على مواقع التواصل الاجتماعي

مجموعة الفيسبوك

صفحة الفيسبوك

مجموعة التلغرام

بوت التلغرام

قناة التلغرام

رياضيات على التلغرام

تحليل البيانات

Data Analysis

التمرين الأول

(١) البيانات التالية هي درجات أحد الطلاب في ٦ اختبارات رياضية، حيث النهاية العظمى ١٠٠ درجة:

$$٨٥, ٩٠, ٧٣, ٦٧, ٨٩, ٧٦. \text{ أوجد المتوسط الحسابي لهذه الدرجات. } = \frac{٨٥ + ٩٠ + ٧٣ + ٦٧ + ٨٩ + ٧٦}{٦} = ٨٠ \text{ درجة}$$

(٢) البيانات في الجدول أدناه هي درجات ٢٥ طالبًا في نهاية العام الدراسي لمادة الرياضيات، حيث النهاية

العظمى ١٠٠ درجة.

$$\frac{٩٠ \times ١٥}{٢٥} = \frac{٨٥ \times ٨ + ٧٦ \times ٦ + ٩٠ \times ٢ + ٨٣ \times ٥ + ٨٥ \times ٤}{٨ + ٦ + ٢ + ٥ + ٤} =$$

الدرجة	٨٥	٨٣	٩٠	٧٦	٧٨
التكرار	٤	٥	٢	٦	٨

أوجد المتوسط الحسابي لهذه الدرجات.

(٣) بين الجدول التالي التوزيع التكراري لمعدل نبضات القلب عند ٢٣ طالبًا من الصف العاشر أثناء وقت الاستراحة.

$$\frac{٢٨ \times ٩ + ٤٨ \times ٦ + ٣٨ \times ٥ + ٢٨ \times ٧ + ٥٨ \times ٢ + ٢٨ \times ٧ + ٢٨ \times ٦ + ٢٨ \times ٣ + ٢٨ \times ١}{٢٣} =$$

$$\frac{٢٨ \times ٩ + ٤٨ \times ٦ + ٣٨ \times ٥ + ٢٨ \times ٧ + ٥٨ \times ٢ + ٢٨ \times ٧ + ٢٨ \times ٦ + ٢٨ \times ٣ + ٢٨ \times ١}{٢٣} =$$

$$\frac{٩٤٧٥}{٢٣} = ٤١٠ \text{ نبضة}$$

(٤) بين الجدول التالي التوزيع التكراري لأوزان ٣٠ طالبًا.

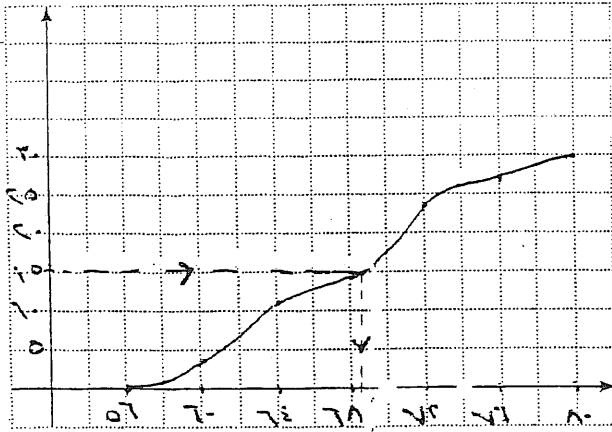
الفترة	-٥٦	-٦٠	-٦٤	-٦٨	-٧٢	-٧٦
التكرار	٣	٨	٣	٩	٤	٣

(أ) أوجد المتوسط الحسابي لهذه الأوزان.

$$\bar{x} = \frac{\sum (x_i \cdot f_i)}{\sum f_i} = \frac{٩٠٩٨}{٣٠} = ٣٠٣,٢٦$$

الفترة	سما	تكرار	تكرار
-٥٦	٥٨	٣	١٧٤
-٦٠	٦٢	٨	٤٩٦
-٦٤	٦٦	٣	١٩٨
-٦٨	٧٠	٩	٦٣٠
-٧٢	٧٤	٤	٢٩٦
-٧٦	٧٨	٣	٢٣٤
المجموع		٣٠	٢٠٩٨

(ب) أوجد الوسيط لهذه الأوزان باستخدام منحني التكرار المتجمع الصاعد.



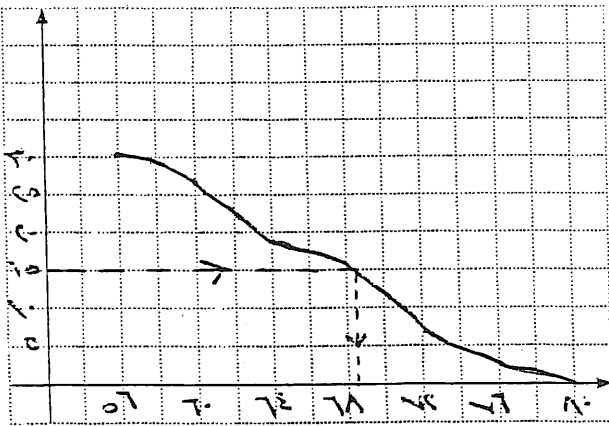
الترتيب	الترتيب	أقل من الحدود العليا للترتيب	التكرار
3	3	أقل من 60	3
11	8	أقل من 64	8
14	3	أقل من 68	3
23	9	أقل من 72	9
27	4	أقل من 76	4
30	3	أقل من 80	3

الحدود العليا للترتيب

$$\text{ترتيب الوسيط} = \frac{30}{2} = 15$$

$$\text{الوسيط} = 68.5 \text{ تقريباً}$$

(ج) أوجد الوسيط لهذه الأوزان باستخدام منحني التكرار المتجمع النازل.



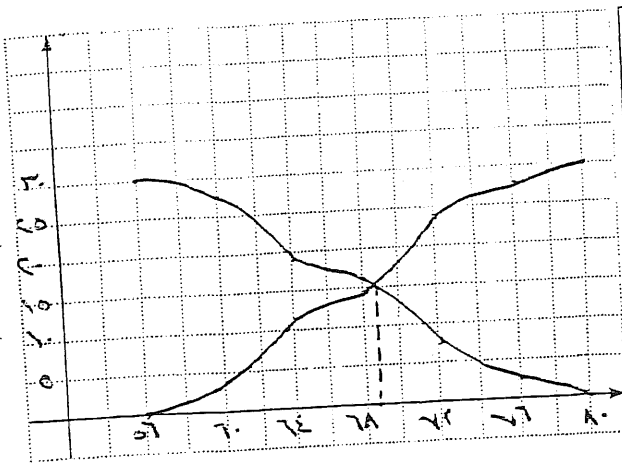
الترتيب	الترتيب	الحد الأدنى للترتيب الأكثر تكراراً	التكرار
30	3	56 فأكثر	3
27	8	60 فأكثر	8
19	3	64 فأكثر	3
16	9	68 فأكثر	9
7	4	72 فأكثر	4
3	3	76 فأكثر	3

الحدود الدنيا للترتيب

$$\text{ترتيب الوسيط} = \frac{30}{2} = 15$$

$$\text{الوسيط} = 68.5 \text{ تقريباً}$$

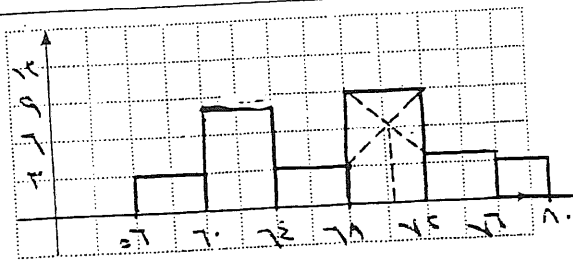
(د) أوجد الوسيط لهذه الأوزان باستخدام متحنى التكرار التجمع الصاعد ومنحنى التكرار التجمع النازل.



الفترة	التكرار	أقل من الحدود العليا للفترة	التكرار التجمع الصاعد	الحد الأدنى للفترة	التكرار التجمع النازل
-56	3	أقل من 56	3	أكثر من 56	30
-60	8	أقل من 60	11	أكثر من 60	27
-64	3	أقل من 64	14	أكثر من 64	19
-68	9	أقل من 68	23	أكثر من 68	16
-72	4	أقل من 72	27	أكثر من 72	7
-76	3	أقل من 76	30	أكثر من 76	3

الوسيط = 68,5 تقريباً

✓ (هـ) أوجد المتوال لهذه الأوزان باستخدام قانون الرافعة.



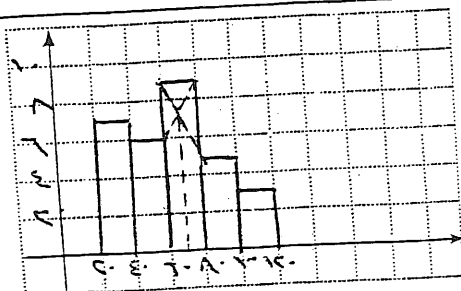
(و) أوجد المتوال لهذه الأوزان باستخدام المدرج التكراري.

المتوال = 68,5 تقريباً

(٥) يبين الجدول التالي ٥ فئات تمثل توزيع المصروف اليومي لـ ٣٠ عائلة بالدينار.

الفترة	-20	-40	-60	-80	-100
التكرار	7	6	9	5	3

✓ (أ) أوجد المتوال لمصروف العائلات اليومي باستخدام قانون الرافعة.



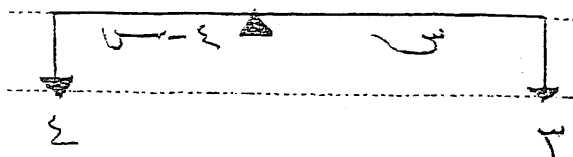
(ب) أوجد المتوال لمصروف العائلات اليومي باستخدام المدرج التكراري.

المتوال = 69

مدرسة - تم ١٤١ هـ - قسم ١٩١ - الحد الأقصى لقائمة ١٢٤

رقم [٥] [١٤] ١١٤

المردف للغة المنوالية - ٦٨



ف = ٤

ل = ٣

ل = ٤

$$ل \times س = ل \times (ف - س)$$

$$٣ \times س = ٤ \times (٤ - س)$$

$$٣ س = ١٦ - ٤ س$$


$$٣ س + ٤ س = ١٦ \quad ٧ س = ١٦$$

$$س = \frac{١٦}{٧} \approx ٢,٢$$

المردف = المردف للغة المنوالية + س = ٦٨ + ٢,٢ = ٧٠,٢

رقم [٥] [١٤] ١١٤

المردف للغة المنوالية = ٦٠



ل = ٦ ل = ٥ ف = ٥

$$ل \times س = ل \times (ف - س)$$

$$٦ \times س = ٥ \times (٥ - س)$$

$$٦ س = ٢٥ - ٥ س \quad ٦ س + ٥ س = ٢٥ \quad ١١ س = ٢٥$$

$$س = \frac{٢٥}{١١} \approx ٢,٢ \quad \text{المردف} = ٦٠ + ٢,٢ = ٦٢,٢$$

الشهر	يناير	فبراير	مارس	أبريل	مايو	يونيو	يوليو	أغسطس	سبتمبر	أكتوبر	نوفمبر	ديسمبر
معدل الدرجة العظمى	١٨	٢٠	٢٥	٣٠	٣٨	٤٣	٤٥	٤٥	٤٣	٣٧	٢٨	٢١
معدل الدرجة الصغرى	٧	٩	١٣	١٨	٢٣	٢٨	٣٠	٢٨	٢٥	٢٢	١٦	٩

ماذا تلاحظ؟

الحديث في الفقه ص ١٢٦

② $\vec{r}_1, \vec{r}_2, \vec{r}_3$ (11) \vec{r}_1

(٢) يبين الجدول التالي التوزيع التكراري لأهداف الفرق في مباريات كأس العالم لسنة ٢٠٠٦.

٦	٥	٤	٣	٢	١	٠	الأهداف
٢	٢	١٠	١٢	١٨	١٣	٧	التكرار (عدد الفرق)

(٣) يبين الجدول التالي التوزيع التكراري على فئات لقياسات أرجل ٥٠ رياضيًا في أحد النوادي.

الفترة	-٣٨	-٤٠	-٤٢	-٤٤
التكرار	١١	١٦	١٧	٦

الفئة	نار	نار	نار
- ٣٨	٣٩	١١	٤٢٩
- ٤٠	٤١	٩٦	٦٥٦
- ٤٢	٤٣	١٧	٧٣١
- ٤٤	٤٥	٦	٢٧٠
المجموع		٥٠	٢٠٨٦

١٠ (أ) أوجد المتوسط الحسابي للقياسات.

$$s_1, v_2 = \frac{9.17}{0.} = \frac{\sum_{i=1}^2 \text{تدریس}}{\sum_{i=1}^2 \text{تدریس}} = 1$$

رقم 115 ب

- المتوسط الحسابي لمعدل الدرجات العظمى =

$$15,70 = \frac{292}{12} = \frac{11 + 10 + 9 + 8 + 7 + 6 + 5 + 4 + 3 + 2 + 1 + 0}{12}$$

- المتوسط الحسابي لمعدل الدرجات الصغرى =

$$19 = \frac{228}{12} = \frac{7 + 9 + 13 + 18 + 23 + 28 + 30 + 28 + 20 + 25 + 17 + 9}{12}$$

رقم 115 ج

- الترتيب التصاعدي لمعدل الدرجات العظمى:

11 / 10 / 9 / 8 / 7 / 6 / 5 / 4 / 3 / 2 / 1 / 0

$$\text{الوسيط} = \frac{3 + 7}{2} = 5$$

- الترتيب التصاعدي لمعدل الدرجات الصغرى:

7 / 9 / 9 / 13 / 17 / 18 / 20 / 23 / 28 / 28 / 30

$$\text{الوسيط} = \frac{18 + 20}{2} = 19$$

رقم 115 د

السؤال لمعدل الدرجات العظمى = 15,70

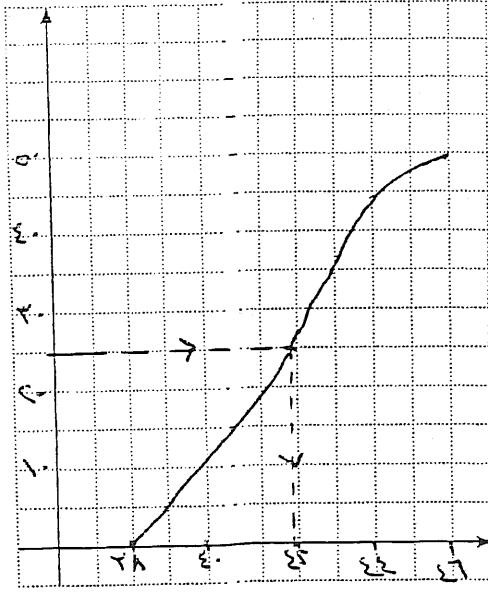
السؤال لمعدل الدرجات الصغرى = 19

رقم 115 هـ

$$127 = \frac{287 + 280 + 10 \times 4 + 12 \times 3 + 18 \times 2 + 13 \times 1 + 7 \times 0}{74} = \frac{2 + 2 + 10 + 12 + 18 + 13 + 7}{74}$$

(ب) أوجد الوسيط لهذه الأوزان باستخدام منحنى التكرار المتجمع الصاعد.

التكرار المتجمع الصاعد



الحدود العليا للفئات

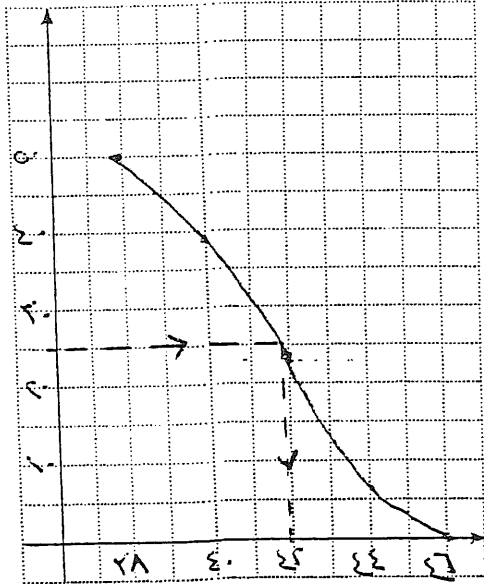
الفئة	التكرار	أقل من الحدود العليا للفئة	التكرار المتجمع الصاعد
-38	11	أقل من 40	11
-40	16	أقل من 42	27
-42	17	أقل من 44	44
-44	6	أقل من 46	50

$$\text{ترتيب الوسيط} = \frac{50}{2} = 25$$

$$\text{الوسيط} = 41.9$$

(ج) أوجد الوسيط لهذه الأوزان باستخدام منحنى التكرار المتجمع النازل.

التكرار المتجمع النازل



الحدود الدنيا للفئات

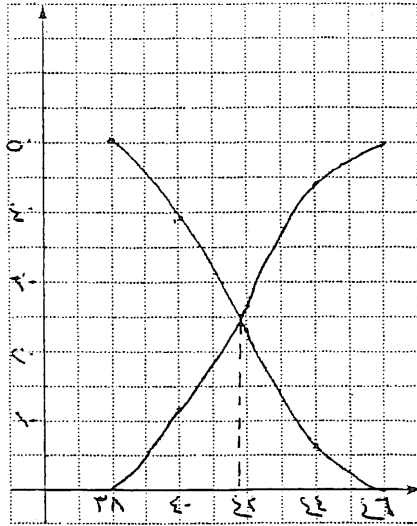
الفئة	التكرار	الحد الأدنى للفئة فأكثر	التكرار المتجمع النازل
-38	11	38 فأكثر	50
-40	16	40 فأكثر	39
-42	17	42 فأكثر	23
-44	6	44 فأكثر	6

$$\text{ترتيب الوسيط} = \frac{50}{2} = 25$$

$$\text{الوسيط} = 41.9$$

(د) أوجد الوسيط لهذه الأوزان باستخدام منحني التكرار المتجمع الصاعد ومنحني التكرار المتجمع النازل معًا.


الفترة	التكرار	أقل من الحدود العليا للفترة	التكرار المتجمع الصاعد	الحد الأدنى للفترة	التكرار المتجمع النازل
-٣٨	١١	أقل من ٤٠	١١	٣٨	٥٠
-٤٠	١٦	أقل من ٤٤	٢٧	٤٠	٣٩
-٤٢	١٧	أقل من ٤٤	٤٤	٤٤	٢٣
-٤٤	٦	أقل من ٤٤	٥٠	٤٤	٦



الوسيط = ٤١,٨

(هـ) اوجد الردي للفترة المتوالية = ٤٤

$$ف = ٢ \quad ل = ١٦ \quad ل = ٦٠$$



$$ل = س = ل (ف - س)$$

$$١٦ = س = ٦ (٢ - س)$$

$$١٦ = س = ١٢ - ٦س$$

$$١٦ = س + ١٢ - ٦س$$

$$\frac{١٢}{٥} = س$$

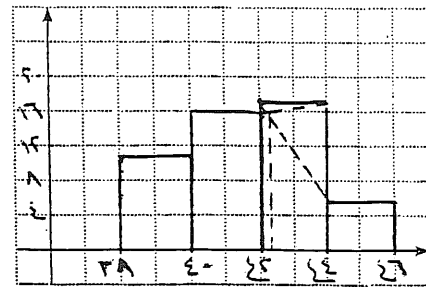
$$س = ٢,٤$$

$$\therefore \text{الموالت} = ٢,٤ + ٢٠ = ٢٢,٤$$

$$٢٢,٤ =$$

(هـ) أوجد المتوال لهذه القياسات باستخدام قانون الرافعة .

(و) أوجد المتوال لهذه القياسات باستخدام المدرج التكراري.



المتوال = ٤٢,٣

التاريخ الميلادي:

7-10

الاحمدية الخارعية اساسية

٢٠١٠، ١٩٨٦، ١٩٨٧ (١)

١٧، ١٢، ١٩، ١٨، ١٥، ٢٢، ١١، ٢٠، ١٧ (ب)


(٢) أوجد الوسيط (μ) والأرباعي الأدنى (μ_1) والأرباعي الأعلى (μ_2) والمدى الأرباعي ومجموع الأعداد الخمسة

البيانات: ٥٢، ٦٠، ٥٠، ٥٤، ٥٩، ٦٥، ٦٦، ٦٤، ٩٥، ٦٢.

(3) (أ) أوجد مجمل الأعداد الخمسة للقيم التالية التي تمثل أوزان أكياس من الأرز: ١١، ١٢، ١٣، ١٧، ٢٣، ٢٦، ٢٧، ٥٠.

~~$$27,0 = \frac{24+27}{2} = \frac{51}{2}$$
$$19,0 = \frac{13+19}{2} = \frac{32}{2}$$
$$9,0 = \frac{53+19}{2} = \frac{72}{2}$$~~

(ب) ارسم مخطط الصندوق ذي العارضتين لقيم البيانات في (أ). ماذا تستنتج؟ اشرح.



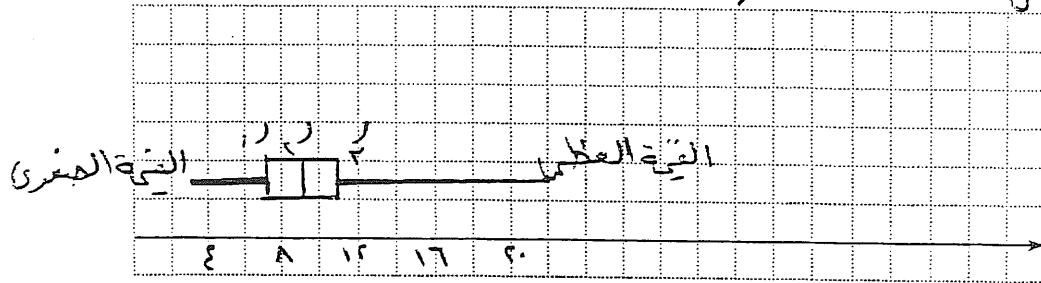
(٤) يبين الجدول التالي تواريخ وأطوال الأعاصير التي اجتاحت إحدى المدن في سنة ١٩٩٥.

التاريخ	٤/١٧	٤/١٨	٤/١٩	٥/٦	٥/٧	٦/٨	٦/٩
طول الإعصار (بالكيلومتر)	٣	٧	١١	٢٠	١٠	٨	٩

ارسم مخطط الصندوق ذي العارضتين مع القيمة المتطرفة. وفتر النتائج.

توب البيانات: ٣ ٤ ٦ ٨ ٩ ١٠ ١١ ٢٠

لم = ٩
لم = ٣
١١ = ٣
٧ = ٣
٣ ٤ ٦ ٨ ٩ ١٠ ١١ ٢٠



المجموعة الثانية

(١) أوجد المدى، الوسيط، الأرباعي الأدنى، الأرباعي الأعلى، المدى الأرباعي ومجموع الأعداد الخمسة للبيانات التالية:

(أ) ٨٠، ٧٧، ٦٧، ٦٤، ٦٢، ٥٨، ٤٩

المدى = ٨٠ - ٤٩ = ٣١
٦٤ = ٣
٥٨ = ٣
٧٧ = ٣
المدى الأرباعي = ٥٨ - ٧٧ = ١٩
مجموع الأعداد الخمسة (٤٩، ٥٨، ٦٤، ٧٧، ٨٠)

(ب) ١١٠، ١٠٩، ١٠٥، ١٠٤، ١٠٣، ١٠٢، ١٠١، ١٠٠

المدى = ١١٠ - ١٠٠ = ١٠
١٠ = ٣
١٠٣ = ٣
١٠٤ = ٣
المدى الأرباعي = ١٠٧ - ١٠١ = ٦
مجموع الأعداد الخمسة (١٠٠، ١٠١، ١٠٣، ١٠٤، ١٠٧)

(ج) ٢٠، ١٩، ١٩، ١٧، ١٥، ١٤، ١٣، ١٢، ١١

المدى = ٢٠ - ١١ = ٩
١٥ = ٣
١٣ = ٣
المدى الأرباعي = ١٩ - ١٥ = ٤
مجموع الأعداد الخمسة (١١، ١٣، ١٥، ١٩، ٢٠)

١٣ =

(٢) بيّن الجدول التالي عدد أكبر الزلازل التي حدثت في العالم حيث قوتها تخطت ٧ درجات على مقياس ريختر وذلك بين ١٩٨٥ و ١٩٩٤.

السنة	١٩٨٥	١٩٨٦	١٩٨٧	١٩٨٨	١٩٨٩	١٩٩٠	١٩٩١	١٩٩٢	١٩٩٣	١٩٩٤
عدد الزلازل	١٤	٣	١٢	٨	٧	١٣	١٢	٣٣	١٥	١٤

(أ) أوجد الوسيط، الأرباعي الأدنى، الأرباعي الأعلى، المدى الأرباعي، مجمل الأعداد الخمسة لقيم هذه البيانات.

ترتيب البيانات تصاعدياً: ٦، ٨، ١١، ١٢، ١٣، ١٤، ١٤، ١٥، ١٦، ٣٣

$$١٢ = \frac{١١ + ١٣}{٢}$$

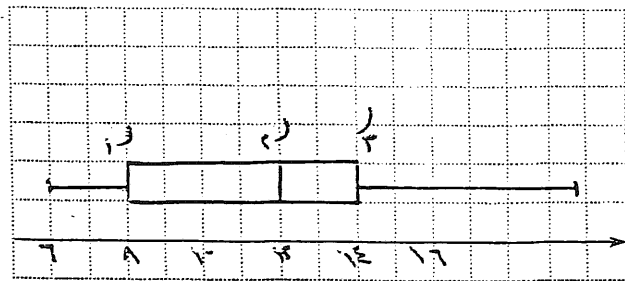
$$٨ = ١$$

$$١٤ = ٣$$

$$\text{المدى الأرباعي} = ١٤ - ٨ = ٦$$

مجمل الأعداد الخمسة (٦ ٨ ١٢ ١٤ ٣٣)

(ب) ارسم مخطط الصندوق ذي العارضتين لقيم هذه البيانات بدون القيمة المتطرفة.



(٣) بيّن الجدول التالي معدل دخل الفرد السنوي في بعض الدول العربية بالدولار الأميركي بحسب البنك الدولي (أعداد تقريبية).

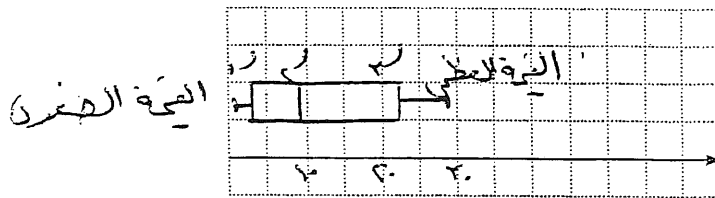
الدولة	الإمارات العربية المتحدة	المملكة العربية السعودية	دولة الكويت	سلطنة عمان	دولة قطر	لبنان	الأردن	تونس	سورية	مملكة البحرين
معدل الدخل بآلاف الدولارات	٢٤	١٠	٢٢	٩	٢٩	٦	٢	٣	١	١٤

(أ) أوجد الوسيط، الأرباعي الأدنى، الأرباعي الأعلى، المدى الأرباعي، مجمل الأعداد الخمسة لقيم هذه البيانات.

الترتيب التصاعدي للبيانات: ١ ٢ ٣ ٤ ٦ ٩ ١٠ ١٤ ٢٢ ٢٩ ٢٤ ٢٢ ١٠ ٩ ٦ ٣ ٢ ١

$$n = 19 \quad \text{المدى الأرباعي} = 2 - 14 = 12 \quad \text{مجموع الأعداد الخمسة} (1, 2, 3, 4, 6, 9, 10, 14, 22, 29) = 91$$

(ب) ارسم مخطط الصندوق ذي العارضتين لقيم هذه البيانات. ماذا تستنتج؟ اشرح.



يسين مخطط الصندوق أن المنطقة المحصورة بين الوسيط والأرباعي الأدنى هما الثمن من البيانات والأرباعي الأعلى والأرباعي الأدنى هما الثمن من البيانات. (أي أن هناك تقارب بين دخل الفرد ومخطط الصندوق لا يبين عبور قيمة متطرفة).

الانحراف المعياري Standard Deviation

المجموعة الأولى

(١) أوجد الانحراف المعياري لقيم البيانات التالية (يمكن استخدام الآلة الحاسبة):

(أ) ٥٢، ٦٣، ٥٤، ٧٠، ٦٦.

$$\bar{x} = \frac{52 + 63 + 54 + 70 + 66}{5} = \frac{305}{5} = 61$$

تكرار	تكرار - \bar{x}	(تكرار - \bar{x}) ^٢
٥٢	٩ -	٨١
٦٣	٢	٤
٥٤	٧ -	٤٩
٧٠	٩	٨١
٦٦	٥	٢٥
المجموع = ٢٢٠		

$$\text{لتباينه} = \frac{\sum_{i=1}^n (x_i - \bar{x})^2}{n}$$

$$= \frac{220}{5} = 44$$

$$\text{انحراف المعياري} = \sqrt{44} = 6,63$$

(ب) ١٥، ١٠، ٨، ١٥، ١٢، ١٧، ٢، ١.

$$\bar{x} = \frac{15 + 10 + 8 + 15 + 12 + 17 + 2 + 1}{8} = \frac{70}{8} = 8,75$$

تكرار	تكرار - \bar{x}	(تكرار - \bar{x}) ^٢
١	٩ -	٨١
٢	٨ -	٦٤
١٢	٣	٩
١٥	٦	٣٦
١٥	٦	٣٦
٨	١ -	١
١٠	١ -	١
١٥	٦	٣٦
المجموع = ٢٥٢		

$$\text{لتباينه} = \frac{252}{8} = 31,5$$

$$\text{انحراف المعياري} = \sqrt{31,5} = 5,61$$

$$= \frac{252}{8} = 31,5$$

$$\text{انحراف المعياري} = \sqrt{31,5} = 5,61$$

(ج) ١١، ١٩، ١٢، ١٨، ١٧، ١٥، ١٣

$$\bar{x} = \frac{100}{7} = \frac{11+19+12+18+17+15+13}{7} = 15$$

سار	سار - سار	(سار - سار) ^٢
١٣	٢ -	٤
١٥	٠	٠
١٧	٢	٤
١٨	٣	٩
١٤	٢ -	٩
١٩	٤	١٦
١١	٤ -	١٦
		المجموع = ٥٨

$$\text{التباين} = \sigma^2 = \frac{58}{7} = 8,3$$

$$\text{الانحراف المعياري} = \sigma = \sqrt{8,3} = 2,9$$

(د) ٥٨٠، ٧٢٠، ٢٣٠، ٦١٠، ٤٨٠، ٣٥٠

هل تتغير النتيجة إذا قسمت هذه القيم على ١٠؟ اشرح.

$$\bar{x} = \frac{580+720+230+610+480+350}{6} = \frac{2970}{6} = 495$$

$$\bar{x} = 495$$

$$\text{التباين} = \sigma^2 = \frac{162500}{6} = 27083,3$$

$$\text{الانحراف المعياري} = \sigma = \sqrt{27083,3} = 164,3$$

سار	سار - سار	(سار - سار) ^٢
٣٥٠	١٤٥ -	٢١٠٢٥
٤٨٠	١٥ -	٢٢٥
٦١٠	١١٥	١٣٢٢٥
٢٣٠	٢٦٥ -	٧٠٢٢٥
٧٢٠	٢٢٥	٥٠٦٢٥
٥٨٠	٨٥	٧٢٢٥
		المجموع = ١٦٢٥٥٠

إذا قسمنا البيانات على ١٠ لا تتغير القيم (الانحراف المعياري الناتج يكون هو الآخر مقسوماً على ١٠)

سار	سار - سار	(سار - سار) ^٢
٣٥	١٤,٥ -	٢١٠,٢٥
٤٨	١,٥ -	٢,٢٥
٦١	١١,٥	١٣٢,٢٥
٢٣	٢٦,٥ -	٧٠٢,٢٥

$$\bar{x} = 49,5$$

$$\sigma^2 = \frac{16250}{6} = 2708,3$$

$$\sigma = \sqrt{2708,3} = 52,0$$

السجادة
بالحلف

(أ) كَوْنُ جَدْوَلٍ تَكَرَّرِيًّا لِقِيَمِ هَذِهِ الْبَيَانَاتِ. ثُمَّ أَوْجَدَ الْمُتَوَسُّطَ الْحَسَابِيَّ.

1301

(٣) يبين الجدول التالي الطاقة الكهربائية المستهلكة بالميغاواط/ ساعة خلال خمسة أيام متتالية في إحدى المدن.

اليوم	١	٢	٣	٤	٥
الطاقة المستهلكة	٤٨,٠	٥٣,٢	٥٢,٣	٤٦,٦	٤٩,٩

أوجد التباين والانحراف المعياري لقيم هذه البيانات.

$$\bar{x} = \frac{48 + 53.2 + 52.3 + 46.6 + 49.9}{5}$$

$$\bar{x} = \frac{250}{5} = 50$$

$$\text{التباين} = s^2 = \frac{31.1}{5} = 6.22$$

$$\text{الانحراف المعياري} = s = \sqrt{6.22} = 2.5$$

عدد	عدد - تكرر	(عدد - تكرر) ^٢
٤٨	١ -	٤
٥٣,٢	٢,٢	١٠,٤٤
٥٢,٣	٢,٣	٥,٢٩
٤٦,٦	٣,٤ -	١١,٥٦
٤٩,٩	١ -	١
		٣١,١

التمرين الثاني

(١) أوجد الانحراف المعياري لقيم البيانات التالية، ماذا تستنتج؟

(أ) ٣, ٩, ٨, ٤, ٦, ٧, ٥

$$\bar{x} = \frac{42}{7} = \frac{3+9+8+4+6+7+5}{7}$$

$$\text{التباين} = s^2 = \frac{28}{7} = 4$$

$$\text{الانحراف المعياري} = s = \sqrt{4} = 2$$

عدد	عدد - تكرر	(عدد - تكرر) ^٢
٥	١ -	١
٧	١	١
٦	٠	٠
٤	٢ -	٤
٨	٢	٤
٩	٣	٩
٣	٣ -	٩
		٢٨

(ب) ٣٩، ٤٤، ٤٣، ٣٦، ٤٢، ٣٧، ٤٥، ٣٤

$$\overline{\text{تكرار}} = \frac{٣٦ + ٤٤ + ٤٣ + ٣٦ + ٤٢ + ٣٧ + ٤٥ + ٣٤}{٨}$$

تكرار-تكرار	تكرار-تكرار	تكرار
٣٦	٦-	٣٤
٤٥	٥	٤٥
٩	٣-	٣٧
٤	٢	٤٢
١٦	٤-	٣٦
٩	٣	٤٣
١٦	٤	٤٤
١	١-	٣٩
١١٦		

$$\overline{\text{تكرار}} = ٤٠$$

$$\overline{\text{تكرار}} = \frac{١١٦}{٨} = ١٤,٥$$

$$\overline{\text{تكرار}} \approx \sqrt{١٤,٥} = ٣,٨$$

(٢) يبين الجدول التالي التوزيع التكراري لاستهلاك الطاقة الكهربائية بالميجاواط / ساعة طيلة شهر أغسطس في

إحدى المدن:

الكمية	٣٣	٣٦	٣٩	٤٠	٤١	٤٢	٤٣	٤٤	٤٥	٤٦	٤٧	٤٩	٥٠	٥٢	٥٣	٥٤
التكرار	٤	١	٣	٣	٢	٢	٢	١	٢	١	٣	٢	١	١	٢	١

(أ) أوجد المتوسط الحسابي.

$$\overline{\text{متوسط}} = \frac{٥٤ + ١٠٦ + ٥٢ + ٥٠ + ٩٨ + ١٤١ + ٢٦ + ٩٠ + ٤٤ + ٩٨ + ٩٨ + ٩٨ + ٩٨ + ٩٨ + ٩٨ + ٩٨ + ٩٨ + ٩٨}{٨}$$

$$١ + ٢ + ١ + ١ + ٢ + ٣ + ١ + ٢ + ١ + ٢ + ١ + ٣ + ٢ + ١ + ١ + ٢ + ١$$

$$\overline{\text{متوسط}} = \frac{١٢٥٤}{٨} = ١٥٦,٥$$

(ب) أوجد التباين والانحراف المعياري لقيم هذه البيانات باستخدام الآلة الحاسبة.

$$\overline{\text{تباين}} = \frac{٤(٤٠ - ٣٣)^٢ + (٣٦ - ٣٣)^٢ + ٣(٣٩ - ٣٣)^٢ + ٣(٤٠ - ٣٣)^٢ + ٢(٤١ - ٣٣)^٢ + ٢(٤٢ - ٣٣)^٢ + ٢(٤٣ - ٣٣)^٢ + ١(٤٤ - ٣٣)^٢ + ٢(٤٥ - ٣٣)^٢ + ١(٤٦ - ٣٣)^٢ + ٣(٤٩ - ٣٣)^٢ + ٢(٥٠ - ٣٣)^٢ + ١(٥٢ - ٣٣)^٢ + ١(٥٣ - ٣٣)^٢ + ١(٥٤ - ٣٣)^٢}{٨}$$

$$\overline{\text{تباين}} = \frac{٣١}{٨} = ٣,٨٧٥$$

$$\overline{\text{انحراف معياري}} = \sqrt{٣,٨٧٥} = ١,٩٦٥$$

*(3) يبين الجدول التالي متوسط استهلاك الفرد خلال سنة للطاقة الكهربائية بالكيلوواط / ساعة وذلك من سنة ٢٠٠٠ إلى سنة ٢٠٠٨. أوجد الانحراف المعياري لقيم هذه البيانات. ماذا تستنتج؟

السنة	٢٠٠٠	٢٠٠١	٢٠٠٢	٢٠٠٣	٢٠٠٤	٢٠٠٥	٢٠٠٦	٢٠٠٧	٢٠٠٨
الكمية	١٢٣٠٥	١٢٦٧٧	١٢٨٣٢	١٢٩٩٢	١٢٩٤٠	١٢٦٧٣	١٣٠٦١	١٢٥٢٧	١٣١٤٢

عدد قيم ١٣٩ - الملاحظة

(4) يبين الجدول التالي التوزيع التكراري لكمية المياه بالستيلتر الموجودة في ١٠٠ عبوة. سعة العبوة الواحدة المفترضة ١٠٠ ستيلتر.

الفترة	-٨٦	-٩٠	-٩٤	-٩٨	-١٠٢	-١٠٦
التكرار	٥	١٠	٣٩	٣٢	٩	٥

أوجد المتوسط الحسابي، التباين، الانحراف المعياري لقيم هذه البيانات.

الفترة	مكرر	تار	ترسار
-٨٦	٨٨	٥	٤٤٠
-٩٠	٩٥	١٠	٩٥٠
-٩٤	٩٦	٣٩	٣٧٤٤
-٩٨	١٠٠	٣٢	٣٢٠٠
-١٠٢	١٠٤	٩	٩٣٦
-١٠٦	١٠٨	٥	٥٤٠
		١٠٠	٩٧٨٠

$$\bar{x} = \frac{9780}{100} = 97,8 \approx 98$$

$$s^2 = \frac{5(98-88)^2 + 10(98-90)^2 + 39(98-94)^2 + 32(98-98)^2 + 9(98-102)^2 + 5(98-106)^2}{100} = \frac{5(100) + 10(64) + 39(16) + 32(0) + 9(16) + 5(144)}{100} = \frac{500 + 640 + 624 + 0 + 144 + 720}{100} = \frac{2584}{100} = 25,84$$

$$s = \sqrt{25,84} = 5,08$$

$$s, s = \sqrt{25,84} = 5,08$$

- ١٣٨ -

رقم ۳ و ۱۵۷

$$\frac{12162 + 12057 + 1271 + 12773 + 1292 + 12992 + 12832 + 12777 + 1230}{9} = 12794$$

9

$$12794 \approx 12794.2$$

سار	سار - سار	سار - سار (سار - سار)
1230	- 89	12162
12777	- 117	12057
12832	21	1271
12992	191	12773
1292	131	1292
12773	- 121	12832
1271	277	12777
1230	- 277	1230
12162	288	12162
12794.2		

$$70899.7 = \frac{593.97}{9} = 65.997$$

$$70899.7 = \sqrt{507.7} = 22.53$$

طرق العد

Methods of Counting

المجموعتان الأساسيتان

في التمارين (١ - ٣)، اكتب قائمة بكل الإمكانيات أو ارسم شجرة بيانية للإجابة عن الأسئلة التالية:

(١) كلمات مكونة من ثلاثة حروف: ما عدد الكلمات المختلفة التي تستطيع تكوينها من بين ثلاثة حروف: ع، ل،

م دون تكرارها (دون الاهتمام بالمعنى)؟ $٣ \times ٢ \times ١ = ٦$

(٢) الطرق الممكنة: توجد ثلاثة طرق ممكنة تصل بين القرية أ والقرية ب، وتوجد أربعة طرق ممكنة تصل بين

القرية ب والقرية ج. كم عدد الطرق المختلفة من القرية أ إلى القرية ج مروراً بالقرية ب؟

$٣ \times ٤ = ١٢$

(٣) الرئيس ونائب الرئيس: يوجد ثلاثة مرشحين لمنصب الرئيس وأربعة مرشحين لمنصب نائب الرئيس. كم

عدد الأزواج التي يمكن أن تكون من رئيس ونائب رئيس؟

$٣ \times ٤ = ١٢$

في التمارين (٤-٦)، استخدم مبدأ العد الأساسي.

(٤) أرقام الهاتف: كم عدد أرقام الهاتف التي يمكن أن تكونها من سبعة أرقام علماً بأنه لا يمكن أن يبدأ الرقم من

اليسار بـ ٠ أو ١، لماذا؟

$١٠ \times ١٠ \times ١٠ \times ١٠ \times ١٠ \times ١٠ \times ١٠ = ١٠٠٠٠٠٠$

(٥) لوحات الترخيص: كم عدد لوحات الترخيص التي يمكن أن تكونها من رقمين يتبعهما حرفان ثم ثلاثة أرقام بدون أن تتكرر أي حروف أو أرقام؟

$$99 \times 26 \times 26 \times 10 = 676 \times 26 \times 10 = 175760$$

(٦) رمي حجر نرد: عند رمي حجري نرد أحدهما أحمر والثاني أخضر معًا وملاحظة الوجه العلوي لكل منهما. كم عدد النواتج الممكنة؟

$$36 = 6 \times 6$$

في التمارين (٧-١٠)، أوجد قيمة كل مما يلي:

$$(٧) \text{ ل } = 8 \times 0 \times 6 \times 7 \times 8 = 0$$

$$(٨) \text{ ل } = 6 \times 7 \times 8 \times 9 \times 10 \times 11 \times 12 = 362880$$

$$(٩) \text{ ق } = \frac{10 \times 11 \times 12 \times 13 \times 14}{5 \times 6 \times 7 \times 8 \times 9} = \frac{240240}{15120} = 16$$

$$(١٠) \text{ ق } = \frac{18 \times 23 \times 28 \times 35}{11 \times 13 \times 17} = \frac{147000}{2431} = 60.47$$

في التمارين (١١-١٣)، حل المسائل التالية:

(١١) تكوين اللجان: سوف يتم انتخاب لجنة مكونة من ٣ سيدات من بين ٢٥ سيدة. كم عدد اللجان المختلفة

$$\text{التي يمكن انتخابها؟} = \frac{25 \times 24 \times 23}{3 \times 2 \times 1} = 2300$$

(١٢) شراء أقراص حاسوب مدججة: لدى جيهان نقود تكفي لشراء ثلاثة أقراص حاسوب مدججة فقط من بين ٤٧ × ٤٨ قرصًا. كم عدد مجموعة أقراص الحاسوب التي يمكن شراؤها؟ $\frac{47 \times 48}{3} = 752$

(١٣) يجري مدير شؤون الموظفين مقابلات شخصية مع ثمانية أشخاص مرشحين لثلاث وظائف شاغرة. كم $64 = 2^6$

عدد المجموعات المكونة من ثلاثة أشخاص التي يمكن توظيفها؟ $\frac{8 \times 7 \times 6}{3 \times 2 \times 1} = 56$

$$8 \times 7 \times 6 = 336$$

المجموعات التمارين التمهيدية

في التمارين (١-٣)، اكتب قائمة بكل الإمكانيات أو ارسم شجرة بيانية للإجابة عن الأسئلة التالية:

(١) كلمات مكونة من ثلاثة حروف: ما عدد الكلمات المختلفة التي تستطيع تكوينها من ثلاثة حروف دون

تكرارها من بين ٤ حروف ل، ع، ب، هـ؟ $4 \times 4 \times 4 = 64$

(٢) الطرق الممكنة: توجد ثلاثة طرق ممكنة تصل بين القرية أ والقرية ب، وتوجد أربعة طرق ممكنة تصل بين

القرية ب والقرية ج. كم عدد الطرق المختلفة من القرية أ إلى القرية ج والرجوع إلى القرية أ مرورًا بالقرية

ب في كل اتجاه؟ $4 \times 3 + 3 \times 4 = 24$

(٣) تذاكر الطيران: عندما تطلب تذكرة طيران يمكنك أن تحجز في الدرجة الأولى أو درجة رجال الأعمال أو الدرجة السياحية. يمكنك أيضًا أن تختار مكانك إلى جانب نافذة الطائرة أو في الممر أو في الكرسي الأوسط، إلا في حالة عدم وجود كرسي أوسط كما هو الحال في الدرجة الأولى حيث يوجد كرسيان فقط. كم عدد

الطرق المختلفة التي يمكن أن تحجز بها مكانك على متن الطائرة؟ $2 \times 3 + 3 \times 3 = 7 + 9 = 16$

في التمارين (٤-٦)، استخدم مبدأ العد الأساسي.

* (٤) رقم التأمين الاجتماعي: كم عدد بطاقات التأمين الاجتماعي التي يمكن تكوينها من تسعة أرقام بدون الصفر؟

$$9 = 9 \times 9 \times 9 \times 9 \times 9 \times 9 \times 9 \times 9 =$$

* (٥) لوحات الترخيص: كم عدد لوحات الترخيص المكونة من خمسة رموز مكونة من ثلاثة أرقام مختلفة ليس من

بينها الصفر يتبعها حرفين مختلفين؟ $9 \times 8 \times 7 \times 6 \times 5 = 15120$

* (٦) إلقاء العملة: كم عدد النواتج الممكنة عند رمي قطعة نقد متظمة عشر مرات متتالية؟

$$2^{10} = 1024$$

في التمارين (٧-١٠)، أوجد قيمة كل مما يلي:

$$(٧) 10^3 + 10^4 = 1000 + 10000 = 11000$$

$$(٨) 10^3 - 10^2 = 1000 - 100 = 900$$

$$(٩) 10^3 \times 10^4 = 1000 \times 10000 = 10000000$$

$$(١٠) \frac{10^3}{10^2} = \frac{1000}{100} = 10$$

* (١١) إلقاء العملة: خلال الاقتراع وذلك بإلقاء عملة معدنية ٢٠ مرة، تم تسجيل ظهور الصورة أو الكتابة في

كل مرة. كم عدد المرات (من جميع مرات الإلقاء) التي يتم فيها الحصول على ٧ صور؟

$$2^{20} = 1048576$$

* (١٢) ضع 10^3 على صورة مضروب، وفسر.

$$\frac{1000}{1000} = 1$$

تَمَرْنُ


٥-١٠

التاريخ الهجري: التاريخ الميلادي:

الاحتمال المشروط

Conditional Probability

المجموع على التمارين السابقة

نوار
ذخيرة

نوابج الحجر الأحمر

في التمارين (١-٣)، عند رمي حجر نرد أحمر اللون وحجر نرد أخضر اللون معًا وملاحظة الوجه العلوي، فما
النواتج الممكنة لهذا الحدث؟ وما احتمال وقوع كل حدث مما يلي؟

(١) مجموع العددين الظاهرين ٩.

$$\frac{1}{9} = \frac{4}{36} =$$

(٢) مجموع العددين الظاهرين هو عدد زوجي.

$$\frac{1}{9} = \frac{18}{36} =$$

(٣) العدد الظاهر على الحجر الأحمر أكبر من العدد الظاهر على الحجر الأخضر.

$$\frac{5}{18} = \frac{10}{36} =$$

في التمارين (٤-٩)، ج تتضمن عينة لألوان الحلوى التقليدية التي ينتجها مصنع للحلوى وهي:

ج = {البنّي، الأخضر، البرتقالي، الأحمر، البرونزي، الأصفر}.

احتمال كل حدث في ج يساوي نسبة إنتاج هذا اللون من الحلوى من إجمالي الألوان. وقد صرح المسؤول في هذا

المصنع ببعض المعلومات عن احتمال الإنتاج في الجدول التالي:

اللون	البنّي	الأحمر	الأصفر	الأخضر	البرتقالي	البرونزي
الاحتمال	٠,٣	٠,٢	٠,٢	٠,١	٠,١	٠,١

إذا قمت بأخذ قطعة حلوى عشوائيًا من علبة مفتوحة حديثًا من إنتاج هذا المصنع، فما احتمال أن تأخذ حلوى
بالألوان التالية:

(٤) البنّي أو البرونزي؟ $0.3 + 0.1 = 0.4$ (٥) الأحمر أو الأخضر أو البرتقالي؟ $0.2 + 0.1 + 0.1 = 0.4$

(٦) الأحمر؟

٢. لنفترض أن السحب الثاني تم بعد إعادة الكرة التي سحبت أولاً.

$$(أ) \text{ احسب: ل(ب)} = \frac{0}{8}$$

$$(ب) \text{ احسب: ل(ب/ب)} = \frac{\frac{0}{8} \times \frac{3}{8}}{\frac{3}{8}} = \frac{\cancel{0} \cancel{3}}{\cancel{8}} = \frac{0}{1} = 0$$

(١٧) ليكن ل(ب) = ٣، ٠، ٧، ٠، ل(ب ∩ ب) = ٠، ٨، ٠، ٠ احسب:

$$(أ) \text{ ل(ب ∩ ب)} = \text{ل(ب)} + \text{ل(ب)} - \text{ل(ب ∪ ب)} = 3 + 3 - 8 = -2$$

$$(ب) \text{ ل(ب/ب)} = \frac{\text{ل(ب ∩ ب)}}{\text{ل(ب)}} = \frac{-2}{3}$$

$$(ج) \text{ ل(ب/ب)} = \frac{\text{ل(ب ∩ ب)}}{\text{ل(ب)}} = \frac{-2}{3}$$

(١٨) ليكن ب حدثان مستقلان في فضاء حتمية ف حيث ل(ب) = ٥، ٠، ل(ب) = ٥، ٠.

احسب: ل(ب/ب) =

$$\text{ل(ب ∩ ب)} = \text{ل(ب)} \times \text{ل(ب)} = 5 \times 5 = 25$$

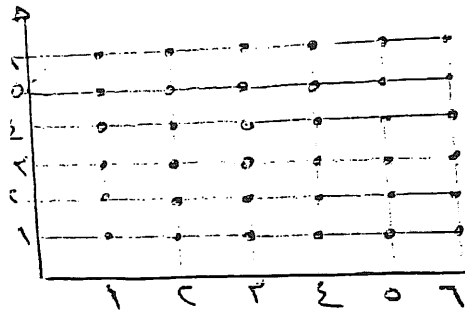
$$\text{ل(ب)} = 5$$

$$\text{ل(ب/ب)} = \frac{25}{5} = 5$$

الحدثان ب و ب متنافيين

في التمارين (١-٣)، عند رمي حجر نرد أحمر اللون وحجر نرد أخضر اللون معاً وملاحظة الوجه العلوي لهما. فما
الناتج الممكنة لهذا الحدث؟ وما احتمال ونوع كل حدث في ما يلي؟

(١) مجموع العددين الظاهرين أصغر من ١٠.



$$= \frac{30}{36} = \frac{5}{6} \text{ حدث مركب}$$

(٢) العددين الظاهران عدداً فرديان. $\frac{1}{2} = \frac{18}{36}$ حدث مركب

(٣) العددين الظاهران عدداً زوجيان. $\frac{1}{2} = \frac{18}{36}$ حدث مركب

في التمرين (٤)، حل المسألة التالية:

(٤) رقم التأمين الاجتماعي: ما احتمال أن يتم بشكل عشوائي اختيار رقم تأمين اجتماعي مكون من تسعة أرقام مختلفة ليس بينها الصفر؟

(٥) ما احتمال اختيار رقمًا عشوائيًا واحدًا من ١ إلى ٩ يحقق الشرطين التاليين:

$$\text{رقم أولي أو من مضاعفات الرقم ٦} = \frac{2}{9} + \frac{1}{9} = \frac{3}{9}$$

في التمارين (٦-١١)، ينتج المصنع حلوى محشوة بالفول السوداني مشكلة بالألوان الموضحة بالجدول. يوضح الجدول التالي احتمال إنتاج الحلوى بحسب لونها:

اللون	البنّي	الأحمر	الأصفر	الأخضر	البرتقالي
الاحتمال	٠,٣	٠,٢	٠,٢	٠,٢	٠,١

إذا قمت بأخذ قطعة حلوى عشوائيًا من كل من علبتين مفتوحتين حديثًا من إنتاج هذا المصنع، فما احتمال أخذ حلوى بالألوان التالية؟

(٦) كلتاهما بنية اللون. $0.3 \times 0.3 = 0.09$

(٧) كلتاهما برتقالية اللون. $0.1 \times 0.1 = 0.01$

*(٨) واحدة حمراء وواحدة خضراء. $0.2 \times 0.2 = 0.04$

(٩) الأولى بنية اللون والثانية صفراء. $0.3 \times 0.2 = 0.06$

(١٠) ولا واحدة صفراء. 0.8

(١١) الأولى ليست حمراء والثانية ليست برتقالية. $0.8 \times 0.9 = 0.72$

في التمارين (١٢-١٧)، أُلقيت ثلاث عملات معدنية من فئة العشرة فلوس تحمل تواريخ من ١٩٩٤ إلى ١٩٩٦. فما احتمال كل حدث مما يلي؟

(١٢) ظهور الصورة على عملة بتاريخ ١٩٩٤ فقط. $\frac{1}{8}$

(١٣) ظهور الصورة على عملتين بتاريخ ١٩٩٥، ١٩٩٦. $\frac{3}{8}$

(١٤) ظهور الصورة على الثلاث عملات. $\frac{1}{8}$

(١٥) ظهور الصورة على عملتين فقط. $\frac{3}{8}$

(١٦) ظهور الصورة على عملة واحدة على الأقل. $\frac{7}{8}$

(١٧) ظهور الصورة على عملتين على الأقل. $\frac{4}{8} = \frac{1}{2}$

(١٨) أسباب الوفاة: قامت الحكومة بتحديد سبب واحد لكل حالة وفاة، فوجدت أن البيانات الناتجة تشير إلى أن ٤٥٪ من حالات الوفاة تسببها الأزمات القلبية ومرض في الأوعية الدموية وأن ٢٢٪ يسببها مرض السرطان.

(أ) ما احتمال أن يكون موت شخص تم اختياره بشكل عشوائي سببه مرض في الأوعية الدموية أو مرض

السرطان؟ $25\% + 22\% = 47\%$

(ب) ما احتمال أن تكون وفاة هذا الشخص نتيجة لأسباب أخرى؟

33%

(١٩) رمى حمد مرتين متتاليتين هرماً منتظماً مرقماً من ١ إلى ٤ ولاحظ رقم الوجه الذي استقر عليه الهرم وبحسب

ناتج جمع الأرقام التي يلاحظها.

(أ) ممّ يتألف الناتج؟ وما هو عدد النواتج الممكنة؟

فأ = $\{(1,1), (1,2), (1,3), (1,4), (2,1), (2,2), (2,3), (2,4), (3,1), (3,2), (3,3), (3,4), (4,1), (4,2), (4,3), (4,4)\}$

$n(\text{فأ}) = 16$

(ب) احسب احتمال الحدث: «ناتج الجمع يساوي ٦ علماً أن نتيجة الرمية الأولى ٣».

$$= \frac{1}{16}$$

(ج) احسب احتمال الحدث: «ناتج الجمع هو أكبر من ٧ علماً أن نتيجة الرمية الأولى ٢».

صغير

(٢٠) ليكن A ، B حدثان مستقلان في فضاء عينة S حيث $P(A) = 0.2$ ، $P(B) = 0.7$.

احسب:

$$(أ) P(A \cap B) = P(A) \times P(B) = 0.2 \times 0.7 = 0.14$$

$$(ب) P(B|A) = \frac{P(A \cap B)}{P(A)} = \frac{0.14}{0.2} = 0.7$$

$$(ج) P(A \cup B) = P(A) + P(B) - P(A \cap B) = 0.2 + 0.7 - 0.14 = 0.76$$

$$(د) P(A|B) = \frac{P(A \cap B)}{P(B)} = \frac{0.14}{0.7} = 0.2$$

اختبار الوحدة العاشرة

(١) يبين الجدول التالي التوزيع التكراري لعدد الرجال والإناث غير المتزوجين في إحدى الدول.

الفئة (العمر)	الرجال	الإناث
٢٠ -	٤٥٠٠	٣٤٠٠
٣٠ -	٤٨٠	٣٠٠
٤٠ -	٣٧٠	٢٤٠
٥٠ -	٢٩٠	٢٥٠
٦٠ -	١٨٠	٢١٠
٧٠ -	١١٠	٢٢٠
٨٠ -	٣٠	١٤٠

(أ) أكمل الجدول بإضافة مراكز الفئات والتكرار المتجمع الصاعد.

الفئة (العمر)	الرجال	الإناث	أقل من الحدود العليا للفئة	التكرار المتجمع الصاعد (رجال)	الحد الأدنى للفئة فأكثر	التكرار المتجمع الصاعد (إناث)
٢٠ -	٤٥٠٠	٣٤٠٠	أقل من ٣٠	٤٥٠٠	٣ فأكثر	٤٧٦٠
٣٠ -	٤٨٠	٣٠٠	أقل من ٤٠	٤٩٨٠	٣ فأكثر	١٣٦٠
٤٠ -	٣٧٠	٢٤٠	أقل من ٥٠	٥٣٥٠	٤ فأكثر	١١٢٠
٥٠ -	٢٩٠	٢٥٠	أقل من ٦٠	٥٦٤٠	٥ فأكثر	٨٧٠
٦٠ -	١٨٠	٢١٠	أقل من ٧٠	٥٨٢٠	٦ فأكثر	٦٦٠
٧٠ -	١١٠	٢٢٠	أقل من ٨٠	٥٩٣٠	٧ فأكثر	٤٤٠
٨٠ -	٣٠	١٤٠	أقل من ٩٠	٥٩٦٠	٨ فأكثر	٣٠٠

(ب) أوجد المتوسط الحسابي لأعمار الرجال والإناث. ✓

١٣٧ تاريخ

المتوسط افساي لعدد الرجل رقم ١٣٧

الفئة	نار	نار	نار
٢٠-	٥٥	٤٥٠٠	١١٢٥٠٠
٣٠-	٣٥	٤٨٠٠	١٦٨٠٠٠
٤٠-	٤٥	٣٧٠٠	١٦٦٥٠٠
٥٠-	٥٥	٢٩٠٠	١٥٩٥٠٠
٦٠-	٦٥	١٨٠٠	١١٧٠٠٠
٧٠-	٧٥	١١٠٠	٨٢٥٠٠٠
٨٠-	٨٥	٤٠٠٠	٢٥٥٠٠٠
		٥٩٦٠	١٨٤٤٠٠

$$\bar{x} = \frac{184400}{596} \approx 309.2$$

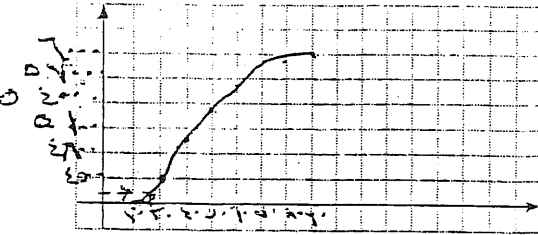
المتوسط افساي لعدد النار

الفئة	نار	نار	نار
٢٠-	٢٥	٣٤٠٠	٨٥٠٠٠٠
٣٠-	٣٥	٣٠٠٠	١٠٥٠٠٠٠
٤٠-	٤٥	٢٤٠٠	١٠٨٠٠٠٠
٥٠-	٥٥	٢٥٠٠	١٣٧٥٠٠٠
٦٠-	٦٥	٢١٠٠	١٣٦٥٠٠٠
٧٠-	٧٥	٢٢٠٠	١٦٥٠٠٠٠
٨٠-	٨٥	١٤٠٠	١١٩٠٠٠٠
		٤٧٦٠	١٦٢١٠٠٠

$$\bar{x} = \frac{162100}{476}$$

$$= 340.5$$

١٣٧



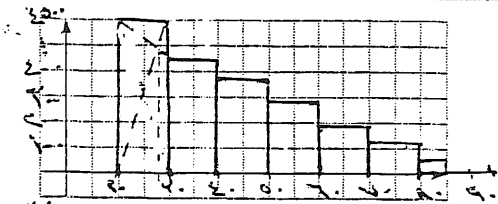
(ج) أوجد الوسيط لأعمار الرجال والوسيط لأعمار الإناث

مستخدماً منحنى التكرار المتجمع الصاعد لكل من
أعمار الرجال والإناث. ثم اشرح ما يمثله كل عدد.

$$\text{الوسيط للرجال} = \frac{5960}{2} = 2980$$



$$\text{ترتيب الوسيط للإناث} = \frac{4760}{2} = 2380$$



(د) أوجد المتوسط لأعمار الرجال والمتوال لأعمار الإناث

باستخدام المدرج التكراري. ماذا تلاحظ؟

السؤال = 28 تقريباً رجال

المتوال = 28 (إناث)
تقارب المتوسطات

(2) جاءت درجات أحد السنة الماضية في اختبار مادة العلوم حيث النهاية العظمى 20 درجة كما يلي: 10، 17،

16، 14، 8، 16، 9، 13، 12، 10.

(أ) أوجد المتوسط الحسابي لهذه الدرجات.

$$13 = \frac{13}{1} = \frac{17 + 16 + 14 + 8 + 16 + 9 + 13 + 12 + 10 + 10}{10}$$

(ب) أوجد الوسيط، الأرباعي الأدنى، الأرباعي الأعلى، المدى، المدى الأرباعي، مجمل الأعداد الخمسة لهذه الدرجات.

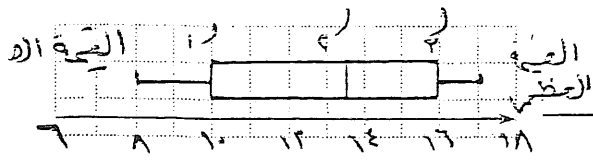
ترتيب التكرار: 17، 16، 16، 15، 14، 13، 12، 10، 9، 8

$$17 = \text{الحد الأعلى} \quad 10 = \text{الحد الأدنى} \quad 13.5 = \frac{12 + 13}{2}$$

$$7 = \text{المدى} = 17 - 10 \quad 9 = \text{المدى الأرباعي} = 16 - 8$$

مجمل الأعداد الخمسة: (17، 16، 13.5، 10، 8)

(ج) ارسم مخطط الصندوق ذي العارضتين. ماذا تلاحظ؟



الويضا قرب الي الارباعي الاعلى
(د) أوجد الانحراف المعياري لهذه الدرجات مع.

(٣) بيئت دراسة إحصائية على ١٠٠ طالب النتيجة التالية حول جنس الطالب ولون عينيه.

	أسود	عسلي	المجموع
ولد	٣٠	٢٥	٥٥
بنت	٢٧	١٨	٤٥
المجموع	٥٧	٤٣	١٠٠

لدى اختيار طالب عشوائياً (كل الخيارات متساوية الفرص).

نسمي: الحدث و: «الطالب هو ولد»

الحدث ١: «لون عيني الطالب أسود»

الحدث ع: «لون عيني الطالب عسلي»

الحدث ب: «الطالب هو بنت»

(أ) احب ل(١).

$$P(A) = \frac{57}{100} = 0.57$$

(ب) ما احتمال أن يكون الطالب المختار ولداً ولون عينيه أسود (ل و ١)؟

$$P(A \cap L) = \frac{30}{100} = 0.3$$

(ج) ما احتمال أن يكون الطالب المختار ولداً ولون عينيه عسلي (ل و ع)؟

$$P(A \cap E) = \frac{25}{100} = 0.25$$

رقم [۱۵] [۱۶] ۱۳۹

شمار	س-س	(س-س) ۲
۱۷	۴	۱۶
۱۰	۳	۹
۱۵	۴	۴
۱۴	۱	۱
۱۳	.	.
۹	۴	۱۶
۱۶	۳	۹
۸	۵	۲۵
۱۴	۱	۱
۱۶	۳	۹
		۹.

س = ۱۳

$$۹ = \frac{۹.}{۱.} = ۹$$

$$۳ = \sqrt{۹} = ۳$$

(د) تحقق من أن: $P \cap Q = (P \cap E) \cup (P \cap L)$ ، ما احتمال L ؟

$$\frac{30}{50} = \frac{20}{50} + \frac{10}{50} = \frac{30}{100} = \frac{3}{10}$$

$$L(P/Q) = \frac{L(P \cap Q)}{L(Q)} = \frac{\frac{30}{100}}{\frac{50}{100}} = \frac{30}{50} = \frac{3}{5}$$

(هـ) في هذا السؤال، نفترض أن الطالب المختار هو ولد. فما احتمال أن يكون لون عينيه أسود. نسمي هذا الاحتمال $L(P/Q)$.

$$L(P/Q) = \frac{L(P \cap Q)}{L(Q)} = \frac{\frac{30}{100}}{\frac{50}{100}} = \frac{30}{50} = \frac{3}{5}$$

(و) أوجد علاقة بين $L(P/Q)$ ، $L(Q)$ ، $L(P \cap Q)$.

$$L(P/Q) = \frac{L(P \cap Q)}{L(Q)}$$

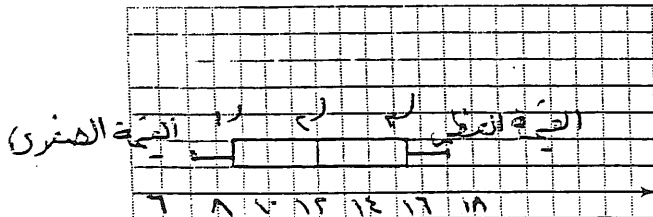
(٤) إذا كانت درجات أحد الطلاب في اختبارات مادة الرياضيات على مدار السنة حيث النهاية العظمى ٢٠ درجة كما يلي: ٧، ١٠، ١٢، ٩، ١٤، ١٦، ١٥، ٨، ١٧.

(أ) أوجد المدى، الوسيط، الأرباعي الأدنى، الأرباعي الأعلى، المدى الأرباعي، مجمل الأعداد الخمسة لقيم هذه الدرجات.

الترتيب التصاعدي: ٧، ٨، ٩، ١٠، ١٢، ١٤، ١٥، ١٦، ١٧

المدى: ١٧ - ٧ = ١٠ الوسيط: ١٢ الأرباعي الأدنى: ٨ الأرباعي الأعلى: ١٥ المدى الأرباعي: ١٥ - ٨ = ٧ مجمل الأعداد الخمسة: (٧، ٨، ١٢، ١٥، ١٧)

(ب) ارسم مخطط الصندوق ذي العارضتين لتمثيل قيم هذه الدرجات. ماذا تلاحظ؟



الوسيط أقرب إلى الأرباعي الأعلى

تمارين إثرائية

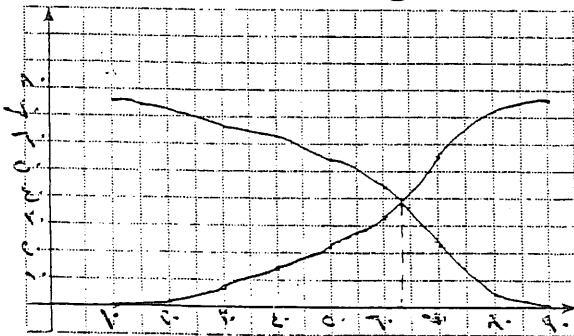
(١) يبين الجدول التالي التوزيع التكراري لأوزان ٧٥ رأساً من قطع المها العربية بالكيلوجرام.

الفئة	-١٠	-٢٠	-٣٠	-٤٠	-٥٠	-٦٠	-٧٠	-٨٠
التكرار	١	٧	٥	٨	١١	٢٢	١٧	٤

(أ) أكمل الجدول بإضافة التكرار المتجمع الصاعد والتكرار المتجمع النازل.

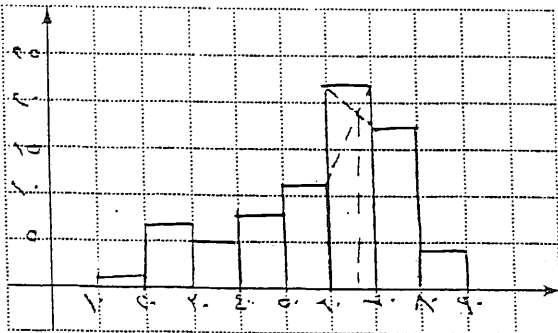
الفئة	التكرار	أقل من الحدود العليا للفئة	التكرار المتجمع الصاعد	الحد الأدنى للفئة فأكثر	التكرار المتجمع النازل
-١٠	١	أقل من ٢٠	١	١٠ فأكثر	١٥
-٢٠	٧	أقل من ٣٠	٨	٥ فأكثر	١٤
-٣٠	٥	أقل من ٤٠	١٣	٣٠ فأكثر	٦٧
-٤٠	٨	أقل من ٥٠	٢١	٤٠ فأكثر	٦٢
-٥٠	١١	أقل من ٦٠	٣٢	٥٠ فأكثر	٥٤
-٦٠	٢٢	أقل من ٧٠	٥٤	٦٠ فأكثر	٤٣
-٧٠	١٧	أقل من ٨٠	٧١	٧٠ فأكثر	٢١
-٨٠	٤	أقل من ٩٠	٧٥	٨٠ فأكثر	٤

(ب) أوجد الوسيط لقيم هذه الأوزان باستخدام منحني التكرار المتجمع الصاعد و منحني التكرار المتجمع النازل معاً.



الوسيط = ٦٣.٥ تقريباً

(ج) أوجد المتوسط لقيم هذه الأوزان باستخدام قانون الرافعة وباستخدام المدرج التكراري.



المتوسط = ٦٦

(د) أوجد المتوسط الحسابي لقيم هذه الأوزان.

الحاصل الذي للفئة المتواليه = ٦٠

١٧ = ١٧

١١ = ١١

١٠ = ١٠

١١ - ١٠ = ١ (فأ - س)

١١ - ١٠ = ١ (س - ١٠)

١١ - ١٠ = ١ (س - ١٠)

١١ - ١٠ = ١ (س - ١٠)

١٧ = ١٧

١٧ = ١٧

النتيجة	سار	تار	تار سار
١٠ -	١٥	١	١٥
٢٠ -	٢٥	٢	١٧٥
٣٠ -	٣٥	٣	١٧٥
٤٠ -	٤٥	٨	٢٦٠
٥٠ -	٥٥	١١	٦٠٥
٦٠ -	٦٥	٢٢	١٤٣
٧٠ -	٧٥	١٧	١٢٧٥
٨٠ -	٨٥	٤	٢٤٠
المجموع		٧٥	٤٣٧٥

٤٣٧٥ = ٧٥

٣ = ٥٨ تقريباً

(٢) سجل أحد الأشخاص أسعار الحاسوب بالدينار الكويتي من عدة محلات لبيع هذه الأجهزة كما يلي: ٢٥٠، ٢٤٥، ٢٦٠، ٢٥٥، ٢٤٠، ٢٦٥، ٢٣٥، ٢٧٠، ٢٦٥.

(أ) أوجد المتوسط الحسابي لقيم هذه الأسعار.

$$\bar{x} = \frac{250 + 245 + 260 + 255 + 240 + 265 + 235 + 270 + 265}{9} = 250$$

(ب) أوجد الانحراف المعياري لقيم هذه الأسعار.

سار	سار - سار	(سار - سار) ^٢
٢٥٠	٥ -	٢٥
٢٤٥	١٠ -	١٠٠
٢٦٠	٥	٢٥
٢٥٥	٠	-
٢٤٥	١٥ -	٢٢٥
٢٦٥	١٠	١٠٠
٢٦٥	١٠	١٠٠
٢٣٥	٢٠ -	٤٠٠
٢٧٠	١٥	٢٢٥
٢٦٥	١٠	١٠٠
١٣٠٠		

$$\bar{x} = \frac{1300}{10} = 130$$

$$\bar{x} = \sqrt{1300} = 11,4$$

(٣) حلوى محشوة بالفول السوداني: يتج مصنع حلوى محشوة بالفول السوداني مشكلة بالألوان،

كما يوضح الجدول التالي:

اللون	البنّي	الأحمر	الأصفر	الأخضر	البرتقالي
الاحتمال	٠,٣	٠,٢	٠,٢	٠,٢	٠,١

إذا أخذت ثلاث قطع من علبة واحدة، فكم عدد الألوان التي يحتمل الحصول عليها؟

(٤) تسلية: في إحدى الألعاب يتم رمي خمسة أحجار نرد متمايزة في وقت واحد وملاحظة الوجه العلوي لها. كم

عدد النواتج التي يمكن تمييزها إذا كان لكل حجر لون مختلف؟

٥

$$6 = 6 \times 6 \times 6 \times 6 \times 6$$

(٥) المعلم والامتحان النهائي: أعطى معلم طلابه ٢٠ سؤالاً للاستذكار على أن يحتوي الامتحان النهائي على

ثمانية أسئلة منها. كم عدد الامتحانات النهائية المختلفة التي يمكن وضعها؟

$$= \frac{1 \times 2 \times 3 \times 4 \times 5 \times 6 \times 7 \times 8}{1 \times 2 \times 3 \times 4 \times 5 \times 6 \times 7 \times 8} = \frac{1}{1} = 1$$

(٦) مسح للخريجين: اختارت إحدى الكليات عددًا من دفعة عام ١٩٩٦ المكونة من ٢٥٤ خريجًا من بينهم

١٧٢ سيدة، حيث التحق ١٢٤ سيدة بالدراسات الجامعية و٥٨ رجلًا. فما احتمال كل من الأحداث التالية؟

$$(أ) \text{ أن يكون الخريج سيدة. } = \frac{172}{254} = \frac{86}{127}$$

$$(ب) \text{ أن يلتحق الخريج بالدراسات الجامعية. } = \frac{124}{254} = \frac{62}{127}$$

$$(ج) \text{ أن يكون الخريج سيدة وقد التحقت بالدراسات الجامعية. } = \frac{124}{254} = \frac{62}{127}$$

(٧) تحديد نوع الطفل: افترض أن احتمال أن يكون الطفل المولود حديثًا من نوع معين هو ٥٠٪، في عائلة مكونة

من أربعة أطفال. فما احتمال كل حدث معطى؟

$$(أ) \text{ كل الأطفال إناث. } = \frac{1}{16}$$

٨ (ب) كل الأطفال من نوع مختلف.

$$(ج) \text{ كل الأطفال إما ذكور أو إناث. } = \frac{2}{16} = \frac{1}{8}$$

(٨) عند إشارة المرور التي تتألف من ثلاثة ألوان لاحظنا أن:

٢٪ من السيارات تتوقف عند الإشارة الخضراء.

٦٥٪ من السيارات تتوقف عند الإشارة الصفراء (كما يطلب قانون المرور).

٩٧٪ من السيارات تتوقف عند الإشارة الحمراء.

قررنا مراقبة سلوك سيارة عند إشارة المرور. لنفترض أنه عند وصول السيارة إلى الإشارة، لون الإشارة

عشوائي وأن احتمال أن يكون اللون هو الأخضر ٦، ٠، احتمال أن يكون اللون هو الأصفر ١، ٠، احتمال

أن يكون اللون هو الأحمر ٣، ٠.

(أ) ما احتمال أن تكون السيارة المراقبة قد توقفت؟

$$= \frac{2}{100} = 0.02$$

(ب) تجاوزت السيارة الإشارة. فما احتمال أن تكون قد تجاوزت الإشارة عندما كان لونها أحمرًا.

$$= 1 - 3 = 7$$

(٩) نشاط تدريبي صيفي يعرض نشاطًا لغويًا ورياضيًا. الجدول يعطي توزيعًا لـ ١٥٠ متدربًا بحسب اللغة والرياضة التي تم اختيارها:

	كرة سلة	كرة قدم	ركوب الخيل	المجموع
إنكليزي	٤٥	١٨	٢٧	٩٠
فرنسي	٣٣	٩	١٨	٦٠
المجموع	٧٨	٢٧	٤٥	١٥٠

تم اختيار متدرب عشوائيًا.

(أ) ما احتمال الحدث أ: «المتدرب يمارس كرة السلة أو يدرس الفرنسية»

$$P(A) = \frac{45}{150} + \frac{33}{150} - \frac{6}{150} = \frac{72}{150}$$

(ب) ما احتمال الحدث ب: «المتدرب يمارس ركوب الخيل ويدرس اللغة الفرنسية»؟

$$P(B) = \frac{18}{150}$$

(ج) ما احتمال الحدث ج: «يدرس اللغة الإنكليزية علمًا أنه يمارس كرة السلة»؟

$$P(C) = \frac{25}{150}$$

(د) ما احتمال الحدث د: «يبارس كرة القدم علماً أنه يدرس اللغة الفرنسية»؟

$$P(D) = \frac{9}{10} = 0.9$$

(هـ) هل الحدثان ر: «يبارس ركوب الخيل»، ن: «يدرس اللغة الإنكليزية» هما حدثان مستقلان؟

$$P(R) = \frac{45}{100} \quad P(N) = \frac{90}{100} \quad P(R \cap N) = \frac{45}{100}$$

$$P(R) \times P(N) = \frac{45}{100} \times \frac{90}{100} = \frac{405}{1000} \neq \frac{45}{100}$$

(١٠) أرقام الهاتف: ما احتمال أن يتم بشكل عشوائي اختيار رقم هاتف مكون من سبعة أرقام دون تكرار أي

$$\text{منها؟} \quad \frac{9!}{10^7}$$

(١١) ما احتمال اختيار رقم واحد عشوائي من ١ إلى ٩ يحقق الشروط التالية: عدد فردي أو من مضاعفات

$$\text{العدد ٤؟} \quad \frac{5}{9} + \frac{2}{9} = \frac{7}{9}$$

(١٢) في فصل الشتاء، أصابت موجة زكام ربع المواطنين. ثلث المواطنين تلقوا اللقاحاً ضد الزكام، ولسبب عدم فاعلية اللقاح ١٠٪ نفترض أن مريضاً مصاباً بالزكام من ١٠ قد تلقى لقاحاً.

ما احتمال أن يكون مواطناً من بين الذين تلقوا اللقاح ما زال مصاباً بالزكام؟

$$P(R) = \frac{1}{4} \quad P(L) = \frac{1}{3}$$

$$P(R \cap L) = \frac{1}{12}$$

$$P(R \cap \bar{L}) = \frac{1}{6}$$

$$P(R) = \frac{1}{4} = \frac{1}{12} + \frac{1}{6}$$

$$\frac{1}{4} = \frac{1}{12} + \frac{1}{6}$$