



وزارة التربية
التوجيه الفني العام للاجتماعيات

امتحان نهاية الفترة الدراسية الثانية
لمقرر / تاريخ دولة الكويت
(للفصل العاشر)
نموذج الإجابة

العام الدراسي (٢٠١٨ / ٢٠١٩ م)
الزمن : ساعتان وربع
عدد الأوراق : (٥)

أجب عن (ثلاثة أسئلة) فقط على أن يكون السؤال الأول منها (إجبارياً) :

السؤال الأول / الموضوعي (إجباري) ويتكون من (أ - ب - ج - د) : (لكل سؤال نصف درجة = ٨ درجات)

(أ) صوب ما تحته خط في العبارات التالية :

- ١- أول اتفاقية امتياز للنفط في الكويت (بحرة) تمت في عام ١٩٣٠ م . ص ١١٥ ←
- ٢- اتخذت حكومة دولة الكويت الشرعية لإدارة أزمة الغزو العراقي من الخارج مقراً مؤقتاً لها في مدينة جدة . ص ١٤٦ ←
- ٣- عدد آبار النفط التي أحرقتها ودمرها النظام العراقي البائد قبل انسحابه من دولة الكويت ما يزيد على ٦٥٠ بئراً . ص ١٥١ ←
- ٤- مادة الدستور الكويتي التي تنص على أن الدين الرسمي للدولة هو الإسلام هي المادة الرابعة . ص ١٢١ ←

(ب) اختر للمجموعة (أ) ما يرتبط بها من المجموعة (ب) بوضع الرقم المناسب :

م	المجموعة (أ)	الرقم المناسب	المجموعة (ب)
١	إنشاء جامعة الكويت عام ١٩٦٦ م .	ص ١٢٣	(٤) الشيخ جابر بن مبارك الصباح
٢	خفض الرسوم الجمركية وإلغاء الضرائب على الصادرات .	ص ١١٢	(-) الشيخ عبد الله السالم الصباح
٣	مشكلة الحدود والمسألة مع السعوديين .	ص ١١٣	(١) الشيخ صباح السالم الصباح
٤	اعفاء الكويتيين من ضريبة الثلث على العقارات .	ص ١١١	(٢) الشيخ سالم بن مبارك الصباح
			(٣) الشيخ أحمد الجابر الصباح

تابع / السؤال الأول (إجباري) :

(ج) اكمل العبارات التالية بما يناسبها فيما درست :

- ١- المجلس الذي يشرف على تأسيس المدارس والإنفاق عليها وتوجيهها اسمه مجلس المعارف ص ١١٤
- ٢- المركز الحدودي لدولة الكويت الذي هاجمته القوات العراقية عام ١٩٧٣ م اسمه الصامتة ص ١٤٠
- ٣- المعركة التي تحررت من خلالها دولة الكويت من الغزو العراقي الغاشم عام ١٩٩١ م تسمى معركة تحرير الكويت / عاصفة الصحراء ص ١٤٩
- ٤- المقيم السياسي البريطاني الذي ترأس المؤتمر الذي عقدته بريطانيا في الكويت عام ١٩١٦ م اسمه برسي كوكس ص ١١١

(د) ضع خطأ تحت الخيار الصحيح من بين الخيارات التي تلي كل عبارة :

- ١- صاحب فكرة إنشاء مجلس التعاون الخليجي عام ١٩٨١ م الشيخ :

عبدالله السالم الصباح - جابر الأحمد الصباح - سعد العبدالله الصباح - صباح السالم الصباح

- ٢- الدولتان العربيتان اللتان نشأ بينهما الإتحاد الهاشمي :

العراق والأردن - سوريا والأردن - العراق وسوريا - مصر والعراق

- ٣- العام الذي تم فيه إنتاج النفط بكميات تجارية في حقل برقان :

١٩٣٥ م - ١٩٣٦ م - ١٩٣٧ م - ١٩٣٨ م

- ٤- السور الذي تم بناءه في عهد الشيخ سالم بن مبارك الصباح :

السور الأول - السور الثاني - السور الثالث - السور الرابع



لجنة توجيه المناهج العام للأحماة



السؤال الثاني (اختياري) ويتكون من (أ - ب - ج) :

ص ١١٤

(أ) قارن بين كل من: (٤ درجات)

أوجه المقارنة	المجلس البلدي	مجلس الشورى
سنة التأسيس	١٩٣٠ م (درجة)	١٩٢١ م (درجة)
المهام	إدارة أمور التنظيم الداخلي للكويت من أسواق وأمور النظافة العامة . (درجة)	إسداء الرأي والنصح والمشاركة بالقرار . (درجة)

(ب) علل لما يلي :

- ١- تُشكل الدساتير أهمية كبرى في حياة الأوطان والأمم .
- وذلك لطبيعة المهام التي تنظمها إذ أنها تحدد المفاصل المهمة في الدولة .
- تحدد صلاحيات كل سلطة من السلطات الثلاث .

- ٢- المطالبات العراقية عام ١٩٦١ م بدولة الكويت .
- طمع عبدالكريم قاسم بالنفط الكويتي حيث تميزت الكويت بالإنتاج التجاري للنفط .
- البطالة التي كان يعاني منها الشعب العراقي مع الاستياء العارم من السياسات الداخلية في العراق .
- حاجة العراق إلى موانئ بحرية رغم أن العراق يمتلك ست موانئ بحرية .

(ج) اكتب نقطتين حول كل من :

- ١ - أهم مشاريع دولة الكويت في مجال تحسين جودة نظام الرعاية الصحية .
- مستشفى الصباح الجديد .
- مستشفى الأمراض السارية الجديد .
- التوسع الجديدة لمستشفى الأميري
- تشجيع وتحفيز ممارسة الرياضة في المجتمع
- الوقاية والتصدي للأمراض المزمنة غير السارية

- ٢- أهمية مشروع طريق الجهراء .
- شكل أحد الحلول المهمة للتقليل من الازدحام المروري .
- رفع القدرة الإستيعابية لطريق الجهراء .
- خفض نسبة الحوادث المرورية .
- يساهم برفع مستوى الخدمات لمستخدمي الطرق .
- الفصل بين حركة المرور العابرة وحركة المرور المحلية .



الوزارة
ملفات الكويت
التعليمية



السؤال الثالث (اختياري) ويتكون من (أ - ب - ج) :

ص ١٣٠

(أ) اقرأ الفقرة التالية ثم أجب عما يليها من أسئلة :

" تولى حضرة صاحب السمو الشيخ صباح الأحمد الجابر الصباح حفظه الله ورعاه مناصب سابقة من بينها منصب وزير الخارجية ، فهو يعد أقدم وزير للخارجية على مستوى العالم العربي ، فاستحق أن يكون عميداً للدبلوماسيين العرب ، حيث استطاع أن يحقق إنجازات مهمة في حقل السياسة الكويتية بصفة عامة ، والسياسة الخارجية بصفة خاصة " .

١- في أي عام تم تعيين الشيخ صباح الأحمد الجابر الصباح وزيراً للخارجية ؟

(درجة)

(في عام ١٩٦٣ م) .

٢- فسر - ماتحته خط في الفقرة السابقة .

أ- الشيخ صباح الأحمد الجابر الصباح شغل منصب وزير للخارجية سنوات طويلة استمرت لأكثر من أربعين عاماً /
يعد أقدم وزير للخارجية على مستوى العالم العربي .
(درجة ويكتفى بنقطة)

٣- عدد اثنين من المناصب الأخرى التي تقلدها الشيخ صباح الأحمد الجابر الصباح .

- تم تعيينه في اللجنة التنفيذية العليا التي عهد إليها تنظيم الدوائر الحكومية ووضع الخطط ومتابعة تنفيذها وهو لم يتجاوز الخامسة والعشرين من عمره .

(درجتين ويكتفى بنقطتين)

- تولى منصب رئيس دائرتي المطبوعات والشؤون الاجتماعية .

- تولى منصب رئيس لجنة كتابة تاريخ الكويت عام ١٩٥٩ م .

- تم تعيينه عضواً في المجلس التأسيسي الذي عهد إليه مهمة وضع دستور دولة الكويت عام ١٩٦٢ م .

- تولى منصب نائب رئيس مجلس الوزراء ثم منصب رئيس مجلس الوزراء عام ٢٠٠٣ م .

(ب) لاحظ الصورة المقابلة ثم أجب عن الأسئلة التالية : ص ١١٩



١- ما اسم حاكم دولة الكويت في الصورة المقابلة ؟

(درجة)

- الشيخ عبدالله السالم الصباح .

٢- ما اسم الاتفاقية الجديدة التي استبدلت بها اتفاقية الحماية

المعقودة عام ١٨٩٩ م ؟

(درجة)

- (الصداقة والتشاور) .

(ج) عدد كل مما يلي :

١- مشاريع دولة الكويت لتحقيق بيئة معيشية مستدامة .

ص ١٦٠ (درجتين ويكتفى بنقطتين)

- مشروع جنوب المطلاع .

- معالجة النفايات البلدية الصلبة - موقع كبد .

- مراقبة الملوثات المنبعثة من المصادر (الثابتة والمتحركة) .

- تطوير برنامج المراقبة وتحسين جودة الهواء .

٢- مجالات السياسة الداخلية التي شهدت تطوراً كبيراً في عهد الشيخ صباح السالم الصباح .

- المجال الإسكاني : توزيع مساكن لذوي الدخل المحدود بإشراف وزارة الأشغال .

(درجتين)

ص ١٢٣

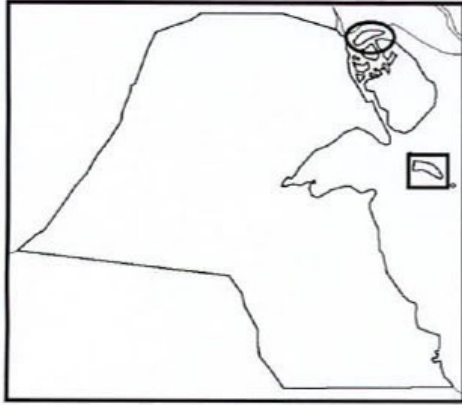
- المجال العسكري : استحدث نظام التجنيد الإلزامي .





السؤال الرابع (اختياري) ويتكون من (أ - ب - ج) :

(أ) لاحظ خريطة دولة الكويت الصماء ثم أجب عن الأسئلة التالية :

١- حدد على الخريطة المقابلة ما يلي : ص ١٧١ (درجتين)



- جزيرة وربة بالشكل 
- جزيرة فيلكا بالشكل 

٢- علل - أهمية الجزر الكويتية تاريخياً . ص ١٧٠
(درجتين ويكتفى بنقطتين)

- محطة أساسية في حركة التجارة من آلاف السنين .
- ارتبطت بأقدم الحضارات التاريخية .
- وجودها وسط أكثر من ١٥٠ مليون نسمة ضمن سوق اقتصادي ضخم جداً .
- موقع جغرافي يتوسط خطوط التجارة بين قارات العالم القديم (آسيا - أفريقيا - أوروبا) .

(درجتين)

(ب) عرف المفهوم والمصطلح التالي :

١- الجوار الجغرافي : المناطق المتقاربة من بعضها بعضاً ولها خصائص مشتركة يفصل بينهما حدود طبيعية أو سياسية . ص ١٣٧

٢- البيروقراطية : تطبيق القوانين بالقوة في المجتمعات المنظمة حيث تعتمد على الإجراءات الموحدة وتوزيع المسؤوليات بطريقة هرمية . ص ١٥٨

(ج) أجب عن الأسئلة التالية :

١- عدد - المطالب العراقية التي أدت إلى فشل المفاوضات في مؤتمر جدة عام ١٩٩٠ م . ص ١٤٢

- إلغاء ديون تقدر بـ ١٢ مليار دولار .
- تعويضها عن البترول الذي تدعي بأنه أخذ من الجزء العراقي من حقل الرميثة الجنوبي بحوالي ٢,٤ بليون دولار .
- تأجير جزيرتي وربة وبوبيان للعراق .
- تقديم مبلغ ضخم غير محدد كنواة لمشروع مارشال عربي (كالمشروع الاقتصادي لإعادة تعمير أوروبا بعد الحرب العالمية الثانية وكان هدفه إعادة إعمار وتشغيل الاقتصاد والمصانع الأوروبية) يستفيد منه العراق دون أي وعد عراقي سوى بالإبقاء على الأوضاع كما هي .

٢- اذكر - الإنجازات الداخلية للشيخ / جابر الأحمد الصباح في دولة الكويت . ص ١٢٦

- مؤسسة الكويت للتقدم العلمي .
- الهيئة العامة لشؤون القصر .
- إنشاء صندوق احتياطي الأجيال القادمة .
- مكتب الشهيد .
- حقوق المرأة السياسية .
- صندوق الكويت للتنمية .

(درجتين ويكتفى بنقطتين)



ملفات الكويت
التعليمية

لوجيه اله



لجنة تقدير المدرجات