

تم تحميل هذا الملف من موقع المناهج الكويتية



الملف مراجعة شاملة لمادة تاريخ الكويت 2026

[موقع المناهج](#) ⇌ [ملفات الكويت التعليمية](#) ⇌ [الصف العاشر](#) ⇌ [تاريخ](#) ⇌ [الفصل الأول](#)

روابط مواقع التواصل الاجتماعي بحسب الصف العاشر



روابط مواد الصف العاشر على تلغرام

<a href="#">الرياضيات</a>	<a href="#">اللغة الانجليزية</a>	<a href="#">اللغة العربية</a>	<a href="#">التربية الاسلامية</a>
---------------------------	----------------------------------	-------------------------------	-----------------------------------

المزيد من الملفات بحسب الصف العاشر والمادة تاريخ في الفصل الأول

<a href="#">مسودة كتاب الطالب لعام 2018</a>	1
<a href="#">مذكرة ثانوية سلمان الفارسي</a>	2
<a href="#">حل تقويم الكتاب في مادة التاريخ</a>	3
<a href="#">نموذج احابة امتحان في مادة التاريخ للصف العاشر</a>	4
<a href="#">مذكرة شهرزاد في مادة التاريخ</a>	5



مدرسة التميز النموذجية - ابتدائي - متوسط - ثانوي

المراجعة النهائية مادة

تاريخ الكويت

الصف العاشر



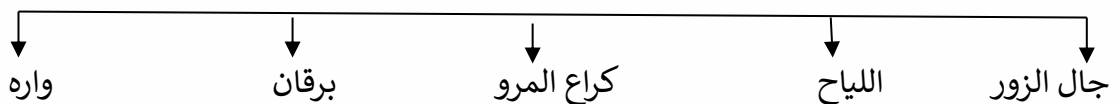
2026 / 2025  
الفصل الدراسي الأول

## السؤال الأول: أكمل العبارات التالية بما يناسبها مما درست: -

1. تقع دولة الكويت بالنسبة لشبه الجزيرة العربية في الجهة الشمال الشرقي
2. تقع دولة الكويت بالنسبة للخليج العربي في الجهة الشمال الغربي
3. يحد دولة الكويت من الشمال والشمال الغربي جمهورية العراق
4. المسطح المائي الذي يحد دولة الكويت من الشرق يسمى الخليج العربي
5. يحد دولة الكويت من الجنوب والجنوب الغربي السعودية
6. تمتد دولة الكويت بين دائرتي عرض 28,45 و 30,05 شمالاً
7. تمتد دولة الكويت بين خطي طول 46,30 و 48,30 شرقاً
8. تبلغ مساحة دولة الكويت 17,818 ألف كم
9. الحد الفاصل بين الحدود الكويتية العراقية بمسافة 150 كم يسمى وادي الباطن
10. السهل الذي يحتل مساحة كبيرة في غرب وجنوب الكويت يسمى الدبدبة
11. جزر الكويت عددها 10 جزر
12. أكبر جزر دولة الكويت مساحةً هي جزيرة بوبيان
13. الجزيرة التي هجرها سكانها بعد العدوان العراقي على دولة الكويت عام تسمى فيلكا
14. تمثل جزيرة بوبيان من المساحة الإجمالية لدولة الكويت حوالي 5 %
15. رياح جافة جدًا تهب في الظهيرة، حيث تنخفض معها الرطوبة النسبية تسمى رياح السموم
16. رياح جافه تهب على الكويت معظم أيام السنة وتخفض درجة الحرارة في الصيف تسمى الشمالية الغربية
17. أكبر حقل نفطي في دولة الكويت يسمى برقان
18. تقع دولة الكويت ضمن الامتداد الجغرافي والسياسي للإقليم الذي يحتل المنطقة الغربية للخليج العربي ويعرف بإقليم البحرين
19. تم احراء أول تعداد للسكان في دولة الكويت في عهد الشيخ عبد الله السالم الصباح عام 1957م

## السؤال الثاني: أكمل المخطط السهمي التالي:

(أهم التلال في الكويت)



## السؤال الثالث: أكمل الجدول التالي:

### المميزات المناخية لدولة الكويت

الشتاء	الصيف
الشتاء دافئ قصير ممطر أحياناً معدل الحرارة خلاله $18^{\circ}$ درجة مئوية وقد تنخفض الحرارة إلى الصفر المئوي في بعض الأحيان	الصيف طويل حار جاف درجات الحرارة، فيتراوح متوسط درجاتها صيفاً بين $42^{\circ}$ إلى $48^{\circ}$ وقد تصل أحياناً إلى $50^{\circ}$ درجة مئوية في الظل

## السؤال الرابع: اذكر أنواع الرياح في دولة الكويت

- 1- الشمالية الغربية
- 2- الجنوبية الشرقية
- 3- السموم
- 4- العواصف الترابية (السرايات)

## السؤال الخامس: أجب عن الآتي:

(أ) **علل**: تتميز الرياح الشمالية الغربية بالجفاف

- بفعل المرتفع السيبيري المتمركز شمال القارة الآسيوية

(ب) **علل**: تتميز الرياح الجنوبية الشرقية بأنها رطبة ودافئة

- لتأثرها بالمنخفض السوداني

(ج) **قارن** بين كل من:

السموم	السرايات
هي رياح جافة جداً تهب في الظهيرة، حيث تنخفض معها الرطوبة النسبية، وهذه الرياح ذات درجات حرارة عالية	تهب في أواخر الربيع وأوائل الصيف فتثير الغبار مصحوبة عادة بعواصف رعدية يسقط بسببها المطر الشديد

الرياح الشمالية الغربية (صيفاً وشتاءً)	الرياح الجنوبية الشرقية (صيفاً وشتاءً)
لها أثر واضح في خفض درجة الحرارة خاصة في فصل الصيف، لكنه يصبح قارس البرودة في فصل الشتاء	تتسبب هذه الرياح في رفع درجة الحرارة وتزيد من نسبة الرطوبة في فصل الصيف، ولكن في فصل الشتاء يعتدل الجو بها وتحمل معها المطر

## السؤال السادس: صحح ما تحته خط في كل عبارة فيما يلي:

يبلغ عدد الجزر الكويتية 8 جزر (10)

أكبر الجزر الكويتية جزيرة تسمى مسكان (بوبيان)

يعود الوجود البشري في دولة الكويت إلى أكثر من خمسة آلاف (أربعة آلاف سنة ق. م)

## السؤال السابع / أجب عما يلي: -

1 - ما الهدف من دراسة موقع أي دولة من الدول

- يهدف بالأساس إلى إبراز القيمة الفعلية لها، والكيفية التي تكون عليها المصالح الحيوية لتلك الدول

2 - عدد المناطق الزراعية في دولة الكويت قديماً

- الفحيحيل والمنقف والفرنطاس والوفرة والجھراء وأبو حليفة والعقيلة والشعيبة والدمنة

3 - صف مناخ دولة الكويت

- نظرًا للموقع الفلكي لدولة الكويت فإنها تمتاز بمناخ قاري جاف قاسي يمتاز بارتفاع درجات الحرارة أكثر أيام السنة وبوجود فصلين رئيسيين الصيف والشتاء وفصلين ثانويين لا يكادان يلاحظان وهما الربيع والخريف.

4 - عدد أهم المناطق التي تنحصر فيها المياه الصالحة للاستخدام الآدمي

- الروضتين وأم العيش والصليبية والعبدلي والوفرة

## السؤال الثامن: اكتب فيما يلي:

(أ) (يعود الوجود البشري في دولة الكويت إلى أكثر من أربعة آلاف سنة ق. م) دلل على ذلك

تشير لذلك بقايا الآثار الحضارية القديمة التي عثر عليها في مناطق مختلفة من أرض الكويت كجزيرة فيلكا وتل وارة وتل القرين شمال الوفرة وبرقان وبالصبية حضارة العبيد

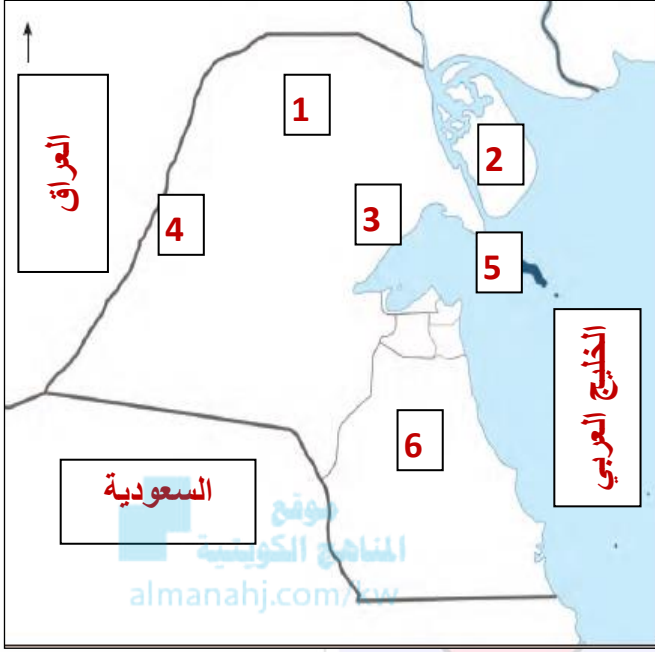
(ب) (الموقع الاستراتيجي لدولة الكويت جعل لها أهمية بين دول العالم) دلل على ذلك

\* موقعها الذي يمثل النهاية الطبيعية للطريق الملاحي البحري والتجاري، الواقع على طريق الهند ومنطقة الشرق الأقصى (ابتدائي - متوسط - ثانوي)

\* شهرتها بأنها منطقة ترانزيت أو منطقة لتجارة العبور قليلة الضرائب

\* تمثل دولة الكويت البوابة والمدخل الطبيعي لشمال شرق الجزيرة العربية

## السؤال التاسع: لاحظ خريطة دولة الكويت ثم أجب عما يلي:



1 - جزيرة فيلكا تحمل الرقم 5

2 - جزيرة بوبيان تحمل الرقم 2

3 - وادي الباطن يحمل الرقم 4

4 - تلال جال الزور تحمل الرقم 3

5 - سهل الروضتين يحمل الرقم 1

6 - سهل برقان يحمل الرقم 6

- حدد موقع الخليج العربي والدول

المجاورة للكويت بكتابه أسمائها في مواقعها على الخريطة

## السؤال العاشر: (أ) صنف ما يلي حسب ما يناسبه في الجدول التالي:

(الروضتين - وادي الباطن - جال الزور - برقان - اللياح - كراع المرو)

الوديان	السهول	التلال
وادي الباطن	الروضتين برقان	جال الزور اللياح كراع المرو

(ب) ما هو الإقليم الذي تنتمي إليه دولة الكويت؟

- إقليم البحرين والممتد من جنوب البصرة شمالاً حتى عُمان جنوباً

(ج) اذكر عناصر البناء السياسي التي افتقدت لها الكويت قبل نزول العتوب بها

أ - السلطة التي تضفي الطابع السياسي على المكان والرعية

ب - الحدود السياسية



## المعالم الحضارية لدولة الكويت

### س - أكمل العبارات التالية بما يناسبها مما درست:

- 1- من أهم الحضارات التي ظهرت في منطقة الصبية حضارة تسمى حضارة العبيد
- 2- في النصف الثاني من الألف الأول قبل الميلاد وقعت أرض الكويت في فلك الحضارة الإغريقية
- 3- ترجع أقدم آثار جزيرة فيلكا إلى الحضارة الدلمونية
- 4- وقعت معركة ذات السلاسل بين المسلمين والفرس عام 12 هجرية



( أختام دائرية واسطوانية )



( معبد البحري جزيرة فيلكا )



( قارب فخاري الصبية )

### س / فرق بين الحضارات في الكويت حسب الجدول التالي: -

حضارة العبيد	الحضارة الدلمونية	الحضارة الإسلامية
الصبية	جزيرة فيلكا	كاظمة
أهم الآثار المكتشفة	أهم الآثار المكتشفة	أهم الآثار المكتشفة
1- العثور على أقدم القرى السكنية في بحرة وطبيج شمال الصبية	1- القلعة الهلينستية وتل الخزنة الذي كان مكاناً مقدساً عند الإغريق	1- عثر على مسكوكات إسلامية أهمها عملة أموية مؤرخه بعام 123 هـ
2- آبار المياه القديم و العثور على جرار فخارية	2- العملات النحاسية	2- كشف في منطقة أم العيش عن مبانٍ ترجع إلى الفترة الإسلامية
3- عثر على الرحي الحجرية التي تستخدم في طحن الغلال	3- العديد من الكتابات على الصخور كحجر إيكاروس	3- تم العثور على مستوطنات متتالية في منطقة الشقيا و وادي الباطن
4- أدوات للغزل والحياكة	4- مجموعة من الأختام المستديرة والتي كانت تحمل نقوشاً تعبر عن أساطير قديمة صوراً لحيوانا	
5- مساكن بيضاوية		

## الأنشطة الاقتصادية قديماً

### س / بم عُرِفَ المجتمع الكويتي قديماً وقبل اكتشاف النفط

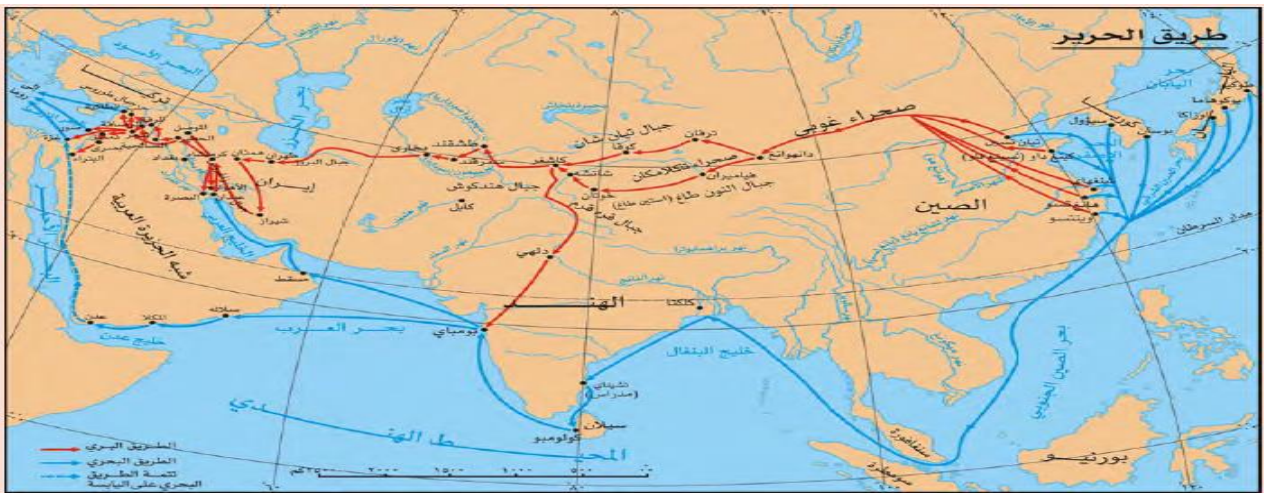
- 1 - مجتمع بسيط وهادئ، تميز بالتلاحم والتكافل والعمل الجماعي
- 2 - مجتمع يعي أن مبدأ الشورى والحكم المشترك هو الضمان والأساس لوحدة وترابطه
- 3 - مجتمع تقبل الهجرات، وأبدى إيجابية كبيرة في دمجها
- 4 - مجتمع اتسم بالمرونة والقدرة على الانفتاح على جميع الثقافات
- 5 - مجتمع في كل أزماته كان يظهر قدرة كبيرة على المواجهة والتحدى استطاع الحفاظ على وجوده وكيانه

### س / علل الخليج العربي أحد أهم الطرق التجارية القديمة.

1. يقع الموقع الجغرافي للخليج العربي في موقع متوسط من قارات العالم القديم الثلاث
2. وجود مضيق هرمز الذي يربط بين خليج عُمان والخليج العربي
3. توفر الموارد الطبيعية البرية والبحرية التمر - اللؤلؤ مع توافر وسائل نقل التجارة
4. وجود قوة بشرية كان لها دورٌ مهمٌ في الحراك الاقتصادي بين منطقة الخليج العربي والمناطق المجاورة
5. حلقة وصل واتصال ومحطة تبادل حضاري وإنساني لمختلف الشعوب والأجناس التي استوطنت أراضيها

### طريق الحرير

المسار الأول	المسار الثاني
1 - بري (شمالي)	1 - بحري (غربي)
وهو طريق الحرير البري ويبدأ من الصين حتى أوروبا	وهو طريق الحرير البحري وهذا الطريق يبدأ من أحد الموانئ الصينية "كانتون" حيث يعبر بحار الصين ثم يلتف حول سواحل شبه القارة الهندية ليدخل البحار المحيطة بشبه الجزيرة العربية



## أنواع الأنشطة الاقتصادية

س1: كان على الكويت ومنذ تأسيسها أن تبحث لنفسها عن نشاط اقتصادي يؤمن لها ولسكانها الحياة ( علل )

- نتيجة لقلة مياهها العذبة ومناخها القاسي وطبيعة أراضيها الرملية والتي لا يصلح أغلبها للزراعة

س2: كان النشاط البحري هو النشاط السائد قديماً

ج / حيث تقع الكويت في منطقة صحراوية قليلة الموارد شحيحة الأمطار وأراضيها غير صالحة للزراعة

س3: عدد أهم طرق الصيد في الكويت قديماً



\* الصيد بالحظور المصنوعة من القصب

\* الصيد بالشباك

\* الحداق بواسطة الميذار

\* الصيد بالقرقرور

س4: ما المقصود بطريقة الصيد بالإضاءة

- يسمى القمبار حيث يتجمع السمك حول سراج يحمله الصياد فيقوم بضربه بآلة حادة كالسيف أو عصا في نهايتها حربة أو السالية

س5: أهم أماكن صيد الأسماك قديماً

فيلكا - وربة - وخور الزبير - مسكان - كاظمة - الصبية - رأس الزور - الجليلة

س6: عدد أهم العوامل التي ساعدت على ازدهار صناعة السفن في الكويت قديماً:

١- هبوب الرياح الموسمية على منطقة الخليج العربي التي ساعدت على دفع السفن نحو شواطئ الهند

٢- توفر الأيدي العاملة لصناعة السفن.

٣- تمتع الكويت بواجهة بحرية طويلة تمتد من شمالها إلى جنوبها

٤- براعة الأساتذة والقلاليف

٥- توفر مصادر المواد المستخدمة في صناعة السفن

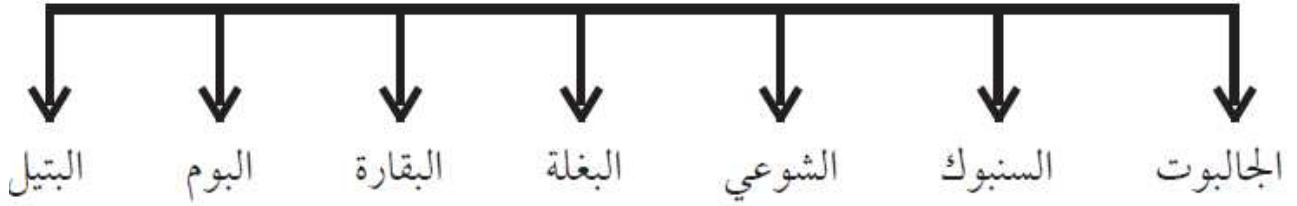
س7: فرق من حيث المفهوم بين

القلاف	الأستاذ
هو الذي يقوم بعملية إعداد المواد اللازمة للصناعة ثم عملية بناء السفينة نفسها.	هو الذي يقوم بتصميم السفينة



س8: أكمل المخطط السهمي التالي:

### أنواع السفن في دولة الكويت قديماً



س9: دلل على اعتزاز دولة الكويت بتراثها البحري

- اتخذت صورة سفينة البوم الكويتي لتكون شعاراً للدولة
- وضع سفينة البوم على العملة الوطنية
- تزيين المؤسسات بصور ومشاهد تعبر عن عمق ارتباط الكويت وشعبها بتراثها البحري

س10: أكمل العبارات التالية بما يناسبها مما درست:

1. أشهر حرفة مارسها أهل الكويت منذ نشأة بلدهم هي الغوص على اللؤلؤ
2. منابت المحار المحتوي على اللؤلؤ تسمى الهيرات
3. من أهم مسميات اللؤلؤ دانة - قماشة
4. صدر في العام 1940 م قانون الغواصين من قبل حاكم دولة الكويت الشيخ أحمد الجابر الصباح
5. بداية موسم الغوص تسمى الدشة
6. نهاية موسم الغوص تسمى القفال

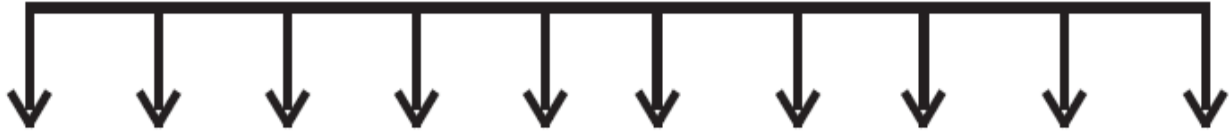
س11: أكمل الجدول التالي حسب ما هو موضح أمامك

المهنة	وظيفته
النوخدة	قائد السفينة وربانها والمسؤول عنها وعن طاقمها، والمسؤول عن تحديد أماكن الغوص والبحث عن مزارع اللؤلؤ الهيرات
المجدي	هو لقب كان يطلق على رئيس البحارة، والمسؤول عن إدارة السفينة من الداخل.
الغيص	الشخص الذي يغوص إلى قاع البحر بحثاً عن المحار.
السيب	الشخص المنوط به سحب الغيص للسطح عند شد الأخير الحبل (الأيد)
النهام	الشخص الذي ينشد المواويل تشجيعاً لطاقم السفينة في رحلتهم.
الرضيف	صغار السن الذين يقومون ببعض الأعمال الأقل من السيب.
الطواش	هو تاجر اللؤلؤ.



س12: أكمل المخطط السهمي التالي

## العاملون في حرفة الغوص



النوخذة الجعدي المجدي الغيص السيب النهام الرضيف الطواش العزال التباب

س13: ما مدى تأثير حرفة الغوص على اللؤلؤ على أهل الكويت



- 1 - تقوية العلاقات بين السكان وتأسيس قيم **الصدق** والأمانة والعمل.
- 2 - الاحترام المتبادل وتكوين الأسرة الواحدة.
- 3 - التعاون والتعاقد بالمجتمع.
- 4 - الالتزام والطاعة والصبر.

س14: ما هي المهارات التي يجب أن تتوفر في النوخذة؟

1. القدرة على معرفة المسالك والطرق
2. الإلمام بالاتجاهات البحرية
3. صاحب الحق في إعطاء إذن للبحارة بمغادرة السفينة وضمان سلامة طاقمها.

س15: فرق من حيث المفهوم بين

الإغلاق	الدشة
تعني إغلاق موسم السفر بسبب هبوب الرياح الموسمية المسببة لهيجان المحيط الهندي وبحر العرب وعلو أمواجه	تعني دخول البحر وتكون في الشهر الثامن أغسطس ويستمر موسم السفر حتى نهاية الشهر الخامس مايو

س16: أكمل العبارات التالية بما يناسبها مما درست

- 1 - الحرفة الأساسية لسكان البادية في دولة الكويت هي **الرعي**

س17: أكمل المخطط السهمي التالي:

## أهم المناطق الزراعية في الكويت قديماً



**س18: أكمل الجدول التالي حسب المطلوب:**

الصعوبات التي تواجه الزراعة في الكويت	طرق التغلب على صعوبات الزراعة في الكويت
* الكويت بلد صحراوي يعاني من شح المياه	* قاموا بزراعة النباتات التي تتلاءم مع البيئة
* ارتفاع درجة الحرارة أغلب أيام السنة	* استغلوا مياه الأمطار القليلة واستخدموا مياه الآبار السطحية المتوفرة
* عدم خصوبة التربة	* قاموا بزراعة بعض الخضراوات مثل الطماطم والبطاطس وغيرها

**س19: أكمل الجدول التالي حسب ما هو موضح أمامك**

الحرفة	المهام
النجارة	حرفه يدوية لعب العاملون بها دورًا كبيرًا بتوفير مستلزمات البناء وغيرها من المستلزمات المنزلية قديمًا
الحداد	يقوم العاملون بالحدادة بصناعة المسامير اللازمة لصناعة السفن قديمًا.
الصفار	حرفة يدوية يقوم العاملون بها بصنع وتلميع القدور المستخدمة في الطبخ المصنوعة من النحاس.
التناك	يقوم العاملون بهذه الحرفة باستخدام الصفيح المعدنية لصنع "المحقان" والدوة والتناك وقوطي الجاز الكروسين
القفاص	يقوم العامل بهذه الحرفة بصنع أشكال مختلفة من الأقفاص والمنز (السرير) الذي ينام فيه الطفل قديمًا.
الحياك	يقوم الحياك بخياطة الملابس كالبشوت.
النداف	يقوم النداف بتنجيد وصناعة المساند والفرش مستخدمًا القطن.
السدو	إحدى الحرف السائدة التي تزاولها المرأة في البادية.

**س20: اكتب المفهوم الدال على العبارات التالية**

- 1 - (الصخين) هي أداة تستخدم للحفر
- 2 - (المنز) السرير الذي ينام فيه الطفل قديمًا
- 3 - (الرك) صندوق له فتحة من الأعلى لوضع بعض المأكولات به كالعنب والرطب
- 4 - (العدول) ما يوضع على ظهر الدابة وتوضع فيه حاجات الراكب
- 5 - (المزاد) وهي عبارة عن أكياس متوسطة لحفظ الطعام والملابس



## نشأة الكويت

س1: أكمل العبارات التالية بما يناسبها مما درست: -

1. كلمة كويت تصغير لكلمة كوت وتعني الحصن أو القلعة
2. الموطن الأصلي للعتوب منطقة في نجد تسمى الهدار
3. اول حاكم لدولة الكويت هو الشيخ صباح الأول
4. محطة الاستقرار الأولى للعتوب منطقة الزبارة في قطر
5. غادر العتوب قطر في اسطول بحري مكون من 150 سفينة
6. المحطة الثانية منطقة المخراق في البصرة عام 1701م

س2: علل ما يلي

1. تسمية الكويت بهذا الاسم؟  
- نسبة لكلمة كوت والتي تعني الحصن الصغير أو القلعة
2. تسمية العتوب بهذا الاسم؟  
- للتنقل والترحال من منطقة لأخرى والفعل عتب معناه الاكثار من الترحال وليس نسباً
3. هجرة العتوب من موطنهم الأصلي من منطقة الهدار في نجد؟  
- بسبب القحط الشديد الذي أصاب مناطقهم الأصلية

س3: وضح على المخطط السهمي التالي سير هجرة العتوب

الهدار - قطر (الزبارة) - جنوب البصرة (المخراق) - الصبية - الكوت أو القرين

س4: عدد أشهر الأسر التي تنتمي للعتوب (آل صباح - آل خليفة - آل جلاهمة)

## اختيار آل صباح لحكم الكويت

س1: وضح تقسيم المهام بين الأسر الثلاث:

تسيم المهام بين الأسر الثلاث الكبيرة



## س2: أكمل العبارات التالية بما يناسبها مما درست

1. القبيلة القوية التي امتد نفوذها من قطر جنوباً حتى حدود البصرة شمالاً تسمى قبيلة بني خالد
2. العام الميلادي الذي تم فيه تكوين الحلف الثلاثي بين أسر للعتوب هو 1716
3. العام الميلادي الذي توفي فيه الشيخ سليمان بن أحمد هو 1718
4. بعد وفاة الشيخ سليمان بن أحمد بايع أهل الكويت الشيخ صباح بن جابر
5. توفي والد الشيخ صباح بن جابر في الزبارة

## س4: ما النتائج الإيجابية على إمارة الكويت في ظل وجود قبيلة بني خالد

- استطاعت الكويت أن تتمتع بالأمن والرخاء
- استطاعت الكويت أن تنجو من كثير من التهديدات والأخطار لمختلف القوى الإقليمية التي كانت موجودة آنذاك

حكام دولة الكويت / الحاكم الأول الشيخ صباح بن جابر 1718م - 1762

## س1: عدد أعمال الشيخ صباح الأول

1. العمل على توطيد الأمن
2. نشر العدل
3. تنظيم أمور السكان والبلدة الوليدة

حكام دولة الكويت / الحاكم الثاني الشيخ عبد الله الأول 1762 - 1813

## س1: عدد أهم الأحداث في عهد الشيخ عبد الله الأول

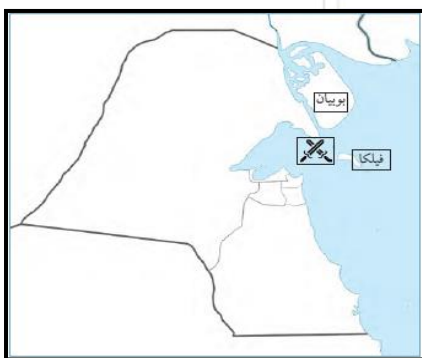
1. معركة الرقة البحرية 1783 م
2. بناء سور الكويت الأول 1797 م لحماية الكويت من الأخطار الخارجية

## س2: وقعت معركة الرقة البحرية بالقرب من جزيرة تسمى فيلكا

## س3: أكمل الجدول التالي لمعركة الرقة البحرية

معركة الرقة البحرية 1783 م

الأطراف	الكويت × بني كعب
الأسباب	1. الغيرة التجارية لبني كعب الذين كانوا يملكون ميناءً مواجهًا للكويت 2. رأوا في استمرار ازدهار الكويت تأثيرًا على تجارتهم البحرية ، وتضييقًا على تعاملاتهم البحرية
النتائج	1. استطاع الكويتيون إثبات قدرتهم أمام قوة بحرية كبيرة كقوة بني كعب 2. عاد الكويتيون بعد المعركة بالكثير من الذخيرة والمدافع التي غنموها ونصبوها على الشاطئ، تخليدًا لانتصارهم



## الحاكم الثالث الشيخ جابر الأول بن عبد الله الصباح 1813 م – 1859 م

س1: اشتهر الشيخ جابر الأول بن عبد الله الأول ب جابر العيش لكرمه

س2: من القائل لابنه " إن لأهل الكويت علينا حقًا عظيمًا، ولو كانت تحت يدي ثروة طائلة لقمّت بحاجة الفقراء والمحتاجين منها إلى أن يموتوا) الشيخ جابر الأول

س3: عدد أهم أعمال الشيخ جابر الأول

1. بناء السور الثاني عام ١٨١٤ م.
2. ساعد العثمانيين على إعادة البصرة بعد قيام بعض القبائل فيها بالخروج على السلطة العثمانية.
3. رفض عرض مقدم من شركة الهند الشرقية الإنجليزية لإقامة محطة فحم لدولة الكويت عام ١٨٤١ م.

س4: تعد فترة الشيخ جابر الأول فترة ازدهار بحري للكويت (دلل على ذلك)

1. تطوّرت فيها صناعة السفن الكبيرة المعروفة باسم البغلة والبتل
2. استطاع الكويتيون الوصول إلى سواحل الهند واليمن لنقل البضائع منها وإليها.

## 4 - الحاكم الرابع الشيخ صباح الثاني بن جابر: 1859 - 1866 م .

س1: حاكم الكويت الذي قرر أن يفرض رسومًا على البضائع رفض التجار فألغى الرسوم احترامًا لرغبة أبناء شعبه  
- الشيخ صباح الثاني بن جابر

## 5 - الحاكم الخامس الشيخ عبدالله بن صباح الثاني 1866 - 1892 م .

س1: ما هي أهم الأحداث في عهد الشيخ عبد الله بن صباح الثاني؟

- مساعدته العثمانيين في حملتهم حملة مدحت باشا عام 1871 م على إقليم الأحساء، حيث ساند الشيخ الحملة بأسطول بحري يقوده بنفسه، وجيش بري يقوده شقيقه الشيخ مبارك

س2: الحملة العثمانية على إقليم الأحساء 1871 م تسمى حملة مدحت باشا

## 6 - الحاكم السادس الشيخ محمد بن صباح 1892 - 1896 م .

س1: ما هي أهم الأحداث السياسية في عهد الشيخ محمد بن صباح

- ترحيبه وتسهيله لاستقرار أسرة الأمير عبد الرحمن آل سعود والد مؤسس الدولة السعودية

الثالثة "الملك عبد العزيز آل سعود" في دولة الكويت 1891م

س2: ساعد الشيخ محمد بن صباح أخواه الشيخ جراح تولى شؤون المالية والشيخ مبارك تولى شؤون البادية والجيش

## • النمو التجاري والاقتصادي للكويت تحت حكم آل صباح

### س1: أهم القرارات التي اتخذها آل صباح وساعدت على النمو التجاري والاقتصادي لدولة الكويت

1. قلة الضرائب على البضائع القادمة للكويت.
2. تشجيع بناء سفن الغوص وتأمين طرق التجارة المارة عبر أراضيها
3. اجتذاب الوكالات التجارية التابعة للشركات الأوروبية العاملة في الخليج العربي
4. لعب التجار الكويتيون دور الوسيطاء التجاريين
5. نزعة الاستقلال لدى حكام الكويت وتأكيد كيانه المستقل في ذلك إلى الاستقرار السياسي والاقتصادي
6. ما تميز به أهل الكويت من سماحة وصدق وأمانة



### س2: عدد عوامل نمو وازدهار دولة الكويت تحت حكم آل صباح

1. موقع الكويت الاستراتيجي على الجزء الغربي للخليج العربي
2. طبيعة نظام الحكم المعتمد على العدل والشورى والأمن
3. وجود علاقات متوازنة مع القوى المجاورة.
4. التسهيلات التي كانت تمنح لتجار البادية والتي كانت تسمى تجارة المسابلة
5. النظام الاقتصادي الدقيق وتوزيع المهام ما بين الغوص ونقل التمور وتجارة البادية
6. الصفات التي تميز بها أهل الكويت من التسامح والانفتاح على الآخرين.

### س3: أكمل العبارات التالية بما يناسبها مما درست:

- 1 - التسهيلات التي كانت تمنح لتجار البادية والتي كانت تسمى تجارة المسابلة
- 2 - انتقلت الوكالة البريطانية من البصرة إلى الكويت مرتين الأولى عام 1793 م والثانية 1821م

## • التنافس الاستعماري الأوروبي على منطقة الخليج العربي

### السؤال الأول: أكمل العبارات التالية بما يناسبها مما درست

1. سعى الأوروبيون ممثلين بالبرتغاليين للسيطرة على الخليج العربي منذ مطلع القرن السادس عشر
2. خرج أول أسطول هولندي إلى آسيا، فبلغ جزر الهند الشرق عام 1595 م
3. اتخذ الهولنديون ميناء ومركزاً تجارياً لهم يسمى بندر عباس
4. أسوأ النظم الاستعمارية في الخليج العربي الاستعمار البرتغالي
5. تأسست شركة الهند الشرقية الإنجليزية عام 1600 م
6. عقدت اتفاقية الحماية بين الكويت وبريطانيا عام 1899 م



**س2: عدد الدوافع التي سرعت بتوجه الكشوفات الجغرافية والاستعمارية إلى منطقة الخليج العربي**

1. الدافع السياسي السيطرة على منطقة الخليج العربية
2. الدافع الديني نشر المسيحية
3. العامل العلمي ونشاط العلوم الأوروبية خصوصًا علم الفلك والرياضيات.

**س3: عدد العوامل التي أدت إلى انهيار الاستعمار البرتغالي في منطقة الخليج العربية**

1. المنافسة التجارية بينه وبين الهولنديين والإنجليز،
2. جهود اليعاربة في عُمان التي ساهمت في تصفية الوجود البرتغالي في الخليج
3. وقوع البرتغال نفسها تحت الاحتلال الإسباني.

**س4: أسباب انهيار الاستعمار الهولندي**

- التنافس الإنجليزي الهولندي الذي قضى على آمالهم في النهاية وأخرجهم من المنطقة.

**س5: اكتب فيما يلي عن سياسة الهولنديين في منطقة الخليج العربية**

- عقد معاهدات مع حكام منطقة الخليج باسم الحكومة الهولندية
- بناء القلاع وتعيين الحكام والقضاة في المواقع التابعة لهم
- تطبيق القانون وتوفير النظام

**س6: علل - اهتمام بريطانيا بالخليج العربي**

- لأنه طريق حيوي لحماية إمبراطوريتهم في الهند

**س7: علل - نقل مركز البريد والتجارة البريطاني من البصرة إلى الكويت في عام 1775 م**

- بسبب الحصار الفارسي للبصرة عام 1775 م

**س8: دلل على أن العلاقة الكويتية - العثمانية علاقة اسمية قائمة على الولاء الديني فقط**

- لم يكن للعثمانيين أي سلطة إدارية أو سياسية أو حتى عسكرية في الكويت، فمن أدار شؤون الكويت الداخلية هم حكامها وأهلها

**س9: حدد الفرمان العثماني علاقة الكويت بالدولة العثمانية طبقاً لمجموعة من الأسس اذكرها**

1. شيخ الكويت مستقل في شؤونه الداخلية.
2. منح شيخ الكويت لقب قائم مقام.
3. أهالي الكويت، لا يلتزمون بدفع رسوم أو ضرائب إلى الباب العالي.



## الحاكم السابع الشيخ مبارك الصباح 1896-1915م

س1: من حاكم الكويت بالصورة المقابلة الشيخ مبارك الصباح



س2: ترتيبه في الحكم الحاكم السابع

س3: أكمل الجدول التالي حسب المطلوب

المجالات	تطور الأوضاع الداخلية في عهد الشيخ مبارك الصباح
حفظ الأمن وتشجيع التجارة.	<p>1- كان لا يتوانى عن إخراج قوات عسكرية لتأمين طرق القوافل التجارية وضمان سلامة الطرق داخل حدود إمارته أو بالقرب منها.</p> <p>2- عمل على تشجيع التجارة.</p> <p>3- مراقبة الأسواق ومشكلات الأهالي.</p> <p>4- معاقبة الخارجين أو من يحاول الخروج على النظم المتبعة.</p> <p>5- في بعض الأحيان يفتح خزائنه للتجار ويمدهم بالمال لمساعدتهم في تجارتهم.</p> <p>6- شجع على تصنيع السفن الكبيرة لنقل البضائع بين الكويت والموانئ المختلفة</p> <p>7- في كثير من الأحيان كان يتوسط لحل المشكلات التي تنشأ بين التجار</p>
التعليم	تم انشاء المدرسة المباركية عام 1911 م وكانت أول المدارس النظامية الأهلية.
الصحة	وافق على تأسيس أول مستشفى عام 1911 م والذي أطلق عليها المستشفى الأمريكي
الجيش	على الرغم من أن الجيش في الكويت لم يكن نظاميًا بالمعنى المفهوم إلا أنه توفر له ما يتوفر للجيش النظامية في ذلك الوقت من عقيدة قتالية، وتموين، وإدارة وتشكيلات قتالية، معتمدًا على قبائل الكويت وسكانها.

س4: اكتب مدلول الصور التالية



المستشفى الأمريكي

المدرسة المباركية



• الأطماع الدولية تجاه الكويت في عهد الشيخ مبارك الصباح

الدولة	روسيا	المانيا	الدولة العثمانية
المشروع	محاولة استغلال بعض المشاريع التجارية لإنشاء محطة للفحم وميناء لتزويد سفنها بالوقود وجعل الكويت نهاية لخط سكة حديد مشروع كابنيست	طرح مشروع خط سكك حديد برلين - بغداد الذي كان مقرراً أن ينتهي عند أحد الموانئ على الخليج العربي آنذاك الكويت تحديداً	ارادت أن تجعل الكويت نهاية لمشروع خط سكة الحديد الذي بدأ بتعاون الألمان تحت عباءة الدولة العثمانية لتكون الكويت نهاية له
موقف الشيخ مبارك	قام برفض كافة هذه المشاريع المقدمة مع عدم قبوله أيضاً لعرض الروس لعقد اتفاقية حماية معه على غرار معاهدة الحماية البريطانية	رفض الشيخ مبارك أن يكون للألمان أية مشاريع اقتصادية فوق أراضي إمارته خصوصاً وهو مرتبط باتفاقية حماية مع الإنجليز	رأى الشيخ مبارك ذلك خطراً يهدد إمارته واستقلاله ذلك لأن الدولة العثمانية ستبعث موظفين وجباة ضرائب فتفقد بذلك استقلالها رفض عروضهم

س5: وضح سياسة الدولة العثمانية تجاه الكويت بعد معاهدة الحماية البريطانية 1899 م

1. بدأ العثمانيون محاولات فرض النفوذ بالقوة
2. تهديد الشيخ مبارك نفسه بالنفي
3. إرسال بعض الوحدات العسكرية لأراضي الكويت

س6: أكمل العبارات التالية بما يناسبها مما درست

- 1 - بدأت الدولة السعودية الثالثة أولى خطواتها عام 1902 م
- 2 - مؤسس الدولة السعودية الثالثة هو الأمير عبد العزيز آل سعود
- 3 - حدثت معركة الصريف في مارس عام 1901 م
- 4 - حدثت معركة هدية في مايو عام 1910 م
- 5 - توفي الشيخ مبارك الصباح عام 1915 م



