

تم تحميل هذا الملف من موقع المناهج الكويتية



الملف الاختبار التقويمي الأول

موقع المناهج ← ملفات الكويت التعليمية ← الصف الأول ← رياضيات ← الفصل الأول

روابط مواقع التواصل الاجتماعي بحسب الصف الأول



روابط مواد الصف الأول على تلغرام

[الرياضيات](#)

[اللغة الانجليزية](#)

[اللغة العربية](#)

[التربية الاسلامية](#)

المزيد من الملفات بحسب الصف الأول والمادة رياضيات في الفصل الأول

تدريبات على كتابة الاعداد من 1 وحتى 10 في مادة الرياضيات	1
التصنيف وفق خاصية واحدة في مادة الرياضيات	2
تحضير درس الانماط في مادة الرياضيات	3
تحضير درس التطابق في مادة الرياضيات	4
اوراق عمل متاهات الاعداد في مادة الرياضيات	5

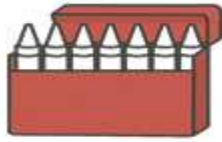
الأختبار التقويمي الأول

الأسم :

للصف الأول




١ لَوْنُ لَوْنٍ الَّتِي تَقَعُ دَاخِلَ ال



٢ لَوْنُ لَوْنٍ الَّتِي يَقَعُ خَارِجَ ال



٦ لَوْنُ لَوْنٍ دَاخِلَ ال



٣ لَوْنُ الشَّيْءِ الَّتِي يَقَعُ بَيْنَ ال



٤ ضَعْ عَلامَةَ ✓ لِلأشياءِ الَّتِي تَقَعُ دَاخِلَ ال




٥ ضَعْ عَلامَةَ ✓ لِلأشياءِ الَّتِي تَقَعُ خَارِجَ ال




تَدْرِبْ لَوْنٌ لِإِكْمَالِ النَّمَطِ.



ارِسِّمْ لِإِكْمَالِ النَّمَطِ.



اِتَّبِعِ النَّمَطَ. أَكْمِلِ النَّمَطَ.

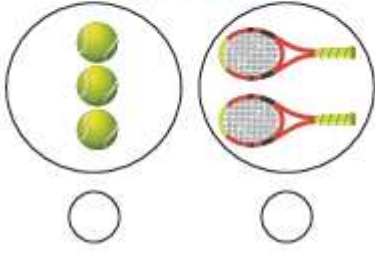


حَوِّطْ مَا يَأْتِي لِإِكْمَالِ النَّمَطِ.



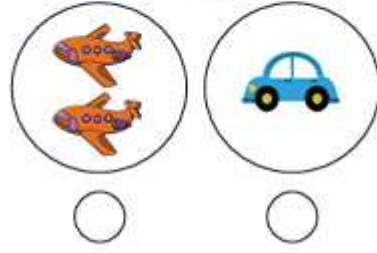
٢ صل، ثم ضع علامة ✓ أسفل

المجموعة الأقل.

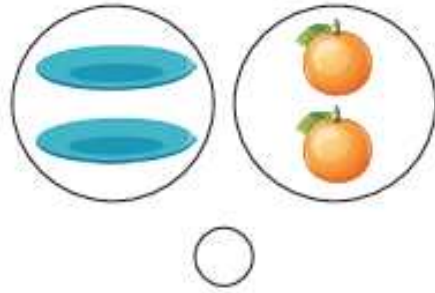
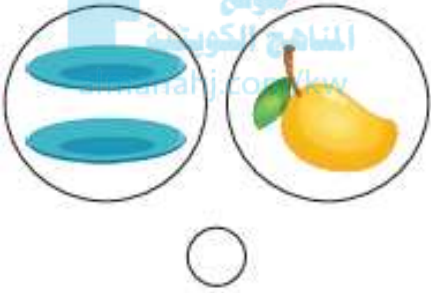


١ صل، ثم ضع علامة ✓ أسفل

المجموعة الأكثر


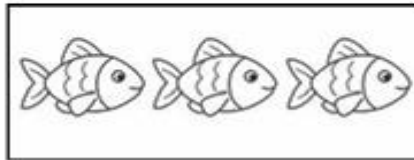



٣ صل، ثم ضع علامة ✓ أسفل المجموعتين المتكافئتين.



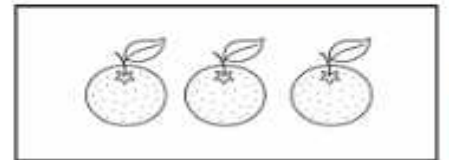
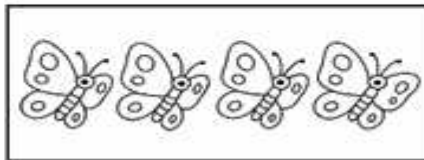

٢ لَوْنُ عُنْصُرًا وَاحِدًا فِي كُلِّ مَجْمُوعَةٍ.

تَدْرِبْ



٢ لَوْنُ عُنْصُرَيْنِ اثْنَيْنِ فِي كُلِّ مَجْمُوعَةٍ.

تَدْرِبْ

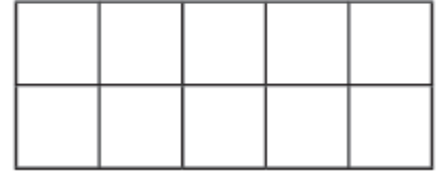


٢ لَوْنُ ٣

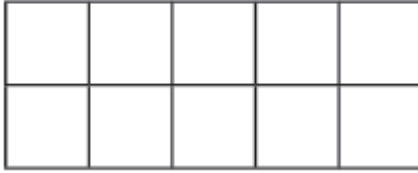
تَدْرِبْ



٤ لون ١ □ .




٤ لون ٢ □ .

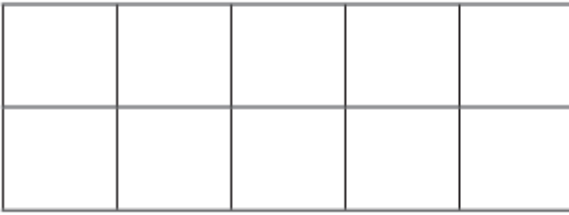


موقع
المناهج الكويتية
almanahj.com/kw

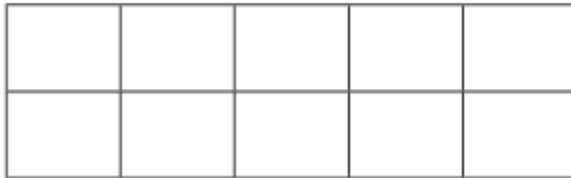
٥ لون ٣ □ .



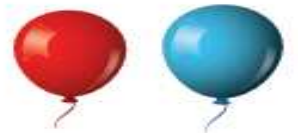
٣ لون ٤ □ .



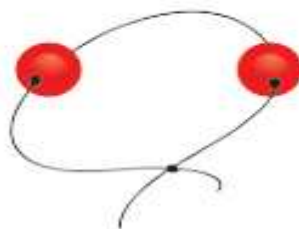

٣ لون ٥ □ :



٣ حوِّطِ المَجْموعَةَ الَّتِي تَحْوِي عُنْصُرًا وَاحِدًا.



٣ حوِّطِ السَّوَارَ الَّذِي يَحْتَوِي عَلَى خَرَزَتَيْنِ (٢ خَرَزًا).



٣ حَوْطِ الْغُصْنِ الَّذِي يَقِفُ عَلَيْهِ ٣ طُيُورٍ .



٣ حَوْطِ الطَّبَقِ الَّذِي يَحْتَوِي عَلَى ٤ جَزَارَاتٍ .

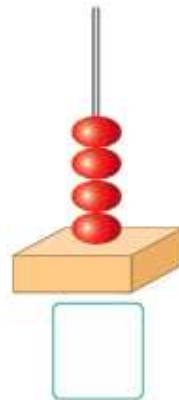
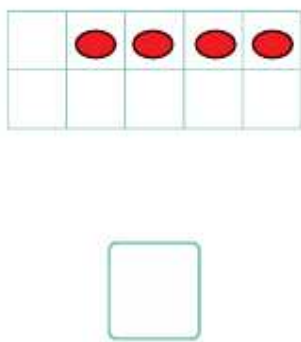
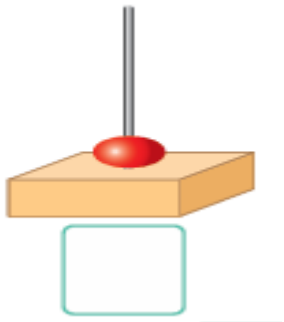
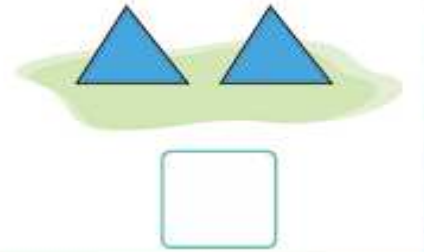


موقع
المناهج الكويتية
www.kw.com


٣ تَدْرِبْ اَكْتُبْ عَدَدَ عَنَاصِرِ كُلِّ مَجْمُوعَةٍ، ثُمَّ حَوْطِ الْمَجْمُوعَةَ الْأَكْثَرَ .



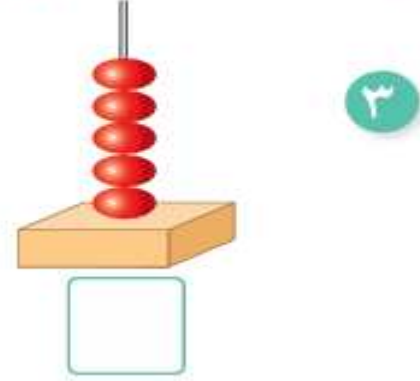
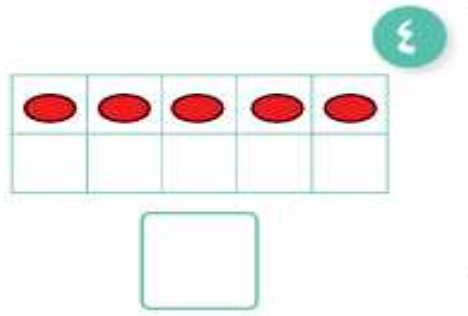
٣ تَدْرِبْ اَكْتُبْ عَدَدَ عَنَاصِرِ كُلِّ مَجْمُوعَةٍ، ثُمَّ حَوْطِ الْمَجْمُوعَةَ الْأَكْثَرَ .



٤ عِدِّ اَكْتُبْ رَمَزَ الْعَدَدِ .



عَدِّ. اَكْتُبْ رَمَزَ الْعَدَدِ.



موقع
المنهج الكويتية
almanahj.com/kw

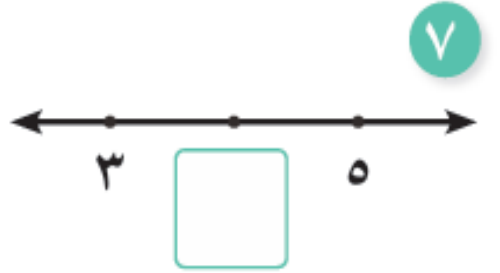
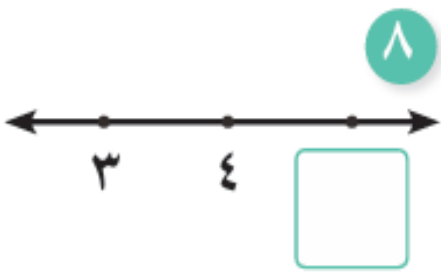
3 اكتب رمز العدد الناقص.



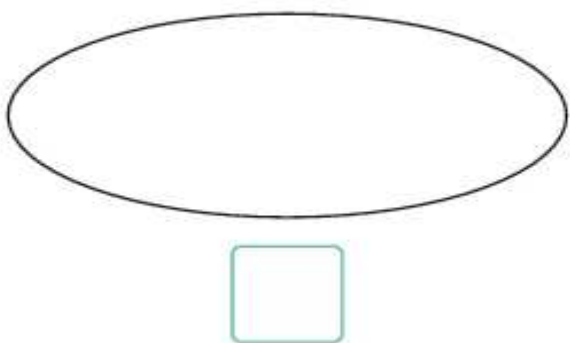
5 حدّد موقع العدد 3 على خطّ الأعداد.



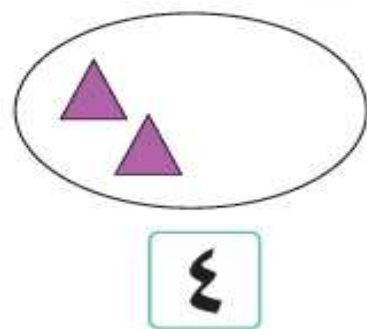
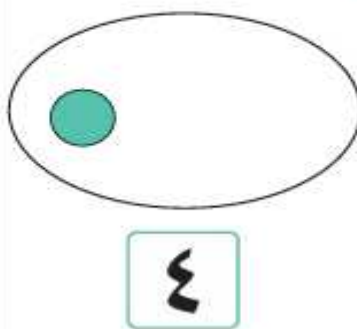
أكمل.



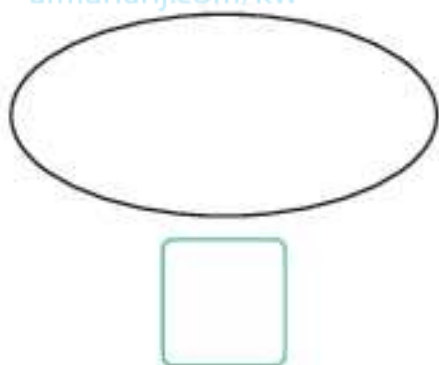
٦ ارسم أربعة عناصر. اكتب رمز العدد.



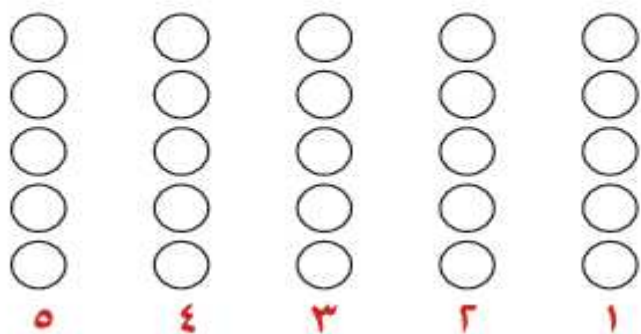
٥ أكمل رسم العناصر حسب العدد.



٦ ارسم ثلاثة عناصر. اكتب رمز العدد.

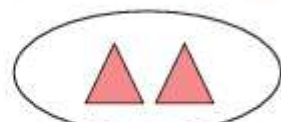


١٠ لون حسب العدد.


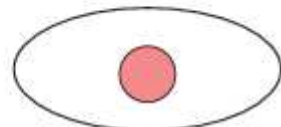


٦ صل رمز العدد بالمجموعة المناسبة

١




٢



٣

٧ حوِّط حسب العدد.



٦

الأختبار التقويمي الأول
للصف الأول

الأسم :

الصف :

١ لونَ التي تقع بين باللون .




لونَ التي تقع بين باللون .



موقع
المنهج الكويتية
almanahj.com/kw

٣ اتبع النمط . حوِّط ما يأتي لإكمال النمط .



٦



٥



٤ اكتب رمز العدد .



٤



حوِّط رمز العدد المناسب لكل مجموعة .



٩

٥ ٤ ٣



٨

٥ ٤ ٣



٧

٥ ٤ ٣

١٠ صل كل مجموعة برمز العدد المناسب.

١

٢

٣

٤



المناهج الكويتية
almanafj.com/kw

١١ اكتب عدد الأشياء مستعيناً بالصورة.

العدد	الأشياء

