

تم تحميل هذا الملف من موقع المناهج الكويتية



مدرسة التميز النموذجية

الملف أوراق عمل على البيئات والحواس والسلوكيات الصحية

موقع المناهج ⇌ ملفات الكويت التعليمية ⇌ الصف الأول ⇌ علوم ⇌ الفصل الأول

روابط مواقع التواصل الاجتماعي بحسب الصف الأول



روابط مواد الصف الأول على تلغرام

[الرياضيات](#)

[اللغة الانجليزية](#)

[اللغة العربية](#)

[التربية الاسلامية](#)

المزيد من الملفات بحسب الصف الأول والمادة علوم في الفصل الأول

<a href="#">أوراق عمل في مادة العلوم</a>	1
<a href="#">أوراق عمل مجمعة في مادة العلوم</a>	2
<a href="#">الطرق الآمنة للتعامل مع الماء في مادة العلوم</a>	3
<a href="#">دورة حياة النبات الزهري في مادة العلوم</a>	4
<a href="#">مخططات وتشجيريات مهمة في مادة العلوم</a>	5

الاسم / ..... الفصل 1 / .....

السؤال الأول : اختر الإجابة الصحيحة بوضع علامة ( ✓ ) أمام المربع المقابل لها فيما يلي :

1- حيوان يعيش في الصحراء:


☐

☐

☐

☐

2- من الأطعمة المحفوظة:


☐

☐

☐

☐

3- أحد الأشياء التالية يضر بحاسة السمع:


☐

☐

☐

☐

4- أحد الأطعمة التالية غير صالحة للتناول :


☐

☐

☐

☐

السؤال الثاني: اكتب علامة ( ✓ ) أمام العبارة الصحيحة وعلامة ( x ) أمام العبارة غير الصحيحة :

- 1- لكل حاسة عضو خاص بها ( )
- 2- النباتات في الصحراء كثيرة ( )
- 3- الدب يعيش في البيئة القطبية ( )
- 4- التلوث يضر الانسان والحيوان ( )

السؤال الثالث : صنف السلوكيات الاتية :

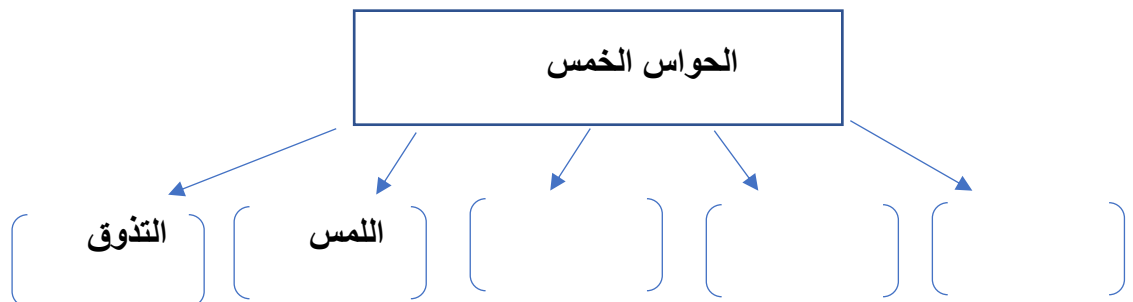


سلوكيات سليمة	سلوكيات غير سليمة

السؤال الرابع: وصل الصورة بعضو الحس :




السؤال الخامس : أكمل المخطط مستخدماً الحواس الاتية :  
( 1- البصر - 2-السمع - 3- الشم )



الاسم / ..... الفصل 1 / .....

السؤال الأول : اختر الإجابة الصحيحة بوضع علامة ( ✓ ) أمام المربع المقابل لها فيما يلي :

1- حيوان يعيش في الصحراء:



2- من الأطعمة المحفوظة:



3- أحد الأشياء التالية يضر بحاسة السمع:



4- أحد الأطعمة التالية غير صالحة للتناول :



السؤال الثاني: اكتب علامة ( ✓ ) أمام العبارة الصحيحة وعلامة ( x ) أمام العبارة غير الصحيحة :

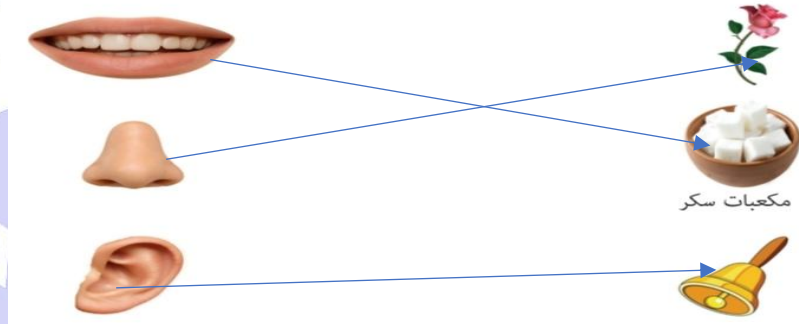
- 1- لكل حاسة عضو خاص بها ( صح )
- 2- النباتات في الصحراء كثيرة ( خطأ )
- 3- الدب يعيش في البيئة القطبية ( صح )
- 4- التلوث يضر الانسان والحيوان ( صح )

السؤال الثالث : صنف السلوكيات الاتية :



سلوكيات سليمة	سلوكيات غير سليمة
1	2
3	4

السؤال الرابع: وصل الصورة بعضو الحس :



السؤال الخامس : أكمل المخطط مستخدماً الحواس الاتية :  
( 1- البصر - 2- السمع - 3- الشم )

