

تم تحميل هذا الملف من موقع المناهج الكويتية



الملف أوراق عمل للاختبار التقويمي الأول مع الإجابة النموذجية

موقع المناهج ⇌ ملفات الكويت التعليمية ⇌ الصف الأول ⇌ رياضيات ⇌ الفصل الثاني

روابط مواقع التواصل الاجتماعي بحسب الصف الأول



روابط مواد الصف الأول على تلغرام

[الرياضيات](#)

[اللغة الانجليزية](#)

[اللغة العربية](#)

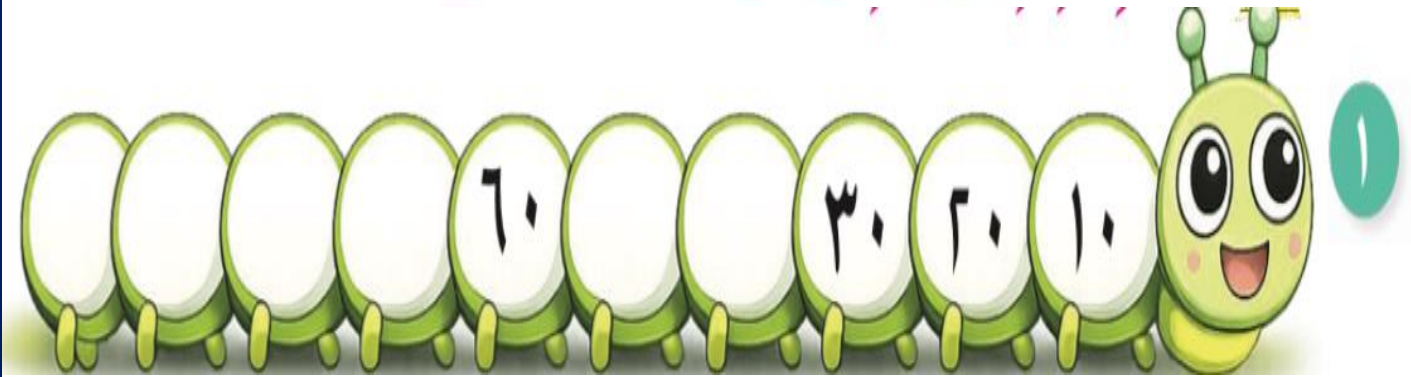
[التربية الاسلامية](#)

المزيد من الملفات بحسب الصف الأول والمادة رياضيات في الفصل الثاني

نموذج أول من وسائل من الوحدة 11	1
مذكرة الوحدة السابعة	2
توزيع مقترح لمنهج الرياضيات	3
لوراق عمل	4
نموذج اختبار أول	5





السؤال الأول: أكمل سلسلة الأعداد.



السؤال الثاني: اكتب رمز العلاقة المناسب (< أو > أو =).



السؤال الأول: اكتب رمز العدد .





السؤال الثاني:

١ حوِّط الوعاء الذي يضمُّ أكثر من ٢٠ خرزة ملونة.

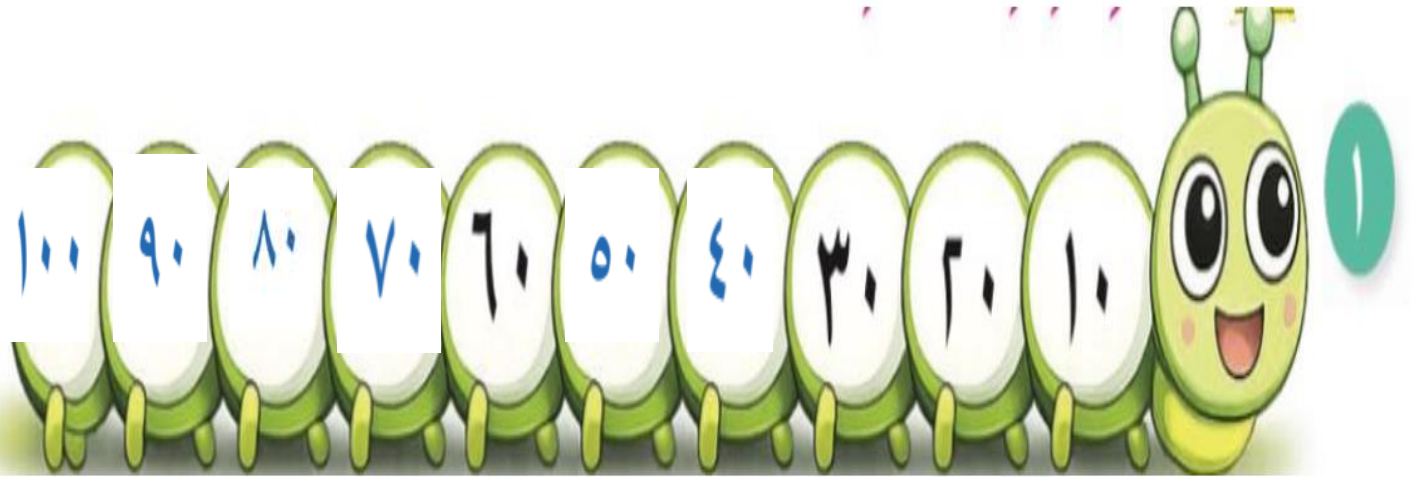


٢ حوِّط رمز العدد المناسب.




٩٠	٨١	١٨
----	----	----

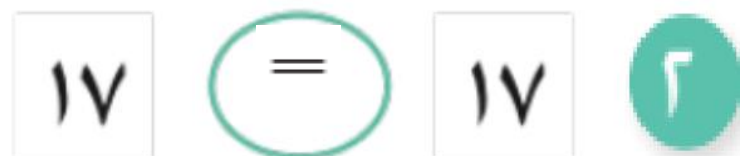
السؤال الأول: أكمل سلسلة الأعداد.



السؤال الثاني: اكتب رمز العلاقة المناسب (< أو > أو =).



مدرسة التميز النموذجية



السؤال الأول: اكتب رمز العدد .



١٠٠

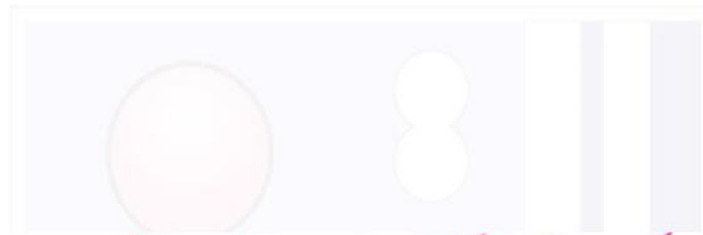


٩٠



٧٠


السؤال الثاني:



١ حوِّط الوعاء الذي يضمُّ أكثر من ٢٠ خرزة ملونة.



٢ حوِّط رمز العدد المناسب. وذجية



٩٠

٨١

١٨