

## نماذج امتحانات سابقة



### تم تحميل هذا الملف من موقع مناهج مملكة البحرين

موقع المناهج ← مناهج مملكة البحرين ← الصف التاسع ← المواد الاجتماعية ← الفصل الثاني ← ملفات متنوعة ← الملف

تاريخ إضافة الملف على موقع المناهج: 01:22:21 2025-05-13

ملفات اكتب للمعلم اكتب للطالب | اختبارات الكترونية | اختبارات | حلول | عروض بوربوينت | أوراق عمل  
منهج انجليزي | ملخصات وتقارير | مذكرات وبنوك | الامتحان النهائي | للمدرس

المزيد من مادة  
المواد  
الاجتماعية:

### التواصل الاجتماعي بحسب الصف التاسع



صفحة مناهج مملكة  
البحرين على  
فيسبوك

الرياضيات

اللغة الانجليزية

اللغة العربية

التربية الاسلامية

المواد على تلغرام

### المزيد من الملفات بحسب الصف التاسع والمادة المواد الاجتماعية في الفصل الثاني

أسئلة امتحان نهاية الفصل الثاني

1

نماذج امتحانات نهاية الفصل الثاني

2

نماذج لأسئلة امتحانية سابقة

3

مذكرة الاجتماعيات نهاية الفصل الثاني

4

أسئلة امتحان نهاية الفصل الثاني

5



KINGDOM OF BAHRAIN

Ministry of Education

Directorate School Operation Region (1)

Al Duraz Intermediate Girls School



مملكة البحرين  
وزارة التربية والتعليم  
إدارة العمليات التعليمية المنطقة (١)  
مدرسة الدُرَّازُ الإعدادية للبنات



رؤيتنا: نتميز علمًا.. نبدع عملًا.. نبني وطنًا

# نماذج امتحانات سابقة لمادة الاجتماعيات للمصف الثالث الإعدادي 2023-2024م

إعداد : معصومة النينون

أمينة القطيري





لا يزرع الله فيك

رغبة الوصول للأمر معي

إلا لأنه يعلم أنك قادر

@enbat1437

## القسم الأول: تاريخ

### السؤال الأول:

أولاً- ضع دائرة حول الحرف الدال على الإجابة الصحيحة من بين البدائل الآتية:

1- تمكن العالم الألماني غوتنبرغ في عام 1448م من اختراع:

- أ- الهاتف.      ب- آلة الطباعة.      ج- المحرك البخاري.      د- التللكس.

2- حدثت حرب السبع سنوات (1756 - 1763م) بين:

- أ- بريطانيا وفرنسا.      ب- ألمانيا وإيطاليا.      ج- بريطانيا وروسيا.      د- هولندا والبرتغال.

3- تقوم التجارة المثلثة على شراء الرقيق من أفريقيا ونقلهم للعمل في مزارع ومناجم:

- أ- أستراليا.      ب- أوروبا.      ج- أمريكا.      د- آسيا.

4- سيطر البرتغاليون على البحرين في مطلع القرن 16 م مستغلين عنف الصراع بين الدولتين:

- أ- البريطانية والعثمانية.      ب- العثمانية والصفوية.      ج- الهولندية والبريطانية.      د- الصفوية والفرنسية.

5- الأسرة التي كانت تحكم قطر قبل قدوم آل ثاني إليها في أوائل القرن 18 م هي:

- أ- آل الصباح.      ب- آل سعود.      ج- آل خليفة.      د- آل نهيان.

6- شهد عهد حاكم البحرين الشيخ عيسى بن علي آل خليفة سنة 1919 م :

- أ- اكتشاف النفط      ب- افتتاح مطار البحرين.      ج- إنشاء مدينة عيسى.      د- نشأة التعليم النظامي.



## اختاري الإجابة الصحيحة مما يلي :

. العالم الألماني الذي اخترع الطباعة عام 1448م :

- أ. غوتنبرغ      ب. شكسبير      ج. كوبرنيكوس

. نشطت في حركة الترجمة في أوروبا جامعات :

- أ. فرنسية و بريطانية      ب. إسبانية و إيطالية      ج. ألمانية و روسية

. منح الشركات البريطانية و الأمريكية امتياز التنقيب عن النفط في الكويت :

- أ. السلطان سعيد بن تيمور      ب. الشيخ عبدالله السالم الصباح      ج. الشيخ أحمد الجابر الصباح

. أكد أن الأرض كوكب ضمن المجموعة الشمسية :

- أ. كوبرنيكوس      ب. مايكل أنجلو      ج. جون كلفن

. من العوامل المساعدة على النهضة الأوروبية ازدهار المدن :

- أ. الفرنسية      ب. الإيطالية      ج. الهولندية

. خسرت روسيا مساحات شاسعة من أراضيها نتيجة معاهدة :

- أ . ميونيخ      ب. برست ليتوفسك      ج. فرساي

. من المشاكل التي عانت منها إيطاليا بعد الحرب العالمية الأولى :

- أ. لم تحصل على مستعمرات كانت تريدها      ب. رفض معاهدة فرساي      ج. خسرت مساحات من أراضيها

. الدولة الأوروبية التي بدأت فيها النهضة الأوروبية :

- أ . بلجيكا      ب. فرنسا      ج. إيطاليا

. انطلقت الأزمة الاقتصادية العالمية من :

- أ . فرنسا      ب. إيطاليا      ج. الولايات المتحدة الأمريكية

. المؤتمر الذي استطاع هتلر فيه حمل فرنسا و بريطانيا على الاعتراف بحقه في ضم النمسا و السويد عام 1939 م :

- . مؤتمر الصلح      ب. مؤتمر ميونيخ      ج. مؤتمر باريس

## اختاري الإجابة الصحيحة مما يلي :

. حدثت أزمة فاشودا ( جنوب السودان ) بين :

أ. فرنسا و بريطانيا  
ب. بريطانيا وألمانيا  
ج. أمريكا وبلجيكا

. من العوامل المساعدة على الاستعمار العامل الديمغرافي والاجتماعي و يتمثل في :

أ. إنتاج الأسلحة النارية  
ب. أزمة المغرب  
ج. توطين الفائض السكاني

. في أواخر القرن التاسع عشر تحررت معظم أراضي البلقان من السيطرة :

أ. العثمانية  
ب. البريطانية  
ج. الصفوية

. الدولة التي انسحبت من الحرب العالمية الأولى عام 1917 م بسبب قيام الثورة الشيوعية فيها :

أ. فرنسا  
ب. روسيا  
ج. بريطانيا

. نتج ازدهار المدن الإيطالية عن حركة التجارة في البحر :

أ. المتوسط  
ب. الأحمر  
ج. الأسود



## اختاري الإجابة الصحيحة مما يلي :

. تزعم حركة إصلاح ديني نشأ عنها المذهب البروتستانتى :

- أ . جون كلفن      ب. مارتن لوثر      ج. توماس مور

. الدولتان الأوروبيتان اللتان بدأتا حركة الكشف الجغرافية :

- أ. البرتغال و أسبانيا      ب. فرنسا وألمانيا      ج. بلجيكا وبريطانيا

. أدت حرب السبع سنوات بين فرنسا وبريطانيا إلى إبرام معاهدة :

- أ . بريست ليتوفسك      ب. فرساي      ج. باريس

. بدأت الثورة الصناعية في :

- أ . فرنسا      ب. بريطانيا      ج. أمريكا  
. من الأسر الثرية والمثقة التي كان لها دور كبير في عصر النهضة في إيطاليا أسرة :

- أ . ألبيتسي      ب. مديتشي      ج. لورين

. من المدن الإيطالية التي برزت في عصر النهضة الأوروبية :

- أ . لندن      ب. برلين      ج. فلورنسا



مَنْ جَدَّ وَجَدَ  
وَمَنْ زَرَعَ حَصَدَ  
وَمَنْ سَارَ عَلَى الدَّرَبِ  
وَصَلَ

. المعركة التي أدت لهزيمة ألمانيا و نهاية الحرب العالمية الأولى :  
أ . معركة فردان      ب. معركة المارن الثانية      ج. معركة المارن الأولى

. من نتائج الحرب العالمية الأولى :  
أ . قيام عصبة الأمم      ب. ظهور عملاقين جديدين      ج. إنشاء منظمة الأمم المتحدة

. من نتائج اتفاقية سايكس بيكو عام 1916 م :  
أ . وضع فلسطين تحت الانتداب البريطاني      ب. أقيمت في فلسطين منطقة دولية      ج. إنشاء منظمة الأمم المتحدة

. انتصر على يوسف العظمة في معركة ميسلون قرب دمشق :  
أ . الجنرال اللنبي      ب. الجنرال ديغول      ج. الجنرال غورو

. الدولة التي انسحبت من الحرب العالمية الأولى عام 1917 م بسبب قيام الثورة الشيوعية فيها :  
أ . فرنسا      ب. روسيا      ج. بريطانيا

السؤال الأول:

أولاً- ضع دائرة حول الحرف الدال على الإجابة الصحيحة من بين البدائل الآتية:

1- أعلن الجنرال كاترو ممثل حكومة فرنسا الحرة في القاهرة إلغاء الانتداب على:

- أ- العراق والأردن.      ب- فلسطين ومصر.      ج- سوريا ولبنان.      د- تونس والجزائر.

4- نزحت أسرة آل الصباح من نجد إلى الكويت في أواسط القرن الميلادي:

- أ- السادس عشر.      ب- السابع عشر.      ج- الثامن عشر.      د- التاسع عشر.

6- شهد عهد حاكم البحرين الشيخ عيسى بن علي آل خليفة سنة 1919م:

- أ- اكتشاف النفط.      ب- افتتاح مطار البحرين.      ج- إنشاء مدينة عيسى.      د- نشأة التعليم النظامي.

6- المجلة التي صدرت في فترة الأربعينات في البحرين ونادت بوضع حدٍّ للنفوذ البريطاني هي:

- أ- صوت البحرين.      ب- الحرية.      ج- الوثيقة.      د- صدی البحرين.

1- الدولتان اللتان أعلنتا الحرب على ألمانيا سنة 1939م هما:  
أ- فرنسا وهولندا. ب- الدنمارك والنرويج. ج- بريطانيا وفرنسا. د- إسبانيا وبريطانيا.

2- الحزب الذي أنشأه قائد الحركة الوطنية المصرية سعد زغلول يُسمى:  
أ- الاستقلال. ب- الوفد. ج- بغداد. د- الحرية.

5- بعد إعلان بيان 14 أغسطس 1971م اتخذ حاكم البحرين لقب:  
أ- أمير. ب- ملك. ج- رئيس. د- سلطان.

6- منذ القرن 19م تعرضت البحرين كغيرها من الكيانات السياسية في الخليج العربي لمحاولات التدخل:  
أ- الفرنسي. ب- البرتغالي. ج- الهولندي. د- البريطاني.

7- لم يستقر النفوذ البرتغالي في منطقة الخليج العربي بسبب:  
أ- التحالف العثماني الإنجليزي. ب- امتلاك آل خليفة قوة بحرية. ج- مقاومة السكان المحليين. د- سيطرة البرتغال على عدن.

٢- الجنرال الفرنسي الذي رفض الاستسلام للألمان وأعلن قيام حكومة فرنسا الحرة في بريطانيا هو:

- أ- كاترو.      ب- هتلر.      ج- ديغول.      د- مكماهون.

٤- الأسرة التي حكمت قطر سنة ١٨٥١ م قبل قدوم آل ثاني إليها هي أسرة:

- أ- آل سعود.      ب- آل الصباح.      ج- آل خليفة.      د- آل نهيان.

٥- الشيخ الذي نقل مركز حكمه نهائيا من الزيارة إلى البحرين، هو:

- أ- سلمان بن أحمد.      ب- محمد بن خليفة.      ج- عيسى بن علي.      د- أحمد الفاتح.

٦- عدم استقرار الأوضاع السياسية في كل من فرنسا وبريطانيا بين ١٩٣١ و ١٩٣٨ بسبب:

- أ- توسع هتلر في أجزاء من أراضيها  
ب- هزيمتهما في الحرب العالمية الأولى

- ج- نشوب حرب باردة بينهما  
د- صراع أحزاب اليمين واليسار فيهما

٧- دولة أوروبية انتدبتها عصبة الأمم على سوريا ولبنان هي:

- أ- فرنسا.      ب- إيطاليا.      ج- إسبانيا.      د- بريطانيا.

١- أدت الحرب العالمية الثانية إلى تأسيس منظمة:

- أ- التعاون الإسلامي. ب- عصبة الأمم. ج- الاتحاد الأوروبي. د- الأمم المتحدة.

٢- بلغت المقاومة الليبية ذروتها سنة ١٩٢٢م بقيادة المجاهد عمر المختار ضد الاحتلال:

- أ- الفرنسي. ب- البريطاني. ج- الإيطالي. د- الإسباني.

٤- الإمارة التي التحقت باتحاد الإمارات العربية في فبراير ١٩٧٢م هي:

- أ- الشارقة. ب- رأس الخيمة. ج- عجمان. د- الفجيرة.

٥- دعت الحركة الوطنية البحرينية في فترة الخمسينات إلى الحدّ من تدخل المستشار البريطاني:

- أ- ديلي. ب- فيليب بلانت. ج- كويكادري. د- بيلغريف.

٦- من النتائج المترتبة على بيان ١٤ أغسطس ١٩٧١م، اتخاذ حاكم الشيخ عيسى بن سلمان آل خليفة لقب:

- أ- رئيس. ب- ملك. ج- سلطان. د- أمير.

1- رفض الشعب الألماني خضوع بلاده لمعاهدة:

د- برست ليتوفسك

ج- الحلف الفولاذي

ب - عدم اعتداء

أ- فرساي

2- الشيخ الذي نقل مركز حكمه نهائيا من الزبارة إلى البحرين هو:

ج- خليفة بن محمد د- عبدالله بن محمد

ب - سلمان بن أحمد

أ- أحمد الفاتح

3- سحق الجيش الأحمر السوفيتي الألمان عام 1943 في معركة:

د- ستالينغراد

ج- فردان

ب - المارن

أ- العلمين

4- بلغت المقاومة الليبية ذروتها سنة 1922م بقيادة المجاهد:

د- صالح بن يوسف

ج- عمر المختار

ب - الحبيب بورقيبة

أ - محمد السنوسي

## 1- من نتائج الحرب العالمية الثانية:

- أ- إنشاء عصبة الأمم.      ب- انتصار دول المحور.      ج- تراجع سيطرة أوروبا.      د- عقد معاهدة فرساي.

## 2- الحاكم الذي اختاره الليبيون ملكا على ليبيا سنة 1951م هو:

- أ- محمد المنصف.      ب- محمد السنوسي.      ج- محمد الخامس.      د- عمر المختار.

## 4- الأسرة التي كانت تحكم قطر قبل قدوم آل ثاني إليها في أوائل القرن 18م هي:

- أ- آل الصباح.      ب- آل سعود.      ج- آل نهيان.      د- آل خليفة.

## 5- سيطر البرتغاليون على البحرين في مطلع القرن 16م مستغلين عنف الصراع بين الدولتين:

- أ- البريطانية والعثمانية.      ب- العثمانية والصفوية.      ج- الهولندية والبريطانية.      د- الصفوية والعمانية.

ثالثاً- ضع علامة (✓) يمين العبارات الصحيحة وعلامة (x) يمين العبارات الخاطئة:

- 1- ( ✓ ) أعلن الجنرال ديغول قيام حكومة فرنسا الحرّة في المنفى بعد الاحتلال الألماني لفرنسا سنة 1940م.
- 2- ( ✗ ) مارس الاستعمار الإيطالي في تونس أعنف الأساليب من أجل إحكام سيطرته على البلاد.
- 3- ( ✓ ) عقدت بريطانيا في القرن 18م معاهدات تحالف مع مشايخ الخليج العربي بهدف تأمين طريق الهند.
- 4- ( ✗ ) نقل الشيخ أحمد الفاتح مركز حكمه نهائياً من الزبارة إلى البحرين سنة 1797م.
- 5- ( ✓ ) تضمن بيان 14 أغسطس 1971م حق انضمام البحرين إلى المنظمات الإقليمية والدولية.
- 6- ( ✓ ) مارست مملكة البحرين دوراً فاعلاً في مجال السياسة الدولية.

ثانياً- ضع علامة ( ✓ ) يمين العبارات الصحيحة وعلامة ( x ) يمين العبارات الخاطئة:

1- ( ✓ ) تحالف العراقيون مع الألمان خلال الحرب العالمية الثانية؛ بهدف التخلص من الحماية البريطانية.

4- ( ✕ ) منذ سنة 2006م تولى الشيخ صباح بن جابر الحكم في دولة الكويت.

5- ( ✓ ) ينتسب آل خليفة إلى قبيلة عنزة العربية الشهيرة التي اتخذت من نجد موطناً لها.

6- ( ✓ ) انضمت مملكة البحرين إلى منظمة الأمم المتحدة سنة 1971م.

سأنجح  
سأحقق الأهداف  
سأستثمر رأسي  
سأتحدي ذاتي  
سأفكر  
سأؤتي

ثانيًا- ضع علامة ( ✓ ) أمام العبارة الصحيحة وعلامة ( x ) أمام العبارة الخاطئة فيما يلي:

- 1- شهد القرن 19م هجمة استعمارية شرسة على الوطن العربي . ( ✓ )
- 2- بلغت حركة الاستعمار الأوروبي ذروتها مع قيام الثورة الصناعية في القرن العشرين الميلادي. ( ✗ )
- 3- ينتسب آل خليفة إلى قبيلة عنزة العربية الشهيرة التي اتخذت من نجد موطنًا لها. ( ✓ )
- 4- نُصب فيصل بن الحسين في العام 1921 م ملكًا على مصر. ( ✗ )

1



- 5- الحاكم الذي اختاره الليبيون ملكًا على ليبيا سنة 1951م هو علال الفاسي. ( ✗ )
- 6- تحالف العراقيون مع الألمان خلال الحرب العالمية الثانية؛ بهدف التخلص من الحماية البريطانية. ( ✓ )
- 7- أنشأ قائد الحركة الوطنية جمال عبد الناصر حزب الوفد. ( ✗ )
- 8 - عُرفت الإمارات العربية المتحدة خلال القرن التاسع عشر الميلادي باسم الساحل المتصالح. ( ✓ )

ثانياً صحّح ما تحته خط في كل عبارة من العبارات الآتية، واكتب الإجابة الصحيحة في السطر الذي يليها:

1- قامت الحرب العالمية الثانية بسبب اجتياح الجيوش الإيطالية أراضي بولندا.

1- الألمانية

2- بدأت الثورة الصناعية في أواخر القرن التاسع عشر في بريطانيا.

2- الثامن عشر

3- أصبحت المقاومة الليبية للاستعمار الفرنسي في ذروتها عندما تسلم رايتها عمر المختار.

3- الإيطالي

4- توالى على حكم البحرين من القرن 16-18م عائلات عربية أهمها آل الصباح.

4- الجور وآل مذكور

5- رئيس بعثة تقصي الحقائق الذي أرسلته الأمم المتحدة للبحرين سنة 1970م هو بان كي مون.

5- كويكاري

6- برزت في المرحلة الثانية من الحرب العالمية الأولى ثورة الشريف حسين في الحجاز بدعم من فرنسا.

6- بريطانيا

ثانيا- صحّح ما تحته خط في كل عبارة من العبارات الآتية، واكتب الإجابة الصحيحة في السطر الذي يليه:

١- ظلّت مصر اسميا حتى نشوب الحرب العالمية الأولى ولاية فرنسية.

عثمانية

٤- خضع ساحل عُمان سنة ١٦١٥م للحكم البريطاني.

البرتغالي

٥- يرجع آل خليفة في نسبهم إلى العتوب من قبيلة الأزد.

عنزة

1- التفت دول العالم بعد نهاية الحرب العالمية الثانية حول الولايات المتحدة الأمريكية وفرنسا. (الاتحاد السوفيتي)

3- أعلن بيان 14 أغسطس 1971 في البحرين الشيخ عيسى بن سلمان.

(خليفة بن سلمان)

4- اعترفت فرنسا وبريطانيا بحق ألمانيا في ضم النمسا والسويد في مؤتمر مالطة.

(ميونيخ.....)

**ثانياً- أكمل العبارات الآتية بما يناسب:**

1- أظهر المجاهد الليبي عمر المختار بطولة أسطورية في مقاومة الاستعمار ..... الإيطالي

3- قَدِم آل ثاني إلى قطر في أوائل القرن الثامن عشر الميلادي من إقليم ..... الوشم ..... في نجد.

4- الدولة الأوروبية التي أخضعت ساحل عُمان لحكمها في سنة 1615م هي ..... البرتغال

5- من أبرز أعمال الشيخ محمد بن خليفة بعد الهجرة إلى الزبارة سنة 1762م قيامه ببناء قلعة ..... مريـر

صنفي اسم الشخصيات التالية أمام الإنجاز الذي يناسبها :  
 مارتن لوثر- ليوناردو دافنشي - مكيفال - توماس مور - شكسبير - هنري الثامن -  
 كوبرنيكوس - جون كلفن

كوبرنيكوس	أكد أن الأرض كوكب ضمن المجموعة الشمسية
توماس مور	كتب كتاب يوتوبيا
شكسبير	تميز في مجال المسرح
مارتن لوثر	ترزع حركة إصلاح ديني نشأ عنها المذهب البروتستانتى
ليوناردو دافنشي	برع في تصميم القصور و الكنائس و تزيينها
هنري الثامن	انفصل عن كنيسة روما و أنشأ الكنيسة الأنغليكانية
مكيفال	ألف كتاب (( الأمير )) في علم السياسة
جون كلفن	نشر المذهب البروتستانتى في فرنسا

## السؤال الثاني:

### أولاً- علل ما يأتي:

1- اندلاع الحرب العالمية الأولى (1914-1918م).

- التنافس الاستعماري.
  - الصراع الفرنسي - الألماني.
  - صراع القوميات.
  - السبب المباشر اغتيال طالب صربي ولي عهد النمسا فرنسوا فرديناند وزوجته في سراييفو.
- 2- شهدت الحركة الوطنية انتعاشة قوية ضد النفوذ البريطاني في فترة الثلاثينات والأربعينات.

- اكتشاف النفط.
  - الأزمة الاقتصادية العالمية 1929م.
  - ظهور فئات اجتماعية جديدة مثل العمال والطلاب.
- 3- يُعتبر العامل الديموغرافي والاجتماعي من أسباب حركة الاستعمار الأوروبي في القرن التاسع عشر.

- لتوطين الفائض السكاني في الدول المستعمرة.
- حل مشكلة البطالة التي احدثت بفعل الأزمة الاقتصادية.

أولاً- علل ما يأتي:

1- قتال الليبيين إلى جانب الحلفاء خلال الحرب العالمية الثانية.

• ....  
رغبة في التخلص من الاستعمار الإيطالي والحصول على الاستقلال

3- خضوع ساحل عُمان للحكم البرتغالي سنة 1615م.

• ....  
بسبب كونه أهم نقطة استراتيجية على مدخل الخليج العربي

3- اذكر البنود التي نصّت عليها المعاهدة البريطانية المصرية سنة ١٩٣٦م.

• ....  
- انسحاب الجيش البريطاني إلى منطقة قناة السويس

• ....  
- وضع أمر حماية الأجانب في مصر على عاتق الحكومة المصرية

#### 4- اتجاه البحرين نحو بناء دولة حديثة منذ ثلاثينات القرن العشرين.) يكتفى بأربع نقاط ( 4 علامات لكل نقطة علامة

- النهضة الحديثة التي شهدتها المجتمع البحريني، إذ نشأت أولى المدارس في 1919م، فارتفع عدد الطلاب.
- اكتشاف النفط في البحرين أدى إلى نشأة فئة عمالية.
- انتشار المذياع ونشأة الصحافة.
- ازدياد نشاط الحركة التجارية، واستقرار فئات متزايدة في المدن. ● تأسس عدد من الأندية الأدبية والرياضية والنسائية.
- مشاركة البحرين في بعض لجان جامعة الدول العربية. ● استضافة البحرين العديد من المؤتمرات العربية والعالمية.
- مصادقة مجلس الأمن سنة 1970م على تقرير البعثة الدولية لتقصي الحقائق الذي جاء فيه أن جميع البحرينيين يتطلعون إلى البقاء في دولة عربية مستقلة.

ثانياً- وضّح ما يأتي:

#### 1- بين اثنتين من ردود الفعل الوطنية البحرينية للحد من النفوذ البريطاني في النصف الأول من القرن 20م.

- تمكن الوطنيين البحرينيين بقيادة عبد الوهاب الزياتي من إقناع حاكم البحرين بإنشاء مجلس تأسيسي يحدّ من النفوذ البريطاني.
- انعقاد مجلس وطني سنة 1923م.
- التوافق بين الحاكم والشعب مما أدى إلى إرغام بريطانيا على الاكتفاء بتعيين بيلغريف مستشاراً لدى حكومة البحرين.
- اتحاد الوطنيين البحرينيين سنة 1938م في المطالبة بالإصلاحات الإدارية والسياسية.
- صدور مجلة صوت البحرين في الأربعينات، وقد نادت هذه المجلة بوضع حدّ للنفوذ البحريني.
- أصبحت الحركة الوطنية في الخمسينات أكثر شعبية، فقد ركزت في نقد السياسة البريطانية ودعت للحدّ من تدخل بيلغريف في الاقتصاد والإدارة.

السؤال الثاني: 29 علامة موزعة كما يأتي:

12 علامة موزعة كما يأتي:

أولا - علل ما يأتي:

1- سميت الحرب العالمية الأولى بالحرب الكبرى.

(يُكتفى بنقطتين) (4 علامات لكل نقطة علامتان)

- مساحة رقعة عملياتها.
- نوعية الأسلحة المستعملة فيها.
- عدد القتلى والجرحى الذين سقطوا فيها

2- قيام النهضة في أوروبا.

(يُكتفى بنقطتين) (4 علامات لكل نقطة علامتان)

- ازدهار المدن الإيطالية.
- اختراع الطباعة.
- نشاط حركة الترجمة.

3- سيطرة بريطانيا على منطقة الخليج العربي وعقدها سلسلة من معاهدات التحالف مع مشايخها.

(يُكتفى بنقطتين) (4 علامات لكل نقطة علامتان)

- تأمين طريق الهند.
- السيطرة على الثروة النفطية في الخليج العربي بعد اكتشافها في القرن 20 م.
- السيطرة على تجارة الشرق (الموقع الاستراتيجي لمنطقة الخليج العربي)
- منع دول أوروبية منافسة لها مثل فرنسا وألمانيا وروسيا من التدخل في شؤون الخليج.

السؤال الثاني:

أولا – علل ما يأتي:

1- سميت الحرب العالمية الأولى بالحرب الكبرى.

(يُكتفى بنقطتين) (4 علامات لكل نقطة علامتان)

- مساحة رقعة عملياتها.
- نوعية الأسلحة المستعملة فيها.
- عدد القتلى والجرحى الذين سقطوا فيها

2- قيام النهضة في أوروبا.

(يُكتفى بنقطتين) (4 علامات لكل نقطة علامتان)

- ازدهار المدن الإيطالية.
- اختراع الطباعة.
- نشاط حركة الترجمة.

3- سيطرة بريطانيا على منطقة الخليج العربي وعقدها سلسلة من معاهدات التحالف مع مشايخها.

(يُكتفى بنقطتين) (4 علامات لكل نقطة علامتان)

- تأمين طريق الهند.
- السيطرة على الثروة النفطية في الخليج العربي بعد اكتشافها في القرن 20 م.
- السيطرة على تجارة الشرق (الموقع الاستراتيجي لمنطقة الخليج العربي)
- منع دول أوروبية منافسة لها مثل فرنسا وألمانيا وروسيا من التدخل في شؤون الخليج.

12 علامة موزعة كما يأتي:

ثانيا- أجب عن الأسئلة الآتية:

1- بين ردود الفعل الوطنية البحرينية للحد من النفوذ البريطاني في النصف الأول من القرن 20 م.

(يُكتفى بثلاث نقاط) (6علامات لكل نقطة علامتان)

- تمكن الوطنيين البحرينيين بقيادة عبدالوهاب الزباني من إقناع حاكم البحرين بإنشاء مجلس تأسيسي يحدّ من النفوذ البريطاني.
- انعقاد مجلس وطني سنة 1923م..
- التوافق بين الحاكم والشعب مما أدى إلى إرغام بريطانيا على الكفّاء بتعيين بيلغريف مستشارا لدى حكومة البحرين..
- اتحاد الوطنيين البحرينيين سنة 1938م في المطالبة بالإصالحات الإدارية والسياسية. .
- صدور مجلة صوت البحرين في الأربعينات، وقد نادت هذه المجلة بوضع حدّ للنفوذ البحريني.
- أصبحت الحركة الوطنية في الخمسينات أكثر شعبية، فقد ركزت في نقد السياسة البريطانية ودعت للحدّ من تدخل بيلغريف في الاقتصاد والإدارة.

2- اكتب نتائج الأزمة الاقتصادية 1929 م.

- تراجع القدرة الشرائية لدى المواطنين.
- إقفال العديد من المصانع
- تسريح العديد من العمال.
- كساد الإنتاج الزراعي.
- امتداد الأزمة إلى أوروبا نتيجة للعلاقات التجارية الوثيقة بينها وبين الولايات المتحدة الأمريكية.

أولاً - علل ما يأتي:

1- قيام الأزمة الاقتصادية عام 1929.

(يُكتفى بنقطتين)

- التضخم في الإنتاج الذي أدى إلى انهيار الأسعار.
- المضاربة في البورصة حيث تم بيع أسهم الشركات بأسعار تفوق قيمتها الحقيقية مما أنتج أزمة ثقة في الأسهم وسعى المساهمين إلى التخلص منها.
- ارتباط الاقتصاد العالمي برأس المال الأمريكي، الذي أدى لتفشي الأزمة في العالم.

2- قيام النهضة في أوروبا.

(يُكتفى بنقطتين)

- ازدهار المدن الإيطالية.
- اختراع الطباعة.
- نشاط حركة الترجمة.

3- عدم استقرار النفوذ البرتغالي في البحرين إبان القرن 16 م. (يُكتفى بنقطة واحدة).

- مقاومة السكان المحليين .
- منافسة قوى أجنبية متعددة لهم.

4- التفاف سكان مدينة الزيارة حول الشيخ محمد بن خليفة بعد هجرته إليها عام 1762م. (يُكتفى بثلاث نقاط)

- (1 ورعه. 2 رجاحة عقله. 3 تكريمه للعلماء والفقهاء. 4 قيامه ببناء المدارس والمساجد 5 بناءه لقلعة مريـر.

4- سعت بريطانيا إلى عقد سلسلة من معاهدات التحالف مع مشايخ الخليج العربي.

- لتأمين طريق الهند.
- السيطرة على تجارة الشرق (الموقع الاستراتيجي).
- السيطرة على الثروة النفطية.
- منع دول أوروبية منافسة من التدخل في شؤون الخليج.

ثانياً - أجب عن الأسئلة الآتية:

- 1- ما مظاهر النهضة الأوروبية في المجال العلمي.
  - أكد البولوني كوبرنيكوس أن الأرض كوكب ضمن المجموعة الشمسية.
  - وضع المخترعون تقنيات وأجهزة في الطب والملاحة والزراعة والفيزياء والبناء.
  - بدأت محاولات لمعرفة تركيب جسم الإنسان.

2- عدد ثلاثة أسباب للأزمة الاقتصادية العالمية 24/أكتوبر 1929م.

- التضخم في الإنتاج الذي أدى إلى انهيار الأسعار.
- المضاربة في البورصة.
- بيع أسهم الشركات بأسعار تفوق قيمتها الحقيقية.
- ارتباط الاقتصاد العالمي برأس المال الأمريكي.

3- وضح بنود المعاهدة التي وقعتها بريطانيا مع الشيخ عبد الله بن قاسم في قطر سنة 1916م

- جعلته تحت الحماية البريطانية.
- حصلت منه على امتياز التنقيب عن النفط في عام 1926م.

4- أهم مضامين بيان 14 أغسطس 1971م الذي أعلنه الشيخ خليفة بن سلمان نيابة عن أخيه الشيخ عيسى بن سلمان آل خليفة.

- انتهاء جميع المعاهدات مع بريطانيا.
- سيادة حكومة البحرين على كامل مجالها.
- حق الانضمام إلى المنظمات الإقليمية والدولية.

## ثانيا- وضح ما يأتي:


1- ثلاثة من الانتصارات التي حققها الحلفاء على المحور خلال الفترة (1942-1945م) من الحرب العالمية الثانية.

- انتصرت الولايات المتحدة على اليابان في المحيط الهادي
- انتصر الانجليز على الألمان في معركة العلمين
- انتصر الإتحاد السوفيتي على ألمانيا في معركة ستالينغراد
- انتصار جيوش الحلفاء على إيطاليا وإسقاط النظام الفاشي
- ألقت أمريكا قنبلتين ذريتين على هيروشيما وناجازاكي مما أدى لاستسلام اليابان

2- ما النتائج التي ترتبت عن:

- بيان 14 أغسطس 1971 في البحرين.

- إنهاء جميع المعاهدات مع بريطانيا
- سيادة حكومة البحرين على كامل مجالها
- حق الانضمام إلى المنظمات الإقليمية والدولية



مَنْ جَدَّ وَجَدَ  
وَمَنْ زَرَعَ حَصَدَ  
وَمَنْ سَارَ عَلَى الدَّرَبِ  
وَصَلَ

## ثانياً- وضح ما يأتي:

1- ثلاثة من الانتصارات التي حققها الحلفاء على المحور خلال الفترة (1942-1945م) من الحرب العالمية الثانية.

- تمكن الأمريكيون من هزيمة اليابانيين في المحيط الهادئ.
- انتصار الإنجليز على الألمان في معركة العلمين على الجبهة الأفريقية.
- سحق الجيش الأحمر السوفييتي الألمان في معركة ستالينغراد.
- اجتاحت الجيش السوفييتي أوروبا الوسطى متقدماً نحو برلين.
- إنزال الحلفاء الغربيون قواتهم في إيطاليا فسقط النظام الفاشي فيها.
- نزلت جيوش الحلفاء في النورماندي وحرروا فرنسا من الاحتلال الألماني.
- التقى الجيشان السوفييتي والأمريكي في قلب ألمانيا فانتحر هتلر واستسلمت ألمانيا.
- ألقى الأمريكيون قنبلتين ذريتين على هيروشيما وناكازاكي فاستسلمت اليابان.

3- أهم إنجازات الشيخ عبدالله السالم الصباح بعد توليه حكم دولة الكويت. (يكتفى بثلاث نقاط/ 3 علامات لكل نقطة علامة)

- \* طالب بريطانيا بالاستقلال وفعلاً استقلت عام 1961م.
- \* ألغى المحاكم الأجنبية في الكويت.
- \* أصدر عملة وطنية.
- \* تابع سياسة الإعمار.
- \* انضمام الكويت للجامعة العربية وهيئة الأمم.

4- ثلاثاً من مظاهر النهضة في مجال "الإصلاح السياسي" في عهد جلالة الملك حمد بن عيسى آل خليفة. (يكتفى بثلاث نقاط/ 6 علامات لكل نقطة علامتان)

- إقرار ميثاق العمل الوطني بنسبة 98.4% إثر استفتاء 2001م.
  - صدور دستور 2002م.
  - إعلان البحرين مملكة دستورية.
  - تعدد الجمعيات السياسية والمدنية.
  - توالت الانتخابات البلدية والنيابية.
  - العناية بحقوق الإنسان.
  - تمكين المرأة البحرينية.
  - تكثف الجهد التشريعي تأكيداً لدولة القانون والمشاركة المجتمعية.
- (يكتفى بثلاث نقاط) 6 علامات لكل نقطة علامتان

أولاً - اذكر أسباب:

1- الأزمة الاقتصادية العالمية عام 1929م.

1- التضخم في الإنتاج

2- المضاربة في البورصة

3- ارتباط الاقتصاد العالمي برأس المال الأمريكي

2- إعلان بريطانيا وفرنسا الحرب على ألمانيا عام 1939م. (الحرب العالمية الثانية)

وجهت ألمانيا إنذار لبولندا بوجوب إعادة مدينة دانترغ إلى الوطن الأم ، وعندما رفضت بولندا الطلب اجتاحت ألمانيا أراضيها فأعلنت بريطانيا وفرنسا الحرب على ألمانيا لأنهما الضامنتان لاستقلال بولندا.

4- اعتقال سلطات الانتداب الفرنسي الزعماء الوطنيين في لبنان.

أمام مماطلة فرنسا في إعلان استقلال لبنان ، اجتمع مجلس النواب اللبناني وقام بتعديل الدستور و ألغى جميع المواد المتعلقة بالانتداب من الدستور

ثانيًا - أجب عن الأسئلة الآتية:

1- وضح نتائج الحرب العالمية الثانية. (يُكتفى بثلاث نقاط)

- تراجع سيطرة أوروبا.
- بروز عملاقين جديدين هما الولايات المتحدة الأمريكية والاتحاد السوفيتي.
- نشوب الحرب الباردة بين الولايات المتحدة الأمريكية والاتحاد السوفيتي.
- قيام هيئة الأمم المتحدة لتأمين السلام العالمي.

2- بين أهم إنجازات الشيخ عبدالله السالم الصباح بعد توليه حكم الكويت سنة 1950م. (يُكتفى بثلاث نقاط)

- طالب بريطانيا بالاستقلال وفعلاً استقلت عام 1961م.
- ألغى المحاكم الأجنبية في الكويت.
- أصدر عملة وطنية.
- تابع سياسة الإعمار.
- انضمام الكويت للجامعة العربية وهيئة الأمم.

3- اشرح مظاهر النهضة في مجال الإصلاح السياسي في عهد جلالة الملك حمد بن عيسى آل خليفة. (يُكتفى بثلاث نقاط)

- إقرار ميثاق العمل الوطني بنسبة 98.4% إثر استفتاء 2001م.
- صدور دستور 2002م.
- إعلان البحرين مملكة دستورية.
- تعدد الجمعيات السياسية والمدنية.
- توالت الانتخابات البلدية والنيابية.
- العناية بحقوق الإنسان.
- تمكين المرأة البحرينية.
- تكثف الجهد التشريعي تأكيداً لدولة القانون والمشاركة المجتمعية.

أولاً- علل ما يأتي:

1- دخول الولايات المتحدة الأمريكية الحرب العالمية الثانية ضد دول المحور سنة 1941م.

• **تدمير سلاح الطيران الياباني الأسطول الأمريكي في ميناء بيرل هاربر ( جزر هاواي )**

2- سيطرة بريطانيا على منطقة الخليج العربي وعقدها سلسلة من معاهدات التحالف مع مشايخها.

**- تأمين طريق الهند - السيطرة على الطرق التجارية - اكتشاف النفط**

3- ما موقف جامعة الدول العربية من الاحتلال الإيراني للجزر الإماراتية (طنب الكبرى والصغرى وأبو موسى)؟

• **أكدت جامعة الدول العربية على عروبة الجزر الثلاث و أدانت الاحتلال الإيراني**

- ثورة الضباط الأحرار عام 1952م.

**- إلغاء الملكية**

**- أصبحت مصر جمهورية برئاسة جمال عبد الناصر**

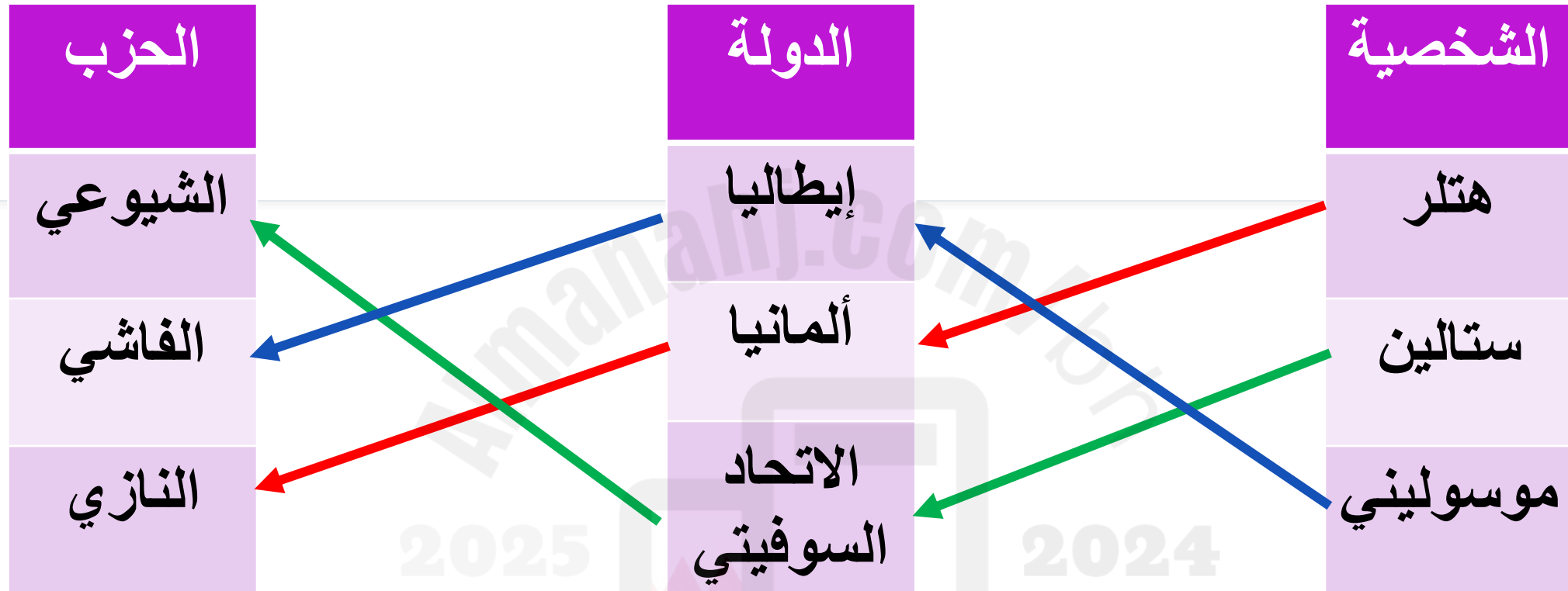
4- ازدياد نشاط الحركة الوطنية البحرينية وقوتها خلال فترة الثلاثينات والأربعينات من القرن العشرين.

- اكتشاف النفط
  - ظهور فئات اجتماعية جديدة مثل العمال والطلاب
  - تأثير أزمة 1929 م الاقتصادية العالمية - اصدار مجلة صوت البحرين في الاربعينات
- ثانيا- أجب عما يأتي:

1- بين ثلاثة من أحداث الحركة الوطنية المصرية ومظاهرها منذ تولي سعد زغلول قيادتها حتى سنة 1956م.

- المعاهدة المصرية البريطانية عام 1936 م التي نصت على انسحاب الجيش البريطاني لمنطقة القناة ووضع أمر حماية الأجانب على عاتق الحكومة المصرية .
- عام 1952 م قامت ثورة الضباط الأحرار ضد الملك فاروق فألغت الملكية وأصبحت مصر جمهورية برئاسة جمال عبد الناصر
- عام 1956 أجلى جمال عبد الناصر الانجليز عن قناة السويس ثم أممها باسم الشعب المصري


صلي الشخصية بالدولة التي حكمتها والحزب الذي تنتمي إليه :



## التحالفات قبل الحرب العالمية الثانية

موسوليني	هتلر	معاهدة الحلف الفولاذي
ستالين	هتلر	معاهدة عدم الاعتداء

## صلي بين الدولة العربية و الدولة الأوروبية الاستعمارية التي احتلتها :



**المكان:** الولايات المتحدة الأمريكية

### **النتائج :**

- تراجع القدرة الشرائية لدى المواطنين
- إقفال المصانع وتسريح العمال
- كساد الإنتاج الزراعي

### **الأسباب:**

- التضخم في الإنتاج
- المضاربة في البورصة
- ارتباط الاقتصاد العالمي برأس المال الأمريكي

**الأزمة  
الاقتصادية  
العالمية**

**السنة :** 24 أكتوبر 1929 م

### السؤال الثالث:

أولاً- اختر من العمود ( ب ) أسماء الشخصيات التاريخية المناسبة للعبارات المبينة في العمود ( أ )، ثم أكتب الحرف الدال على الإجابة الصحيحة في المكان المخصص له:

العمود ( أ )	الإجابة	العمود ( ب )
1- وقّع معاهدة الحلف الفولاذي مع هتلر.	د	أ- السلطان سعيد بن تيمور.
2- نجح في ضمّ عُمان إلى مسقط سنة 1955م.	أ	ب- الشيخ حمد بن عيسى بن علي آل خليفة.
3- أقام اتحاد فدرالي مع إمارة أبوظبي سنة 1968م.	هـ	ج- الشيخ خليفة بن سلمان آل خليفة.
4- أعلن بيان 14 أغسطس 1971م في البحرين.	ج	د- موسوليني.
5- شهد عهده بدء استغلال النفط في البحرين.	ب	هـ- الشيخ راشد بن سعيد آل مكتوم.

أولاً- اختر من العمود ( ب ) أسماء الشخصيات التاريخية المناسبة للعبارة المبينة في العمود ( أ ) ،  
ثم أكتب الحرف الدال على الإجابة الصحيحة في المكان المخصص له:

العمود ( أ )	الإجابة	العمود ( ب )
1- اعترفت بريطانيا باستقلال الكويت في عهده سنة 1961م.	هـ	أ- الشيخ محمد بن خليفة آل خليفة.
2- بنى قلعة مريز في الزبارة.	أ	ب- الملك حمد بن عيسى آل خليفة.
3- أقنع حاكم البحرين بإنشاء مجلس تأسيسي للحد من النفوذ البريطاني.	د	ج- الشيخ عيسى بن سلمان آل خليفة.
4- شهد عهده افتتاح جسر الملك فهد سنة 1986م.	ج	د- عبدالوهاب الزباني.
5- شهد عهده الاستفتاء على ميثاق العمل الوطني سنة 2001م.	ب	هـ- عبدالله السالم الصباح.

أولاً- اختر من العمود ( ب ) أسماء الشخصيات التاريخية المناسبة للعبارة المبنية في العمود ( أ )، ثم اكتب الحرف الدال على الإجابة الصحيحة في المكان المخصص له:

10 علامة لكل نقطة علامتان

العمود ( أ )	الإجابة	العمود ( ب )
1- اعترفت بريطانيا باستقلال الكويت في عهده سنة 1961.	هـ	أ-موسوليني
2- وقع معاهدة الحلف الفولاذي مع هتلر..	أ	ب-الملك حمد بن عيسى آل خليفة
3- أقنع حاكم البحرين بإنشاء مجلس تأسيسي للحد من النفوذ البريطاني.	د	ج-الشيخ عيسى بن سلمان آل خليفة
4- شهد عهده افتتاح جسر الملك فهد سنة 1986.	ج	د - عبد الوهاب الزباني
5- شهد عهده الاستفتاء على ميثاق العمل الوطني سنة 2001م.	ب	هـ -عبدالله السالم الصباح

أولاً- اختر من العمود ( ب ) أسماء الشخصيات التاريخية المناسبة للعبارة المبينة في العمود ( أ ) ، ثم أكتب الحرف الدال على الإجابة الصحيحة في المكان المخصص له:



العمود ( أ )	الإجابة	العمود ( ب )
1- انتخب رئيساً للجمهورية السورية سنة 1943م.	ج	
2- طالب باستقلال تونس.	د	ب- الشيخ سلمان بن أحمد الفاتح.
		ج- شكري القوتلي.
4- نجح في توحيد سلطنة عمان سنة 1955م.	و	د- الحبيب بورقيبة.
5- نقل مركز حكم آل خليفة من الزبارة إلى البحرين سنة 1797م.	ب	هـ- الشيخ عيسى بن علي آل خليفة.
6- شهد عهده نشأة التعليم النظامي في البحرين سنة 1919م.	هـ	و- سعيد بن تيمور.

ثالثاً-صنف نتائج المؤتمرات على دول المشرق العربي وفقاً للمعاهدات والاتفاقيات التالية بوضع علامة (✓) أمام العبارات في الجدول التالي:

5 علامات موزعة كما يأتي:

المعاهدات والاتفاقيات			نتائج المؤتمرات
مؤتمرات سان ريمو	وعهد بلفور	معاهدة سايكس بيكو	
		✓	تقاسم سوريا والعراق بين فرنسا وانجلترا.
✓			تنظيم الانتداب على المشرق العربي وفقاً لسايكس – بيكو
		✓	إقامة منطقة دولية في فلسطين
	✓		إقامة دولة اليهود على أراضي فلسطين
✓			وضع فلسطين تحت الانتداب البريطاني

ثانياً- اكتب كل نتيجة من النتائج الآتية أمام ما يناسبها من الأحداث الواردة في الجدول الذي يليها:

- قيام الحرب العالمية الثانية.
- تشجيع آل خليفة على فتح البحرين.
- انتصار الجيش السوفيتي على الجيش الألماني.
- إنهاء جميع المعاهدات مع بريطانيا.
- هزيمة نصر آل مذكور.
- اتخاذ حاكم البحرين لقب أمير البحرين.

الحدث التاريخي	النتائج
معركة ستالينغراد (1942م)	• انتصار الجيش السوفيتي على الجيش الألماني
معركة الزبارة (1782م)	• هزيمة نصر آل مذكور • تشجيع آل خليفة على فتح البحرين
احتلال ألمانيا أراضي بولندا (1939م)	• قيام الحرب العالمية الثانية
إعلان بيان 14 أغسطس 1971م	• إنهاء جميع المعاهدات مع بريطانيا • اتخاذ حاكم البحرين لقب أمير البحرين

أولاً - أمامك مجموعة شخصيات تاريخية كان لها دور بارز في استقلال بلادها، أكتب اسم الشخصية أمام الدور الذي قامت به بحسب الجدول أدناه:

سعيد بن تيمور، ، الحبيب بورقيبة، ، شكري القوتلي، محمد عبد الكريم الخطابي، ،  
عبدالله السالم الصباح.

الشخصية	الدور
محمد عبد الكريم الخطابي	قاد ثورة أهل الريف المغربي ضد الاحتلال الاسباني.
عبدالله السالم الصباح	طالب بريطانيا باستقلال الكويت وألغى المحاكم الأجنبية عام 1950.
سعيد بن تيمور	ضم عمان إلى مسقط في دولة واحدة عام 1955.
الحبيب بو رقيبة	دعا إلى مساندة الحلفاء خلال الحرب العالمية الثانية، وطالب باستقلال تونس بعد الحرب.

ثانياً- اكتب رقم كل نتيجة من النتائج الآتية أمام ما يناسبها من الأحداث الواردة في الجدول الذي يليها:

10

(1) هزيمة نصر آل مذكور.

(7) نشوب حرب باردة بين أمريكا والاتحاد السوفيتي.

(9) القضاء على الحامية الفارسية في البحرين.

(5) قيام هيئة الأمم المتحدة.

الحدث التاريخي	رقم النتيجة الأولى	رقم النتيجة الثانية
معركة الزبارة سنة 1782م	( 1... )	( 9... )
٥		
الحرب العالمية الثانية	( 5... )	( 7... )

ثانياً – وضع موقف بريطانيا من الأحداث التاريخية الواردة في الجدول أدناه.

الحدث التاريخي	موقف بريطانيا
انقلاب رشيد عالي الكيلاني في العراق عام 1941م	أنزلت بريطانيا قواتها في البصرة واحتلت بغداد أعادت السلطة إلى الوصي على العرش ، الأمير عبد الإله
مشروع الخط الحديدي بين الآستانة والبصرة عام 1899م	شعرت بريطانيا بالقلق من مشروع الخط الحديدي بين الآستانة والبصرة
إنشاء مجلس تأسيسي في البحرين في ظل الحماية البريطانية	أرغم التوافق بين الحاكم و الشعب بريطانيا على الاكتفاء بتعيين بيلغريف مستشارا لدى حكومة البحرين

أولاً- أكمل الجدول بحسب البيانات المطلوبة للأحداث التاريخية الآتية:

الدولة	موقفها من الحلفاء بالحرب العالمية الثانية	أسباب اتخاذها هذا الموقف	نتائج اتخاذها هذا الموقف
العراق	عداء للحلفاء والتحالف مع الألمان	للتخلص من الحماية البريطانية	وقع انقلاب رشيد عالي الكيلاني ولكن بريطانيا تمكنت من القضاء عليه واحتلت بغداد وأقامت حكومة موالية لها
ليبيا	قاتل الليبيون إلى جانب الحلفاء في الحرب	للتخلص من الاستعمار الإيطالي	لم تنفي بريطانيا بوعودها وتنازعت مع فرنسا السيطرة على ليبيا.
تونس	التف الشعب حول الباي وأيدوا موقف بورقيبة لمساعدة الحلفاء، واستقلال تونس بعد الحرب	لرغبتهم في الحصول على الاستقلال	اضطهدت فرنسا زعماء الحزب الجديد ولجأ بورقيبة إلى القاهرة.

ثانيًا - أ) أكمل الجدول التالي: 10 علامات موزعة كالتالي:

10 علامات (الجدول)

الحدث	الأطراف	النتائج
معركة الفردان 1916	الانجليز + الفرنسيين ضد الألمان ( كل طرف علامة)	انتصار الانجليز والفرنسيين أو هزيمة الألمان (علامتان ويُكتفى بنقطة واحدة)
معركة المارن 1915	الانجليز + الفرنسيين ضد الألمان ( كل طرف علامة)	إيقاف زحف الألمان (علامتان ويُكتفى بنقطة واحدة)

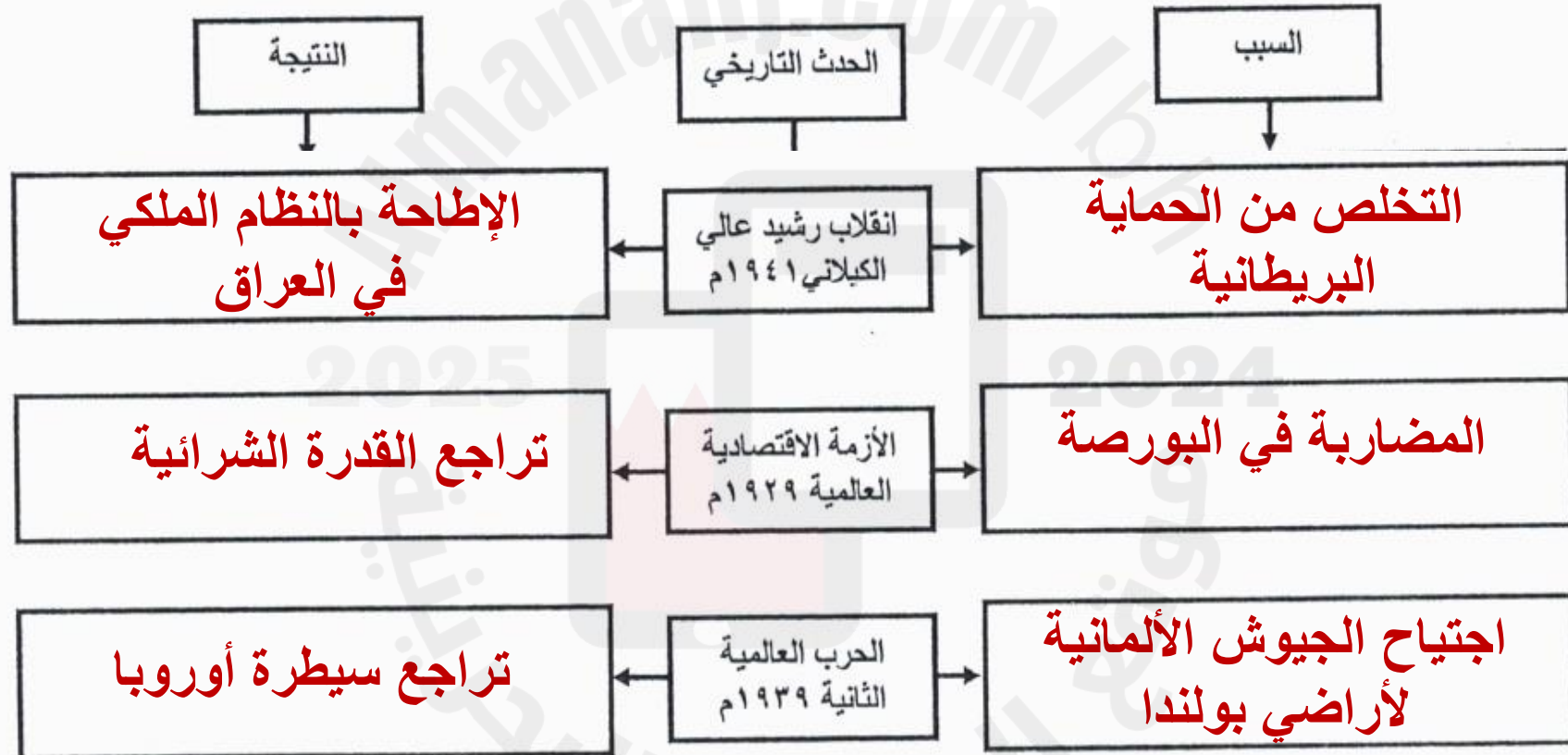
ب) ما هي نتائج الحرب العالمية الثانية؟

يُكتفى بنقطتين، لكل نقطة علامتان

- تراجع سيطرة أوروبا.
- بروز عملاقين جديدين هما الولايات المتحدة الأمريكية والاتحاد السوفييتي.
- نشوب الحرب الباردة بين الولايات المتحدة الأمريكية والاتحاد السوفييتي.
- قيام هيئة الأمم المتحدة لتأمين السلام العالمي.

أولاً- صنف أسباب الأحداث التاريخية الآتية ونتائجها بحسب معطيات المخطط الذي يليها:

- تراجع القدرة الشرائية
- التخلص من الحماية البريطانية
- الإطاحة بالنظام الملكي في العراق
- تراجع سيطرة أوروبا
- المضاربة في البورصة
- اجتياح الجيوش الألمانية لأراضي بولندا



ثانياً- اكتب الأطراف المتنازعة في المعارك الآتية وواحدة من النتائج المترتبة عنها في الجدول أدناه:

المعارك	الأطراف المتنازعة	النتائج
معركة الزبارة ١٧٨٢م	• نصر آل مذكور • آل خليفة	• انتصار آل خليفة • القضاء على الحامية الصغيرة في البحرين • تشجيع آل خليفة على فتح البحرين
معركة العلمين ١٩٤٢م	• بريطانيا (الإنكليز) • ألمانيا	• انتصار بريطانيا (الإنكليز) على ألمانيا
معركة ستالينغراد ١٩٤٢م	• الاتحاد السوفيتي • ألمانيا	• انتصار الجيش الأحمر السوفيتي على ألمانيا

ثالثاً- من خلال دراستك لموضوع " حركات الاستقلال في المغرب العربي "في أثناء الحرب العالمية الثانية وبعدها، أكمل

الجدول الآتي:

الدولة	الدولة الاستعمارية	المقاومة الوطنية من أجل الاستقلال	سنة الاستقلال	أول حاكم بعد الاستقلال
ليبيا	إيطاليا	<ul style="list-style-type: none"><li>- تسلم المجاهد عمر المختار راية المقاومة حتى تم أسره و إعدامه / قاتل الليبيون لجانب الحلفاء رغبة في التخلص من إيطاليا و الحصول على الاستقلال / تشكلت هيئة تحرير ليبيا</li></ul>	١٩٥١م	<ul style="list-style-type: none"><li>• محمد الدريس السنوسي</li></ul>
المغرب	فرنسا	<ul style="list-style-type: none"><li>- قاد محمد عبدالكريم الخطابي ثورة ضد الاحتلال الأسباني للريف / نأى حزب الاستقلال بزعامة علال الفاسي باستقلال المغرب و عروبوته / نفت فرنسا السلطان محمد الخامس فقامت ثورة شاملة / إعادة السلطان و إعلان الاستقلال</li></ul>	١٩٥٦م	<ul style="list-style-type: none"><li>• الملك محمد الخامس</li></ul>

## النتائج المترتبة

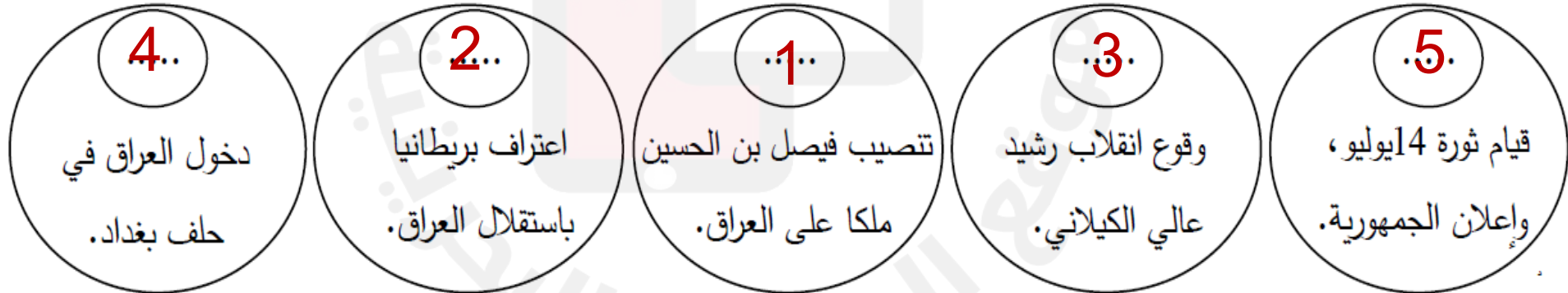


ثالثاً - رتب مراحل الحرب العالمية الثانية وأحداثها الآتية بالأرقام من ( 1 ) إلى ( 4 ) حسب وقوعها من الأقدم إلى الأحدث:



5

ثانياً - أمامك أهم أحداث العراق خلال الفترة (من 1921م إلى 1958م)، رتبها بالأرقام من ( 1 ) إلى ( 5 ) من الأقدم إلى الأحدث:



ثالثاً- أكمل المخطط الزمني التالي حسب ما يناسبه من الكلمات التالية:

4 علامات لكل نقطة علامة

انتهاء الحرب - معركة المارن - مؤتمر الصلح - معركة فردان .

1919	1918	1916	1915	1914
مؤتمر الصلح	معركة المارن الثانية + انتهاء الحرب	معركة فردان	معركة المارن	بداية
				الحرب العالمية الأولى

أولاً - في ضوء دراستك لموضوع هجرة آل خليفة، رتب المناطق التي نزحوا إليها ترتيباً زمنياً على الخط الزمني أدناه:

الإحساء - البحرين - الكويت - الزبارة - الأفلاج - قطر.



ثالثاً - أكمل الخط الزمني لأبرز أحداث الحرب العالمية الثانية، بكتابة الأحداث التاريخية الآتية في أماكنها الصحيحة:

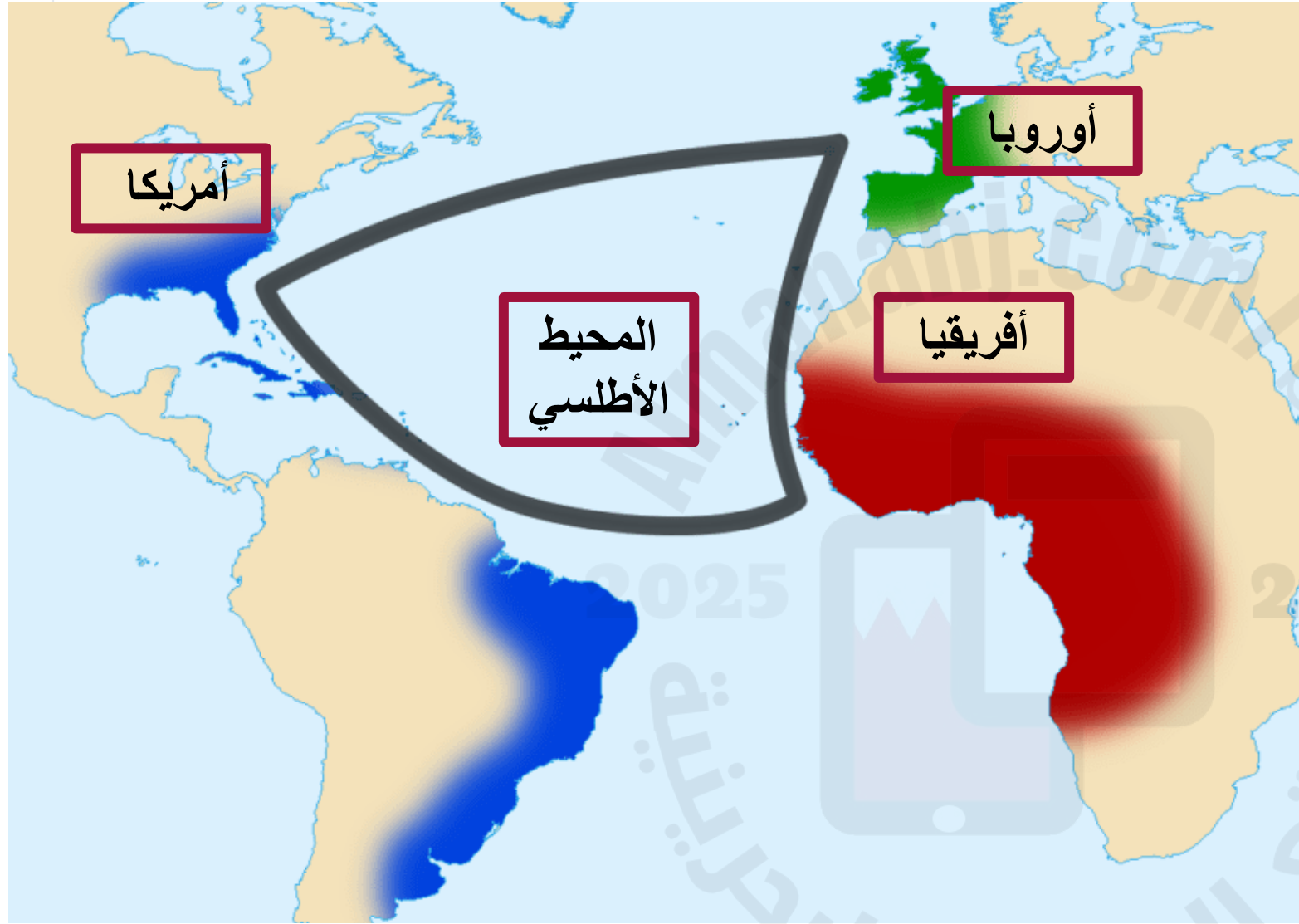
( تدويل الحرب - معركتا العلمين وستالينغراد - بداية الحرب العالمية الثانية -

نهاية الحرب العالمية الثانية - سقوط النظام الفاشي الإيطالي - الاحتلال الألماني لفرنسا ).

٩

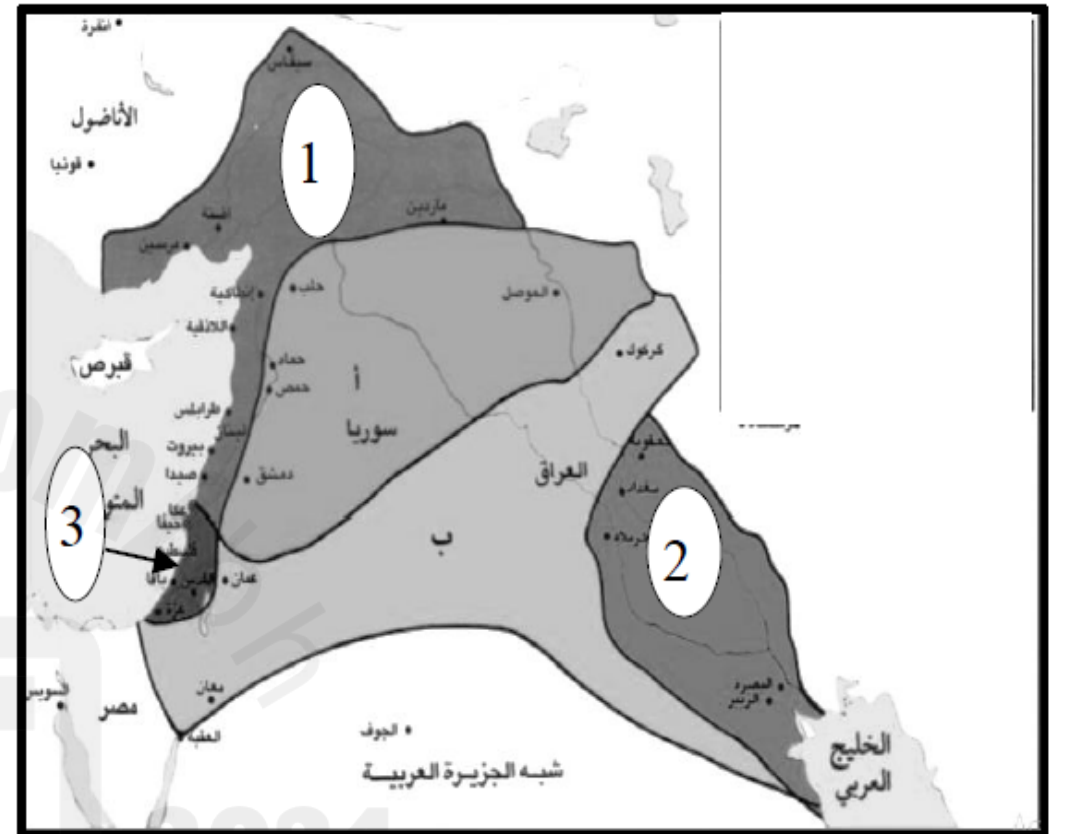
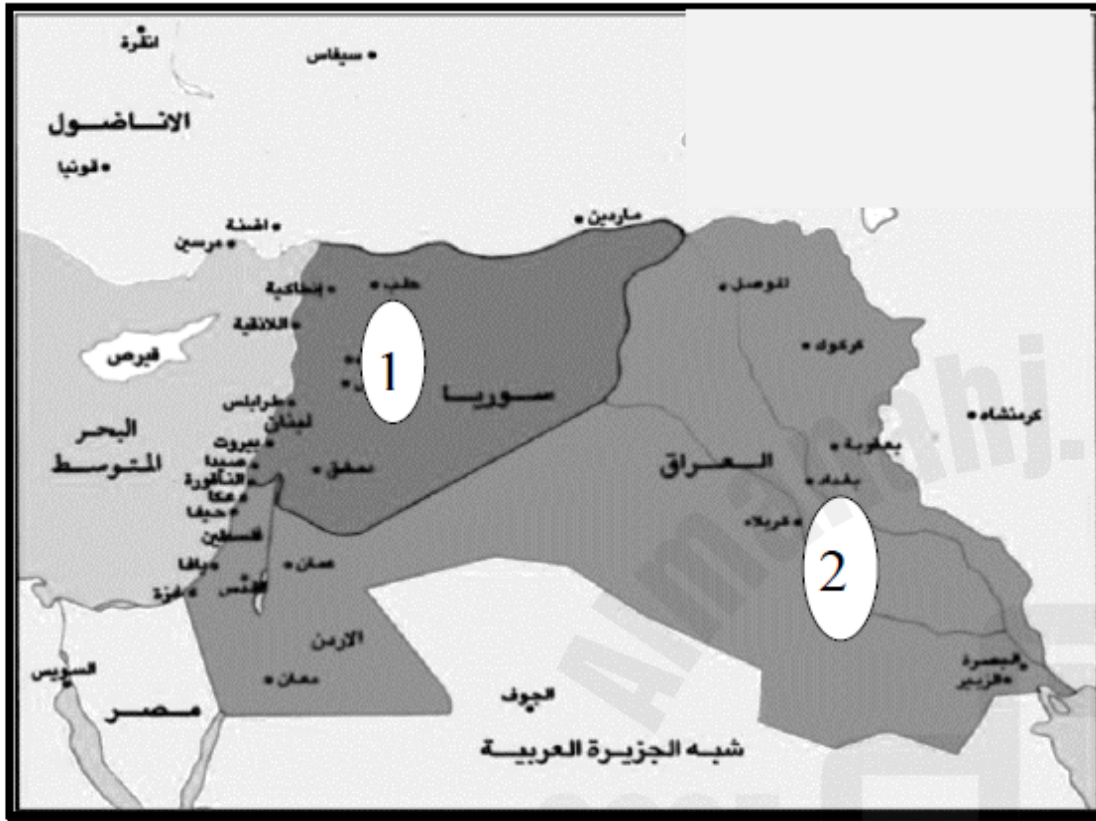
١٩٣٩م ١٩٤٠م ١٩٤١م ١٩٤٢م ١٩٤٣م ١٩٤٤م ١٩٤٥م

.....	.....	.....	.....	.....	.....	.....
بداية	الاحتلال	تدويل	معركتا	سقوط	تحرير فرنسا	نهاية
الحرب	الألماني	العلمين و	الفاشي	النظام	من الاحتلال	الحرب
العالمية	لفرنسا	ستالينغراد	في	إيطاليا	الألماني	العالمية
الثانية	.....	.....	.....	.....	.....	الثانية
.....	.....	.....	.....	.....	.....	.....



أكتبى اسم القارات التي حدثت  
بينها التجارة المثلثة

أكتبى اسم المسطح المائي الذي  
حدثت فيه التجارة المثلثة



من خلال دراستك لخريطة مؤتمر سان ريمو ، ضعي الرقم  
الموجود على الخريطة في المكان المناسب :

\* منطقة تحت السيطرة البريطانية (2)

\* منطقة تحت السيطرة الفرنسية (1)

\* كيف أصبح وضع فلسطين؟ تحت الانتداب البريطاني

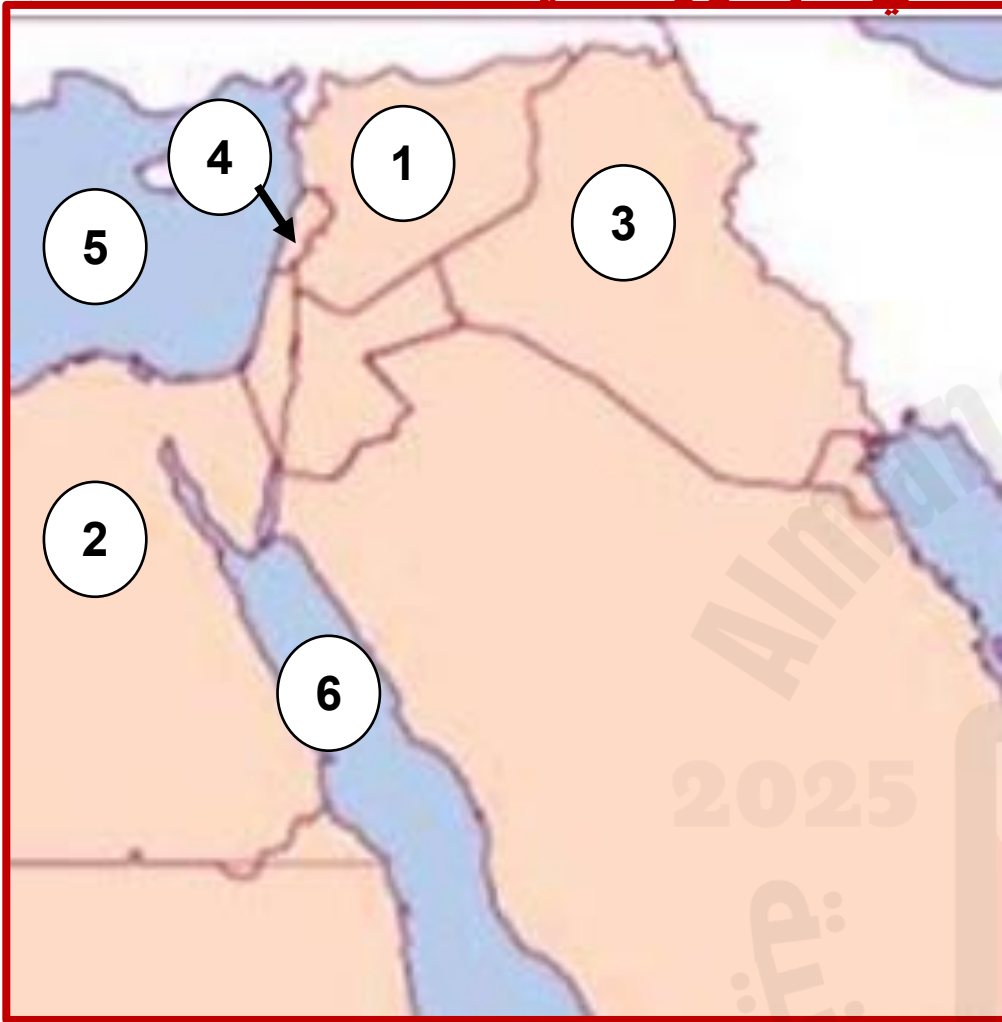
من خلال دراستك لخريطة اتفاقية سايكس بيكو ، ضعي  
الرقم الموجود على الخريطة في المكان المناسب :

\* منطقة تحت السيطرة البريطانية (2)

\* منطقة تحت السيطرة الفرنسية (1)

\* منطقة دولية (3) اسم المنطقة الدولية فلسطين

من خلال دراستك لخريطة استقلال دول المشرق العربي ، أكمل الجدول التالية :



الرقم	اسم الدولة	الدولة المستعمرة	تاريخ الاستقلال
1	سوريا	فرنسا	1943
2	مصر	بريطانيا	1922
3	العراق	بريطانيا	1932
4	لبنان	فرنسا	1943

المسطحات المائية	
5	البحر المتوسط
6	البحر الأحمر

من خلال دراستك لخريطة استقلال دول المغرب العربي ، أكمل الجدول التالية :

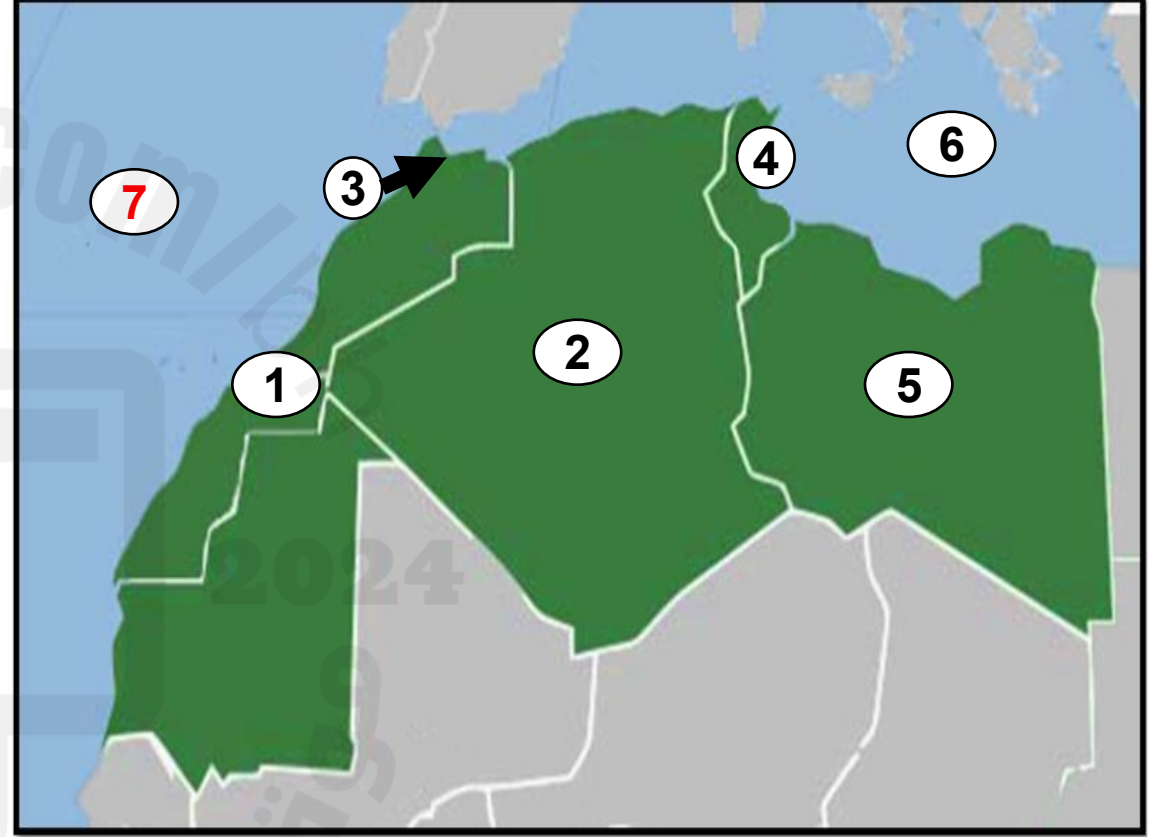


الرقم	اسم الدولة	الدولة المستعمرة	تاريخ الاستقلال
1	الجزائر	فرنسا	1962
2	المغرب	فرنسا أسبانيا	1956
3	تونس	فرنسا	1956
4	ليبيا	إيطاليا	1951

المسطحات المائية	
المحيط الأطلسي	5
البحر المتوسط	6

أ) اكتب ما تمثله الأرقام من (1) إلى (5) في الجدول الآتي حسب البيانات الواردة في الخريطة:

الدولة الأوروبية الاستعمارية	المنطقة/ الدولة العربية	الرقم على الخريطة
فرنسا	المغرب	1
فرنسا	الجزائر	2
إسبانيا	الريف المغربي (سبتة ومليلة)	3
فرنسا	تونس	4
إيطاليا	ليبيا	5



أ) سمّ المسطحين المائيين اللذين يمثلان الرقمين (6-7) حسب موضعهما على الخريطة:

7- المحيط الأطلسي.

6- البحر المتوسط.

من خلال دراستك لخريطة استقلال دول الخليج العربي ، أكمل الجدول التالية :



الرقم	اسم الدولة	الدولة المستعمرة	تاريخ الاستقلال
1	الكويت	بريطانيا	1961
2	قطر	بريطانيا	1971
3	الإمارات	بريطانيا	1971
4	عمان	بريطانيا	1971

المسطحات المائية	
5	البحر الأحمر
6	الخليج العربي

ثانيًا- أمامك خريطة صماء توضح تقسيمات اتفاقية سايكس بيكو سنة 1916م، لاحظ الخريطة جيدا ثم أجب عن الأسئلة التي تليها :



الفرنسي

البريطاني

فلسطين

البحر المتوسط

قناة السويس

- المنطقة ( أ ) خضعت للسيطرة والنفوذ :
- المنطقة (ب) خضعت للسيطرة والنفوذ:
- اسم المنطقة الدولية (ج):
- الرقم (1) اسم المسطح المائي:
- الرقم (2) اسم قناة :

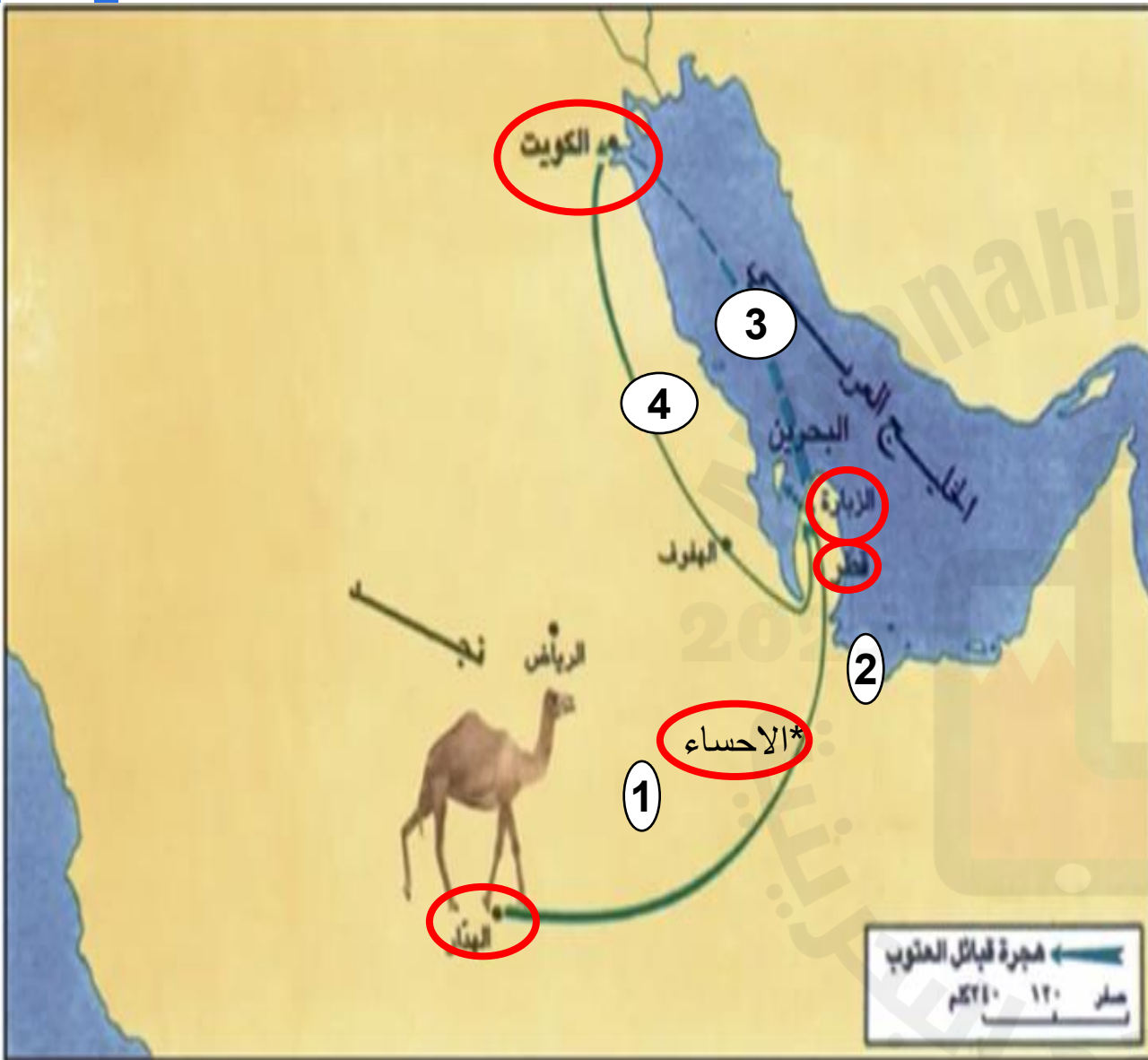
## تتبع هجرات آل خليفة اعتمادًا على خريطة.

1- في القرن السابع عشر نزع العتوب من قرية **الهدار** ..... في منطقة الأفلاج إلى **الاحساء** .....

2- من الإحساء اتجه العتوب إلى **قطر** ..... وكانت تابعة لنفوذ بني خالد.

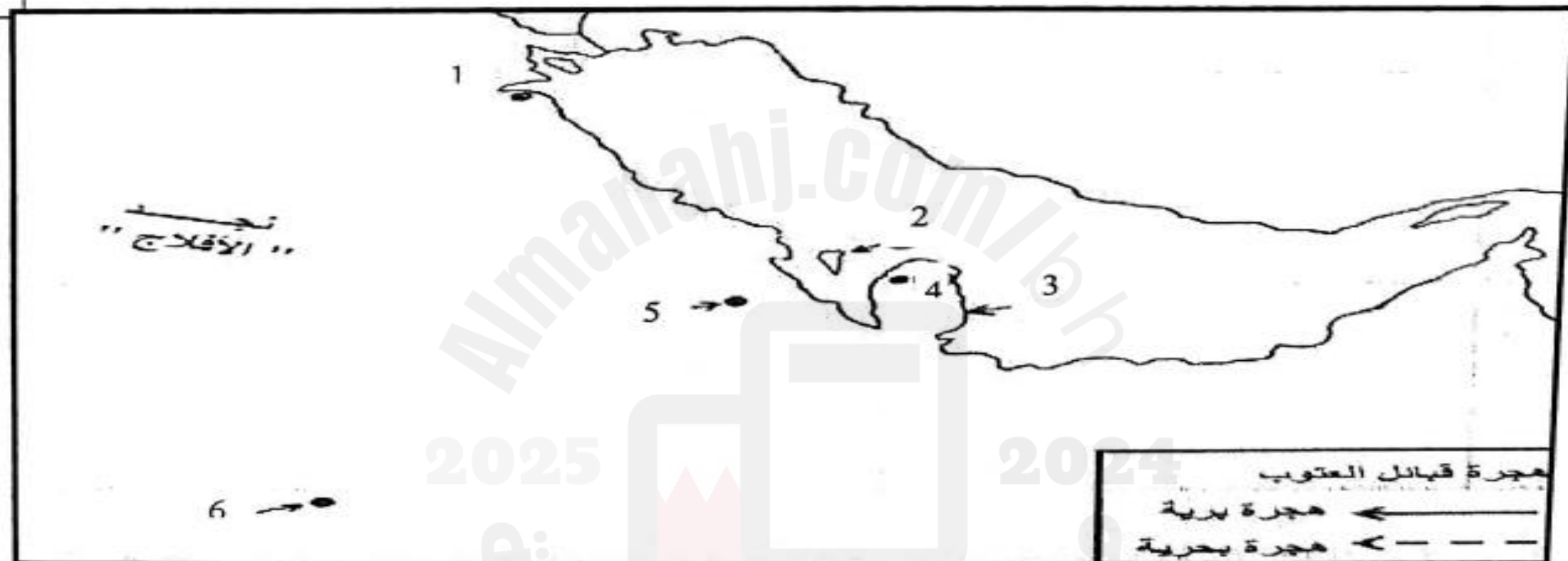
3- في بداية القرن الثامن عشر، اجتمع العتوب في **الكويت** .....

4 - من الكويت انتقل آل خليفة على رأسهم محمد بن خليفة إلى **الزبارة** ..... (1762م) في الساحل الشمالي الغربي لشبه جزيرة قطر.



ثانيًا: على الخريطة التي أمامك، اكتب ما تمثله هذه الأرقام تبعاً لموقعها على الخريطة حسب الترتيب وفق المعطيات بالجدول المرفق.

15



دول وصل إليها آل خليفة في هجرتهم إلى نجد		مناطق ومدن وصل إليها آل خليفة في هجرتهم إلى نجد	
1	الكويت	4	الزبارة
2	البحرين	5	الهفوف
3	قطر	6	الهدار