

مراجعة النهائي



تم تحميل هذا الملف من موقع مناهج مملكة البحرين

موقع المناهج ← مناهج مملكة البحرين ← الصف التاسع ← المواد الاجتماعية ← الفصل الثاني ← ملفات متنوعة ← الملف

تاريخ إضافة الملف على موقع المناهج: 2025-05-16 13:43:34

ملفات اكتب للمعلم اكتب للطالب ا اختبارات الكترونية ا اختبارات ا حلول ا عروض بوربوينت ا أوراق عمل
منهج انجليزي ا ملخصات وتقارير ا مذكرات وبنوك ا الامتحان النهائي للمدرس

المزيد من مادة
المواد
الاجتماعية:

التواصل الاجتماعي بحسب الصف التاسع



صفحة مناهج مملكة
البحرين على
فيسبوك

الرياضيات

اللغة الانجليزية

اللغة العربية

التربية الاسلامية

المواد على تلغرام

المزيد من الملفات بحسب الصف التاسع والمادة المواد الاجتماعية في الفصل الثاني

نماذج امتحانات سابقة

1

خرائط الامتحانات

2

نماذج امتحانات سابقة

3

أسئلة امتحان نهاية الفصل الثاني

4

نماذج امتحانات نهاية الفصل الثاني

5

التحديات تصنع الأبطال، فأجعل
كل درس يبني قوتك وصبرك.





KINGDOM OF BAHRAIN
Ministry of Education
QURTOBA INTERMIDATE GIRLS SCHOOL



مملكة البحرين
وزارة التربية والتعليم
مدرسة قرطبة الإعدادية للبنات

مراجعة شاملة للامتحان النهائي للمواد الاجتماعية (التاريخ) للعام الدراسي ٢٤٠٢ - ٢٥٠٢ م

إعداد معلمة المادة: أ. زينب السيد محمود



أولاً: ضع علامة ✓ أو ✗ أمام العبارات التالية:

قام المرشال الفرنسي ديغول
بتوقيع هدنة مع الألمان.

بيّان



أعلن الجنرال ديغول قيام حكومة فرنسا الحرة في المنفى بعد الاحتلال الألماني لفرنسا سنة ١٩٤٠ م



تحالف العراقيون مع الألمان خلال الحرب العالمية الثانية، بهدف التخلص من الحماية البريطانية.



تولى الشيخ صباح بن جابر الحكم في الكويت عام ٢٠٠٦ م.

تولى الحكم
الشيخ صباح الأحمد
الصباح



ينتسب آل خليفة إلى قبيلة عنزة العربية
الشهيرة التي اتخذت نجد موطناً لها.



انضمت مملكة البحرين إلى منظمة الأمم المتحدة سنة ١٩٧١ م






مارس الاستعمار الإيطالي في ليبيا أعنف الأساليب
من أجل إحكام سيطرته على البلاد.





تنقسم مراحل الحرب العالمية الأولى إلى أربع مراحل

ثلاث مراحل
فقط



عقدت بريطانيا في القرن ١٨ م معاهدات تحالف مع
مشايخ الخليج العربي بهدف تأمين طريق الهند.



نقل الشيخ أحمد الفاتح مركز حكمه نهائياً من الزيارة إلى البحرين سنة ١٧٩٧م



2025

2024

تضمن بيان ١٤ أغسطس ١٩٧١ م حق انضمام البحرين إلى المنظمات الإقليمية والدولية.



أسس مصالي الحاج جمعية (نجم شمال افريقيا)



تزامنت حركة الاستعمار الأوروبي مع الاكتشافات الجغرافية الكبرى.



ثانياً: اختاري الاجابة الصحيحة من بين
البدائل التالية:

أول حاكم من آل خليفة على البحرين هو الشيخ:

ج/ أحمد الفاتح

أ/ محمد بن خليفة

د/ سلمان بن محمد

ب/ خليفة بن محمد

الحاكم من آل خليفة الذي نشأ في عهده التعليم
النظامي هو الشيخ:

ج/ حمد بن عيسى

أ/ محمد بن خليفة

د/ سلمان بن حمد

ب/ عيسى بن علي

الحاكم من آل خليفة الذي بدأ استغلال
النفط وتركيز المؤسسات الإدارية في عهده هو الشيخ:

ج/ حمد بن عيسى

أ/ محمد بن خليفة

د/ سلمان بن حمد

ب/ عيسى بن علي

من نتائج الحرب العالمية الثانية:

ج/ تراجع سيطرة أوروبا

أ/ انشاء عصبة الأمم

د/ عقد معاهدة فرساي

ب/ انتصار دول المحور

بلغت المقاومة ذروتها في ليبيا عندما تسلم راية الجهاد:

ج/ جمال عبد الناصر

أ/ محمد السنوسي

د/ سعد زغلول

ب/ عمر المختار

انتخب المجلس النيابي الجديد رئيسا لسوريا:

أ/ شكري القوتلي

ج/ فيصل بن الحسين

ب/ كاترو

د/ بشارة الخوري



نزحت أسرة آل صباح من نجد إلى الكويت في أواسط القرن ... الميلادي :

ج/ الثامن عشر

أ/ السادس عشر

د/ التاسع عشر

ب/ السابع عشر



الشيخ الذي فتح البحرين وتوفي ودفن في المنامة:

ج/ أحمد الفاتح

أ/ محمد بن خليفة

د/ سلمان بن محمد

ب/ خليفة بن محمد

انتخب المجلس النيابي الجديد ... رئيسا إلى لبنان:

ج/ فيصل بن الحسين

أ/ شكري القوتلي

د/ بشارة الخوري

ب/ كاترو

أكبر إمارات الساحل المتصالح هي:

ج/ أبو ظبي

أ/ دبي

د/ أم القيوين

ب/ الشارقة

أعلن الجنرال كاترو ممثل حكومة فرنسا الحرة في
القاهرة إلغاء الانتداب على:

ج/ سوريا ولبنان

أ/ العراق والأردن

د/ تونس والجزائر

ب/ فلسطين ومصر

المجلة التي صدرت في فترة الأربعينات في البحرين ونادت
بوضع حد للنفوذ البريطاني هي:

ج/ الوثيقة

أ/ صوت البحرين

د/ صدی البحرين

ب/ الحرية

نصب ملكاً على العراق سنة ١٩٢١ م:

ج/ فيصل بن الحسين

أ/ شكري القوتلي

د/ بشارة الخوري

ب/ كاترو

ومع اندلاع الحرب العالمية الثانية رأى بعض القادة
العراقيين بأنه لا سبيل للتخلص من الحماية
البريطانية الا بالتحالف مع:

ج/ الفرنسيون

أ/ البريطانيون

د/ العثمانيون

ب/ الألمان

سيطر البرتغاليون على البحريين في مطلع القرن ١٦ م مستغلين عنف الصراع بين الدولتين:

ج/ الهولندية والبريطانية

أ/ البريطانية والعثمانية

د/ الصفوية والعمانية

ب/ العثمانية والصفوية

الحاكم من آل خليفة اتسعت الأنشطة في عهده مما
سمح بتوظيف أعداد من البحرينيين هو الشيخ:

ج/ حمد بن عيسى

أ/ محمد بن خليفة

د/ سلمان بن حمد

ب/ عيسى بن علي

الحاكم الذي لم يشأ البقاء في البحرين وكان
يقضي فصل الشتاء بالزيارة والصيف بالبحرين هو
الشيخ:

ج/ أحمد الفاتح

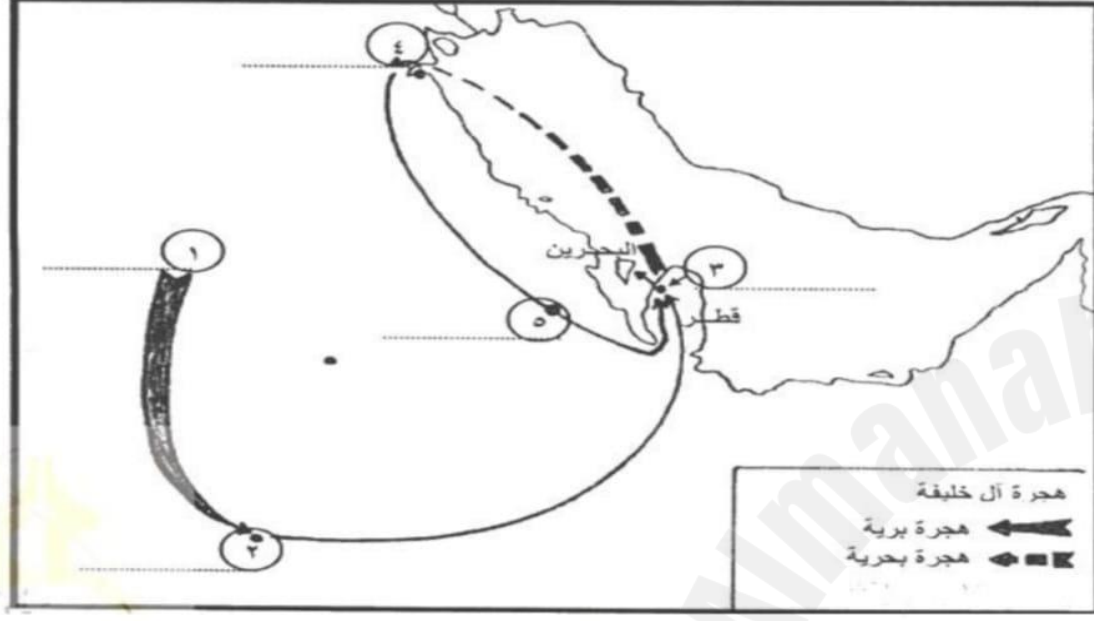
أ/ محمد بن خليفة

د/ سلمان بن محمد

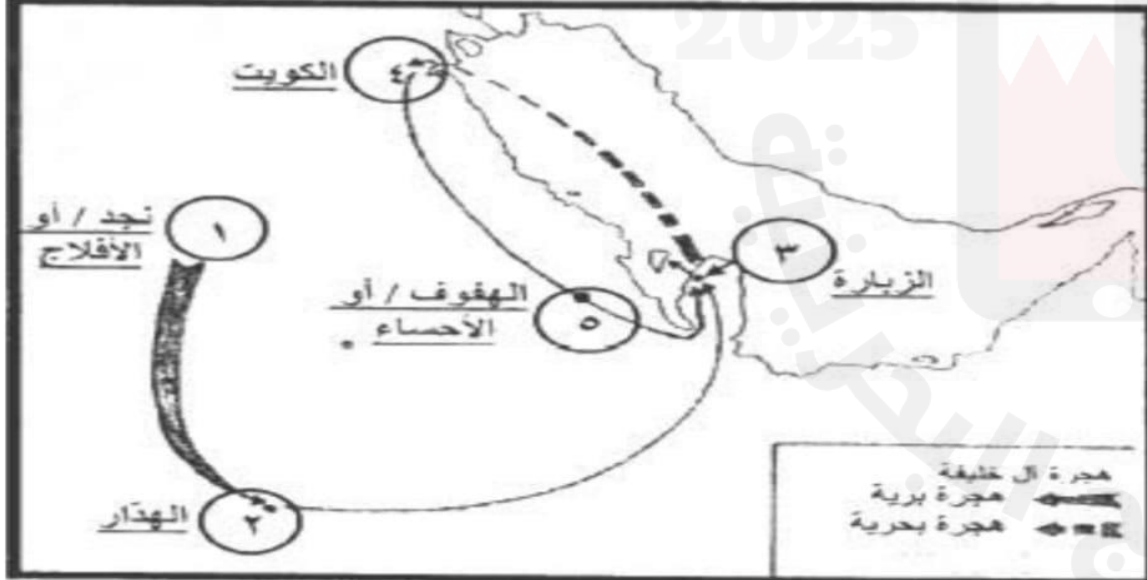
ب/ خليفة بن محمد

ثالثاً: الخرائط التي جاءت في الامتحانات النهائية السابقة

ثالثاً- أمامك خريطة هجرة آل خليفة، اكتب عليها ما تمثله الأرقام من موطن أصلي لآل خليفة ومناطق ومدن وصل إليها خلال هجرتهم إلى البحرين.

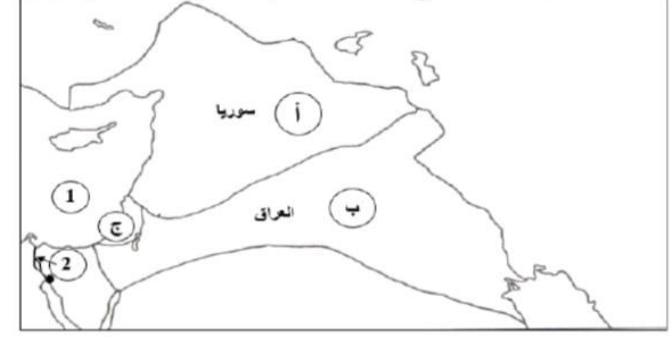


إجابة الخريطة السابقة



10

ثانياً- أمامك خريطة صماء توضح تقسيمات اتفاقية ساكس بيكو سنة 1916م، لاحظ الخريطة جيداً ثم أجب عن الأسئلة التي تليها :



- المنطقة (أ) خضعت للسيطرة والنفوذ:
- المنطقة (ب) خضعت للسيطرة والنفوذ:
- اسم المنطقة الدولية (ج):
- الرقم (1) اسم المسطح المائي:
- الرقم (2) اسم قناة:

إجابة الخريطة السابقة

الفرنسي

البريطاني

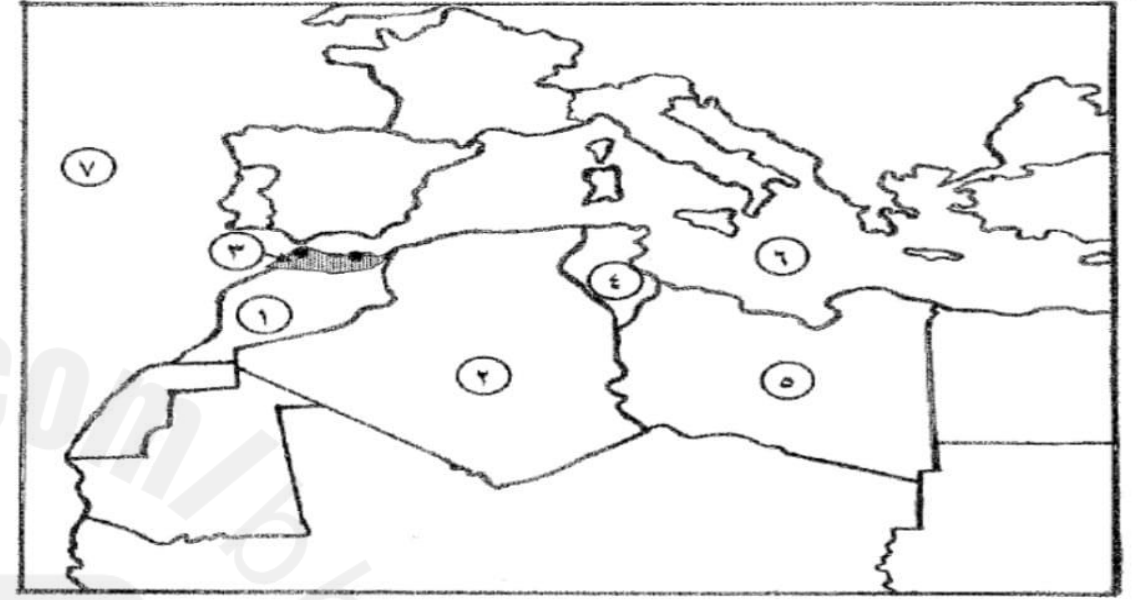
فلسطين

البحر المتوسط

السويس

- المنطقة (1) خضعت للسيطرة والنفوذ:
- المنطقة (2) خضعت للسيطرة والنفوذ:
- اسم المنطقة الدولية (3):
- الرقم (4) اسم المسطح المائي:
- الرقم (5) اسم قناة:

ثالثاً- أمامك خريطة صحراء لدول المغرب العربي، تمعن فيها جيداً، ثم أجب عن السؤالين التاليين:



(أ) اكتب ما تمثله الأرقام من (١) إلى (٥) في الجدول الآتي حسب البيانات الواردة في الخريطة:

١٠

الرقم على الخريطة	المنطقة/ الدولة العربية	الدولة الأوروبية الاستعمارية
١
٢
٣
٤
٥

(ب) سمّ المسطحين المائيين اللذين يمثلان الرقمين (٦-٧) حسب موضعهما على الخريطة:

٢

(أ) أمامك خريطة صحراء لدول المغرب العربي، اكتب ما تمثله الأرقام التي عليها بالجدول الذي يليها حسب البيانات الواردة فيه:



الرقم على الخريطة	المنطقة/ الدولة العربية	الدولة الأوروبية الاستعمارية
١
٢
٣
٤
٥

إجابة الخريطة السابقة

الرقم على الخريطة	المنطقة/ الدولة العربية	الدولة الأوروبية الاستعمارية
١	ليبيا	إيطاليا
٢	تونس	فرنسا
٣	الجزائر	فرنسا
٤	المغرب	فرنسا
٥	الريف المغربي/أو سبتة ومليلة	أسبانيا

-٧

-٦

رابعاً: أجيبي عن الأسئلة التالية:

ما هي مجالات مظاهر النهضة الأوروبية؟

١- المجال الفني

٢- المجال العلمي

٣- المجال الديني

أدت حرب السبع سنوات (١٧٥٦-١٧٦٣) إلى إبرام:

معاهدة باريس، حيث تنازلت فرنسا
لبريطانيا عن جزء كبير من مستعمراتها في
أمريكا و أفريقيا والهند.

ما هي الامبراطوريات التي قادت حركة الاستعمار
الأوروبي في أواخر القرن ١٦ م ؟

١- الأسبان

٢- البرتغال

عللي: ازدهار المدن الإيطالية.



بسبب نشاط الحركة
التجارية في البحر المتوسط

العالم الألماني الذي اخترع آلة الطباعة هو:



غوتنبرغ

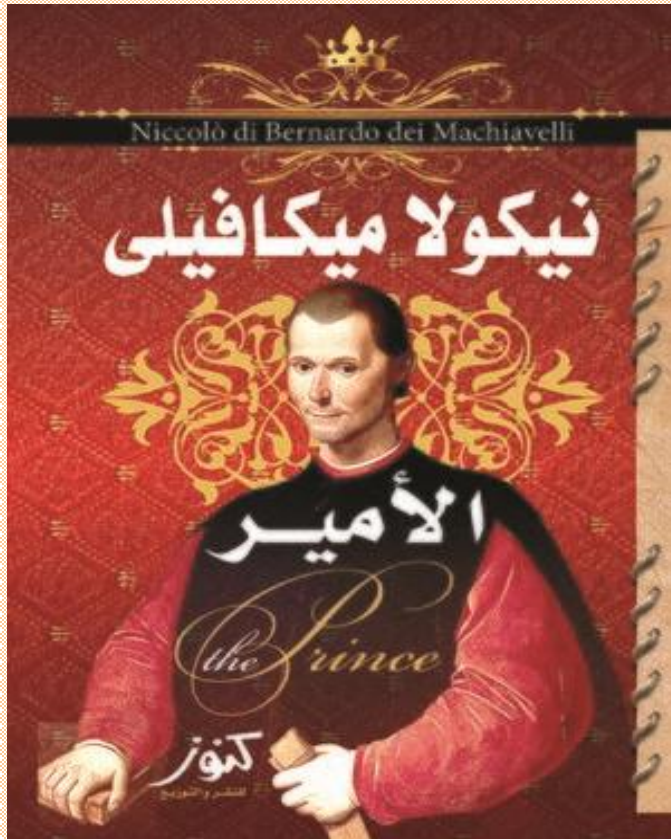
متى وقعت الحرب العالمية الأولى؟



في العقد الثاني من القرن
العشرين ١٩١٤ م.



ما اسم الفنان الإيطالي الذي ألف كتاب (الأمير)؟



مكي - فال



ما هي الامبراطوريات التي قادت حركة الاستعمار
الأوروبي في أواخر القرن ١٨ م؟

فرنسا / بريطانيا

سمي الفنانون الذين برعوا في تصميم القصور والكنائس وتزيينها.

مايكل أنجلو

ليوناردو دا فنشي



عددي نتائج الحرب العالمية الأولى ١٩١٤-١٩١٩ م؟

١. وقوع ملايين من القتلى والجرحى.
٢. الدمار الهائل الذي حل بالأراضي الزراعية والتجمعات السكانية.
٣. فشلت الحركة الاقتصادية في العالم كله.
٤. على الصعيد السياسي : تغيير جذري في خريطة أوروبا السياسية.
٥. قيام دول جديدة على حساب أمبراطوريات مثل ألمانيا والنمسا وروسيا الشيوعية.
٦. الوطن العربي: تخلص من السيطرة التركية ليقع في قبضة الاستعمار أو الانتداب.
٧. تأسيس عصبة الأمم التي أعلنها الرئيس الأمريكي ولسون.
٨. تم عقد مؤتمر الصلح في باريس ١٩١٩ م أعطى الدول المنتصرة مكاسب استعمارية جديدة.

التآمر الاستعماري الأوروبي على العرب خلال الحرب تمثل في ماذا؟

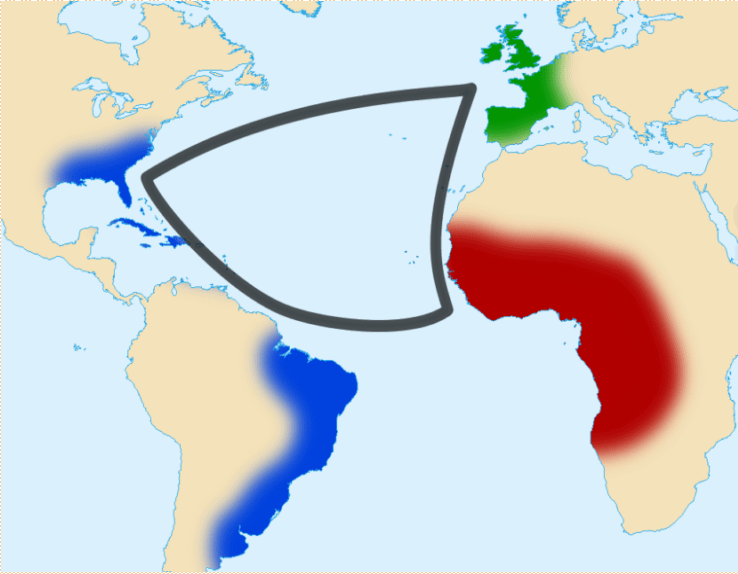
١- اتفاقية سايكس بيكو

٢- وعد بلفور

٣- مؤتمر الصلح

٤- مؤتمر سان ريمو

أمامك صورتان علاما تدل هذه الصور



التجارة
المثلثة



ما هي نتائج مؤتمر سان ريمو؟

- تنظيم الانتداب في المشرق العربي وفقاً لاتفاقية سايكس بيكو.
- تعديل بسيط على اتفاقية سايكس بيكو بجعل فلسطين تحت الانتداب البريطاني عينت فرنسا الجنرال (غورو) مندوب على سوريا.

ظهر هذا العالم في المجال العلمي وقال:

(أن كوكب الأرض من ضمن المجموعة الشمسية) فمن
هو؟

كوبر-ني-كوس



سمي الامبراطوريات التي قادت حركة الاستعمار الأوروبي في أواخر القرن ١٧ م؟

١- هولندا

٢- فرنسا

٣- بريطانيا

اذكري بنود وعد بلفور.

وعد بلفور

أطلق على رسالة وزير خارجية بريطانيا إلى الحركة الصهيونية في 2 نوفمبر 1917 الرسالة تضمنت وعدا من بريطانيا لليهود بوطن قومي في فلسطين

إقامة وطن قومي للإهود في فلسطين

في عام ١٩١٧ م خسر الاتحاد السوفيتي مساحات
شاسعة من أراضيه نتيجة معاهدة:

معاهدة برست- ليتو - فسك

أكملي: المخطط التالي الخاص بالتجارة المثلثة بترقيم العبارات في مكانها الصحيح على الشكل الذي أمامك:



3

نقل المواد الغذائية والمعادن

2

العمل في مزارع أمريكا ومناجمها

1

شراء الرقيق

أنشأ الحزب الفاشي، فمن هو؟



موسوليني

وضحي أسباب الحرب العالمية الأولى (١٩١٤-١٩١٨ م)

- ١- التنافس الاستعماري
- ٢- الصراع الفرنسي الألماني
- ٣- صراع القوميات
- ٤- السبب المباشر

وضحي انعكاسات اتفاقيات الصلح على العالم بعد الحرب العالمية الأولى ١٩١٤-١٩١٨ م

- ١- خسرت روسيا مساحات واسعة من أراضيها
- ٢- قيام إيطاليا الفاشية.
- ٣- قيام ألمانيا النازية.

وضحي مظاهر النهضة الحديثة التي شهدتها البحرين في الألفية الجديدة في عهد جلالة الملك حمد بن عيسى آل خليفة.

- ١- الاستفتاء على ميثاق العمل الوطني.
- ٢- إعلان البحرين مملكة دستورية.
- ٣- إصدار الدستور.
- ٤- إجراء الانتخابات النيابية
- ٥- العناية بحقوق الإنسان.
- ٦- تمكين المرأة.

ما هي أسباب الأزمة الاقتصادية العالمية؟

(الخميس الأسود)

١. تضخم في الانتاج أدى إلى انهيار الأسعار.
٢. المضاربة في البورصة (حيث بيعت الأسهم بأسعار تفوق قيمتها الحقيقية، حيث سعى المساهمون لتخلص منها)
٣. ارتباط الاقتصاد العالمي برأس المال الأمريكي.

ما هي نتائج الأزمة الاقتصادية العالمية؟ (الخميس الأسود)



١. تراجع القدرة الشرائية لدى المواطنين.
٢. اقفال العديد من المصانع.
٣. تسريح ملايين من العمال.
٤. الكساد في الانتاج الزراعي.

علي: تدويل الحرب العالمية الثانية ١٩٤١ م

بسبب اجتياح جيوش ألمانيا الإتحاد السوفيتي بالرغم من
(معاهدة عدم الإعتداء) المعقودة بين الطرفين.
إلا أن الجيش الأحمر السوفيتي أوقف الاجتياح على أبواب
موسكو.

علي: عدم استقرار النفوذ البرتغالي في البحرين أثناء القرن ١٦ م.

- مقاومة السكان المحليين.
- منافسة قوى أجنبية متعددة لهم.

علي: تحدث عن اتفاقية سايكس بيكو من خلال (سنة حدوثها-مكان التوقيع-أطراف الاتفاقية)

- التاريخ: ١٩١٦ م
- المكان: مدينة سانت بطرسبرغ الروسية.
- الأطراف: مارك سايكس مندوب وزارة الخارجية البريطاني-
جورج بيكو ممثل فرنسا بحضور المندوب الروسي.

أمامك صورتان علاما تدل هذه الصور؟



الطالب المصري الذي
اغتال ولي عهد
النمسا

معركة المارن الأولى

سنة ١٩١٥ م اقتصرَت العمليات العسكرية فيها على
الجهة:

الجهة الأوروبية

المؤتمر الذي لم يحقق مطالب إيطاليا بإعطائها
مستعمرات تريدها هو:



مؤتمر الصلح

أذكري أهم المعارك التي دارت في الحرب العالمية الأولى مع ذكر السنة.

معركة المارن الأولى (١٩١٥م) على الجبهة الأوروبية.

معركة فردان (١٩١٦م)

معركة المارن الثانية (١٩١٨م)

ما اسم المعركة التي قتل فيها القائد السوري يوسف العظمة؟

يوافق اليوم ذكرى استشهاده

يوسف العظمة

1920/07/24

ولد في حي الشاغور الدمشقي
بتاريخ 9 نيسان عام 1884م

قاد الجيش السوري أثناء
التصدي للقوات الفرنسية
الزاحفة نحو دمشق في
موقعة ميسلون

يعد العظمة أول وزير
دفاع عربي يستشهد
في معركة وهو يدافع
عن بلده

STEP
NEWS

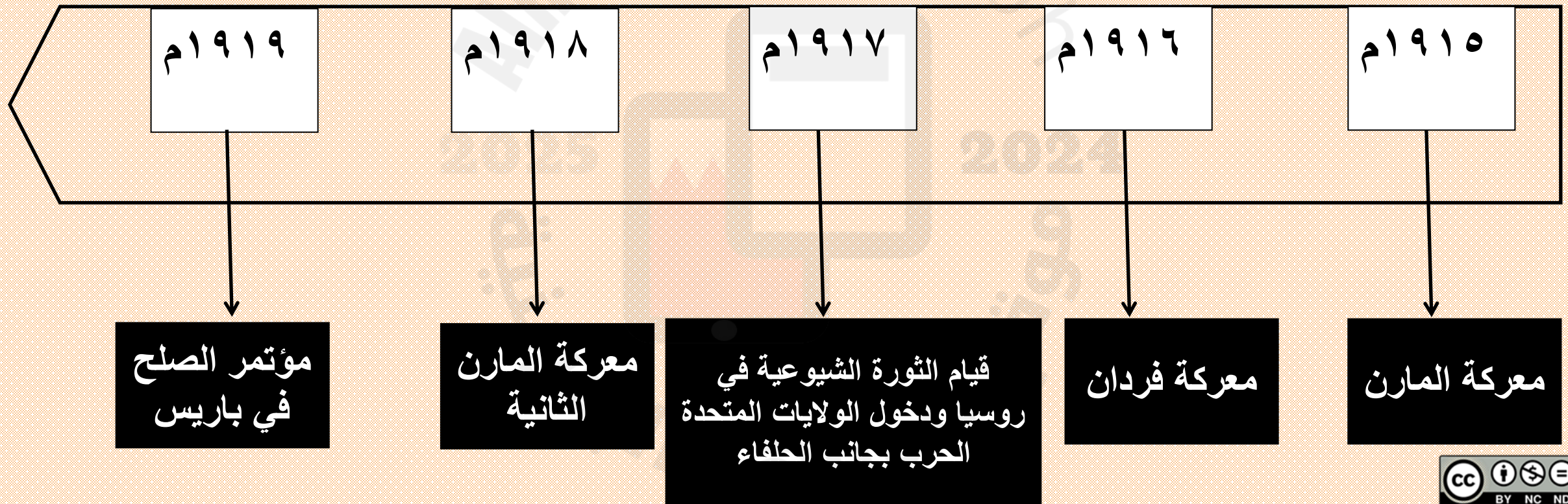
معركة ميسلون

أمامك صورة علاما تدل هذه الصورة؟



المرحلة الثانية بالحرب
العالمية الأولى (حرب
الخنادق)

تتبعي الأحداث التاريخية على الخط الزمني للحرب العالمية الأولى



ما هي بنود اتفاقية سايكس بيكو؟



فرانسوا جورج بيكو / ممثل فرنسا

مارك سايكس / ممثل بريطانيا


UNIVERSITÉ DE MONTRÉAL - DIVISION DES ARCHIVES

1FP.06793

❖ بريطانيا وفرنسا تقاسموا سوريا
❖ حصلت روسيا على شرق الأناضول
❖ أقيمت في فلسطين منطقة دولية

ماذا تعرفين عن الجنرال الفرنسي غورو؟

Gouraud (1867-1946)
Général français



- بموجب مؤتمر سان ريمو تم تعيينه مندوب على سوريا.
- أرسل انذار إلى فيصل بن الحسين بمغادرة الشام.
- قتل القائد السوري يوسف العظمة.

ماذا تعرفين عن ستالين؟



وصل إلى الحكم في الاتحاد
السوفيتي سنة ١٩٢٤ م.

مع من عقد هتلر معاهدة الحلف الفولاذي سنة
١٩٣٩ م؟



ألمانيا (هتلر)
إيطاليا (موسوليني)

مع من عقد هتلر معاهدة عدم الاعتداء سنة ١٩٣٩ م؟



ألمانيا
الاتحاد السوفيتي



أنشأ الحزب النازي ، فمن هو؟

أدولف هتلر



ما هي نتائج الحرب العالمية الثانية عام ١٩٣٩-١٩٤٥ م؟



- (١) ظهور دولتين عملاقتين جديدتين وهما الولايات المتحدة الأمريكية والإتحاد السوفيتي.
- (٢) نشبت الحرب الباردة بين هاتين الدولتين سنة ١٩٤٨ م.
- (٣) قيام هيئة الأمم المتحدة (١٩٤٥ م-١٩٤٦ م)
- (٤) تراجع سيطرة أوروبا.

في عام ١٩٣٦ م هاجم موسوليني... واحتلها؟



الحبيشة

في عام ١٩٣٨ م ضم هتلر كل من ؟

■ النمسا

■ السودان (التشيك وسلوفاكيا)

ما هي نتائج مؤتمر ميونيخ (١٩٣٨ م) في ألمانيا؟

- (١) أجبر هتلر في المؤتمر كل من فرنسا وبريطانيا الاعتراف بحقة في النمسا والسوديت.
- (٢) تأكد هتلر من تفوق قوته العسكرية.
- (٣) أيقن الحلفاء انهم لن يستطيعوا أن يوقفوا مشاريع هتلر التوسعية. وأن الحرب واقعة لا محالة.
- (٤) بدأت كل قوة تعزز قوتها العسكرية استعدادًا للحرب.

اذكري المناطق التي احتلها هتلر في أوروبا خلال الحرب العالمية الثانية.

- النمسا
- السويد (التشيك وسلوفاكيا)
- بوهيميا – مورافيا – بولندا-الدنمارك – النرويج-
بلجيكا- هولندا- فرنسا


عللي: دخول الولايات المتحدة الأمريكية الحرب العالمية الثانية ضد دول المحور سنة ١٩٤١ م.

بسبب قيام سلاح الطيران الياباني بتدمير الأسطول الأمريكي الذي كان راسياً في ميناء (بيرل هاربر) في جزر هاواي.

أعلنت الولايات المتحدة الأمريكية الحرب على دول المحور (ألمانيا + إيطاليا، اليابان) وأرسلت قواتها براً، بحراً، جواً إلى مناطق النزاع.

صحح ما تحته خط:

انتصر الأنجليز في الجبهة الأفريقية
على الألمان عام ١٩٤٢ م في معركة ستالنغراد.



معركة العلمين


صحح ما تحته خط:

سحق الجيش الأحمر (السوفيتي)
الألمان في (العلمين) ١٩٤٢ م وتقدم داخل برلين.



معركة
ستالين-غراد الشهيرة

ألقى الأمريكيون قنبلتين ذريتين على:



مدينتي (هيروشيما)
و (ناكازاكي)
في اليابان

أمامك مجموعة من الأحداث في العراق رتبها بالأرقام



قيام ثورة ١٤ يوليو وإعلان الجمهورية

وقوع الانقلاب

تنصيب فيصل بن الحسين ملكا على العراق

اعتراف بريطانيا باستقلال العراق

دخول العراق حلف بغداد

تنصيب فيصل بن الحسين ملكا على العراق

اعتراف بريطانيا باستقلال العراق

وقوع الانقلاب

دخول العراق حلف بغداد

قيام ثورة ١٤ يوليو وإعلان الجمهورية

الحزب الذي انشأه سعد زغلول هو:



حزب الوفد

وصل السلطان فؤاد الأول إلى العرش ولقب نفسه بـ



ملك

ما هي بنود المعاهدة البريطانية المصرية ١٩٣٦ م؟


١. انسحاب جيش الاحتلال البريطاني من منطقة القناة.
٢. حماية الأجانب في مصر على عاتق الحكومة المصرية.

قامت ثورة الضباط الأحرار في مصر ضد الملك



الملك فاروق

وضحي نتائج ثورة الضباط الأحرار في مصر.



١. ألغت الملكية وأصبحت جمهورية.
٢. ترأس جمال عبد الناصر الجمهورية.
٣. أجلى جمال عبد الناصر الانجليز من القناة.
٤. أمم القناة بأسم الشعب المصري.

علي: اتخذت المقاومة في ليبيا طابعا وطنيا ودينيا.

- استخدام الاستعمار الإيطالي أعنف الأساليب من أجل
إحكام سيطرته على ليبيا.
- إلغاء شخصية الدولة العربية والإسلامية.

علي استخدام الاستعمار الإيطالي في ليبيا أعنف الأساليب.

- إحكام السيطرة على البلاد.
- إلغاء الشخصية العربية والإسلامية.

علي تسمية الحرب العالمية الأولى (بالحرب الكبرى)

- مساحة رقعة عملياتها العسكرية.
- نوعية الأسلحة المستخدمة.
- عدد القتلى والجرحى.

عللي: النهضة في أوروبا ما هي العوامل المساعدة على النهضة الأوروبية؟

- ازدهار المدن الإيطالية.
- اختراع الطباعة.
- نشاط حركة الترجمة.

ما العوامل المساعدة على اتجاه البحرين نحو بناء دولة حديثة؟

- إنشاء أولى المدارس عام ١٩١٩ م وارتفاع عدد الطلاب.
- انتشار المذيع ونشأة الصحافة.
- اكتشاف النفط ونشوء فئة عمالية.
- تأسيس عدد من الأندية الأدبية والرياضية والنسائية.
- مشاركة البحرين في بعض لجان جامعة الدول العربية.
- استضافت العديد من المؤتمرات العربية والعالمية.

صححي ما تحته خط في العبارات التالية:

الإجابة	العبارة
موسوليني	١- ظهر الحزب الفاشي في إيطاليا بقيادة <u>ستالين</u> .
العراق	٢- نصب فيصل بن الحسين عام ١٩٢١م ملكا على <u>مصر</u> .
الهند	٣- عقدت بريطانيا معاهدات مع مشايخ الخليج العربي بهدف تأمين الطريق إلى <u>اليابان</u> .
الأحمدي	٤- أسس الشيخ أحمد الجابر الصباح مدينة <u>السالمية</u> .
الولايات المتحدة	٥- انطلقت الأزمة الاقتصادية العالمية عام ١٩٢٩م من <u>بريطانيا</u> .

ضعي الشخصيات التالية أمام ما يناسبها من أدوار تاريخية في الجدول التالي:

الحبيب بورقيبة – سعد زغلول – محمد عبد الكريم الخطابي – عبدالله السالم الصباح

الشخصيات	الأدوار التاريخية
محمد عبد الكريم الخطابي	١- قاد ثورة الريف المغربي ضد الاستعمار الإسباني.
عبدالله السالم الصباح	٢- طالب بريطانيا باستقلال الكويت وألغى المحاكم الأجنبية عام ١٩٥٠.
الحبيب بورقيبة	٣- دعا إلى مساندة الحلفاء خلال الحرب العالمية الثانية وطالب باستقلال تونس بعد الحرب.
سعد زغلول	٤- مؤسس حزب الوفد في مصر وعينه الملك فاروق رئيسا للوزراء.

في ضوء دراستك لموضوع الحرب العالمية الأولى ١٩١٤-١٩١٨ م ، تتبعي الأحداث التاريخية على الخط الزمني التالي :

١- انسحاب روسيا من الحرب بعد اندلاع الثورة الشيوعية

٢- انتصار الإنكليز والفرنسيين على الألمان في معركة فردان

٣- هزيمة ألمانيا في معركة المارن الثانية

٤- تمكن الإنكليز والفرنسيين من إيقاف زحف الألمان في معركة المارن الأولى

١٩١٨م

١٩١٧

١٩١٦م

١٩١٥م

٣

١

٢

٤

بيّن التآمر الاستعماري على العرب من خلال إكمال الجدول التالي:

الحدث	الأطراف	النتائج
اتفاقية سايكس بيكو	بريطانيا – فرنسا - روسيا	أ) حصلت روسيا على شرق الأناضول. ب) تقاسم الإنجليز والفرنسيون سوريا. ج) أقيمت في فلسطين منطقة دولية.
وعد بلفور	بريطانيا - اليهود	أعلن وزير خارجية بريطانيا اللورد بلفور عن رغبة بلاده في إقامة دولة اليهود على الأراضي الفلسطينية.
مؤتمر سان ريمو	المجلس الأعلى للحلفاء	أ) تنظيم الانتداب في المشرق العربي وفقاً الاتفاقية سايكس بيكو. ب) وضع فلسطين تحت الانتداب البريطاني.

اكتبي الأطراف المتنازعة في المعارك التالية وواحدة من النتائج المترتبة عليها:

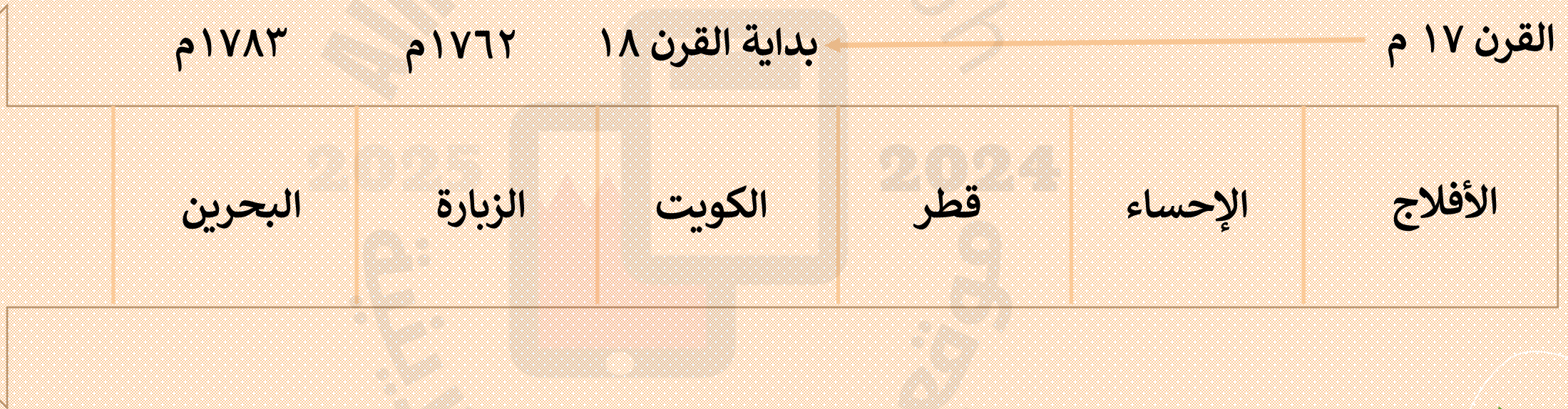
المعارك	الأطراف المتنازعة	النتائج
معركة الزبارة ١٧٨٢م	نصر آل مذكور الشيخ أحمد بن محمد آل خليفة	انتصار آل خليفة والتقدم إلى البحرين وضمها لحكم آل خليفة
معركة العلمين ١٩٤٢م	الإنكليز الألمان	انتصار الإنكليز
معركة ستالينغراد ١٩٤٢م	الجيش الأحمر السوفييتي الألمان	انتصار السوفييت ووقف الزحف الألماني عند أبواب موسكو

وضحي في الجدول التالي أسباب ونتائج الازمة الاقتصادية العالمية ١٩٢٩ م :-

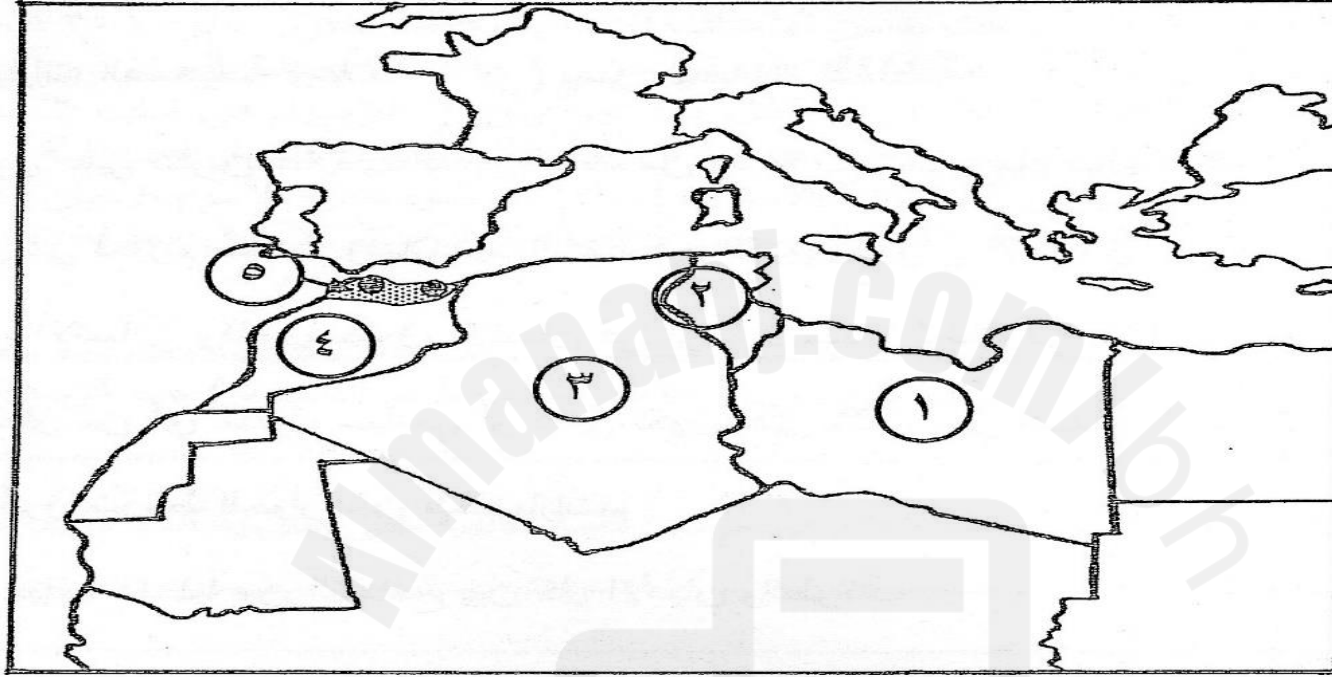
الأسباب	النتائج
١ - التضخم في الإنتاج الذي أدى إلى انهيار الأسعار	١ - تراجع القدرة الشرائية لدى المواطنين
٢ - المضاربة في البورصة	٢ - إقفال العديد من المصانع وتسريح العمال
٣ - ارتباط الاقتصاد العالمي برأس المال الأمريكي	٣ - كساد الإنتاج الزراعي
	٤ - امتداد الأزمة إلى أوروبا نتيجة العلاقات التجارية بينها وبين الولايات المتحدة.

في ضوء دراستك لموضوع هجرة آل خليفة ، رتب المناطق التي نزحوا إليها
ترتيباً زمنياً على الخط الزمني أدناه:

الإحساء – البحرين – الكويت – الزبارة – الأفلاج - قطر



أ) أمامك خريطة صماء لدول المغرب العربي، اكتب ما تمثله الأرقام التي عليها بالجدول الذي يليها حسب البيانات الواردة فيه:



الرقم على الخريطة	المنطقة/ الدولة العربية	الدولة الأوروبية الاستعمارية
١	ليبيا	إيطاليا
٢	تونس	فرنسا
٣	الجزائر	فرنسا
٤	المغرب	فرنسا
٥	الريف المغربي - سبتة ومليلة	إسبانيا

وضحي أهمية الخليج العربي في القرون الوسطى

- منطقة بالغة الأهمية بالنسبة لتجارة الشرق ونتيجة لذلك: 2024 2025
دخل في دائرة الصراع الاستعماري بين البرتغال وهولندا وبريطانيا.

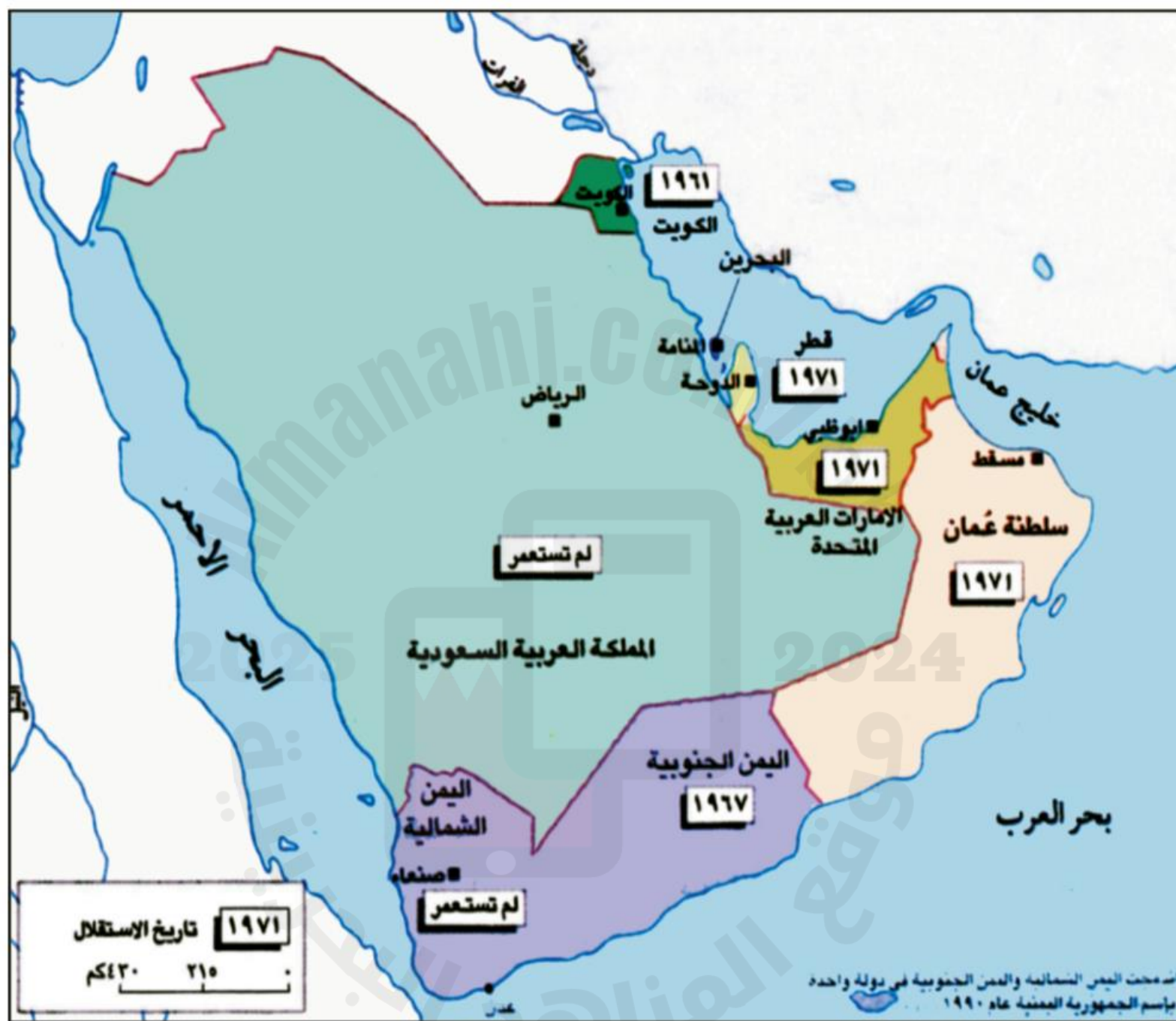


علي : عقدت بريطانيا سلسلة من المعاهدات مع مشايخ الخليج العربي

- تأمين طريق الهند.
- السيطرة على الثورة النفطية في الخليج العربي بعد اكتشافها في القرن ٢٠ م.
- السيطرة على تجارة الشرق (الموقع الاستراتيجي لمنطقة الخليج العربي)



موقع دول الخليج العربي وتاريخ الاستقلال



الشخصيات في سلطنة عمان وأهم أعمالهم (أسرة البوسعيد)

حكمت عمان بعد خروج البرتغاليين

حكمت سلطنة مسقط الساحل بعد ما انقسمت إلى سلطتين

الشخصيات في سلطنة عمان وأهم أعمالهم (سالم بن راشد)

حكم المنطقة الداخلية بعدما انقسمت عمان إلى
سلطتين

الشخصيات في سلطنة عمان وأهم أعمالهم (سعيد بن تيمور)

نجح في ضم عمان الداخلية لمسقط الساحلية وأصبحت
كلتاهما دولة واحدة

الشخصيات في سلطنة عمان وأهم أعمالهم (السلطان قابوس بن سعيد)



تولى حكم سلطنة عمان سنة ١٩٧٠ م

الشخصيات في سلطنة عمان وأهم أعمالهم - السلطان هيثم بن طارق



تولى حكم سلطنة عمان سنة ٢٠٢٠ م
بعد وفاة السلطان قابوس

خضوع ساحل عمان للحكم البرتغالي سنة ١٦١٥ م

لكونه أهم نقطة استراتيجية على مدخل
الخليج العربي.

الأسرة التي حكمت قطر
قبل قدوم آل ثاني إليها:

آل خليفة

الشخصيات في الكويت وأهم أعمالهم - صباح بن جابر

أول حكام الكويت

رفض مشروع الخط الحديد
واعترفت بريطانيا بإمارته

الشخصيات في الكويت وأهم أعمالهم - أحمد الجابر الصباح

- منح الشركات البريطانية والأمريكية امتياز التنقيب عن النفط
- ازدهرت الكويت في عهده
- تأسيس مدينة الأحمدية نسبة إلى الشيخ أحمد

الشخصيات في الكويت وأهم أعمالهم - عبدالله سالم الصباح

- تابع سياسة الإعمار.
- ألغى المحاكم الاجنبية.
- طالب بريطانيا بالاستقلال.
- أصدر عملة وطنية.

الشخصيات في الكويت وأهم أعمالهم - صباح الأحمد الصباح

تولى الحكم عام ٢٠٠٦ م

الشخصيات في الكويت وأهم أعمالهم - نواف الأحمد الصباح

تولى الحكم عام ٢٠٢٠ م

عرفت الامارات العربية
المتحدة في القرن ١٩ م بأسم

الساحل المتصالح

الجزر التي احتلتها إيران قبل الانسحاب البريطاني بيومين هي جزيرة و و



- طناب الكبير.
- طناب الصغير.
- أبو موسى.

ما موقف جامعة الدول العربية ومجلس التعاون الخليجي من
الاحتلال الإيراني للجزر الإماراتية الثلاث
(طنب الكبرى، طنب الصغرى ، أبو موسى)؟

- رفضت هذا الاحتلال.
- أكدت جامعة الدول العربية عروبة الجزر الثلاث .
- أدانت الاحتلال الإيراني.
- وأكد مجلس التعاون الخليجي على سيادة الامارات العربية على الجزر الثلاث.

أكبر إمارات الساحل المتصالح هي:



أبو ظبي



اتفاق أربع إمارات على إقامة اتحاد الإمارات العربية المتحدة سنة ١٩٧١ م هي و و و



- ام القيوين
- الفجيرة
- عجمان
- الشارقة

في عام ١٩٧١ م تم انتخاب حاكم أبوظبي رئيسا لها وهو وحاكم دبي نائب للرئيس وهو



انتخاب حاكم أبوظبي
رئيسا لها (الشيخ زايد بن
سلطان آل نهيان) وحاكم
دبي (راشد بن سعيد آل
مكتوم) نائب للرئيس.




خريطة هجرة آل خليفة

يرجع نسب آل خليفة إلى:

العتوب

أسباب التفاف سكان مدينة الزبارة حول الشيخ محمد بن خليفة بعد هجرته إليها سنة ١٧٦٢ م



إطلال قلعة مريير في قطر

- الورع ورجاحة العقل.
- تكريم العلماء والفقهاء.
- بناء المدارس والمساجد،
- بنى قلعة مريير

بماذا تميز عهد الشيخ خليفة بن محمد؟

- ازدهرت الزبارة.
- تصدى لحملة نصر بن مذكور حاكم بوشهر والبحرين.

بيني اثنتين من ردود الفعل الوطنية البحرينية للحد من النفوذ البريطاني في النصف الأول من القرن العشرين.

- تمكن الوطنيين البحرينيين بقيادة عبدالوهاب الزباني من إقناع حاكم البحرين بإنشاء مجلس تأسيسي يحد من النفوذ البريطاني.
- انعقاد مجلس وطني سنة ١٩٢٣ م.
- التوافق بين الحاكم والشعب مما أدى إلى أرغام بريطاني على الاكتفاء بتعيين بليغريف مستشارا لدى حكومة البحرين.
- شهدت الحركة الوطنية انتعاشة قوية نتيجة اكتشاف النفط وظهور فئات اجتماعية جديدة مثل العمال والطلاب.
- اتحاد الوطنيين البحرينيين سنة ١٩٣٨ م في المطالبة بالإصلاحات الإدارية والسياسية.
- صدور مجلة صوت البحرين في الإربعينات ، وقد نادت هذه المجلة بوضع حدّ للنفوذ البحريني.
- أصبحت الحركة الوطنية في الخمسينات أكثر شعبية، فقد ركزت في نقد السياسة البريطانية ودعت للحد من تدخل بليغريف في الاقتصاد والإدارة.

وضحي النتائج التي ترتبت على استقلال مملكة البحرين ١٩٧١ م.

- في ١٤ من اغسطس ١٩٧١ م اعلن **الشيخ خليفة** نيابة عن اخيه **الشيخ عيسى بن سلمان آل خليفة** بيان تضمن :
 - إنهاء جميع المعاهدات مع بريطانيا.
 - سيادة حكومة البحرين على كامل مجالها.
 - حق البحرين في الانضمام إلى المنظمات الإقليمية والدولية.

س: اتخذ حاكم البحرين لقب ؟

- وفي ١٦ اغسطس ١٩٧١ م صدر مرسوم أميري حيث اتخذ **الشيخ عيسى بن سلمان لقب أمير البحرين**.
- ١١ سبتمبر ١٩٧١ م انضمت البحرين إلى جامعة الدول العربية.
- ٢١ سبتمبر ١٩٧١ م انضمت إلى منظمة الأمم المتحدة كدولة مستقلة كاملة العضوية، وحرزت اعترافا دوليا سريعا.

وضحي الاصلاحات الدستورية في عهد الملك حمد بن عيسى آل خليفة (الاصلاح السياسي)

- اقرارميثاق العمل الوطني بنسبة ٩٨,٤% اثر استفتاء ٢٠٠١ م.
- صدر الدستور ٢٠٠٢ م
- اعلان البحرين مملكة دستورية.
- تعددت الجمعيات السياسية والمدنية ٥٢٦ جمعية ٢٠١١ م.
- توالى الانتخابات النيابية والبلدية كل أربع سنوات.
- تمت العناية بحقوق الانسان .
- تمكين المرأة البحرينية.
- تنفيذ عدة برامج توظيف حتى نزلت البطالة الى ٣,٦% عام ٢٠١١ م مما حقق التشغيل الكامل للموارد البشرية.
- صدرت الإصدارات الصحفية والمنتجات الثقافية.

ازدياد نشاط الحركة الوطنية البحرينية وقوتها خلال فترة الثلاثينات والأربعينات من القرن العشرين

- اكتشاف النفط.
- ظهور فئات جديدة مثل العمال والطلاب.
- اذ نشأت أولى المدارس في ١٩١٩ م ، فارتفع عدد الطلاب، وانتقل عدد من البحرينيين للدراسة في الخارج.
- وبعد الحرب العالمية الثانية انتشر المذيع ونشأت الصحافة.
- ازدياد نشاط الحركة التجارية، واستقرار فئات متزايدة بالمدن.
- تأسيس عدد من الأندية الأدبية والرياضية والنسائية.
- تأثير أزمة ١٩٢٩ م الازمة الاقتصادية الخميس الأسود.
- اتحاد الوطنيين سنة ١٩٣٨ م في الطالبة بالاصلاحات الإدارية والسياسية.
- صدور مجلة صوت البحرين في الاربعينات..، كان لعبد الرحمن الباكر دور مشهود في نشاطها.

بيني من أحداث الحركة الوطنية ومظاهرها منذ تولى سعد زغلول قيادتها حتى سنة ١٩٥٦ م

- طالب سعد زغلول بالاستقلال عن بريطانيا.
- أنشأ سعد زغلول حزب الوفد.
- اضطر الملك فؤاد إلى تكليف سعد زغلول برئاسة الوزراء.
- توج نضال حزب الوفد بالمعاهدة البريطانية المصرية سنة ١٩٣٦ م التي نصت على انسحاب الاحتلال البريطاني إلى منطقة القناة ووضع أمر حماية الأجانب في مصر على عاتق الحكومة المصرية.
- قامت ثورة الضباط الأحرار ضد الملك فاروق ١٩٥٢ م ، فالغت الملكية وأعلنت الجمهورية.
- أحلى جمال عبد الناصر الانجليز عن القناة ، وأممها بأسم الشعب المصري سنة ١٩٥٦ م

أولاً- اختر من العمود (ب) أسماء الشخصيات التاريخية المناسبة للعبارة المبينة في العمود (أ)، ثم أكتب الحرف الدال على الإجابة الصحيحة في المكان المخصص له:

العمود (أ)	الإجابة	العمود (ب)
1- وقّع معاهدة الحلف الفولاذي مع هتلر.	د	أ- السلطان سعيد بن تيمور.
2- نجح في ضمّ عُمان إلى مسقط سنة 1955م.	أ	ب- الشيخ حمد بن عيسى بن علي آل خليفة.
3- أقام اتحاد فدرالي مع إمارة أبوظبي سنة 1968م.	هـ	ج- الشيخ خليفة بن سلمان آل خليفة.
4- أعلن بيان 14 أغسطس 1971م في البحرين.	ج	د- موسوليني.
5- شهد عهده بدء استغلال النفط في البحرين.	ب	هـ- الشيخ راشد بن سعيد آل مكتوم.

بعد انتهاء الحرب العالمية الأولى قامت في ألمانيا أزمتان خطيرتان وهما:



- أزمة في الأوضاع الاقتصادية والاجتماعية.
- أزمة سياسية : رفض الشعب الألماني لمعاهدة فرساي ١٩١٩ م. لماذا؟
- بسبب اخضاعها للبلاد.

نتائج مؤتمر ميونيخ

- اجبر هتلر في المؤتمر كل من فرنسا وبريطانيا الاعتراف بحقة في النمسا والسوديت.
- تأكد هتلر من تفوق قوته العسكرية.
- أيقن الحلفاء انهم لن يستطيعوا أن يوقفوا مشاريع هتلر التوسعية. وأن الحرب واقعة لا محالة.
- بدأت كل قوة تعزز قوتها العسكرية استعدادًا للحرب.

أولاً- اختر من العمود (ب) أسماء الشخصيات التاريخية المناسبة للعبارة المبينة في العمود (أ)، ثم أكتب الحرف الدال على الإجابة الصحيحة في المكان المخصص له :

العمود (أ)	الإجابة	العمود (ب)
1- اعترفت بريطانيا باستقلال الكويت في عهده سنة 1961م.	هـ	أ- الشيخ محمد بن خليفة آل خليفة.
2- بنى قلعة مريز في الزبارة.	أ	ب- الملك حمد بن عيسى آل خليفة.
3- أقنع حاكم البحرين بإنشاء مجلس تأسيسي للحد من النفوذ البريطاني.	د	ج- الشيخ عيسى بن سلمان آل خليفة.
4- شهد عهده افتتاح جسر الملك فهد سنة 1986م.	ج	د- عبدالوهاب الزباني.
5- شهد عهده الاستفتاء على ميثاق العمل الوطني سنة 2001م.	ب	هـ - عبدالله السالم الصباح.

خلال الحرب العالمية الثانية التف التونسيون حول:

الباي محمد المنصف

فرنسا عزلت السلطان المغربي
ونفثته ، واندلعت ثورة مغربية أجبرت فرنسا على
إعادة السلطان إلى بلاده وهو السلطان

السلطان محمد الخامس

أعلنت كل من تونس والمغرب الاستقلال سنة

١٩٥٦ م

أعلنت ليبيا استقلالها سنة

١٩٥١ م

واجه الشعب المغربي الاستعمار
الأسباني والفرنسي بسلسلة من الثورات وأخطرها
التي قادها ضد الاحتلال
الأسباني للريف.

محمد عبد الكريم الخطابي

أصدر مؤسس الاتحاد الديمقراطي
بياناً دعا فيه إلى إشراك الجزائريين في إدارة شؤون
بلادهم وهو

فرحات عباس

استقلت الجزائر سنة

١٩٦٢م

أول رئيس إلى الجزائر هو

أحمد بن بلا

فقرة الاسئلة ؟



ثقتك بنفسك هي أهم عوامل النجاح

تمنيتي للجميع النجاح والتوفيق