

كراسة مراجعة شاملة ملف إنجاز الطالبة 2025 و 2026م



تم تحميل هذا الملف من موقع مناهج مملكة البحرين

موقع المناهج ← مناهج مملكة البحرين ← الصف التاسع ← تربية للمواطنة ← الفصل الثاني ← ملفات متنوعة ← الملف

تاريخ إضافة الملف على موقع المناهج: 2026-02-15 11:44:22

ملفات اكتب للمعلم اكتب للطالب | اختبارات الكترونية | اختبارات | حلول | عروض بوربوينت | أوراق عمل
منهج انجليزي | ملخصات وتقارير | مذكرات وبنوك | الامتحان النهائي | للمدرس

المزيد من مادة
تربية للمواطنة:

إعداد: آمال صالح

التواصل الاجتماعي بحسب الصف التاسع



صفحة مناهج مملكة
البحرين على
فيسبوك

الرياضيات

اللغة الانجليزية

اللغة العربية

التربية الاسلامية

المواد على تلغرام

المزيد من الملفات بحسب الصف التاسع والمادة تربية للمواطنة في الفصل الثاني

مذكرو شاملة ملف المواد الاجتماعية 2024 و 2025م

1

مذكرة نهاية الفصل رحلة شاملة في التاريخ الحديث والمعاصر 2024 و 2025م

2

مذكرة شاملة ومميزة بناء الوعي الوطني والقيم الإنسانية 2023 و 2024م

3

امتحان نهاية الفصل الدراسي الثاني للشهادة الإعدادية العامة للعام الدراسي 2023/2024

4

الإجابة النموذجية لامتحان نهاية الفصل الثاني

5



KINGDOM OF BAHRAIN

Ministry of Education



مملكة البحرين

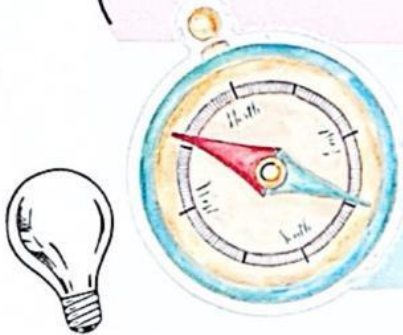
وزارة التربية والتعليم
مدرسة حراد الإعدادية للبنات

ملف إنجاز الطالبة في مادة الإجتماعيات الصف الثالث الإعدادي للفصل الدراسي الثاني 2025 – 2026

الملف لا يغني عن الكتاب المدرسي



اسم الطالبة: الصف:



رياضية (دوري في الصف)



المساندة



مؤقتة



المذيعة الصغيرة



المعلمة الصغيرة

إعداد: أ. جهاد عبد الرحمن

إشراف المعلمة الأولى: أ. آمال صالح



مساعدة المديرية:
أ. جميلة بالشوك

مديرة المدرسة:
أ. موزة صباح الكبيسي



تصميم الغلاف:
أ. زينب محمد

مدرسة عراد الإعدادية للبنات

رسالتنا

نحن في مدرسة عراد الإعدادية للبنات نسعى إلى تنشئة جيل منجز يمثل للقيم العربية والإسلامية، لتنمية مستدامة من خلال تقديم مشاريع وبرامج نوعية فاعلة في بيئة آمنة.

رؤيتنا

ع: عطاء
ر: ريادة
ا: انجاز
د: مستدام

قيمنا:

الريادة المؤثرة

الانضباط الذاتي

تحمل المسؤولية

الابتكار الرقمي

التواصل الإيجابي

المواطنة الحقة

التميز والإبداع

اتفاقية بين المعلمة والطالبة في المواد الاجتماعية

قواعد اتفاقية الطالبة في الصف	قواعد اتفاقية الطالبة مع المعلمة
(1) الاحترام المتبادل للزميلات. (2) الإلتزام بآداب الحوار خلال الدرس. (3) المحافظة على النظافة والممتلكات العامة في الفصل الدراسي . (4) التعاون في الدرس من خلال المشاركة الفعالة. (5) المحافظة على الهدوء . (6) الجد والإجتهاد والإلتزام بمواعيد تسليم المهام وملف الإنجاز. (7) الإلتزام بتميز ملف الإنجاز والمحافظة عليه كعنوان لشخصية الطالبة.	<ul style="list-style-type: none"> • احترام وقت الحصة. • الاحترام المتبادل بين المعلمة و الطالبة • التحضير المسبق للدرس والاستعداد للإختبار. • إحضار الكتاب المدرسي و ملف الإنجاز الخاص بالمادة. • الاستئذان وقت الحاجة لأي أمر طارئ ببطاقة الإستئذان . • عدم مضغ العلكة أو اللبان و الأكل داخل الصف الدراسي.
توقيع الطالبة :	


جدول تفعيل منظومة القيم للفصل الدراسي الثاني 2025-2026م

الشهر	القيمة
فبراير 2026م	الانضباط الذاتي/المواطنة الحقة
مارس 2026م	الإبتكار الرقمي
إبريل 2026م	التميز والإبداع
مايو 2026م	تحمل المسؤولية

نجوم الإجتماعيات

كلما شاركتي بفعالية ،تزداد جرتكِ نجمة

اجمعي النجوم خطوة بخطوة ، وكوني أكثر من يملأ جرة التميز!



متابعة ملف انجاز الطالبة في المواد الاجتماعية

ولي الأمر الفاضل.. إيماناً منا بأهمية التواصل بين المدرسة وبينكم وانطلاقاً من حرصنا على مصلحة بناتنا الطالبات، فإن
اطلاعكم على ملاحظات المعلمة حول أداء الطالبة الأكاديمي ومتابعتها يساعد على تطور مستواها التحصيلي وفق قدراتها
، لذا نرجو ملاحظه ما ترصده المعلمة في الملف أخذه بعين الاعتبار... شاكرين لكم حسن التعاون معنا .

توقيع ولي الأمر	ملاحظات ولي الأمر	ملاحظات المعلمة	تقييم المعلمة لملف الإنجاز	تاريخ المتابعة
			12	

المقرر الدراسي للمواد الاجتماعية للعام الدراسي الفصل الدراسي الثاني 2025-2026م

الوحدة الرابعة: تاريخ العالم والعرب الحديث والمعاصر

- 1- النهضة الأوروبية. (7 – 9)
- 2- حركة الاستعمار الأوروبي (10-13)
- 3- الحرب العالمية الأولى (1914-1918م) (14-16)
- 4- التآمر الاستعماري على المشرق العربي -الانتداب (17-19)
- 5- الأزمات الدولية (1919 -1939م) (20-23)
- 6- الحرب العالمية الثانية (1939 -1945م) (24-26)
- 7- حركة الاستقلال في المشرق العربي (27-30)
- 8- حركة الاستقلال في المغرب العربي (31-34)
- 9- تأسيس المملكة العربية السعودية (35-37)
- 10-استقلال دول الخليج العربية (1) (38-41)
- 11-استقلال دول الخليج العربية (2) (42-45)
- 12-البرتغاليون في البحرين (46-47)
- 13-هجرة آل خليفة إلى الزبارة والبحرين (48-51)
- 14-البحرين من 1821 إلى 1961م (52-54)
- 15-البحرين: تأسيس الدولة الحديثة (55-57)
- المبادرات** (58-59)
- نماذج امتحانات وزارية سابقة (60-73)

الدرس الأول: النهضة الأوروبية

السؤال الأول: أجبني عن الأسئلة التالية من خلال الإستعانة بالكتاب المدرسي ص 99 الفقرة 1



أولاً: ضعي علامة ☒ أو ☐ أمام العبارات التالية مع تصويب الخطأ إن وجد:

- 1- انطلقت النهضة الأوروبية من أوروبا الشرقية ().
- 2- ازدهرت المدن الإيطالية جنوة والبندقية وفلورنسا نتيجة حركة التجارة في البحر المتوسط ().
- 3- من الأسر الثرية والمتقفة التي كان لها دور في نهضة أوروبا أسرة مديتشي ().
- 4- العالم الذي تمكن من اختراع آلة الطباعة هو العالم الألماني أرخميدس ().
- 5- نشاط حركة الترجمة ساعد على دخول التأثيرات العربية الإسلامية إلى أوروبا ().



ثانياً : وضعي أهم العوامل التي ساعدت على النهضة الأوروبية.

ثالثاً : برأيك كيف أثرت اختراع آلة الطباعة على انتشار أفكار النهضة الأوروبية ؟

السؤال الثاني :-

استكملي الجدول المرفق أدناه والذي يوضح مظاهر النهضة الأوروبية في المجال (الفني والعلمي والديني) من خلال الرجوع للكتاب المدرسي ص 99 فقره 2.

المجال الفني	المجال العلمي	المجال الديني
1- انطلقت النهضة الفنية في أوروبا من	الذي أكد على أن الأرض كوكب ضمن المجموعة الشمسية هو	1-الذي تزعم حركة الإصلاح الديني في ألمانيا.....
2-من أهم الشخصيات الذين تخصصوا في تصميم القصور والكنائس وتزيينها	الذي أكد على أن الأرض كوكب ضمن المجموعة الشمسية هو	2- الذي نشر المذهب البروتستانتي في فرنسا
3- الذي تميز بإبراز العواطف الإنسانية من خلال المسرح	الذي أكد على أن الأرض كوكب ضمن المجموعة الشمسية هو	3-يعود له الفضل في الانفصال عن كنيسة روما
4-من هم مؤلفي الكتب التالية؟ يوتوبيا :..... الأمير في علم السياسة :.....	الذي أكد على أن الأرض كوكب ضمن المجموعة الشمسية هو	



برأيك هل ساهمت الحضارة العربية الإسلامية في النهضة الأوروبية؟

.....
.....

الوقفات التقويمية

أولاً: اختاري الإجابة الصحيحة من بين البدائل التالية :

1- انطلقت النهضة الأوروبية من :

أ.فرنسا ب.أسبانيا ج.إيطاليا د.ألمانيا

2- العالم الذي تمكن من اختراع آلة الطباعة عام 1448م هو :

أ.غوتنبرغ ب.فيثاغورس ج.أرخميدس د.نيوتن

3- حصلت أوروبا على المؤلفات العربية من :

أ.الحملة الفرنسية ب- القسطنطينية ج.الأندلس و صقلية د.روما

ثانياً: اذكر 2 من العوامل المساعدة على النهضة الأوروبية.

أ..... ب.....

ثالثاً: زاوجي العمود (أ) بما يناسبه من العمود (ب)

(أ)	رمز الإجابة	(ب)
1- البولوني الذي أكد على أن الأرض كوكب ضمن المجموعة الشمسية هو	أ.إيطاليا
2 الذي تزعم حركة الإصلاح الديني في ألمانيا هو	ب. توماس مور
3- انطلقت النهضة الفنية من	ج. جون كلفن
4- مؤلف كتاب يوتوبيا هو	د. كوبرنيكوس
5- نشر المذهب البروتستانتي في فرنسا	هـ . برطانيا
		و- مارتن لوثر

تقييم أداء الطالبة :													
التاريخ : / / 202م													
الوصف				التعزيز				التطوير					
() اجابتك صحيحه ودقيقة				() شكرا لك وأقدر جهودك				() راجعي إجابات لتصحيح الأخطاء					
() مراعاة الدقة في الإجابة				() محاولتك محل تقدير اثق في				() راجعي الكتاب لإكمال الناقص					
() ملفك ناقص / يحتاج الى تنسيق				قدرتك على التحسن				() أثري ملفك بالمبادرات					
/ كتابة التاريخ / تحسين الخط /متابعة				() خطك رائع وملفك متميز				() استعيني بالمعينات المتوفرة لاكمال					
التصويب الذاتي /الإجابة بالقلم الجاف الأزرق				() ملفك مرآة شخصيتك المتميزة				ملفك – الملخصات – البوابة التعليمية –					
() تابعي تصويب الأخطاء				والمبدعة				التيميز .					
				() بوركت جهودك، ملف انجاز متميز				() الالتزام بمواعيد تسليم ملف الإنجاز					
1	2	3	4	5	6	7	8	9	10	11	12		
يحتاج الى تطوير				مرضي				جيد				ممتاز	
ملاحظات ولي الأمر :													

الدرس الثاني: حركة الإستعمار الأوروبي

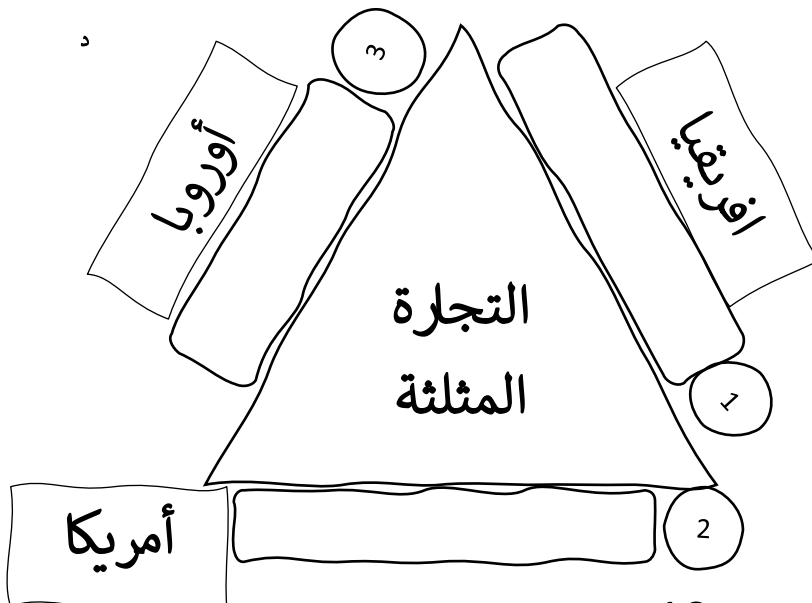
السؤال الأول: أجبني على الأسئلة التالية

أولاً: أكمل المخطط التالي والذي يوضح أهم الإمبراطوريات الإستعمارية الأوروبية خلال القرنين 17 و18م من خلال الإستعانة بالكتاب المدرسي ص 103 الفقرة 1

الإمبراطوريات الإستعمارية الأوروبية خلال القرنين 17 و18م

القرن 18م	القرن 17م	أواخر القرن 16م
- تراجع نفوذ.....و.....	انطلق على خط المنافسة الإستعمارية كل من :	أبرز الدول التي قادت حركة الكشوف الجغرافية و أول من بدأوا الإستعمار الأوروبي هم :
تحت ضغطو..... - نتيجة لحرب السبع سنوات بينهما تم إبرام معاهدة التي نصت على :		

ثانياً: تتبعي دورة حركة التجارة المثلثة من خلال ترتيب العبارات التالية في مكانها الصحيح على الشكل المرفق أمامك:



- العمل في المزارع والمناجم
- نقل المواد الغذائية المعادن
- شراء الرقيق

السؤال الثاني: وضح أهم العوامل (الأسباب) التي ساعدت على تسارع حركة الإستعمار الأوروبي نهاية القرن 19م من خلال الإستعانة بالكتاب المدرسي ص 103 الفقرة رقم 2

العوامل التي ساعدت على تسارع حركة الإستعمار الأوروبي نهاية القرن 19م

<p>.....</p> <p>تمثل العامل الديموغرافي في:</p> <p>.....</p> <p>تمثل العامل الإجتماعي في:</p> <p>.....</p>	<p>.....</p> <p>حيث نشأت لزمات بين الدول الاستعمارية ، أشهرها:</p> <p>.....X.....</p> <p>لزمة المغرب:.....X.....</p>	<p>.....</p> <p>بدأت في</p> <p><u>النتائج التي ترتبت على الثورة الصناعية</u></p> <p>أ.....</p> <p>ب.....</p> <p>ج.....</p> <p>د.....</p>
--	--	--

السؤال الثالث: استخلصي كيف تم اقتسام العالم بين القوى الإستعمارية بكتابة اسم الدولة المستعمرة للمستعمرات المرفقة أدناه من خلال الإستعانة بالكتاب المدرسي ص 103 الفقرة رقم 2 ب

الهند	افريقيا الشرقية	مصر	جبل طارق	مالطا	كندا	أستراليا	نيوزيلندا
افريقيا الشمالية	والغربية و	الاستوائية	والهند	الصينية	احتلت	أجزاء	في
جنوب	افريقيا	ليبيا -	لريتريا-	شمال	الصومال	انونيسيا	الكونغو
أنغولا	التوسع	في آسيا	منشوريا	شمال	الصين		



برأيك هل التجارة المثلثة لها دور في انتشار العبودية في أمريكا وأوروبا ؟ وضح إجابتك

.....

الوقفات التقويمية

أولاً: اختاري الإجابة الصحيحة من بين البدائل التالية :

• أواخر القرن 16م قاد حركة الإستعمار الأوروبي :

أ. أسبانيا والبرتغال ب-فرنسا وبريطانيا ج.ألمانيا وبلجيكا

• تزامنت حركة الإستعمار الأوروبي مع حركة :

أ.النهضة الأوروبية ب-الثورة الفرنسية ج.الكشوف الجغرافية

• التجارة المثلثة تقوم على شراء الرقيق من افريقيا ونقلهم للعمل في مزارع ومناجم:

أ. أوروبا ب.أمريكا ج.استراليا

ثانياً: اذكر أهم الدول الإستعمارية التي ازداد نفوذها خلال القرن 18م.

.....

ثالثاً: اذكر 2 من العوامل التي ساعدت على تسارع حركة الإستعمار الأوروبي خلال القرن 19م

.....

رابعا: ضعي علامة ☒ أو ☐ أمام العبارات التالية مع تصويب الخطأ إن وجد :-

-نشأت أزمة فاشودا بين فرنسا وألمانيا ()

-انطلقت الثورة الصناعية من بريطانيا ()

-بلغت حركة الإستعمار الأوروبي ذروتها مع قيام الثورة الصناعية في القرن 20م ()

خامسا : زواجي العمود (أ) بما يناسبه من العمود (ب)

العمود (أ) "الدول الإستعمارية"	رمز الإجابة	العمود (ب) "المستعمرات"
1-بريطانيا	أ. اندونيسيا
2-ألمانيا	ب. منشوريا
3-روسيا	ج. آسيا
4-هولندا	د. الهند - افريقيا الشرقية - مصر - جبل طارق
5-اليابان	هـ. جنوب شرق افريقيا

سادسا : اذكر أهم المستعمرات التي احتلتها الإمبراطورية الفرنسية ؟

.....

تقييم أداء الطالبة :											التاريخ : / / 202م			
الوصف				التعزيز				التطوير						
() اجابتك صحيحه ودقيقة				() شكرا لك وأقدر جهودك				() راجعي إجابات لتصحيح الأخطاء						
() مراعاة الدقة في الإجابة				() محاولاتك محل تقدير اثق في				() راجعي الكتاب لإكمال الناقص						
() ملفك ناقص / يحتاج الى تنسيق				قدرتك على التحسن				() أثري ملفك بالمبادرات						
/كتابة التاريخ / تحسين الخط /متابعة				() خطك رائع وملفك متميز				() استعيني بالمعينات المتوفرة لاكمال						
التصويب الذاتي /الإجابة بالقلم الجاف الأزرق				() ملفك مرآة شخصيتك المتميزة				ملفك – الملخصات – البوابة التعليمية –						
() تابعي تصويب الأخطاء				والمبدعة				التميز .						
() بوركك جهودك، ملف انجاز متميز				() الالتزام بمواعيد تسليم ملف الإنجاز										
1	2	3	4	5	6	7	8	9	10	11	12			
يحتاج الى تطوير				مرضي				جيد				ممتاز		
ملاحظات ولي الأمر :														

الدرس الثالث: الحرب العالمية الأولى (1914-1918م)

السؤال الأول: أجبني على الأسئلة التالية بحسب المرفق أدناه:

الحرب العالمية الأولى

أولاً: أكمل الفراغات التالية بالإجابات المناسبة:

1- قامت الحرب العالمية الأولى

عام..... وانتهت عام.....

2- من أسباب الحرب العالمية الأولى
الغير مباشرة

أ.....

ب.....

ج.....

ثانياً

- فسري: اندلاع الحرب العالمية الأولى
(السبب المباشر)؟

.....

.....

4- سمّ التحالفات التي تشكلت في الحرب
العالمية الأولى؟

.....

x

.....

ثالثاً:

5- برأيك هل أثرت

الحرب العالمية الأولى

على النظام السياسي

والاقتصادي في

أوروبا؟ مع التوضيح

السؤال الثاني: أولاً: صنف أحداث الحرب العالمية الأولى بحسب كل مرحلة من مراحل الحرب من خلال

الإستعانة بالكتاب المدرسي ص105 الفقرة رقم 2

1- محاولة فاشلة للأتراك لتحرير قناة السويس من الانجليز 2- دخول الولايات المتحدة الحرب إلى جانب دول الحلفاء

3- اجتياح الألمان بلجيكا وشمال فرنسا 4- تميزت بالثبات في المواقع 5- انسحاب روسيا من الحرب

6- تمكن الانجليز والفرنسيون من وقف الزحف الألماني في معركة المارن الأولى 1915م. 7- قيام ثورة الشريف حسين في الحجاز

8- هزيمة ألمانيا النهائية في معركة المارن الثانية عام 1918م 9- اقتصار العمليات العسكرية فيها على أوروبا

10- انتصار فرنسا وبريطانيا على ألمانيا في معركة فردان 11- دخول تركيا الحرب إلى جانب دول التحالف الثلاثي

المرحلة الأولى	المرحلة الثانية	المرحلة الثالثة

ثانياً: استناداً إلى النشاط السابق قارني بين المعارك التالية من حيث السنوات والأطراف والنتائج:

وجه المقارنة	المارن الأولى	فردان	المارن الثانية
السنة
الأطراف X X X
النتائج

السؤال الثالث : أكمل الخارطة الذهنية التالية والتي تمثل نتائج الحرب العالمية الأولى من خلال الإستعانة بالكتاب المدرسي ص 105 الفقرة رقم 3

نتائج الحرب العالمية الأولى 1914-1918م

برأيك ما هو الحدث الذي مثل تحولاً في مجرى الحرب العالمية الأولى و غير نهايتها ؟ وضح إجابتك

.....

.....

الوقفات التقييمية

أولاً: اذكر 2 من أسباب قيام الحرب العالمية الأولى ؟

1-..... 2-.....

ثانياً : أكمل الفراغات التالية بالإجابات المناسبة :-

أ- سميت الحرب العالمية الأولى بالحرب الكبرى بسبب

ب- من أسباب التنافس الإستعماري

ثالثاً: ضع علامة ☒ أو ☐ أمام العبارات التالية مع تصويب الخطأ إن وجد:-

() أ) فشل الانجليز والفرنسيون في وقف الزحف الألماني في معركة المارن الأولى 1915م.

() ب) انتهت الحرب العالمية الأولى بهزيمة الألمان في معركة المارن الثانية 1918م

() ج) شهدت الحرب نجاح الأتراك في تحرير قناة السويس من الانجليز

رابعاً: فسري: انسحاب روسيا من الحرب العالمية الأولى 1917م؟

.....

خامساً: اذكر 3 من نتائج الحرب العالمية الأولى ؟

أ..... ب.....

ج.....

تقييم أداء الطالبة :												التاريخ :						/		/		202م			
الوصف				التعزيز				التطوير																	
() اجابتك صحيحه ودقيقة				() شكرا لك وأقدر جهودك				() راجعي إجابات لتصحيح الأخطاء																	
() مراعاة الدقة في الإجابة				() محاولتك محل تقدير اثق في				() راجعي الكتاب لإكمال الناقص																	
() ملفك ناقص / يحتاج الى تنسيق				قدرتك على التحسن				() أثري ملفك بالمبادرات																	
/كتابة التاريخ / تحسين الخط /متابعة				() خطك رائع وملفك متميز				() استعيني بالمعينات المتوفرة لاكمال																	
التصويب الذاتي /الإجابة بالقلم الجاف الأزرق				() ملفك مرآة شخصيتك المتميزة				ملفك – الملخصات – البوابة التعليمية –																	
() تابعي تصويب الأخطاء				والمبدعة				التميز .																	
() بوركت جهودك، ملف انجاز متميز				() الالتزام بمواعيد تسليم ملف الإنجاز																					
1		2		3		4		5		6		7		8		9		10		11		12			
يحتاج الى تطوير						مرضي						جيد						ممتاز							
ملاحظات ولي الأمر :																									

الدرس الرابع: التآمر الإستعماري على المشرق العربي- الإنتداب

السؤال الأول: أكمل الجدول التالي والذي يمثل أهم المؤتمرات والاتفاقيات التي تمت بين الدول الإستعمارية الأوروبية تجاه المشرق العربي من 1916-1920م من خلال الإستعانة بالكتاب المدرسي ص 109 الفقرة رقم 1

المؤتمر / الإتفاقية	السنة	الأطراف	مكان الإنعقاد	البنود- النتائج-الهدف
سايكس بيكو	-مندوب..... الخارجية البريطانية -مندوب..... ممثل فرنسا -مندوب.....	مدينة سنت بطرسبرغ في روسيا	1-..... (الإنجليز والفرنسيون) 2-.....(روسيا) 3-.....(منطقة دولية)
وعد بلفور
مؤتمر الصلح	1..... 2-أهملت مطالب الأمير فيصل بإستقلال العرب و وحدتهم .
مؤتمر سان ريمو	مدينة سان ريمو في إيطاليا	1-تنظيم الإنتداب في المشرق العربي وفقا لاتفاقية 2-وضع فلسطين تحت الإنتداب.....

خطوات تنفيذ الإنتداب الفرنسي والبريطاني على سوريا والعراق وفلسطين

السؤال الثاني: أولاً: صنفى الأحداث التالية والتي توضح كيف تم تنفيذ المؤامرة "الإنتداب" على كل من

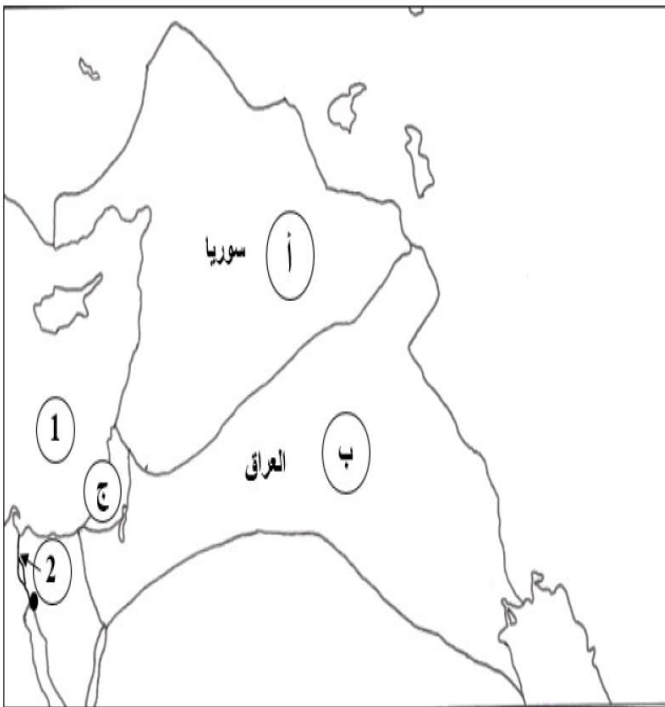
العراق والشام بحسب الجدول المرفق أدناه من خلال الإستعانة بالكتاب المدرسي ص 109 الفقرة 2

- فتحت أبواب الهجرة أمام اليهود -إثارة الفتن بين العرب والأكراد - قيام ثورات بين سنتي 1936 - 1939م.
- تعيين الجنرال غورو مندوباً رسمياً لها -الانتفاضة ضد بريطانيا عام 1920م -توجيه إنذارا للأمير فيصل لمغادرة الشام
- تعيين فيصل بن الحسين ملكاً على العراق. - احتلال دمشق -قيام دولة لبنان الكبير واستحداث أربع دويلات في سوريا

الإنتداب الفرنسي على سوريا	الإنتداب البريطاني على العراق	المؤامرة على فلسطين

ثانياً: أمامك خريطة صماء توضح تقسيمات سايكس بيكو سنة 1916م، لاحظي الخريطة جيداً ثم أجبني عن الأسئلة المرفقة بالجدول أدناه:

مهارة تحليل
الخريطة



الرقم	العبرة	الاجابة
1	المنطقة (أ) خضعت للسيطرة والنفوذ
2	المنطقة (ب) خضعت للسيطرة والنفوذ
3	اسم المنطقة الدولية (ج)
4	اسم المسطح المائي رقم (1)
5	اسم قناة رقم (2)



اختاري أحد الأنشطة المرفقة أدناه وأجبي عليه

1- اكتبي مقالاً صحفياً مختصراً حول القضية الفلسطينية.

2- صممي شعاراً أو ملصقاً يدعم القضية الفلسطينية .

الوقفات التكوينية

أولاً) أكمل الفراغات التالية بالإجابات الصحيحة:

أ-شهد القرن هجمة استعمارية شرسة على الوطن العربي.

ب- نصّت اتفاقية سايكس بيكو على

ج- الاتفاقية التي نصّت على إقامة وطن قومي لليهود في فلسطين هي

د- المؤتمر الذي نصّ على تقاسم غنائم الحرب بين الدول المنتصرة هو

هـ- مؤتمر سان ريمو نصّ على

ثانياً : ضعي علامة ☒ أو ☐ أمام العبارات التالية مع تصويب الخطأ إن وجد:

أ) عينت فرنسا الجنرال اللنبي مندوباً رسمياً لها على سوريا ()

ب) أخذت فرنسا تثير الفتن في العراق بين العرب والأكراد مما أدى إلى انتفاضة العراقيين عام 1920م ()

ثالثاً: وضحى مراحل تنفيذ الإنتداب البريطاني على فلسطين ؟

-
-

تقييم أداء الطالبة :												التاريخ :				/		/		202م							
الوصف				التعزيز				التطوير																			
() اجابتك صحيحه ودقيقة				() شكرا لك وأقدر جهودك				() راجعي إجابات لتصحيح الأخطاء																			
() مراعاة الدقة في الإجابة				() محاولتك محل تقدير اثق في				() راجعي الكتاب لإكمال الناقص																			
() ملفك ناقص / يحتاج الى تنسيق / كتابة				قدرتك على التحسن				() أثري ملفك بالمبادرات																			
التاريخ / تحسين الخط /متابعة التصويب الذاتي				() خطك رائع وملفك متميز				() استعيني بالمعينات المتوفرة لاكمال																			
/الإجابة بالقلم الجاف الأزرق				() ملفك مرآة شخصيتك المتميزة				ملفك - الملخصات - البوابة التعليمية -																			
() تابعي تصويب الأخطاء				والمبدعة				التميز .																			
				() بوركت جهودك، ملف انجاز				() الالتزام بمواعيد تسليم ملف الإنجاز																			
متميز																											
1		2		3		4		5		6		7		8		9		10		11		12					
يحتاج الى تطوير						مرضى						جيد						ممتاز									
																								ملاحظات ولي الأمر :			

الدرس الخامس: الأزمات الدولية (1919-1939م)

(أولاً: انعكاسات اتفاقيات الصلح)


السؤال الأول: أكمل الخارطة الذهنية التالية والتي توضح انعكاسات اتفاقيات الصلح على كل من الإتحاد السوفيتي وإيطاليا وألمانيا وذلك من خلال الإستعانة بالكتاب المدرسي الفقرة رقم 1 ص 111



ألمانيا النازية



إيطاليا الفاشية



الإتحاد السوفيتي

Blank box for notes under Germany.

Blank box for notes under Italy.

Blank box for notes under USSR.

Blank box for notes under Germany.

Blank box for notes under Italy.

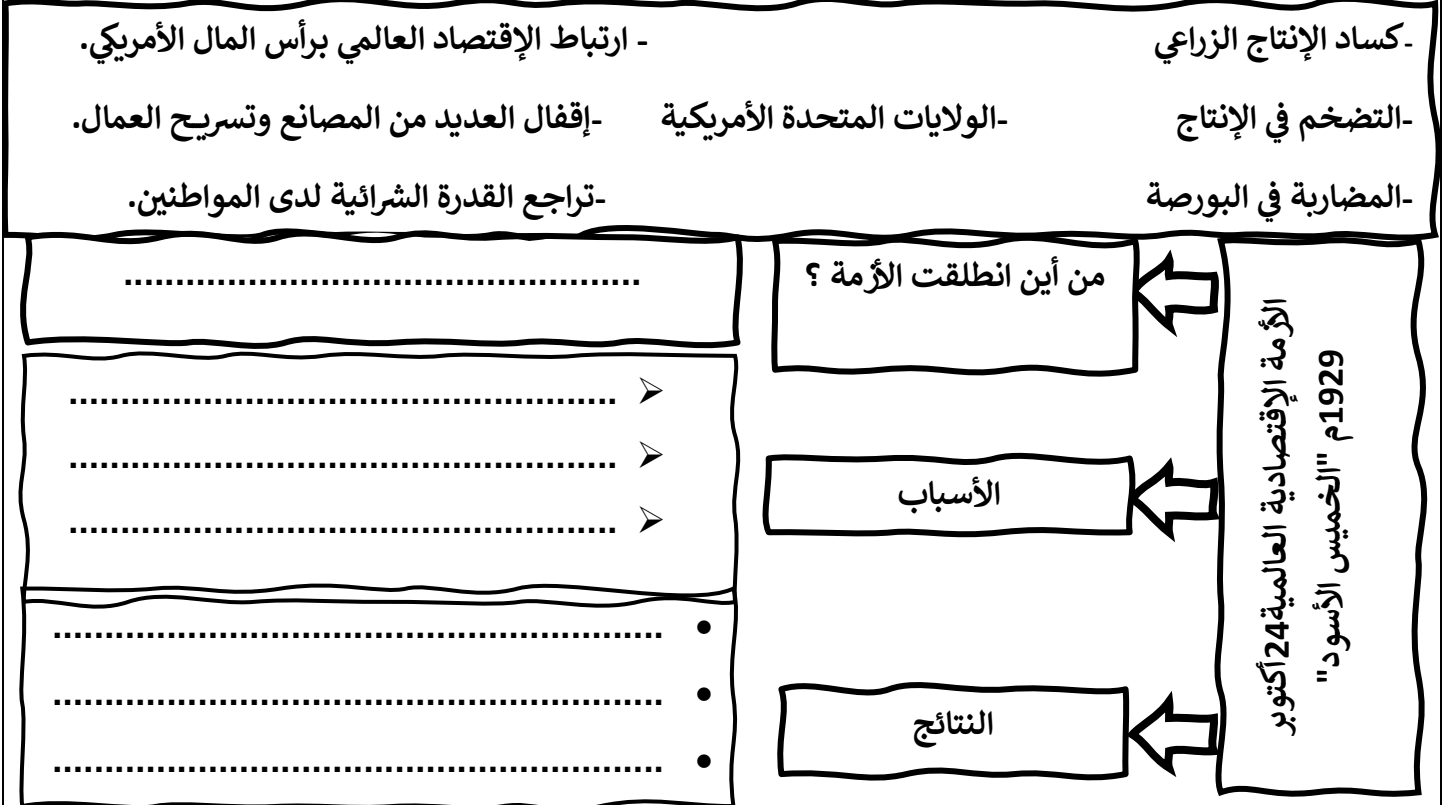
Blank box for notes under USSR.

Blank box for notes under Germany.

Blank box for notes under Italy.

(ثانيًا الأزمة الإقتصادية العالمية)


السؤال الثاني : صنفى الأحداث التالية والتي تمثل أسباب ونتائج الأزمة الإقتصادية العالمية بحسب معطيات المخطط التالي:



السؤال الثالث : استخلصي أبرز ملامح التوتر الدولي بين سنتي (1931-1938م) من خلال الإستعانة

بالكتاب المدرسي ص 111 الفقرة رقم 3

ملامح التوتر الدولي (1931-1938م)





استنادا إلى بنود معاهدة فرساي الموضحة أدناه : هل تري في هذه البنود قرارًا من الحلفاء بتحويل ألمانيا إلى دولة ضعيفة ؟ أثبت رأيك

٤ معاهدة فرساي (بعض البنود)

البند ٤٢: تُمنَع ألمانيا من بناء تحصينات على ضفتي نهر الراين.

البند ٤٣: تُمنَع ألمانيا من تأليف وتجميع قوات مسلحة برية أو بحرية أو جوية.

البند ١١٩: تتنازل ألمانيا للحلفاء عن ممتلكاتها الواقعة في ما وراء البحار

البند ٢٣١: تعلن الدول الحليفة، كما تعلن ألمانيا، مسؤولية هذه الأخيرة عن قيام الحرب، والتعويض عن الخسائر التي لحقت بالدول الحليفة التي فرضت عليها هذه الحرب، نتيجة تعرضها لعدوان ألمانيا وحلفائها.

البند ٢٣٣: تدفع ألمانيا تعويضات خسائر الحرب للدول المتضررة منها. أما تحديد قيمة هذه التعويضات فهي من صلاحيات لجنة مختصة تقام لهذه الغاية.

نص مترجم من أرشيف وزارة الخارجية الفرنسية

الوقوفات التقويمية

أولاً: أكمل الفراغات التالية بالإجابة المناسبة:

أ) خسرت روسيا مساحات شاسعة من أراضيها نتيجة معاهدة

ب) ظهر الحزب في إيطاليا بزعامة

ج) المعاهدة التي أخذ هتلر يدعو الشعب الألماني لرفضها هي معاهدة

د) ما هو الحزب الذي تزعمه هتلر ؟

ثانياً: أ- فسري انطلاق الأزمة الإقتصادية العالمية عام 1929م من الولايات المتحدة الأمريكية ؟

-
-
-

ب- وضح النتائج التي ترتبت على الأزمة الإقتصادية العالمية عام 1929م ؟

-
-

ثالثاً: اذكرى 2 من ملامح التوتر الدولي من 1931-1938 م ؟

أ..... ب.....

-ما هو المؤتمر الذي أجبرت ألمانيا من خلاله فرنسا وبريطانيا على الاعتراف بحقها في ضم النمسا والسوديت؟.....

نشاط ختامي:

أكمل الجدول التالي والذي يوضح أطراف مؤتمر ميونيخ وأسبابه والنتائج التي تترتب عليه

المؤتمر	الأطراف	الأسباب	النتائج
ميونيخ 1938م xو.....

تقييم أداء الطالبة : التاريخ : / / 202م													
الوصف				التعزيز				التطوير					
() اجابتك صحيحه ودقيقة				() شكرا لك وأقدر جهودك				() راجعي إجابات لتصحيح الأخطاء					
() مراعاة الدقة في الإجابة				() محاولتك محل تقدير اثق في قدرتك على التحسن				() راجعي الكتاب لإكمال الناقص					
() ملفك ناقص / يحتاج الى تنسيق / كتابة التاريخ / تحسين الخط / متابعة التصويب الذاتي / الإجابة بالقلم الجاف الأزرق				() خطك رائع وملفك متميز				() أثري ملفك بالمبادرات					
() تابعي تصويب الأخطاء				() ملفك مرآة شخصيتك المتميزة والمبدعة				() استعيني بالمعينات المتوفرة لاكمال ملفك - الملخصات - البوابة التعليمية - التميز .					
				() بوركت جهودك، ملف انجاز متميز				() الالتزام بمواعيد تسليم ملف الإنجاز					
1	2	3	4	5	6	7	8	9	10	11	12		
يحتاج الى تطوير				مرضى				جيد				ممتاز	
ملاحظات ولي الأمر :													

الدرس السادس: الحرب العالمية الثانية (1939-1945م)

السؤال الأول: أجيبي على الأسئلة التالية:

الحرب العالمية الثانية

ثالثا:



هـ- برأيك هل
ساهمت
سياسة ألمانيا
التوسعية في
اندلاع الحرب
العالمية
الثانية؟ مع
التعليل

ثانيا:



ب- فسري اندلاع شرلة الحرب
العالمية الثانية (السبب المباشر) ؟

.....

.....

د- هناك مقدمات أخرى (أسباب
مباشرة) ساهمت في اندلاع الحرب
العالمية الثانية ..وضحى ذلك.

1.....

.....

2.....

.....

3.....

.....

4.....

.....

أولا: أكمل الفراغات التالية بالإجابات المناسبة:

أ- قامت الحرب العالمية الثانية عام

..... وانتهت عام

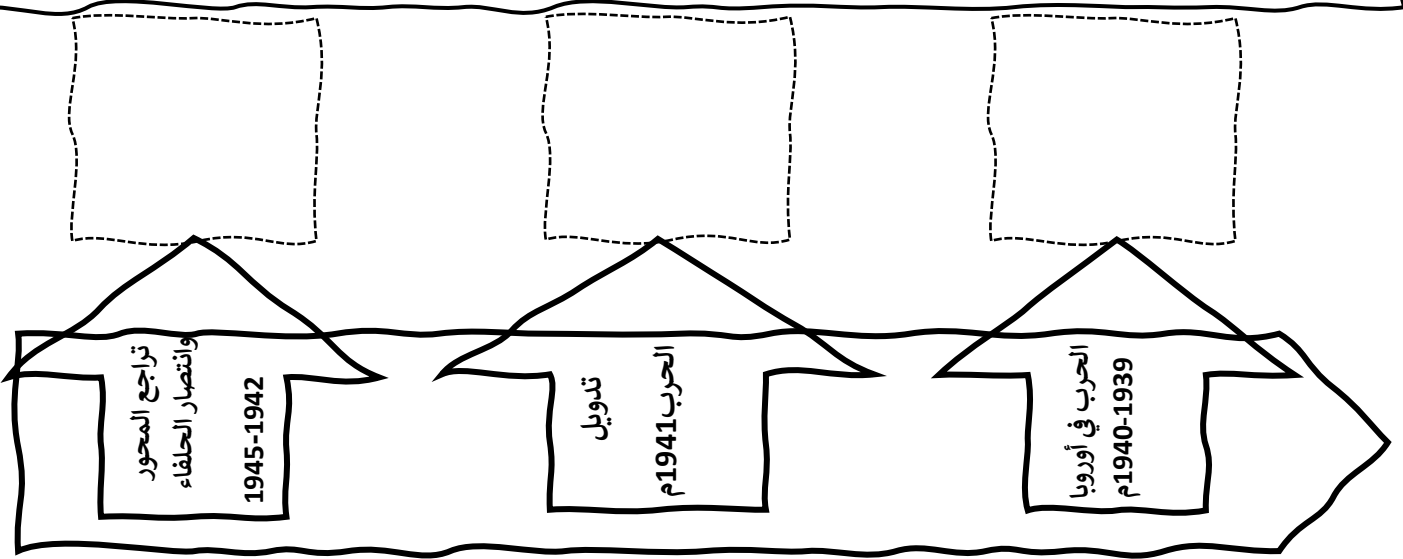
ب- الدولتان اللتان أعلنتا الحرب على

ألمانيا هماو.....

مراحل الحرب العالمية الثانية

السؤال الثاني : أولاً-صنفي أحداث الحرب العالمية الثانية على الخط الزمني المرفق أدناه بحسب كل مرحلة من مراحل الحرب العالمية الثانية من خلال الإستعانة بالكتاب المدرسي ص113 الفقرة رقم 2"أ- ب-ج"

- 1-تمكن الجيش السوفيتي من إيقاف الألمان على أبواب موسكو 2-احتلال ألمانيا الدانمارك والنرويج ثم هولندا وبلجيكا وفرنسا
- 3-انتصار الجيش السوفيتي على الألمان في معركة ستالينغراد 4- استسلام اليابان 5- هاجمت اليابان الأسطول الأمريكي في بيرل هاربر
- 6- هدنة فرنسية ألمانية وقّعها من الجانب الفرنسي المارشال بيتان



ثانياً: تدويل الحرب العالمية الثانية ؟

أ..... ب.....

السؤال الثالث: استخلصي النتائج التي ترتبت على الحرب العالمية الثانية.

- 1.....
- 2.....
- 3.....

اكتبي فقرة عن الآثار السلبية للحروب على تقدم الدول والبشرية

.....

الوقفات التقويمية

أولاً: أكمل الفراغات التالية بالإجابات المناسبة

أ- الدولتان اللتان أعلنتا الحرب على ألمانيا سنة 1939م هما.....و.....

ب- وقع هتلر معاهدة الحلف الفولاذي مع.....، ومعاهدة عدم الاعتداء مع.....

ثانياً : فسر إعلان بريطانيا وفرنسا الحرب على ألمانيا عام 1939م؟

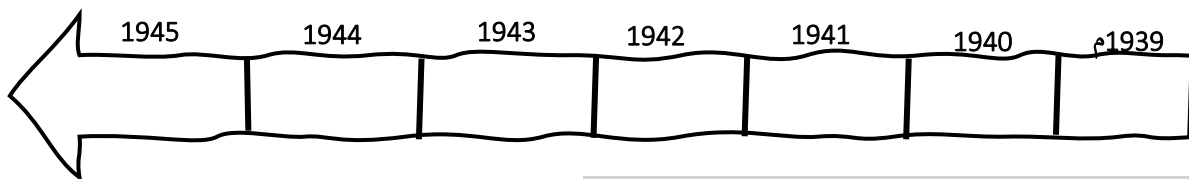
.....

ثالثاً فسر : دخول الولايات المتحدة الأمريكية الحرب العالمية الثانية ضد دول المحور سنة 1941م؟

.....

2- اكتب الأحداث والوقائع التاريخية لمراحل الحرب العالمية الثانية "في أماكنها الصحيحة على الخط الزمني الوارد أمامك:

"1- تدويل الحرب-2- معركة العلمين وستالينغراد-3- بداية الحرب العالمية الثانية 4- تحرير فرنسا من الاحتلال الألماني-5- نهاية الحرب العالمية الثانية-6- سقوط النظام الفاشي الإيطالي 7- احتلال ألمانيا لفرنسا"



رابعاً: اذكر 3 من نتائج الحرب العالمية الثانية ؟

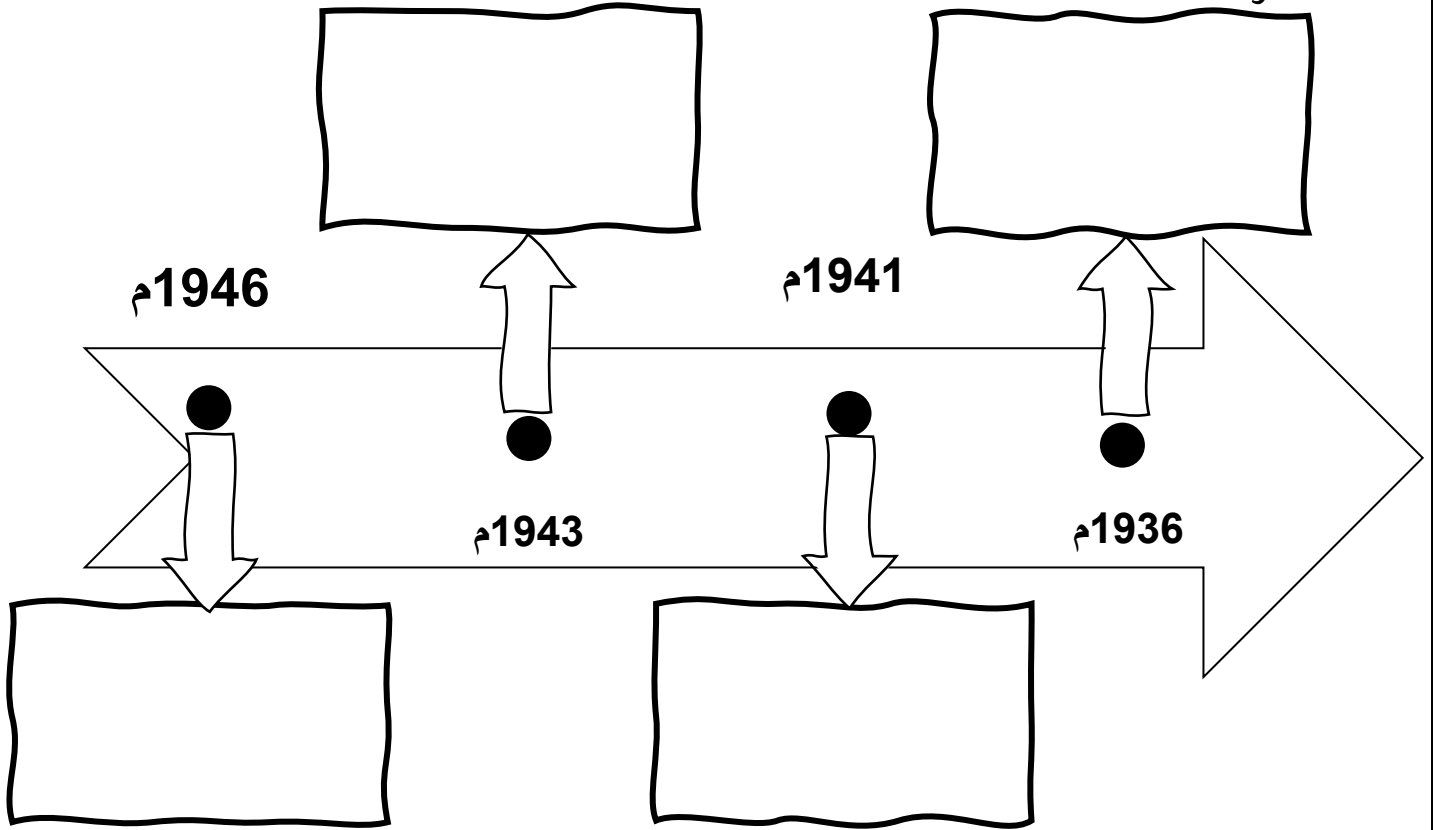
أ..... ب.....

ج.....

تقييم أداء الطالبة :												التاريخ :				/		/		202م											
الوصف				التعزيز				التطوير																							
() اجابتك صحيحه ودقيقة				() شكرا لك وأقدر جهودك				() راجعي إجابات لتصحيح الأخطاء																							
() مراعاة الدقة في الإجابة				() محاولتك محل تقدير اثق في				() راجعي الكتاب لإكمال الناقص																							
() ملفك ناقص / يحتاج الى تنسيق / كتابة				قدرتك على التحسن				() أثري ملفك بالمبادرات																							
التاريخ / تحسين الخط / متابعة التصويب الذاتي				() خطك رائع وملفك متميز				() استعيني بالمعينات المتوفرة لاكمال																							
/الإجابة بالقلم الجاف الأزرق				() ملفك مرآة شخصيتك المتميزة				ملفك – الملخصات – البوابة التعليمية – التميز																							
() تابعي تصويب الأخطاء				والمبدعة				.																							
() بوركت جهودك، ملف انجاز متميز				() الالتزام بمواعيد تسليم ملف الإنجاز																											
1		2		3		4		5		6		7		8		9		10		11		12									
يحتاج الى تطوير						مرضي						جيد						ممتاز													
																								ملاحظات ولي الأمر :							

الدرس السابع: حركة الإستقلال في المشرق العربي

السؤال الأول: تتبعي على الخط الزمني أبرز أحداث استقلال سوريا من خلال الرجوع للكتاب المدرسي الفقرة 1 - أ ص 115



السؤال الثاني: رتبي الأحداث التالية المتعلقة بحركة استقلال لبنان من خلال الرجوع للكتاب المدرسي الفقرة 1 - ب ص 115

- () مظاهرات أجبرت فرنسا على الاعتراف باستقلال لبنان في 22 نوفمبر 1943م
- () إجراء انتخابات نيابية أسفرت عن انتخاب بشارة الخوري رئيساً للجمهورية.
- () إلغاء المواد المتعلقة بالإننتداب الفرنسي من الدستور اللبناني.
- () اعتقال الزعماء الوطنيين من قبل الانتداب الفرنسي.
- () تشكيل حكومة وطنية.

السؤال الثالث: صنفى الأحداث التالية في الجدول المرفق أدناه والتي توضح مراحل استقلال

العراق بحسب الفترة الزمنية التي وقعت فيها "يمكنك الإستعانة بالكتاب المدرسي" ص 115

- 1- انزال عسكري بريطاني في البصرة واحتلال بغداد وتنصيب الأمير عبد الإله الوصي على العرش في السلطة
- 2- قيام حكومة العراقية بالموافقة على دخول حلف بغداد سنة 1955م. 3- انقلاب بعض القادة العراقيين على النظام الملكي
- 4- تحالف العراق مع ألمانيا للتخلص من بريطانيا 5- السلطة الفعلية لدى المندوب البريطاني
6. معارضة العراقيين لحلف بغداد لتكريسه سياسة الهيمنة البريطانية. 7. تنصيب فيصل بن الحسين ملكاً على العراق
8. اعتراف بريطانيا باستقلال العراق 9. ثورة 14 يوليو وإلغاء النظام الملكي وإعلان الجمهورية 10. قطع العلاقات مع بريطانيا

1921م	1932م	1941م	1955م	1958م

السؤال الرابع:- أجبني على الأسئلة المرفقة أدناه من خلال الإستعانة بالكتاب المدرسي ص

115 الفقرة رقم 3

مراحل التطور السياسي في مصر

أولاً: أكمل الفراغات التالية بالإجابة المناسبة

- أ- ظلت مصر اسمياً ولاية حتى قيام
- ب- وصل السلطان فؤاد الأول إلى العرش عام واتخذ لنفسه لقب
- ج- تولى قيادة الحركة الوطنية المصرية المطالبة بالإستقلال هو حيث أنشأ حزب
- د- قامت ثورة الضباط الأحرار في مصر عام

ثانياً:

- أ- اذكرى البنود التي نصت عليها المعاهدة البريطانية المصرية عام 1936م.
- أ.....
- ب.....
- ب- وضحى انعكاسات "أثر" ثورة 1952م "الضباط الأحرار" على مصر ؟
- أ.....
- ب.....

ثالثاً:

- برأيك لماذا يمكن اعتبار ثورة 1952م نقطة تحول في تاريخ مصر السياسي؟



كانت الدول الإستعمارية دائما تدّعي أنها أتت لتطوير الدول والشعوب العربية... برأيك هل هذه الإدعاءات صحيحة ؟ مع توضيح الهدف الحقيقي من الإستعمار استنادًا لما درستي

.....
.....

الوقفات التقويمية

أولاً: أكمل الفراغات التالية بالإجابة المناسبة :-

- الذي قام بإلغاء الإنتداب الفرنسي على سوريا ولبنان هو الجنرال
- تم استبدال الإنتداب الفرنسي على سوريا ب.....
- أول رئيس للجمهورية السورية هو
- تم جلاء الفرنسيون عن سوريا عام

ثانياً : أ. ضع علامة ☒ أو ☐ أمام العبارات التالية مع تصويب الخطأ إن وجد:

- 1- أسفرت الإنتخابات النيابية في لبنان عن انتخاب شكري القوتلي رئيساً للجمهورية ()
- 2- أجبرت فرنسا على الاعتراف باستقلال لبنان عام 1940م ()

ب- بم تفسري : اعتقال سلطات الإنتداب الفرنسي الزعماء الوطنيين في لبنان؟

.....

ثالثاً : رتبى الأحداث التاريخية لتاريخ العراق الآتية بالارقام من (1) إلى (5) حسب وقوعها من الأقدم إلى الأحدث: ☐

.....
قيام ثورة 14 يوليو وإعلان الجمهورية	وقع إنقلاب (مايو 1941م)	تنصيب فيصل بن الحسين ملكاً على العراق	اعتراف بريطانيا بإستقلال العراق سنة 1932م	دخول العراق حلف بغداد

رابعاً: فسري تحالف العراقيين مع الألمان خلال الحرب العالمية الثانية ؟

.....

خامساً: أجيبي على الأسئلة التالية

أولاً: اختاري الإجابة الصحيحة من بين البدائل التالية

- قامت ثورة الضباط الأحرار في مصر سنة 1952م ضد الملك :

أ.فؤاد الأول ب.محمد توفيق ج.فاروق د.حسين كامل.

• الحزب الذي أنشأه قائد الحركة الوطنية المصرية سعد زغلول يُسمى:

أ. الإستقلال ب. الوفد ج. بغداد د. الحرية.

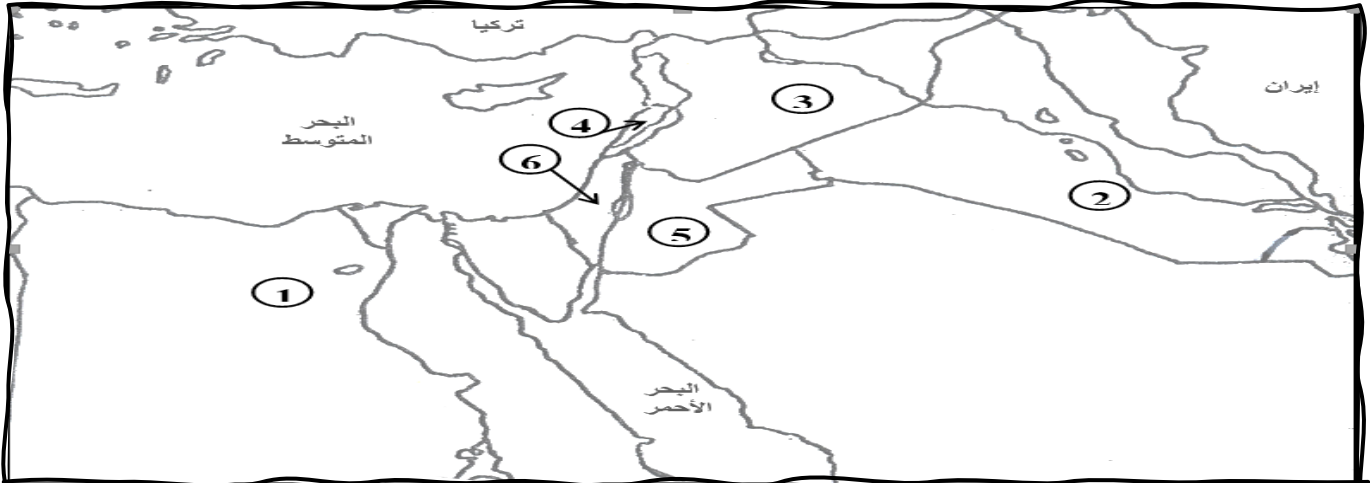
ثانياً: اذكرى البنود التي نصت عليها المعاهدة البريطانية المصرية عام 1936م؟

أ.....

ب.....

نشاط ختامي أمامك خريطة صماء لدول المشرق العربي، اكتب ما تمثله الأرقام التي عليها بالجدول الذي يليها حسب

البيانات الواردة فيه



الرقم على الخريطة	الدولة العربية	الدولة الأوروبية الاستعمارية	سنة الاستقلال
1	1922
2	1932
3	1943
4	1943
5	1946
6	لم تستقل

تقييم أداء الطالبة :												التاريخ :				202م	
الوصف				التعزيز				التطوير									
() اجابتك صحيحة ودقيقة				() شكرا لك وأقدر جهودك				() راجعي إجابات لتصحيح الأخطاء									
() مراعاة الدقة في الإجابة				() محاولتك محل تقدير اثق في				() راجعي الكتاب لإكمال الناقص									
() ملفك ناقص / يحتاج الى تنسيق				قدرتك على التحسن				() أثري ملفك بالمبادرات									
/كتابة التاريخ / تحسين الخط /متابعة				() خطك رائع وملفك متميز				() استعيني بالمعينات المتوفرة لاكمال									
التصويب الذاتي /الإجابة بالقلم الجاف الأزرق				() ملفك مرآة شخصيتك المتميزة				ملفك – الملخصات – البوابة التعليمية –									
() تابعي تصويب الأخطاء				والمبدعة				التميز .									
() بوركت جهودك، ملف انجاز متميز				() الالتزام بمواعيد تسليم ملف الإنجاز													
1	2	3	4	5	6	7	8	9	10	11	12						
يحتاج الى تطوير				مرضي				جيد				ممتاز					
ملاحظات ولي الأمر :																	

الدرس الثامن - حركات الإستقلال في المغرب العربي

السؤال الأول:- أجبني على الأسئلة المرفقة أدناه من خلال الإستعانة بالكتاب المدرسي ص 117 الفقرة 1

الحركة الاستقلالية في ليبيا (1922-1951م)

أولاً: أكمل الفراغات التالية بالإجابات المناسبة :

- أ- الدولة التي استعمرت ليبيا هي.....
- ب- اتخذت المقاومة الليبية ضد الإستعمار
طابعاً و
- ج- بلغت المقاومة الليبية ذروتها عام
..... حيث تسلم رايتهما حتى
تم أسره وإعدامه عام.....
- د- قاتل الليبيون خلال الحرب العالمية الثانية
بجانب أملاً في التخلص من
الإستعمار الإيطالي.

ثانياً

- فسري : استخدام الإستعمار الإيطالي
في ليبيا أعنف الأساليب الإستعمارية؟
- أ.....
- ب.....
- ب-وضحي انعكاسات "أثر" عدم التزام
بريطانيا وفرنسا بوعودهم تجاه ليبيا؟
- أ.....
- ب.....
- ج.....
- د.....

ثالثاً

- برأيك
ما الدليل على
أن الليبيون
كانوا متحدين
في رغبتهم
بالإستقلال
بعد انتهاء
الإستعمار؟
- (من خلال
الفقرة)

السؤال الثاني : أكمل الفراغات التالية بالإجابة الصحيحة والتي توضح مراحل استقلال تونس من خلال
الإستعانة بالكتاب المدرسي ص 117 الفقرة رقم 2

- 1- تصدى التونسيون للإستعمار وأنشأوا أحزاباً عدة طالبت بالاستقلال
- 2- خلال الحرب العالمية التف الشعب التونسي حول الباي وأيد موقف
..... الداعي إلى مساندة
- 3- عقد الوطنيون في سنة مؤتمراً وطنياً دعا إلى الاستقلال ورفض الحماية الفرنسية.
- 4- وفي سنة نشأت مقاومة مسلحة في بعض المدن والجبال فمنحت فرنسا حكماً ذاتياً.
- 5- أجبرت على الاعتراف باستقلال البلاد في.....

السؤال الثالث: ضعي علامة (✓) أو (×) أمام ما يلي من العبارات التالية والتي توضح مراحل الحركة الإستقلالية في المغرب مع تصويب الخطأ إن وجد:-

- 1-واجه الشعب المغربي الإستعمارين الإسباني والفرنسي ().
- 2- من أخطر الثورات التي قامت في المغرب تلك التي قادها محمد عبدالكريم الخطابي ضد الإحتلال الفرنسي للريف المغربي ().
- 3-نادى حزب الوفد بزعامة علال الفاسي بإستقلال المغرب وعرويته ().
- 4-السلطان الذي ساند علال الفاسي في مطالبه هو السلطان محمد الخامس ().
- 5-أجبرت فرنسا على الإعتراف بإستقلال المغرب عام 1956م ().

السؤال الرابع:- تتبني حركة المقاومة الجزائرية من 1926 إلى 1962م بإستكمال الخارطة الذهنية المرفقة أدناه من خلال الإستعانة بالكتاب المدرسي ص 117 الفقرة رقم 4

الحركة الإستقلالية في الجزائر (1926-1962م)



ابحثي عن الدور التاريخي للقائد محمد عبدالكريم الخطابي في مقاومة الإحتلال الإسباني للريف المغربي .

.....
.....

الوقفات التقويمية

أولاً : أكملّي الفراغات التالية بالإجابة المناسبة:-

- 1- وقعت ليبيا تحت الإحتلال
- 2- الذي قاد المقاومة الليبية ضد الإستعمار هو
- 3- قاتل الليبيون في الحرب العالمية الثانية بجانب
- 4- أصبح ملكاً على ليبيا عام 1951 هو

ثانياً : اذكرين حدثين من مراحل استقلال تونس ؟

.....-
.....-

ثالثاً: زاوجي العمود (أ) بما يناسبه من العمود (ب)

(أ)	رمز الإجابة	(ب)
1- واجه الشعب المغربي الإستعمارين	أ. 1956م
2 الذي قاد المقاومة ضد الإحتلال الإسباني للريف المغربي	ب. الفرنسي والألماني
3- الحزب الذي نادى بإستقلال المغرب هو حزب	ج. محمد عبدالكريم الخطابي
4- تم إعلان استقلال المغرب عام	د. السلطان محمد الخامس
5- الذي ساند حزب الإستقلال في مطالبه هو	هـ . الإستقلال
		و- الفرنسي والأسباني

ب- من هو زعيم حزب الإستقلال ؟

رابعاً: صوبي ما تحته خط:

- مؤسس جمعية نجم شمال افريقيا هو فرحات عباس (.....)
- أعلن الجنرال مصالي الحاج اعترافه بمبدأ استقلال الجزائر. (.....)
- أصدر بيانا يدعو إلى إشراك الجزائريين في إدارة شؤون البلاد هو ديغول. (.....)
- أول رئيس للجزائر بعد الإستقلال هو علال الفاسي. (.....)

نشاط ختامي : حددي الدول المستعمرة و تواريخ استقلال دول المغرب العربي الواردة في الجدول



الدولة	الدولة المستعمرة	تاريخ الإستقلال
ليبيا
تونس
المغرب
الجزائر

تقييم أداء الطالبة :												التاريخ :				/ / 202م	
الوصف				التعزيز				التطوير									
() اجابتك صحيحه ودقيقة				() شكرا لك وأقدر جهودك				() راجعي إجابات لتصحيح الأخطاء									
() مراعاة الدقة في الإجابة				() محاولتك محل تقدير اثق في				() راجعي الكتاب لإكمال الناقص									
() ملفك ناقص / يحتاج الى تنسيق				قدرتك على التحسن				() أثري ملفك بالمبادرات									
/كتابة التاريخ / تحسين الخط /متابعة				() خطك رائع وملفك متميز				() استعيني بالمعينات المتوفرة لاكمال									
التصويب الذاتي /الإجابة بالقلم الجاف الأزرق				() ملفك مرآة شخصيتك المتميزة				ملفك – الملخصات – البوابة التعليمية –									
() تابعي تصويب الأخطاء				والمبدعة				التميز .									
() بوركت جهودك، ملف انجاز متميز				() بوركت جهودك، ملف انجاز متميز				() الالتزام بمواعيد تسليم ملف الإنجاز									
1	2	3	4	5	6	7	8	9	10	11	12						
يحتاج الى تطوير				مرضي				جيد				ممتاز					
ملاحظات ولي الأمر :																	

الدرس التاسع- تأسيس المملكة العربية السعودية

السؤال الأول: أجبني على الأسئلة التالية والتي توضح أبرز أحداث تأسيس نواة الدولة السعودية

تأسيس نواة الدولة

أولاً: أكمل الفراغات التالية بالإجابات

المناسبة :

1- الأسرة التي كانت تحكم نجد عام

1890م بمساعدة العثمانيين هم

.....

2- لجأ الأمير عبدالرحمن آل سعود

وابنه عبدالعزيز إلى

ثانياً:

كان الملك عبدالعزيز آل سعود
رغم حداثة سنه مقداً وطموحاً
إلى استعادة حكم أسرته في نجد
...وضحي ذلك

1-

.....

.....

2-

.....

.....

3-

.....

.....

4-

.....

.....

5-

.....

.....

ثالثاً:

برأيك أي العوامل
الآتية كان له الدور
الأكبر في نجاح
الملك عبدالعزيز
آل سعود في
تأسيس نواة الدولة
السعودية
وتوحيدها؟

أ) الاعتماد على
القوة العسكرية

ب) الصفات
القيادية (الحكمة -
الصبر - التخطيط
الجيد)

ج) الموقع الجغرافي
للمملكة


د) الدعم الخارجي
دون مجهود داخلي

السؤال الثاني : وضح العلاقة بين الملك عبدالعزيز وبريطانيا خلال الحرب العالمية الأولى.

- 1.....
- 2.....
- 3.....

السؤال الثالث: صففي الأحداث التالية على الخط الزمني المرفق أدناه والتي توضح خطوات قيام المملكة العربية السعودية

1- استسلام المدينة المنورة 2- توحيد شبه الجزيرة العربية في دولة واحدة أطلق عليها المملكة العربية السعودية 3- توقيع معاهدة الطائف واعتراف اليمن بحدود السعودية 4- زحف القوات السعودية إلى مكة المكرمة 5- انتصار القوات السعودية على جيش الشريف حسين 6- تمكن الملك عبدالعزيز من إخضاع اقليم عسير 7- انسحاب علي بن الشريف حسين من مكة ودخول السعوديون منتصرون 8- قيام الحرب بين اليمن والسعودية 9- اعتراض إمام اليمن (يحيى حميد الدين) على ضم عسير إلى السعودية .



السؤال الرابع: وضح أبرز خطوات المملكة العربية السعودية نحو طرق النهضة والتقدم .

- 1.....
- 2.....
- 3.....
- 4.....

الوقفات التقويمية

أولاً: أكمل الفراغات التالية بالإجابة الصحيحة :

- 1- في سنة 1912 م سيطر الملك عبدالعزيز على ووسع نفوذه إلى
- 2- تمكن الأمير السعودي عبدالعزيز من تحقيق النصر على قوات الدولة العثمانية عام حيث أجبرهم على الانسحاب عام

ثانياً: اذكر أسباب الصراع بين الملك عبدالعزيز آل سعود والإنجليز والشريف حسين.

.....

.....

.....

ثالثاً: اكتب السنة التي وقعت بها الأحداث التالية :

- 1- استسلام المدينة المنورة ()
- 2- توحيد شبه الجزيرة العربية في دولة واحدة أطلق عليها المملكة العربية السعودية ()
- 3- توقيع معاهدة الطائف واعتراف اليمن بحدود السعودية () .

رابعاً: فسر: نهضة المملكة العربية السعودية (يكتفى بذكر سببين)

أ.....

ب.....

تقييم أداء الطالبة :												التاريخ :				/ / 202م	
الوصف				التعزيز				التطوير									
() اجابتك صحيحة ودقيقة				() شكرا لك وأقدر جهودك				() راجعي إجابات لتصحيح الأخطاء									
() مراعاة الدقة في الإجابة				() محاولتك محل تقدير اثنى في				() راجعي الكتاب لإكمال الناقص									
() ملفك ناقص / يحتاج الى تنسيق				قدرتك على التحسن				() أثري ملفك بالمبادرات									
/كتابة التاريخ / تحسين الخط /متابعة				() خطك رائع وملفك متميز				() استعيني بالمعينات المتوفرة لإكمال									
التصويب الذاتي /الإجابة بالقلم الجاف الأزرق				() ملفك مرآة شخصيتك المتميزة				ملفك – الملخصات – البوابة التعليمية –									
() تابعي تصويب الأخطاء				والمبدعة				التميز .									
() بوركت جهودك، ملف انجاز متميز				() الالتزام بمواعيد تسليم ملف الإنجاز													
1	2	3	4	5	6	7	8	9	10	11	12						
يحتاج الى تطوير				مرضي				جيد				ممتاز					
ملاحظات ولي الأمر :																	

الدرس العاشر - استقلال دول الخليج العربية "1"

السؤال الأول: أجبني على الأسئلة التالية والتي توضح خصائص التطور السياسي في سلطنة عمان وأبرز المحطات في مسيرته نحو الإستقلال:

التطور السياسي في سلطنة عمان

أولاً: أكمل الفراغات التالية بالإجابات المناسبة:

1- الدولة الإستعمارية التي سيطرت على

ساحل عمان عام 1615م هي

2- الأسرة التي حكمت عمان بعد طرد الدولة

الإستعمارية هي

3- وقعت ثورة العمانيون الثانية على

الإحتلال البريطاني عام

4- الذي يعود له الفضل في ضم عمان

ومسقط في دولة واحدة

هو عام

5- استقلت سلطنة عمان عام في

عهد

ثانياً:

أ. عددي النتائج التي ترتبت على

انتفاضة العمانيون على الحماية

البريطانية عام 1913م؟

.....1

.....2

ب. فسري: خضوع ساحل عمان

للحكم البرتغالي؟ " نماذج من اسئلة

امتحانات وزرية نهائية"

.....

.....

ثالثاً:

برأيك كيف

ساهمت

سياسات

السلطان

قابوس بن

سعيد في

تعزيز

استقلال

سلطنة عمان

وتطورها بعد

رحيل

الإستعمار

البريطاني؟

السؤال الثاني: أكمل الجدول التالي والذي يوضح خصائص التطور السياسي لدولة قطر وأبرز إنجازات الأسرة الحاكمة حتى نيل الإستقلال من خلال الإستعانة بالكتاب المدرسي ص 133 الفقرة رقم 2

الفترة الزمنية / الشخصية	الخصائص / أهم الأعمال
أوائل القرن 18
الشيخ محمد بن ثاني آل ثاني	1..... 2.....
الشيخ عبدالله بن قاسم آل ثاني نصت على : أ..... ب.....
الشيخ علي بن عبدالله آل ثاني
الشيخ أحمد بن علي آل ثاني	1..... 2.....
الشيخ خليفة بن حمد آل ثاني
الشيخ حمد بن خليفة آل ثاني
الشيخ تميم بن حمد آل ثاني

بعد أن تعرفنا على مسيرة دولتي سلطنة عمان وقطر نحو الإستقلال ما هي الصورة التي تمثل الدولة المحتلة ؟ وما هي الصورة التي تمثل الدولة المستقلة ؟ مع التوضيح



2



1

39

إعداد أ. جهاد عبدالرحمن

الوقفات التاريخية

أولاً: أكمل الفراغات التالية بالإجابات المناسبة:-

- 1- الدولة الإستعمارية التي سيطرت على ساحل عمان عام 1615م.....
- 2- الأسرة التي حكمت عمان بعد طرد الدولة الإستعمارية هم
- 3- استقلت سلطنة عمان عام
- 4- الذي يحكم سلطنة عمان حالياً هو

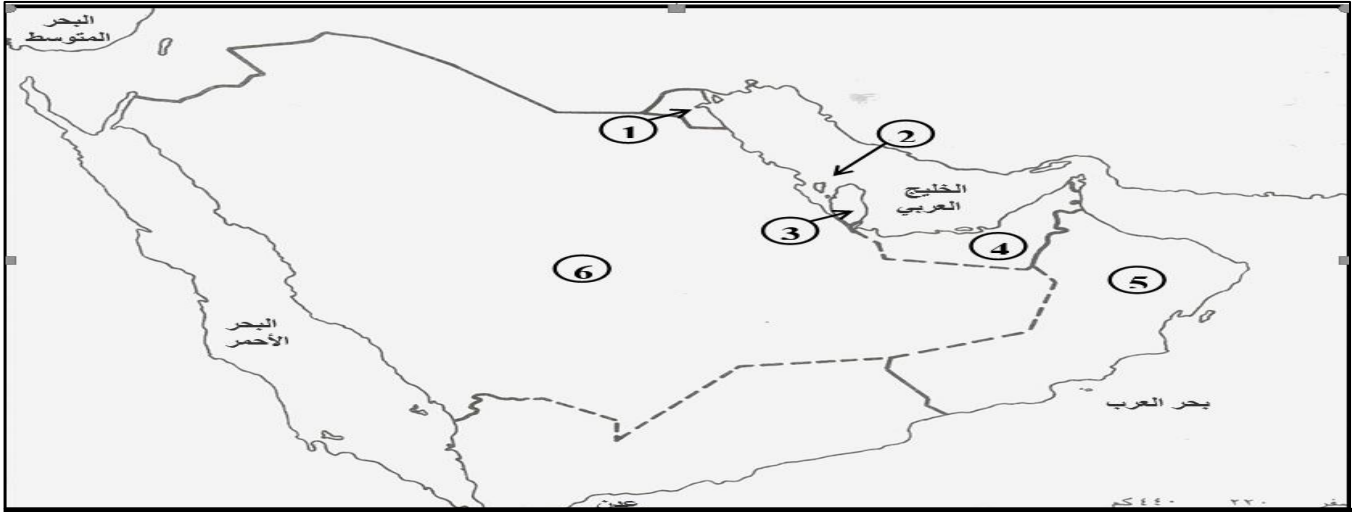
ثانياً : قومي بتصنيف الأحداث التاريخية على الخط الزمني في مكانها المناسب:

- تنازل الشيخ حمد بن خليفة آل ثاني عن الحكم لابنه الشيخ تميم بن حمد آل ثاني.
- تسلم الحكم في قطر الشيخ خليفة بن حمد آل ثاني
- قديم آل ثاني إلى قطر التي كان يحكمها آل خليفة من إقليم الوشم في نجد
- حصلت بريطانيا على امتياز التنقيب عن النفط

القرن 18م	1926م	1972م	2013م

نشاط ختامي

أمامك خريطة صماء لدول الخليج العربية، اكتب ما تمثله الأرقام التي عليها بالجدول الذي يليها حسب البيانات الواردة فيه



الرقم على الخريطة	الدولة العربية	الدولة الأوروبية الاستعمارية	سنة الاستقلال
1	1961
2	1971
3	1971
4	1971
5	1971
6	لم تستعمر

تقييم أداء الطالبة :												التاريخ :				/ / 202م	
الوصف				التعزيز				التطوير									
() اجابتك صحيحه ودقيقة				() شكرا لك وأقدر جهودك				() راجعي إجابات لتصحيح الأخطاء									
() مراعاة الدقة في الإجابة				() محاولتك محل تقدير اثق في				() راجعي الكتاب لإكمال الناقص									
() ملفك ناقص / يحتاج الى تنسيق				قدرتك على التحسن				() أثري ملفك بالمبادرات									
/ كتابة التاريخ / تحسين الخط /متابعة				() خطك رائع وملفك متميز				() استعيني بالمعينات المتوفرة لاكمال									
التصويب الذاتي /الإجابة بالقلم الجاف الأزرق				() ملفك مرآة شخصيتك المتميزة				ملفك – الملخصات – البوابة التعليمية –									
() تابعي تصويب الأخطاء				والمبدعة				التميز .									
() تابعي جهودك، ملف انجاز متميز				() الالتزام بمواعيد تسليم ملف الإنجاز													
1	2	3	4	5	6	7	8	9	10	11	12						
يحتاج الى تطوير				مرضي				جيد				ممتاز					
ملاحظات ولي الأمر :																	

الدرس الحادي عشر: استقلال دول الخليج العربية "2"

السؤال الأول: أكمل الخارطة الذهنية التالية: والتي توضح أهم المحطات في مسيرة استقلال الكويت حتى بناء الدولة الحديثة وأبرز أعمال حكام الكويت بعد انتهاء الحرب العالمية الأولى من خلال الإستعانة بالكتاب المدرسي ص 135
الفقرة رقم 1-ب

(بعد انتهاء الحرب العالمية الأولى تولى حكم الكويت)



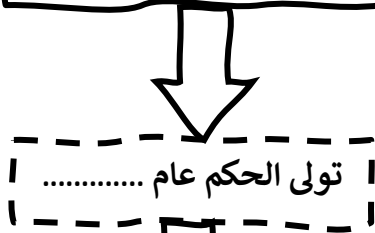
3-صباح الأحمد الصباح



2-عبدالله السالم الصباح "1950م"

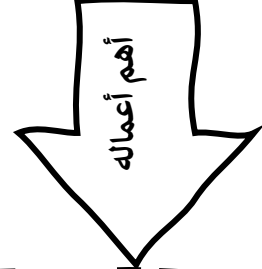
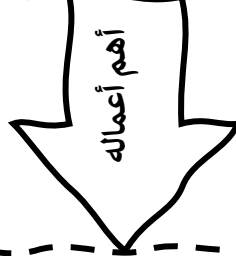


1-أحمد الجابر الصباح "1921م"



4-نواف الأحمد الصباح

تولى الحكم عام



السؤال الثاني: أكمل الجدول التالي والذي تستعرضين من خلاله أهم المحطات في مسيرة إمارات الساحل المتصالح نحو الإستقلال والوحدة "الإمارات العربية المتحدة" من خلال الكتاب المدرسي ص 135
الفقرة رقم 2

-تشكل دولة الإمارات العربية المتحدة من إمارات وهي،.....،.....،.....،.....،.....،.....	
-عُرفت الإمارات العربية المتحدة خلال القرن 19م بإسم	
.....	1960م
.....	1968م
.....	1971م
.....	18 فبراير 1968م
.....---	2 ديسمبر 1971م
.....-	فبراير 1972م
.....-	2004م
.....-	قبل الإنسحاب البريطاني بيومين
.....--	موقف الإمارات من احتلال إيران للجزر الثلاث
.....--	6 ديسمبر 1971م



ما رأيك في موقف جامعة الدول العربية ومجلس التعاون الخليجي من الإحتلال الإيراني للجزر الإماراتية الثلاث؟

.....
.....

الوقفات التـقـويمية

أولاً: اذكرى 2 من أعمال الشيخ عبدالله السالم الصباح؟

-
-

ثانياً: إلى من تنسب هذه الأعمال بحسب الوارد أدناه:

-منح الشركات البريطانية والأمريكية امتياز التنقيب عن النفط (.....).

-تولى حكم الكويت عام 2006م (.....).

-تولى الشيخ نواف الأحمد الصباح الحكم عام (.....).

ثالثاً: زاوجي العمود (أ) بما يناسبه من العمود (ب)

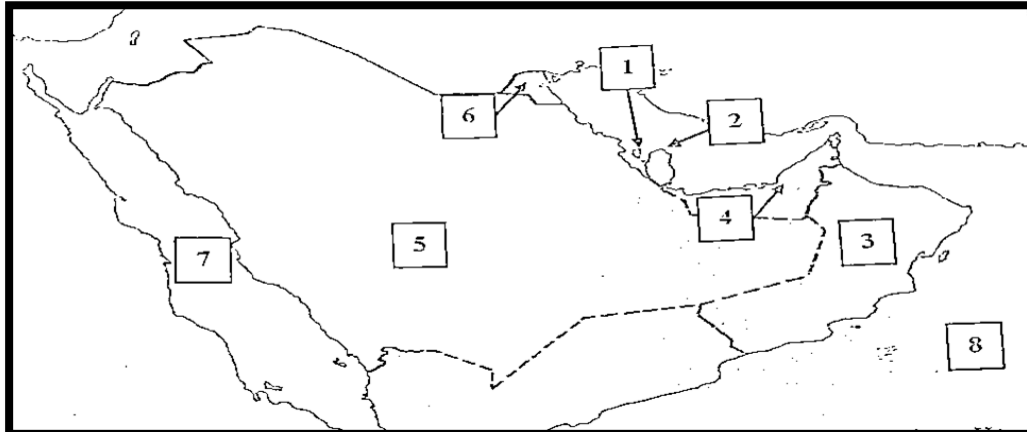
العمود (أ)	رمز الإجابة	العمود (ب)
1- عرفت الإمارات خلال القرن 19م بإسم	أ. أبوظبي
2- أول إمارة برزت بعد اكتشاف النفط بها هي	ب. 1968م
3- أعلنت بريطانيا عزمها على الإنسحاب من الساحل في موعد أقصاه	ج. الشيخ زايد بن سلطان آل نهيان
4- تم إقامة اتحاد فيدرالي بين إمارتي دبي وأبوظبي عام	د. الشيخ راشد بن سعيد آل مكتوم
5- الذي انتخب رئيساً للإمارات	هـ. الساحل المتصالح
6- الذي أصبح نائباً لرئيس دبي هو	و- 1971م

ب- سمّ الجزر الإماراتية الثلاث التي احتلتها إيران؟

.....

نشاط ختامي

أمامك خريطة صماء لدول الخليج العربية، اكتب ما تمثله الأرقام التي عليها بالجدول الذي يليها بحسب البيانات الواردة فيه



أ. أسماء دول الخليج العربية، والمتمثلة في الأرقام التالية (1،2،3،4)

1- 2-.....

3- 4-.....

ب- الدولة الخليجية التي لم تستعمر، المتمثلة في الرقم (5).

5.

ج- الدولة الخليجية التي نالت استقلالها عام 1961م، متمثلة في الرقم (6).

6-

د- المسطحات المائية المجاورة لدول الخليج العربية، متمثلة في الأرقام (7،8)

7- 8-.....

تقييم أداء الطالبة : التاريخ : / / 202م													
الوصف				التعزيز				التطوير					
() اجابتك صحيحه ودقيقة () مراعاة الدقة في الإجابة () ملفك ناقص / يحتاج الى تنسيق /كتابة التاريخ / تحسين الخط /متابعة التصويب الذاتي /الإجابة بالقلم الجاف الأزرق () تابعي تصويب الأخطاء				() شكرا لك وأقدر جهودك () محاولاتك محل تقدير اثق في قدرتك على التحسن () خطك رائع وملفك متميز () ملفك مرآة شخصيتك المتميزة والمبدعة () بوركت جهودك، ملف انجاز متميز				() راجعي إجابات لتصحيح الأخطاء () راجعي الكتاب لإكمال الناقص () أثري ملفك بالمبادرات () استعيني بالمعينات المتوفرة لاكمال ملفك – الملخصات – البوابة التعليمية – التميز . () الالتزام بمواعيد تسليم ملف الإنجاز					
1	2	3	4	5	6	7	8	9	10	11	12		
يحتاج الى تطوير				مرضي				جيد				ممتاز	
ملاحظات ولي الأمر :													

الدرس الثاني عشر-البرتغاليون في البحرين

السؤال الأول:- زواجي بين العمود "أ" وما يناسبه من العمود "ب" والتي توضح كيف تمت السيطرة البرتغالية على البحرين وأسباب عدم استقرار نفوذهم

العمود "ب"	الإجابة	العمود "أ"
أ.قادوا حركة المقاومة الخليجية	1-سيطرالبرتغاليون على قواعد بحرية في الخليج العربي نتيجة للصراع بين
ب. مقاومة السكان المحليين و منافسة قوى أجنبية متعددة لهم.	2- في سنة 1521م بسط البرتغاليون نفوذهم في البحرين بصعوبة لأنهم
ج - الدولة العثمانية والصفوية في إيران	3- لم يستقرالنفوذ البرتغالي في المنطقة بالرغم من استيلائهم على مواقع في الخليج وبناء القلاع نتيجة لـ
د- 1650 م	4-تمكن أهل البحرين من إجلاء البرتغاليون عام
هـ- 1602م	5-انتهى الوجود البرتغالي من منطقة الخليج العربي عام

السؤال الثاني : استخلصي خصائص التطور السياسي في البحرين خلال القرنين 17 و 18م من خلال الإستعانة بالكتاب المدرسي ص137 الجزء الثاني من الفقرة 2

ماذا كان سيحدث لو: لم يَكُنْ هناك مقاومة للإستعمار "الإحتلال" في منطقة الخليج العربي؟

.....

الوقفات التكوينية

أجيب على الأسئلة التالية :-

أولاً: فكري: سنة 1521م بسط البرتغاليون نفوذهم في البحرين بصعوبة؟

.....

ثانياً: أكمل الفراغات التالية بالإجابات المناسبة :-

1- سيطر البرتغاليون على قواعد بحرية في الخليج العربي نتيجة للصراع بين الدولة والصفوية في إيران.

2- انتهى الوجود البرتغالي منطقة الخليج العربي سنة.....

3- تمكن أهل البحرين من إجلاء البرتغاليين عام.....

ثالثاً: ضع علامة (✓) أمام العبارة الصحيحة وعلامة (✗) أمام العبارة الخاطئة فيما يلي مع تصويب الخطأ إن وجد:

1- توالى على حكم البحرين عائلات عربية أهمها آل صباح وآل نهيان ()

2- تولى آل خليفة حكم البلاد في نهاية القرن الثامن عشر. ()

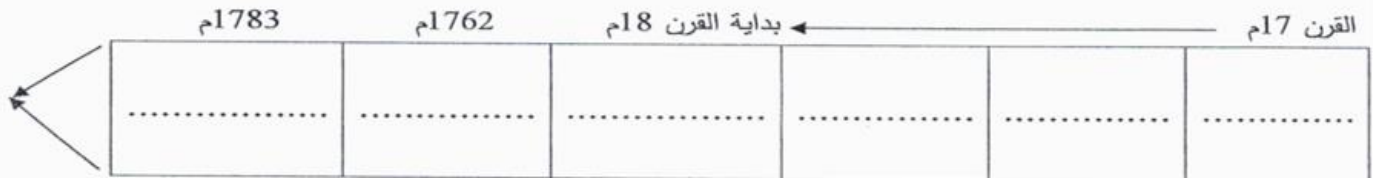
3- لم تنجح عائلة الجبور في تحقيق الاستقرار السياسي أو الاقتصادي في البحرين. ()

4- نجح آل خليفة بفضل حكمتهم وحنكتهم السياسية في جعل البحرين بلدًا مستقرًا اقتصاديًا واجتماعيًا وثقافيًا ()

تقييم أداء الطالبة : التاريخ : / / 202م											
الوصف			التعزيز				التطوير				
() اجابتك صحيحة ودقيقة () مراعاة الدقة في الإجابة () ملفك ناقص / يحتاج الى تنسيق /كتابة التاريخ / تحسين الخط /متابعة التصويب الذاتي /الإجابة بالقلم الجاف الأزرق () تابعي تصويب الأخطاء			() شكرا لك وأقدر جهودك () محاولتك محل تقدير اثق في قدرتك على التحسن () خطك رائع وملفك متميز () ملفك مرآة شخصيتك المتميزة والمبدعة () بوركت جهودك، ملف انجاز متميز				() راجعي إجابات لتصحيح الأخطاء () راجعي الكتاب لإكمال الناقص () أثري ملفك بالمبادرات () استعيني بالمعينات المتوفرة لاكمال ملفك – الملخصات – البوابة التعليمية – التميز . () الالتزام بمواعيد تسليم ملف الإنجاز				
1	2	3	4	5	6	7	8	9	10	11	12
يحتاج الى تطوير				مرضي			جيد			ممتاز	
ملاحظات ولي الأمر :											

الدرس الثالث عشر- هجرة آل خليفة إلى الزبارة والبحرين

السؤال الأول: أولاً : في ضوء دراستك لموضوع هجرة آل خليفة ، رتب المناطق التي نزحوا إليها ترتيباً زمنياً على الخط الزمني أدناه " ويمكنك الإستعانة بالكتاب المدرسي ص 139 الفقرة رقم 1_ (الإحساء - البحرين - الكويت - الزبارة - الأفلاج - قطر)



ثانياً : أجبني على الأسئلة التالية

1- بم تفسري : التفاف سكان مدينة الزبارة حول الشيخ محمد بن خليفة بعد هجرته إليها عام 1762م ؟

أ..... ب.....

ج..... د.....

2- من الذي حكم الزبارة بعد وفاة الشيخ محمد بن خليفة مع ذكر أهم انجازاته؟

.....
.....

ثالثاً- استخلصي أطراف معركة الزبارة والنتائج التي ترتبت عليها بحسب الجدول المرفق أدناه من

خلال الإستعانة بالكتاب المدرسي ص 139 الفقرة رقم 2:-

المعركة	الأطراف	النتائج
الزبارة 1782م	X	1..... 2..... 3.....

السؤال الثالث : أجبني على الأسئلة المرفقة أدناه من خلال الإستعانة بالكتاب المدرسي ص 139 الفقرة 2

هجرة آل خليفة من الزبلة إلى البحرين

أولاً:

أكمل الفراغات التالية بالإجابات المناسبة :

أ- من أهم أسباب عدم قسرع الشيخ أحمد بن محمد آل خليفة بنقل عاصمة حكمه من الزبلة إلى البحرين هو.....

ب- ظل الشيخ أحمد بن محمد آل خليفة يتنقل بين شتاءً و البحرين.....

ج- توفي الشيخ أحمد بن محمد آل خليفة عام ودُفن ب..... وخلفه ابنه.....

ثانياً-

اذكري أهم التنظيمات التي قام بها الشيخ أحمد بن محمد آل خليفة في البحرين قبل عودته إلى الزبلة؟

أ.....

ب.....

- ما النتائج التي ترتبت على حكم آل خليفة للبحرين؟

أ.....

ب.....

ج.....

د.....

ثالثاً:

بعد أن

تعرفتي على

هجرة آل

خليفة إلى

الزبلة

والبحرين..

برأيك ما

الحدث

الفرق في هذه

الهجرة ، ومن

القائم به ؟

علي إجابتك

اكتبي عن أحداث هجرة آل خليفة في القرن 17م حتى فتح البحرين عام 1783م؟ "مع مراعاة التسلسل الزمني للأحداث"

.....
.....
.....

الوقفات التكوينية

أولاً: أكمل العبارات التالية بالإجابات الصحيحة

1- في القرن السابع عشر نزح العتوب من قرية

2- في بداية القرن الثامن عشر، اجتمع العتوب في

3- من الكويت انتقل آل خليفة على رأسهم محمد بن خليفة إلى

4- التف السكان حول الشيخ محمد بن خليفة بسبب

ثانياً : اذكري احدى النتائج التي ترتبت على معركة الزبارة ؟

.....

ثالثاً : اذكر أهم مظاهر الدولة العربية التي نشأت بعد معركة الزبارة وفتح البحرين من حيث الموقع الجغرافي والإقتصاد والسكان .

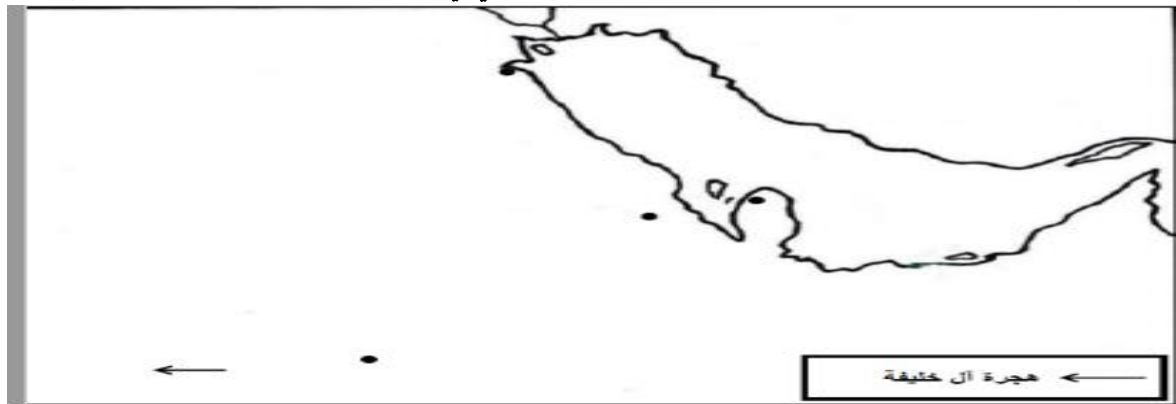
-الموقع الجغرافي:.....

-الإقتصاد:.....

-السكان:.....

نشاط ختامي : مما درست في موضوع "هجرة آل خليفة إلى الزبارة والبحرين" أكمل خريطة شبه الجزيرة العربية التي أمامك، من خلال الإجابة على السؤالين الآتيين: أ) اكتب في المكان المناسب على الخريطة أسماء المناطق والمدن والدول الآتية: (الزبارة – الهدار – الهفوف - الكويت – البحرين - قطر)

ب) ارسم على الخريطة خط سير هجرة آل خليفة من موطنهم الأصلي في نجد إلى البحرين مستعملاً رمز السهم ←



اكتب أهم الإنجازات التاريخية لحكام البحرين في الجدول التالي :

الانجازات	الشخصية
	الشيخ محمد بن خليفة آل خليفة
	الشيخ خليفة بن محمد
	الشيخ أحمد بن محمد آل خليفة
	الشيخ سلمان بن أحمد آل خليفة

اختاري الاجابة المناسبة من الكلمات المعطاة أدناه بحسب الجدول:

شبه جزيرة قطر - الكويت - الهدار - البحرين - نجد

المكان	الحدث
	مكان انطلاق العتوب.
	موطن العتوب الأصلي.
	مكان وصول آل خليفة في هجرتهم الثانية
	مكان وصول آل خليفة في المرحلة الثالثة
	مكان وصول آل خليفة في المرحلة الرابعة.

تقييم أداء الطالبة :												التاريخ :				/ / 202م	
الوصف				التعزيز				التطوير									
() اجابتك صحيحه ودقيقة				() شكرا لك وأقدر جهودك				() راجعي إجابات لتصحيح الأخطاء									
() مراعاة الدقة في الإجابة				() محاولتك محل تقدير اثق في قدرتك على التحسن				() راجعي الكتاب لإكمال الناقص									
() ملفك ناقص / يحتاج الى تنسيق				() خطك رائع وملفك متميز				() أثري ملفك بالمبادرات									
/كتابة التاريخ / تحسين الخط /متابعة				() ملفك مرآة شخصيتك المتميزة والمبدعة				() استعيني بالمعينات المتوفرة لاكمال									
التصويب الذاتي /الإجابة بالقلم الجاف الأزرق				() بوركت جهودك، ملف انجاز متميز				ملفك - الملخصات - البوابة التعليمية - التميز .									
() تابعي تصويب الأخطاء								() الالتزام بمواعيد تسليم ملف الإنجاز									
1	2	3	4	5	6	7	8	9	10	11	12						
يحتاج الى تطوير				مرضي				جيد				ممتاز					
ملاحظات ولي الأمر :																	

الدرس الرابع عشر-البحرين من 1821م-1961م

أجيب على الأسئلة التالية :-

السؤال الأول : صنف الإنجازات التالية في الجدول المرفق أدناه بحسب الحاكم الذي تحققت في عهده من خلال الإستعانة بالكتاب المدرسي ص141 الجزء الثاني من الفقرة رقم 1

- | | |
|----------------------------------|---|
| 1-تركيز المؤسسات الإدارية | 2- تزايد توظيف البحرينيين في الأجهزة الحكومية |
| 3-نشأة التعليم النظامي عام 1919م | 4- بدأ استغلال النفط |
| 5- توسع في الأنشطة نفسها | |

الشيخ عيسى بن علي آل خليفة	الشيخ حمد بن عيسى آل خليفة	الشيخ سلمان بن حمد آل خليفة

السؤال الثاني : أجيب عن التالي من خلال الإستعانة بالكتاب المدرسي ص141 الفقرة رقم 2

مساعي بريطانيا لجعل البحرين ضمن مجال نفوذها	
1-ما الوسيلة التي اتبعتها بريطانيا لجعل البحرين ودول الخليج العربي ضمن دائرة نفوذها؟
2-متى كانت آخر معاهدة بين البحرين وبريطانيا ؟ وماهي أهم بنودها" النصوص"؟
3-هل تمكنت بريطانيا من السيطرة على الأوضاع في البحرين ؟ دلي على ذلك

ردود الفعل الوطنية تجاه النفوذ البريطاني في البحرين

السؤال الثالث : من خلال الإستعانة بالكتاب المدرسي ص 141 الفقرة رقم 3 استعرضي أبرز ردود الفعل الوطنية تجاه النفوذ البريطاني في البحرين خلال الفترات الزمنية التالية كما في الجدول المرفق أدناه

تمثل رد الفعل الوطني بقيادة في إقناع حاكم البلاد بإنشاء مجلس تأسيسي للحد من

النفوذ البريطاني

انعقد المجلس الوطني عام مما أدى إلى اكتفاء بريطانيا بتعيين مستشاراً لدى حكومة البحرين

الفترة الزمنية	أبرز ردود الفعل الوطنية
بعد اكتشاف النفط "النصف الأول" من القرن 20"	شهدت الحركة الوطنية انتعاشة قوية (حيث طالب الوطنيون بإصلاحات إدارية وسياسية) نتيجة ل:
الأربعينات
الخمسينات



- دلي على تلاحم شعب البحرين مع قيادته من خلال هذه الأحداث السابقة.

.....
.....

الوقفات التكوينية

أولاً: إلى من تنسب هذه الأعمال :-

- بدأ استغلال النفط في عهده (.....)
- تزايد توظيف البحرينيين في الأجهزة الحكومية في عهده (.....)
- نشأ التعليم النظامي في عهده (.....)

ثانياً: متى عقدت آخر معاهدة بحرينية بريطانية ؟ وما هي أهم نصوصها؟

.....

النصوص:

ثالثاً: أكمل الفراغات التالية بالإجابات الصحيحة

- 1-الذي تمكن من إقناع حاكم البحرين بإنشاء مجلس تأسيسي للحد من النفوذ البريطاني
- 2-انعقد المجلس الوطني عام
- 3-المستشار الذي اكتفت بريطانيا بتعيينه مستشاراً لدى حكومة البحرين هو
- 4-المجلة الي صدرت في البحرين في فترة الأربعينات ونادت بوضع حد للنفوذ البريطاني هي
- 5-دعت الحركة الوطنية في الخمسينات من الحد في تدخل بلغريف فيو.....

تقييم أداء الطالبة : التاريخ : / / 202م											
الوصف			التعزيز				التطوير				
() اجابتك صحيحه ودقيقة () مراعاة الدقة في الإجابة () ملفك ناقص / يحتاج الى تنسيق /كتابة التاريخ / تحسين الخط /متابعة التصويب الذاتي /الإجابة بالقلم الجاف الأزرق () تابعي تصويب الأخطاء			() شكرا لك وأقدر جهودك () محاولتك محل تقدير اثق في قدرتك على التحسن () خطك رائع وملفك متميز () ملفك مرآة شخصيتك المتميزة والمبدعة () بوركت جهودك، ملف انجاز متميز				() راجعي إجابات لتصحيح الأخطاء () راجعي الكتاب لإكمال الناقص () أثري ملفك بالمبادرات () استعيني بالمعينات المتوفرة لاكمال ملفك - الملخصات - البوابة التعليمية - التميز . () الالتزام بمواعيد تسليم ملف الإنجاز				
1	2	3	4	5	6	7	8	9	10	11	12
يحتاج الى تطوير			مرضي				جيد		ممتاز		
ملاحظات ولي الأمر :											

الدرس الخامس مملكة البحرين: تأسيس الدولة الحديثة

أجيب على الأسئلة التالية :-

السؤال الأول : صف العوامل المساعدة (الأسباب) على اتجاه البحرين نحو بناء دولة حديثة بحسب الجدول المرفق أدناه من خلال الإستعانة بالكتاب المدرسي ص 143 الفقرة رقم 1

- 1- استضافة المؤتمرات العربية والعالمية
- 2- ازدهار التجارة
- 3- المشاركة في لجان جامعة الدول العربية
- 4- نشأة التعليم واكتشاف النفط
- 5- مطالبة إيران بضم البحرين إليها
- 6- تأسيس الأندية الأدبية والرياضية والنسائية
- 7- انتشار المذيع ونشأة الصحافة
- 8- اعلان بريطانيا عزمها على الانسحاب من الخليج العربي

العوامل الاجتماعية	العوامل السياسية

السؤال الثاني: أجيب عن الأسئلة التالية والتي توضح خطوات البحرين نحو إلغاء الاتفاقيات مع بريطانيا من خلال الإستعانة بالكتاب المدرسي ص 143 الفقرة رقم 2

(بيان 14 أغسطس 1971م)

أ..... ب..... ج.....	1- اذكر الخطوات التي جسدت مسيرة البحرين نحو إلغاء الإتفاقيات مع بريطانيا ؟
أ..... ب..... ج.....	2- ما النتائج التي ترتبت على تلك الإتفاقيات ؟

السؤال الثالث : صنف مظاهر النهضة الحديثة في البحرين بحسب المجالات المرفقة في الجدول أدناه:-

المجال الاجتماعي	المجال السياسي	المجال الاقتصادي	البنية الأساسية	مظاهر النهضة الحديثة
				1- اتساع النشاط البنكي وازدهار التجارة
				2- تطور القرى التقليدية إلى مدن عصرية.
				3- تكثيف الجهد التشريعي تأكيداً لدولة القانون والمؤسسات
				4- تنويع جهاز الإنتاج للحد من الاعتماد على النفط
				5- افتتاح مطار البحرين (1972م) وجسر الملك فهد (1986م)
				6- انتشار الخدمات التعليمية والثقافية والصحية والإسكانية
				7- العناية بالطرق والجسور
				8- تعدد الجامعات وحصول الأسر على الماء والكهرباء
				9- الاعتناء بحقوق الإنسان وتمكين المرأة
				10- انشاء المدن الإسكانية الجديدة
				11- توالي الانتخابات النيابية والبلدية

اقترحي بعض الأفكار لزيادة التطور في مملكتنا الحبيبة .

.....

.....

الوقفات التقويمية

أولاً: اذكر 2 من العوامل التي ساعدت البحرين على الاتجاه نحو بناء دولة حديثة ؟

-
-

ثانياً: أجبني على المطلوب بحسب الجدول الوارد أدناه:

.....	-من الذي أعلن بيان 14 أغسطس 1971م ؟
<ul style="list-style-type: none"> 	-اذكري أهم ما تضمنه بيان 14 أغسطس 1971م .
<ul style="list-style-type: none"> 	-عددي النتائج التي ترتبت على بيان 14 أغسطس 1971م

ثالثاً: أكمل الفراغات التالية بالإجابات المناسبة :-

-من إنجازات البحرين في المجال انتشار الخدمات التعليمية والإسكانية والصحية .

-من إنجازات البحرين في المجال البنية الأساسية

رابعاً: ضع علامة (✓) أو (×) أمام ما يلي من العبارات التالية مع تصويب الخطأ إن وجد:

-تم إقرار ميثاق العمل الوطني بعد الإستفتاء عليه عام 2002م () .

-من إنجازات البحرين في مجال البنية الأساسية تطور القرى التقليدية إلى مدن عصرية () .

-من نتائج إنجازات البحرين في المجال الاجتماعي احتلت البحرين المرتبة 39 عربياً و3 عالمياً ضمن البلدان ذات التنمية البشرية المرتفعة ()

تقييم أداء الطالبة : التاريخ : / / 202م											
الوصف			التعزيز			التطوير					
() اجابتك صحيحه ودقيقة () مراعاة الدقة في الإجابة () ملفك ناقص / يحتاج الى تنسيق /كتابة التاريخ / تحسين الخط /متابعة التصويب الذاتي /الإجابة بالقلم الجاف الأزرق () تابعي تصويب الأخطاء			() شكرا لك وأقدر جهودك () محاولتك محل تقدير اثق في قدرتك على التحسن () خطك رائع وملفك متميز () ملفك مرآة شخصيتك المتميزة والمبدعة () بوركت جهودك، ملف انجاز متميز			() راجعي إجابات لتصحيح الأخطاء () راجعي الكتاب لإكمال الناقص () أثري ملفك بالمبادرات () استعيني بالمعينات المتوفرة لاكمال ملفك - الملخصات - البوابة التعليمية - التميز . () الالتزام بمواعيد تسليم ملف الإنجاز					
1	2	3	4	5	6	7	8	9	10	11	12
يحتاج الى تطوير			مرضي			جيد			ممتاز		
ملاحظات ولي الأمر :											



مبادراتي



مبادراتي

لاحظ أن أسئلة الامتحان في 5 صفحات

المواد الاجتماعية المسار: (الإعدادية العامة والدينية) صفحة (1)

مملكة البحرين

وزارة التربية والتعليم

إدارة الامتحانات / قسم الامتحانات

امتحان الشهادة الإعدادية العامة والدينية للعام الدراسي 2022/2023م

الفصل الدراسي الثاني

الزمن: ساعتان

المادة: المواد الاجتماعية (التاريخ والتربية للمواطنة)

القسم الأول: تاريخ

السؤال الأول:

26

12

أولاً- ضع دائرة حول الحرف الدال على الإجابة الصحيحة من بين البدائل الآتية:

1- تمكن العالم الألماني غوتنبرغ في عام 1448م من اختراع:

أ- الهاتف. ب- آلة الطباعة. ج- المحرك البخاري. د- التلكنس.

2- حدثت حرب السبع سنوات (1756-1763م) بين:

أ- بريطانيا وفرنسا. ب- ألمانيا وإيطاليا. ج- بريطانيا وروسيا. د- هولندا والبرتغال.

3- تقوم التجارة المثلثة على شراء الرقيق من أفريقيا ونقلهم للعمل في مزارع ومناجم:

أ- أستراليا. ب- أوروبا. ج- أمريكا. د- آسيا.

4- سيطر البرتغاليون على البحرين في مطلع القرن 16 م مستغلين عنف الصراع بين الدولتين:

أ- البريطانية والعثمانية. ب- العثمانية والصفوية. ج- الهولندية والبريطانية. د- الصفوية والفرنسية.

5- الأسرة التي كانت تحكم قطر قبل قدوم آل ثاني إليها في أوائل القرن 18 م هي:

أ- آل الصباح. ب- آل سعود. ج- آل خليفة. د- آل نهيان.

6- شهد عهد حاكم البحرين الشيخ عيسى بن علي آل خليفة سنة 1919 م :

أ- اكتشاف النفط ب- افتتاح مطار البحرين. ج- إنشاء مدينة عيسى. د- نشأة التعليم النظامي.

ثانياً- ضع علامة (✓) أمام العبارة الصحيحة وعلامة (x) أمام العبارة الخاطئة فيما يلي:

1- شهد القرن 19م هجمة استعمارية شرسة على الوطن العربي . ()

2- بلغت حركة الاستعمار الأوروبي ذروتها مع قيام الثورة الصناعية في القرن العشرين الميلادي. ()

3- ينسب آل خليفة إلى قبيلة عنزة العربية الشهيرة التي اتخذت من نجد موطنًا لها. ()

4- نُصب فيصل بن الحسين في العام 1921 م ملكًا على مصر. ()

لاحظ أن أسئلة الامتحان في 5 صفحات

المواد الاجتماعية المسار: (الإعدادية العامة والدينية) صفحة (2)

- 5- الحاكم الذي اختاره الليبيون ملكاً على ليبيا سنة 1951م هو علال الفاسي. ()
- 6- تحالف العراقيون مع الألمان خلال الحرب العالمية الثانية؛ بهدف التخلص من الحماية البريطانية. ()
- 7- أنشأ قائد الحركة الوطنية جمال عبد الناصر حزب الوفد. ()
- 8- عُرِفَت الإمارات العربية المتحدة خلال القرن التاسع عشر الميلادي باسم الساحل المتصالح. ()

ثالثاً- في ضوء دراستك لموضوع هجرة آل خليفة إلى الزبارة والبحرين، رتب المناطق التي نزحوا إليها ترتيباً

زمنياً على الخط الزمني أدناه:

6

الإحساء - البحرين - الكويت - الزبارة - الأفلاج - قطر.

1783م

1762م

بداية القرن 18م

القرن 17م

.....
-------	-------	-------	-------	-------	-------

29

السؤال الثاني:

أولاً- علل ما يأتي:

12

1- سميت الحرب العالمية الأولى بالحرب الكبرى.

.....

.....

2- قيام النهضة في أوروبا.

.....

.....

3- سيطرة بريطانيا على منطقة الخليج العربي وعقدها سلسلة من معاهدات التحالف مع مشايخها.

.....

.....

لاحظ أن أسئلة الامتحان في 5 صفحات

المواد الاجتماعية المسار: (الإعدادية العامة والدينية) صفحة (3)

ثانيًا- أجب عن الأسئلة الآتية:

12

1- بين ردود الفعل الوطنية البحرينية للحد من النفوذ البريطاني في النصف الأول من القرن 20 م.

-
-
-

2- اكتب نتائج الأزمة الاقتصادية 1929 م.

-
-
-

ثالثًا: صنف نتائج المؤتمرات على دول المشرق العربي وفقًا للمعاهدات والاتفاقيات التالية بوضع علامة (✓) أمام العبارات

في الجدول التالي:

5

المعاهدات والاتفاقيات			نتائج المؤتمرات
مؤتمرات سان ريمو	وعد بلفور	معاهدة سايكس بيكو	
			تقاسم سوريا والعراق بين فرنسا وبريطانيا.
			تنظيم الانتداب على المشرق العربي وفقًا لسايكس - بيكو
			إقامة منطقة دولية في فلسطين
			إقامة دولة اليهود على أراضي فلسطين
			وضع فلسطين تحت الانتداب البريطاني

لاحظ أن أسئلة الامتحان في 5 صفحات

المواد الاجتماعية الممار: (الإعدادية العامة والدينية) صفحة (4)

20

السؤال الثالث:

10

أولاً- اختر من العمود (ب) أسماء الشخصيات التاريخية المناسبة للعبارة المبنية في العمود (أ)، ثم اكتب الحرف الدال على الإجابة الصحيحة في المكان المخصص له:

العمود (أ)	الإجابة	العمود (ب)
1- اعترفت بريطانيا باستقلال الكويت في عهده سنة 1961.	أ-موسوليني
2- وقع معاهدة الحلف الغولاني مع هتلر.	ب-الملك حمد بن عيسى آل خليفة
3- أقنع حاكم البحرين بإنشاء مجلس تأسيسي للحد من النفوذ البريطاني.	ج-الشيخ عيسى بن سلمان آل خليفة
4- شهد عهده افتتاح جسر الملك فهد سنة 1986.	د- عبد الوهاب الزباني
5- شهد عهده الاستفتاء على ميثاق العمل الوطني سنة 2001م.	هـ-عبدالله السالم الصباح

10

ثانياً- أمامك خريطة صماء توضح تقسيمات اتفاقية سايكس بيكو سنة 1916م، لاحظ الخريطة جيدا ثم أجب عن الأسئلة التي تليها :



- المنطقة (أ) خضعت للسيطرة والنفوذ:
- المنطقة (ب) خضعت للسيطرة والنفوذ:
- اسم المنطقة الدولية (ج):
- الرقم (1) اسم المسطح المائي:
- الرقم (2) اسم قناة:

انتهت الأسئلة، مع تمنياتنا للجميع بالنجاح والتوفيق

لاحظ أن أسئلة الامتحان في 5 صفحات

المواد الاجتماعية المسار: (الإعدادية العامة) صفحة (1)

مملكة البحرين
وزارة التربية والتعليم
قسم الامتحانات الداخلية

امتحان نهاية الفصل الدراسي الثاني للشهادة الإعدادية العامة للعام الدراسي 2025/2024 م

الزمن : ساعتان

المادة : المواد الاجتماعية (التاريخ)

القسم الأول: التاريخ

26

السؤال الأول:

12

أولاً - ضع دائرة حول الحرف الدال على الإجابة الصحيحة من بين البدائل الآتية:

1- انتشر المذهب البروتستانتي في فرنسا عن طريق:

أ- مارتن لوثر. ب- جون كلفن. ج- هنري الثامن. د- ميكفال.

2- تقوم التجارة المثلثة على شراء الرقيق من أفريقيا ونقلهم للعمل في مزارع ومناجم:

أ- آسيا. ب- استراليا. ج- أوروبا. د- أمريكا.

3- رفض الشعب الألماني خضوع بلادهم لمعاهدة:

أ- برست ليتوفسك. ب- الحلف الفولاذي. ج- فرساي. د- عدم اعتداء.

4- شهد عهد حاكم البحرين الشيخ عيسى بن علي آل خليفة سنة 1919م:

أ- نشأة التعليم النظامي. ب- افتتاح مطار البحرين. ج- اكتشاف النفط. د- إنشاء مدينة عيسى.

5- الحاكم الذي اختاره الليبيون ملكاً على ليبيا سنة 1951م هو:

أ- عمر المختار. ب- محمد السنوسي. ج- محمد المنصف. د- محمد الخامس.

6- المجلة التي صدرت في فترة الأربعينيات في البحرين ونادت بوضع حدٍّ للنفوذ البريطاني هي:

أ- صدى البحرين. ب- البلاد. ج- الوثيقة. د- صوت البحرين.

المواد الاجتماعية المسار: (الإعدادية العامة) صفحة (2) لاحظ أن أسئلة الامتحان في 5 صفحات

14

ثانيًا - ضع علامة (✓) أمام العبارات الصحيحة وعلامة (✗) أمام العبارات الخاطئة:

- 1 - () بلغت حركة الاستعمار الأوروبي ذروتها مع قيام الثورة الصناعية في أوروبا خلال القرن 19م.
- 2 - () تم وضع فلسطين تحت الانتداب الفرنسي بعد مؤتمر سان ريمو.
- 3 - () أعلن الجنرال كاترو ممثل حكومة فرنسا الحرة في القاهرة إلغاء الانتداب على سوريا ولبنان .
- 4 - () يرجع آل خليفة في نسبهم إلى الختوب المنحدرة من قبيلة عزة العربية الشهيرة.
- 5 - () سيطر البرتغاليون على البحرين في مطلع القرن 16م مستغلين عنف الصراع بين الدولة الصفوية ودولة فرنسا.
- 6 - () يرتبط تاريخ الكويت الحديث بأسرة آل الصباح التي نزحت من نجد إلى الكويت في أواسط القرن 18م.
- 7 - () نصب فيصل بن الحسين في العام 1921م ملكًا على لبنان.

السؤال الثاني:

24

أولًا - علل ما يأتي:

- 1- زيادة التنافس الاستعماري في القرن التاسع عشر الميلادي.

..... •
..... •

- 2 - قيام الأزمة الاقتصادية العالمية عام 1929م.

..... •
..... •

- 3 - التفاف أهل الزبارة حول الشيخ محمد بن خليفة عام 1762م.

..... •
..... •

المواد الاجتماعية المسار: (الإعدادية العامة) صفحة (3) لاحظ أن أسئلة الامتحان في 5 صفحات

ثانياً - وضح ما يأتي:

12

1- نتائج الحرب العالمية الثانية 1939-1945م.

2- بنود المعاهدة البريطانية المصرية سنة 1936م التي توجت نضال حزب الوفد.

3- أهم إنجازات الشيخ أحمد الجابر الصباح بعد توليه حكم الكويت سنة 1921م.

30

السؤال الثالث:

10

أولاً - اختر من العمود (ب) أسماء الشخصيات التاريخية المناسبة للعبارة المبيّنة في العمود (أ)، ثم أكتب الحرف الدال على الإجابة في المكان المخصص له:

العمود (ب)	الإجابة	العمود (أ)
أ- سعيد بن تيمور.	1- انتخب رئيساً للجمهورية السورية سنة 1943م.
ب- الملك حمد بن عيسى آل خليفة.	2- في سنة 1926م أسس جمعية نجم شمال إفريقيا.
ج- عبدالوهاب الزياتي.	3- شهد عهدة الاستفتاء على ميثاق العمل الوطني سنة 2001م.
د- مصالي الحاج.	4- نجح في ضم غمان إلى مسقط سنة 1955م.
هـ- شكري القوتلي.	5- أُلغى حاكم البحرين بإنشاء مجلس تأسيسي للحد من النفوذ البريطاني.
و- سالم بن راشد.	

المواد الاجتماعية المسار: (الإعدادية العامة) صفحة (4) لاحظ أن أسئلة الامتحان في 5 صفحات

6

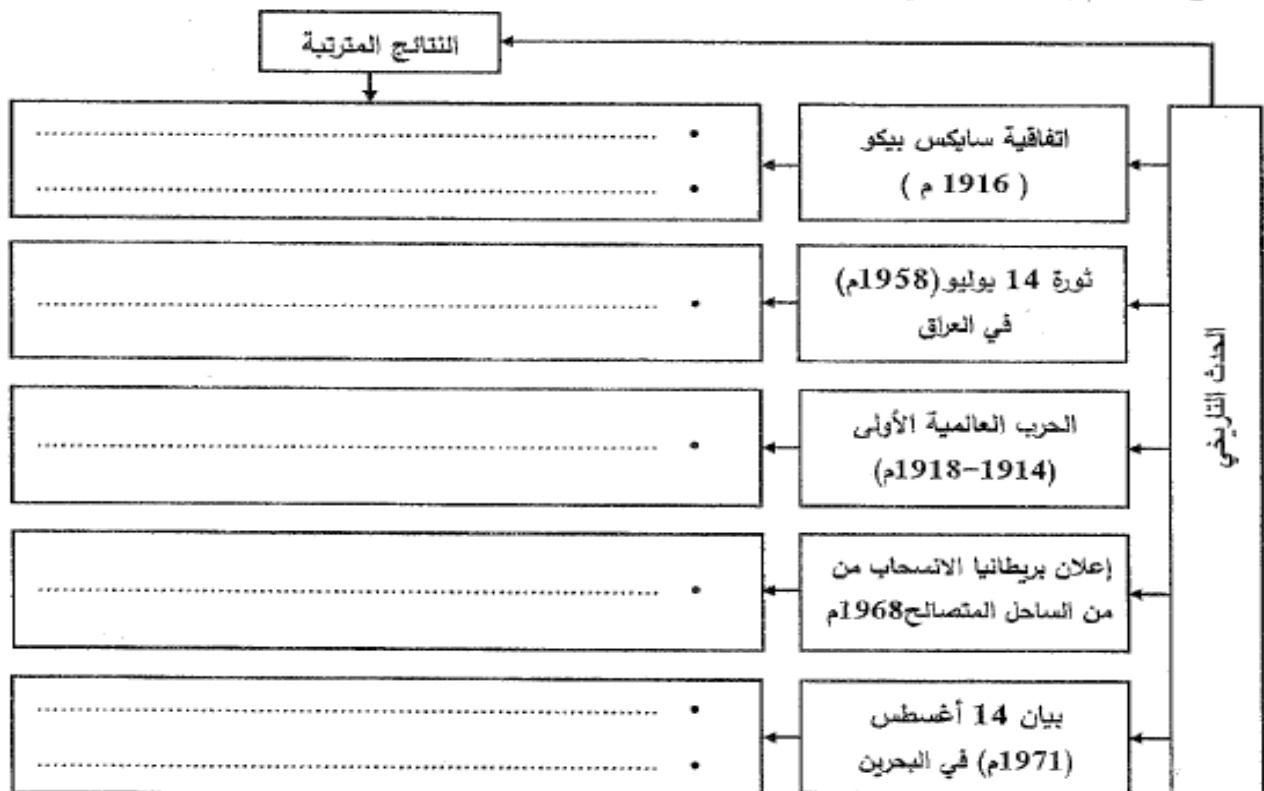
ثانيًا- اكتب الأطراف المتنازعة في المعارك الآتية وواحدة من النتائج المترتبة عنها في الجدول أدناه:

المعارك	الأطراف المتنازعة	النتائج
معركة ستالينغراد	•	•
1942م	•	•
معركة الزبارة	•	•
1782م	•	•

14

ثالثًا: استكمل المخطط التالي بتصنيف النتائج الآتية بحسب كل حدث من الأحداث التاريخية الواردة فيه:

- إقامة اتحاد فدرالي بين دبي وأبوظبي. - القضاء على الملكية وإعلان الجمهورية. - وقوع ملايين القتلى والجرحى.
- تقاسم سوريا الإنجليز والفرنسيون. - أقيمت في فلسطين منطقة دولية. - إنهاء جميع المعاهدات مع بريطانيا.
- حق الانضمام إلى المنظمات الإقليمية والدولية.



المواد الاجتماعية المسار: (الإعدادية العامة) صفحة (5) لاحظ أن أسئلة الامتحان في 5 صفحات

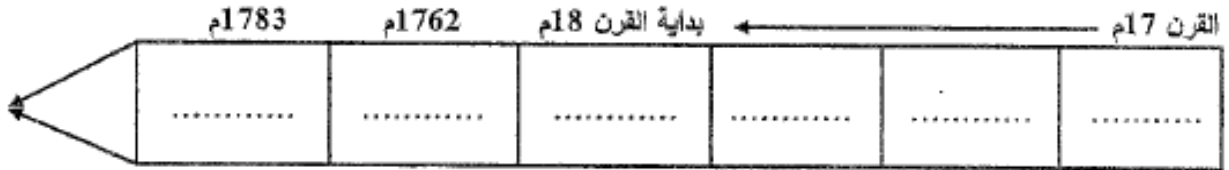
12

20

السؤال الرابع:

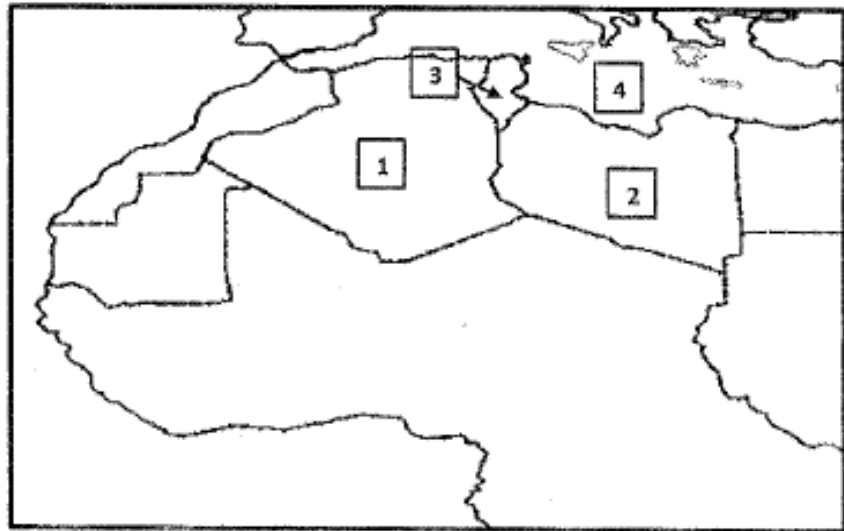
أولاً - في ضوء دراستك لموضوع هجرة آل خليفة إلى الزبارة والبحرين، رتب المناطق التي نزحوا إليها ترتيباً زمنياً على الخط الزمني أدناه:

الأحساء - الكويت - قطر - الأفلاج - البحرين - الزبارة .



ثانياً - أمامك خريطة صماء لدول المغرب العربي، تمعن فيها جيداً، ثم أجب عن السؤال أدناه :

8



- اكتب ما تمثله الأرقام من (1) إلى (4) في الجدول الآتي حسب البيانات الواردة في الخريطة :

الدولة الأوروبية الاستعمارية	المنطقة / الدولة العربية	الرقم على الخريطة
.....	1
.....	2
.....	3
المسطح المائي		الرقم على الخريطة
.....		4

انتهت الأسئلة، مع تمنياتنا للجميع بالنجاح والتوفيق.

لاحظ أن أسئلة الامتحان في ٥ صفحات

صفحة 1

المواد الاجتماعية (الصف الثالث الإعدادي)

مملكة البحرين

وزارة التربية والتعليم

قسم الامتحانات الداخلية

امتحان الشهادة الإعدادية العامة للعام الدراسي ٢٠٢٣ - ٢٠٢٤م الفصل الدراسي الثاني

اسم المقرر: المواد الاجتماعية

الزمن: ساعتان

السؤال الأول

أولاً: ضع دائرة حول رمز الإجابة الصحيحة من بين البدائل الآتية:

١. يرتبط تاريخ الكويت الحديث بأُسرة:

ب. آل نهيان

أ. آل الصباح

د. آل سعيد

ج. آل ثاني

٢. حصلت حرب السبع سنوات (١٧٥٦-١٧٦٣م) بين كلاً من:

ب. فرنسا وبريطانيا

أ. بريطانيا وإسبانيا

د. البرتغال وإسبانيا

ج. فرنسا والبرتغال

٣. وزير الخارجية البريطاني الذي أصدر وعدًا ينص على إقامة دولة اليهود على أراضي فلسطين هو:

ب. تشرشل

أ. هتلر

د. موسوليني

ج. بلفور

٤. قامت ثورة الضباط الأحرار في مصر سنة ١٩٥٢م ضد:

ب. الملك فؤاد

أ. الملك فيصل بن الحسين

د. الملك فاروق

ج. الملك غازي

٥. وقعت ليبيا تحت الاستعمار:

ب. الإيطالي

أ. البريطاني

د. البرتغالي

ج. الفرنسي

لاحظ أن أسئلة الامتحان في ٥ صفحات

صفحة 2

المواد الاجتماعية (الصف الثالث الإعدادي)

ثانيًا: ضع علامة (√) أمام العبارة الصحيحة وعلامة (×) أمام العبارة الخاطئة:

١. يرجع آل خليفة في نسبهم إلى العتوب المنحدرة أساسًا من عنزة القبيلة العربية الشهيرة. ()
٢. أسس محمد عبدالكريم الخطابي جمعية نجم شمال أفريقيا عام ١٩٢٦م. ()
٣. برزت البرتغال من خلال حركة الكشف الجغرافية كدولة ذات موقع متقدم في حركة التوسع الاستعماري. ()
٤. شهد عهد الشيخ عيسى بن علي آل خليفة نشأة التعليم النظامي في البحرين عام ١٩١٩م. ()
٥. نجح سالم بن راشد في ضم عُمان إلى مسقط سنة ١٩٧٠م. ()

السؤال الثاني

أولاً : أحب عن الأسئلة الآتية:

١. بيّن العوامل المساعدة على قيام النهضة الأوربية. (دون شرح).

-
-
-
-

٢. تحدّث عن اتفاقية سايكس بيكو من خلال: (سنة حدوثها - مكان التوقيع - أطراف الاتفاقية).

-
-
-
-
-

المواد الاجتماعية (الصف الثالث الإعدادي)

.....

.....

.....

.....

.....

.....

.....

.....

.....

٢- حكمت أسرة

لاحظ أن أسئلة الامتحان في ٥ صفحات

صفحة 4

المواد الاجتماعية (الصف الثالث الإعدادي)

ثالثًا: أكمل خريطة المفاهيم الآتية وفق المطلوب أدناه:

الحرب العالمية الثانية
١٩٣٩-١٩٤٥م

النتائج

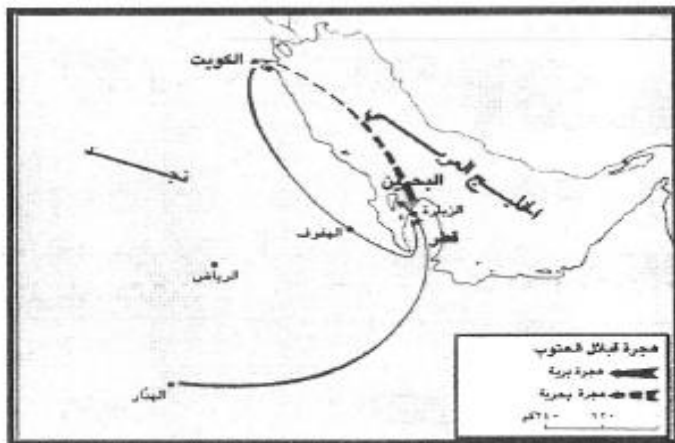
المقدمات

-
-
-
-
-

-
-
-
-
-

السؤال الثالث

أولًا: في ضوء الخريطة ودراستك لموضوع هجرة آل خليفة، اكتب في الجدول الآتي رحلات سير آل خليفة:



الرحلة	إلى
الأولى
الثانية
الثالثة
الرابعة
الخامسة

لاحظ أن أسئلة الامتحان في ٥ صفحات

صفحة 5

المواد الاجتماعية (الصف الثالث الإعدادي)

ثانياً: اقرأ المستند الذي أمامك ثم أجب عن الأسئلة التي تليه:

كان انتصار العتوب في الزيارة مفتاحاً للانتصار في البحرين، حيث انطلق أحمد الفاتح برؤية قائد ثاقب البصيرة مستثمراً الفوز مختاراً أحسن الظروف والوقت الملائم للقضاء على قوة أعدائه الباقية في البحرين، وكانت قواته على أتم استعداد لتنفيذ المهمة وقد كان سكان البحرين يتطلعون إلى من ينقذهم من النفوذ الفارسي، حيث كان الضعف سائداً بين عرب الساحل الشرقي للجزيرة العربية فقد كان لكل قرية شيخ مستقل، ولا يستطيع أقواهم حشد أكثر من أربع مائة مقاتل وتسود بينهم حالات نزاع، وكانت قوة العتوب هي القوة الفاعلة في ذلك الوقت، وهنا يبرز دور القوة واستعدادها للعمل في الوقت المناسب لتقرير المصير وصنع المستقبل.

المصدر: الوثائق الهولندية، الرقم ٢٨٤، ص ٩٤.

١- اذكر الحدث الرئيسي للنص:

.....

٢- ما اسم القائد الذي فتح البحرين:

.....

٣- يُمثل الفاتح شخصية القائد العظيم في تاريخ البحرين" أبرز صفات هذا القائد:

.....

.....

.....

.....

٤- سم القوة الفاعلة بين عرب الساحل الشرقي في ذلك الوقت:

.....

.....

٥- وضح أسباب الضعف السائد بين عرب الساحل الشرقي لشبه الجزيرة العربية قُبيل فتح البحرين:

.....

.....

.....

.....

" انتهت الأسئلة "