

مذكرة الفصل الثاني في الدروس الاجتماعية



تم تحميل هذا الملف من موقع المناهج البحرينية

موقع المناهج ← المناهج البحرينية ← الصف التاسع ← المواد الاجتماعية ← الفصل الثاني ← ملفات متنوعة ← الملف

تاريخ إضافة الملف على موقع المناهج: 2025-04-20 17:25:38

ملفات اكتب للمعلم اكتب للطالب | اختبارات الكترونية | اختبارات | حلول | عروض بوربوينت | أوراق عمل
منهج انجليزي | ملخصات وتقارير | مذكرات وبنوك | الامتحان النهائي | للمدرس

المزيد من مادة
المواد
الاجتماعية:

التواصل الاجتماعي بحسب الصف التاسع



صفحة المناهج
البحرينية على
فيسبوك

الرياضيات

اللغة الانجليزية

اللغة العربية

التربية الاسلامية

المواد على تلغرام

المزيد من الملفات بحسب الصف التاسع والمادة المواد الاجتماعية في الفصل الثاني

ملخص الدروس الاجتماعية

1

مذكرة المواد الاجتماعية والتربية للمواطنة

2

حل نشاط الدرس 28 الحرب العالمية الأولى 1914/1918

3

حل نشاط الدرس 27 حركة الاستعمار الأوربي

4

حل نشاط الدرس 29 التآمر الاستعماري على المشرق العربي/ الانتداب

5



مدرسة سمو الشيخ محمد بن خليفة ال خليفة الإعدادية الابتدائية بنين



مدير المدرسة أ- ياسر الجودر

الصف الثالث
الإعدادي

الفصل الدراسي
الثاني

2023م - 2024م



إعداد أ: عبده مكي

الرقم	عنوان الدرس	رقم الدرس	الصفحة (من - إلى)	رقم الاسبوع
1	النهضة الأوروبية.	26	98-99	1
2	حركة الاستعمار الأوربي.	27	102-103	2
3	الحرب العالمية الأولى (1914-1918).	28	104-105	3
4	التآمر الاستعماري على المشرق العربي - الانتداب	29	108-109	4
5	الأزمات الدولية (1919-1939م)	30	110-111	5
6	الحرب العالمية الثانية (1939-1945م)	31	112-113	6
7	حركة الاستقلال في المشرق العربي	32	114-115	7
8	حركة الاستقلال في المغرب العربي	33	116-117	8
9	استقلال دول الخليج العربية (1)	36	132-133	9
10	استقلال دول الخليج العربية (2)	37	134-135	10
11	البرتغاليون في البحرين	38	136-137	11
12	هجرة آل خليفة إلى الزبارة والبحرين	39	138-139	12
13	البحرين من 1821 إلى 1961م	40	140-141	13
14	البحرين: تأسيس الدولة الحديثة	41	142-143	14

الدرس الأول (النهضة الأوروبية) رقم الدرس 26 ص 99

السؤال الأول أكمل العبارات الآتية

- 1- انتقل أوروبا الغربية بين منتصف القرن 15 ونهاية القرن 16 من مرحلة
الى مرحلة جديدة عرفت ب
- 2- نتج عن حركة التجارة في البحر المتوسط ازدهار المدنومن أشهرها مدينة
و.....و.....و.....
- 3- كانت النهضة الأوروبية نابعة من إيطاليا من مدينةويقودها اسرة
خلال القرنين 15 و 16 .
- 4- يعود اختراع الطباعة الى العالم الألماني عام ونتج عنها انتشار
في المجتمعات الأوروبية التي كانت حكرا على رجال الدين
و.....و.....

السؤال الثاني : اجب عن الأسئلة التالية :

1- أكمل الجدول التالي

العوامل المساعدة للنهضة الأوروبية	مجالات مظاهر النهضة
1-	1-
2-	2-
3-	3-

س2 - ضع علامة (×) أو (√) امام العبارات التالية :

- مثلت حركة الترجمة سبيلا لدخول التأثيرات العربية الإسلامية الى أوروبا ()
- ()
- نشطت جامعات فرنسية وبريطانية في ترجمة التراث اليوناني والروماني القديم ()
- ()
- حصلت أوروبا على المؤلفات العربية من خلال الاندلس وصقلية وبلاد اليونان ()
- ()

السؤال الثالث : ضع دائرة حول الإجابة الصحيحة

1- انطلقت النهضة الفنية من

- أ- إيطاليا ب- اسبانيا ج- البرتغال د- بريطانيا

2- انتشرت النهضة الفنية الى ألمانيا والنمسا وفرنسا وإنجلترا بفضل تنقلات

- أ- الادباء ب- المفكرتين ج- العلماء والمترجمين د- الفنانين

3- أكد العالم البولوني ان الأرض كوكب ضمن المجموعة الشمسية ...

- أ- توماس مور ب- مكيفال ج- كوبر تيكوس د- شكسبير

4- تزعم حركة الإصلاح في ألمانيا الرفض لسلطة كنيسة روما مما أدى لنشأة المذهب البروتستانتي

- أ- جون كلفن ب- هنري الثامن ج- توماس مور د- مارتن لوثر

5- انتشر المذهب البروتستانتي في فرنسا عن طريق

- أ- جون كلفن ب- هنري الثامن ج- توماس مور د- مارتن لوثر

6- في إنجلترا انفصل الملك هنري الثامن (1509 - 1574) عن كنيسة روما فنشأت الكنيسة ...

- أ- الانغليكانية ب- البروتستانتية ج- الكاثوليكية د- المعقدة

الأسئلة التي وردت في امتحانات الوزارة:

السؤال الخامس : علل قيام النهضة الاوربية ؟

- •
- •
- •

الدرس الثاني حركة الاستعمار الأوربي الدرس 27 ص 103

السؤال الأول : اكمل العبارات التالية

- 1- تزامنت بداية حركة الاستعمار الأوربي مع الكبرى وبلغت هذه الحركة ذروتها مع قيا م في أوروبا في القرن وانحسر الاستعمار في العالم الجديد واستفحل في و.....
- 2- في أواخر القرن السادس عشر الميلادي قاد و..... حركة الاستعمار كرواد للاكتشافات الجغرافية
- 3- انطلق الهولنديون والفرنسيون والانكليز على خط المنافسة الاستعمارية في القرن
- 4- تراجع نفوذ البرتغال واسبانيا وهولندا تحت ضغط و.....

السؤال الثاني اكمل الجدول التالي

النتائج	الأطراف	
.....	حرب السنوات السبع 1763 - 1756
.....	

السؤال الثالث ضع دائرة حول الإجابة الصحيحة

- 1- في ظل حركة الاستعمار نشأت (التجارة المثلثة) القائمة على شراء الرقيق من افريقيا ونقلهم للعمل الى
أ - أوروبا ب - أمريكا ج - اسيا د - استراليا
- 2- قامت الثورة الصناعية في أواخر القرن الثامن عشر في
أ - إيطاليا ب - مالطا ج - فرنسا د - بريطانيا
- 3- تراكمت رؤوس الأموال في أوروبا نتيجة الازدهار
أ - السياسي ب - الاجتماعي ج - الاقتصادي د - الثقافي
- 4- اعتبر جل القادة السياسيين الأوروبيين الاستعمار احدى وسائل قوة الدولة
أ - السياسية ب - الاقتصادية ج - الاجتماعيات د - الوطنية
- 5- رأى عدد من القادة الإنجليز في الاستعمار فرصا لتوطين الفائض السكاني وهو العامل
أ - الديمغرافي والاجتماعي ب - السياسي والاستراتيجي ج - العسكري د - الوطني
- 6- أدى الاستعمار الى المنافسة الدولية على المستعمرات مما أدى لظهور الكثير من الازمات أشهرها
ازمة فاشودا جنوب السودان بين
أ - ألمانيا وفرنسا ب - فرنسا وإيطاليا ج - ألمانيا وبريطانيا د - فرنسا وبريطانيا

السؤال الثالث : ضع اسم الدولة في المكان المناسب

(بلجيكا – هولندا – المانيا- بريطانيا – فرنسا – اليابان – روسيا – إيطاليا – البرتغال)

1- (قامت بالتوسع في الأراضي الاسيوية)

2- (احتلال منشوريا شمال الصين)

3- (احتلال مواقع غرب افريقيا منها أنجولا)

4- (احتلت الكونغو)

5- (احتلت إندونيسيا)

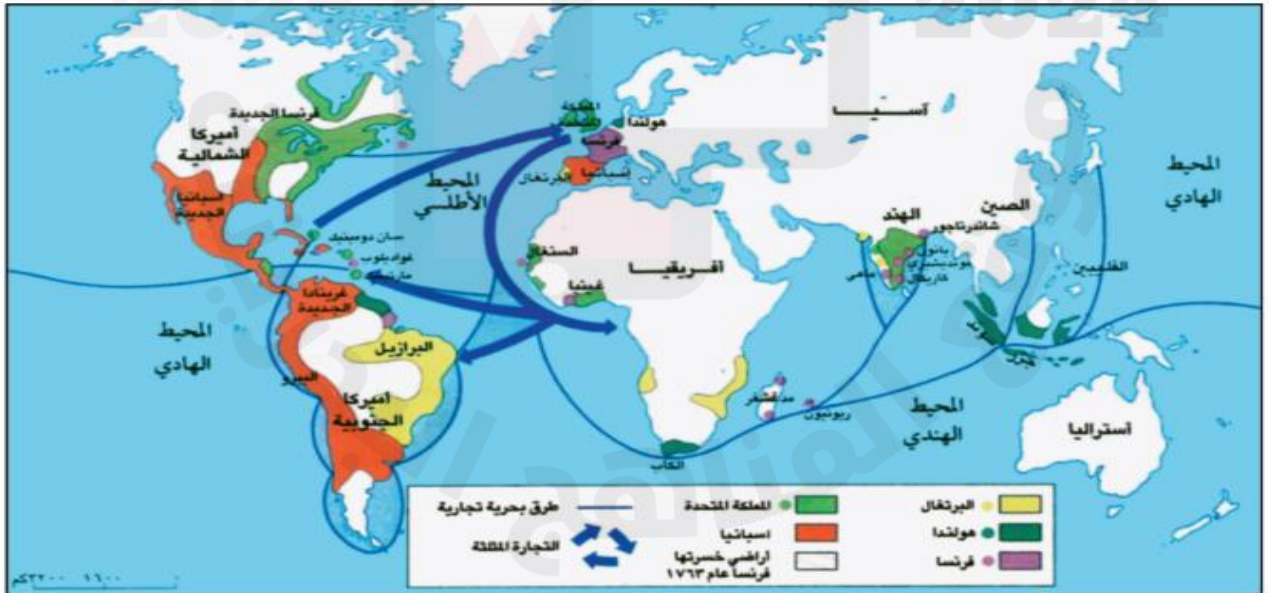
6- (استولت على ليبيا واريتريا وشمال الصومال)

7- (احتلت أجزاء من جنوب شرق افريقيا)

8- (شملت 11 مليون كم2 وتألفت من افريقيا الشمالية والغربية والاستوائية)

9- (شملت 30 مليون كم2 في كل القارات سيطرت على الهند ومصر وافريقيا الشرقية)

ومحميات مثل جبل طارق ومالطا ومستعمرات استيطانية في كندا وأستراليا ونيوزيلندا .



١) التوسع الاستعماري في القرن ١٨ م

- عدد الدول الاستعمارية في القرن ١٨ م بحسب أهميتها وحجم مستعمراتها.
- عدد أسماء الدول التي تراجع نفوذها الاستعماري في هذا القرن.
- من أين كان يؤتي بالرقيق؟ وإلى أين كانوا يصدرون؟

السؤال الأول : اجب عن الأسئلة التالية :

1- علل اطلق على العالمية الأولى اسم الحرب الكبرى

-
-
-

2- ما اسباب بالحرب العالمية الأولى؟

الأسباب غير المباشرة	السبب المباشرة
1-
2-
3-

السؤال الثاني : اجب عن الأسئلة التالية

1- علل سعت الدول الصناعية الكبرى خلال القرن التاسع عشر للحصول على العديد من المستعمرات .

-
-
-

2- علل تصدت المانيا في بداية القرن العشرين للتوسع الاستعماري الفرنسي في المغربية.

-
-

3- ماذا يحدث اذا لم تتدخل بريطانيا والولايات المتحدة في الازمة المغربية الثانية 1911م.

-

السؤال الثالث : ضع دائرة حول الإجابة الصحيحة :

1- عرف القرن التاسع عشر بقرن

أ- الكشوف الجغرافية ب- النهضة الاوربية ج- الثورة الصناعية د- الاستعمار

2- بدا الصراع الألماني – الفرنسي عام 1870 م عندما احتلت المانيا مقاطعتي

أ- الكنفو ب- المغرب ج- الالزاس واللورين د- البلقان

3- في أواخر القرن التاسع عشر تحررت معظم أراضي البلقان من السيطرة

أ- الرومان ب- العثمانيون ج- الاوربيون د- السوفيتية

4- قامت النمسا بضم منطقة البوسنة – الهرسك الى أراضيها 1908م رغم اعتراض

أ- الصرب ب- فرنسا ج- إيطاليا د- بريطانيا

5- عندما ارادت فرنسا ضم المغرب الى مستعمراتها كانت المغرب

أ- ولاية عثمانية ب- تابعة لإسبانيا ج- دولة مستقلة د- تابعة لألمانيا

السؤال الرابع أكمل الجدول التالي بما يناسبه من العبارات التالية :

- 1- محاولة الاتراك لتحرير قناة السويس
- 2- دخول الولايات المتحدة الحرب
- 3- هزيمة الالمان في معركة الفردان 1916م
- 4- إيقاف الزحف الألماني في معركة المارن 1915م
- 5- هزيمة الالمان في معركة المارن الثانية
- 6- انسحاب روسيا
- 7- ثورة الشريف حسين
- 8- الثبات في المواقع (حرب الخنادق)
- 9- دخول تركيا وبلغاريا الحرب
- 10- اقتضرت الحرب على الجبهة الاوربية

المرحلة الأولى	المرحلة الثانية	المرحلة الثالثة

السؤال السادس : اجب عن الأسئلة التالية

أ- النتائج الاجتماعية للحرب العالمية الأولى

-
-
-

ب- النتائج الاقتصادية

-

ج- النتائج السياسية

-
-
-

د- موقف الوطن العربي من الحرب

-



١ الحرب العالمية الأولى (١٩١٤-١٩١٨م)

التأمر الاستعماري على المشرق العربي – الانتداب الدرس 29 ص 109

السؤال الأول : اكمل الجدول التالي

شهد القرن 19 هجمة استعمارية أوروبية شرسة على الوطن العربي

الدولة العربية	الدولة الاستعمارية	الدولة العربية	الدولة الاستعمارية
الجزائر		المغرب	
تونس		ليبيا	
مصر			

السؤال الثاني اكمل الجدول التالي :

الاتفاقية	الأطراف	مكان الانعقاد	النتائج
سايكس – بيكو	-1		-1
1916م	-2		-2
السرية	-3		-3

السؤال الثالث : ضع الكلمة المناسبة في مكانها

(وعد بلفور 1917 – مؤتمر الصلح 1919م- مؤتمر سان ريمو 1920م)

- 1- () انعقد بهدف تقاسم غنائم الحرب العالمية الأولى بين الدول المنتصرة
- 2- () يقضي برغبة بريطانيا في إقامة دولة اليهود على ارض فلسطين .
- 3- () قرر تنظيم الانتداب في المشرق العربي وتعديل اتفاقية سايكس – بيكو.

السؤال الرابع : ضع علامة (x) او (√) امام العبارات التالية مع تصحيح الخطأ.

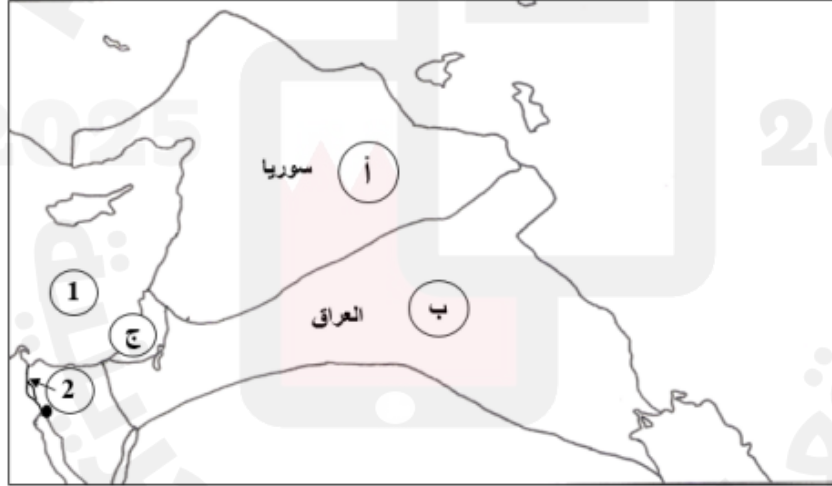
- 1- أمل العرب خلال ثورتهم على الاتراك عام 1916م ان يفي الحلفاء بوعدهم لهم في الحرية والاستقلال بعد انتهاء الحرب ()
- 2- وافقت دول الحلفاء على مطالب الأمير فيصل بوحدة العرب واستقلالهم . ()
- 3- نصت اتفاقية سايكس – بيكو ان تكون فلسطين تحت الانتداب البريطاني وعدل مؤتمر سان ريمو الوضع في فلسطين فجعلها منطقة دولة ()
- 4- بموجب مؤتمر سان ريمو عينت فرنسا الجنرال " غورو" مندوبا رسميا لها على سوريا ()
- 5- اعلن زعماء الشام استقلال سوريا ولبنان وفلسطين تحت حكم الأمير فيصل بعدما اهلكت دول الحلفاء مطالبه في مؤتمر الصلح ()

السؤال الخامس : ضع دائرة حول الإجابة الصحيحة

- 1- وجه إنذارا للأمير فيصل بوجوب مغادرة الشام فوراً .
أ- بيتان ب- غورو ج- ماكماهون د- بلفور
- 2- قاد المعركة في ميسلون السورية ضد الاستعمار الفرنسي وزير الحربية
أ- شكري القوتلي ب- الأمير فيصل ج- يوسف العظمة د- سعد زغلول
- 3- أعلن " غورو " قيام دولة لبنان الكبير واستحدث أربع دويلات في
أ- فلسطين ب- لبنان ج- الأردن د- سوريا
- 4- سعت بريطانيا منذ اليوم الأول لدخولها العراق الى جعله مستعمرة بريطانية على غرار ...
أ- استراليا ب- مصر ج- الهند د- الأردن
- 5- انتفض العراقيون ضد الاستعمار البريطاني بسبب ما قامت به بريطانيا من اثاره الفتن بين العرب والاكراد مما اجبرها على تعيينملك على العراق .
أ- فيصل بن الحسين ب- عبد الاله بن علي ج- عبد الله بن الحسين
- 6- اتبع الانتداب البريطاني في فلسطين سياسة تهدف الى تنفيذ وعد بلفور ففتحت أبواب فلسطين امام
أ- الثورات اليهودية ب- الاستيطان اليهودي ج- الهجرة اليهودية
- 7- قام الفلسطينيون بسلسلة من الثورات ضد اليهود والانتداب البريطاني وكان اشدها بين سنتي .
أ- 1936 و 1939 ب- 1946 و 1949 ج- 1956 و 1959 م

ثانياً- أمامك خريطة صماء توضح تقسيمات اتفاقية سايكس بيكو سنة 1916م، لاحظ الخريطة جيداً ثم أجب
عن الأسئلة التي تليها :

10



- المنطقة (أ) خضعت للسيطرة والنفوذ :
- المنطقة (ب) خضعت للسيطرة والنفوذ:
- اسم المنطقة الدولية (ج):
- الرقم (1) اسم المسطح المائي:
- الرقم (2) اسم قناة:

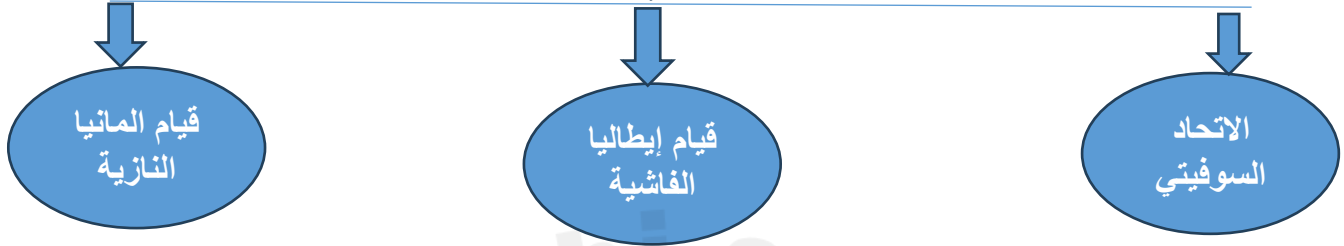
السؤال الأول : اجب عن الأسئلة التالية

1- علل عاد الوضع الدولي بعد الحرب العالمية الأولى الى التوتر رغم قيام عصبة الأمم

-
-

انعكاس اتفاقيات الصلح

على



السؤال الثاني : ضع دائرة حول الإجابة الصحيحة

- 1- خسرت روسيا مساحات شاسعة من أراضيها نتيجة معاهدة
أ- فرساي ب- عدم الاعتداء ج- الحلف الفولاذي د- برست – ليتوفسك
- 2- عندما وصل لحكم الاتحاد السوفيتي 1924 اخذ يخطط لاستعادة ما خسرتة بلاده في اثناء الحرب.
أ- موسو لينيني ب- أدولف هتلر ج- ستالين د- ولسون
- 3- مؤسس الحزب الفاشي في إيطاليا
أ- موسو لينيني ب- أدولف هتلر ج- ستالين د- ولسون
- 4- مؤسس الحزب النازي في المانيا .
أ- موسو لينيني ب- أدولف هتلر ج- ستالين د- ولسون
- 5- وصل موسوليني لحكم إيطاليا عام 1922م واصبح حاكما ...
أ- مقيد الصلاحيات ب- مطلق الصلاحيات ج- ديمقراطي د- نازيا
- 6- وصل هتلر الى حكم المانيا عام 1933م عن طريق ...
أ- الانتخابات والديمقراطية ب- التعيين من الامبراطور ج- القوة العسكرية
- 7- انطلقت الازمة الاقتصادية عام 1929م من ...
أ- بريطانيا ب- اليابان ج- الاتحاد السوفيتي د – الولايات المتحدة

السؤال الثالث : أجب عن الأسئلة التالية

1- بعد الحرب العالمية الأولى قامت في ألمانيا ازماتان حطرتان

الأولى :

الثانية :

2- عانت إيطاليا بعد الحرب العالمية الأولى من مشاكل اقتصادية نتج عنها ..

أ-

ب-

3- أكمل الجدول التالي :

أسباب الازمة الاقتصادية	نتائج الازمة الاقتصادية
-1	-1
-2	-2
-3	-3

التوتر الدولي (1931-1938)

السؤال الرابع اجب عن الأسئلة التالية :

- 1- شهدت هذه الفترة تراجع الأنظمة في مواجهة قوة الأنظمة
- 2- عادت الولايات المتحدة الأمريكية الى سياسة وانشغلت في معالجة نتائج الازمة التي اصابتها عام 1929م.
- 3- علل عانت بريطانيا وفرنسا من عدم استقرار الأوضاع السياسية الداخلية فيهما .

السؤال الخامس صحح ما تحته خط .

- 1- تمكن كل من النظامين الفاشي في ألمانيا والنازي في إيطاليا من بنا جيوش قوية .
- 2- هاجم موسوليني سويسرا واحتلها عام 1936م.
- 3- ضم هتلر النمسا ومنطقة السوديت التشيكوسلوفاكية عام 1928م رغم اعتراض فرنسا وبريطانيا.
- 4- بعد مؤتمر الصلح 1938م تأكد هتلر من تفوق قوته العسكرية وأيقن الحلفاء ان الحرب واقعة.
- 5- لم يحقق مؤتمر ميونيخ 1919م مطالب إيطاليا بإعطائها مستعمرات تريدها .

الحرب العالمية الثانية (1939-1945) الدرس 31 ص 113

السؤال الأول : اكمل الجدول التالي

أسباب الحرب غير المباشرة	السبب المباشرة
-1	
-2	
-3	
-4	

السؤال الثاني : ضع العبارات التالية في المكان المناسب من الجدول :

- هزم الأمريكيون اليابانيين في المحيط الهادي
- اجتياح الالمان الأراضي السوفيتية
- اجتياح الالمان بولندا
- سحق الجيش الأحمر الالمان في ستالينغراد
- أوقف الجيش الأحمر الالمان على أبواب موسكو
- اسقط الحلفاء إيطاليا الفاشية 1943م
- استسلام اليابان بعد سقوط قنبلتين على هيروشيما وناكازاكي
- * انتصر الإنكليز على الالمان في معركة العلميين .
- * دمرت اليابان الاسطور الأمريكي في ميناء بيرل هاربر
- * احتل هتلر الدانمارك والنرويج وبلجيكا وهولندا وفرنسا
- * نزول جيوش الحلفاء في النور ماندي 1944م
- * التقدم الإيطالي في الأراضي الفرنسية عبر جبال الالب
- * التقى الجيش الأمريكي والسوفيتي في قلب برلين 1945م

مراحل الحرب العالمية الثانية

المرحلة الأولى الحرب في أوروبا 1939-1940	المرحلة الثانية تدويل الحرب 1941	المرحلة الثالثة تراجع المحور وانتصار الحلفاء 1942-1945م
2024		2025

السؤال الثالث : ضع دائرة حول الإجابة الصحيحة

- 1- تراكمت الأسباب غير المباشرة للحرب العالمية الثانية خلال الفترة من 1919م الى 1938م وشكلت أحداث سنةالاسباب المباشرة .
 أ- 1929 ب- 1936 ج- 1939 م د- 1941م
- 2- وقع رئيس الوزراء الفرنسي هدنة مع الالمان (22 يونيو 1940 م) ..
 أ- المارشال بيتان ب- الجنرال غورو ج- الجنرال كاترو د- الجنرال ديغول
- 3- رفض الاستسلام وانتقل مع أنصاره الى الجزائر ومنها الى بريطانيا وأعلن حكومة فرنسا الحرة .
 أ- المارشال بيتان ب- الجنرال غورو ج- الجنرال كاترو د- الجنرال ديغول
- 4- وجهت المانيا إنذارا الى بولندا بوجوب إعادة مدينةالحررة الى الوطن الام .
 أ- بوهيميا ب- مورافيا ج- دانترغ د- برلين
- 5- أحدثت الحرب انقلابا في النظام الدولي الذي كان قائما قبل اندلاعها فقد تراجعت سيطرة
 أ- الولايات المتحدة ب- الاتحاد السوفيتي ج- الصين د- أوروبا
- 6- من نتائج الحرب العالمية الثانية 1939-1945 م التفاف العالم حول عملاقين جديدين هما
 أ- الهند والصين ب- الولايات المتحدة والاتحاد السوفيتي ج- فرنسا وبريطانيا
- 7- قامت حرب باردة بين العملاقين الجديدين منذ 1948م رغم قيام هيئةعام
 (1945 – 1946) للحفاظ على السلام العالمي .
 أ- عصبة الأمم ب- اليونسكو ج- الأمم المتحدة د- محكمة العدل الدولية

ثالثاً- أكمل المخطط الزمني التالي حسب ما يناسبه من الأحداث التاريخية التالية:

انتهاء الحرب - معركة المارن - معركة المارن الثانية - معركة فردان.

4

1914	1915	1916	1918	1919
بداية الحرب العالمية الأولى			+	مؤتمر الصلح

السؤال الأول : ضع دائرة حول الإجابة الصحيحة

- 1- تحولت العلاقة بين سوريا وفرنسا عام 1936م الى معاهدة تحالف بعد ما كانت
أ- احتلال ب- استعمار ج- انتداب د- حماية
- 2- اعلن الجنرال ممثل حكومة فرنسا في القاهرة عام 1941م على سوريا ولبنان .
أ- المارشال بيتان ب- الجنرال غورو ج- الجنرال كاترو د- الجنرال ديغول
- 3- في سنة 1943م جرت في سوريا انتخابات نيابية وانتخب المجلس النيابي الجديد رئيسا للجمهورية
أ- بشارة الخوري ب- شكري القوتلي ج- رياض الصلح د- فيصل بن الحسين
- 4- جرت انتخابات نيابية في لبنان اسفرت على وصولالى رئاسة الجمهورية .
أ- بشارة الخوري ب- شكري القوتلي ج- رياض الصلح د- فيصل بن الحسين
- 5- قام بتعديل الدستور والغي جميع المواد المتعلقة بالانتداب في لبنان .
أ- مجلس النواب اللبناني ب- مجلس النواب الفرنسي ج- مجلس النواب السوري
- 6- ظلت مصر اسميا ولايةحتى نشوب الحرب العالمية الأولى .
أ- عربية ب- إسلامية ج- عثمانية د- بريطانية
- 7- وصل السلطان فؤاد الأول الى العرش واتخذ لنفسه لقب عام 1922م.
أ- سلطان ب- أمير ج- رئيس د- ملك
- 8- تولى قيادة الحركة الوطنية المصرية المطالبة بالاستقلال وانشأ حزب الوفد.
أ- سعد زغلول ب- محمد نجيب ج- جمال عبد الناصر د- فؤاد الأول
- 9- المعاهدة التي نصت على انسحاب جيش الاحتلال البريطاني من مصر الى القناة هي معاهدة
أ- 1929م ب- 1930م ج- 1936م د- 1939م
- 10 - قامت ثورة الضباط الاحرار عام 1952 والغت الملكية وأعلنت الجمهورية برئاسة جمال عبد الناصر ضد
أ- الملك فؤاد الأول ب- الملك فاروق ج- الخديوي عباس د- الخديوي اسماعيل

السؤال الثاني: اجب عن الأسئلة التالية

- 1- علل تحالف القادة العراقيين مع الالمان خلال الحرب العالمية الثانية ؟
.....
- 2- ما الإجراءات التي قامت بها بريطانيا بعد انقلاب (مايو 1941م في العراق ؟
.....
.....
- 3- علل :عارض العراقيون دخول العراق حلف بغداد 1955م رغم موافقة الحكومة الموالية لبريطانيا .
.....

حركات الاستقلال في المغرب العربي - الدرس 33 ص 117

السؤال الأول : أكمل الجدول التالي

الدولة العربية	الدولة الاستعمارية	تاريخ الاحتلال	تاريخ الاستقلال	اهم شخصية في الحركة الوطنية
الجزائر
تونس
ليبيا
المغرب

السؤال الثاني : ضع دائرة حول الإجابة الصحيحة

- 1- استخدم الاستعمار الإيطالي في ليبيا اعنف الأساليب لمحو الشخصية العربية الاسلامية لذلك اتخذت المقاومة طابعا ..
 أ- وطنيا وعسكريا ب- وطنيا وسياسيا ج- وطنيا ودينيا د- وطنيا واجتماعيا
- 2- تولى راية الجهاد في ليبيا عام 1922م وظهر بطولة اسطورية في مقاومة المجاهد..
 أ- عمر المختار ب- محمد ادريس السنوسي ج- الحبيب بورقيبة
- 3- خلال الحرب العالمية الثانية تحالف الليبيون معللتخلص من الاستعمار الإيطالي .
 أ- دول المحور ب- الحلفاء ج- الدولة العثمانية د- الاتحاد السوفيتي
- 4- في عام 1951 م نالت ليبيا استقلالها وأصبحملكا على البلاد .
 أ- الحبيب بورقيبة ب- معمر القذافي ج- احمد بن بلا د-محمد ادريس السنوسي
- 5- تصد التونسيون للاستعمار الفرنسي و خلال الحرب العالمية الثانية التفوا حول ..
 أ- الحبيب بورقيبة ب- الباي محمد بن المنصف ج-أحمد بن بلا د- قيس سعيد
- 6- في سنة 1945 م نشأت مقاومة مسلحة في بعض المدن والجبال فمنحت فرنسا تونس حكما..
 أ- إقليميا ب- دوليا ج- ذاتيا د- مؤقتا
- 7- واجه الشعب المغربي الاستعماريينو.....
 أ- الاسباني والفرنسي ب- الفرنسي والبريطاني ج- الاسباني والبريطاني
- 8- قاد الحركة الوطنية في الريف المغربي ضد الاحتلال الاسباني
 أ- علال الفاسي ب- السلطان محمد الخامس ج- محمد عبد الكريم الخطابي
- 9- في عام 1944 م نادى حزب الاستقلال بعروبة المغرب واستقلالها بقيادة
 أ- علال الفاسي ب- السلطان محمد الخامس ج- محمد عبد الكريم الخطابي
- 10- عندما عزلت فرنسا السلطان ونفته عام 1953م اندلعت ثورة في المغرب أجبرت فرنسا على ...
 أ- سحق الثورة ب- عزل ونفي علال الفاسي ج- الاستقلال وإعادة السلطان للعرش

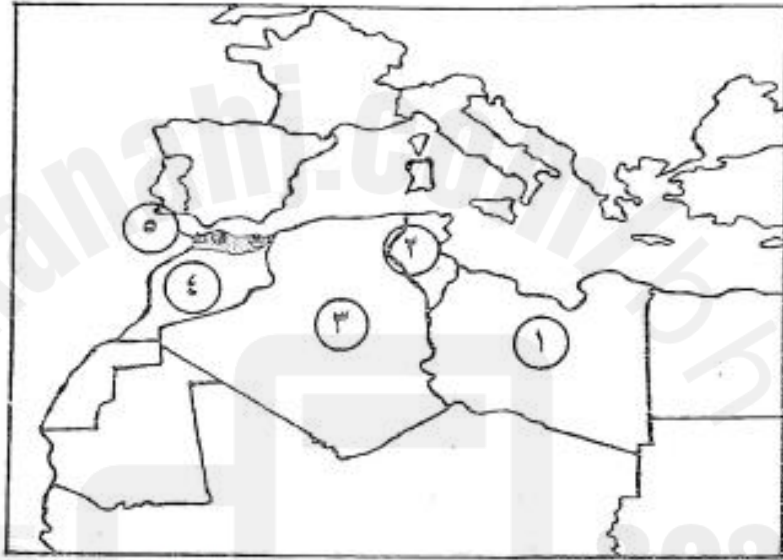
الحركة الاستقلالية في الجزائر (1926 - 1962م)

السؤال الثالث أكمل العبارات التالية :

- 1- في سنة 1926 أسس مصالي الحاج جمعية
- 2- مؤسس الاتحاد الديمقراطي الذي دعا الى اشراك الجزائريين في إدارة شؤون بلادهم هو.....
- 3- اعلن الجنرال في سبتمبر 1959م اعترافه بمبدأ استقلال الجزائر .
- 4- مهدت مفاوضات مدينة إيفيان بين الحكومة الفرنسية وزعماء جبهة تحرير 1962م الى..... واصبح اول رئيس للبلاد .

ثالثاً_ أمامك خريطة لدول المغرب العربي، اكتب ما تمثله الأرقام التي عليها بالجدول الذي يليها حسب البيانات الواردة فيه:

10



الرقم على الخريطة	المنطقة / الدولة العربية	الدولة الاستعمارية
(1)
(2)
(3)
(4)
(5)

السؤال الأول : اكمل العبارات التالية

- 1- شكل الخليج العربي في القرون الوسطى منطقة بالغة الأهمية بالنسبة لتجارة الشرق مما جعلها دائرة الصراع الاستعماري بين و..... و.....
- 2- في القرن 18 قامت بريطانيا لتأمين طريق التجارة الى الهند بعقد سلسلة من مع مشايخ الخليج .

السؤال الثاني: أجب عن الأسئلة التالية

- 1- في سنة 1615 م خضع ساحل عمان للحكم لكونه أهم نقطة استراتيجية
أ- هولندا ب- البرتغال ج- فرنسا د- بريطانيا
- 2- تمكن العمانيون من طرد البرتغاليون بعد حكم دام أكثر من قرن وحكمت البلاد أسرة ...
أ- ال سعود ب- ال ثاني ج- ال جبور د- البوسعيد
- 3- في سنة 1913م انتفض العمانيون على الحماية
أ- البرتغالية ب- الهولندية ج- البريطانية د- الفارسية
- 4- استطاع في عام 1955 م من ضم عمان الى مسقط السلطان
أ- سعيد بن تيمور ب- قابوس بن سعيد ج- هيثم بن طارق ال سعيد
- 5- في سنة 1970 م تولى حكم عمان السلطان
أ- سعيد بن تيمور ب- قابوس بن سعيد ج- هيثم بن طارق ال سعيد
- 6- تولى حكم عمان بعد وفاة السلطان قابوس السلطان
أ- سعيد بن تيمور ب- قابوس بن سعيد ج- هيثم بن طارق ال سعيد

السؤال الثالث ضع الكلمة المناسبة في العبارة الصحيحة

(بريطانيا - احمد بن علي - حمد بن خليفة - محمد بن ثاني - آل خليفة - عبد الله بن قاسم)

- 1-) (حكام قطر والبحرين الذين قدم عليهم ال ثاني في القرن ال 18
- 2-) (اصبح حاكما على الدوحة وحافظ على ولائه لآل خليفة حتى اتفاقية 1868م
- 3-) (عقدت اتفاقية مع الشيخ عبد الله بن قاسم عام 1916 م ليكون تحت حمايتها .
- 4-) (قام عام 1937م بهجوم مسلح على الزبارة وتهجير قسري لرعايا البحرين
- 5-) (تمكن من الحصول على استقلال قطر عام 1971م
- 6-) (تنازل عن الحكم عام 2013 م لابنه الشيخ تميم في قطر .

السؤال الرابع :ضع علامة (√) او علامة (x) امام العبارات التالية

- 1- قدم ال ثاني الى شبة جزيرة قطر التي كان يحكمها ال مذكور من القيم الوشم في نجد ()
- 2- للتوسع في التنقيب عن النفط عمد الشيخ عبد الله الى التوسع على حساب الأراضي التابعة لحكم ال خليفة ()

استقلال دول الخليج العربي (2) الدرس 37

السؤال الأول :ضع دائرة حول الإجابة الصحيحة

- 1- يرتبط تاريخ الكويت الحديث بأسرة ال الصباح التي نزحت من نجد في أواسط القرن
أ- السادس عشر ب- السابع عشر ج- الثامن عشر د- التاسع عشر
- 2- اول من حكم الكويت من ال صباح 1756م -1762م
أ- الشيخ عبدالله السالم ب- الشيخ صباح الأحمد ج- صباح بن جابر
- 3- كانت الكويت خاضعة للدولة العثمانية الا انها كانت تتمتع بقدر من الاستقلال لم يكن يرده
أ- العرب ب- الباب العالي ج- الاوربيون د- البريطانيون
- 4- عقدت بريطانيا معاهدة مع الشيخ مبارك حاكم الكويت 1899م بسبب القلق من الخط الحديدي بين
أ- الاستانة والبصرة ب- بين الكويت والعراق ج- الكويت والسعودية

السؤال الثاني :اجب عن الأسئلة التالية

- 1- اذكر ثلاث من الاعمال التي قام بها الشيخ احمد الجابر الصباح ؟

.....
.....
.....

- 2- اذكر أربعة من الاعمال التي قام به الشيخ عبد الله السالم الصباح ؟

.....
.....
.....
.....

السؤال الثالث : صحح الكلمات التي تحتها خط ؟

- 1- عرفت الامارات العربية المتحدة خلال القرن التاسع عشر باسم ناحية البحرين .

- 2- تتشكل الامارات العربية المتحدة من تسع امارات عربية .

- 3- في 1960 م برزت دبي وهي اكبر إمارات الساحل بعد اكتشاف النفط فيها وتطورها اجتماعيا وعمرانيا واقتصاديا.

- 4- عم التيار الاستقلالي منطقة الخليج فأعلنت البرتغال عزمها على الانسحاب من الساحل عام 1971م

- 5- اتفق الشيخ زايد ال نهيان حاكم أبو ظبي مع الشيخ راشد بن سعيد ال مكتوم حاكم دبي على إقامة اتحاد جمهوري بين امارتيهما 1968م

- 6- في فبراير 1971م التحقت امارة الشارقة باتحاد الامارات العربية المتحدة .

السؤال الرابع : اجب عن الأسئلة التالية

- 1- سم جزر الامارات الثلاثة التي احتلتها ايران ؟ أ- ب- ج-
- 2- سعت ايران لتوسيع نفوذها في الجزر من خلال إقامة و.....
- 3- اكد مجلس التعاون لدول الخليج منذ نشأته تأكيد.....دولة الامارات على الجز الثلاث .

السؤال الأول : أكمل العبارات الآتية

- 1- برزت البرتغاليون من خلال حركة كدولة ذات موقع متقدم في حركة التوسع الاستعماري.
- 2- ظلت البرتغال سيدة الموقف خلال معظم سنوات القرن 16م ولكن عانت ثغرة في مواصلاتها الشرقية تجلت في و.....
- 3- استغل البرتغاليون في مطلع القرن 16 الصراع بين الدولة والدولة.....

السؤال الثاني أجب عن الأسئلة التالية

- 1- علل لم يستقر نفوذ البرتغاليون في المنطقة رغم سيطرتهم على مواقع في الخليج وبنو القلاع ؟
.....
.....
 - 2- توالى على حكم البحرين عائلات عربية خلال القرن 16 وحتى القرن 18 أهمها و.....
 - 3- نجحت في تحقيق الاستقرار السياسي والازدهار الاقتصادي في نهاية القرن 18
.....
- السؤال الثالث : ضع التاريخ المناسب بجوار الحدث التاريخي .

(1650م – 1602 م - 1521م -)

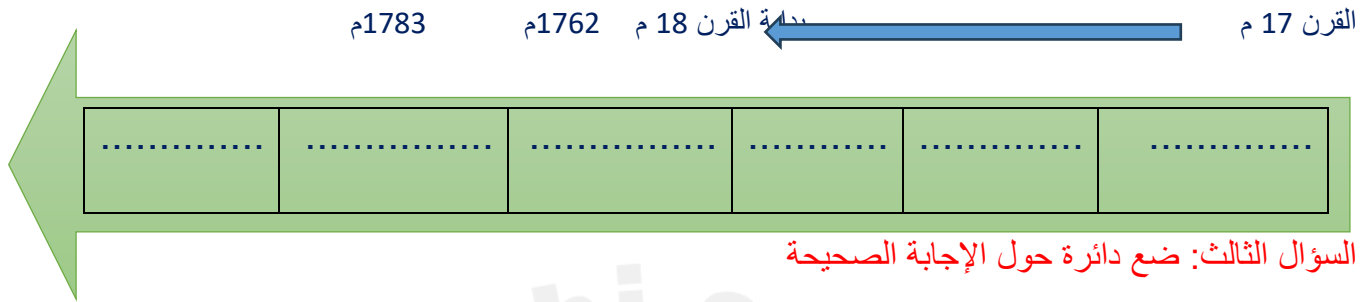
- 1-) بسط البرتغاليون نفوذهم في البحرين بصعوبة .
- 2-) قام اهل البحرين بإجلاء القوات البرتغالية عن البحرين .
- 3-) انتصر اليعاربة في مسقط على القوات البرتغالية وانتهى الوجود البرتغالي

السؤال الأول : أكمل العبارات التالية

- 1- يرجع آل خليفة في نسبهم إلى وهم أكبر فروع هذه المجموعة المنحدرة من قبيلة
 - 2- يشارك آل خليفة في الانتماء إلى العتوب في الكويت و في السعودية
 - 3- نزح العتوب في القرن 17 من قرية في منطقة إلى
- ومنها إلى قطر التي كانت تابعة ل.....

السؤال الثاني: رتب المناطق التي نزح إليها آل خليفة ترتيباً زمنياً على الخط ادناه ؟

(الاحساء – البحرين – الكويت – الزبارة – الافلاج – قطر)



السؤال الثالث: ضع دائرة حول الإجابة الصحيحة

- 1- مدينة تقع على الساحل الشمالي الغربي لشبة جزيرة قطر وتشتهر بصيد اللؤلؤ.
أ- الدوحة ب- الزبارة ج- المنامة د- الساية
- 2- تميز برجاجة عقله وتكريمه للعلماء وبيناء المدارس والمساجد وبنى قلعة مرير.
أ- الشيخ محمد بن خليفة ب- الشيخ خليفة بن محمد ج- الشيخ احمد بن محمد
- 3- ازدهرت في عهده الزبارة وتصدى لحمة نصر بن مذكور حاكم بوشهر والبحرين .
أ- الشيخ محمد بن خليفة ب- الشيخ خليفة بن محمد ج- الشيخ احمد بن محمد
- 4- ظل ينتقل بين البحرين صيفا والزبارة شتاء حتى وافته المنية في البحرين ودفن بالمنامة 1795م
أ- الشيخ محمد بن خليفة ب- الشيخ خليفة بن محمد ج- الشيخ احمد بن محمد آل خليفة
- 5- عندما تمكن الشيخ احمد بن محمد آل خليفة من فتح البحرين والانتصار على آل مذكور لقب بـ
أ- الأمير ب- الملك ج- السلطان د- الفاتح

السؤال الرابع : اجب عن الأسئلة التالية :

- 1- ما الذي يشكل المنعطف الأكثر أهمية في تاريخ البحرين الحديث والمعاصر ؟
.....
- 2- ما الذي حفز الشيخ احمد بن محمد آل خليفة على التقدم إلى البحرين وضمها لحكم آل خليفة ؟
.....
- 3- علل لم يتسرع الشيخ احمد بن خليفة في نقل عاصمة حكمه من الزبارة إلى البحرين ؟
.....
- 4- اكمل : نشأت دولة عربية مستقلة شمل مجالها الجغرافي و..... واحتلت موقعا وسطا في الخليج العربي.
- 5- ما الركيزة الأساسية التي قام عليه الاقتصاد في البحرين وقطر في ظل حكم آل خليفة لهما؟
.....

السؤال الأول : ضع علامة (√) او علامة (x) امام العبارات التالية مع تصحيح الخطأ

- 1- بقى الشيخ سلمان بن محمد في الحكم حتى 1281م ()
- 2- تولى الشيخ عيسى بن علي الحكم من 1869 – 1932 م ()
- 3- نجح ال خليفة في بناء تقاليد متينة لتوارث الحكم لكنهم لم يحققوا نجاح في بناء علاقات ولاء مع أطراف المجتمع ()

السؤال الثاني :ضع دائرة حول الإجابة الصحيحة

- 1- نجحت البحرين في التصدي لتهديدات القوى المجاورة الا ان الخطر الأكبر في المنطقة كان يتمثل في النفوذ .
أ- الفرنسي ب- البرتغالي ج- الهولندي د- البريطاني
- 2- شهد عهده نشأة التعليم النظامي عام 1919م .
أ- الشيخ حمد بن عيسى ب- الملك حمد بن عيسى ج- عيسى بن علي د- سلمان بن حمد
- 3- تميز عهده بتوظيف اعداد من البحرينيين في أجهزة الحكومية .
أ- الشيخ حمد بن عيسى ب- الملك حمد بن عيسى ج- عيسى بن علي د- سلمان بن حمد
- 4- قاد الوطنيين البحرينيين وطالب الحاكم بإنشاء مجلس تأسيسي يحد من النفوذ البريطاني .
أ- المستشار بيلغريف ب- عبد الوهاب الزباني ج- سيادي د- يوثان
- 5- ارغم التوافق بين الحاكم والشعب بريطانيا على الاكتفاء بتعيين مستشارا لدى حكومة البحرين 1926م
أ- المستشار بيلغريف ب- عبد الوهاب الزباني ج- سيادي د- يوثان

السؤال الثالث : اجب عن الأسئلة التالية ؟

- 1- ما نتائج العدوان المسلح الذي شنته قطر عام 1937 م على الزبارة ؟
- 2- ما الاعمال التي قام بها الشيخ حمد بن عيسى الملقب بحاكم البحرين وتوابعها (1932- 1942م)
- 3- ما الذي تضمنته معاهدة بريطانيا مع البحرين عام 1892م

السؤال الرابع : صل بي المجموعة أ والمجموعة ب

(أ) (ب)

فترة العشرينان والثلاثينات صدرت مجلة صوت البحرين

فترة الاربعينات شهدت الحركة الوطنية انتعاشه قوية نتيجة الازمة الاقتصادية

فترة الخمسينات الدعوة للحد من تدخل بيلغريف في الاقتصاد والإدارة

السؤال الأول : اكمل العبارات التالية بعد قراءة الفقرة الأولى من الكتاب .

- 1- شهد المجتمع نهضة حديثة منذ القرن العشرين ونشأت أولى المدارس عام
- 2- أدى اكتشاف النفط الى نشأة فئة وبعد الحرب العالمية انتشر المذيع ونشأت
- ونشطت الحركة فاستقرت السكان في المدن .
- 3- اما على الصعيد السياسي : فقد شاركت البحرين منذ الستينات في بعض لجان واستضافت على أراضيها مؤتمرات و.....
- 4- في عام 1970 م طالبت ايران ب..... فارسل يوثانت الأمين العام للأمم المتحدة بعثة في البحرين وترأس هذه البعثة الايطالي الذي التقى بمختلف فئات الشعب.

السؤال الثاني أجب عن الأسئلة التالية :

- 1- اذكر ثلاث مما تضمنه بيان 14 أغسطس 1971 م ؟
.....
.....
.....
- 2- لتحقيق النهضة الحديثة تقدم البلاد في مجال البنية الأساسية وضح ذلك؟
.....
.....
.....
- 3- بين إنجازات البحرين في المجال الاقتصادي؟
.....
.....
.....
- 4- بين إنجازات البحرين في المجال الاجتماعي؟
.....
.....
.....
- 5- اذكر اثنين من مظاهر نجاح الدولة في انشاء مجتمع عصري متضامن الطبقة الوسطى من اهم مكوناته والانفتاح الثقافي من اهم سماته ؟
.....
.....

السؤال الثالث: ضع علامة (√) او علامة (x) امام العبارات التالية مع تصحيح الخطأ

- 1- في 11 مايو 1970 صادق مجلس الامن بالأجماع على تقرير البعثة الدولية ووضع حدا للمطالب البريطانية التي تطالب بالبحرين ()
- 2- في 16 أغسطس صدر مرسوم اميري اتخذ الشيخ عيسى بن علي ال خليفة بموجبه لقب أمير البحرين ()
- 3- يسرت العائدات المالية العناية بالبنية الأساسية وانشاء الجهاز الإنتاجي وتوسيع الخدمات الاجتماعية ()
- 4- انضمت البحرين الى الجامعة العربية (11 سبتمبر 1971م) والى مجلس التعاون الخليجي في الشهر نفسه ()



