

تم تحميل هذا الملف من موقع المناهج البحرينية



الملف حل كراسة التمارين الفصل الأول كتاب الرياضيات

[موقع المناهج](#) ← [الصف التاسع](#) ← [رياضيات](#) ← [الفصل الأول](#)

روابط مواقع التواصل الاجتماعي بحسب الصف التاسع



روابط مواد الصف التاسع على تلغرام

[الرياضيات](#)

[اللغة الانجليزية](#)

[اللغة العربية](#)

[التربية الاسلامية](#)

المزيد من الملفات بحسب الصف التاسع والمادة رياضيات في الفصل الأول

أسئلة امتحان	1
الإجابة النموذجية	2
مذكرة أسئلة شاملة	3
حل مذكرة	4
أسئلة امتحان	5



م ل ف ه الاجتماعيات والتربية
 للمواطنة، للصف الثالث الإعدادي
 الفصل الدراسي الأول
 2017-2018م [نهاية الفصل]
 إعداد المعلمة/ **علوية سيد علي الهاشم**



الاسم:
 الصف الثالث الإعدادي فرقة
 معلمة المادة:

تمكيد

هذا الملف هو اجتهاد جديد لدعم كتاب الطالب المدرسي وتنظيم عملية الفروض اليومية والأنشطة الصفية واللاصفية .
 جاهدين كل الجهد لتحقيق الأهداف التربوية لمادة المواد الاجتماعية المقررة للصف الثالث الإعدادي في الفصل الدراسي الأول.
 كما ويساعد المعلمة على تقويم نتاج الطالبة بشكل أفضل وأدق وأشمل، ويعمل على تحقيق تواصل مستمر مع ولي الأمر.

إعداد المعلمة/

علوية سيد علي الهاشم



دروس الصف الثالث الإعدادي 2018/2017م

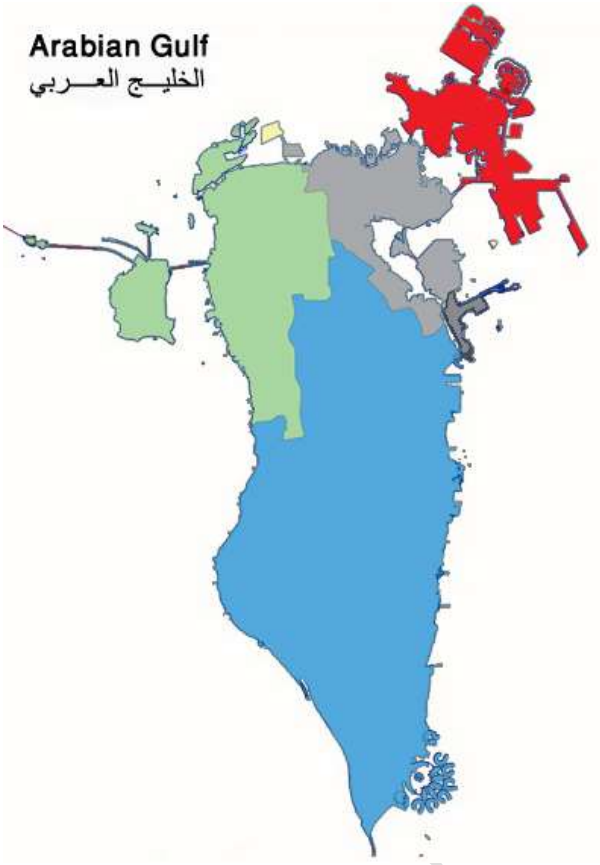
المادة	رقم الدرس	الموضوع	الفترة الزمنية	
المواد الاجتماعية	الوحدة الأولى: جغرافية البحرين			
	10	التنمية الاقتصادية		
	11	القطاع الزراعي ، الحيواني وصيد الأسماك		
	12	واقع الصناعة في مملكة البحرين		
	14	طرق المواصلات والاتصالات		
	15	القطاع المالي		
	16	السياحة		
	17	التجارة الخارجية		
	الوحدة الثانية : قارة أوروبا			
	18	السطح		
	19	المناخ		
	20	السكان		
	21	الاقتصاد		
	الوحدة الثالثة : قارة أمريكا الشمالية والوسطى			
	22	السطح والمناخ		
	23	السكان		
	24	الاقتصاد		
التربية للمواطنة	4	المواطنة البيئية		
	5	العمل		
	6	التنمية		
	7	المواطن أمام التحديات – التفاوت العلمي والتكنولوجي		

نهاية الفصل الأول (للامتحان النهائي)

الوحدة الأولى

جغرافية

البحرين



(10) التنمية الاقتصادية

- ♣ **علي : للإيرادات النفطية دور كبير في التنمية الاقتصادية في البحرين.**
- (1) بفضل الإيرادات النفطية اتسعت القاعدة الاقتصادية وتنوعت.
- (2) قل الاعتماد على النفط كمورد أساسي للنتاج المحلي الإجمالي.

الدوافع	<p>ما الدوافع التي دفعت البحرين لاتباع سياسة تنويع مصادر الدخل وخصوصاً في السبعينات؟ (مهم جداً للامتحانات النهائية)</p>
	<p>• بسبب خطر نضوب النفط.</p> <p>وخصوصاً في السبعينات أدى إلى اتباع سياسة تنويع مصادر الدخل.</p> <p>توظيف إيراداتها النفطية التي بلغت 62% من إجمالي إيرادات الدولة في الفترة الممتدة بين 1975م-1992م في تنفيذ الخطط والبرامج التنموية الاقتصادية والبشرية الشاملة التي رسمتها البلاد لتحقيق الهدف.</p>

البنية التحتية	<p>س2: ما التدابير التي اتبعتها البحرين على صعيد البنية التحتية لإنجاح خطتها التنموية؟ (مهم جداً للامتحانات النهائية)</p>
	<p>(1) أنشأت المناطق الصناعية.</p> <p>(2) مدّت شبكات المياه والكهرباء والمجاري إلى مختلف مناطق البلاد.</p> <p>(3) جعلت شبكات الاتصالات السلكية واللاسلكية حديثة؛ لتسيير عملية الاتصال بين مناطق البحرين والعالم الخارجي.</p> <p>(4) وطوّرت شبكة المواصلات البرية والجوية. (علي) من أجل تنمية الحركة التجارية والسياحية.</p> <p>(5) تحسين جميع الخدمات العامة وتطويرها، ولا سيما الخدمات الصحية والتعليمية والإسكانية.</p>

سياسة الحرية الاقتصادية

س3: بماذا تمثلت سياسة الحرية الاقتصادية التي اتبعتها مملكة البحرين؟
س3: عللي نجاح سياسة الحرية الاقتصادية التي اتبعتها مملكة البحرين؟
(مهم جدا للامتحانات النهائية)

- 1) جذب رؤوس الأموال الخارجية ، عربية وأجنبية.
- 2) إعطاء الحرية في إدخال رؤوس الأموال وإخراجها.
- 3) السماح للأجانب بامتلاك جميع أسهم الشركات التي يؤسسونها في البحرين دون الحاجة إلى شريك بحريني.
- 4) إعفاء الشركات الصناعية والمؤسسات المصرفية من الضرائب لفترة زمنية محددة بعد التأسيس.
- 5) التسهيلات التي تقدمها مختلف الدوائر الحكومية لاستصدار تراخيص التأسيس لمختلف الشركات.

نتائج التنمية الاقتصادية

س4: ما نتائج التنمية الاقتصادية في البحرين ؟
س4: يتسم القطاع البحريني بالتوازن بين مختلف القطاعات؟
(مهم جدا للامتحانات النهائية)

- أدت التنمية الاقتصادية التي شهدتها البحرين، وسياسة الحرية الاقتصادية المتبعة إلى:
- 1) توسع قاعدة الاقتصاد البحريني وتنوعه.
 - 2) ارتفاع نسبة إسهام القطاعات الاقتصادية في الناتج المحلي ، وعلى الأخص قطاعي الصناعة التحويلية والخدمات.
 - 3) انخفاض نسبة إسهام النفط.

النتيجة: اتسم الناتج المحلي الإجمالي في البحرين بشبه توازن بين مختلف قطاعاته.
ارتفعت نسب مساهمة القطاعات الأخرى في إجمالي الناتج المحلي الإجمالي وهي :
قطاع البناء والتشييد إلى 7% 2012م ، القطاع المالي إلى 17% ، والتصنيع 15%
في نفس السنة.
كل ذلك أدى إلى تطور مستوى التنمية البشرية في الصحة والتعليم والإسكان وغيرها.

اسئلة من امتحانات سابقة

ضعي علامة (✓) يسار العبارات الصحيحة وعلامة (x) يمين العبارات الخاطئة:

- (1) () اتبعت البحرين سياسة تنوع دخلها في التسعينات.
- (2) () تمثلت سياسة الحرية الاقتصادية في البحرين بمجذب رؤوس الاموال العربية فقط.
- (3) () سمحت البحرين للأجانب بإمتلاك أسهم في الشركات التي يؤسسونها في البحرين بشرط الحاجة إلى شريك بحريني.
- (4) () أعفت مملكة البحرين الشركات الصناعية والمؤسسات المصرفية من الضرائب لفترة محدودة بعد التأسيس.
- (5) () من التدابير التي اتبعتها البحرين في البنية التحتية أنشأت عدد من المناطق الصناعية.

اذكري التدابير التي اتبعتها مملكة البحرين على صعيد البنية التحتية؟

- (1)
- (2)
- (3)

بين التدابير التي اتخذتها مملكة البحرين لتنوع مصادر الدخل وتنمية الاقتصاد على صعيد: (فقط ثلاث نقاط)

سياسة الحرية الاقتصادية	البنية التحتية

(11) القطاع الزراعي / الحيواني / صيد الأسماك

علي: انخفضت نسبة مساهمة القطاعات الاقتصادية الإنتاجية في الناتج المحلي الإجمالي؟
(1) بسبب الظروف الطبيعية والبشرية

المساحة القابلة للزراعة 9% من المساحة العامة.

القطاعات الاقتصادية	الناتج المحلي والإجمالي	القوى العاملة
زراعة وتربية الحيوانات	3%	1.5%
صيد الأسماك	0.2%	0.9%

تسعى البحرين لدعم هذه القطاعات من أجل سد حاجة السوق المحلية.

واقع القطاعات الإنتاجية (الزراعي الحيواني و السمكي) في مملكة البحرين

القطاع الزراعي (مهم جدًا للامتحانات النهائية)

جهود التطوير	المشاكل
<p><u>زيادة المساحة الأراضي الزراعية يتم عن طريق :</u></p> <ol style="list-style-type: none"> 1) استصلاح الأراضي الزراعية من خلال إنشاء شبكات تصريف المياه من الأراضي الزراعية. 2) التغلب على مشكلة ملوحة التربة. 3) الاستفادة من المياه المعالجة بمحطة توبلي في الري. 4) تشجيع الحكومة المزارعين على تطوير إنتاجهم. 5) استخدام الوسائل الحديثة. 6) إعطائهم القروض الميسرة. 7) تأمين خدمات الوقاية الزراعية ومكافحة الآفات الزراعية. 8) الخدمات الإرشادية عن طريق الزيارات الميدانية. 9) إجراء البحوث الميدانية لإدخال البذور المحسنة في أصناف الخضر / لرفع إنتاجها / ومقاومتها للأمراض. 	<p>محدودية الأراضي الصالحة للزراعة حيث لا تتعدى إنتاج الخضروات 5632 دونما ، ويعود السبب إلى:</p> <ol style="list-style-type: none"> 1) ندرة مياه الري. 2) ملوحة التربة. 3) افتقارها للمواد العضوية. <p>تنحصر الأراضي المزروعة التي لم يزرع منها سوى 74%، عن شريط ضيق من المنامة شمالاً إلى الزلاق غرباً.</p>

القطاع الحيواني (مهم جدًا للامتحانات النهائية)

المشاكل	جهود التطوير
<p>(1) الاعتماد في تربية الحيوانات على الطرق التقليدية تتمثل في : أ. تربية قطعان صغيرة تنتمي إلى سلالات تقليدية، تتميز بضعف إنتاجها، بسبب الظروف المناخية. ب. عدم وجود مراعي طبيعية. (2) ارتفاع نسبة تكاليف الإنتاج. (3) عزوف السكان عن العمل في هذا القطاع، وتوجههم إلى العمل في نشاطات اقتصادية كالصناعة والخدمات.</p>	<p>(1) تشجيع الحكومة مربي الحيوانات على تطوير إنتاجهم. (2) استخدام الوسائل الحديثة. (3) إعطائهم القروض الميسرة. (4) الرعاية البيطرية. (5) الخدمات الإرشادية عن طريق الزيارات الميدانية. (6) إدخال السلالات الجيدة والعالية الإنتاج للحيوانات. (7) الرش الدوري للحضائر بالمبيدات الحشرية.</p>

الدواجن: (مستند 2 ص 46) (مهم جدًا للامتحانات النهائية)

تتميز الدواجن بالبحرين إنها متطورة وذلك بسبب:

✚ المزارع المتخصصة لإنتاج بيض المائدة والدجاج اللحم.

✚ على الرغم من ذلك لم يسد حاجة السوق المحلية.

أهم المشاريع النموذجية (مهم جدًا للامتحانات النهائية)

(1) **(القطاع الزراعي)** مشروع هورة عالي، البحير، مشروع عذارى، بوري لإنتاج الأعلاف والفواكة.

(2) **(القطاع الحيواني)** مشروع الهمة لتربية الأغنام والماعز.

(3) **(القطاع السمكي)** مشروع رأس حيان لتربية الأحياء البحرية وإجراء البحوث عليها.

قطاع صيد السمك (مستند 4 ص 46)

(مهم جدًا للامتحانات النهائية)

<u>جهود التطوير</u>	<u>المشاكل</u>
<p>(1) تطوير موانئ الاستقبال مثل (فرضه المحرق ، سترة، الحد).</p> <p>(2) تقديم الإعانات المالية من توفير مستلزمات الصيد المختلفة.</p> <p>(3) القروض الميسرة والطويلة الأمد.</p> <p>(4) تنظيم دورات تدريبية للصيادين.</p> <p>(5) تأسيس مشروع رأس حيان لتربية الأحياء البحرية وإجراء البحوث العلمية.</p>	<p>(1) الاعتماد على الطرق التقليدية في صيد السمك (يستخدم البحارة الحضرة ، شباك الصيد ، القوارب الخشبية الصغيرة تفتقر إلى معدات الصيد الحديثة).</p> <p>(2) قلة مصانع الثلج والبرادات لحفظ الأسماك.</p> <p>(3) الحاجة إلى أرصفة لاستقبال مراكب الصيد.</p> <p>(4) الحاجة إلى مراكز تدريب للصيادين .</p> <p>(5) قلة الأيدي العاملة الوطنية.</p> <p>(6) التلوث النفطي. (تلوث البحر)</p> <p>(7) عمليات الحفر والردم بالسواحل.</p>

س: ما انعكاس تذبذب كمية القطاعات الإنتاجية ومدى تلبيتها لاحتياجات السوق المحلية؟

الإنتاج الزراعي والحيواني لا يزال محدودا في البحرين ولا يكفي احتياجات السوق المحلية. مما يجعل البحرين تستورد من الخارج.

(1) وبفضل الجهود المبذولة ازداد الإنتاج السمكي في البحرين 1985م-2001م : ازداد الإنتاج

السمكي بنسبة 45%. (مستند 5 ص 47)

وترتبط السوق المحلية من الإنتاج السمكي بمواسم الصيد

(مهم جدًا للامتحانات النهائية)

فصل الصيف	فصل الشتاء
<p>(1) يفيض إنتاج بعض أنواع الأسماك عن احتياجات السوق المحلية.</p> <p>(2) فيصدر الفائض الى دول مجلس التعاون وخصوصًا المملكة العربية السعودية.</p>	<p>(1) إنتاج بعض أنواع الأسماك يقل فتستورد البحرين من الخارج (الإمارات العربية المتحدة وعمان)</p>

وإن البحرين تستطيع رفع إنتاجها من الأسماك (مهم جدًا للامتحانات النهائية)

وذلك من خلال عدة نقاط وهي :

(1) تحديث سفن الصيد.

(2) التنسيق بينها وبين دول الخليج العربي.

كل ذلك من أجل زيادة الإنتاج لتحقيق الاكتفاء الذاتي وزيادة صادراتها.

اختاري الاجابة الصحيحة لكل عبارة من العبارات الآتية:-

1. السبب الذي يجعل تربية المواشي في مملكة البحرين محدودة هو:

- ج. توافر المراعي الطبيعية
د. تربيتها بالطرق التقليدية.
أ. انخفاض تكاليف إنتاجها
ب. صعوبة تسويق منتجاتها

2. استفادت البحرين من المياه المعالجة لري الأراضي الزراعية من خلال محطة :

- ج. توبلي
د. الحد
أ. المحرق
ب. الرفاع

3. من المشاريع النموذجية التي أتمدت الاسلوب العلمي في تربية الأغنام والماعز في مملكة البحرين:

- ج. البحير
د. رأس حيان
أ. الهمة
ب. عذاري

4. في فصل الشتاء تستورد البحرين الأسماك من :

- ج. عمان وقطر
د. السعودية والكويت
أ. الامارات وقطر
ب. الامارات وعمان

وضحي المشكلات التي يعاني منها القطاع السمكي بمملكة البحرين؟

-
-
-

قارني بين فصلي الشتاء والصيف في الإنتاج السمكي.

.....

(12) واقع الصناعة في مملكة البحرين

التطور في قطاع الصناعة التحويلية يشكل الركيزة الأساسية لتقدم الدول اقتصادياً . فمن هذا المنطلق عمدت حكومة البحرين إلى تطوير قطاعها الصناعي بحيث يشكل الدعامه الرئيسية لخطتها الهادفة إلى تنويع مصادر دخلها.

**علي لما يلي : يعد النفط والغاز الطبيعي ركيزة أساسية لبناء اقتصاد البحرين الحديث؟
(مهم جدًا للامتحانات النهائية)**

1) مصدري تمويل لإقامة مشروعات اقتصادية وصناعية تسهم في تنويع مصادر الدخل.

2) مصدرين رئيسيين في توليد الطاقة الكهربائية.

**دوافع المملكة في إنشاء صناعات كبرى معدة بالدرجة الأولى للتصدير وصناعة إحلال الواردات ؟
من امتحان الوزارة: علي: إنشاء الصناعات التصديرية المتنوعة في البحرين؟
(مهم جدًا للامتحانات النهائية)**

1) توفر رؤوس الأموال الضخمة التي توفرها الإيرادات النفطية .

2) ضيق السوق المحلية.

نتائج الحوافز (مهم جدًا للامتحانات النهائية)	الحوافز التي قدمتها الحكومة لتنمية القطاع الصناعي (مهم جدًا للامتحانات النهائية)
<p>1) تشجيع المستثمرين المحليين والأجانب خصوصاً، على الاستثمار في القطاع الصناعي.</p> <p>2) سماح قوانين البحرين للمستثمرين الأجانب بإنشاء مؤسسات صناعية على أراضيها.</p> <p>3) تنويع القاعدة الإنتاجية للاقتصاد الوطني.</p> <p>4) توفير عمل فرص للمواطنين.</p>	<p>1) أنشأت المناطق الصناعية أهمها ميناء سلمان، شمال سترة، منطقة جنوب الحد.</p> <p>2) وفرت مستلزمات البنية التحتية .</p> <p>3) أتاحت لأصحاب المشاريع الصناعية فرصة الحصول على قطعة أرض بأجر رمزي لإنشاء مصانعهم .</p> <p>4) أصدرت البحرين قوانين لحماية الصناعات الوطنية ودعمها ،حيث فرضت تعرفه جمركية كبيرة على السلع المستوردة المماثلة لها.</p> <p>5) أعفت من الرسوم الجمركية ما تستورده من المعدات الرأسمالية والمواد الأولية التي تحتاج إليها صناعاتها.</p> <p>6) أعطت الأفضلية للمنتجات الوطنية.</p> <p>7) إعفاء المصانع من الضرائب المفروضة على الأرباح.</p> <p>8) تقديم القروض للقطاع الصناعي من خلال المؤسسات المصرفية</p>

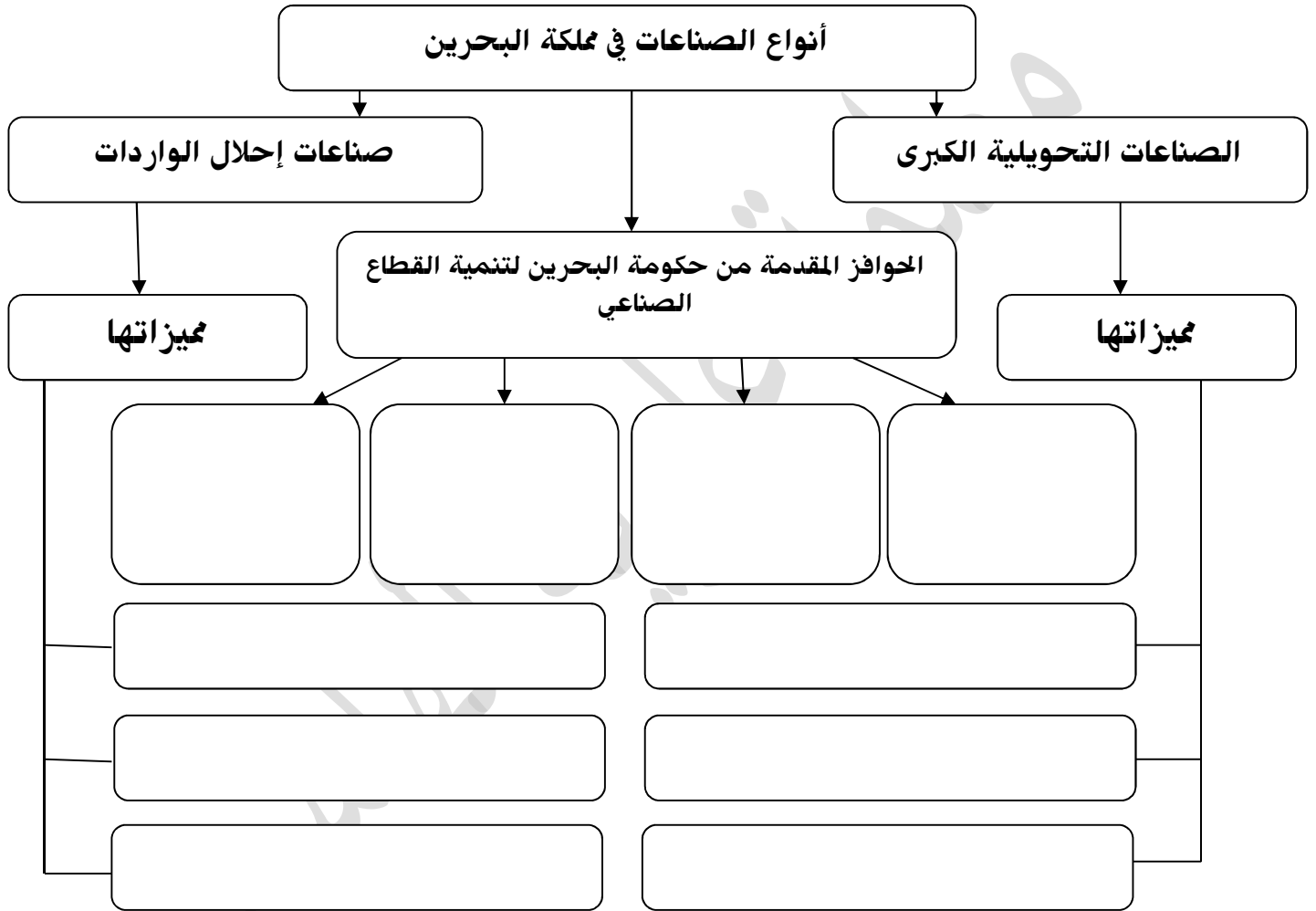
أوجه المقارنة للصناعات التصديرية وصناعة إحلال الواردات في مملكة البحرين

الصناعات التصديرية (مهم جدًا للامتحانات النهائية)		
المشاكل التي تعاني منها	مميزاتها	أنواعها
<p>1) المنافسة الشديدة للصناعات المماثلة من قبل الشركات الموجودة في دول المنطقة والعالم.</p> <p>2) البعد عن الأسواق المستهلكة مما يزيد من تكاليف الشحن والتأمين.</p> <p>3) تقلبات الأسعار في الأسواق العالمية.</p> <p>4) الرسوم الجمركية المرتفعة التي تفرضها بعض الدول المستقبلية للصناعات التصديرية.</p> <p>5) التكاليف الباهظة للمواد الأولية المستوردة.</p>	<p>☒ الهدف منها: التصدير.</p> <p>☒ حجم العمالة: (القوى العاملة كبيرة)</p> <p>☒ حجم رأس المال: (ضخامة رؤوس الأموال)</p> <p>☒ الإنتاج: (وفرة الانتاج)</p> <p>☒ غالبية منتجاتها من:</p> <p>1) المواد الأولية</p> <p>2) المواد الوسيطة</p> <p>3) أما المواد النهائية فضئيلة.</p>	<p>1) تكرير النفط.</p> <p>2) تسييل الغاز الطبيعي.</p> <p>3) الألمنيوم.</p> <p>4) البتروكيماويات.</p> <p>5) الصناعات الهندسية (بناء وإصلاح السفن وكريات الحديد)</p> <p>ملكيتها</p> <p>مؤسسات تشترك في ملكيتها الحكومة، أو بعضها تابع لحكومات وشركات أجنبية</p>

صناعة إحلل الواردات (صناعات خفيفة) (مهم جدًا للامتحانات النهائية)

<u>المشاكل التي تعاني منها</u>	<u>مميزاتها</u>	<u>أنواعها</u>
<p>(1) اعتمادها على الخارج في تأمين المواد الأولية والمعدات الرأسمالية الضرورية لها.</p> <p>(2) قلة تنوعها في السوق الداخلية إذ تقتصر إلى أنواع كثيرة منها.</p> <p>(3) عدد كبير من المؤسسات ينتج أنواعاً متشابهة من السلع.</p> <p>(4) التنافس بين منتجاتها في الأسواق الداخلية.</p> <p>(5) منافسة الصناعة المستوردة المماثلة.</p>	<p>☒ <u>الهدف منها:</u> الاستهلاك.</p> <p>☒ <u>حجم العمالة:</u> (قلة القوى العاملة) لا تزيد في معظم المصانع عن 50 عاملاً.</p> <p>☒ <u>حجم رأس المال:</u> صغر حجوم رؤوس الأموال المستثمرة.</p> <p><u>الإنتاج:</u> (صغر حجم إنتاجها) صناعاتها خفيفة وهي عبارة عن سلع معدة للاستهلاك مباشرة.</p>	<p>(1) المواد الغذائية.</p> <p>(2) المشروبات الغازية.</p> <p>(3) المياه المعدنية.</p> <p>(4) تقطير المياه.</p> <p>(5) مواد البناء.</p> <p>(6) الزجاج</p> <p>(7) الخزف.</p> <p>(8) منتجات الأخشاب</p> <p>(9) الورق.</p> <p>(10) الأثاث.</p> <p>(11) النسيج</p> <p>(12) الجلود.</p>
		ملكيته
		خاصة يمتلكها أفراد أو ما يسمى بالقطاع الخاص.

من خلال دراستك لموضوع واقع الصناعة في مملكة البحرين، أكمل المخطط بما هو مطلوب: من امتحان الوزارة.



(14) طرق المواصلات والاتصالات

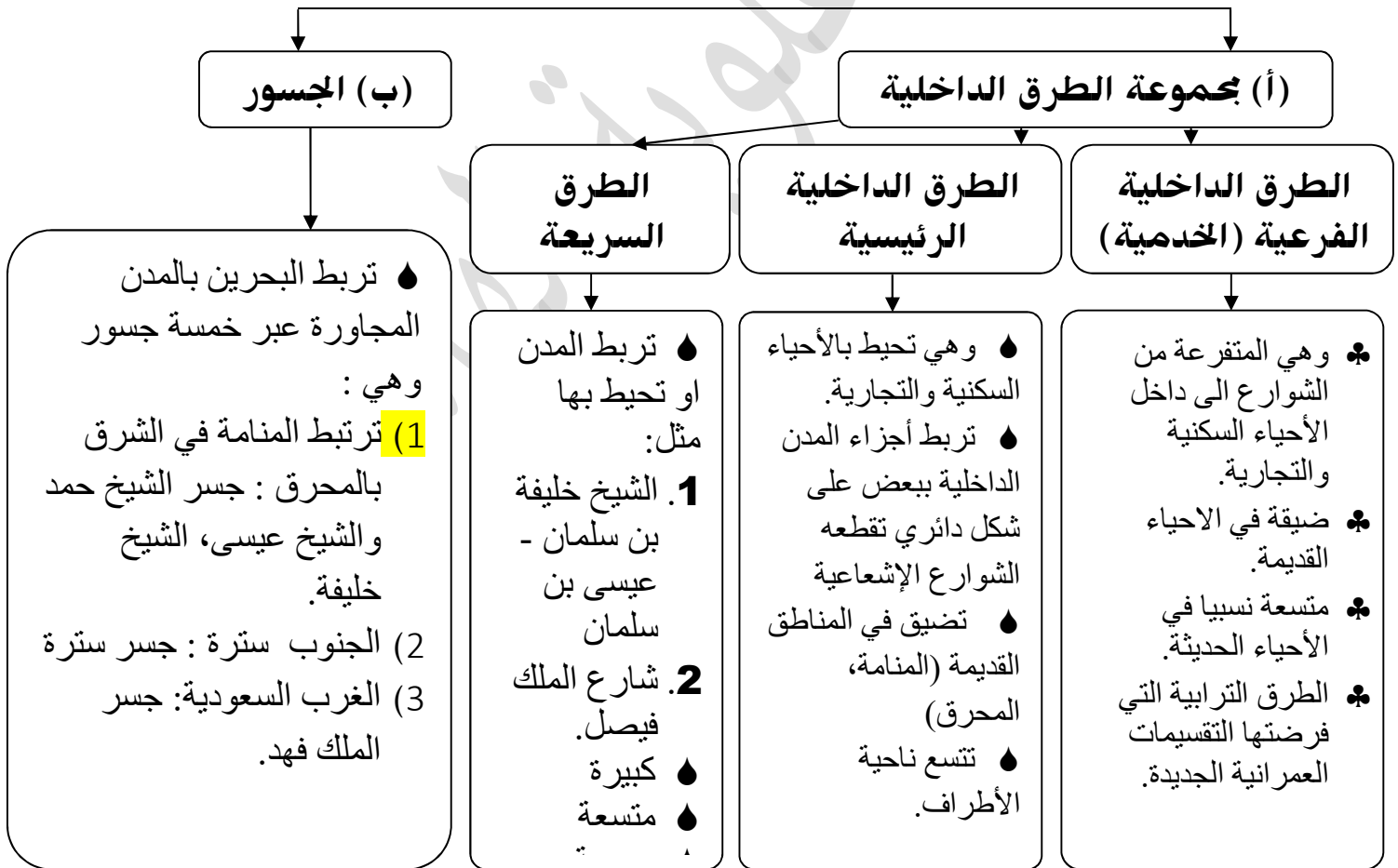
حقق نشاط النقل والمواصلات نمو إيجابي خلال العشرية الماضية.

في عام (2009-2010م) بلغ معدل النمو 9.2%.

ساهم هذا القطاع بالنتائج المحلي نسبة 9%.

أولاً: الطرق البرية (مهم جداً للامتحانات النهائية)

منذ السبعينات أنشأت البحرين شبكة من الطرق البرية المتطورة والتميزة بمواصفاتها العالية وتنقسم الى قسمين :



ثانيا : المواصلات البحرية (مهم جدًا للامتحانات النهائية)

سؤال من الوزارة : بيني التطور الذي شهدته مملكة البحرين في شبكة المواصلات البحرية؟

- 1) كانت البحرين قديما تعتمد في تجارتها الخارجية على ميناء المنامة الصغير.
- 2) بعد النهضة الصناعية التي شهدتها المملكة إثر اكتشاف النفط .
- 3) تم بناء ميناء سلمان 1958م وتوسعته.
- 4) تأهيل العاملين في ميناء سلمان في مجال الملاحة وفنون إدارة الموانئ.
- 5) تطوير ميناء سلمان بأحدث الوسائل والتجهيزات، حيث ركزت فيه محطة الحاويات.
- 6) إقامة منطقة صناعية حرة حول ميناء سلمان أنشأت فيها مصانع عديدة لشركات أجنبية.
- 7) يوجد موانئ أخرى مثل : ميناء سترة : لتصدير النفط، ميناء ألبا : لاستيراد الأمونيا وتصدير منتجات الألمنيوم، ميناء خليفة بن سلمان في شرقي الحد.

ثالثا : المواصلات الجوية (مهم جدًا للامتحانات النهائية)

مطار البحرين الدولي : (مستند 4 ص 66)

- في السبعينات محطة عبور (Transit)، نسبة المارين 90% من جملة الركاب.
- بعد النهضة الاقتصادية، ارتفعت نسبة القادمين والمغادرين إلى 83% من جملة الركاب.
- ولمواكبة التطور تم توسعت المطار و جهز تجهيزاً حديثاً يؤمن السفر لحوالي 10 ملايين مسافر سنوياً.
- تمتلك البحرين شركة طيران الخليج.

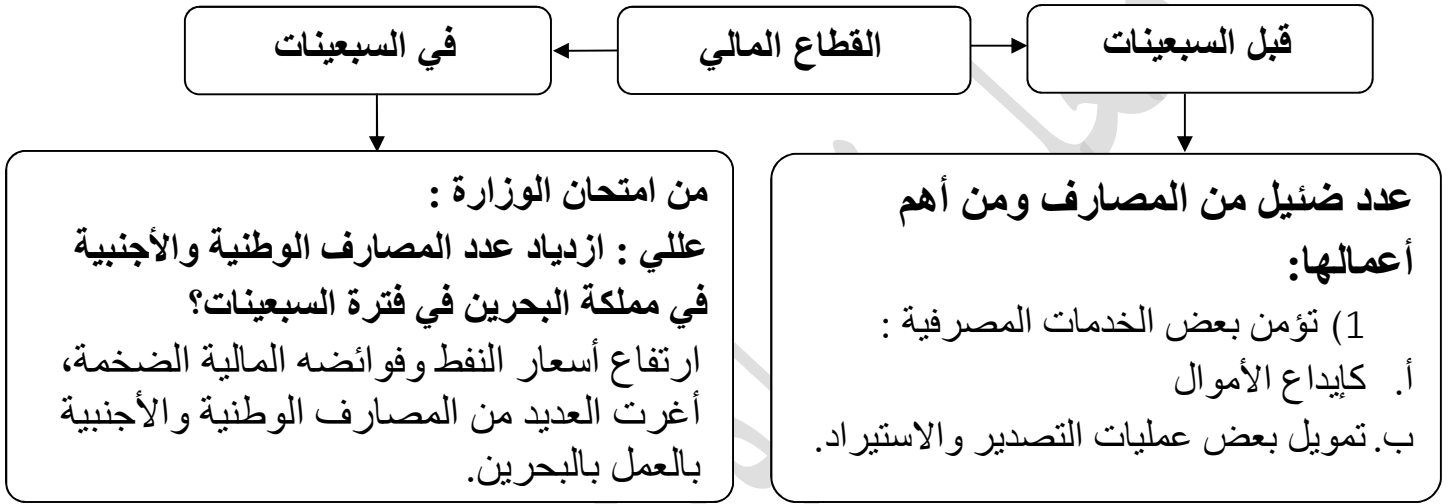
رابعا: شبكة الاتصالات السلكية واللاسلكية

- تعتبر البحرين رائدة في المنطقة ما يخص إدخالها نظم الاتصال السلكي واللاسلكي.
- جميع البدلات تعمل بالنظام الرقمي (Digital) .
- جميع أنواع الاتصالات المحلية والدولية تتم من خلال محطات تتصل بالأقمار الاصطناعية.
- من وسائل الاتصال : نظام الهاتف النقال/ الإنترنت/ الجرائد/ مجلات باللغة العربية والأجنبية.

(15) القطاع المالي في البحرين

علي: أصبحت البحرين مركز مالي متطور في المنطقة والعالم.

- 1) الجهود التي بذلتها مملكة البحرين.
- 2) توافر العوامل الجغرافية والاقتصادية والاجتماعية.



ما الأسباب التي دعت البحرين إلى إنشاء جهاز يعني بتنظيم القطاع المصرفي ومراقبته والإشراف عليه ؟

- توسع النشاط المصرفي

- ازدياد عدد المصارف

مؤسسة نقد البحرين (1973م) تغير اسمها إلى مصرف البحرين المركزي (2006م) مهامها:-
(مهم جدًا للامتحانات النهائية)

- 1) رسم السياسة النقدية والائتمانية، وتنفيذها من خلال تنظيم القطاع المالي.
- 2) ممارسة الرقابة على البنوك وشركات التأمين وشركات الاستثمار.
- 3) إصدار الأوراق المالية.
- 4) المساعدة على توفير بيئة أعمال متطورة من أجل مقدره البحرين التنافسية إقليمياً وعالمياً.

**علي : تحتل البحرين مركزا عالميا بين الأسواق العالمية ؟ (مهم جدا للامتحانات النهائية)
ما العوامل التي جعلت البحرين تحتل مركزًا ماليًا مهما بين الأسواق العالمية ؟**

- (1) موقع البحرين المتميز في وسط منطقة الخليج.
- (2) تتمتع دولها بفوائض نقدية متزايدة .
- (3) حاجة هذه الدول إلى مركز مالي يمكن من خلاله الاستفادة من هذه الفوائض.
- (4) تتمتع بموقع زمني مناسب من حيث وقوعها ما بين وقت عمل البورصات الأوروبية وبورصات الشرق الأقصى. (مستند 3 ص 68)
- (5) سهولة الانتقال والاتصال بالعالم الخارجي.
- (6) تعتبر البحرين إحدى المحطات الرئيسية لحركة المواصلات الجوية والبحرية العالمية.
- (7) تسهيل عمليات التحويل الخارجي من المنطقة وإليها.
- (8) عدم فرض أي نوع من الضرائب سواء كانت ضرائب مشروعات أو ضرائب دخل.
- (9) توافر الكوادر الفنية المدربة.

علي : يشكل القطاع المصرفي دعامة الاقتصاد الوطني.

- (1) السوق المفتوحة.
- (2) السياسات المالية المستقرة.
- (3) القوى العاملة المؤهلة.

أبرز الدور الريادي للقطاع المالي ضمن الاقتصاد البحريني.

- (1) تدعيم مركز البحرين كمحور مصرفي إقليمي نجح في اجتذاب الكثير من المؤسسات المصرفية الأجنبية لإنشاء مكاتب لها في المملكة.
- (2) تعزز النمو في القطاع في السنوات الأخيرة نتيجة ارتفاع أسعار النفط وما ترتب عليها زيادة في السيولة.
- (3) لعبت المصارف دورًا محوريًا في إعادة استثمار فائض الإيرادات النفطية والاستفادة من فرص تمويل الاقتصاد الوطني.

(16) السياحة

الإجراءات التي اتبعتها مملكة البحرين لتنمية قطاعها السياحي:

(1) انشأت المملكة عددا من الإدارات تختص بالسياحة والآثار ضمن وزارة الإعلام مهامها:
أ. التنقيب عن الآثار.

ب. ترميمها والاعتناء بها وبالأماكن الأثرية.

(2) وضع الخطط والمشاريع السياحية.

(3) تعريف العالم الخارجي بإمكانات البحرين السياحية.

(4) أعدت المملكة عمالة وطنية متخصصة في ميدان السياحة.

(5) شجعت وكالات السفر والسياحة الأجنبية على فتح مكاتب لها في البلاد.

المقومات (المعطيات) المتوافرة في البحرين

الحضارية الحديثة

تعكس مدى التطور والتقدم في البحرين ومنها

- (1) متحف البحرين الوطني الذي افتتح عام **1988م**
- (2) بيت القرآن **1990م**
- (3) مركز التراث الوطني
- (4) مركز الصناعات اليدوية
- (5) قاعات المعارض والمؤتمرات
- (6) جسر الملك فهد **1989**
- (7) الأسواق التجارية: مثل السيف ، البحرين ستي سنتر ، العالي ، الدانة
- (8) المنتزهات حول ينابيع مياه مثل عذاري ، قصاري
- (9) خدمات الفنادق والمطاعم الفخمة والشقق والمراكز المالية والبنوك، ومن خلال شبكة الاتصالات السلكية واللاسلكية وشبكة المواصلات.

المعطيات التاريخية

تعكس أهمية البحرين التاريخية ومن هذه الأماكن

- (1) قلعة البحرين ، قلعة عراد ، قلعة الشيخ سلمان بن أحمد الفاتح.
- (2) مقابر عالي.
- (3) مسجد الخميس.
- (4) معبد باربار.
- (5) إلى جانب العديد من البيوت:
- (6) الشيخ عيسى بن علي
- (7) الجسرة
- (8) سيادي

المعطيات الطبيعية

- (1) الموقع الجغرافي بين أقاليم متباينة حضاريا وثقافيا وطبيعيا ، وذلك جعلها مركز استراحة ومركز عبور لكثير من المسافرين.
- (2) طبيعة البحرين الجزرية وطول سواحلها وتعدد أشكالها :
♣ رملية مثل السواحل الغربية (بلاج الجزائر)
- ♣ السواحل الجرفية مثل منتج جزر حوار
- ♣ منتجع البندر، كورنيش النادي البحري، كورنيش الملك فيصل
- (3) صغر مساحة البحرين التي تمكن الزائر من الاطلاع على معالمها السياحية في فترة قصيرة بكلفة أقل.
- (4) المناخ الشتوي الربيعي الذي يساعد على الترحال والسفر والاستجمام والتخييم في صحراء البحرين

**النتائج (الانعكاسات) اسردي النتائج كقصة:-
(مهم جدا للامتحانات النهائية)**

- 1) ازدياد عدد السياح من مختلف الجنسيات .
- 2) تساهم نفقات السياح في تنشيط وتنمية القطاع الفندقي الذي يقوم بدوره بتنشيط قطاعات أخرى مثل النقل \ الاتصال \ التجارة من خلال ما يشتريه السائحون من الأسواق التجارية.
- 3) نالت مملكة البحرين المرتبة 3 عربيا ، 55 دوليا في مجال التنافسية السياحية.
- 4) تم اختيار المنامة عاصمة السياحة العربية 2013م والسياحة الآسيوية 2014.

اسئلة من امتحانات سابقة

اختراري الاجابة الصحيحة لكل عبارة من العبارات الآتية:

- 1) أنشأت مملكة البحرين إدارات مختصة بالسياحة والآثار تابعة لوزارة:
 - ج. العمل
 - د. الخارجية.
 - أ. الأشغال
 - ب. الإعلام
- 2) تعتبر كل المعطيات حضارية حديثة ماعدا...
 - ج. مركز البحرين الوطني
 - د. جسر الملك فهد.
 - أ. متحف البحرين الوطني
 - ب. قلعة البحرين.

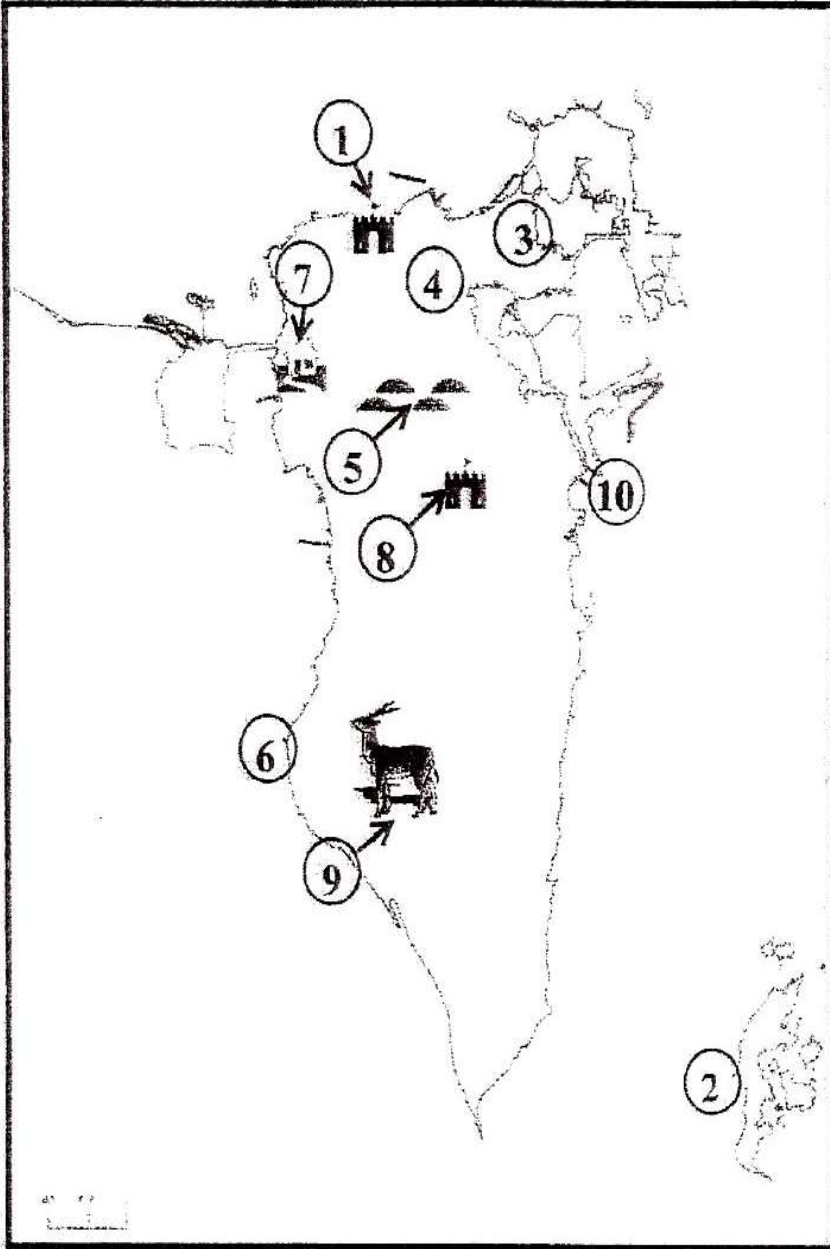
صنفي معالم البحرين السياحية حسب المعطيات الواردة في الجدول أدناه:

مقابر عالي	النادي البحري	بيت القرآن	قلعة البحرين	بلاج الجزائر
جزر حوار	مركز التراث	مسجد الخميس	المتحف الوطني	معبد باربار
المعطيات الحضارية الحديثة		المعطيات التاريخية		المعطيات الطبيعية
.....
.....
.....
.....

حددي المقومات السياحية الطبيعية المتوافرة في البحرين.

- (1)
 (2)
 (3)

من امتحان الوزارة: أكتبي أمام كل من المعالم السياحية الواردة في الجدول الرقم الدال عليها وفقاً لموضع الأرقام المبينة على الخريطة



الرقم المناسب	المعالم السياحية
	منتجع جزر حوار
	قلعة البحرين
	مقابر عالي
	المتحف الوطني
	بيت الجسرة
	قلعة الشيخ سلمان بن أحمد الفاتح
	بلاج الجزائر
	مسجد الخميس
	منتجع البندر
	محمية العرين

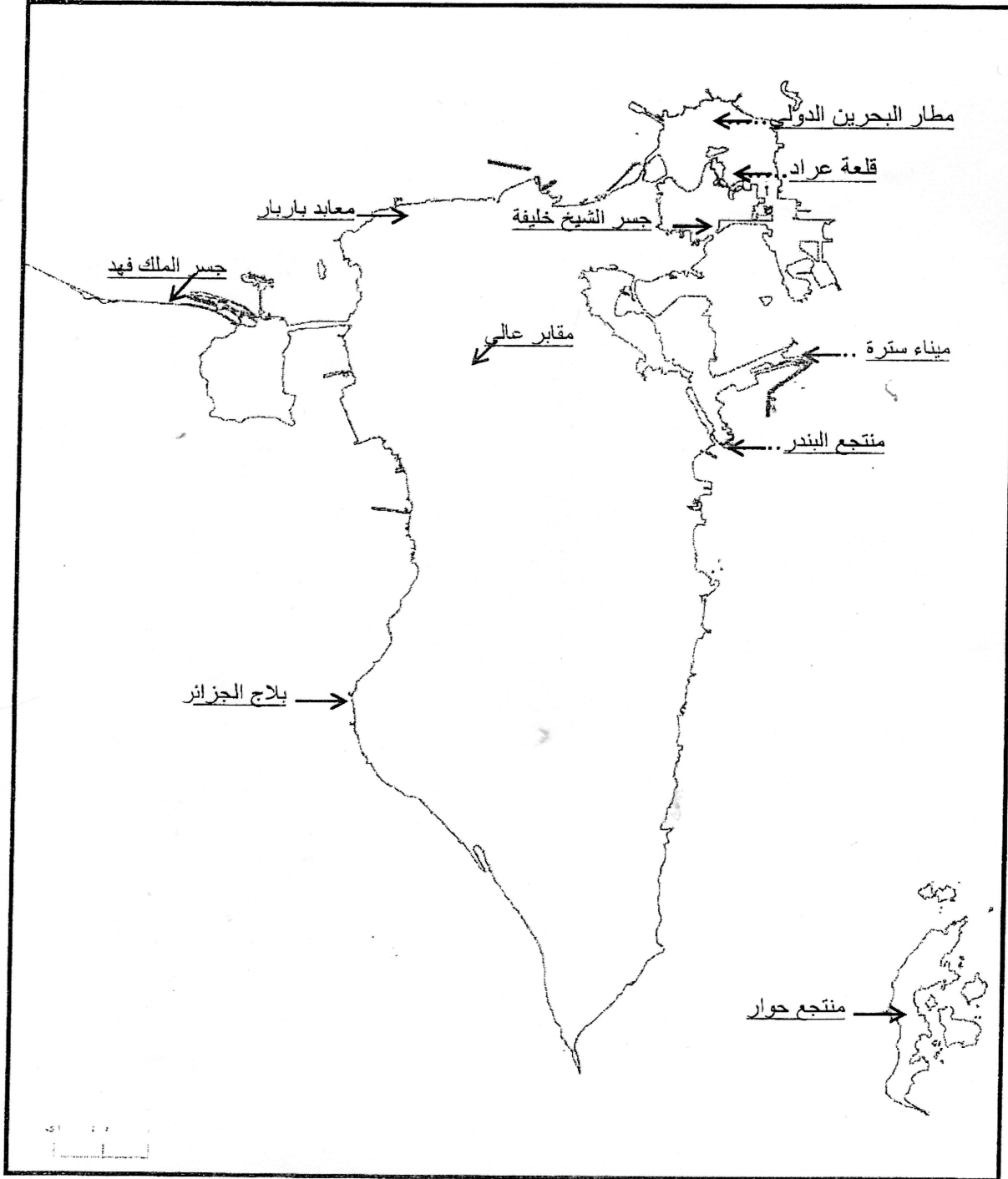
٣- لماذا أصبحت مملكة البحرين تحتل مركزا تجاريا مميزا بين دول المنطقة؟

٤ علامات لكل نقطة علامتان (يكتفى بنقطتين)

- تعدد خطط إنماء قطاعات الاقتصاد الوطني.
- التقاليد التجارية العريقة.
- تغير نمط العيش وتحسن ظروفه.
- اتباع سياسة الحرية الاقتصادية.
- الموقع الجغرافي لمملكة البحرين.
- توافر الإيرادات النفطية.

ثانيا- اكتب أسماء المعالم السياحية وطرق المواصلات الآتية في مواقعها الصحيحة وفقا للفراغات الميينة على خريطة مملكة البحرين:

١٠ علامات لكل نقطة علامة



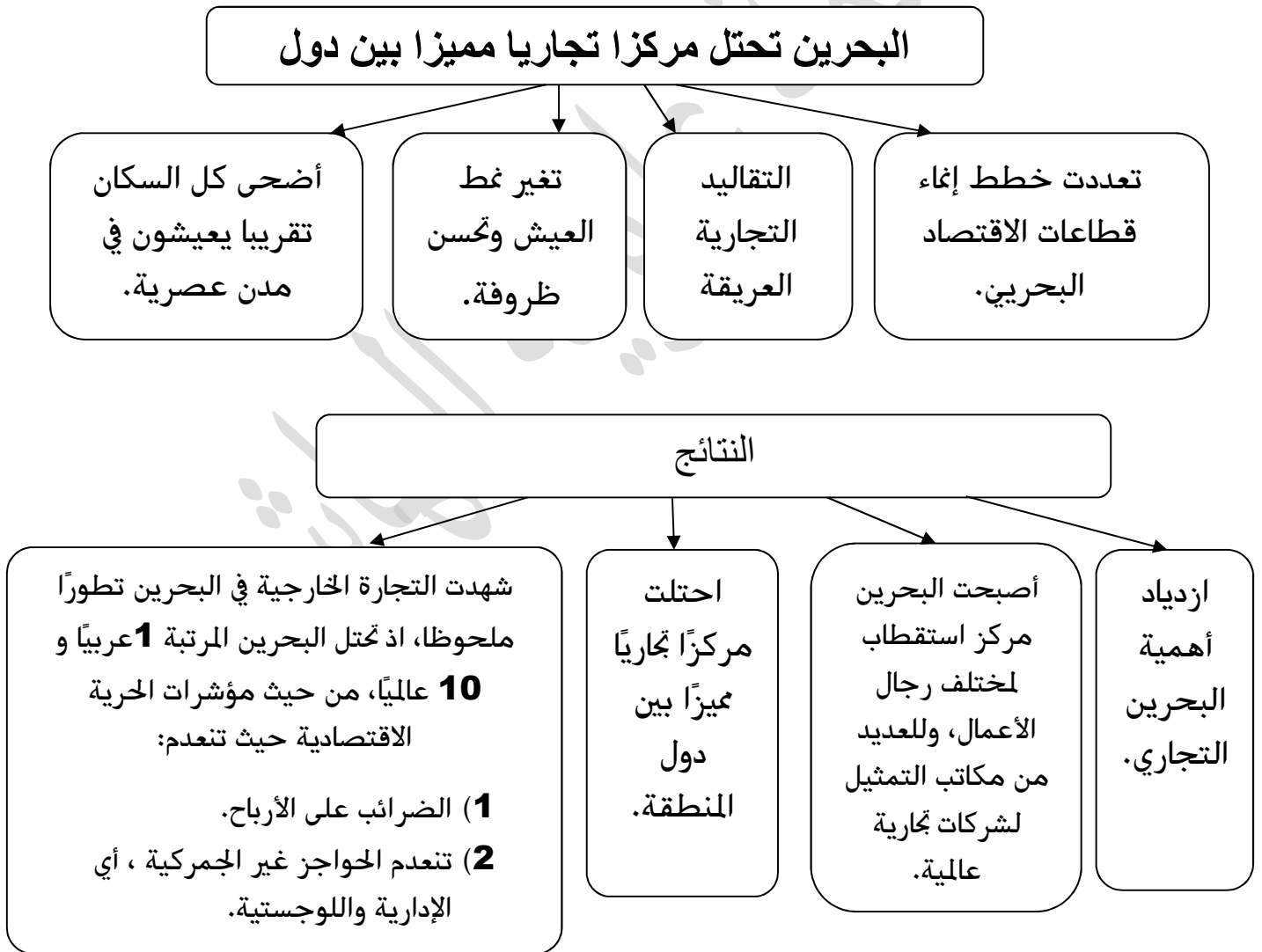
(17) التجارة الخارجية

س: اذكر نتائج عملية التنمية الاقتصادية الشاملة ؟

- 1) تنوع السلع المصدرة والمستوردة.
- 2) اتساع حركة التبادل التجاري حتى باتت تشمل مختلف دول العالم.

س: العوامل التي جعلت البحرين تحتل مركزا تجاريا مميزا بين دول المنطقة ؟

س: بم تمثل التطور الذي شهدته التجارة الخارجية في البحرين ؟ (مهم جدا للامتحانات النهائية)



اللوجستية: باللغة الإنجليزية **Logistics** او مايعرف بالعربية بفن السوقيات، هو فن وعلم إدارة تدفق البضائع والطاقة والمعلومات والموارد الأخرى .

قارني بين الصادرات والواردات لمملكة البحرين (مهم جدا للامتحانات النهائية)

الدول	أنواع السلع	
<p>تتوجه صادرات البحرين إلى أكثر من (60 دولة). ❖ في مقدمتها دول مجلس التعاون التي تستقبل حوالي 55% من إجمالي الصادرات. ❖ نمت مساهمة آسيا الجنوبية. ❖ تراجع لمساهمة الأمريكيتين وجنوب شرق آسيا. مستند 5 ص 74</p>	<p>1) النفط <ul style="list-style-type: none"> ● يحتل النفط المرتبة الأولى في صادرات البحرين. ● إلا أن نسبة الصادرات من النفط تدنت خلال السنوات الأخيرة، من 88% سنة 1985م الى 77% عام 2012م. ● على : تدني صادرات النفط؟ بسبب السياسة التي انتهجتها البحرين في تنويع مصادر الدخل وعدم الاعتماد على النفط وحده. 2) الألمنيوم ومنتجاته 3) الحديد 4) الملابس 5) السلع البتروكيمياوية</p>	الصادرات
<p>(1) أوروبا الغربية (2) الصين (3) البرازيل (4) الولايات المتحدة الأمريكية وتزيد نسبة واردات البحرين غير النفطية من هذه الدول عن 70%. مستند 4 ص 74</p>	<p>1) سلع نفطية <ul style="list-style-type: none"> ● تستوردها البحرين من المملكة العربية السعودية. ● تحتل المرتبة الأولى من واردات البحرين 2) سلع غير نفطية (تحتل المرتبة 1) <ul style="list-style-type: none"> ✘ المواد الغذائية ✘ التجهيزات الصناعية ✘ معدات النقل تزايدت هذه المواد حتى شكلت أكثر من 40% من إجمالي الواردات الغير نفطية.</p>	الواردات

ما المقصود بالميزان التجاري : مستند 3 ص 74

- (1) هو الفرق بين قيمة صادرات وواردات البلد .
- (2) ويعتبر الميزان فائضاً إذا كانت قيمة صادراته أكبر من قيمة وارداته.
- (3) ويكون هناك عجزاً إذا كانت قيمة وارداته أكبر من قيمة صادراته.

بيني أسباب الفائض في الميزان التجاري في البحرين ؟ أو ما هي النتائج ؟ أو انعكاسات سياسة تنويع مصادر الدخل على صادرات البحرين ؟
(مهم جدا للامتحانات النهائية)

- (1) ارتفاع حجم وقيمة إجمالي الصادرات غير النفطية والتي تشتمل على الألمنيوم والحديد والملابس والصناعات الكيماوية .
- (2) ارتفاع حجم وقيمة الصادرات النفطية .



من خلال دراستك لموضوع (التجارة في مملكة البحرين) أكمل الجدول الآتي بما يناسب:- (من امتحان سابق)

أهم واردات البحرين	أهم صادرات البحرين
..... (1) (1)
..... (2) (2)
 (3)
 (4)
 (5)
أهم الدول التي تستورد منها البحرين	أهم الدول التي تصدر لها البحرين
..... (1) (1)
..... (2) (2)
..... (3) (3)
..... (4)	

علي : وجود فائض في الميزان التجاري في البحرين.

..... (1)

..... (2)

العوامل التي جعلت البحرين تحتل مركزا تجاريا مميزا بين دول المنطقة؟

..... (1)

..... (2)

الوحدة الثانية

قارة أوروبا



(18) قارة أوروبا (السطح)

مساحة قارة أوروبا

- تقع أوروبا في نصف الكرة الأرضية الشمالي ، مساحتها 10.2 ملايين كم²
- هي ثاني أصغر قارات العالم من حيث المساحة، فليس أصغر منها سوى أوقيانيا (استراليا).

علي : تتنوع أشكال التضاريس في أوروبا؟ (مهم جدا للامتحانات النهائية)

- بسبب العوامل المناخية.
- بسبب العوامل الجيولوجية. (تشكل سطح الأرض مثل الأمطار أو ذوبان الجليد يؤدي إلى حفر الأرض)

الموقع الجغرافي

تلتقي أوروبا بقارة آسيا من الشرق. <input type="checkbox"/>	وجبال الفقفاس (القوقاز)، أو القوقاس <input type="checkbox"/>
بخط ينطلق شمالاً بمحاذاة جبال الأورال <input type="checkbox"/>	من ثم وسط البحر الأسود. <input type="checkbox"/>
عابرًا بحر قزوين. <input type="checkbox"/>	حتى بحر مرمة جنوباً. <input type="checkbox"/>
	أما جهاتها الأخرى فتحيط بها المسطحات المائية بشكل تام. <input type="checkbox"/>

علي : قارة أوروبا كتلة غير متماسكة؟ أو قارة أوروبا يتداخل فيها البر والبحر بكثافة؟

(مهم جدا للامتحانات النهائية)

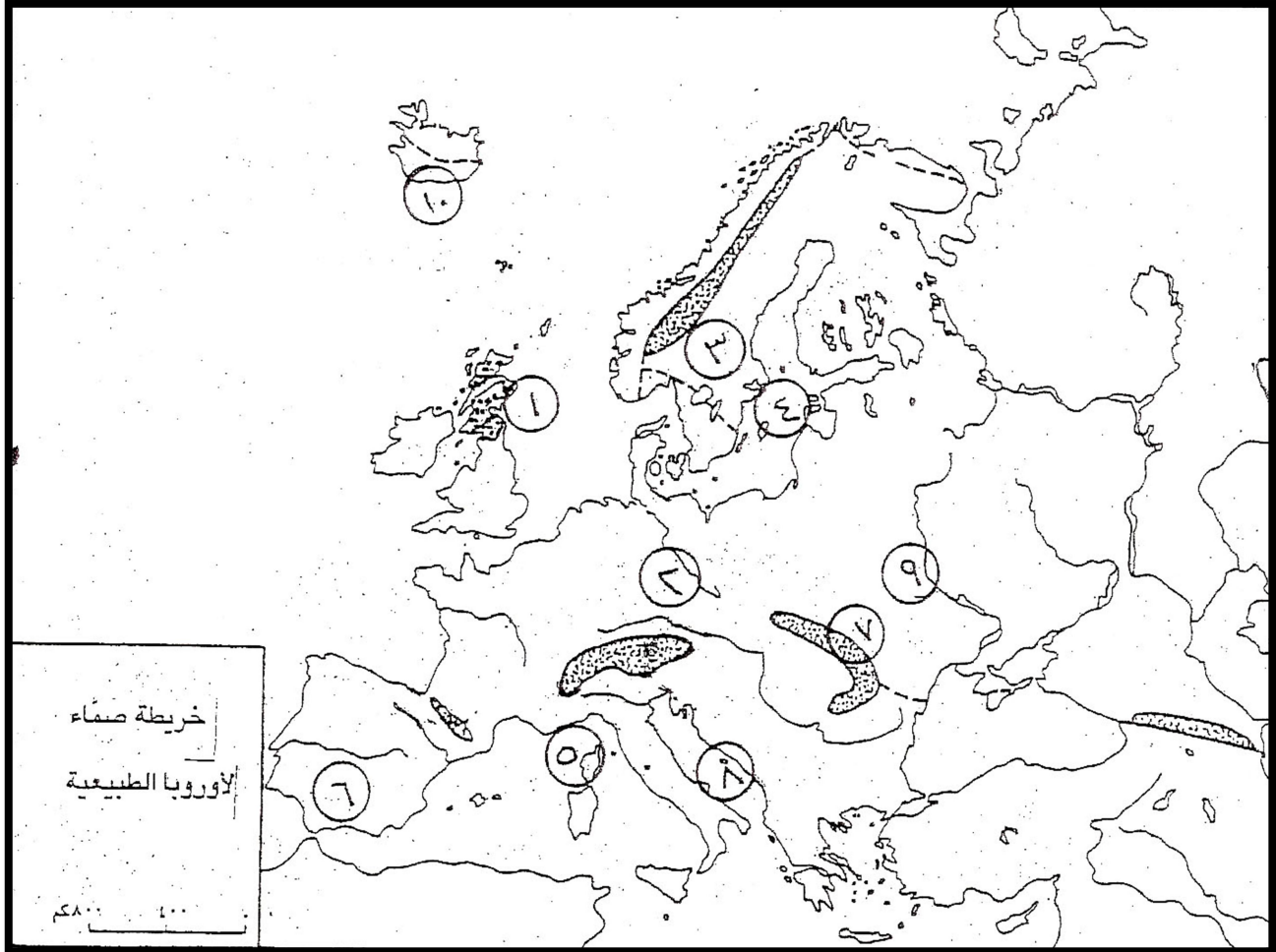
- (كثرة أشباه الجزر) جميع أطرافها المطلة على المسطحات المائية تنفرع إلى أشباه جزر مثل : (شبه جزيرة اسكندنافيا ، أيبيريا، إيطاليا، البلقان).
- تخترقها بحار فرعية مثل: (بحر الشمال ، البلطيق، الأدرياتيكي، الأيوني).
- تعرج شواطئها.
- تكثر فيها الخلجان و الرؤوس.
- (كثرة الجزر) تنتشر قبالتها جزر مثل أرخبيل المملكة المتحدة و اليونان ، و الجزر مثل أيسلندة وكورسيكا وسردينيا.

الجبال في قارة أوروبا: المقارنة بين الجبال قديمة التكوين وحديثة التكوين (مهم جدا للامتحانات النهائية)

النوع	جبال قديمة التكوين	جبال حديثة التكوين
الموقع	وسط أوروبا و شمالها الغربي	حـ عند أطراف أوروبا الجنوبية بمحاذاة البحر المتوسط.
الزمن الذي تشكلت فيه	الزمن الجيولوجي الأول.	حـ الزمن الجيولوجي الثالث.
العوامل التي أدت إلى تشكلها	عوامل التعرية	حـ اصطدام الكتلة الأفريقية بالكتلة الآسيوية الأوروبية.
كيفية تكوينها	برزت خلال الزمن الجيولوجي الأول. ارتفعت آلاف الأمتار. تعرضت لعوامل التعرية ، التي أزالت من تماسكها كثيراً. أصبحت هضاب مدببة القمم.	حـ هي سلاسل جبلية حديثة التكوين. حـ تسمى السلسلة الألبية نسبة إلى جبال الألب.
مميزاتها	متوسطة الارتفاع. و قممها مدببة. أعلى قممها في النرويج 2500م. أوديتها واسعة.	حـ شديدة الارتفاع. حـ أعلى قمة الجبل الأبيض في فرنسا 4807 متر. حـ قممها مسننة. حـ منحدراتها القوية. حـ وعورة مسالكها. حـ أوديتها عميقة تجري فيها الأنهار مثل (نهر الرون،البو). حـ مازالت تنهض حتى الآن. حـ مثال على الجبال: حـ البيرينية - الألب الدينارية- الكربات- القفقاس. حـ علي : انتشار الزلازل و البراكين في الجبال الحديثة التكوين (بركان إتنا في صقلية)؟ حـ لان الجبال مازالت تنهض حتى الآن.

تنقسم جبال قديمة التكوين إلى مجموعتين	
المجموعة الثانية	المجموعة الأولى
<p>ح تمتد من وسط إسبانيا حتى سلوفاكيا.</p> <p>ح هي هضاب و جبال لا يتجاوز ارتفاعها 1500 متر.</p> <p>ح مثل :</p> <p>ح الميزيتا ، الفوج ، الأردين ، الغابة السوداء ، وبوهيميا.</p>	<p>ح على السواحل <u>الشمالية الغربية</u>.</p> <p>ح <u>أهم جبالها :</u></p> <ul style="list-style-type: none"> ♣ جبال بناين في بريطانيا (المملكة المتحدة). ♣ السلسلة الاسكندنافية. <p>ح تخترقها أودية واسعة، شفتها الألسنة الجليدية ، وهي تزحف من القمم إلى المنخفضات ، خلال الفترات الجليدية التي مرت بها أوروبا في الزمن الجيولوجي الرابع.</p> <p>ح وعلى أثر ذوبان الجليد ارتفع مستوى مياه البحار ، وتوغلت في الأودية وشكلت ما يعرف بالفجر (الفيوردات). فجر النرويج</p> <p>ح <u>على تكون الفجر في الزمن الرابع؟</u> بفعل الألسنة الجليدية.</p>
السهول في الجبال حديثة التكوين	السهول في الجبال قديمة التكوين
<p>ح <u>الموقع:</u> تنحصر بين هذه الجبال سهول داخلية.</p> <p>ح <u>مميزاتها:</u> سهول ساحلية ضيقة.</p> <p>ح <u>أبرزها :</u> البو، هنغاريا، دانوب</p>	<p>ح <u>الموقع :</u> بين المجموعتين (من جبال أورال حتى الجزر البريطانية) تنتشر أكبر سهول العالم.</p> <p>ح <u>مميزاتها :</u></p> <p>ح سهول خصبة، تضيق في الغرب ، تتسع كلما اتجهنا شرقاً.</p> <p>ح سطح السهول ليس منبسطة بشكل تام ، تتناثر في جهاتها الشمالية التلال الركامية.</p> <p>ح <u>أهم أنهارها:</u> اللوار، الفيستول ، السين، الدنيبير ، الراين، فولجا.</p>

من خلال دراستك لقارة أوروبا أكتب أمام الظواهر الجغرافية الواردة في الجدول أدناه الرقم الدال عليها مستعيناً بالأرقام المبينة على الخريطة: (من امتحان الوزارة)



الرقم	الظاهرة الجغرافية	الرقم	الظاهرة الجغرافية
	بحر الأدرياتيكى		بحر البلطيق
	جبال بنالين		جبال الكربات
	شبه جزيرة إيبيريا		شبه جزيرة اسكندنافيا
	جزيرة كورسيكا		جزيرة أيسلندا
	نهر الدنبيير		نهر الراين

اختاري الإجابة الصحيحة لكل عبارة من العبارات الآتية:-

1) من أمثلة أشباه الجزر في قارة أوروبا:

أ. إيطاليا

ج. كورسيكا

ب. سردينيا

د. أيسلندا

2) تحولت الجبال قديمة التكوين في أوروبا إلى هضاب مدبية القمم ومتوسطة الارتفاع نتيجة.

أ. الهزات الأرضية.

ج. الزحف القاري.

ب. عوامل التعرية.

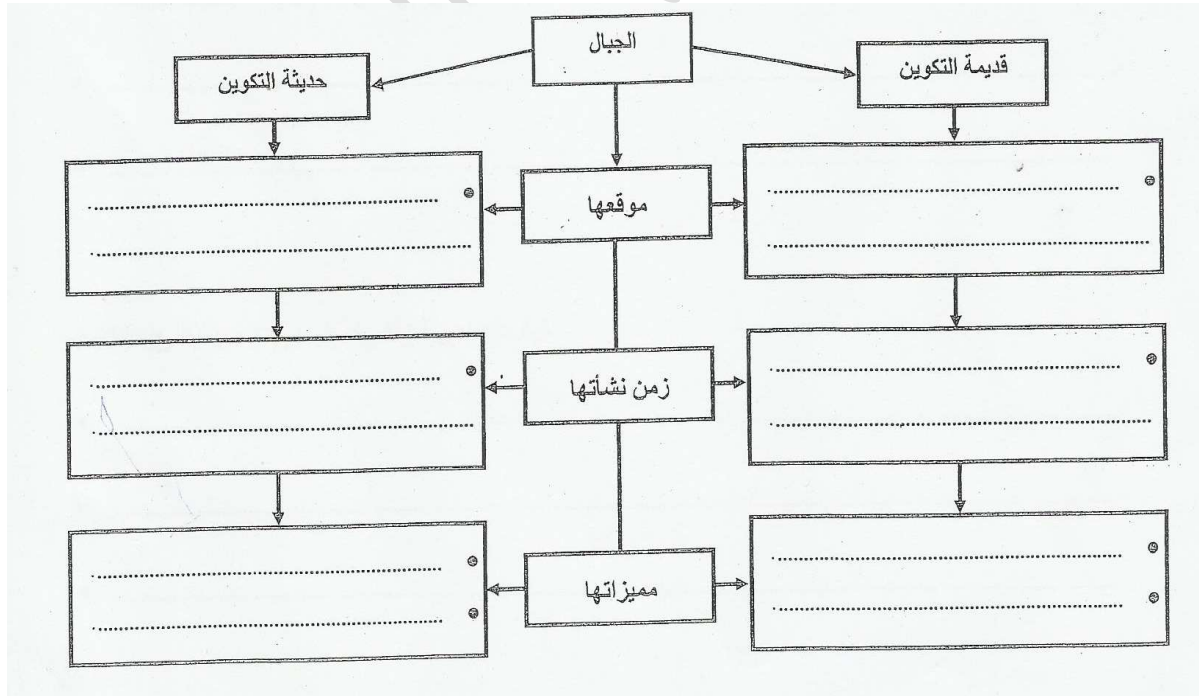
د. التيارات البحرية.

علي ما يلي:-

1. الظواهر الجغرافية الناتجة عن عدم تماسك قارة أوروبا وتداخل البر والبحر فيها بكثافة. (من امتحان الوزارة)

2. نشأة الجبال حديثة التكوين (السلسلة الألبية) في أوروبا.

فيما يلي أكمل المخطط الآتي ، بكتابة موقع الجبال قديمة التكوين وحديثة التكوين بقارة أوروبا وزمن نشأتها ومميزاتها، حسب المعطيات الواردة فيه:



(19) المناخ في قارة أوروبا

(مهم جدا للامتحانات النهائية)

علي: يتميز الإقليم المعتدل بلطافته.
(1) بعده عن المناطق المدارية.

علي: تغيب الصحاري عن قارة أوروبا.
(1) تقع في المنطقة المعتدلة الشمالية.
(2) بعدها عن المناطق المدارية.

الأقاليم المناخية في قارة أوروبا

موقع	خصائصه المناخية	الغطاء النباتي وخصائص الأنهار
منطقة صغيرة في شمال أوروبا أقصى	<p>الشتاء:</p> <ul style="list-style-type: none"> لا تنخفض فيه درجة الحرارة عن معدل يتراوح بين -15 و -25 تحت الصفر. علي.. لتأثره بتيار جولف ستريم الحار (تيار الخليج الدافئ) <p>الصيف:</p> <ul style="list-style-type: none"> رطب وأكثر دفئاً من الشتاء 	<ul style="list-style-type: none"> يختفي الغطاء النباتي تكثر فيه الطحالب الشجيرات الموجودة قصيرة يتراوح طولها بين 5سم و50سم. <p>الأنهار: متجمدة</p>
شريطاً ضيقاً يطل على المحيط الأطلسي	<p>الشتاء:</p> <ul style="list-style-type: none"> تيار جولف ستريم يحد من تدني الحرارة شتاء بحيث لا تنخفض عن 7 درجات في شهر فبراير. المدى الحراري ضعيف. تساقط الأمطار بكل الفصول وخصوصاً بالخريف والشتاء. ومناطق التضاريس تسقط الثلوج. <p>الصيف:</p> <p>يتميز هذا المناخ بلطافته ... علي ...</p> <ul style="list-style-type: none"> لقربة من المحيط الأطلسي وتأثرة بتفرعات تيار جولف ستريم الحار. الرياح الغربية اللطيفة القادمة من المحيط تخفف من ارتفاع درجات الحرارة بالصيف. لا يرتفع المعدل عن 15 درجة في شهر أغسطس. 	<p>أنهارها منتظمة الجريان بسبب تغذيتها بالأمطار بصورة متواصلة فهي صالحة للملاحة.</p> <p>الإقليم الوحيد الذي تكون أنهاره منتظمة الجريان طوال العام</p>

الغطاء النباتي وخصائص الأنهار	خصائصه المناخية	موقعة	
<p>تتجمد شتاء مياه بعض المسطحات المائية مثل بحر البلطيق.</p> <p>تفيض صيفا عند ذوبان الثلوج.</p>	<ul style="list-style-type: none"> ■ يتميز هذا المناخ بقساوته لبعده عن تأثيرات المحيط الأطلسي وتياراته. ■ يزداد قساوة كلما اتجهنا نحو المناطق الداخلية. ■ المدى الحراري السنوي كبير يتراوح بين 20 و 25. <p>الشتاء:</p> <ul style="list-style-type: none"> ■ برد قارس. ■ الجو جاف. ■ كمية المتساقطات قليلة و تتساقط غالبا ثلوج، التي لا تذوب طوال فصل الشتاء لا تزيد سماكته عن 20 سم ولا يذوب طوال الشتاء. <p>الصيف:</p> <ul style="list-style-type: none"> ■ شدة الحرارة. <p>تساقط الأمطار التي ترافقها عواصف رعدية وخصوصًا بشهري مايو ويونيو.</p>	مناطق أوروبا الوسطى والشرقية	إقليم مناخ المعتدل القاري
<p>عدم انتظام جريانها.</p> <p>في الشتاء تشهد فيضانات مروعة وبالصيف فإنها تشح</p>	<p>الشتاء:</p> <p>دافئ ، تمطر بغزاره تجرف معها التربة وتسبب فيضان الأنهار</p> <p>الصيف:</p> <p>حار جاف</p> <p>حار جاف صيفا ممطر معتدل شتاء</p>	مناطق جنوب أوروبا	إقليم المناخ المتوسطي

(20) السكان في قارة أوروبا

بعد الحربين العالميتين تبنى نسبة الزيادة السكانية الطبيعية في أوروبا وارتفع عدد المسنين فيها ويطلق عليها القارة العجوز.

س: بيني خصائص هرم الأعمار في أوروبا واذكري أهم أسبابها ونتائجها ؟

الخصائص السكانية	الأسباب	النتائج
تعاني أوروبا من انخفاض في نسبة الولادات (انخفاض في الثقل الديموغرافي)	<p>س: بيني أسباب تبنى نسبة الزيادة السكانية الطبيعية في أوروبا، وانعكاسات هذا التبنى على المجتمع الأوروبي؟</p> <p>(1) انخفاض نسبة الزيادة السكانية في أوروبا وارتفاعها في القارات الأخرى.</p> <p>(2) كانت في عام 1900 تشكل ربع السكان.</p> <p>(3) حيث تحتل أوروبا المرتبة الثانية بين قارات العالم، بلغ عدد سكانها 738 مليون نسمة سنة 2010م ، على الرغم من ارتفاع هذا العدد إلا أن أوروبا تعاني من انخفاض ثقلها الديموغرافي فهي تشكل سبع العالم. يعود تبنى نسبة الزيادة السكانية الى:-</p> <p>(1) تبنى نسبة الخصوبة.</p> <p>(2) انخفاض نسبة الولادات.</p>	<p>(1) بعض دول أوروبا لم يعد بإمكانها تجديد سكانها، حيث بلغ معدل الأولاد للمرأة الأوروبية 1.7، بسبب تبنى نسبة الخصوبة.</p> <p>(2) أصبح التطور فيها سلبياً</p>
الخصائص السكانية	الأسباب (مستند 2 ص 86)	النتائج
تعاني أوروبا من ارتفاع نسبة المسنين	<p>(1) بسبب التحسن في الأوضاع المعيشية.</p> <p>(2) تقدم الطب أدى إلى تراجع الوفيات.</p> <p>(3) تراجع كبير في نسبة الوفيات الرضع.</p> <p>(4) زيادة متوسط عمر الإنسان بحيث أصبح حوالي 80 سنة.</p> <p>(5) انخفاض نسبة الولادات.</p> <p>(6) ارتفاع نسبة المسنين إلى حوالي 25% بينما هي حوالي 14% في معظم الدول النامية.</p>	<p>(1) يتوقع أن تستمر الزيادة في نسبة المسنين، مما يترتب عليه أعباء إضافية على الحكومات لتوفير ما يلزمهم من خدمات، لأنهم ينتمون إلى الفئة الغير منتجة اقتصادياً.</p>

الكثافة السكانية في أوروبا مرتفعة.

س: كم تبلغ الكثافة السكانية في أوروبا ، وكيف يتوزع السكان فيها؟
بلغت الكثافة السكانية في أوروبا سنة 2010م حوالي 74 نسمة/كم²

- ❖ في عام 2012م بلغت 161/كم² (دون روسيا) مستند 2
- ❖ تحتل المرتبة الاولى من بين قارات العالم. (هي كثافة عالية)
- ❖ تتفاوت هذه الكثافة بين منطقة واخرى.

توزع الكثافة السكانية في قارة أوروبا:-

مناطق قليلة السكان	مناطق كثيرة السكان
<ul style="list-style-type: none"> ❖ مناطق الجبال العالية. ❖ مناطق الغابات الشمالية. ❖ المناطق التي تشهد نزوحًا ريفيًا كثيفًا باتجاه المدن الصناعية. 	<ul style="list-style-type: none"> ❖ مناطق الزراعات الحديثة المتخصصة. ❖ الاماكن الصناعية . ❖ المناطق ذات النشاطات الزراعية والصناعية الكثيفة في آن واحد.

كم تبلغ نسبة الذين يعيشون في المدن الأوروبية؟

(يعيش في الريف الأوروبي واحد من أصل أربعة) مهم جدًا

- ❖ حوالي 25% من مجمل الاوروبيين.
- ❖ وهناك اكثر من (30) مدينة تضم أكثر من مليوني نسمة.

اذكري امدن التي يزيد عدد سكانها عن خمسة ملايين نسمة ؟

اسطنبول	موسكو	سان بطرسبورغ	باريس	لندن
---------	-------	--------------	-------	------

(21) الاقتصاد

س: عددي أبرز الموارد الطبيعية المتجددة والغير متجددة في أوروبا وأبرز مميزاتهما؟

الخصائص	موارد متجددة
تغطي مساحات واسعة مثل (شريط اللوس الذي يمتد من الحوض الباريصي حتى أوكرانيا). (المصطلحات 85)	(1) التربة الخصبة والسميكة
للأخشاب	(2) الغابات (خصوصاً في مناطق المناخ المعتدل)
(للطاقة الكهرومائية) خصوصاً في جبال الألب والبرينيه وإسكندينايفيا. كما تؤمن مختلف حاجات الزراعة.	(3) المياه.
الصالحة للملاحة (نقل مائي كثيف ورخيص) ربطت ببعضها مكوّنة شبكات نقل مائية كثيفة ورخيصة.	(4) أنهار أوروبا.
الغنية بالثروة السمكية. تعتبر من أغنى مناطق العالم بالثروة السمكية.	(5) المسطحات المائية المحيطة بالقارة.
الخصائص	موارد غير متجددة (محدودة معظمها)
يوجد في المملكة المتحدة حتى أوكرانيا. متوافر بكميات كبيرة.	(1) الفحم الحجري
يتوزع بشكل خاص بين بحر الشمال وجبال الأورال ورومانيا وإيطاليا. محدودة	(2) الثروة النفطية
متوسطة وتتوزع في مختلف مناطق القارة	(3) المعادن (الحديد الرصاص اليوكسيت النحاس واليورانيوم) (كميات متوسطة)

الطبيعة في أوروبا ثروة للسياحة:

- (1) تتمتع أوروبا بطبيعة متنوعة، واستثمرت من خلال إقامة المرافق السياحية على أنواعها.
- (2) أوروبا المتوسطة تحتل المرتبة الأولى في العالم من حيث استقبالها للسياح.
- (3) فهم يأتون من أجل :-

❖ التمتع بالشمس.

❖ دفء المياه والجو.

❖ المناطق الأثرية والتاريخية.

- (4) تعتبر جبال الألب أولى المناطق السياحية الجبلية حيث يأتون إليها من أجل التزلج والتمتع بالمناظر الطبيعية.

السلبيات: (مهم جدا للامتحانات النهائية)

الحرائق	التلوث	العمران الفوضوي الذي يشوه جمال الطبيعة
---------	--------	--

س: اذكر العوامل التي ساعدت على قيام صناعة متطورة في أوروبا؟
(مهم جدا للامتحانات النهائية)

العوامل	المؤشرات التي تدل على هذا التطور
(1) توافر الفحم الحجري والحديد	<ul style="list-style-type: none"> ❖ تتوافر في القسم الغربي من أوروبا. ❖ تم استغلالهما بشكل مبكر، وخصوصاً في أوروبا الغربية لنمو القطاع. ❖ أدى إلى نمو القطاع الصناعي. ❖ جعل أوروبا أقدم المناطق الصناعية في العالم.
(2) الطاقة الكهربائية (3) الطاقة النووية (4) النفط (5) التقدم العلمي والتكنولوجي	<ul style="list-style-type: none"> ❖ من مؤشرات هذا التطور وجود أربع دول أوروبية هي : <ol style="list-style-type: none"> (1) ألمانيا (2) فرنسا (3) المملكة المتحدة (4) إيطاليا ❖ هذه الدول أعضاء في مجموعة الدول السبع الأكثر تصنيعاً في العالم ، ثلاث الدول الأخرى هي : (اليابان + الولايات المتحدة الأمريكية + كندا)

س: العوامل التي ساعدت على قيام قطاع زراعي متطور في أوروبا؟

المؤشرات التي تدل على هذا التطور	العوامل
<ul style="list-style-type: none"> ❖ الزراعة ممكنة لا تتطلب ايدي عاملة كبيرة. ❖ الإنتاجية الزراعية والحيوانية مرتفعة جداً ❖ شهد قطاعها فائضاً كبيراً في منتجاتها مثل (الحبوب ، الحليب ومشتقاته) 	<ol style="list-style-type: none"> 1) السهول الواسعة الخصبة. 2) المراعي 3) المياه 4) استخدام التقنيات الحديثة في الزراعة وتربية الماشية
المشاكل التي تواجه الزراعة؟	
مشكلة تخزين هذه المنتجات، وتصريفها في الاسواق الداخلية والخارجية.	

س: اذكر العوامل التي ساعدت على قيام صناعة و زراعة متطورة في أوروبا؟
(مهم جدا للامتحانات النهائية)

العوامل لقيام زراعة	العوامل لقيام صناعة
<ol style="list-style-type: none"> 1) السهول الواسعة الخصبة. 2) المراعي 3) المياه 4) استخدام التقنيات الحديثة في الزراعة وتربية الماشية 	<ol style="list-style-type: none"> 1) توافر الفحم الحجري والحديد 2) الطاقة الكهربائية 3) الطاقة النووية 4) النفط 5) التقدم العلمي والتكنولوجي

الوحدة الثالثة قارة أمريكا الشمالية والوسطى





(22) السطح والمناخ في أمريكا الشمالية

- ♣ تقع أمريكا الشمالية والوسطى في النصف الشمالي بالنسبة للكرة الأرضية
- ♣ تحتل المرتبة الثالثة من حيث كبر المساحة حيث مساحتها 24,3 مليون كلم² بعد آسيا وأفريقيا

أبرز وحدات التضاريس :

التضاريس	مميزاتها
السهول الساحلية الشرقية	<ul style="list-style-type: none"> ☒ تتميز بضيقها عند شواطئ المحيط الأطلسي واتساعها عند خليج المكسيك ☒ تطل على شواطئ كثيرة التعاريج ☒ تكثر فيها الخلجان والرؤوس ومجموعات من الجزر أهمها أرخبيل الأنتيل في البحر الكاريبي.
الأبالاش	<ul style="list-style-type: none"> ☒ صخورها قديمة التكوين ☒ تعود إلى الزمن الجيولوجي الثاني ☒ متوسطة الارتفاع بسبب عوامل التعرية ☒ أعلى قمة بلاك دوم 2045م.
الجبال الغربية	<ul style="list-style-type: none"> ☒ صخورها حديثة التكوين ☒ تكونت الزمن الجيولوجي الثالث ☒ تتميز بشدة ارتفاعها ☒ أعلى قمة ماك كينلي تصل 6194 م ☒ عمق أودية أنهارها ☒ تتألف من عدة سلاسل مثل الاسكا والروكي و الكسكاد و سييرا ماديرا ☒ تنحصر بينهما مجموعة من الهضاب مثل هضبة كولورادو. ☒ يتخللها مجموعة من المنخفضات مثل الحوض العظيم في الشمال و نيكاراغوا في الجنوب. ☒ يحاديها غرباً سهل ساحلي ضيق ومتقطع. ☒ ولا زالت تتعرض للزلازل والبراكين كما يحصل في مدينة سان فرانسيسكو. ☒ كل ذلك بسبب استمرار عملية التصادم بين الكتلة الأمريكية وكتلة المحيط الهادي.
الهضاب والسهول الوسطى	<ul style="list-style-type: none"> ☒ انخفض السطح بين الجبال الغربية و جبال الأبالاش فتكونت الهضاب القليلة الارتفاع ☒ تخترقها عدد من الأنهار ☒ تعرضت الأجزاء الشمالية من هذه الهضاب إلى تأثيرات الموجات الجليدية في الزمن الجيولوجي الرابع ، فنت صخورها وكونت العديد من الخلجان والجزر وأشباه الجزر. ☒ عند ذوبان الجليد تشكلت الفجر (الفيوردات) ، امتلأت المنخفضات الداخلية بالمياه فتكونت مجموعة من البحيرات الكبيرة أهمها البحيرات الخمس الكبرى ، على الحدود الكندية الأمريكية. ☒ الأجزاء الجنوبية فسهولها رسوبية واسعة يخترقها نهر الميسيسيبي- الميسوري.

علي لما يلي : (مهم جدا للامتحانات النهائية)

♣ السهول الساحلية الشرقية تتميز بضيقها عند شواطئ المحيط الاطلسي واتساعها عند خليج المكسيك؟

لأنها كثيرة التعاريج وتكثر فيها الخلجان والرؤوس ومجموعة من الجزر.

♣ تتعرض الجبال الغربية في امريكا الشمالية للزلازل والبراكين؟

بسبب استمرار عملية التصادم بين الكتلة الأمريكية وكتلة المحيط الهادئ

♣ تكون البحيرات الخمس الكبرى؟

بسبب ذوبان الجليد وتشكلت الفجر ((الفيوردات)) وامتلات المنخفضات الداخلية بالمياه فتكونت مجموعة من البحيرات أهمها البحيرات الخمس الكبرى على الحدود الأمريكية الكندية.

♣ الأقاليم المناخية في أمريكا الشمالية والوسطى:

♣ تمتد قارة أمريكا الشمالية والوسطى من القطب الشمالي حتى تخوم خط الاستواء . مما جعل أقاليمها المناخية تتدرج من المناخ القطبي حتى المناخ المداري الرطب مروراً بالمناخين المعتدل والصحراوي.

♣ وان اتجاه التضاريس ومرور التيارات البحرية بجوار الشواطئ كان له الأثر الكبير على مناخات القارة.

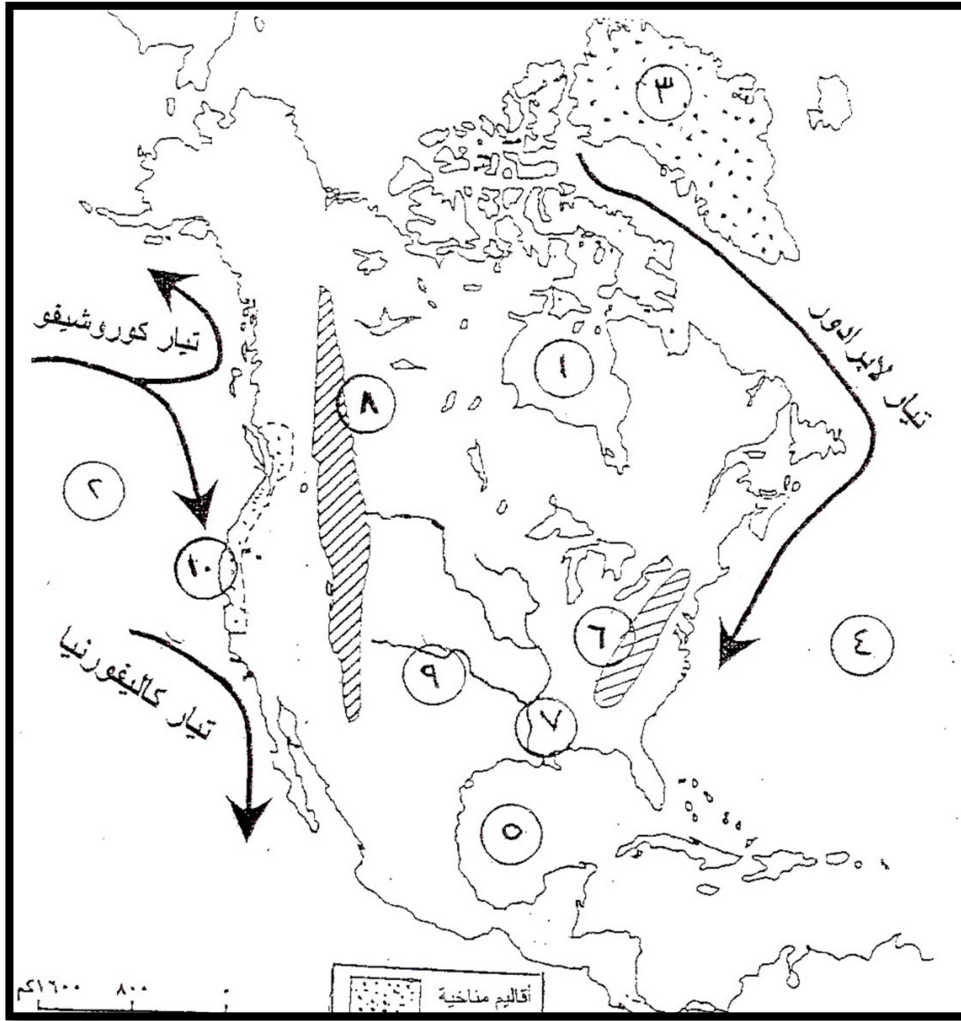
♣ جبال الأبلش والجبال الغربية تمتد بشكل طولي من الشمال للجنوب شكلت حاجز أمام الرياح الرطبة القادمة من المحيطين الهادئ والأطلسي. فالمناطق الداخلية مناخها قاري.

♣ انفتاح المناطق شمالاً وجنوباً بتغلغل الرياح القطبية الباردة شتاءً حتى منطقة البحيرات الكبرى ، وتغلغل الرياح المدارية الرطبة صيفا حتى أقدام جبال الأبلش.

التيارات البحرية: (مهم جدًا للامتحانات النهائية)

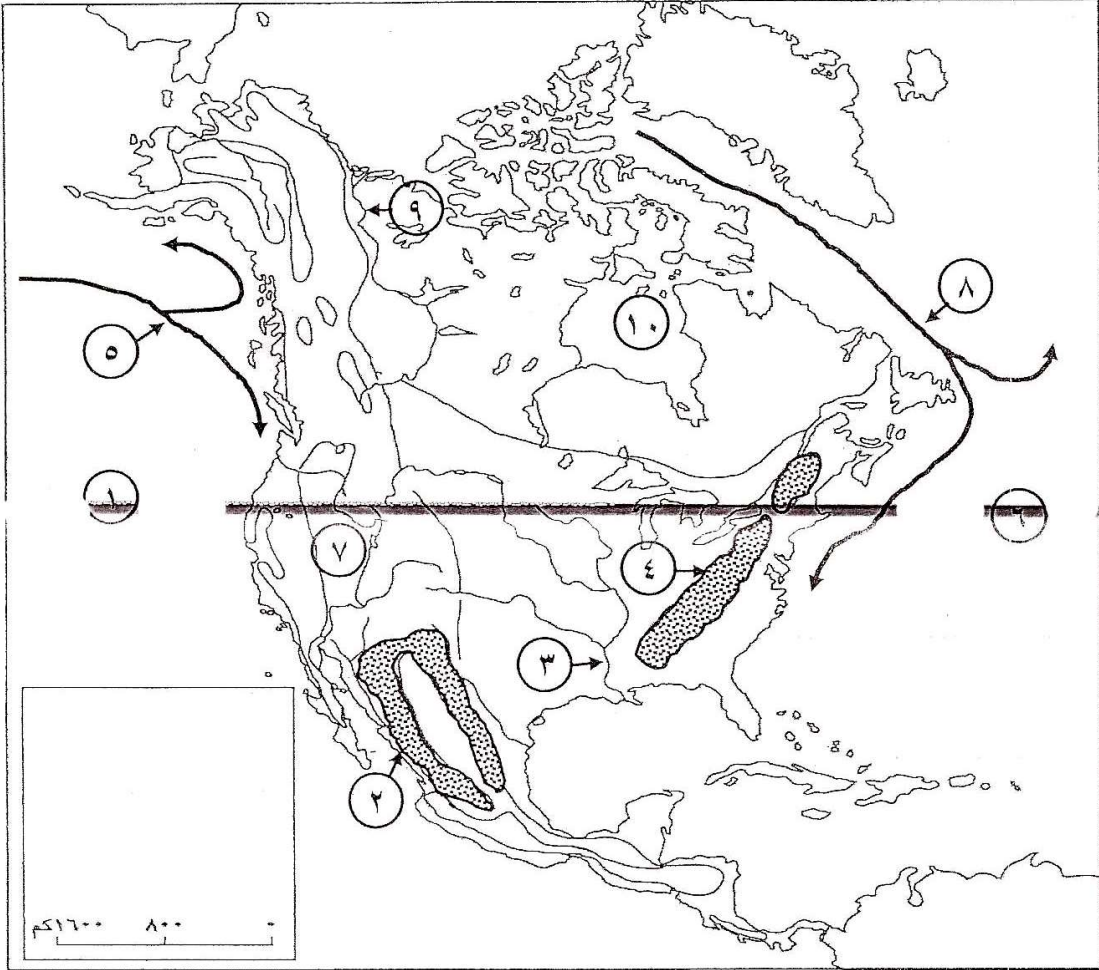
التيار	الموقع	المميزات
تيار كاليفورنيا البارد	يحاذي الشواطئ الغربية لكاليفورنيا والمكسيك	♥ بارد يزيد من تدني الحرارة. ♥ تدني كمية الأمطار فيها.
تيار كوروشيفو الحارة	يحاذي المناطق الغربية لألاسكا وكندا.	♥ حارة يزيد من ارتفاع الحرارة في المناطق الغربية الساحلية إلى ألاسكا وكندا ♥ الشتاء في تلك المناطق دافئاً وممطراً
تيار لايرادور البارد	يحاذي السواحل الشمالية الشرقية	♥ بارد تنخفض فيها الحرارة شتاءً.

من خلال دراستك لجغرافية قارة أمريكا الشمالية والوسطى، أكتبي أمام كل من الظواهر الجغرافية الموضحة في الجدول الرقم الذي يدل عليها وفقاً لموضع الأرقام المبينة على الخريطة:



الظاهرة الجغرافية	الرقم	الظاهرة الجغرافية	الرقم
المحيط الأطلسي		المحيط الهادي	
نهر أركنساس		نهر المسيسيبي	
خليج هدسن		خليج المكسيك	
جبال الأبلاتش		جبال الروكي	
المناخ المتوسطي		المناخ القطبي	

المواد الاجتماعية المسار: (الإعدادية العامة والدينية) صفحة (٦) لاحظ أن أسئلة الامتحان تقع في ٨ صفحات
ثانياً- من خلال دراستك لجغرافية أمريكا الشمالية والوسطى، أكتب أمام كل من الظواهر الجغرافية الواردة في الجدول الرقم الدال عليها وفقاً لموضع الأرقام المبينة على الخريطة:



خريطة صماء لأمريكا الشمالية والوسطى

الظاهرة الجغرافية	الرقم المناسب	الظاهرة الجغرافية	الرقم المناسب
جبال الأبالاش		نهر الميسيسيبي	
تيار لابرادور		المحيط الأطلسي	
المحيط الهادي		خليج هدسن	
نهر ماكنزي		هضبة كولورادوا	
جبال سييراماديرا		تيار كوروشيفو	

(23) السكان

- ❖ بلغ عدد سكان قارة أمريكا الشمالية والوسطى 542 مليون نسمة لسنة 2010م.
 - ❖ بلغت الكثافة السكانية فيها حوالي 22 نسمة / كم² لسنة 2010م.
- يتألف سكان القارة من :

- (1) البيض الأوروبيين ويشكلون حوالي 90% من سكان القارة. ويشكل البيض حاليا 92%.
- (2) السود الأفارقة ويشكلون حوالي 6% من السكان. (هم العبيد الذين جلبوا من أفريقيا) للعمل في الزراعات المدارية.
- (3) السكان الأصليين (هنود الحمر ، إسكيمو) لا تتعدى نسبتهم 1% .
- (4) وفي العشرينات الأخيرة نمو أعداد آسيويين الصفر.
- (5) أفراد من الأقلية الهسبانية (ذوي الأصول الأسبانية) أي القادمين من أمريكا الوسطى والجنوبية.

- ❖ التمييز العنصري لازال موجود يتمثل في مختلف مناطق السكن بين المجموعات العرقية.
 - ❖ الموارد البشرية في أمريكا الشمالية تمثل دعامة قوية للاقتصاد. (عللي)
- (1) لما لها من خبرات فنية في مختلف المجالات .
 - (2) تتميز بقدرة شرائية .
- ❖ وإن الولايات المتحدة وكندا تستقبلان سنويا أعداد مرتفعة من المهاجرين بينهم نسبة كبيرة من (ذوي المؤهلات العلمية والتكنولوجية)

- أما في أمريكا الوسطى – تفاوت اندماج البيض والسود والسكان الأصليين في شعب واحد.
- يمثل الخلاسيون أكثر من 60% منه كما في المكسيك.

قارن بين سكان أمريكا الشمالية وأمريكا الوسطى حسب ما هو مدرج في الجدول التالي:
(مهم جدا للامتحانات النهائية)

أمريكا الوسطى	أمريكا الشمالية	وجه المقارنة	
حدث اندماج بين فئات السكان.	لم يحدث اندماج بين فئات السكان.	مدى الاندماج	الاتصهار السكاني
شعب خلاسي	تميز عنصرى	النتائج	
مرتفعة (30 بالآلاف)	منخفضة (15 بالآلاف)	نسبة الولادات	الخصائص السكانية
منخفض (53 سنة في هايتي- 75 سنة في كوبا كوستاريكا)	مرتفع (76 سنة)	متوسط عمر الإنسان	
مرتفعة	منخفضة	نسبة الفتيان	
منخفضة	مرتفعة	نسبة المسنين	
مرتفعة	منعدمة	نسبة الأمية	
(مهم جدا للامتحانات النهائية) ♣ من الأرياف نحو المدن. ♣ تضخم المدن ♣ انتشار أحزمة البؤس (الفقر) <u>مثل مدينة مكسيكو</u> ♣ التلوث. ♣ قلة المياه ♣ البطالة ♣ قلة السكن.	♣ في القرن 19 والنصف الأول من القرن 20 نحو مدن منطقة البحيرات والسواحل الشرقية. ♣ حالياً تشهد الولايات المتحدة الأمريكية انتقالاً سكانياً. ♣ ومدن السواحل الجنوبية ومدن السواحل الغربية. <u>(لماذا؟)</u> حيث تتوافر فرص عمل كثيرة نتيجة تحسن الوضع الاقتصادي .	حركة الانتقال السكاني	
♣ الركود الاقتصادي وانخفاض المستوى المعيشي.	♣ التطور لصناعي مرتفع وارتفاع المستوى المعيشي.	التطور الصناعي والمستوى المعيشي	

(24) الاقتصاد

أدى الاختلاف في استثمار الموارد الطبيعية والبشرية المتاحة إلى تفاوت الاقتصاد بين دول أمريكا الشمالية وأمريكا الوسطى.

قيام زراعة متنوعة في قارة أمريكا الشمالية والوسطى

دول أمريكا الوسطى	دول أمريكا الشمالية (كندا والولايات المتحدة الأمريكية)	المقومات المشتركة س: ما المقومات المشتركة التي أدت إلى قيام زراعة مكثفة؟
<p>(1) رؤوس الاموال قليلة (2) الزراعة تقليدية معيشية. (3) زراعة تجارية تمويلها شركات كبرى. (4) أيدي عاملة غير مؤهلة</p>	<p>(1) توافر رؤوس الأموال الضخمة. (2) الزراعة ممكنة،(استخدام آلات حديثة) أسطولاً من الجرارات والحاصدات والشاحنات والطائرات. (3) تقنيات حديثة. (4) توافر مبيدات وأسمدة. (5) أيدي عاملة مؤهلة وخبيرة. (6) توافر الأسواق.</p>	<p>(1) التنوع المناخي في أمريكا الشمالية والوسطى بإنتاج محاصيل زراعية متنوعة. (2) خصوبة التربة (3) توافر المياه (4) السهول الواسعة (5) استصلاح الاراضي بكلفة متدنية. (6) استخدام الآلات على نطاق واسع</p>
<p>النتيجة: (1) تنتشر الزراعة المعيشية التقليدية، تلبى الاحتياجات المحلية من المحاصيل الغذائية. (2) تنتشر الزراعات التجارية (زراعة الكاكاو والبن والموز والأناناس) التي تمويلها شركات زراعية كبرى وتسوق الانتاج في مختلف العالم.</p>	<p>النتيجة: (1) إنتاجية مرتفعة جدا. (2) محاصيلها تكفي الاسواق الداخلية، وتصدر كميات كبيرة الى الخارج. (3) تخزن كميات كبيرة تعتبر هذه الدول المخزن الغذائي الرئيسي في العالم.</p>	<p>النتيجة: قيام زراعة مكثفة في مساحات واسعة.</p>

القطاع الصناعي في قارة أمريكا الشمالية و الوسطى

دول أمريكا الوسطى	دول أمريكا الشمالية (كندا والولايات المتحدة الأمريكية)	المقومات المشتركة س: ما المقومات المشتركة التي أدت إلى قيام صناعة؟
محدودية هذه المقومات.	<p>(1) توافر رؤوس الاموال الضخمة (2) التقنية العالية (3) الأيدي العاملة المتخصصة (4) الأسواق</p>	<p><u>الموارد الطبيعية المعدنية على</u> اختلاف أنواعها وبكميات كبيرة في مختلف مناطق القارة. وخصوصا في كندا والولايات المتحدة (علي) 1. اتساع أراضيها 2. تنوع طبقاتها الجيولوجية التي تضم صخور قديمة التكوين الى جانب صخور حديثة التكوين.</p>
<p><u>النتيجة:</u> ♣ تقليدي ♣ يعتمد بشكل رئيسي على استخراج المواد الأولية المعدنية والنفطية التي يتم تصديرها إلى الولايات المتحدة الأمريكية خصوصاً. ♣ في المكسيك توجد بعض الصناعات البتروكيمياوية . الصناعات الخفيفة مثل (النسيج والمواد الغذائية)</p>	<p><u>النتيجة:</u> ♣ القطاع الصناعي متطور في الولايات المتحدة وكندا يقوم على شركات عملاقة منها 1. ما يختص بإنتاج نوع واحد من السلع مثل شركة (جنرال موترز) تنتج المحركات على أنواعها. 2. ومنها ما يختص بفرع صناعي معين كالشركات التي تختص بإنتاج مختلف السلع النفطية أو الكيماوية أو التعدينية أو الغذائية. ♣ أهم منتجات هذه المؤسسات : السيارات الطائرات الادوية والأجهزة الكهربائية والالكترونية والآلات الرأسالية. ♣ تتميز هذه المنتجات: 1. بالجودة العالية. 2. تلبي إحتياجات السوق المحلية.</p>	<p><u>أكبر احتياطي للفحم الحجري،</u></p>
		<p><u>النفط والغاز الطبيعي</u> <u>نظراً لضخامة الاستهلاك</u> <u>تستنفد إحتياجاتها من النفط</u> <u>والغاز الطبيعي من أسكا</u> <u>ووسط القارة وجبال الأبلش</u> <u>وخليج المكسيك.</u></p>

ملخص لدرس الاقتصاد في أوروبا وأمريكا الشمالية والوسطى

مقارنة بين القطاع الزراعي والصناعي بين أوروبا وأمريكا الشمالية والوسطى. (مهم جدًا في الامتحانات النهائية)

القطاع الزراعي		
أمريكا الوسطى	أمريكا الشمالية	أوروبا
<ul style="list-style-type: none"> ♥ رؤوس الاموال قليلة ♥ الزراعة تقليدية معيشية. ♥ زراعة تجارية تمولها شركات كبرى. ♥ أيدي عاملة غير مؤهلة 	<ul style="list-style-type: none"> ♥ <u>السهول الواسعة</u> ♥ <u>خصوبة التربة</u> ♥ <u>توافر المياه</u> ♥ <u>الزراعة ممكنة</u>، (استخدام آلات حديثة) أسطولاً من الجرارات والحاصدات والشاحنات والطائرات. ♥ <u>تقنيات حديثة</u>. ♥ <u>توافر رؤوس الأموال الضخمة</u>. ♥ التنوع المناخي ♥ استصلاح الاراضي بكلفة متدنية. ♥ استخدام الآلات على نطاق واسع ♥ توافر مبيدات وأسمدة. ♥ أيدي عاملة مؤهلة وخبيرة. ♥ توافر الأسواق. 	<ul style="list-style-type: none"> ♥ <u>السهول الواسعة</u>. ♥ <u>خصوبة التربة</u>. ♥ <u>المياه</u> ♥ <u>الزراعة ممكنة لا تتطلب ايدي عاملة كبيرة</u>. ♥ <u>استخدام التقنيات الحديثة</u> في الزراعة وتربية الماشية. ♥ <u>توافر رؤوس الأموال الضخمة</u>. ♥ المراعي.

القطاع الصناعي		
أمريكا الوسطى	أمريكا الشمالية	أوروبا
<ul style="list-style-type: none"> ♥ محدودية هذه المقومات. 	<ul style="list-style-type: none"> ♥ للفحم الحجري ♥ الموارد الطبيعية المعدنية ♥ النفط والغاز الطبيعي ♥ توافر رؤوس الاموال الضخمة ♥ التقنية العالية ♥ الأيدي العاملة المتخصصة ♥ الأسواق 	<ul style="list-style-type: none"> ♥ توافر الفحم الحجري ♥ الحديد ♥ النفط ♥ توافر رؤوس الاموال الضخمة ♥ التقدم العلمي والتكنولوجي ♥ الطاقة الكهربائية ♥ الطاقة النووية

اسئلة من امتحانات سابقة

صححي ما تحته خط:-

- (1) تعد شركة (جنرال موتورز) من المؤسسات العملاقة المنتجة للمحركات في أفريقيا.....
 (2) من مقومات الصناعة في أمريكا الشمالية والوسطى وجود النفط والغاز الطبيعي من البرازيل إلى وسط القارة وجبال الابلاش وخليج المكسيك.....

بما تفسري:-

♣ تطور القطاع الزراعي في أمريكا الشمالية.

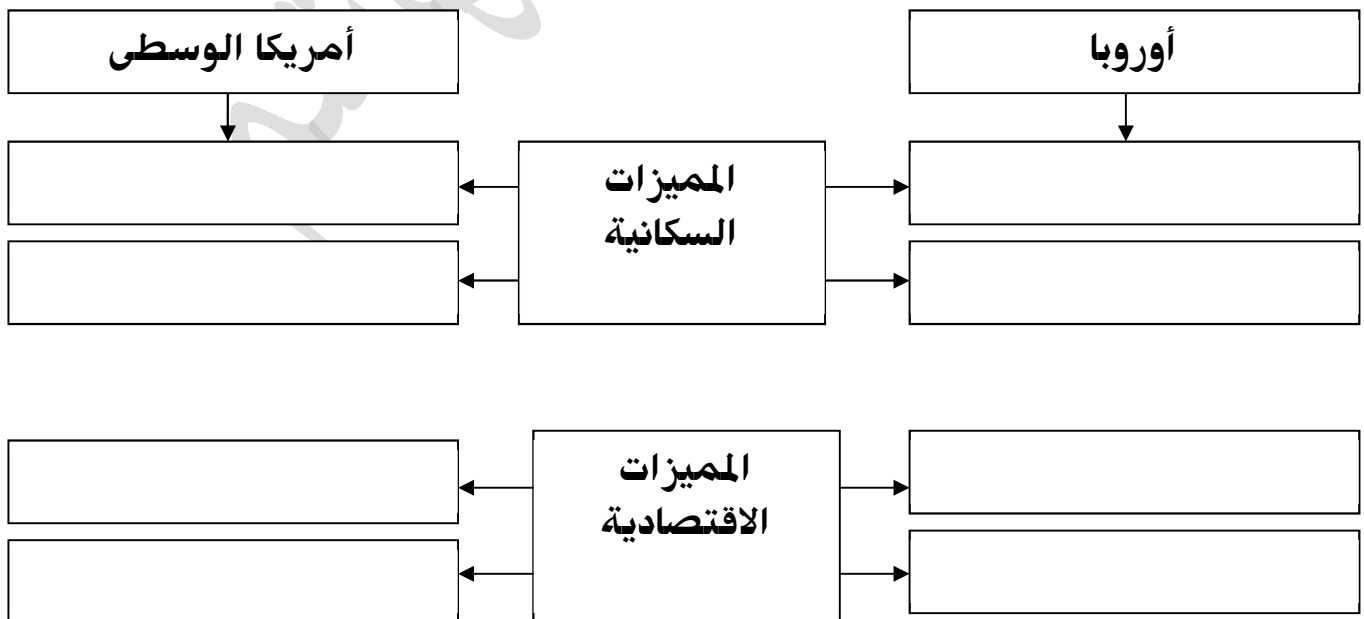
(1)	(2)
(3)	(4)

تنوع الموارد المعدنية في كندا والولايات المتحدة الأمريكية.

- (1)
- (2)

من امتحان الوزارة) فيما يلي صنف المميزات السكانية والاقتصادية لأوروبا وأمريكا الوسطى حسب معطيات المخطط الذي يليها:-

اعتماد الزراعة الممكنة	ارتفاع نسبة المسنين	اعلى كثافة سكانية بين قارات العالم
انتشار الزراعة المعيشية	تطور القطاع الصناعي	يشكل الخلاسيون 60% من سكانها
ارتفاع نسبة الولادات	الاعتماد على صناعة استخراج المعادن	



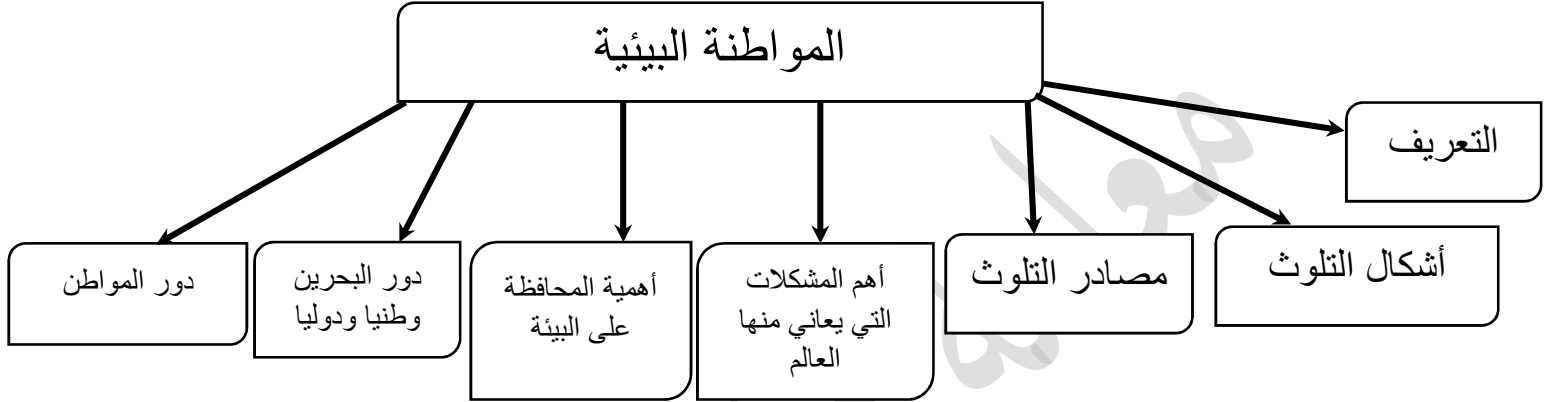
دروس

التربية

للمواطنة

المواطنة البيئية (4)

ارسمي خريطة مفاهيمية للدرس:



س: كيف تحقق التنمية المستدامة لتراعي الحفاظ على حاجتنا وحاجة الأجيال المقبلة؟

1. المحافظة على البيئة التي نعيش فيها.
2. ترشيد سلوكياتنا في استعمال الموارد الطبيعية والحياة الفطرية والحيوانية.

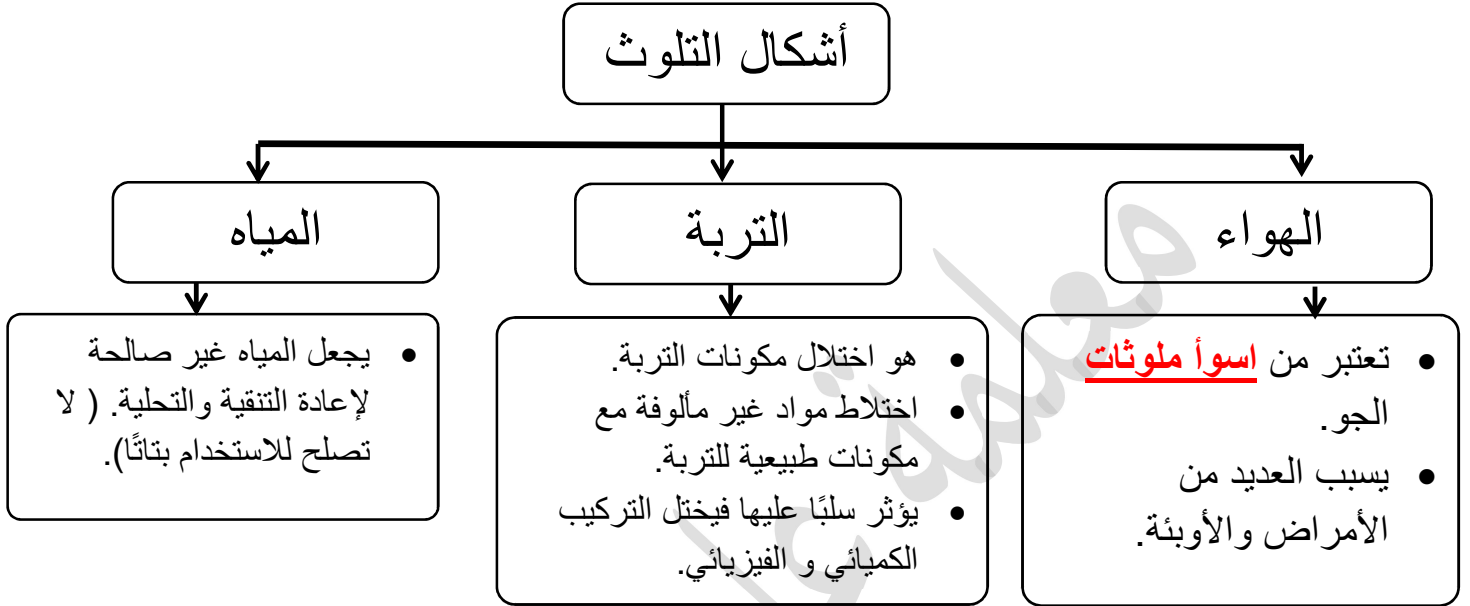
أولا : تعريف المواطنة البيئية : هي كل الثروات الطبيعية والموارد ، تكون ملك للدولة، حيث تقوم على المحافظة عليها وحسن استثمارها بحيث تراعي مقتضيات أمن الدولة و اقتصادها الوطني.

الاجابة على الاسئلة ص 25

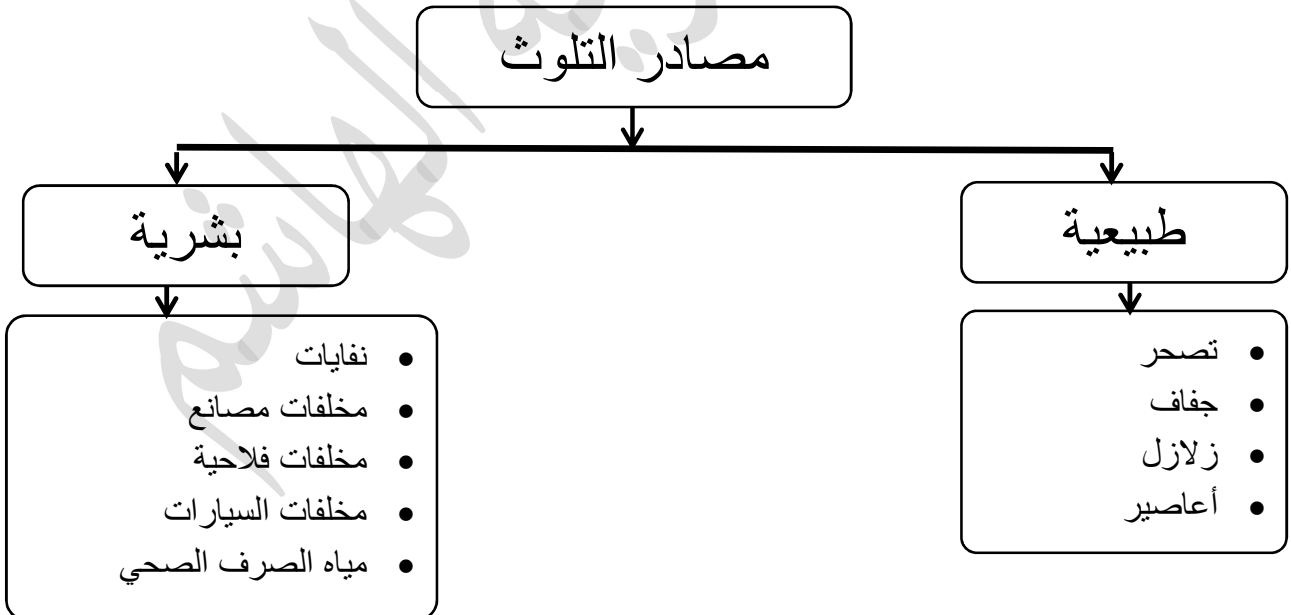
كل ذلك سيؤدي إلى	نستنتج مما يلي من الصور السابقة
<ol style="list-style-type: none"> 1. المشاركة الفاعلة. 2. المسؤولية اتجاه قضايا البيئة ذات الأولوية في مجتمعة. 3. رد كافة التحديات التي تواجه أجيال الحاضر والمستقبل. <p>فالبيئة أحد مقومات البيئة المستدامة.</p>	<ol style="list-style-type: none"> 1. أن يكون المواطن متحمسا. 2. واعي للقضايا البيئية. 3. أن يصون المواطن مكان عيشة. 4. أن يهتم بصحة كوكبه والحفاظ عليه.

ثانياً: أخطار تَهْدِدُ بيئتنا: (مستند ص 26)

س: ما هي أشكال التلوث؟



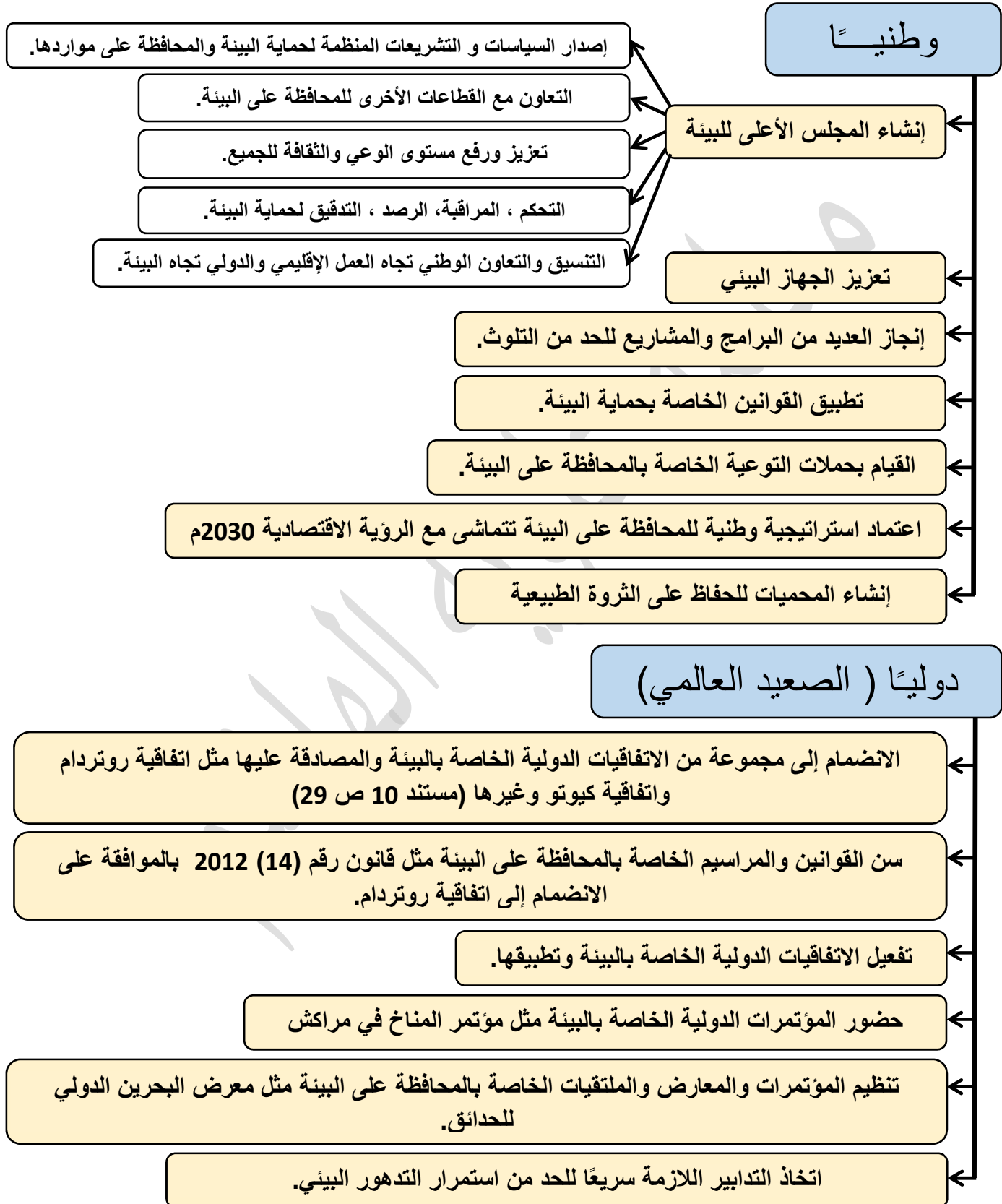
س: ما هي مصادر التلوث؟



ثالثاً: أهمية المحافظة على البيئة

<p>تكمُن أهمية المحافظة على البيئة فيما يأتي:</p>	<p>أهم المشكلات البيئية التي يعاني منها العالم : (مستند 6 ص 27)</p>
<ol style="list-style-type: none"> 1. حماية المصادر المائية من التلوث. 2. استدامة العناصر البيئية مثل الغطاء الأخضر النباتي. 3. الحصول على الغذاء الطبيعي عن التلوث. 4. القضاء على التلوث السمعي (الضجيج). 5. التقليل من الأمراض. 6. حماية الأرض من التصحر. 	<ol style="list-style-type: none"> 1. التلوث. 2. اجتثاث الغابات. (أصل الكلمة (الجث) : ومعناها القطع أو انتزاع الشجرة من أصلها. و (اجتثاث): اقتلاعها من جذرها. 3. الرعي الجائر. 4. تبذير المياه. 5. التصحر. 6. تراكم النفايات. 7. ازدحام المدن. 8. تخریب الأوساط الطبيعية. 9. انقراض أو التهديد بانقراض بعض الحيوانات والنباتات. (العلماء قدروا نسبة المهددة بالانقراض 8300 نباتي والحيوانات 7200، وتكون هذه في المناطق الآسيوية والبلدان النامية. 10. عدم احترام المساحات الخضراء. <p>أصبح التلوث في الآونة الأخيرة ظاهرة مقلقة وأمرًا يهدد الحياة الطبيعية على وجه الأرض.</p>

رابعاً: جهود دور مملكة البحرين ودورها في القضايا البيئية (وطنيًا - دوليًا)



خامسا: دور المواطن في المحافظة على البيئة



الابتعاد عن
الضجيج
والضوضاء



المحافظة على
نظافة المكان الذي
يعيش فيه.




فتح النوافذ والأبواب
لدخول الشمس لجميع
انحاء المنزل للقضاء على
الحشرات والمكروبات



الحفاظ على
الأشجار والنباتات
الموجودة



الاقتصاد في
استعمال المياه
وعدم تلويثها.



رمي المخلفات
بطريقة صحيحة لمنع
انتشار الأمراض.



استعمال المرشحات
للمحافظة على البيئة من
العوادم الناجمة عن
استخدام الوقود.

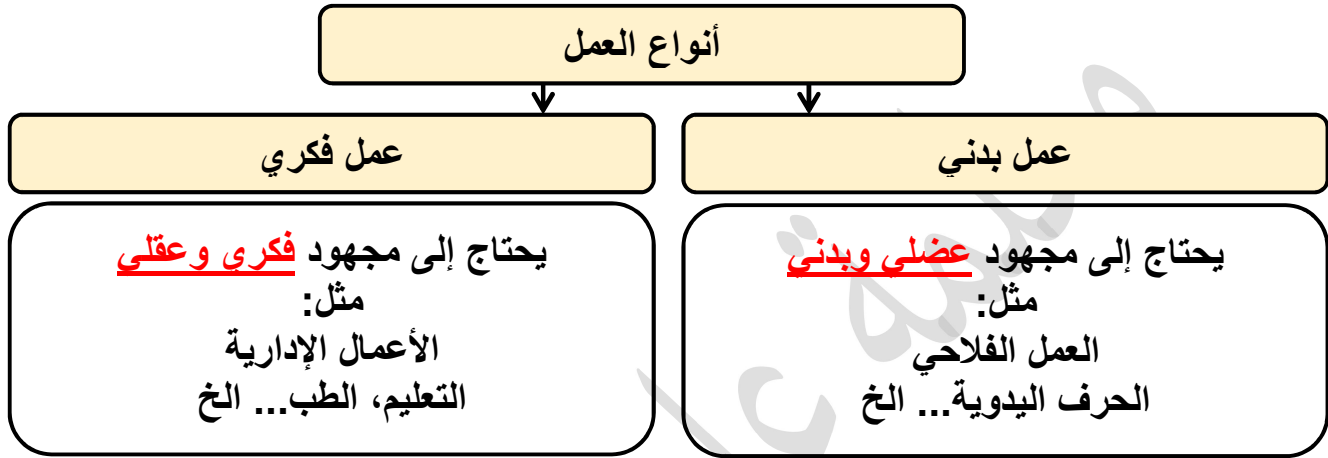


التقليل من
استعمال المنظفات
الكيميائية

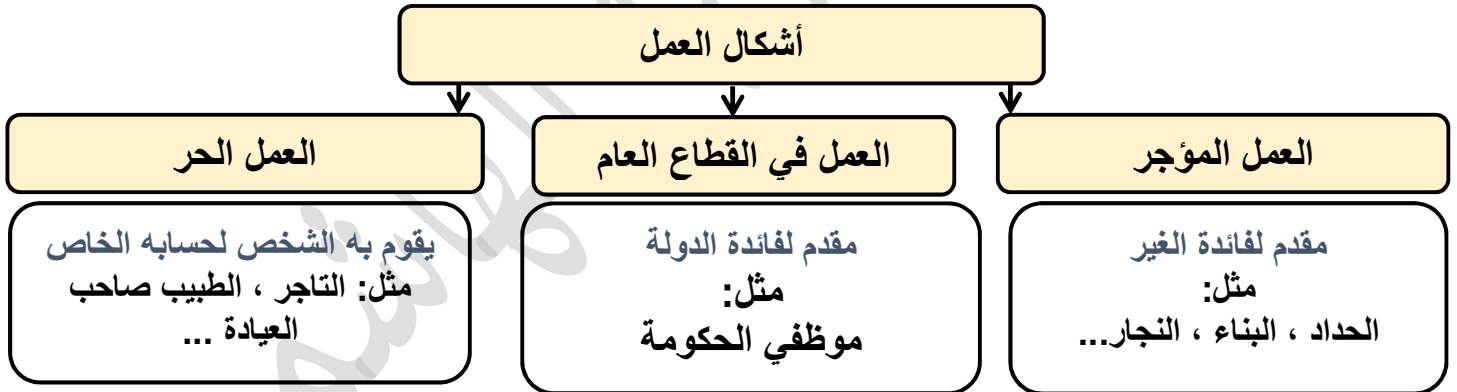
العمل (5)

تعريف العمل : هو كل مجهود أو نشاط بدني أو فكري نقوم به لتحقيق غاية معينة.

أولاً: أنواع العمل



ثانياً: أشكال العمل



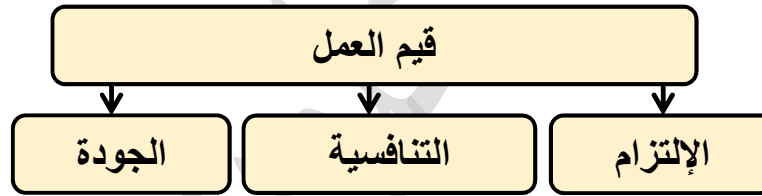
بعض المجتمعات تعرف مفهوم جديد للعمل وهو العمل الاجتماعي والتضامني (هو مجموعة من الأنشطة الاقتصادية والاجتماعية التي تنتظم في شكل مهيكلة أو تجمعات للأفراد أو منظمات أهلية) من اهدافها :

1. المصلحة الجماعية لأعضائها.
2. المصلحة المجتمعية مثل : توفير عمل للمواطن، تطوير الإنتاج....
3. علاقة تضامن تقوم على أولوية المصلحة المجتمعية على المصلحة الفردية والكسب المادي.

ثالثاً: أهمية العمل للفرد و المجموعة

أهمية العمل للمجموعة	أهمية العمل للفرد
<ol style="list-style-type: none"> 1. يحقق الأمن الوطني في مختلف أبعاده الاقتصادية والاجتماعية. 2. يطور المجتمع. 3. يكرس قيم التعاون والتضامن ، التماسك. 4. يمنح الفرصة للمشاركة في إدارة الشأن العام. 5. الفرصة للتعبير عن الولاء للوطن. 6. يكرس العمل الممارسات المواطنة كالإنتاج والابتكار. 	<ol style="list-style-type: none"> 1. تحقيق الأمن الشخصي. 2. حفظ كرامة الإنسان. 3. توفير وتلبية احتياجاته. 4. تقدير الذات. 5. تحقيق الاندماج الاجتماعي.

رابعاً: قيم العمل



الإلتزام:

تعريفها: التقيد بتوفير المناخ الملائم للعمل المفيد، من خلال تحقيق التلازم بين الواجبات والحقوق لأطراف العمل، المتمثلة في العامل من جهة وأصحاب العمل في القطاعين العام والخاص.

صاحب العمل	العامل
<ol style="list-style-type: none"> 1. توفير المناخ الملائم للعامل. 2. توفير مناخ مهني يقوم على التشارك والتضامن. 3. الحماية للعامل داخل العمل. (الحماية الاجتماعية، الاقتصادية، المهنية...) 4. تمتع العامل بجميع حقوقه المادية والمعنوية. 5. اعتبار العمل مظهر من مظاهر تحقيق العيش الكريم. 	<ol style="list-style-type: none"> 1. التقيد بالدوام. 2. تكريس وقت الدوام لأداء الوظائف والمسؤوليات التي عليه. 3. احترام القوانين واللوائح. 4. المحافظة على أدوات العمل. 5. التدريب المستمر، وامتلاك المهارات المهنية الجديدة.

الجودة والتنافسية

1. الاهتمام بجودة أداء العمل وفق معايير الدقة والإحكام، ليتحقق العمل بأعلى درجات الإتقان.
2. أداء العمل على أتم وجه وإنجازه على أفضل صورة، وإتمامه في أقل وقت وبأعلى قيمة.

الآثار الإيجابية للجودة:

- ♣ يعطي للاقتصاد الوطني القدرة التنافسية في الأسواق المحلية والدولية.
- ♣ الرفع من مستوى التصدير الكمي والنوعي.
- ♣ تنويع مصادر الثروة الوطنية حتى لا تبقى رهينة قطاع واحد أو قطاعين.
- ♣ تنمية الموارد المالية للدولة من العملة الصعبة.
- ♣ تحقيق التوازن في الموازنات المالية.
- ♣ الضغط على الأسعار في اتجاه التخفيض من مقاومة التضخم.
- ♣ الرفع من القدرة الشرائية للمواطن.
- ♣ تحقيق الرفاه الاجتماعي.

خامسا: الصور النمطية للعمل:

تعريف الصور النمطية	معنى الصور النمطية :
الصور النمطية: فنعني بها جملة الأفكار والأحكام المسبقة السلبية الشائعة عن العمل، أو بعض القطاعات داخله، التي تحط من بعضها البعض ، وترفع من شأن بعضها الآخر.	<ul style="list-style-type: none"> ♣ هي الصور التي نحملها عن شخص أو فئة أو قطاع. ♣ تتركز على أحكام مسبقة وقوالب جاهزة نضع فيها هذا الشخص أو الفئة أو القطاع. ♣ عادة ماتكون هذه الأحكام والأفكار سلبية، تقوم على نزعات التمييز بين الأشخاص، أو الفئات ، أو القطاعات، وتفضيل بعضها على بعض.

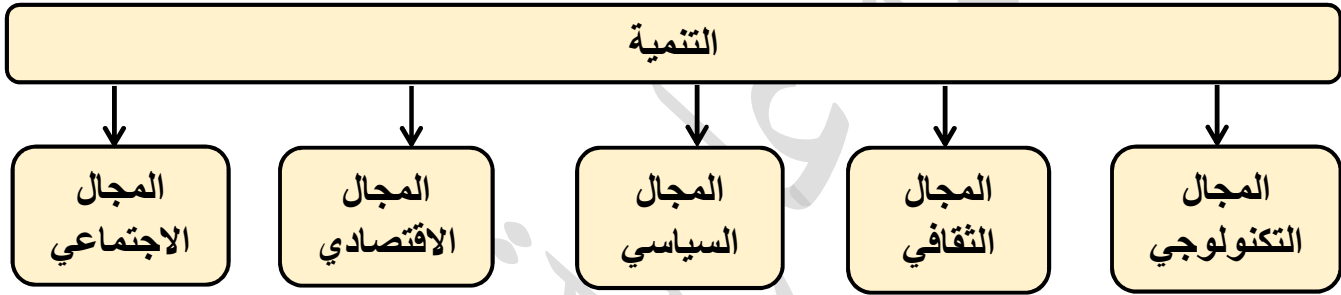
أكثر الصور النمطية للعمل انتشارا في مجتماعتنا:

- ♣ الترفع عن بعض المهن واحتقارها:
- الحرف
- الصناعات التقليدية (يعتبرها البعض مهن إلى ذوي التعليم المحدود).
- الوظائف الإدارية (تعبّر عن وجاهة اجتماعية)
- ♣ تفضيل العمل في القطاع الحكومي ، مجموعة من الامتيازات التي لا تتوفر في القطاعات الأخرى.
- الأمان الوظيفي.
- الترقيات الآلية.
- التدرج الوظيفي.
- مردود العامل أو الموظف.
- ♣ الفهم الخاطيء (لحق العمل) الذي ينص عليه الدستور ، كالتواكل في انتظار أن توفر الدولة هذا الحق. يضعف إرادة الشباب في المبادرة في إنشاء المشاريع الخاصة دعم لدور القطاع الخاص في التشغيل والتنمية.
- ♣ الآثار السلبية للصور النمطية للعمل:
- 1. نشر ثقافة الاعتماد على الدولة.
- 2. احتقار العمل من حيث هو قيمة للفرد والمجتمع.
- 3. إضعاف روح المبادرة والريادة عند الشباب.

التنمية (6)

الحق في التنمية ، قضية إنسانية ، يعمل كل أفراد وشعوب ودول العالم إلى التمتع به ، ومن واجبهم المشاركة والمساهمة في تحقيقه .
تبقى التنمية الهدف الأسمى الذي نعمل من أجله ، " هذا ما يؤكد عليه جلالة الملك حمد بن عيسى آل خليفة"
مثلت هذه التنمية جوهر مشروع الإصلاح والتحديث لجلالة الملك المفدى.

أولاً : مفهوم التنمية

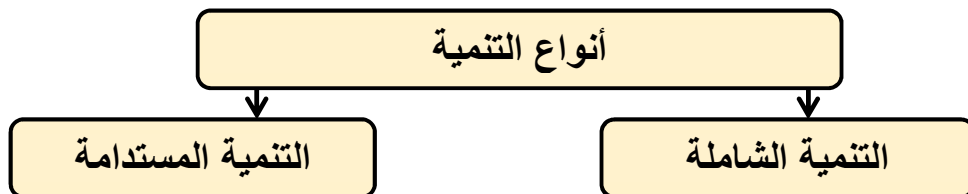


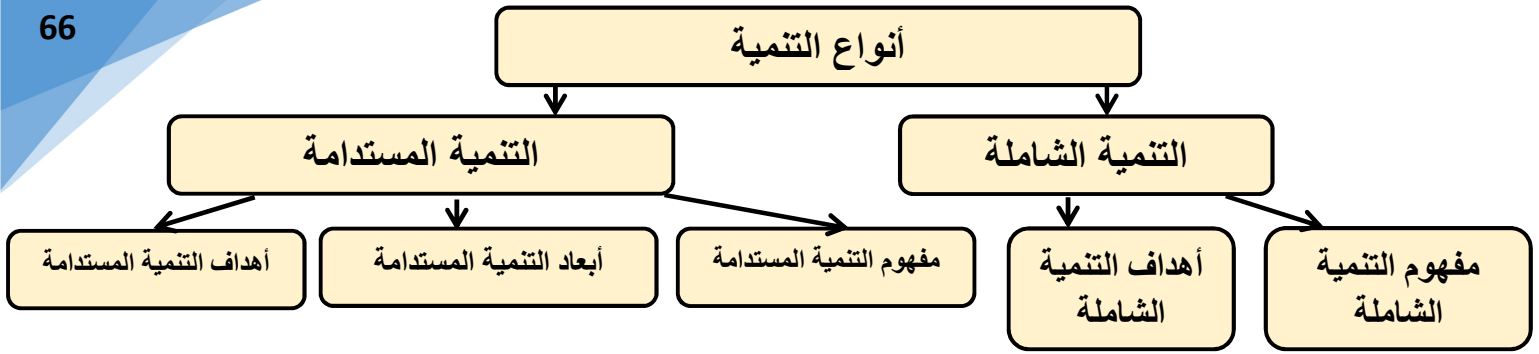
تعريف التنمية:

هي عملية تغيير ونقل للمجتمع نحو الأحسن، وترتكز على تحقيق الرقي والتقدم في مجالات الحياة الإنسانية، وتحقيقاً لاستقرار والرفاهية، وتلبية متطلبات الإنسان وفق احتياجاته وإمكانياته في مختلف المجالات الاجتماعية والاقتصادية والثقافية والسياسية.

تعريف هيئة الأمم المتحدة للتنمية : العمليات التي بمقتضاها توجه الجهود لكل من الأهالي والحكومة بتحسين الأحوال الاقتصادية والاجتماعية والثقافية في المجتمعات المحلية لمساعدتها على الاندماج في حياة الأمم والإسهام في تقدمها بأفضل ما يمكن.

ثانياً: أنواع التنمية





أنواع التنمية:

أولاً: التنمية الشاملة

أهداف التنمية الشاملة:	مفهوم التنمية الشاملة:
<ul style="list-style-type: none"> ■ تحقيق تنمية متوازنة في كل أبعادها. ■ تحقيق مستويات عالية من النمو الاقتصادي. ■ القضاء على الفقر والجهل والتخلف. ■ تحقيق العدالة الاجتماعية وتوفير فرص لجميع فئات المجتمع. ■ تحسين مستويات التعليم والصحة والرفاهية لكافة المواطنين. 	<p>وهي عملية التغيير والرقي والتقدم التي تشمل كل المجالات والقطاعات الاقتصادية والاجتماعية والثقافية والسياسية، كما تشمل كل أفراد المجتمع وفئاته.</p> <p>من الصعب تصور تنمية اقتصادية عندما لا يواكبها تطور إداري واجتماعي وثقافي وسياسي.</p>

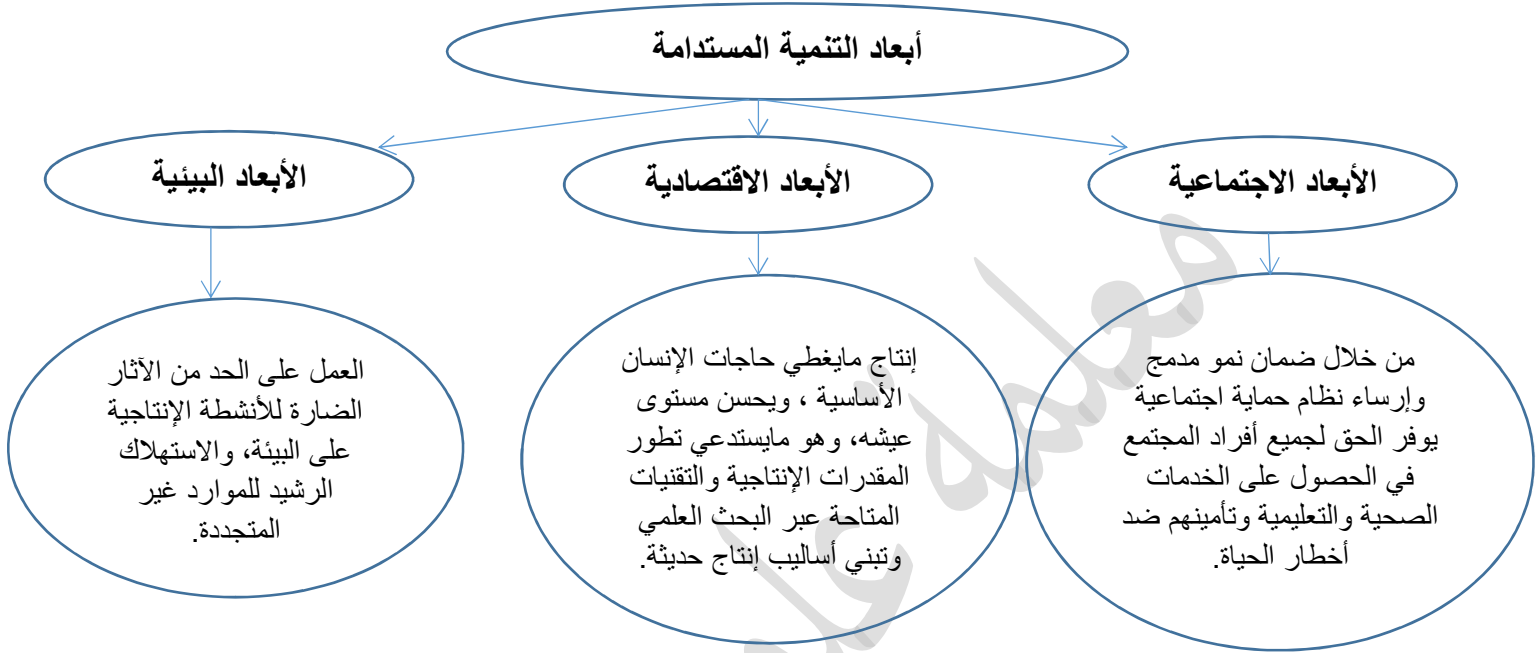
ثانياً: التنمية المستدامة

1) مفهوم التنمية المستدامة:

هي القدرة على توفير حاجيات الأجيال الحالية دونما إلحاق ضرر بحاجيات الأجيال المستقبلية. لا يقتصر على تحسين نوعية الحياة في جانبها الاقتصادي والمادي ، وإنما تشمل أيضا الإنسان بماله من حقوق متنوعة ومتعددة.

(2) أبعاد التنمية المستدامة:

تسعى التنمية المستدامة إلى التوفيق بين الأبعاد الثلاثة الاقتصادية والاجتماعية والبيئية.



(3) أهداف التنمية المستدامة:

تندرج أهداف التنمية المستدامة، في إطار التزام قادة دول العالم المنتمين إلى منظمة الأمم المتحدة برسم خطة جديدة طموحة للتنمية المستدامة من أجل أن ينعم سكان العالم بالرفاه والرخاء، وتعمل هذه الخطة التي أطلق عليها (تحويل عالمنا : خطة التنمية المستدامة 2030م) على تحقيق ثلاثة إنجازات كبرى :

- القضاء على الفقر
- محاربة عدم المساواة.
- إصلاح تغير المناخ.

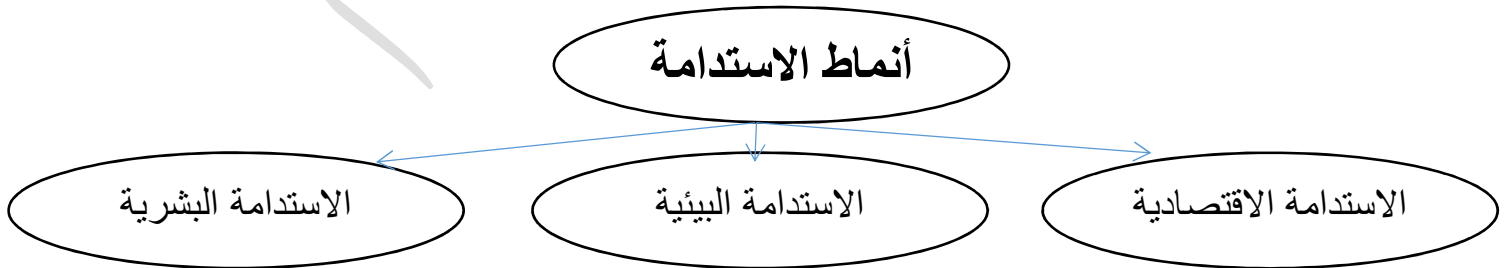
تتميز أهداف التنمية المستدامة بتوسع نطاقها، إذ تعالج العناصر المترابطة للتنمية المستدامة :

- النمو الاقتصادي.
- والإدماج الاجتماعي.
- حماية البيئة.

تتمثل الأهداف في :

- (1) القضاء على الفقر.
- (2) القضاء على الجوع.
- (3) الصحة الجيدة والرفاه.
- (4) ضمان التعليم الجيد.
- (5) تحقيق المساواة بين الجنسين.
- (6) ضمان توافر المياه وخدمات الصرف الصحي.
- (7) ضمان حصول على خدمات الطاقة الحديثة.
- (8) تعزيز النمو الاقتصادي والعمالة الكاملة.
- (9) إقامة بنى تحتية والتصنيع الشامل، وتشجيع الابتكار.
- (10) الحد من انعدام المساواة.
- (11) مدن ومستوطنات مستدامة.
- (12) الاستهلاك والإنتاج المسؤولان.
- (13) تغير المناخ.
- (14) حفظ المحيطات والبحار والموارد البحرية.
- (15) حماية النظم الإيكولوجية البرية.
- (16) السلام والعدل والمؤسسات.
- (17) تعزيز الشراكة العالمية.

4) أنماط التنمية المستدامة:



الاستدامة البشرية	الاستدامة البيئية	الاستدامة الاقتصادية
<p>- هي القدرة على تحقيق التوازن بين حاجات السكان من جهة وبين الموارد الطبيعية المتوفرة من جهة أخرى، من خلال ضمان حياة ومستوى معيشة أفضل للأجيال القادمة.</p>	<p>- وهي قدرة البيئة على مواصلة العمل بصورة سليمة.</p> <p>- الهدف من الاستدامة البيئية (الحد من التدهور البيئي) ولا يتحقق إلا من خلال دمج الاعتبارات البيئية في المخططات التنموية ، وفي شروط العمل وآلياته.</p>	<p>- تكفل استمرار الأنشطة الاقتصادية بالمجتمع وأداء الدور المنتظر منها.</p> <p>- يجب أن تكون سليمة من الناحية البيئية.</p> <p>- مثلا : التنمية الزراعية : تتصف بالاستدامة اذا كانت سليمة من الناحية البيئية ، وقابلة للتطبيق من الناحية الاقتصادية.</p> <p>- فهي تعالج قطاعات متعددة تشمل الزراعة و المياه والطاقة والصحة ... الخ فهي عادلة من الناحية الاجتماعية ومناسبة من الناحية الثقافية.</p>

مملكة البحرين والتنمية المستدامة

أهم نصوص وتشريعات حماية البيئة في مملكة البحرين:

- 1- الدستور.
- 2- ميثاق العمل الوطني.
- 3- قانون الثروة البحرية.
- 4- قانون البيئة: (مرسوم بقانون رقم 21 لسنة 1996م)
- 5- قانون الحياة الفطرية : (مرسوم بقانون رقم 2 لسنة 1995م)

مؤسسات وهيئات التنمية المستدامة

<p style="text-align: center;">لمجلس الأعلى للمرأة.</p>	<p style="text-align: center;">الهيئة الوطنية للمؤهلات وضمان جودة التعليم والتدريب.</p>	<p style="text-align: center;">المؤسسة الوطنية لحقوق الإنسان.</p>	<p style="text-align: center;">المجلس الأعلى للبيئة.</p>
<p>- إنشاء المجلس الأعلى للمرأة في 2001/8/22م، بموجب المرسوم الملكي رقم 44 لسنة 2001م.</p> <p>مهامه:</p> <ul style="list-style-type: none"> ● اقتراح السياسة العامة في مجال تنمية شؤون المرأة. ● تمكينها من أداء دورها في الحياة العامة. ● ووضع مشروع خطة وطنية للنهوض بها. ● حل المشكلات التي تواجهها. 	<p>- أنشئت الهيئة بموجب المرسوم الملكي رقم (32) لسنة 2008م.</p> <p>الهدف:</p> <ul style="list-style-type: none"> ● تحقيق نقلة نوعية وتحسين الخدمات المقدمة في قطاعي التعليم والتدريب المهني في مملكة البحرين. ● رفع الكفاءات المهنية. ● تحقيق التنمية البشرية لمواطني البحرين. 	<p>- نشأت بموجب الأمر الملكي رقم (46) لسنة 2009م.</p> <p>- ومن اختصاصاتها:</p> <ul style="list-style-type: none"> ● اقتراح الآليات والوسائل الخاصة لتعزيز وحماية حقوق الإنسان في مملكة البحرين. ● والعمل على نشر ثقافة حقوق الإنسان. 	<p>مهامه:</p> <ul style="list-style-type: none"> - مساعدة حكومة البحرين في حماية وإدارة بيئتها. - المحافظة على مواردها البحرية والطبيعية والحياة الفطرية. - تحقيق مختلف القطاعات التنموية والاقتصادية والسياسية والاجتماعية أهدافها بأفضل السبل. - المحافظة على البيئة ضمن أولوياتها وألا يقتصر ذلك على الحاضر فقط، بل أن يشمل المستقبل واحتياجات الأجيال القادمة.

نماذج من إنجازات مملكة البحرين في مجال التنمية المستدامة:

المجال الاجتماعي	مجال التعليم	مجال الصحة
<ul style="list-style-type: none"> - هو من أولويات جلالته الملك حمد بن عيسى آل خليفة. - لأنه يوفر للمواطن سبل العيش الكريم. - تأمين مستقبله. - كان التوجه نحو تطوير خدمات الرعاية والتنمية الاجتماعية. - الاهتمام بالأسر المحتاجة. - تطوير المجتمع المدني. - (النتائج) أن الميزانية المخصصة للأسر محدودة الدخل بلغت 105 مليون دينار في ميزانية 2014م. - حماية الطفولة والأمومة. - رعاية المسنين والإشاد الأسري. 	<ul style="list-style-type: none"> - رفع مستوى وجودة التدريس والتعليم. - تطوير أداء وزارة التربية والتعليم إتاحة فرص التعليم للجميع. - تشجيع الاستثمار في قطاع التعليم. - رفع مستوى التعليم العالي والبحث العلمي. <p>من نتائج هذه الاستراتيجية:</p> <ol style="list-style-type: none"> 1. مجانية وإلزامية التعليم في المرحلتين الابتدائية والإعدادية. 2. تراجع معدلات أمية الكبار. 	<ul style="list-style-type: none"> - بلغ عدد المراكز الصحية 27 مركزاً موزعة على كافة المحافظات 2014م. - (7) مستشفيات حكومية. - الهدف منها : ● الحفاظ على صحة السكان من خلال تعزيز الصحة والوقاية وتكامل الخدمات الصحية. ● توفير الصحة للجميع. ● تطوير جودتها والاستدامة في هذا التطوير من الأهداف الاستراتيجية لمملكة البحرين.

المواطن أمام التحديات الدولية (7)

يشهد الإنسان منذ نهاية القرن الماضي ثورة علمية وتكنولوجية أثرت في هذا العصر.

أولاً: التفاوت العلمي والتكنولوجي:

س1: ما هي مظاهر التفاوت العلمي و التكنولوجي؟

1. التباين العلمي والتكنولوجي الشاسع بين العالمين المتقدم والنامي، فالأول ينتج العلوم والتكنولوجيا والثاني مستهلك.
2. الفجوة الرقمية.

س2: عوامل التفاوت العلمي والتكنولوجي؟

1. التباين الملحوظ في مستوى التعليم المقدم.
2. مدى توافر الإمكانيات البشرية والمادية بين العالمين المتقدم والنامي.
3. الفجوة التنموية بين العالمين.

س3: نتيجة التفاوت العلمي والتكنولوجي؟

1. تنافر
2. تباعد
3. صراع بين الشعوب والحضارات مما يهدد السلم والاستقرار في العالم.

ثانياً: دور المواطن في مواجهة التفاوت؟

1. الوعي بأهمية سد الفجوة الرقمية بوصف ذلك ضرورة ملحة بل رهاناً يتحتم كسبه قبل أن تصل هذه الفجوة إلى مرحلة يستحيل معها التدارك.
2. اعتبار النفاذ إلى العلم والتكنولوجيا المتطورة حقاً للجميع ، وأحد أشكال الانتفاع من الديمقراطية.
3. عدم الاكتفاء باستهلاك الجاهز والمستورد، والإسهام في بناء إنتاج علمي وتكنولوجي .
4. الإدراك بأن تحقيق هذا الهدف يتطلب عملاً متواصلًا ومتدرجًا.
5. الاعتراف بالدور المركزي الذي يمكن أن يقوم به التعليم والتكوين في الإسهام في سد الفجوة القائمة ونشر الثقافة العلمية.
6. الإسهام في دفع الجهود الوطنية والدولية إلى تحقيق التنمية العادلة والمتوازنة.