

## المراجعة الشاملة للمواد الاجتماعية الاختبار الثالث



### تم تحميل هذا الملف من موقع مناهج مملكة البحرين

موقع المناهج ← مناهج مملكة البحرين ← الصف التاسع ← المواد الاجتماعية ← الفصل الأول ← ملفات متنوعة ← الملف

تاريخ إضافة الملف على موقع المناهج: 01:21:32 2025-12-25

ملفات اكتب للمعلم اكتب للطالب | اختبارات الكترونية | اختبارات | حلول | عروض بوربوينت | أوراق عمل  
منهج انجليزي | ملخصات وتقارير | مذكرات وبنوك | الامتحان النهائي | للمدرس

المزيد من مادة  
المواد  
الاجتماعية:

### التواصل الاجتماعي بحسب الصف التاسع



صفحة مناهج مملكة  
البحرين على  
فيسبوك

الرياضيات

اللغة الانجليزية

اللغة العربية

التربية الاسلامية

المواد على تلغرام

### المزيد من الملفات بحسب الصف التاسع والمادة المواد الاجتماعية في الفصل الأول

ملخص المواد الاجتماعية للاختبار النهائي الخاص بالفصل الأول

1

مراجعة الاختبار الثاني في المواد الاجتماعية

2

ملخص دروس الاختبار الثاني في المواد الاجتماعية

3

مراجعة المواد الاجتماعية للصف الثالث الإعدادي الاختبار الثاني

4

مذكرة ذهبية في مراجعة الاختبار الثاني في المواد الاجتماعية

5

## مذكرة المواد الاجتماعية للصف الثالث الإعدادي لنهاية الفصل الدراسي الأول ٢٠٢٥-٢٠٢٦ م

السؤال الأول: اجب عما يلي: من درس البحرين ( الموقع والمساحة )

- ١- أكبر جزر مملكة البحرين هي جزيرة **[ الام البحرين ]**.
- ٢- تقع البحرين بمنتصف المسافة بين **[ مضيق هرمز و مصب شط العرب ]**.
- ٣- تبعد البحرين حوالي ٢٢ كم عن الساحل **[ الشرقي ]** للمملكة العربية السعودية.
- ٤- تغير شكل سواحل البحرين واتسعت مساحتها بسبب **[ الردم المستمرة للأرصفت والشعاب المرجانية القريبة من السواحل ]**.
- ٥- افتتح جسر **[ الملك فهد ]** عام **[ ١٩٨٦ ]** الذي يربط البحرين بالسعودية مروراً بجزيرة **[ أم النعسان ]** ويبلغ طوله **[ ٢٥ كم ]**.
- ٦- الموقع الفلكي للبحرين بين دائرتي عرض **[ ٢٥-٢٧ ]** شمال خط الاستواء وبين خطي طول **[ ٥٠-٥١ ]** شرق خط غرينتش.
- ٧- علل : إنشاء نظام المحافظات في مملكة البحرين .

( أ ) دعم كفاءة الحكم لمحلي في تطبيق خطط التنمية والخدمات الاجتماعية والثقافية.  
( ب ) الحفاظ على الأمن والنظام العام.  
( ج ) تدعيم الأنشطة الاجتماعية وتفعيلها.

٨- وضح أهمية الموقع الجغرافي لدولة البحرين قديماً وحديثاً.

- ( أ ) تتوسط البحرين حوض الخليج العربي الذي كان يشكل ممراً مائياً مهماً.  
( ب ) تصل البحرين بين أقاليم العالم الكبرى وهما شرق آسيا وغرب أوروبا.  
( ج ) احتلت البحرين مركزاً استراتيجياً يمثل همزة وصل بالعالم الخارجي، إذ تقع عبر طريق حيوي هو أحد أهم طرق التجارة الرئيسية.

٩- ما الدور الذي كانت تقوم به الأرصفة والشعاب المرجانية حول سواحل البحرين ؟

- ( أ ) تمثل حماية طبيعية من أخطار الأمواج والتيارات البحرية.  
( ب ) تهئ قوام بيئة بحرية غنية بالثروة السمكية.

السؤال الأول: اجب عما يلي من درس البحرين ( مظاهر السطح )

- ١- ظهرت قبة البحرين فوق مياه البحر بسبب **[ اصطدام الكتلة العربية بالكتلة الآسيوية الأوروبية ]** بالزمن **[ الثالث ]**.
- ٢- تركّز سكان البحرين منذ القدم في السهل **[ الشمالي ]**.
- ٣- تشكل المنخفض الداخلي وتبددت بعض أجزاء المرتفعة كجبل الدخان بسبب **[ عوامل التعرية ]**.
- ٤- كانت مياه البحر تغمر سواحل البحرين حيناً وتنحسر عنها أحياناً أخرى بسبب **[ التغيرات المناخية ]**.
- ٥- تتميز الأطراف الجنوبية للساحلين الشرقي والغربي ( منطقة رأس البر ) في مملكة البحرين بكثرة **[ السبخات ]**.
- ٦- انكشفت معظم أراضي البحرين بالزمن الجيولوجي **[ الثالث ]**.
- ٧- ارتفعت نسبة الملوحة في المياه الجوفية بالبحرين في الزمن الجيولوجي الرابع بسبب **[ تسرب مياه البحر للطبقات الجوفية ]**.
- ٨- علل : تركّز الإنسان منذ القدم في السهل الشمالي من الأراضي المنخفضة الساحلية (( شمال جزيرة البحرين )) .
- ( أ ) وجود مساحات واسعة من التربة الصالحة للزراعة .  
( ب ) انتشار العيون المائية فيها .

٩- ما مظاهر السطح في البحرين؟

الخصائص	الموقع	مظاهر السطح
بيضاوي الشكل يحيط به جدار صخري يتكون من جزئين هما: كتلة تل ( جبل الدخان ) ومنخفض ( الشبك والغينة )	يقع في قلب البحرين	المنخفض الداخلي ( الحوض الداخلي )
ينحدر من أعالي الجدار الصخري للأطراف الساحلية، تقطعه ممرات ( وادي بوري ) و ( وادي الزلاق ) .	تحيط بالمنخفض الداخلي	المنحدرات
يمتاز الشريط السهلي الساحلي الشرقي والغربي: بكثافة الرمال وارتفاع نسبة الملوحة وتكثر السبخات ويمتاز السهل الشمالي: بوجود مساحات واسعة من التربة الصالحة للزراعة وانتشار العيون المائية فيها.	تحيط بالمنحدرات وتمتد الى الساحل	الأراضي المنخفضة

## السؤال الأول: اجب عما يلي من درس البحرين ( المناخ )

- ١- المناخ الذي يسود البحرين هو **[ الصحراوي ]**.
- ٢- ترتفع الحرارة في البحرين صيفاً في الفترة من **[ مايو إلى أكتوبر ]** وتعتدل الحرارة شتاءً في الفترة من **[ نوفمبر إلى أبريل ]**.
- ٣- أدت مظاهر المدنية الحديثة وأسلوب تعامل الإنسان مع البيئة في مملكة البحرين إلى ارتفاع **[ درجة الحرارة ]**.
- ٤- **علل :** تعتبر البحرين منطقة نموذجية بالنسبة لاحتمال استغلال الطاقة الشمسية كطاقة مستقبلية بديلة للنفط .

بسبب ( أ ) تعرض البحرين لمدة إشماس طويلة خصوصاً بالصيف . ( ب ) طول ساعات النهار . ( ج ) صفاء السماء .

٥- **علل :** ارتفاع درجة الحرارة في البحرين صيفاً في الفترة من مايو حتى أكتوبر .

بسبب تعامد أشعة الشمس على المنطقة الواقعة بين الاستواء ومدار السرطان قريباً من البحرين .

٦- **علل :** اعتدال درجة الحرارة في البحرين شتاءً في الفترة من نوفمبر حتى أبريل .

بسبب وصول أشعة الشمس للبحرين بشكل مائل حيث تكون عمودية على المنطقة الواقعة بين الاستواء ومدار الجدي.

٧- **علل :** ارتفاع درجة الحرارة في مدن مملكة البحرين في الوقت الحاضر .

بسبب ( أ ) مظاهر المدنية الحديثة . ( ب ) أسلوب تعامل الإنسان مع البيئة .  
من أمثلة ذلك ( سفلة الشوارع - الحوائط الإسمنتية - مكيفات المنازل - الغازات المنبعثة من المصانع والسيارات ) .

٨- **علل :** قلة سطوع الشمس خلال الشتاء

( أ ) تشكل الضباب وارتفاع نسبة الغيوم التي تحجب الشمس . ( ب ) قصر ساعات النهار .

٩- **علل :** ارتفاع ساعات سطوع الشمس خلال الصيف

بسبب ( أ ) صفاء السماء معظم شهور الصيف ( ب ) طول ساعات النهار .

١٠- **علل :** ترتفع نسبة الرطوبة طوال السنة صيفاً وشتاءً في البحرين ؟

لان البحرين أرخبيل ( مجموعة جزر ) يحيطها مياه البحر من جميع الجهات.

١١- **قارن** بين أنواع الرياح التي تهب على البحرين في فصلي الصيف والشتاء وخصائصها .

الفصل	أسم الرياح	خصائصها ( أثرها على المناخ )
الصيف	رياح البارج الشمالية	محملة بالغبار والأتربة (بسبب قلة الأمطار وعدم تماسك التربة ) .
	رياح الكوس الجنوبية الشرقية	حارة و رطبة ( بسبب مرورها بمياه الخليج ) .
الشتاء	رياح شمالية غربية (متوسطة)	دافئة ورطبة ( تساقط الأمطار قليلة )
	رياح شمالية غربية ( قطبية )	باردة وجافة

## السؤال الأول: اجب عما يلي: من درس البحرين ( المياه )

- ١- تعتبر المياه الجوفية في البحرين محدودة جداً بسبب **[ قلة الأمطار + ارتفاع معدلات التبخر ]**.
- ٢- الطبقة الرئيسية التي تعتمد عليها البحرين في الحصول على المياه للمنازل هي طبقة **[ الخبر ]**.
- ٣- أكبر القطاعات المستهلكة للمياه هو **[ القطاع منزلي ]**.
- ٤- تقع محطة معالجة مياه الصرف الصحي التي أنشأتها البحرين في منطقة **[ توبلى ]**.

٥- **علل :** العجز في الميزان المائي لطبقتي العلات والخبر في البحرين ؟ أي خطر النضوب ( النفاد ) ؟

( أ ) النمو السكاني والاقتصادي ( ب ) تغير نمط الحياة ( ج ) كميات المياه المستخرجة منهما أكثر من كمية التغذية الواردة إليهما

## ٦- علل : ارتفاع نسبة الملوحة في المياه الجوفية للبحرين ؟

بسبب الاستغلال المكثف للمياه الجوفية مما أدى إلى انخفاض منسوبها فتغلغلت مياه البحر ومياه أم الرضمة المالحة إليها.

## ٧- ما الإجراءات التي اتخذتها البحرين لتنمية مواردها المائية ؟

- (أ) توعية المواطنين وترشيد الاستهلاك  
(ب) زيادة الإنتاجية من المياه غير تقليدية (محطات التحلية).  
(ج) اعتماد طرق الري الحديثة.  
(د) وضعت برامج وتشريعات لضبط وتقنين استخدام المياه.  
(هـ) انتقاء أنواع من النباتات والأشجار لا تحتاج إلى كميات كبيرة من المياه .

## ٨- ما هو دورك كمواطن للمحافظة على الثروة المائية؟

- (أ) ترشيد الاستهلاك وعدم هدر المياه  
(ب) استخدام الطرق المثلى في استهلاك المياه

## ٩- قارن بين طبقات المياه الجوفية في البحرين من حيث نوعية مياهها ومميزاتها ومجال الاستخدام.

الطبقات الجوفية	نوعية مياهها	كميتها ومجال الاستخدام
العلات	مقبولة	كمياتها محدودة وتستخدم للزراعة
الخبر	جيدة	هي الرئيسية التي تعتمد عليها البحرين في الحصول على المياه للاستخدام المنزلي
الروس - أم الرضمة	مالحة	كمياتها كبيرة ولا تصلح للاستخدام إلا بعد التحلية أو استخدامها للأغراض الصناعية

## السؤال الأول: اجب عما يلي: من درس البحرين ( النفط والغاز الطبيعي )

- ١- اكتشف النفط في البحرين عام [ ١٩٣٢ م ] من حق [ البحرين البري ].
- ٢- يستخرج أكثر الغاز الطبيعي المستقل عن النفط في البحرين من طبقة [ الخف ].
- ٣- مصدر الطاقة المستخدم في معظم محطات توليد الكهرباء هو [ الغاز الطبيعي ].
- ٤- تقع مسؤولية الإشراف على الثروة النفطية وتنميتها في مملكة البحرين على [ المجلس الأعلى للنفط ].
- ٥- المحطة الوحيدة التي تستخدم الديزل في توليد الكهرباء هي [ محطة المحرق ].
- ٦- القطاع الذي يستهلك معظم الطاقة الكهربائية هو [ القطاع المنزلي ].
- ٧- تستخرج مملكة البحرين والسعودية النفط من حقل [ أبو سعة البحري ].
- ٨- انضمت البحرين في العام ١٩٧٠م إلى منظمة [ الأوبك ].
- ٩- يتم استخراج الغاز الطبيعي من حقل البحرين إما [ مصاحباً للنفط ] أو [ مستقلاً عن النفط ].
- ١٠- عدد الإجراءات التي تقوم بها البحرين لتدارك نفاذ احتياطها من النفط والغاز الطبيعي .

- (أ) البحث عن آبار جديدة. (ب) تشجيع الأبحاث العلمية حول الطاقة الشمسية كبديل للنفط. (ج) توعية المواطن في استهلاك الكهرباء.

## ١١- بين أهمية دور المواطن في المحافظة على الطاقة؟

استخدام الطرق المثلى في استهلاك الطاقة. (مثل اختيار أجهزة ومصابيح موفرة للطاقة وعدم تشغيلها دون الحاجة لها).

## ١٢- فسر ارتفاع الطلب على الطاقة الكهربائية واستهلاكها في مملكة البحرين ؟

بسبب النمو السكاني والاقتصادي والعمراني

## ١٣- ماذا فعلت البحرين لامتلاك ثروتها النفطية والإشراف عليها ؟

- (أ) أنشأت المجلس الأعلى للنفط ليشراف على الثروة النفطية.  
(ب) انضمت إلى منظمة ( الأوبك ) عام ١٩٧٠م  
(ج) ساهمت في رؤوس أموال العديد من الشركات التابعة لها.  
(د) أنشأت عدداً من المؤسسات والشركات كشركة نفط البحرين الوطنية ( بابكو ) وشركة غاز البحرين ( بناغاز ) .

## السؤال الأول: اجب عما يلي: من درس البحرين ( الخصائص السكانية )

- ١- الكثافة السكانية في البحرين مرتفعة بسبب [ صغر مساحتها بالنسبة لعدد السكان المتزايد ].
- ٢- أكثر مناطق البحرين في الكثافة السكانية هي [ محافظة العاصمة ] وأدناها هي [ المحافظة الجنوبية ].
- ٣- ارتفاع الزيادة الطبيعية للسكان في البحرين بسبب [ ارتفاع نسبة الولادات و انخفاض نسبة الوفيات ].
- ٤- علل : ارتفاع معدل النمو السكاني في البحرين؟

بسبب (أ) ارتفاع معدل الزيادة الطبيعية ( للبحرينيين ). (ب) الهجرة الوافدة للبلاد ( من غير البحرينيين ).

- ٥- ما أهم العوامل التي جعلت البحرين مركزاً للهجرة البشرية وارتفاع النمو السكاني في العشرية الأخيرة؟
- بسبب الازدهار الاقتصادي الذي حققته البحرين. ( مما جعلها منطقة جذب للعمالة ولعدد من الكفاءات وأصحاب المؤسسات )

- ٦- علل : شهدت البحرين حركة انتقال سكاني داخل مناطقها مؤخراً حيث انخفض التركيز السكاني في العاصمة؟

(أ) الاكتظاظ السكاني. (ب) منح القروض الميسرة. (ج) إنشاء مشاريع إسكانية جديدة مثل مدينة عيسى ومدينة حمد ومدينة زايد.

- ٧- اذكر بالجدول التالي التحولات التي شهدتها سكان البحرين بين سنتي ١٩٧١-٢٠١٤ م وانعكاسات (نتائج) تلك التحولات؟

التحولات الاجتماعية بين عامي ( ١٩٧١-٢٠١٤ ) م	انعكاسات ( نتائج ) تلك التحولات
(١) التأخر في سن الزواج. (٢) تدني نسبة المترملين بسبب قلة الوفيات للتقدم الصحي. (٣) تدني نسبة الطلاق نتيجة للوعي والتقارب الفكري والثقافي. (٤) انحراط المرأة البحرينية في النشاط الاقتصادي.	(١) تدني نسبة الزيادة الطبيعية ( انخفاض الخصوبة والولادات ). (٢) انخفاض حجم الأسرة البحرينية ( يبلغ معدلها حوالي ٦ أفراد ). (٣) انخفاض نسبة الاطفال وتزايد نسبة القادرين على العمل والانتاج. (٤) ارتفاع إسهام المرأة في العمل والنشاط الاقتصادي. (٥) ارتفاع عدد العاملين البحرينيين وانخفاض نسبة البطالة.

## ثالثاً: أسئلة في دروس التنمية البشرية ( الصحة )

- ١- قارن بين إنجازات البحرين ف مجال الصحة؟

المجال	إنجازات مملكة البحرين
الرعاية الوقائية	(١) مراقبة الأغذية والمياه. (٢) نشر الوعي الصحي. (٣) مكافحة الأمراض المعدية. (٤) تأمين لقاحات الأطفال.
الرعاية العلاجية	(١) حوّلت السلمانية إلى مجمع طبي بعد توسيعه وتجهيزه بأحدث الأجهزة. (٢) إنشاء مستشفيات متخصصة في مجال الولادة والطب النفسي والعجزة. (٣) السماح بعمل المستشفيات الخاصة.
الرعاية الأولية	(١) إنشاء المراكز الصحية ونشرها في جميع مناطق البحرين. (٢) تزويد المراكز الصحية بالمعدات وأخصائيين وفنيين.
توفير الجهاز البشري الطبي	(١) استقدام أطباء وأخصائيين في مختلف المجالات الطبية من الخارج. (٢) إرسال كوادرها الطبية للتخصص في الخارج. (٣) إنشاء كلية العلوم الصحية لتخريج ممرضين.

- ٢- اذكر نتائج اهتمام مملكة البحرين بالصحة.

(أ) ارتفاع متوسط عمر الإنسان . (ب) انخفاض نسبة الوفيات. (ج) القضاء على الكثير من الأمراض.  
 (د) ارتفاع نسبة الأطفال المحصنين. (هـ) انخفاض عدد الأشخاص بالنسبة للطبيب الواحد.

- ٣- ما اسم الجهة الحكومية التي تشرف على مجال الصحة في البحرين؟

وزارة الصحة



## السؤال الأول: اجب عما يلي من درس ( التعليم )

١- اذكر نتائج اهتمام مملكة البحرين بالتعليم؟

- (أ) انخفاض نسبة الأمية  
(ب) ارتفاع نصيب الطالب الواحد من المصاريف التعليمية  
(ج) نالت البحرين المرتبة الأولى عربياً في مجال توفير التعليم للجميع  
(د) ارتفاع عدد المدرسين والطلاب وحاملي الشهادات العليا

٢- ما الخدمات التي قدمتها حكومة البحرين لتكوين مجتمع متعلما منتجا؟

- (أ) وضع الخطط التربوية لرفع المستوى التعليمي.  
(ب) جعل التعليم الأساسي إلزامياً ومجانياً في جميع مراحله.  
(ج) زادت عدد المدارس للجنسين.  
(د) جهزت المدارس بالمختبرات والمكتبات والملاعب والصالات

٣- وضّح الإجراءات التي اتخذتها حكومة البحرين منذ أوائل الثمانينات لجعل التعليم استثمارياً؟

- (أ) الاهتمام بنوعية التعليم  
(ب) الاهتمام ببنية التعليم  
(ج) وضع الخطط التربوية الحديثة  
(د) تحديث المناهج الدراسية وتطويرها  
(و) تطبيق نظام توحيد المسارات الأكاديمية في الثانوية

٤- بين اهتمام حكومة البحرين بالتعليم العالي؟

- (أ) إنشاء جامعة البحرين  
(ب) إنشاء كلية العلوم الصحية  
(ج) عضويتها ضمن جامعة الخليج العربي  
(د) إنشاء معهد البحرين للتدريب  
(هـ) أضافت كلية البوليتكنيك  
(و) تقديم منح وبعثات دراسية الى الخارج

٥- بين اهتمام حكومة البحرين بالتعليم النظامي لمحو الأمية وتعليم الكبار؟

- إنشاء مراكز متخصصة بنشر التعليم وخفض نسبة الأمية بين الكبار.

## السؤال الثاني: اجب عما يلي من درس ( الإسكان )

١- تقع مسئولية تقديم الخدمات الإسكانية في مملكة البحرين على وزارة: [ الإسكان ].

٢- تقدم حكومة البحرين ثلاثة أنواع للقروض الإسكانية هي: [ بناء مسكن خاص / ترميم مسكن قائم / شراء مسكن ].

٣- بلغت نسبة الأسرى البحرينية التي استفادت من خدمات الإسكان المتنوعة أكثر من: [ ٦٦ % ].

٤- ما انعكاس تنفيذ المشاريع الإسكانية على المجتمع في البحرين؟

- (أ) تدني نسبة الاسر الممتدة.  
(ب) توفير العديد من المساكن لكثير من الاسر الجديدة.

٥- علل: ضرورة التوسع في المشاريع الإسكانية بالبحرين؟

- (أ) النمو السكاني الذي تشهده البلاد.  
(ب) الكثافة السكانية المرتفعة وخصوصاً في المنامة والمحرق.

٦- علل: ارتفاع نسبة البناءات العمودية في مملكة البحرين؟

- اتجاه مملكة البحرين نحو الحفاظ على احتياطي الاراضي السكنية للمستقبل

٧- بين التسهيلات التي تقدمها مملكة البحرين ( وزارة الإسكان ) في مجال الإسكان للأسرة البحرينية؟

- (أ) قروض ميسرة  
(ب) توزيع الأراضي السكنية  
(ج) توزيع الشقق والبيوت كهبات ملكية

٨- اذكر أهم المشاريع الإسكانية التي تم تنفيذها في مملكة البحرين.

- (أ) إنشاء المدن الحديثة المتكاملة مثل مدينة عيسى ومدينة حمد ومدينة زايد.  
(ب) إنشاء المجمعات السكنية في المدن والقرى مثل: عالي والجسرة وعسكر ودمستان و .....

**السؤال الرابع: اجب عما يلي من درس ( التنمية الاقتصادية )**

- ١- تعتمد التنمية الاقتصادية والنشاط الاقتصادي بشكل أساسي على: [ **النفط** ].
- ٢- من أجل نجاح الخطط والبرامج التنموية الاقتصادية في البحرين وفرت: [ **البنية التحتية** ].
- ٣- من القطاعات الاقتصادية التي ارتفعت في المساهمة في الناتج المحلي البحريني: [ **الخدمات** ].
- ٤- علل : تميز الاقتصاد البحريني بالتوازن بين مختلف قطاعاته وتنوعه ؟

أ ( التنمية الاقتصادية .  
ب) سياسة الحرية الاقتصادية

٥- علل : إتباع حكومة البحرين سياسة التنوع في مصادر الدخل؟

بسبب إدراك حكومة البحرين لخطر نضوب ( نفاذ ) النفط .

٦- عدّد التدابير التي اتخذتها البحرين على صعيد البنية التحتية لإنجاح خططها التنموية؟

- أ) أنشأت المناطق الصناعية  
ب) مدّت شبكات المياه والكهرباء والمجاري لمختلف المناطق  
ج) طورت شبكة المواصلات والاتصالات.  
د) طورت شبكة المواصلات البرية والجوية والبحرية.

٧- بما تمثلت سياسة الحرية الاقتصادية التي تتبعها مملكة البحرين والتي أدت إلى جذب المستثمرين؟

- أ) إعطاء المستثمرين الحرية في إدخال رؤوس الأموال وإخراجها  
ب) إعفاء الشركات من الضرائب لمدة معينة  
ج) السماح للأجانب بامتلاك جميع أسهم الشركات  
د) تقديم التسهيلات للشركات في الدوائر الحكومية

٨- اشرح باختصار أبرز نتيجة للتنمية الاقتصادية والحرية الاقتصادية التي اتبعتها مملكة البحرين؟

- ١) توسع قاعدة الاقتصاد البحريني وتنوعه.  
٢) اتسم الناتج المحلي الإجمالي بشبه توازن بين مختلف قطاعاته.  
٢) انخفضت نسبة اسهام القطاع النفطي مقابل ارتفاع نسبة اسهام القطاعات الاقتصادية الأخرى.

**السؤال الثالث: اجب عما يلي من درس ( القطاع الزراعي ، الحيواني ، وصيد الأسماك )**

- ١- تتحصر أراضي الصالحة للزراعة بالبحرين بشريط يمتد من [ **المنامة شمالاً** ] حتى [ **الزقاق غرباً** ].
- ٢- استفادت البحرين في ري الأراضي الزراعية من المياه المعالجة في محطة [ **توبلي** ].
- ٣- تستورد مملكة البحرين الأسماك في فصل الشتاء من دولتي [ **الإمارات وعمان** ].
- ٤- علل : محدودية الأراضي الصالحة للزراعة في البحرين؟

أ ( قلة مياه الري  
ب) ملوحة التربة  
ج) افتقارها للمواد العضوية .

٥- وضّح جهود مملكة البحرين لتطوير قطاعها الزراعي؟

- أ) تقديم القروض ومستلزمات الإنتاج.  
ب) إجراء البحوث الميدانية لإدخال البذور المحسّنة.  
ج) تقديم الخدمات الإرشادية.  
د) توفير خدمات الوقاية الزراعية.  
هـ) إنشاء مشاريع نموذجية. (مثل مشروع هورة عالي والبحير و عذاري وبوري لإنتاج الأعلاف والفواكه)  
و) زيادة مساحة الأراضي الزراعية. ( من خلال إنشاء شبكة تصريف للمياه للتخلص من ملوحة التربة ومعالجة مياه المجاري للري)

٦- علل : لا تزال تربية الحيوانات ( المواشي ) في مملكة البحرين محدودة وضعيفة الإنتاج ؟

- أ ( ارتفاع نسبة تكاليف الإنتاج  
ب) عدم وجود مراعي طبيعية  
ج) تربية مواشي بطرق تقليدية تنتمي إلى سلالات ضعيفة الإنتاجية  
د) عزوف السكان عن العمل في هذا القطاع وتوجههم الى قطاعات كالصناعة والخدمات

٧ - وضّح جهود مملكة البحرين لتطوير قطاعها الحيواني؟

- أ) تقديم القروض ومستلزمات الإنتاج.  
ب) تقديم الخدمات الإرشادية.  
ج) توفير خدمات الرعاية البيطرية  
د) إدخال السلالات الحيوانية العالية الإنتاج.  
هـ) إنشاء مشاريع نموذجية (مثل مشروع الهمة لتربية الأغنام والماعز)

## ٨- اذكر جهود مملكة البحرين لتطوير قطاعها السمكي .

- (أ) طورت بعض الموانئ كفرصتي سترة والمحرق والحد  
(ب) قدّمت الإعانات المادية ومستلزمات الصيد للصيادين  
(ج) قدمت القروض الميسرة (د) أسست مشروع رأس حيان لتربية الأحياء البحرية  
(هـ) نظمت دورات تدريبية للصيادين

## ٩: كيف يمكن زيادة الإنتاج السمكي في مملكة البحرين؟

- (أ) تحديث معدات وسفن الصيد (ب) مكافحة التلوث النفطي (ج) الحد من الحفر والردم البحري (و) زيادة المشاريع النموذجية  
(د) التنسيق بين دول مجلس التعاون (ي) زيادة عدد الموانئ وتطويرها (هـ) زيادة تدريب الصيادين وزيادة القروض الميسرة

## ١٠- قارن بين المشاريع النموذجية الزراعية والحيوانية والسمكية التي أنشأتها البحرين بالجدول التالي ؟

القطاع	المشاريع النموذجية	انتاجها / الغرض منها
الزراعي	مشروع هورة عالي والبحير مشروع عذاري ومنطقة بوري	لإنتاج الأعلاف والفواكه
الحيواني	مشروع الهمله	لتربية الأغنام والماعز
السمكي	مشروع رأس حيان	لتربية الأحياء البحرية / وإجراء البحوث العلمية

## السؤال الخامس: اجب عما يلي من درس ( واقع الصناعة في البحرين )

## ١- علل: اعتماد البحرين على النفط والغاز الطبيعي كركيزة أساسية لبناء اقتصادها الحديث؟

- (أ) مصدر تمويل لإقامة مشروعات اقتصادية وصناعية (ب) مصدر رئيسي لتوليد الطاقة

## ٢- علل : إنشاء الصناعات التصديرية المتنوعة في مملكة البحرين .

- (أ) توافر النفط والغاز كمصدرين رئيسيين في توليد الطاقة (ب) ضيق السوق المحلية (ج) توافر رؤوس الأموال الضخمة

## ٣- اشرح الجهود التي قامت بها حكومة البحرين الحوافز التي قدمتها لتنمية القطاع الصناعي؟

- (أ) أنشأت المناطق الصناعية (ب) أعفت المصانع من الضرائب (ج) سمحت للأجانب بإنشاء مؤسسات صناعية  
(د) قدمت القروض (هـ) أعطت الأفضلية للمنتج الوطني (و) توفير الأراضي بأجر رمزي لأصحاب المشاريع  
(ز) أصدرت قوانين لحماية الصناعات الوطنية مثل ( فرض جمارك على السلع المستوردة + إعفاء الآلات والمواد الأولية من الجمارك )

## ٤- ما النتائج المترتبة على الحوافز التي قدمتها حكومة البحرين لتنمية القطاع الصناعي؟

- (أ) تنويع القاعدة الإنتاجية للاقتصاد الوطني (ب) توفير فرص عمل للمواطنين (ج) زيادة الاستثمار المحلي والأجنبي في القطاع الصناعي

## ٥- قارن بين الصناعات التصديرية وصناعة إحلال الواردات في مملكة البحرين ؟

النوع	الأمثلة	المميزات	الصعوبات – المشكلات
صناعات تصديرية	تكرير النفط / بتروكيماويات تسييل الغاز الطبيعي الالمونيوم / كريات الحديد بناء السفن واصلاحها	١- ضخامة رؤوس الأموال ٢- تشغيل قوى عاملة كبيرة ٣- تشترك الحكومة في ملكيتها ٤- وفرة الإنتاج	١- المنافسة الشديدة ٢- البعد عن الأسواق المستهلكة ٣- تقلبات الأسعار في الأسواق العالمية ٤- التكاليف المرتفعة للمواد الأولية المستوردة
صناعة إحلال الواردات	مواد غذائية / ورق / اثاث مشروبات غازية / الزجاج مياه معدنية / مواد بناء منتجات الاخشاب / النسيج	١- صغر رؤوس الأموال ٢- قلة القوى العاملة ٣- ملكيتها الخاصة (افراد) ٤ صغر حجم إنتاجها	١- الاعتماد على الخارج في تأمين المواد الأولية ٢- قلة تنوعها في السوق الداخلية ٣- التنافس بين منتجاتها بالسوق الداخلية ٤- منافسة الصناعة المستوردة المماثلة



**السؤال السادس: اجب عما يلي من درس ( طرق المواصلات والاتصالات )**

- ١- كانت البحرين قديماً تعتمد في تجارتها على ميناء [ **المنامة** ] .
- ٢- أنشئت البحرين ميناء سترة لتصدير [ **النفط** ] .
- ٣- شركة طيران التي تمتلكها مملكة البحرين هي [ **طيران الخليج** ] .
- ٤- أنشئت البحرين ميناء ألبا لاستيراد [ **الأمونيا** ] وتصدير [ **منتجات الألمنيوم** ] .
- ٥- الطرق السريعة هي: [ **الطرق التي تربط بين المدن أو تحيط بها** ] مثل ( شارع الشيخ عيسى بن سلمان وشارع الملك فيصل ) .
- ٥- الطرق الداخلية الفرعية الخدمية هي: [ **الطرق المتفرعة من الشوارع إلى داخل الأحياء السكنية والتجارية** ] .
- ٦- الطرق الداخلية الرئيسية هي: [ **طرق تحيط بأحياء سكنية وتجارية، وتربط بين أجزاء المدن الداخلية بشكل دائري تقطعه الشوارع الإشعاعية** ] .
- ٧- وضح جهود مملكة البحرين في تطوير المواصلات البرية والبحرية والجوية والاتصالات السلكية واللاسلكية؟

القطاع	جهود مملكة البحرين ( التطورات )
المواصلات البرية	أنشأت شبكة من الطرق البرية المتطورة والتمتيزة بمواصفاتها العالية وتضم هذه الشبكة مجموعتين من الطرق هي: (١) <b>الجسور</b> : التي تربط الجزيرة الام بالجزر المجاورة وكذلك تربط البحرين بالسعودية (٢) <b>مجموعة الطرق الداخلية</b> : التي تتألف من ٣ أقسام وهي ( الطرق الداخلية الفرعية (الخدمية) - الطرق الداخلية الرئيسية - الطرق السريعة )
المواصلات البحرية	(أ) بناء ميناء سلمان عام ١٩٥٨م (ب) تطوير ميناء سلمان من حيث التوسيع والتجهيز (ج) ركزت محطات الحاويات في ميناء سلمان (د) تأهيل العاملين في الملاحة وفنون إدارة الموانئ (هـ) إقامة منطقة صناعية حرة حول ميناء سلمان وأنشئت فيها مصانع عديدة لشركات اجنبية (و) انشاء موانئ أخرى مثل ميناء سترة، وميناء ألبا، وميناء خليفة بن سلمان
المواصلات الجوية	(أ) كان مطار البحرين محطة عبور ( اذ كانت نسبة الركاب المارين عبره ٩٠٪ ) (ب) زادت أهمية المطار بعد النهضة الاقتصادية حيث ارتفعت نسبة القادمين والمغادرين (ب) تم توسيع المطار وتجهيزه حديثاً ليوكب التطور (ج) تمتلك البحرين شركة طيران الخليج
الاتصالات السلكية واللاسلكية	( أ ) تعتبر البحرين رائدة في استخدام نظم الاتصال السلكي واللاسلكي المتطورة ( ب ) تم إدخال نظم اتصال متطورة كالهاتف النقال وشبكة الإنترنت ( ج ) تعمل جميع البدالات الهاتفية بالنظام الرقمي ( د ) تعمل الاتصالات من خلال الأقمار الاصطناعية (هـ) إصدار جرائد ومجلات (و) توافر الأجهزة الذكية

**السؤال السابع: اجب عما يلي من درس ( القطاع المالي )**

- ١- الجهاز الذي يشرف على تنظيم القطاع المصرفي ومراقبته في مملكة البحرين [ **مصرف البحرين المركزي** ] .
- ٢- القطاع الذي يشكل دعامة الاقتصاد البحريني لكونه ممولاً لجميع المشاريع الإنمائية هو [ **القطاع المصرفي** ] .
- ٣- من أسباب تأسيس مؤسسة نقد البحرين عام ١٩٧٣م [ **الفوائض المالية** ] .
- ٤- تغير مسمى مؤسسة نقد البحرين إلى [ **مصرف البحرين المركزي** ] .
- ٥- علل : تطور القطاع المصرفي في مملكة البحرين ؟ او ( ما العوامل التي جعلت البحرين مركزاً مالياً مهماً بين الأسواق العالمية )؟

(أ) الموقع الوسطي المتميز (ج) التمتع بموقع زمني مناسب لأكبر البورصات العالمية (ب) تطور الاتصالات والمواصلات (د) توفر الكوادر الفنية المدربة . (هـ) الحرية الاقتصادية من حيث تسهيل عمليات التحويل الخارجي وعدم فرض ضرائب .

**٦- اذكر أبرز المهام التي تقوم بها مؤسسة نقد البحرين ( مصرف البحرين المركزي )؟**

(أ) رسم السياسة النقدية والائتمانية وتنفيذها (ب) تنظيم القطاع المالي (هـ) المساعدة على توفير بيئة اعمال متطورة (د) الرقابة على البنوك وشركات الاستثمار (ج) إصدار الاوراق المالية

**٧- بين النتائج المترتبة على تطور القطاع المصرفي في البحرين؟**

(أ) ساهم في توفير فرص عمل للكوادر الوطنية (ب) نجح في اجتذاب مؤسسات مصرفية أجنبية لإنشاء مكاتب لها بالبحرين (ج) يقوم بإعادة استثمار فائض الإيرادات النفطية (د) الاستفادة من فرص تمويل الاقتصاد الوطني

**السؤال الثامن: اجب عما يلي من درس ( السياحة في البحرين )**

١- اشرح مقومات السياحة في مملكة البحرين ؟

المقومات السياحية	الأمثلة
المعطيات الطبيعية	١- الموقع الجغرافي بين الأقاليم ٢- الطبيعة الجزرية و طول سواحلها الرملية ٣- صغر مساحة البحرين ٤- المناخ الشتوي الربيعي
المعطيات التاريخية	١- قلعة البحرين ٢- قلعة عراد ٣- مقابر عالي ٤- معابد باربار ٥- قلعة الشيخ سلمان ٦- مسجد الخميس ٧- بيت الجسرة ٨- بيت سيادي
المعطيات الحضارية الحديثة	١- المتحف الوطني ٢- بيت القران ٣- المجمعات التجارية ٤- المنتزهات ٥- مركز الصناعات الحرفية ٦- قاعة المؤتمرات والمعارض
توافر خدمات	الفنادق والمطاعم والشقق والمواصلات والاتصالات والبنوك الموجودة في مختلف مناطق البحرين

٢- ما الإجراءات التي قامت بها البحرين لتنمية قطاعها السياحي؟ / علل: نمو قطاع السياحة في البحرين بشكل متسارع؟

(أ) أنشأت عدداً من الإدارات المختصة بالسياحة والآثار	(هـ) وضع الخطط والمشاريع السياحية
(ب) أعدت عمالة وطنية متخصصة في مجال السياحة	(و) التنقيب عن الآثار وترميمها والاعتناء بها.
(ج) تعريف العالم الخارجي بإمكانيات البحرين السياحية	(ز) توافر مقومات السياحة المتنوعة في البحرين
(د) شجعت وكالات السفر والسياحة الأجنبية على فتح مكاتب لها في البحرين.	

٣- ما النتائج المترتبة على تطور القطاع السياحي في مملكة البحرين ؟

(أ) تنشيط القطاع الفندقي	(ب) تنشيط قطاع النقل والاتصالات	(ج) تنشيط وتنمية القطاع التجاري
(د) اختيار المنامة عاصمة السياحة العربية عام ٢٠١٣ و السياحة الاسيوية عام ٢٠١٤ م		

**السؤال التاسع: اجب عما يلي من درس ( التجارة الخارجية )**

١- علل : تحتل البحرين مركزا تجاريا مميزا بين دول المنطقة .

(أ) تعدد خطط إنماء قطاعات الاقتصاد البحريني	(ب) التقاليد التجارية العريقة	(ج) تغيير نمط العيش وتحسن ظروفه
(د) مؤشر الحرية الاقتصادية (انعدام الضرائب على الأرباح - انعدام الحواجز الإدارية واللوجستية )		

٢- علل : حقق الميزان التجاري البحريني فائضاً مستمراً؟

(أ) ارتفاع حجم إجمالي الصادرات غير النفطية وقيمتها	(ب) ارتفاع حجم الصادرات النفطية وقيمتها
--	---

٣- علل : تدنت نسبة النفط من إجمالي الصادرات في البحرين ؟

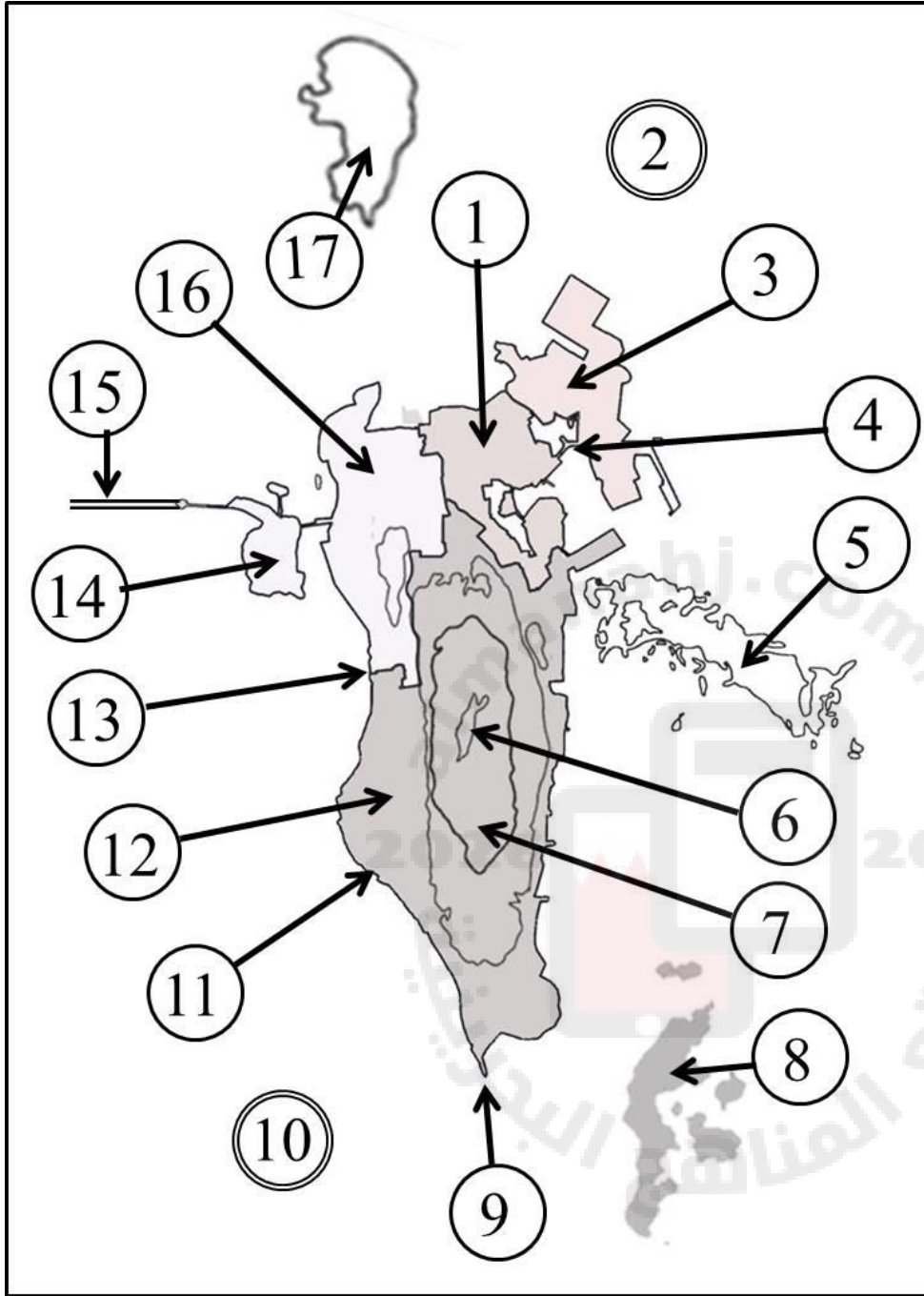
(أ) إتباع سياسة تنويع مصادر الدخل	(ب) عدم الاعتماد على مصدر النفط وحده
-----------------------------------	--------------------------------------

٤- استكمل الجدولين الاتيين لأهم صادرات مملكة البحرين و وارداتها؟

النوع	الأمثلة	تصدرها الى دول
الصادرات	(١) النفط (٢) الحديد (٣) بتروكيماويات (٤) الألمونيوم (٥) الملابس	(١) دول مجلس التعاون (٢) الامريكيتين (٣) اسيا الجنوبية (٤) جنوب شرق اسيا

النوع	الأمثلة	تستوردها البحرين من
الواردات	(١) المواد الغذائية (٢) التجهيزات الصناعية (٣) معدات النقل	(١) دول أوروبا الغربية (٢) الصين (٣) البرازيل (٤) الولايات المتحدة الامريكية

س: من خلال دراستك اكتب امام كل من الظواهر الجغرافية الواردة في الجدول الرقم الدال عليها وفقاً لموضع الارقام المبينة على الخريطة ؟



الرقم	الظواهر الجغرافية
1	محافظة العاصمة
3	محافظة المحرق
16	محافظة الشمالية
12	محافظة الجنوبية
8	جزر حوار
14	جزيرة ام نعسان
17	فشت الجارم
5	فشت العظم
9	رأس البر
11	رأس الجزائر
13	رأس الزلاق
6	تل جبل الدخان
7	منخفض داخلي
4	جسر الشيخ خليفة
15	جسر الملك فهد
2	الخليج العربي
10	الخليج البحرين

**رياح تهب شتاءً (من نوفمبر حتى أبريل)**

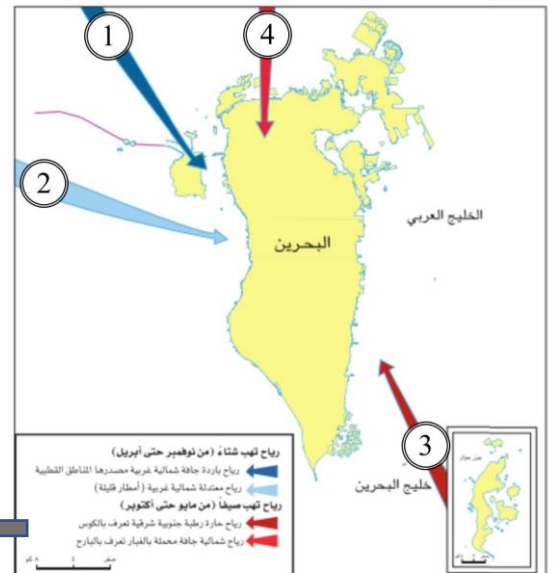
رياح باردة جافة شمالية غربية مصدرها المناطق القطبية

رياح معتدلة شمالية غربية (أمطار قليلة)

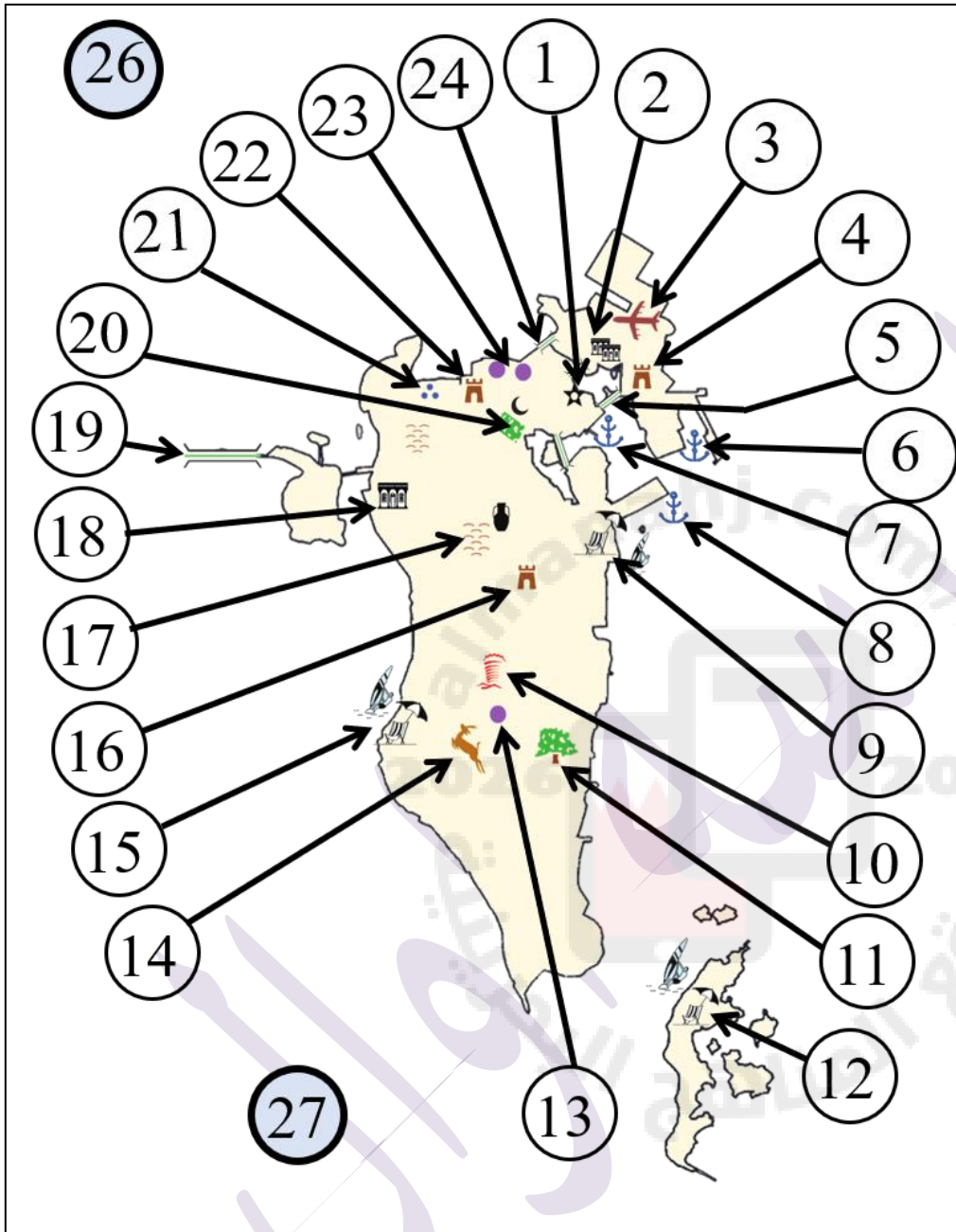
**رياح تهب صيفاً (من مايو حتى أكتوبر)**

رياح حارة رطبة جنوبية شرقية تعرف بالكوس

رياح شمالية جافة محملة بالغبار تعرف بالبارح



س ١ : اكتب امام كل من الظواهر الجغرافية الواردة في الجدول الرقم الدال عليها وفقا لموضوعه على الخريطة ؟



الرقم المناسب	الظاهرة الجغرافية
٩	منتجع البندر
١٢	منتجع حوار
١١	شجرة الحياة
١٥	بلاج الجزائر
٤	قلعة عراد
١٦	قلعة الشيخ سلمان بن احمد الفاتح
١٧	مقابر عالي
١٨	بيت الجسرة
٢١	معابد باربار
٢٢	قلعة البحرين
٢	بيت سيادي
٢	بيت الشيخ عيسى بن علي
٢٠	مسجد الخميس
١	المتحف الوطني
١	بيت القرآن
١٠	حلبة البحرين
١٣	جنة دلمون المفقودة
١٤	محمية العرين
٢٠	منتزه عذاري
٢٣	مجمع ستي سنتر
٢٣	مجمع السيف
٢٣	مجمع العالي
٢٦	الخليج العربي
٢٧	خليج البحرين

الرقم المناسب	الجسور
٥	جسر الشيخ خليفة
١٩	جسر الملك فهد
٢٤	جسر الشيخ عيسى

الرقم المناسب	المطار و الموانئ
٣	مطار البحرين
٦	ميناء خليفة
٧	ميناء سلمان
٨	ميناء سترة

نتمنى الى جميع الطلاب التوفيق والنجاح