

تم تحميل هذا الملف من موقع المناهج البحرينية



الملف أسئلة امتحان نهاية الفصل الأول قسم جغرافيا والتربية للمواطنة

[موقع المناهج](#) ← [الصف التاسع](#) ← [المواد الاجتماعية](#) ← [الفصل الأول](#) ← [الملف](#)

روابط مواقع التواصل الاجتماعي بحسب الصف التاسع



روابط مواد الصف التاسع على تلغرام

[الرياضيات](#)

[اللغة الانجليزية](#)

[اللغة العربية](#)

[التربية الاسلامية](#)

المزيد من الملفات بحسب الصف التاسع والمادة المواد الاجتماعية في الفصل الأول

[أسئلة امتحان نهاية الفصل الأول قسم جغرافيا](#)

1

[ملف الاجتماعيات والتربية للمواطنة](#)

2

[مذكرة الاجتماعيات لنهاية الفصل الدراسي الأول](#)

3

[مذكرة الاجتماعيات والتربية للمواطنة](#)

4

[ملف الاجتماعيات والتربية للمواطنة للصف الثالث الإعدادي.](#)

5

مملكة البحرين

وزارة التربية والتعليم

إدارة الامتحانات / قسم الامتحانات المركزية

امتحان نهاية الفصل الدراسي الأول للشهادة الإعدادية العامة

العام الدراسي 2019 / 2020 م

الزمن: ساعتان

المادة: المواد الاجتماعية (الجغرافيا + التربية للمواطنة)

26

14

القسم الأول - الجغرافيا

السؤال الأول

أولاً- ضع دائرة حول الحرف الدال على الإجابة الصحيحة من بين البدائل الآتية:

1- عمدت مملكة البحرين منذ مطلع السبعينات إلى توظيف إيراداتها:

أ- الزراعة ب- السياحة ج- النفطية د- السمكية

2- استفادت مملكة البحرين من المياه المعالجة لري الأراضي الزراعية من خلال محطة:

أ- تولي ب- الدور ج- أبو جرجور د- الهمة

3- يُعدُّ شارع الملك فيصل في مملكة البحرين من الطرق:

أ- الإقليمية ب- الداخلية الرئيسية ج- الداخلية الفرعية د- السريعة.

4- السبب الذي يجعل تربية المواشي في مملكة البحرين محدودة هو:

أ- انخفاض تكاليف إنتاجها ب- صعوبة تسويق منتجاتها ج- توافر المراعي الطبيعية د- تربيتها بالطرق التقليدية.

5- منتجات صناعة إحلال الواردات في مملكة البحرين هي:

أ- الأولية ب- الوسيطة ج- الخفيفة د- الثقيلة.

6- من انعكاسات تطور القطاع المصرفي على الاقتصاد البحريني هو:

أ- توفير فرص عمل للبحرنيين ب- تراجع الناتج المحلي الإجمالي ج- إنشاء مؤسسة نقد البحرين د- التمتع بموقع زمني مناسب.

7- من أمثلة الصناعات التصديرية في مملكة البحرين:

أ- مواد البناء ب- الأثاث ج- المواد الغذائية د- البتروكيمياويات

12

ثانياً- أكمل كل عبارة من العبارات الآتية بما يناسب

- 1- يتولى مصرف البحرين المركزي مهمة تنظيم القطاع
- 2- نالت مملكة البحرين في مجال التنافسية السياحية عربياً المرتبة
- 3- حقق الميزان التجاري البحريني فائضا مستمرا نتيجة ارتفاع حجم وقيمة
- 4- من أهم مظاهر تطوير التعليم في مملكة البحرين الانتقال إلى التمكين
- 5- في مملكة البحرين، أدى توفير المساكن لكثير من الأسر الجديدة إلى تدني نسبة الأسر
- 6- زادت أهمية مملكة البحرين كمنطقة جذب لرؤوس الأموال؛ نتيجة اتباعها سياسة

30
9

السؤال الثاني تم تحميل هذا الملف من

موقع المناهج البحرينية

أولاً - علل ما يأتي:

1- زيادة الاستثمار المحلي والأجنبي في القطاع الصناعي البحريني.

-
-
-

2- ازدياد أهمية القطاع التجاري بمملكة البحرين.

-
-
-

3- التوسع في المشاريع الإسكانية في مملكة البحرين

-
-
-

ثانياً- وضح ما يأتي:

1- نتائج العناية بقطاع التعليم في مملكة البحرين.

9

-
-
-

2- العوامل التي ساعدت على تطور القطاع المصرفي في مملكة البحرين.

-
-
-

3- التدابير التي اتخذتها مملكة البحرين لتطوير البنية التحتية اللازمة لإنجاح خططها التنموية الاقتصادية.

-
-
-

12

ثالثاً- أكمل الجدول الآتي بكتابة جهود مملكة البحرين في تطوير القطاعات الواردة فيه:

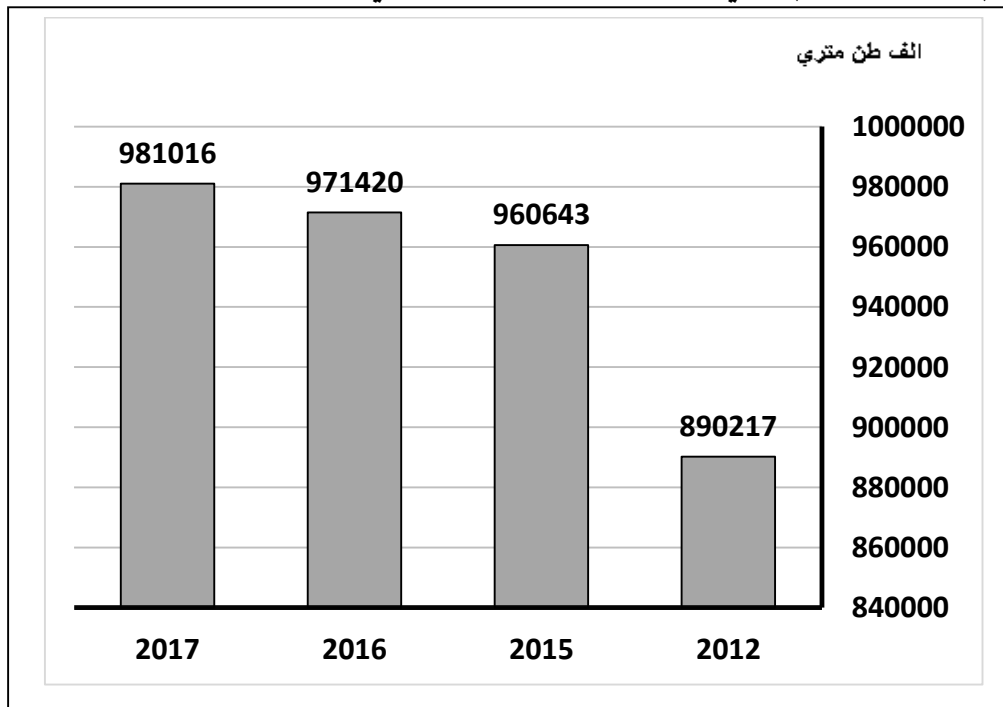
القطاع	جهود مملكة البحرين
المواصلات البحرية
السياحي
الحيواني

19

السؤال الثالث

أولاً- من خلال الرسم البياني لإنتاج الألمنيوم في مملكة البحرين (بالألف طن متري)، وفي ضوء ما درست، أجب عما يأتي:

9



(أ) أكمل العبارات الآتية بما يناسب:

- 1- السنة الأكثر في حجم إنتاج الألمنيوم في مملكة البحرين هي سنة
- 2- السنة الأقل في حجم إنتاج الألمنيوم في مملكة البحرين هي سنة
- 3- من الرسم، اعط وصفا لتطور إنتاج الألمنيوم في مملكة البحرين

(ب) مما درست، اكتب ثلاثا من مميزات الصناعات التصديرية في مملكة البحرين.

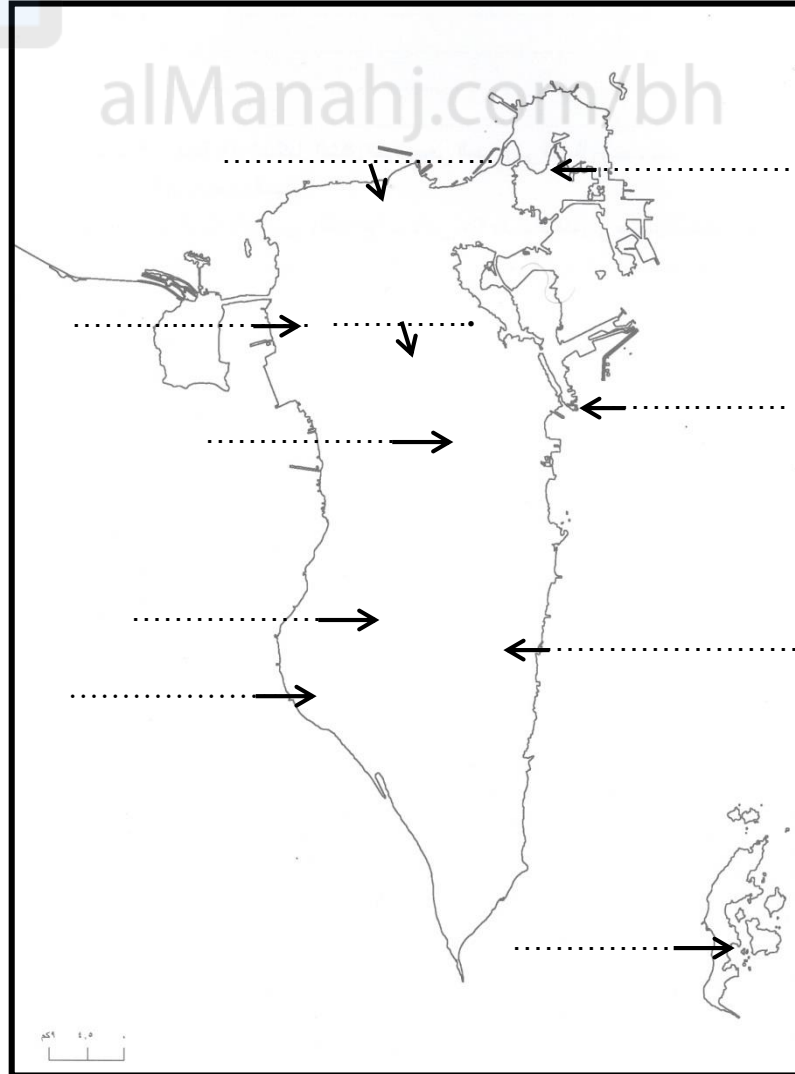
-
-
-

تم تحميل هذا الملف من

ثانيا- اكتب أسماء المعالم السياحية في مواقعها الصحيحة:

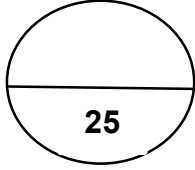
- قلعة عراد- بيت الجسرة - بلاج الجزائر - قلعة البحرين - محمية العرين - منتجع حوار -
شجرة الحياة - منتجع البندر- مقابر عالي- قلعة الشيخ سلمان بن أحمد.

10



القسم الثاني- التربية للمواطنة

السؤال الرابع



أولاً- ضع دائرة حول رمز الإجابة الصحيحة:

5

السؤال الأول: ضع علامة (✓) أمام العبارة الصحيحة وعلامة (x) أمام العبارة الخاطئة:

- 1- () يكرس العمل اندماج الفرد في المجموعة.
- 2- () من مظاهر التزام العامل عدم التقيد بوقت الدوام.
- 3- () من أهداف التنمية المستدامة القضاء على الفقر.
- 4- () للتنمية المستدامة بعدان هما البعد البيئي والبعد الاجتماعي.
- 5- () تلعب مملكة البحرين دوراً كبيراً في المحافظة على البيئة وطنياً ودولياً.

6

السؤال الثاني: أجب عن الأسئلة الآتية:

1- تخلف الصور النمطية والمنافية للعمل جملة من الآثار اذكر اثنين من هذه الآثار:

.....

.....

2- سمّ اثنين من مصادر التلوث البشرية:

.....

.....

3- بين في نقطتين أهمية العمل للفرد:

.....

.....

ثالثاً- صنف ما يأتي بوضع علامة (✓) في المكان المناسب من الجدول:

6

أهداف التنمية المستدامة	البعد الاجتماعي	البعد الاقتصادي	البعد البيئي
إقامة بنى تحتية والتصنيع الشامل وتشجيع الابتكار			
تغير المناخ			
ضمان التعليم الجيد			

رابعاً- اقرأ النص الآتي ثم أجب عن الأسئلة التي من خلاله وفي ضوء ما درست:

نظمت مدرستكم فعالية للتعريف بأهمية المحافظة على البيئة لتحقيق تنمية مستدامة تحت شعار "المحافظة على البيئة ركيزة أساسية للتنمية المستدامة"، وكنت من بين المتطوعين في المدرسة لتنظيم هذه الفعالية.

1- ما شعار الفعالية؟


2- اشرح لزملائك في المدرسة بشكل مختصر مضمون الشعار.

3- ما أهمية المحافظة على البيئة؟ (يكتفى بنقطتين)

4 - برأيك كيف يمكن للمحافظة على البيئة أن تسهم في تحقيق التنمية المستدامة؟

انتهت الأسئلة

انتهت الأسئلة



تم تحميل هذا الملف من
موقع المناهج البحرينية

alManahj.com/bh