

## الخرائط الواردة في الامتحانات النهائية



### تم تحميل هذا الملف من موقع مناهج مملكة البحرين

موقع المناهج ← مناهج مملكة البحرين ← الصف التاسع ← المواد الاجتماعية ← الفصل الثاني ← ملفات متنوعة ← الملف

تاريخ إضافة الملف على موقع المناهج: 18:37:15 2025-05-12

ملفات اكتب للمعلم اكتب للطالب | اختبارات الكترونية | اختبارات | حلول | عروض بوربوينت | أوراق عمل  
منهج انجليزي | ملخصات وتقارير | مذكرات وبنوك | الامتحان النهائي | للمدرس

المزيد من مادة  
المواد  
الاجتماعية:

### التواصل الاجتماعي بحسب الصف التاسع



الرياضيات



اللغة الانجليزية



اللغة العربية



التربية الاسلامية



المواد على تلغرام

صفحة مناهج مملكة  
البحرين على  
فيسبوك

### المزيد من الملفات بحسب الصف التاسع والمادة المواد الاجتماعية في الفصل الثاني

الخرائط المطلوبة	1
نماذج امتحانات سابقة محلولة	2
مذكرة المواد الاجتماعية	3
مذكرة الفصل الثاني في الدروس الاجتماعية	4
ملخص الدروس الاجتماعية	5

ملاحظة :

- هذه الخرائط نماذج من امتحانات سابقة و لا يعني ذلك الإكتفاء بها فقط .
- ستكون الصفحة التي تلي الخريطة هي إجابة الخريطة السابقة .
- لا تنسَ نشر الملف فالدال على الخير كفاعله .
- يمكنكم الإستفادة أيضا من الإختبار الإلكتروني لأسئلة الخيارات المتعددة الواردة في الإمتحانات النهائية بين عامي 2009م إلى العام 2023م من خلال الضغط على السهم أدناه .

أسئلة الخيارات المتعددة الواردة في الإمتحان النهائي للفصل الدراسي الثاني  
في مادة الإجتماعيات بين عامي 2009-2023م



ثانيًا-أمامك خريطة صماء توضح تقسيمات اتفاقية سايكس بيكو سنة 1916م، لاحظ الخريطة جيدا ثم أجب عن الأسئلة التي تليها :



- المنطقة ( أ ) خضعت للسيطرة والنفوذ : .....
- المنطقة (ب) خضعت للسيطرة والنفوذ: .....
- اسم المنطقة الدولية (ج): .....
- الرقم (1) اسم المسطح المائي: .....
- الرقم (2) اسم قناة: .....

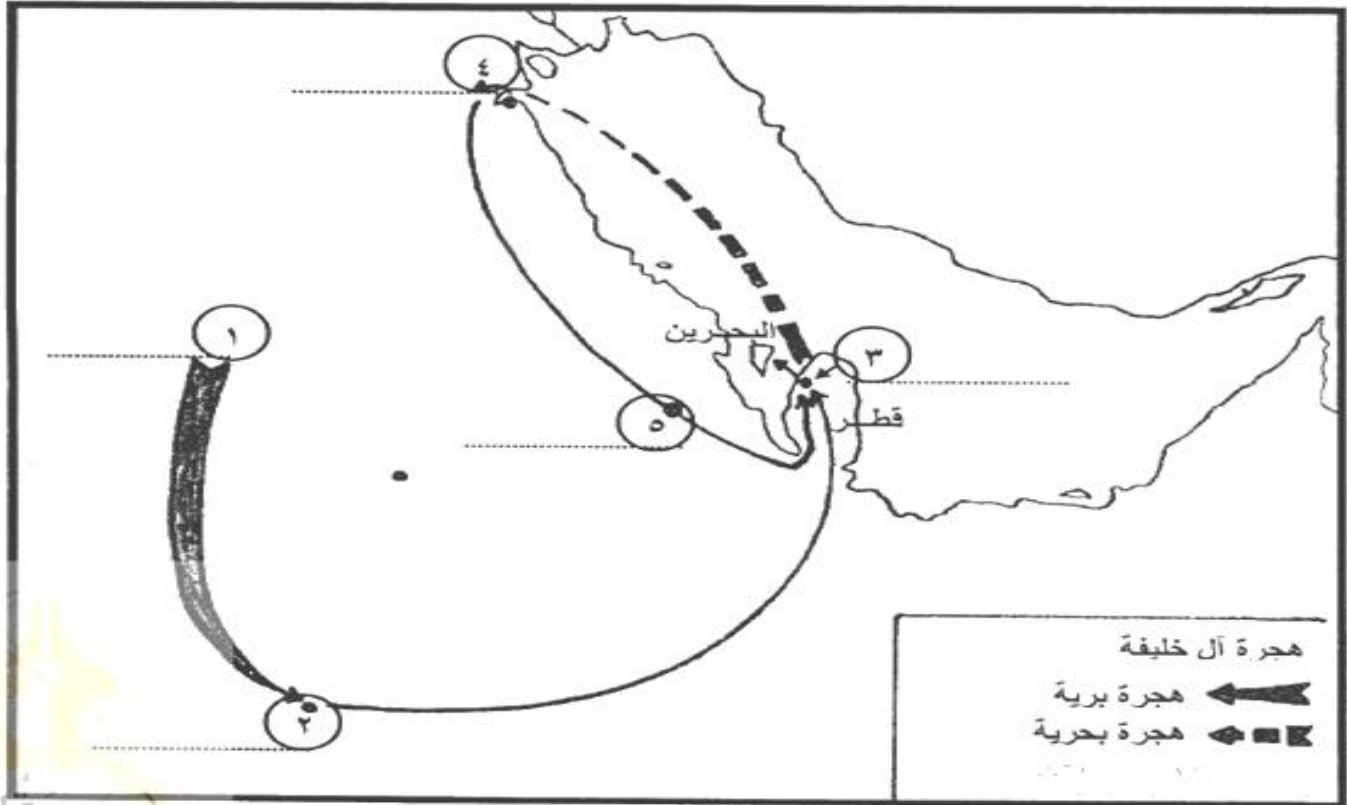
### إجابة الخريطة السابقة

الفرنسي
البريطاني
فلسطين
البحر المتوسط
السويس

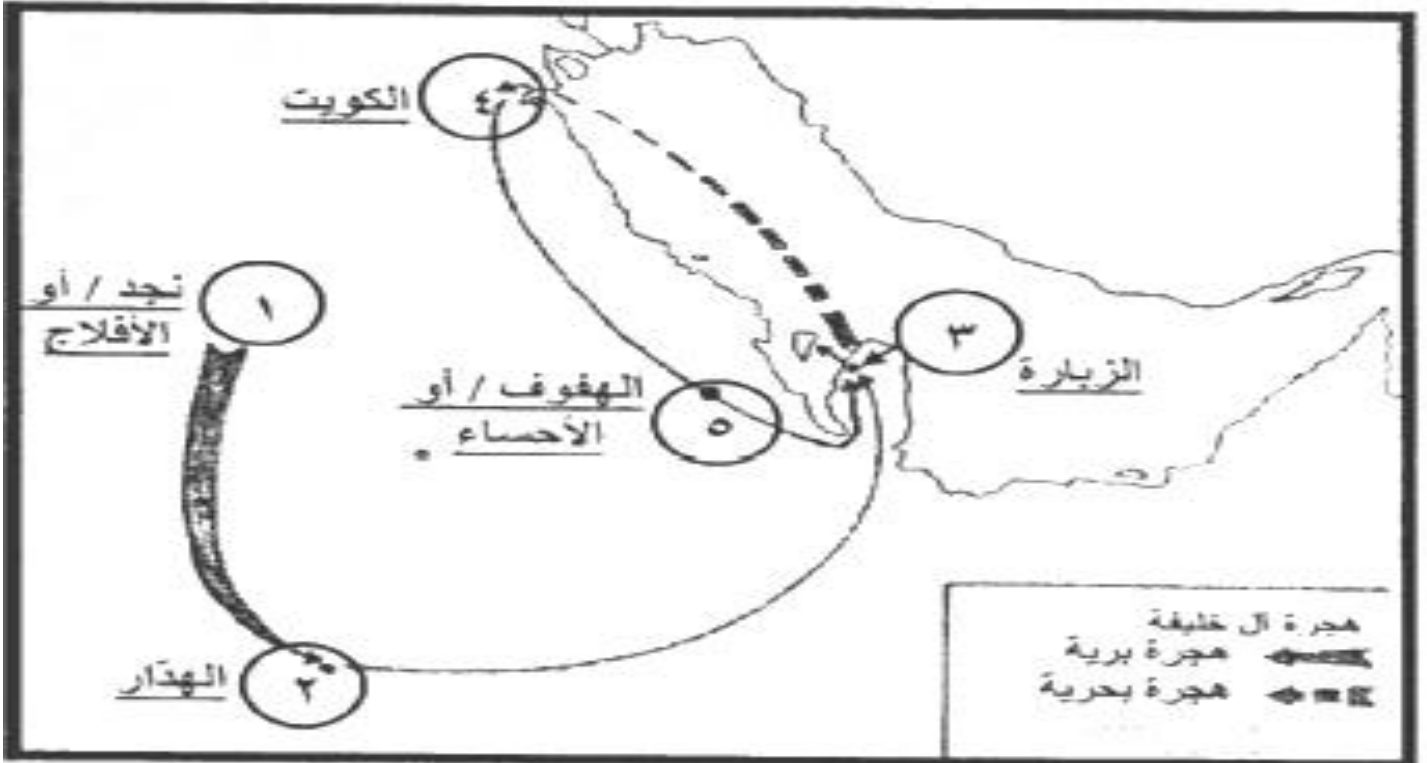
- المنطقة ( 1 ) خضعت للسيطرة والنفوذ :
- المنطقة (2) خضعت للسيطرة والنفوذ:
- اسم المنطقة الدولية (3):
- الرقم (4) اسم المسطح المائي:
- الرقم (5) اسم قناة :

## نماذج من الخرائط الواردة في الإمتحانات النهائية للأعوام السابقة للإجتماعات للفصل الدراسي الثاني

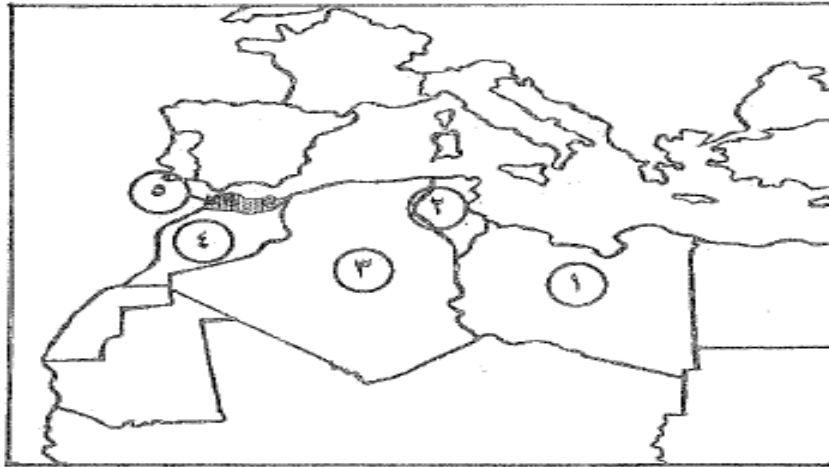
ثالثاً- أمامك خريطة هجرة آل خليفة، اكتب عليها ما تمثله الأرقام من موطن أصلي لآل خليفة ومناطق ومدن وصل إليها خلال هجرتهم إلى البحرين.



### إجابة الخريطة السابقة



أ) أمامك خريطة صماء لدول المغرب العربي، اكتب ما تمثله الأرقام التي عليها بالجدول الذي يليها حسب البيانات الواردة فيه:

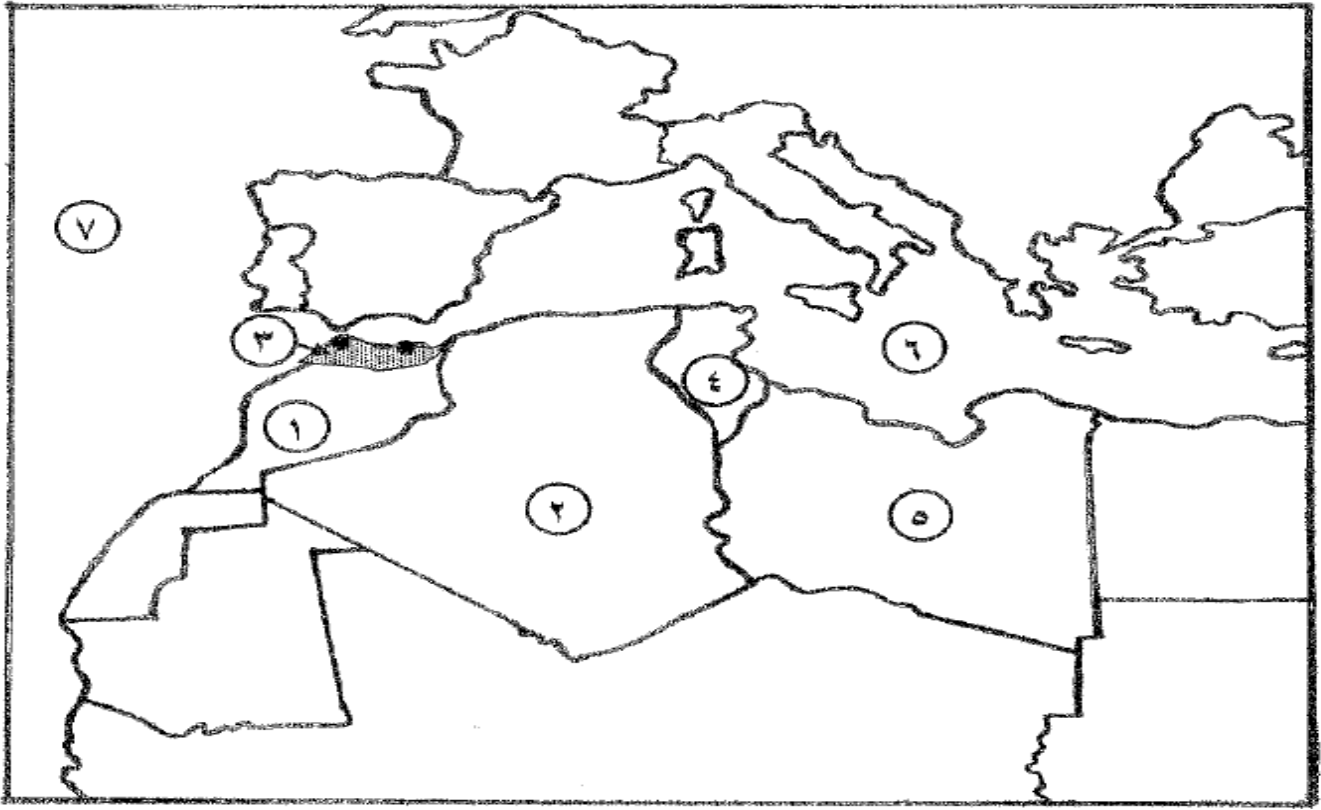


الرقم على الخريطة	المنطقة/ الدولة العربية	الدولة الأوروبية الاستعمارية
١	.....	.....
٢	.....	.....
٣	.....	.....
٤	.....	.....
٥	.....	.....

### إجابة الخريطة السابقة

الرقم على الخريطة	المنطقة/ الدولة العربية	الدولة الأوروبية الاستعمارية
١	ليبيا	إيطاليا
٢	تونس	فرنسا
٣	الجزائر	فرنسا
٤	المغرب	فرنسا
٥	الريف المغربي/ أو سبقة ومليلة	أسبانيا

ثالثاً- أمامك خريطة صماء لدول المغرب العربي، تمعن فيها جيداً، ثم أجب عن السؤالين التاليين:



أ) اكتب ما تمثله الأرقام من (١) إلى (٥) في الجدول الآتي حسب البيانات الواردة في الخريطة:

الدولة الأوروبية الاستعمارية	المنطقة/ الدولة العربية	الرقم على الخريطة
		١
		٢
		٣
		٤
		٥

ب) سمّ المسطحين المائيين اللذين يمثلان الرقمين (٦-٧) حسب موضعهما على الخريطة:

٧-

٦-

## إجابة الخريطة السابقة

أ) اكتب ما تمثله الأرقام من (١) إلى (٥) في الجدول الآتي حسب البيانات الواردة في الخريطة:

الرقم على الخريطة	المنطقة/ الدولة العربية	الدولة الأوروبية الاستعمارية
١	المغرب	فرنسا
٢	الجزائر	فرنسا
٣	الريف المغربي (سبتة ومليلة)	إسبانيا
٤	تونس	فرنسا
٥	ليبيا	إيطاليا

ب) سمِّ المسطحين المائيين اللذين يمثلان الرقمين (٦-٧) حسب موضعهما على الخريطة:

٧- المحيط الأطلسي.

٦- البحر المتوسط.