

الخرائط الواردة في الامتحانات النهائية



تم تحميل هذا الملف من موقع مناهج مملكة البحرين

موقع المناهج ← مناهج مملكة البحرين ← الصف التاسع ← المواد الاجتماعية ← الفصل الثاني ← ملفات متنوعة ← الملف

تاريخ إضافة الملف على موقع المناهج: 18:48:49 2025-05-12

ملفات اكتب للمعلم اكتب للطالب | اختبارات الكترونية | اختبارات | حلول | عروض بوربوينت | أوراق عمل
منهج انجليزي | ملخصات وتقارير | مذكرات وبنوك | الامتحان النهائي | للمدرس

المزيد من مادة
المواد
الاجتماعية:

التواصل الاجتماعي بحسب الصف التاسع



صفحة مناهج مملكة
البحرين على
فيسبوك

الرياضيات

اللغة الانجليزية

اللغة العربية

التربية الاسلامية

المواد على تلغرام

المزيد من الملفات بحسب الصف التاسع والمادة المواد الاجتماعية في الفصل الثاني

الأسئلة المقالية التي جاءت في الاختبارات النهائية

1

نماذج امتحانات سابقة

2

نماذج امتحانية سابقة في المواد الاجتماعية

3

الخرائط المطلوبة

4

الخرائط الواردة في الامتحانات النهائية

5

ملاحظة :

- هذه الخرائط نماذج من امتحانات سابقة و لا يعني ذلك الإكتفاء بها فقط .
- ستكون الصفحة التي تلي الخريطة هي إجابة الخريطة السابقة .
- لا تنسَ نشر الملف فالدال على الخير كفاعله .
- يمكنكم الإستفادة أيضا من الإختبار الإلكتروني لأسئلة الخيارات المتعددة الواردة في الإمتحانات النهائية بين عامي 2009م إلى العام 2024م من خلال الضغط على السهم أدناه.

ثانيًا- أمامك خريطة صماء توضح تقسيمات اتفاقية سايكس بيكو سنة 1916م، لاحظ الخريطة جيدا ثم أجب عن الأسئلة التي تليها :



- المنطقة (أ) خضعت للسيطرة والنفوذ :
- المنطقة (ب) خضعت للسيطرة والنفوذ:
- اسم المنطقة الدولية (ج):
- الرقم (1) اسم المسطح المائي:
- الرقم (2) اسم قناة:

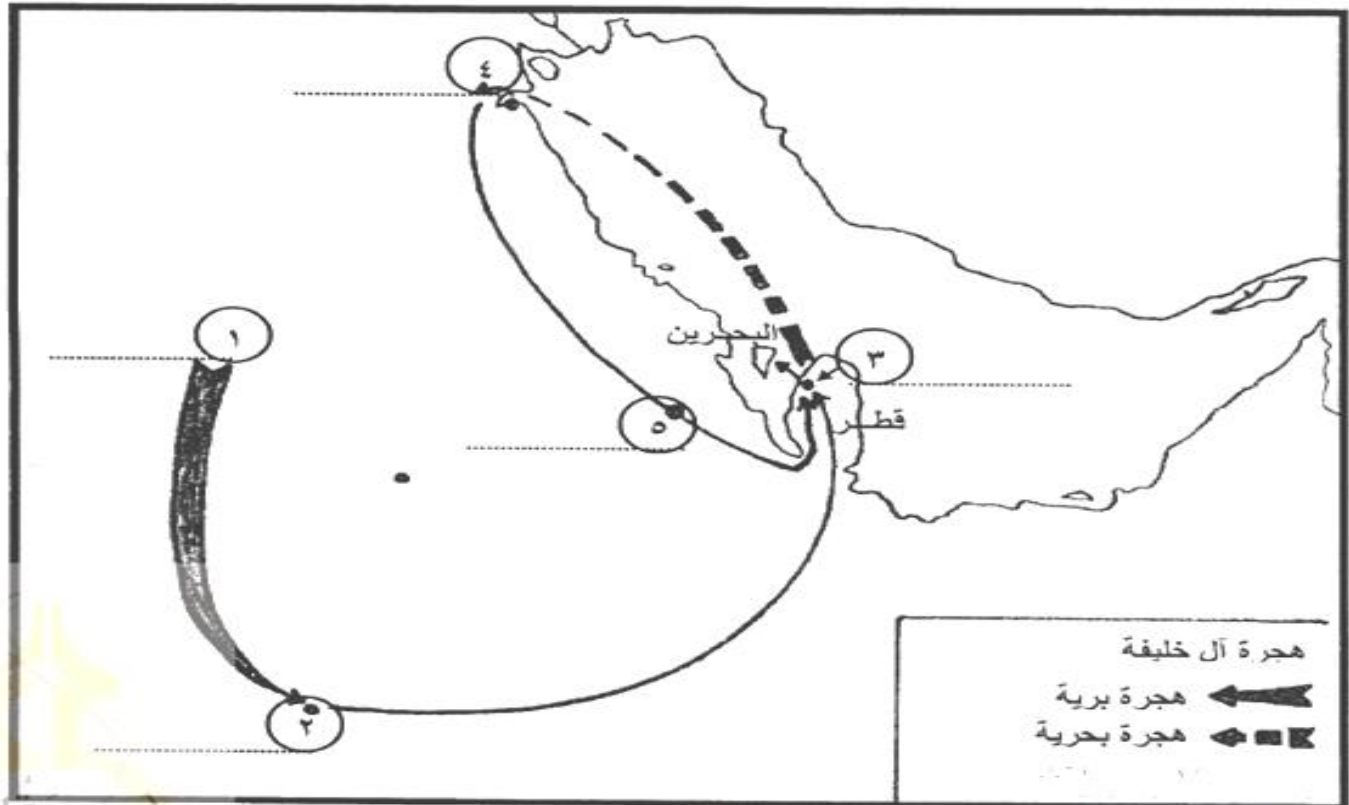
إجابة الخريطة السابقة

الفرنسي
البريطاني
فلسطين
البحر المتوسط
السويس

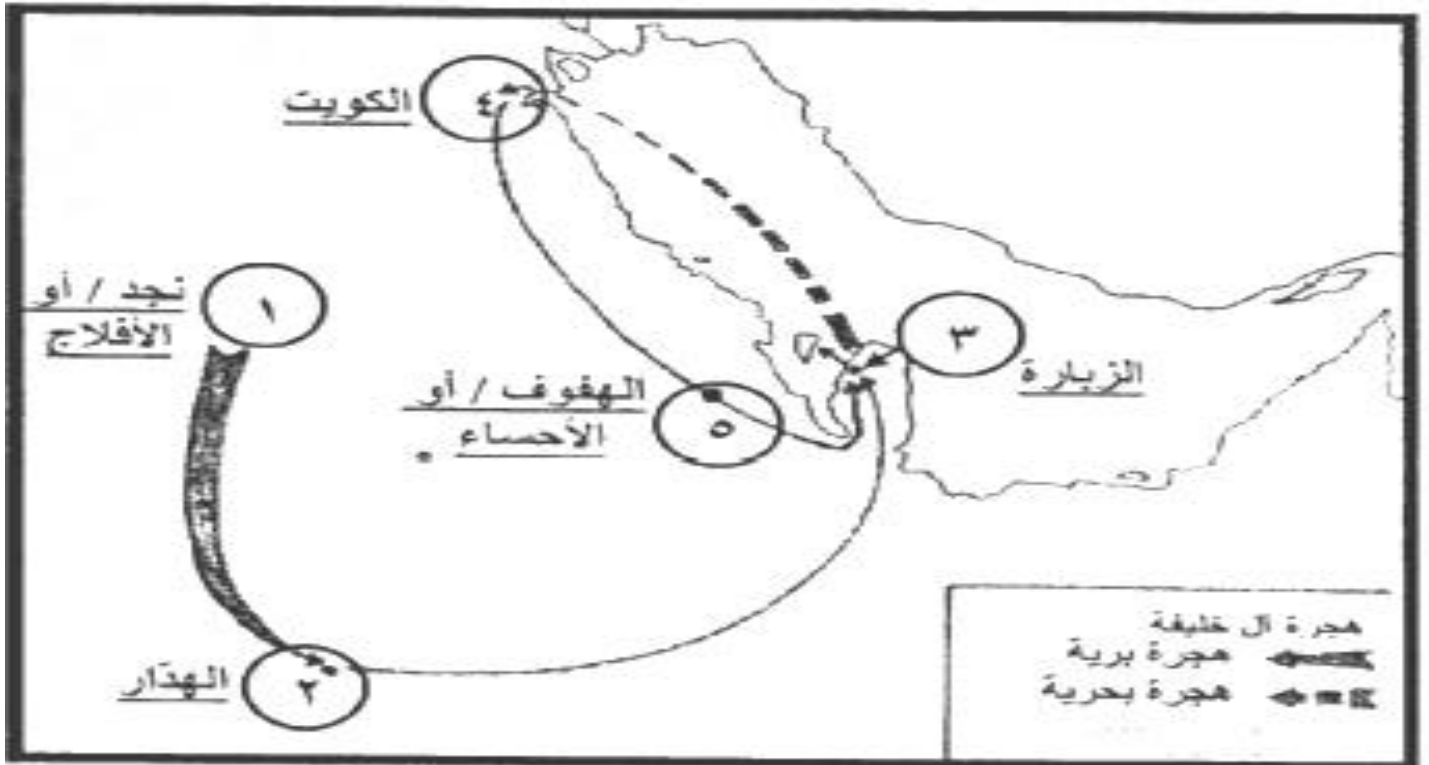
- المنطقة (1) خضعت للسيطرة والنفوذ :
- المنطقة (2) خضعت للسيطرة والنفوذ:
- اسم المنطقة الدولية (3):
- الرقم (4) اسم المسطح المائي:
- الرقم (5) اسم قناة :

نماذج من الخرائط الواردة في الإمتحانات النهائية للأعوام السابقة للإجتماعيات للفصل الدراسي الثاني

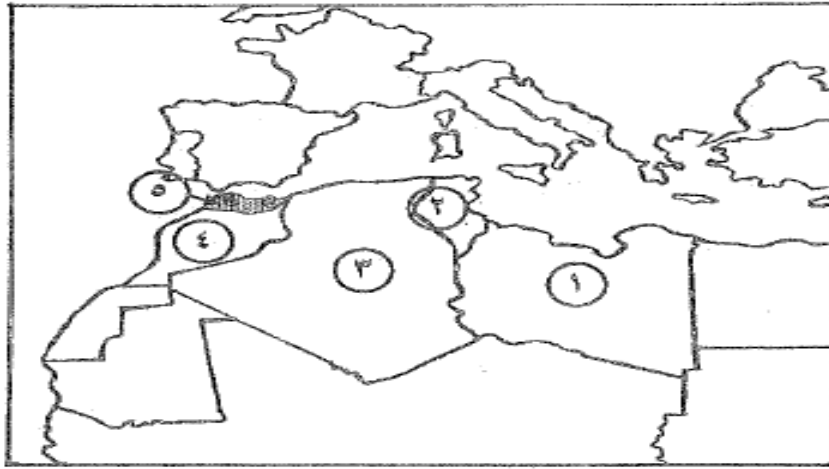
ثالثاً- أمامك خريطة هجرة آل خليفة، اكتب عليها ما تمثله الأرقام من موطن أصلي لآل خليفة ومناطق ومدن وصل إليها خلال هجرتهم إلى البحرين.



إجابة الخريطة السابقة



أ) أمامك خريطة صماء لدول المغرب العربي، اكتب ما تمثله الأرقام التي عليها بالجدول الذي يليها حسب البيانات الواردة فيه:

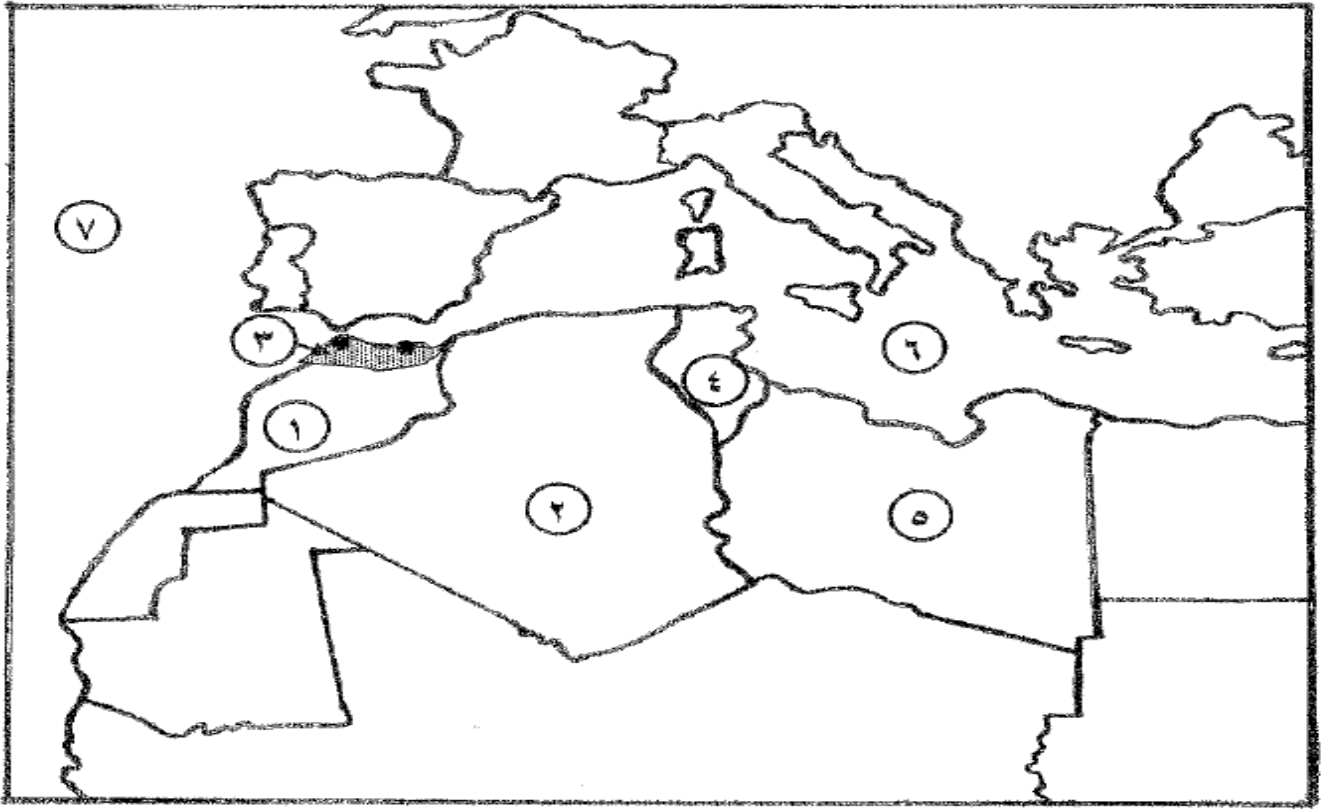


الرقم على الخريطة	المنطقة/ الدولة العربية	الدولة الأوروبية الاستعمارية
١
٢
٣
٤
٥

إجابة الخريطة السابقة

الرقم على الخريطة	المنطقة/ الدولة العربية	الدولة الأوروبية الاستعمارية
١	ليبيا	إيطاليا
٢	تونس	فرنسا
٣	الجزائر	فرنسا
٤	المغرب	فرنسا
٥	الريف المغربي/ أو سبقة ومليلة	أسبانيا

ثالثاً- أمامك خريطة صماء لدول المغرب العربي، تمعن فيها جيداً، ثم أجب عن السؤالين التاليين:



أ) اكتب ما تمثله الأرقام من (١) إلى (٥) في الجدول الآتي حسب البيانات الواردة في الخريطة:

الدولة الأوروبية الاستعمارية	المنطقة/ الدولة العربية	الرقم على الخريطة
		١
		٢
		٣
		٤
		٥

ب) سمّ المسطحين المائيين اللذين يمثلان الرقمين (٦-٧) حسب موضعهما على الخريطة:

٧-

٦-

إجابة الخريطة السابقة

أ) اكتب ما تمثله الأرقام من (١) إلى (٥) في الجدول الآتي حسب البيانات الواردة في الخريطة:

الرقم على الخريطة	المنطقة/ الدولة العربية	الدولة الأوروبية الاستعمارية
١	المغرب	فرنسا
٢	الجزائر	فرنسا
٣	الريف المغربي (سبتة ومليلة)	إسبانيا
٤	تونس	فرنسا
٥	ليبيا	إيطاليا

ب) سمّ المسطحين المائيين اللذين يمثلان الرقمين (٦-٧) حسب موضعهما على الخريطة:

٦- البحر المتوسط.

٧- المحيط الأطلسي.

أسئلة الخيارات المتعددة الواردة بين عامي 2009 إلى 2024م

