

مذكرو شاملة ملف المواد الاجتماعية 2024 و 2025م



تم تحميل هذا الملف من موقع مناهج مملكة البحرين

موقع المناهج ← مناهج مملكة البحرين ← الصف التاسع ← تربية للمواطنة ← الفصل الثاني ← ملفات متنوعة ← الملف


تاريخ إضافة الملف على موقع المناهج: 2026-02-14 23:03:28

ملفات اكتب للمعلم اكتب للطالب | اختبارات الكترونية | اختبارات | حلول | عروض بوربوينت | أوراق عمل
منهج انجليزي | ملخصات وتقارير | مذكرات وبنوك | الامتحان النهائي | للمدرس

المزيد من مادة
تربية للمواطنة:

إعداد: علوية السيد علي

التواصل الاجتماعي بحسب الصف التاسع



صفحة مناهج مملكة
البحرين على
فيسبوك

الرياضيات

اللغة الانجليزية

اللغة العربية

التربية الاسلامية

المواد على تلغرام

المزيد من الملفات بحسب الصف التاسع والمادة تربية للمواطنة في الفصل الثاني

مذكرة نهاية الفصل رحلة شاملة في التاريخ الحديث والمعاصر 2024 و 2025م

1

مذكرة شاملة ومميزة بناء الوعي الوطني والقيم الإنسانية 2023 و 2024م

2

امتحان نهاية الفصل الدراسي الثاني للشهادة الإعدادية العامة للعام الدراسي 2023/2024

3

الإجابة النموذجية لامتحان نهاية الفصل الثاني

4

الإجابة النموذجية لامتحان نهاية الفصل الثاني

5



ملف المواد الاجتماعية للمصف الثالث الإعدادي

الفصل الدراسي الثاني 2024 - 2025 م

إعداد وتصميم وإشراف معلمة المواد الاجتماعية أ/ علوية السيد علي
مراجعة المحتوى أ/ هيفاء عبد الحسين عبد الله



الاسم

الصف

المرحلة الإعدادية

الصف

الثالث الإعدادي

المادة: المواد الاجتماعية

عنوان المحتوى:

مذكرة: الكترونية في مادة التاريخ

نوع المحتوى: مذكرة اثرائية

الالكترونية في التاريخ

سنة الإنتاج

2025-2024

اسم المعد:

أ/ علوية سيد علي هاشم

الوظيفة: معلمة مواد

اجتماعية ومواطنة


النوع:

مذكرة ورقية والكترونية





مسابقة النجوم



استمارة تواصل بين المعلم وولي الأمر - سجل الطالب

الدرجة التفصيلية	الدرجة الكلية	ملاحظات المعلمة	توقيع وملاحظات ولي الأمر
الإجراءات التعليمية (النظافة والترتيب والتنظيم)	4		
تحسين التعلم (الأنشطة)	4		
المبادرات	4		
الإجراءات التعليمية (النظافة والترتيب والتنظيم)	4		
تحسين التعلم (الأنشطة)	4		
المبادرات	4		

استمارة تواصل بين المعلم وولي الأمر - درجات الاختبارات

الدروس	اليوم والتاريخ	درجة الاختبار	توقيع وملاحظات ولي الأمر

تمت متابعة ملف الطالب من قبل لجنة الأعمال الكتابية

المسؤول عن المتابعة	الإدارة المدرسية	المعلم الأول أو المنسق	المدقق الخارجي
تاريخ المتابعة			

تمهيد

هذا الملف هو اجتهاد جديد لدعم كتاب الطالب المدرسي وتنظيم عملية الفروض اليومية والأنشطة الصفية واللاصفية. جاهد كل الجهد لتحقيق الأهداف التربوية لمادة الاجتماعيات - التاريخ، المقررة للصف الثالث الإعدادي في الفصل الدراسي الثاني.

إعداد المعلمة

/ علوية سيد علي هاشم

5

الرسالة

تسعى المدرسة لتقديم خدمات تربوية وتعليمية ذات جودة تسهم في بناء جيل متميز يرتقي بالوطن في ظل مشاركة مجتمعية فاعلية.

الرؤية

جيل مبدع يرتقي بوطنه

القيم

الانتماء والمواطنة والتعايش
النظافة، الاحترام، تحمل
المسئولية

الهدف من دراستك لمادة الاجتماعيات

اتفاقية مادة الاجتماعيات



أحضر كتابي والأدوات
المطلوبة



استخدم القلم الأزرق
أثناء الكتابة، اهتم
بجمال الخط وترتيبه



أحافظ على ترتيب
ونظافة كراستي



أسلم كراستي في
الوقت المحدد



توقيع ولي الأمر،
على الكراسة



مبادرات
الترزم بإنجاز
مبادراتي

كما تم الاتفاق على الإجراءات المستخدمة في حالة عدم التزام الطالب بالاتفاقية كالتالي:

التبنيّة الشفوي، التبنيّة الكتابي، التحويل للإشراف الإداري، التحويل للإرشاد الاجتماعي،

استدعاء ولي الأمر

توقيع الطالب:

توقيع ولي الأمر:



الدروس الفصل الدراسي الثاني 2024-2025 . للتاريخ

□

رقم الدرس	دروس التاريخ	رقم الصفحة
26	النهضة الأوروبية	99
27	حركة الاستعمار الأوروبي	103
28	الحرب العالمية الأولى [1918-1918م]	105
29	التأمر الاستعماري على المشرق العربي - الانتداب	109
30	الأزمات الدولية [1919م-1939م]	111
31	الحرب العالمية الثانية 1939م-1945م	113
32	حركة الاستقلال في المشرق العربي	115
33	حركة الاستقلال في المغرب العربي [1]	117
36	استقلال دول الخليج العربي [1]	133
37	استقلال دول الخليج العربي [2]	135
38	البرتغاليون في البحرين	137
39	هجرة آل خليفة إلى الزبارة والبحرين	139
40	البحرين من 1821-1961	141
41	البحرين: تأسيس الدولة الحديثة	143

النهضة الأوروبية - صفحة 99

ما المقصود بالإقطاع؟

نظام سياسي واجتماعي واقتصادي ساد في أوروبا خلال القرون الوسطى، وتتميز بتبعية الأرض والشعب للسادة الإقطاعيين الذين كانوا من الفرسان المحاربين.

انتقلت أوروبا الغربية، بين منتصف القرن 15 م ونهاية القرن 16 م، من عصر الظلام عصر التخلف والإقطاع إلى مرحلة حضارية جديدة عرفت بعصر النهضة.

أولاً: العوامل المساعدة

نشاط
حركة
الترجمة

اختراع
الطباعة

ازدهار
المدن
الإيطالية

أقدم طباعة على
مر التاريخ

هذا الدرس
بالبوابة
التعليمية



3. نشاط حركة الترجمة

- ترجمة التأثيرات العربية الإسلامية ودخولها إلى أوروبا.
- إحياء التراث اليوناني والروماني ما قبل المسيحية.
- نشطت الجامعات الإسبانية والإيطالية في ترجمة التراث القديم.
- حصلوا كذلك على مؤلفات عربية من الأندلس وصقلية ومن المشرق في أثناء الحروب الصليبية.


2. اختراع الطباعة

- 1448 م اختراع آلة الطباعة على يد العالم الألماني غوتنبرغ.
- انتشرت الكتب المطبوعة في المجتمعات الأوروبية بعد أن كانت حكرًا على مكتبات كبار رجال الدين والاقطاعيين.

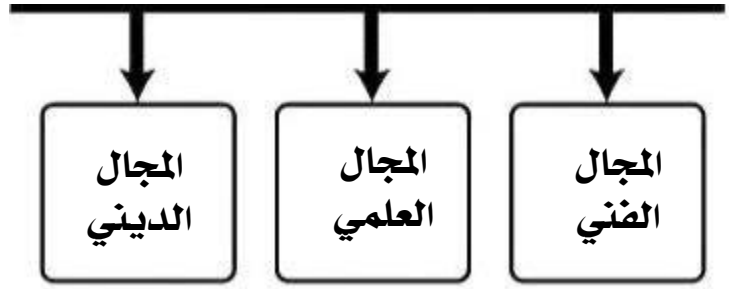


1. ازدهار المدن الإيطالية


- ازدهرت المدن الإيطالية بسبب الحركة التجارية في البحر المتوسط.
- وظهرت مدن مثل جنوة، البندقية، فلورنسا، تكونت نخبة ثرية ومتقنة مثل أسرة مديتشي في فلورنسا.



ثانياً: المظاهر أو المجالات



أهم ما تميز به			المجال
<ul style="list-style-type: none"> مثل مايكل أنجلو / ليوناردو دافنشي برعوا في تصميم القصور والكنائس وتزيينها. استفادت من أعمالهم مدن فلورنسا وروما وميلانو وجنوة. انتشرت النهضة الفنية إلى ألمانيا - النمسا - فرنسا - إنجلترا. وذلك بسبب تنقلات الفنانين بين قصور الأسر الحاكمة والأثرياء. برع الفنانون في إظهار عواطف الإنسان وجماله وجمال الطبيعة. قدراتهم في الهندسة والرسم والنحت والرياضيات. ظهور المسرح مثل شكسبير في إنجلترا. تميز توماس مور الانجليزي في كتاب يوتوبيا. تميز مكيفال الإيطالي كتاب الأمير في علم السياسة 			المجال الفني انطلقت من إيطاليا.  
<ul style="list-style-type: none"> كوبرنيكوس: أن كوكب الأرض من ضمن المجموعة الشمسية. وضع المخترعون تقنيات وأجهزة في الطب والملاحة والزراعة والفيزياء. والبناء. محاولاتهم لمعرفة تركيب جسم الإنسان وتشريحه. 			المجال العلمي
الملك هنري الثامن (في إنجلترا) انفصل عن كنيسة روما ونشأت الكنيسة الانغليكانية	جون كلفن (في فرنسا) نشر المذهب البروتستانتي	مارتن لوتر (في ألمانيا) تزعم حركة إصلاح ديني نشأ عنها المذهب البروتستانتي الرفض لسلطة كنيسة روما	المجال الديني ظهرت دعوات للتحرر من هيمنة رجال الدين المسيحيين على المجتمع وأدت إلى انقسامات

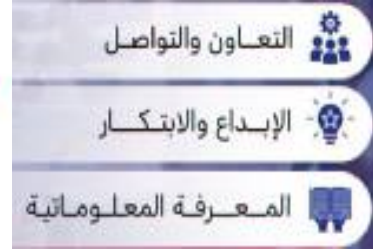


الكفايات الرئيسية:

- يتعرف على العوامل المساعدة في النهضة الأوروبية.
- يحدد مجالات أو مظاهر النهضة الأوروبية.



مهارات القرن ٢١



السؤال الاول: أكمل ما يلي: ★

أوروبا الغربية	فلورنسا	16	جنوة	البندقية	الطباعة
مارتن لوتر	كوبرنيكوس	ليوناردو دي فنشي	مكيافال	15	مايكل أنجلو

1. انتقلت أوروبا الغربية بين منتصف القرن ونهاية القرن م من مرحلة التخلف إلى مرحلة حضارية.

2. الاختراع الذي جاء به الألماني غوتنبرغ في عام 1448 م هو

3. ازدهرت المدن الإيطالية مثل مدينة و و

4. تزعم حركة الإصلاح الديني في ألمانيا ولتي نشأ عنها المذهب البروتستانتي

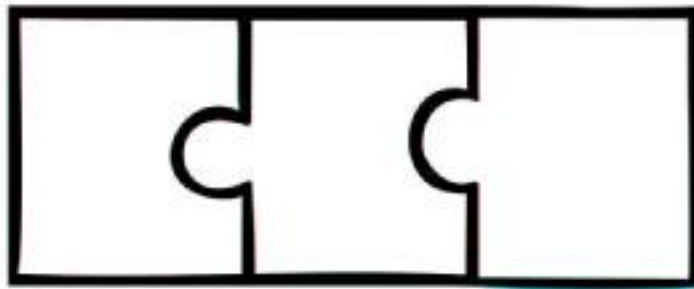
5. في المجال الفني برز فنانون إيطاليون مثل و

6. كتاب الأمير كتبه الكاتب


7. أكد البولوني أن كوكب الأرض من ضمن المجموعة الشمسية.

8. بدأ عصر النهضة في منتصف القرن 15 م ونهاية القرن 16 م في

السؤال الثاني: ما مظاهر النهضة الأوروبية في المجال العلمي؟ ★ ★



السؤال الثالث: علل قيام النهضة في أوروبا. ★ ★ ★
بين العوامل المساعدة على قيام النهضة الأوروبية.



هذا الدرس
بالبوابة
التعليمية



باستخدام أحد برامج الذكاء الاصطناعي Poe, Gemini
ابحث عن الفنان ليوناردو دافنشي والقصور والكنائس في أوروبا



Gemini

Copilot

12



حركة الاستعمار الأوروبي - صفحة 103

- تزامنت حركة الاستعمار الأوروبي مع الاكتشافات الجغرافية الكبرى.
- بلغت ذروتها مع قيام الثورة الصناعية في أوروبا في القرن 19، ان الاستعمار قد انحسر عن العالم الجديد.
- أصبح الاستعمار في إفريقيا وآسيا.

المرحلة الأولى: القرنان 17م و 18م

القرن 18م

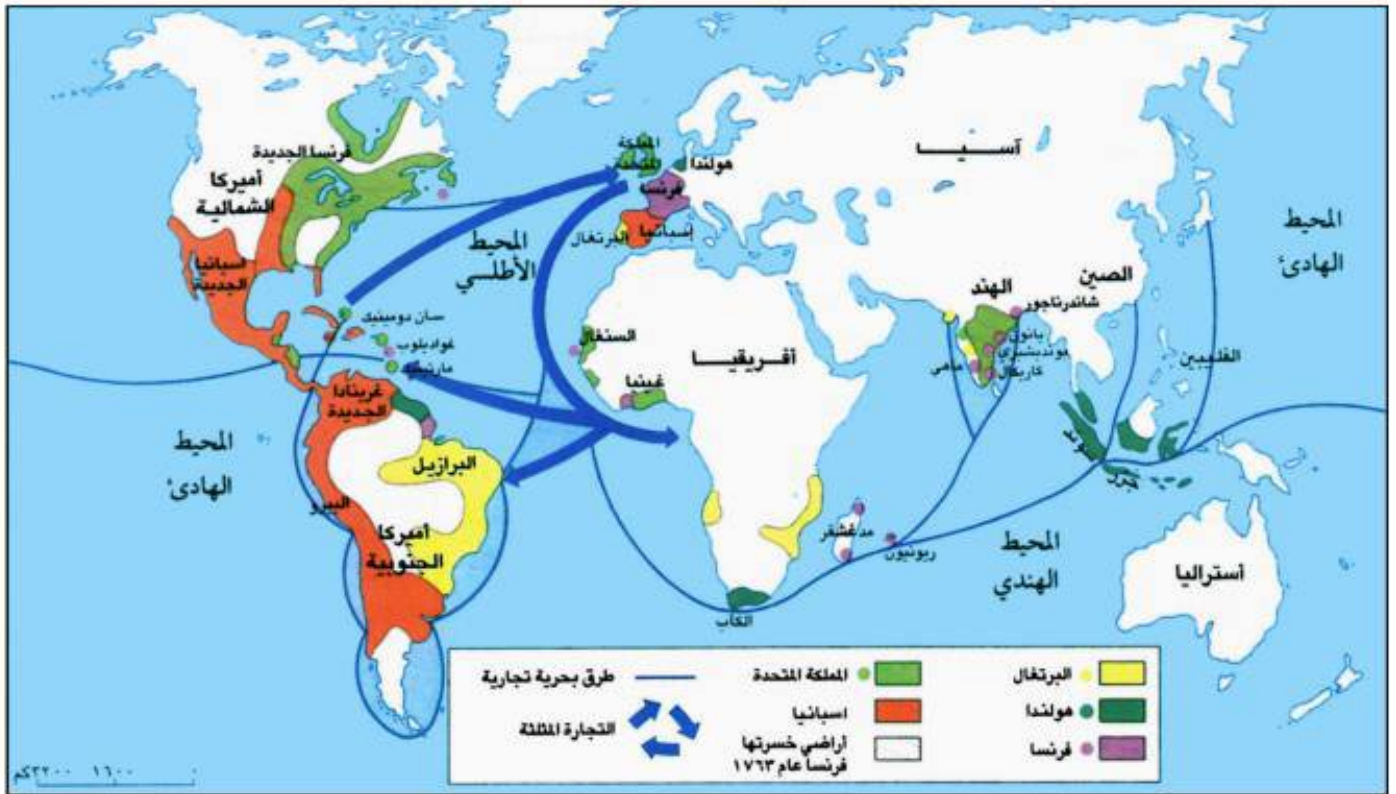
تراجع نفوذ البرتغال وإسبانيا
وهولندا تحت ضغط
فرنسا وبريطانيا

القرن 17م

هولندا- فرنسا- الانجلىز انطلقوا على خط المنافسة الاستعمارية

أواخر القرن 16م

الاسبان والبرتغال: قادم الإسبان
والبرتغال هذه الحركة كرواد
للاكتشافات الجغرافية



١) التوسع الاستعماري في القرن ١٨م

أدت حرب السبع [7] سنوات [1756-1763] إلى إبرام معاهدة باريس:

النتائج	الاطراف	حرب السبع سنوات
<ul style="list-style-type: none"> تنازلت فرنسا لبريطانيا عن جزء كبير من مستعمراتها في أمريكا وأفريقيا والهند. نتيجة حرب السبع سنوات هي إبرام معاهدة باريس. 	بريطانيا X فرنسا	

في ظل حركة الاستعمار نشأت التجارة المثلثة القائمة على:

- 1- شراء الرقيق من أفريقيا.
- 2- ونقلهم للعمل في مزارع أمريكا ومناجمها.
- 3- ثم نقل المواد الغذائية والمعادن الثمينة إلى أوروبا.

المرحلة الثانية: القرن 19 م

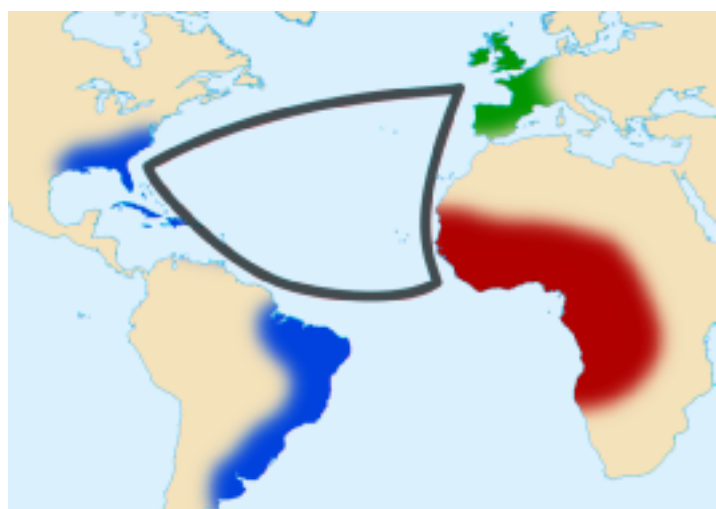
ب. اقتسام العالم

أ. الأسباب والعوامل المساعدة

أ. الأسباب والعوامل المساعدة			
العامل الديمغرافي والاجتماعي	العامل السياسي والاستراتيجي	البحث عن مجالات لاستثمار رؤوس الأموال	الثورة الصناعية
<ul style="list-style-type: none"> رأى عدد من القادة الانجليز في الاستعمار فرصا، توطين الفائض السكاني. حل لمشاكل البطالة التي احتدت بفعل الأزمة الاقتصادية. 	<ul style="list-style-type: none"> اعتبر جل القادة السياسيين الأوروبيين الاستعمار إحدى وسائل قوة الدولة الوطنية. خاصة ان المستعمرات مواقع استراتيجية في المنافسة الدولية. تعددت الأزمات بين الدول الاستعمارية ومن أشهرها أزمة فاشودا جنوب السودان بين فرنسا وبريطانيا 1898 م. أزمة المغرب بين فرنسا وألمانيا (1905-1912 م) 	<ul style="list-style-type: none"> تراكمت رؤوس الأموال في أوروبا نتيجة الازدهار الاقتصادي. البحث عن مجالات استثمار خارجية أمرا ملحا خاصة عند أزمة 1873 م. 1896 م 	<ul style="list-style-type: none"> أواخر القرن 18 م بدأت الثورة الصناعية في بريطانيا. امتدت الثورة إلى عدد من الدول الأوروبية وإلى الولايات المتحدة الأمريكية واليابان. يسرت الثورة الصناعية لازدهار إنتاج الأسلحة النارية ووسائل النقل الضرورية للحركة الاستعمارية. بالمقابل احتاجت المصانع الأوروبية مواد أولية من إفريقيا وآسيا.

ب. اقتسام العالم

القوى الاستعمارية الأخرى	الامبراطورية الاستعمارية الفرنسية	الامبراطورية الاستعمارية البريطانية
<ul style="list-style-type: none"> احتلت ألمانيا بلدا في جنوب شرق إفريقيا. استولت إيطاليا على ليبيا وإريتريا وشمال الصومال. الاحتلال الهولندي أخضع إندونيسيا. باجيكا احتلت الكونغو. احتلت البرتغال مواقع في غرب إفريقيا مثل أنغولا. وصلت روسيا التوسع في آسيا. اليابان احتلت منشوريا في شمال الصين. 	<ul style="list-style-type: none"> شملت 11 مليون كم². تألفت أساسا من إفريقيا الشمالية والغربية والاستوائية وكذلك الهند الصينية. 	<ul style="list-style-type: none"> شملت 30 مليون كم² في كل القارات. تألفت أساسا من الهند. إفريقيا الشرقية - مصر إضافة إلى محميات ومواقع جبل طارق. مالطا... شملت مستعمرات استيطانية مثل كندا. أستراليا - نيوزيلندا سكنها البيض وتمتعن باستقلال تدريجي.
<ul style="list-style-type: none"> الاستعمار هيمن على إفريقيا وآسيا. اتجهت دول الأمريكيتين إلى الاستقلال بدءا باستقلال الولايات المتحدة (1776م) اختلف الاستعمار من حيث الأهداف والوسائل والتنظيم بين بلدا وآخر. 		



الكفايات الرئيسية:

■ يتعرف على الأسباب والعوامل لحركة الاستعمار الأوروبي.



مهارات القرن ٢١



السؤال الاول: ضع دائرة حول الحرف الدال على الإجابة الصحيحة من بين البدائل الآتية: ★

1- حدثت حرب السبع سنوات (1756-1763) بين:

- أ/ بريطانيا وفرنسا
ب/ ألمانيا وإيطاليا
ج/ بريطانيا وروسيا
د/ هولندا والبرتغال

2- تقوم التجارة المثلثة على شراء الرقيق ونقلهم للعمل في مزارع ومناجم:

- أ/ أستراليا
ب/ أوروبا
ج/ أمريكا
د/ آسيا

3- بدأت الثورة الصناعية في

- أ/ النمسا
ب/ فرنسا
ج/ 19 إيطاليا
د/ بريطانيا

4- في أواخر القرن 16 م قاد حركة الاستعمار الأوروبي كلا من:

- أ/ إسبانيا والبرتغال
ب/ 1 إسبانيا وبريطانيا
ج/ 1 فرنسا وهولندا
د/ ألمانيا وبلجيكا

5- بلغت حركة الاستعمار الأوروبي ذروتها مع قيام الثورة الصناعية في:

- أ/ أوروبا
ب/ آسيا
ج/ بريطانيا
د/ أمريكا

Kahoot!

السؤال الثاني: ضع علامة [✓] أمام العبارة الصحيحة وعلامة [x] أمام العبارة الخاطئة: ★ ★

1. ☐ برزت البرتغال من خلال حركة الكشوف الجغرافية كدولة ذات موقع متقدم في حركة التوسع الاستعماري.
2. ☐ الدولة التي قادت حركة الاستعمار في أواخر القرن ال 16 هي بريطانيا.
3. ☐ بلغت حركة الاستعمار الأوروبي ذروتها مع قيام الثورة الصناعية في القرن العشرين ميلادي.
4. ☐ تقوم التجارة المثلثة على شراء الرقيق من أوروبا ونقلهم للعمل في مناجم أمريكا ثم نقل المواد الغذائية والمعادن الثمينة إلى أوروبا.

السؤال الثالث: صنف الدول الاستعمارية الآتية وفق المعطيات أدناه: ★ ★


▪ الدول الاستعمارية الأوروبية: بريطانيا، البرتغال، إسبانيا، فرنسا،




في القرن السادس عشر الميلادي	في القرن السابع عشر الميلادي

▪ يعد العامل الديموغرافي والاجتماعي أحد العوامل المساعدة على قيام حركة الاستعمار.

وضح ذلك.



▪ وضع الأسباب والعوامل المساعدة على قيام حركة الاستعمار الأوروبي في القرن التاسع عشر



18





ثالثًا: أكمل الجدول الآتي وفق المعطيات المثبتة أدناه:

الدولة المستعمرة	الدولة الاستعمارية
الكويت	بريطانيا
إريتريا	-----
سوريا	-----
مصر	-----
أندونيسيا	-----

ثانيًا: الجدول الذي أمامك يحتوي على مجموعة من الدول التي تعرضت للاستعمار. أكمل البيانات المطلوبة في الجدول أدناه:

الدولة	دولة الاستعمار
مصر	بريطانيا
الهند	
ليبيا	
الجزائر	
أندونيسيا	



الحرب العالمية الأولى 1914-1918م

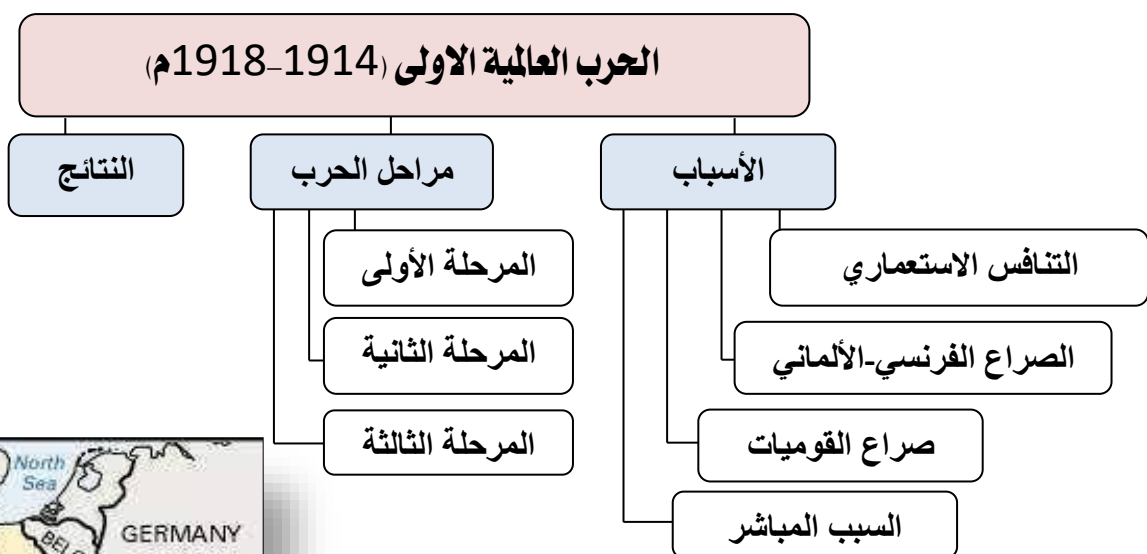


س: متى وقعت الحرب العالمية الاولى؟

في العقد الثاني من القرن العشرين 1914م.

س: علي: أطلق عليها اسم الحرب الكبرى؛

- مساحة رقعة عملياتها.
- نوعية الأساحة المستعملة فيها.
- عدد القتلى وعدد الجرحى الذين سقطوا.



الأسباب	
1/ التنافس الاستعماري	2/ الصراع الفرنسي-الألماني
<ul style="list-style-type: none"> عرف القرن 19م بقرن الاستعمار. سعت الدول الصناعية الكبرى إلى استعمار دول عديدة، لماذا؟ للحصول على المواد الأولية. الأيدي العاملة. الأسواق الاستهلاكية لمنتجاتها. فد شأبينها سباق محموم إلى التسلح. 	<ul style="list-style-type: none"> بدأ عندما <u>احتلت ألمانيا مقاطعتي الألزاس واللورين</u> <u>الضرد</u> سيتين 1870م. وفي بداية القرن العشرين أرادت <u>فرنسا</u> أن <u>تضم المغرب</u> إلى مستعمراتها وكانت دولة عربية مستقلة، إلى مستعمراتها في شمال إفريقيا. <u>تصدت لها ألمانيا</u> خوفا على مستعمراتها في إفريقيا الوسطى. <u>كادت تشب حرب</u> بين الدولتين لولا تدخل بريطانيا والولايات المتحدة حيث منحت ألمانيا قسما من الكونغو مقابل حصول فرنسا على المغرب.

4/ السبب المباشر	3/ صراع القوميات
<ul style="list-style-type: none"> 28/ يونيو/ 1914م: اغتيال طالب صربي ولي عهد النمسا «فرنسوا فرديناند» وزوجته في سراييفو عاصمة البوسنة. فاندلعت الحرب. 	<ul style="list-style-type: none"> أواخر القرن 19م تحررت معظم أراضي البلقان من السيطرة العثمانية. لكن الدول المستقلة فيها لم تستطع منع الإمبراطوريات الكبرى من التدخل بشؤونها. قامت النمسا بضم البوسنة والهرسك إلى أراضيها بالرغم من اعتراض الصرب. انقسمت أوروبا إلى قسمين: التحالف الثلاثي «النمسا - ألمانيا - إيطاليا» الوفاق الودي أو الثلاثي «فرنسا - بريطانيا - روسيا»

مراحل الحرب		
المرحلة الأولى	المرحلة الثانية	المرحلة الثالثة
<ul style="list-style-type: none"> معركة المارن 1915م: اقتصرت العمليات العسكرية على الجبهة الأوروبية. اجتاح الألمان بلجيكا وشمال فرنسا واستطاع الإنجليز والفرنسيين من إيقاف زحفهم في معركة مارن. 	<ul style="list-style-type: none"> تميزت بالثبات في المواقع «حرب الخنادق» دخول تركيا وبلغاريا الحرب إلى جانب ألمانيا والنمسا. معركة فردان 1916م: انتصر الإنجليز والفرنسيين على الألمان. قيام الأتراك بمحاولة فاشلة وهي تحرير قناة السويس وصر من قبضة الإنجليز. ثورة الشريف حسين في الحجاز بدعم من الإنجليز. 	<ul style="list-style-type: none"> 1917م: انسحاب روسيا معركة المارن الثانية



النتائج:

1. وقوع ملايين من القتلى والجرحى.
2. الدمار الهائل الذي حل بالأراضي الزراعية والتجمعات السكانية.
3. فشلت الحركة الاقتصادية في العالم كله.
4. على الصعيد السياسي: تغيير جذري في خريطة أوروبا السياسية.
5. قيام دول جديدة على حساب إمبراطوريات مثل ألمانيا والنمسا وروسيا الشيوعية.
6. الوطن العربي: تخلص من السيطرة التركية ليقع في قبضة الاستعمار أو الانتداب.
7. تأسيس عصبة الأمم التي أعلنها الرئيس الأمريكي ولسون.
8. تم عقد مؤتمر الصلح في باريس 1919م أعطى الدول المنتصرة مكاسب استعمارية جديدة.

22

LEAGUE OF NATIONS



SOCIÉTÉ DES NATIONS



شعار عصبة الأمم



هذا الدرس
بالبوابة
التعليمية





الدرس (28)

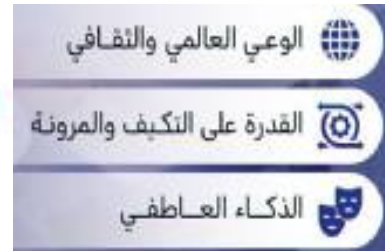
الحرب العالمية الأولى

الكفايات الرئيسية:

- يذكر أسباب الحرب العالمية الأولى.
- يوضح مراحل الحرب العالمية الأولى 1914-1918م
- يستنتج نتائج الحرب العالمية الأولى.



مهارات القرن ٢١



السؤال الأول: ضع دائرة حول رمز الإجابة الصحيحة من بين البدائل الآتية: ★

1. اندلعت الحرب العالمية الأولى في العقد الثاني من القرن:

- أ/ الثامن عشر
ب/ التاسع عشر
ج/ العشرين
د/ الحادي والعشرون

2. حدثت الازمة المغربية الثانية عام 1911م بين كل من:

- أ/ فرنسا وألمانيا
ب/ ألمانيا وإيطاليا
ج/ فرنسا وبريطانيا
د/ بريطانيا وألمانيا

السؤال الثاني: أكمل المخطط الزمني التالي حسب ما يناسبه من الكلمات التالية: ★ ★

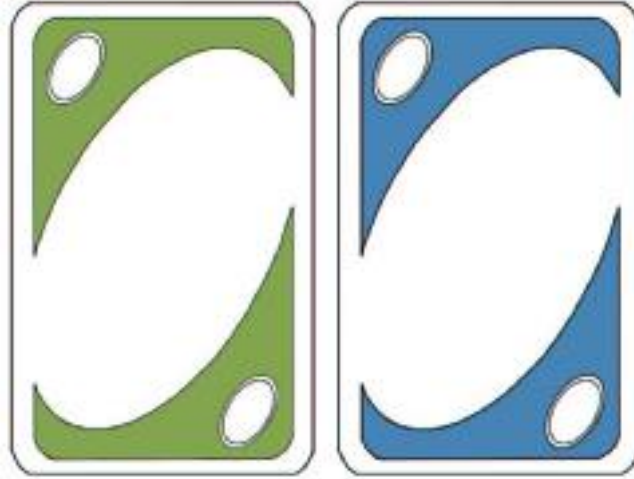
انتهاء الحرب	معركة المارن	معركة المارن الثانية	معركة الضردان
--------------	--------------	----------------------	---------------




1919	1918	1916	1915	1914
مؤتمر الصلح	(1) +			بداية الحرب العالمية الأولى
	(2)			

السؤال الثالث: أجب عن الاسئلة الآتية: ★ ★ ★


1- علل سميت الحرب العالمية الأولى بالحرب الكبرى.



3. أذكر أسباب الحرب العالمية الأولى



4. اذكر نتائج الحرب العالمية الأولى (1914-1918م)





نشاط علاجي

الحرب العالمية الأولى

السؤال الثالث: أكمل الجدول التالي: ★ ★ ★

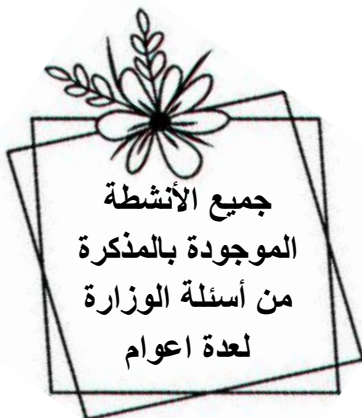
الحدث	الأطراف	النتائج
معركة الفردان 1916	(1) (2)	•
معركة المارن الثانية 1915	(1) (2)	•

25



10 علامات (الجنول)

الحدث	الأطراف	النتائج
معركة الفردان 1916	الانجليز + الفرنسيين ضد الألمان (كل طرف علامة)	انتصار الانجليز والفرنسيين أو هزيمة الألمان (علامتان ويكتفى بنقطة واحدة)
معركة المارن 1915	الانجليز + الفرنسيين ضد الألمان (كل طرف علامة)	إيقاف زحف الألمان (علامتان ويكتفى بنقطة واحدة)





مبادرة

الحرب العالمية الأولى

ابحث عن طريق الانترنت أو تطبيقات الذكاء الاصطناعي عما يلي مع لصق صور تدعم البحث.



Gemini

☐ نوعية الأسلحة المستعملة فيها.

☐ مع ذكر المصدر للمعلومة.



☐ عدد القتلى والجرحى الذين سقطوا بالحرب.

☐ مع ذكر المصدر للمعلومة.





مبادرة

الحرب العالمية الأولى

ابحث عن طريق الانترنت أو تطبيقات الذكاء الاصطناعي عما يلي مع لصق صورتدعم البحث.



الطالب الصربي الذي قتل
ولي عهد النمسا وزوجته



التغذية الراجعة [المعلم]			
ممتاز	جيد جدا	جيد	مرضي
الوصف	التعزيز	التطوير	
<input type="checkbox"/> اجابتك سليمة من الالخطاء .	<input type="checkbox"/> شكرا لك والى الامام دائما.	<input type="checkbox"/> صححي الالخطاء مستعينة بالكتاب.	
<input type="checkbox"/> وظفت المطلوب منك	<input type="checkbox"/> اقدر جهودك .	<input type="checkbox"/> تدريبي أكثر مستعينة بالكتاب.	
<input type="checkbox"/> عملك رائع ومتقن	<input type="checkbox"/> سعدت بمحاولاتك .	<input type="checkbox"/> ستنجزين أفضل بانتباهك للدرس.	
<input type="checkbox"/> اجابتك متميزه .	<input type="checkbox"/> تطور ملحوظ واصلي العطاء.	<input type="checkbox"/> راجعي اجابتك وأكمليلها.	
التاريخ ، الدرجة ،			
توقيع ولي الامر <input type="checkbox"/> ملاحظات			

التآمر الاستعماري على المشرق العربي - الانتداب

س1: في القرن 19م شنت الدول الأوروبية هجمة استعمارية شرسة على الوطن العربي فاستعمرت عدة دول...فما هي؟

الدولة الاستعمارية	دول الوطن العربي
فرنسا	الجزائر / تونس / المغرب
بريطانيا [انجليزي]	مصر
إيطاليا	ليبيا

س2: التآمر الاستعماري الأوروبي على العرب خلال الحرب تمثل في:

<p>1. اتفاقية سايكس - بيكو 1916م.</p> <p>2. وعد بلفور 1917م</p> <p>3. مؤتمر سان ريمو 1920م</p>	<p>توقع العرب أن يفي الحلفاء بوعدهم عندما ثاروا على الأتراك العثمانيون 1916م. بحصولهم على الحرية والاستقلال بعد انتهاء الحرب. لم يكن توقع العرب صحيحا لأن الحلفاء كانت خططهم تنص على تقسيم المنطقة فيما بينهم. □</p>
--	--

صور التآمر الاستعماري على العرب كما يلي: -

المؤتمر أو الاتفاقية	السنة	الدول المشاركة	المقر	البنود [التقسيمات]
اتفاقية سايكس - بيكو [الاتفاقية السرية]	1916م	[فرنسا + بريطانيا] - مندوب وزارة الخارجية البريطاني [مارك سايكس] - ممثل فرنسا [جورج بيكو] - ومشاركة المندوب الروسي	في روسيا بطرسبرغ مدينة سانت	1. تقاسم سوريا بين الإنكليز وفرنسا 2. حصلت روسيا شرق الأناضول 3. أقيمت في فلسطين منطقة دولية
وعد بلفور	1917م	وزير خارجية بريطانيا [بلفور]		1. رغبة بريطانيا في إقامة وطن قومي لليهود في فلسطين.

المؤتمر	السنة	الدول المشاركة	المقر	البنود [التقسيمات]
مؤتمر الصلح	1919م	الدول المنتصرة في الحرب العالمية الأولى	ب. ب. ب. ب.	1. تقسيم غنائم الحرب بين الدول المنتصرة. 2. أهملت هذه الدول مطالب الأمير فيصل بوحدة العرب واستقلالهم. وعاد إلى سوريا حيث أعلن زعماء الشام استقلال سوريا وفلسطين و لبنان تحت حكمه.
مؤتمر سان ريمو	1920م	الحلفاء [فرنسا وبريطانيا]	مدينة سان ريمو في إيطاليا	1. تنظيم الانتداب في المشرق العربي وفقا لاتفاقية سايكس بيكو. 2. تعديل بسيط على اتفاقية سايكس بيكو بجعل فلسطين تحت الانتداب البريطاني عينت فرنسا الجنرال [غورو] مندوب على سوريا.

الانتدابان الفرنسي والبريطاني أو تنفيذ المؤامرة:

29



سوريا تحت الانتداب الفرنسي	<p>1. بموجب مؤتمر سان ريمو 1920 بتعين الجنرال [غورو] مندوب رسمي على سوريا.</p> <p>2. أرسل [غورو] إنذار من مقره في بيروت إلى الملك فيصل لمغادرته الشام فورا.</p> <p>3. رفض الشعب السوري إنذار [غورو].</p> <p>4. زحف الجيش الفرنسي لدمشق في ميسلون لمواجهة الجيش السوري بقيادة [يوسف العظمة] واحتلال الجيش الفرنسي سوريا 14 يوليو 1920م.</p> <p>نتائج معركة ميسلون:</p> <p>1. قيام دولة لبنان الكبير.</p> <p>استحداث أربع دويلات في سوريا نفسها.</p>
----------------------------	--



1. سعت بريطانيا من اليوم الأول بجعل العراق مستعمرة بريطانية مثل الهند.
2. أثارت بريطانيا الفتن بين الأكراد والعرب.
3. انتفاضة العراقيون ضد بريطانيا 1920م.
4. مما أجبر بريطانيا بتعيين الملك فيصل ابن الشريف حسين ملكا على العراق.

العراق تحت
الانتداب
البريطاني

1. الانتداب البريطاني اتبع سيا سة تنفيذ وعد بلفور.
2. فتح أبواب فلسطين أمام هجره يهودية مكثفة.
3. قام الفلسطينيون بالعديد من الثورات ضد بريطانيا
4. أكثرها شدة 1936 و1939م

المؤامرة على فلسطين



٢) تقسيمات مؤتمر سان ريمو عام ١٩٢٠م

31



الكفايات الرئيسية:

■ يوضح صور التآمر الاستعماري على العرب.



مهارات القرن ٢١



السؤال الاول: ضع علامة [✓] أمام العبارات الصحيحة وعلامة [x] أمام العبارات الخاطئة: ★

1. ☐ نتج عن مؤامرة سان ريمو الذي عقد عام 1920م تنظيم الانتداب في المغرب

العربي.

2. ☐ تمكن الفرنسيون في معركة ميسلون من دخول مدينة بغداد.

3. ☐ أثارت بريطانيا الضن بين الأكراد والعرب.

4. ☐ إقامة وطن قومي لليهود في فلسطين من بنود مؤتمر سان ريمو.

5. ☐ وزير الخارجية البريطاني الذي أصدر وعدا ينص على إقامة دولة اليهود على أراضي

فلسطين هو هتلر.

6. ☐ تم توقيع اتفاقية سايكس بيكو عام 1916م في مدينة سان بطرسبرغ.

7. ☐ شهد القرن 19م هجمة استعمارية شرية على الوطن العربي.

8. ☐ بموجب مؤتمر سان ريمو عينت فرنسا مندوبا رسميا لها على سوريا هو غورو.

السؤال الثاني: صنف نتائج المؤتمرات على دول المشرق العربي وفقا للمعاهدات والاتفاقيات التالية بوضع علامة (✓) أمام العبارات في الجدول التالي: ★ ★



المعاهدات والاتفاقيات			نتائج المؤتمرات
مؤتمرات سان ريمو	وعد بلفور	معاهدة سايكس بيكو	
			تقاسم سوريا والعراق بين فرنسا وانجلترا.
			تنظيم الانتداب على المشرق العربي وفقا لسايكس - بيكو
			إقامة منطقة دولية في فلسطين
			إقامة دولة اليهود على أراضي فلسطين
			وضع فلسطين تحت الانتداب البريطاني

33


السؤال الثالث: أجب عن الأسئلة الآتية ★ ★ ★

1. تحدث عن اتفاقية سايكس بيكو من خلال سنة حدوثها، مكان التوقيع، أطراف


الاتفاقية:



2. تحدث عن مؤتمر سان ريمو من خلال: اسنة حدوثه- مكان المؤتمر- هدف المؤتمر

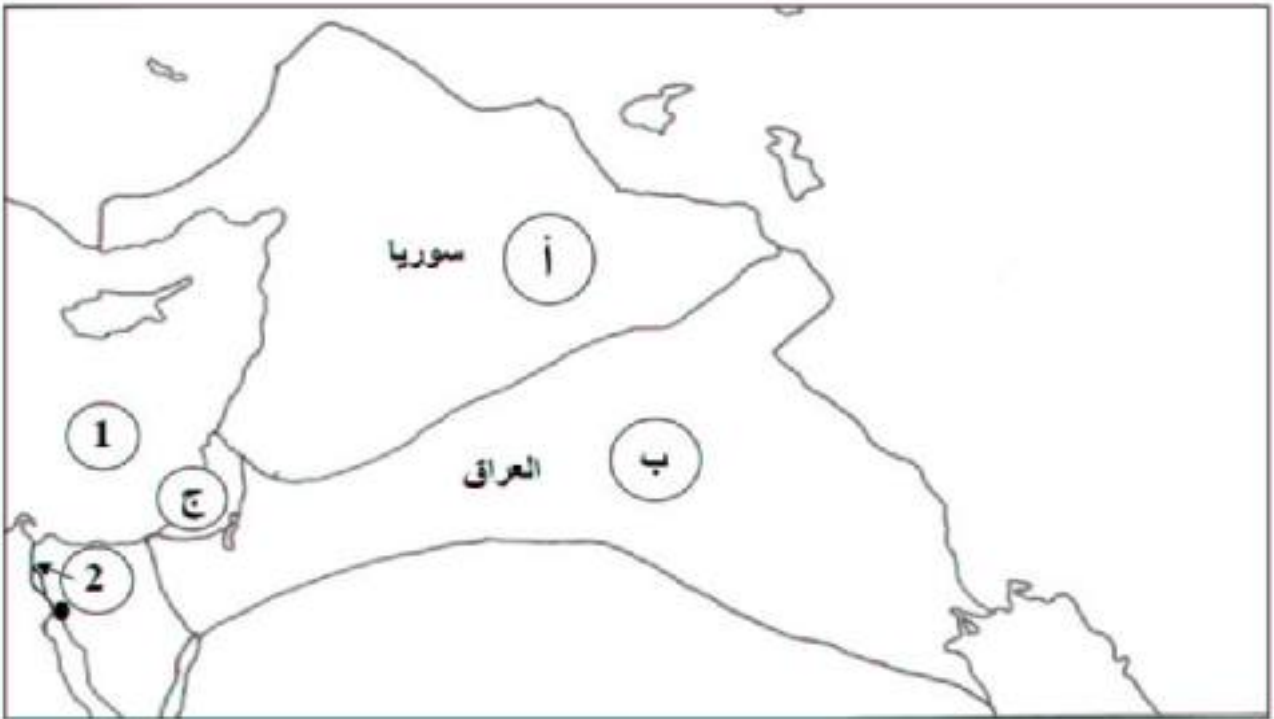


3. تحدث عن وعد بلفور من خلال: اسنة الوعد- وظيفة بلفور- فكرة الوعد



جميع الأنشطة
الموجودة بالمذكرة
من أسئلة الوزارة
لعدة اعوام

أمامك خريطة صماء توضح تقسيمات اتفاقية سايكس بيكو سنة 1916م. لاحظ الخريطة جيدا ثم أجب عن الأسئلة التي تليها:



• المنطقة (أ) خضعت للسيطرة والنفوذ :

• المنطقة (ب) خضعت للسيطرة والنفوذ:

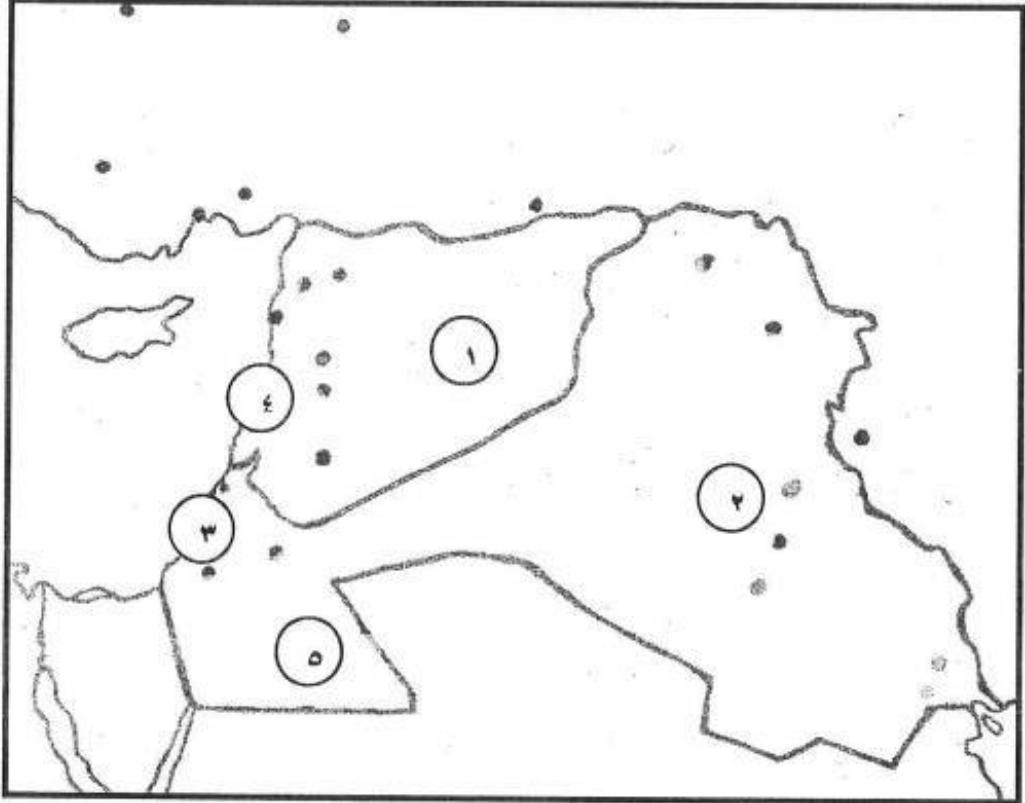
• اسم المنطقة الدولية (ج):

• الرقم (1) اسم المسطح المائي:

• الرقم (2) اسم قناة :



ثانيًا: اكتب ما تمثله الأرقام الواردة على الخريطة بالجدول الذي أمامك حسب البيانات الواردة فيه:



الدولة الأوروبية الاستعمارية	الدولة العربية	الرقم على الخريطة
		١
		٢
		٣
		٤
		٥

الأزمات الدولية 1919-1939م

توقف الحرب العالمية الأولى	انعقاد مؤتمر السلام	قيام عصبة الأمم المتحدة
كل ذلك من شأنها تحقيق سلام دائم وعادل بالعالم، ولكن الوضع عاد إلى التوتر بسبب: ▪ اتفاقيات السلام. تردي الأوضاع الاقتصادية.		

الخريطة المفاهيمية للدرس:

الأزمات الدولية 1919م-1939م		
انعكاسات اتفاقيات السلام	الأزمة الاقتصادية العالمية 24 أكتوبر/ 1929م [الخميس الأسود]	التوتر الدولي 1931م-1938م

أولاً: انعكاسات اتفاقية الصلح
على العالم بعد الحرب العالمية الأولى

الاتحاد السوفيتي [روسيا]



1917م	<ul style="list-style-type: none"> معاهدة <u>برست- ليتوفسك</u> بسبب هذه المعاهدة خسرت روسيا مساحات شاسعة من أراضيها.
1924م	<ul style="list-style-type: none"> وصل <u>ستالين</u> إلى الحكم في الاتحاد السوفيتي. التخطيط لاستعادة ما خسرت بلاده في أثناء الحرب. وبناء دولة قوية.

قيام إيطاليا [الفاشية]



1919م	<ul style="list-style-type: none"> لم يحقق مؤتمر الصلح 1919م مطالب إيطاليا بأعطائها مستعمرات تريدها.
1922م	<ul style="list-style-type: none"> عانت إيطاليا مشاكل اقتصادية بعد الحرب. عمت البطالة. نشطت الحركة الشيوعية مستغلة الأزمة في البلاد. نتيجة لهذا الوضع ظهر الحزب الفاشي بزعامة <u>بنيتو موسوليني</u>. قوي شأن الحزب الفاشي وأصبح موسوليني حاكم مطلق الصلاحيات.

قيام ألمانيا النازية

■ بعد انتهاء الحرب قامت في ألمانيا أزمستان خطيرتان وهما:

1. أزمة في الأوضاع الاقتصادية والاجتماعية.
2. أزمة سياسية: رفض الشعب الألماني لمعاهدة فرساي 1919م.

لماذا؟

بسبب اخضاعها للبلاد.

1919م

■ استغل أدولف هتلر زعيم الحزب الاشتراكي الوطني الحزب النازي هذه الأزمات في صالحة.

■ أصبح يدعو الألمان إلى الانضمام إلى حزبه. لماذا؟ ليوحد ألمانيا أرضاً وشعباً.

رفض هتلر معاهدة فرساي وتمجيد العرق الآري.

■ تمكن هتلر بفضل أفكاره من السيطرة على الحكم عن طريق الانتخابات والديمقراطية.

1933م

ثانياً: الأزمة الاقتصادية العالمية

24 أكتوبر 1929م - الخميس الأسود

النتائج	الاسباب	المكان والسنة
<ol style="list-style-type: none"> 1 تراجع القدرة الشرائية لدى المواطنين. 2 اقفال العديد من المصانع. 3 تسريح ملايين من العمال. 4 الكساد في الانتاج الزراعي. 	<ol style="list-style-type: none"> 1 تضخم في الانتاج أدى إلى انهيار الأسعار. 2 المضاربة في البورصة حيث بيعت الأسهم بأسعار تفوق قيمتها الحقيقية. حيث سعى المساهمون لتخلص منها 3 ارتباط الاقتصاد العالمي برأس المال الأمريكي. 	الولايات المتحدة الأمريكية 24/أكتوبر/1929م
نعم. بسبب العلاقات التجارية الوثيقة بينها وبين الولايات المتحدة الأمريكية.		س، هل وصلت الأزمة إلى أوروبا؟



ثالثا: التوتر الدولي 1931-1938م

<p>س. وضح مظاهر التوتر الدولي بين 1931-1938م</p> <p>○ تراجع نفوذ الأنظمة الديمقراطية في مواجهة تصاعد قوة الأنظمة الدكتاتورية.</p> <p>مثل أمريكا: الأنظمة الديمقراطية</p> <p>○ عادت إلى سياسة العزلة.</p> <p>○ انشغلت بمعالجة نتائج الأزمة الاقتصادية 1929م.</p>	<p>مثل بريطانيا + فرنسا: الأنظمة الدكتاتورية</p> <p>علل: عدم الاستقرار في الأوضاع السياسية الداخلية</p> <p>○ بسبب صراع أحزاب اليمين واليسار على الحكم.</p>
---	--

تمكن كل من النظامين «الفاشي في إيطاليا» و«النازي في ألمانيا» من بناء جيوش قوية لتحقيق أهدافها التوسعية

1936م

(إيطاليا) هاجم موسوليني الحبشة واحتلها.

1938م

(ألمانيا) ضم هتلر النمسا ومنطقة السوديت (التشيكوسلوفاكية)، واعتراض فرنسا وبريطانيا على هذه الخطوة. عقد مؤتمر (ميونيخ)

1938م

مؤتمر ميونيخ

المؤتمر	الأطراف	النتائج
مؤتمر ميونيخ 1938م	✗ ألمانيا ✗ بريطانيا + فرنسا	<ul style="list-style-type: none"> اجبر هتلر في المؤتمر كل من فرنسا وبريطانيا الاعتراف بحقة في النمسا والسوديت. أكد هتلر من تفوق قوته العسكرية. أيقن الحلفاء انهم لن يستطيعوا أن يوقفوا مشاريع هتلر التوسعية. وأن الحرب واقعة لا محالة. بدأت كل قوة تعزز قوتها العسكرية استعدادا للحرب.

بهذا يعتبر مؤتمر ميونيخ من مقدمات الحرب العالمية الثانية.



الدرس (30)

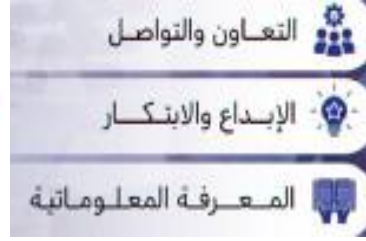
الأمم المتحدة 1919-1939م

الكفايات الرئيسية:


- يوضح انعكاسات اتفاقيات الصلح على العالم بعد الحرب العالمية الأولى 1914-1918م.



مهارات القرن ٢١



السؤال الأول: وضح انعكاسات اتفاقيات الصلح على العالم بعد الحرب العالمية الأولى 1914-1918م. ★



السؤال الثاني: وضح الأزمة الاقتصادية 24 أكتوبر 1929م من خلال الأسباب والنتائج. ★ ★



السؤال الثالث: باستخدام مهارة الخرائط المفاهيمية أعدي خريطة مفاهيمية للدرس من
ابداعك!
بأمكانك استخدام أحد البرامج الإلكترونية لعمل الخريطة المفاهيمية. ★ ★ ★



الحرب العالمية الثانية 1939-1945م

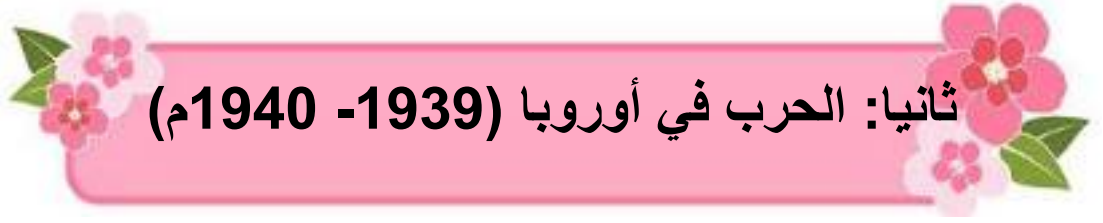
الخريطة المفاهيمية للدرس:

الحرب العالمية الثانية 1939-1945م		
المقدمات	الحرب	نتائج الحرب
1. الحرب في أوروبا		
2. تدويل الحرب		
3. تراجع المحور وانتصار الحلفاء		



أولاً: مقدمات الحرب 1939م الأسباب المباشرة

تابع كل من [هتلر] ألمانيا و[موسوليني] إيطاليا عملياتهما التوسعية.	
ألمانيا [هتلر]	إيطاليا [موسوليني]
احتل منطقة بوهيميا - مورافيا التشييكوسلوفاكية.	اجتاحت الجيوش الإيطالية ألبانيا
1939م	
معاهدة الحلف الفولاذي [ألمانيا + إيطاليا]	قام هتلر [ألمانيا] بتوقيع معاهدة الحلف الفولاذي مع موسوليني [إيطاليا].
معاهدة عدم الاعتداء [ألمانيا + الاتحاد السوفيتي]	قام هتلر بتوقيع معاهدة عدم الاعتداء مع الاتحاد السوفيتي.
<ul style="list-style-type: none"> وجهت ألمانيا إنذاراً إلى بولندا بوجوب إعادة مدينة دانترغ الحرة إلى الوطن الأم. لكن بولندا رفضت الإنذار. فاجتاحتها الجيوش الألمانية. أعلنت بريطانيا وفرنسا وهما الضامنتان لاستقلال بولندا [بولونيا] الحرب على ألمانيا. 	



ثانيا: الحرب في أوروبا (1939-1940م)

1940م

بعد اجتياح هتلر بولندا وتقاسم أراضيها مع الاتحاد السوفيتي.

- احتل هتلر الدنمارك - النرويج
- شن هتلر هجوم على هولندا - بلجيكا - فرنسا
- فاجأ العالم باحتلال باريس في الوقت نفسه كان الجيش الإيطالي يتقدم في الأراضي الفرنسية من جبال الألب.
- قام المارشال الفرنسي بيتان رئيس الوزراء الفرنسي بتوقيع هدنة 22-يونيو-1940م مع الألمان.
- سؤال من الوزارة: صحي ما تحته خط: وقع اتفاق هدنة مع الألمان في يونيو 1940م المارشال الفرنسي ديغول. بيتان
- رفض الاستسلام فهرب الجنرال ديغول مع أنصاره إلى الجزائر ومن ثم إلى بريطانيا
- أعلن قيام فرنسا الحرة في المنفى.
- بقيت بريطانيا وحيدة في مواجهة ألمانيا وإيطاليا اللتان سيطرتا على معظم الأراضي الأوروبية.

التحالفات في بداية الحرب 1939م		التحالفات بين 1941م - 1945م	
الحلفاء	المحور	الحلفاء	المحور
بريطانيا فرنسا بولونيا [بولندا]	ألمانيا إيطاليا	بريطانيا فرنسا الحرة الولايات المتحدة الأمريكية الاتحاد السوفيتي	ألمانيا إيطاليا [إيطاليا 1943م] اليابان

ثالثاً: تدويل الحرب 1941م

ثالثاً: تدويل الحرب 1941م
<p>علي تدويل الحرب العالمية الثانية سنة 1941م من امتحان الوزارة: علي تدويل الحرب العالمية الثانية سنة 1941م</p> <p>1 اجتاحت جيوش ألمانيا الاتحاد السوفيتي بالرغم من [معاهدة عدم الاعتداء] المعقودة بين الطرفين. الا أن الجيش الأحمر أوقف الاجتياح على أبواب موسكو.</p> <p>سؤال من الوزارة: علي لما يأتي: دخول الولايات المتحدة الأمريكية الحرب العالمية الثانية ضد دول المحور سنة 1941م. علل لما يأتي: دخول الولايات المتحدة الأمريكية الحرب العالمية الثانية ضد دول المحور سنة 1941م.</p> <p>2 دمر سلاح الطيران الياباني الأسطول الأمريكي الذي كان راسياً في ميناء [بيرل هاربور] في جزر هاواي. أعلنت الولايات المتحدة الأمريكية الحرب على دول المحور [ألمانيا + إيطاليا + اليابان] وأرسلت قواتها براً وبحراً، جواً إلى مناطق النزاع.</p>

رابعاً: تراجع المحور وانتصار الحلفاء 1942-1945م

1942م
<p>سؤال وزارة: صححي ما تحته خط: انتصر الإنجليز في الجبهة الأفريقية على الألمان عام 1942م في معركة ستالينغراد. [العلمين]</p> <p>سؤال من الوزارة: أكمل العبارات:</p> <p>1. انتهت معركة العلمين على الجبهة الأفريقية سنة 1942م بانتصار الإنكليز على</p> <ul style="list-style-type: none"> • انتصار الأمريكيين على اليابانيين في المحيط الهادي. • انتصار بريطانيا على الألمان في معركة العلمين على الجبهة الأفريقية. • سحق الجيش الأحمر السوفيتي الألمان في معركة ستالين غراد الشهيرة 1942م وتقدم داخل برلين.

1943م	
• أنزل الحلفاء قواتهم في إيطاليا فسقط النظام الفاشي.	
1944م	1945م
<ul style="list-style-type: none"> • نزلت جيوش الحلفاء في النورماندي [شواطئ في شمال فرنسا] ويطلق عليها معركة النورماندي، وتم تحرير فرنسا من الاحتلال الألماني. 	<ul style="list-style-type: none"> • التقى الجيوشان السوفيتي والأمريكي في قلب ألمانيا، انتحرو هتلر، أعلنت ألمانيا استسلامها. • ألقى الأمريكيون قنبلتين ذريتين على [هيروشيما] و[ناكازاكي] في اليابان.

خامسا: نتائج الحرب العالمية الثانية 1939-1945م

خامسا: نتائج الحرب العالمية الثانية 1939م - 1945م
<p>سؤال الوزارة: ما نتائج الحرب العالمية الثانية عام 1939م-1945م؟</p> <p>س: ما نتائج الحرب العالمية الثانية عام 1939م-1945م؟</p> <ol style="list-style-type: none"> 1 ظهور دولتين عملاقتين جديدتين وهما الولايات المتحدة الأمريكية والاتحاد السوفيتي. 2 نشبت الحرب الباردة بين هاتين الدولتين سنة 1948م. 3 قيام هيئة الأمم المتحدة [1945م-1946م] 4 تراجع سيطرة أوروبا.





مهارات القرن ٢١



السؤال الاول: ضع دائرة حول الحرف الدال على الإجابة الصحيحة من بين البدائل الآتية: ★

1- استطاع الانجليز تحقيق النصر على الألمان على الجبهة الأفريقية سنة 1942م في

معركة:

ب/ العلمين

أ/ الفردان

د/ ذات الصواري

ج/ المارن

2- من نتائج الحرب العالمية الثانية:

ب/ انتصار دول المحور

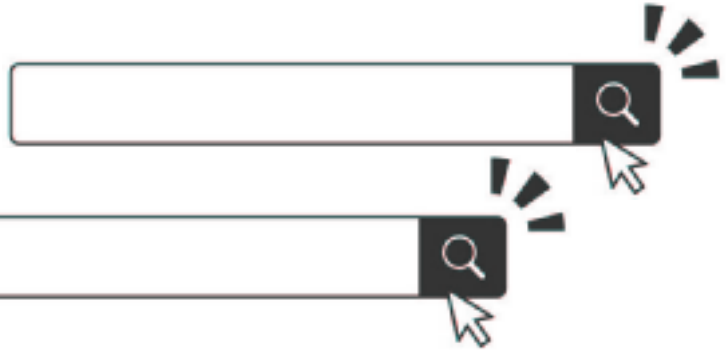
أ/ إنشاء عصبة الأمم

د/ عقد معاهدة فرساي

ج/ تراجع سيطرة أوروبا

السؤال الثاني: وضح ما يلي: ★ ★

1- نتائج الحرب العالمية الثانية:



2- ثلاثة من الانتصارات التي حققها الحلفاء على المحور خلال الفترة 1942-1945 من

الحرب العالمية الثانية:



السؤال الثالث: علل ما يلي: ★★★

▪ دخول الولايات المتحدة الأمريكية الحرب العالمية الثانية ضد دول المحور سنة 1941 م.



101

▪ تدويل الحرب العالمية الثانية.

101

101

101



■ أكمل الخط الزمني لأبرز أحداث الحرب العالمية الثانية.
بكتابة الأحداث التاريخية الآتية في أماكنها الصحيحة:

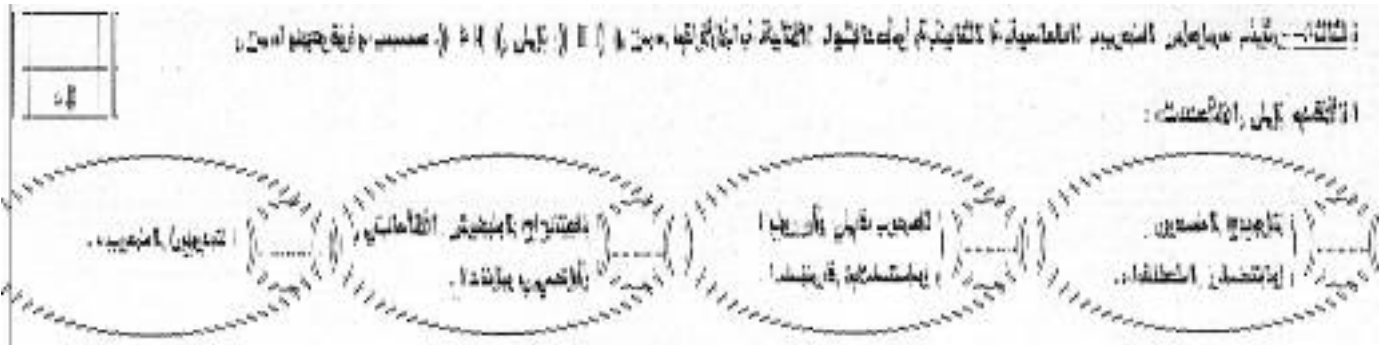
٩	(تدويل الحرب - معركتا العلمين وستالينغراد - بداية الحرب العالمية الثانية -						
	نهاية الحرب العالمية الثانية - سقوط النظام الفاشي الإيطالي - الاحتلال الألماني لفرنسا) .						
	١٩٣٩م	١٩٤٠م	١٩٤١م	١٩٤٢م	١٩٤٣م	١٩٤٤م	١٩٤٥م
						تحرير فرنسا	
						من الاحتلال	
						الألماني	





نشاط علاجي

الحرب العالمية الثانية 1939-1945م



50

اكتب الاطراف المتنازعة في المعارك الآتية وواحدة من النتائج المترتبة عنها في الجدول ادناه:

المعارك	الاطراف المتنازعة	النتائج
معركة العلمين 1942م
معركة ستالينغراد 1942م



حركات الاستقلال في المشرق العربي

قيام المشرق العربي بتحركات وطنية ناشطة ضد الانتدابين الفرنسي والبريطاني. 1920م



استقلال دول المشرق العربي

1936-1946م [سوريا و لبنان] [استعمار فرنسي]

سوريا

الأحداث	السنة
<ul style="list-style-type: none"> استبدال الاستعمار الفرنسي بالانتداب الفرنسي. معاهدة تحالف بين البلدين. 	1936م
<ul style="list-style-type: none"> أعلن كاترو ممثل حكومة فرنسا الحرة. في القاهرة بإلغاء الانتداب الفرنسي على سوريا ولبنان. اعتراف فرنسا باستقلالهما [سوريا / لبنان] 	1941م
<ul style="list-style-type: none"> جرت انتخابات نيابية. انتخب المجلس النيابي الجديد شكري القوتلي رئيسا لسوريا. رفضت فرنسا طلب الحكومة السورية بأجلاء الجيش الفرنسي عن أراضيها. وقعت صدامات عنيفة بين الجيش الفرنسي والشعب السوري واستمرت حتى تم الجلاء في سنة 1946م. 	<u>1943م</u>



1936-1946م [سوريا و لبنان] [استعمار فرنسي]

لبنان

السنة	الأحداث
1943م	<ul style="list-style-type: none"> جرت انتخابات نيابية. انتخب المجلس النيابي [بشارة الخوري] رئيسا الى لبنان [اول رئيس لبناني بعد الاستقلال] وقام بتشكيل حكومة وطنية. وامام مماطلة فرنسا في إعلان استقلال لبنان اجتمع مجلس النواب اللبناني بطلب من حكومة الصلح وقاموا بتعديل الدستور. والغاء جميع المواد المتعلقة بالانتداب. فقام الانتداب الفرنسي باعتقال الزعماء الوطنيين. عمت المظاهرات في لبنان واجبرت فرنسا على الاعتراف باستقلال لبنان سنة 1943م



بشارة الخوري

52


1921-1958م العراق [استعمار بريطاني]

السنة	الأحداث
1921م	<ul style="list-style-type: none"> نصب فيصل بن الحسين ملكا على العراق.
1932م	<ul style="list-style-type: none"> اعترفت بريطانيا باستقلال العراق، ولكن ظلت السلطة الفعلية للمندوب البريطاني.
	<ul style="list-style-type: none"> ومع اندلاع الحرب العالمية الثانية رأى بعض القادة العراقيين بأنه لا سبيل للتخلص من الحماية البريطانية الا بالتحالف مع الألمان. من امتحان الوزارة 2017-2018، ضع علامة [✓] أو [x] تحالف العراقيون مع الألمان خلال الحرب العالمية الثانية بهدف التخلص من الحماية البريطانية []
1941م	<ul style="list-style-type: none"> وقع انقلاب الذي أطاح بالنظام الملكي في العراق وقطع علاقاتها مع بريطانيا. إلا أن بريطانيا أنزلت قواتها في البصرة واحتلت بغداد. أعادة الحكم الى الوصي على العرش [الأمير عبد الله]. وبذلك قامت حكومات مواليه لبريطانيا.
1955م	<ul style="list-style-type: none"> وافقت على دخول العراق في حلف بغداد.
1958م	<ul style="list-style-type: none"> عارض العراقيون على سياسة الهيمنة البريطانية على العراق. قيام ثورة قضت على الحكم الملكي وأعلنت الجمهورية.



الأمير عبد الله

1922-1956م مصر (استعمار بريطاني)	
السنة	الأحداث
	<ul style="list-style-type: none"> • ظلت مصر اسمياً ولاية عثمانية. • بعد الحرب العالمية الأولى أصبحت مصر تحت السيطرة البريطانية.
1917م	• وصل السلطان فؤاد الأول إلى العرش.
1922م	• اتخذ لنفسه لقب «ملك».
	<p>الحزب الذي أنشأه قائد الحركة الوطنية المصرية سعد زغلول يسمى</p> <p>سعد زغلول: قائد الحركة الوطنية المصرية المطالبة بالاستقلال.</p> <ul style="list-style-type: none"> • أنشأ حزب الوفد. • اضطر الملك فؤاد بتكليف سعد زغلول لرئاسة الوزراء.
1936م	<p>من امتحان الوزارة، وضعي بنود المعاهدة البريطانية المصرية سنة 1936م التي توجت نضال حزب الوفد؛</p> <p>وضعي بنود المعاهدة البريطانية المصرية سنة 1936م التي توجت نضال حزب الوفد؛</p> <p>توج نضال حزب الوفد بمعاهدة بريطانية - مصرية نصت على:-</p> <ol style="list-style-type: none"> 1- انسحاب جيش الاحتلال البريطاني إلى منطقة القناة. 2- حماية الأجانب في مصر على عاتق الحكومة المصرية.
1952م	<p>ثورة الضباط الأحرار</p> <ul style="list-style-type: none"> • قامت ثورة الضباط الأحرار ضد الملك فاروق. • ألغت الملكية وأصبحت مصر جمهورية. • ترأس الجمهورية جمال عبد الناصر
1956م	<ul style="list-style-type: none"> • أجلى جمال عبد الناصر الإنجليز من القناة. • 26/ يونيو، 1956م أممها باسم الشعب المصري.





مهارات القرن ٢١



السؤال الأول: ضع علامة [✓] أمام العبارات الصحيحة وعلامة [x] أمام العبارات الخاطئة: ★

1- ☐ نصب فيصل بن الحسين في العام 1921 م ملكا على مصر.

2- ☐ تحالف العراقيون مع الالمان خلال الحرب العالمية الثانية، بهدف التخلص من

الحماية البريطانية.

3- ☐ أنشأ قائد الحركة الوطنية جمال عبد الناصر حزب الوفد.

4- ☐ أعلن الجنرال كاترو ممثل حكومة فرنسا الحرّة في القاهرة إلغاء الانتداب على

سوريا ولبنان.

5- ☐ شهد القرن 19 م هجمة استعمارية شرسة على الوطن العربي.

6- ☐ خاض الجيش السوري معركة بطولية بقيادة يوسف العظمة هي معركة حلب.

7- ☐ قامت ثورة الضباط الأحرار في مصر سنة 1952 م ضد الملك فاروق.

السؤال الثاني: أمامك أهم أحداث العراق خلال الفترة من 1921 م الى 1958 م. رتبها

بالأرقام من 1-5 من الاقدم إلى الاحدث. ★ ★



قيام ثورة ١٤ يوليو ١٩٥٨ م، وإعلان الجمهورية.

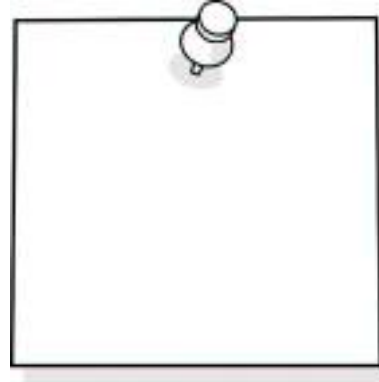
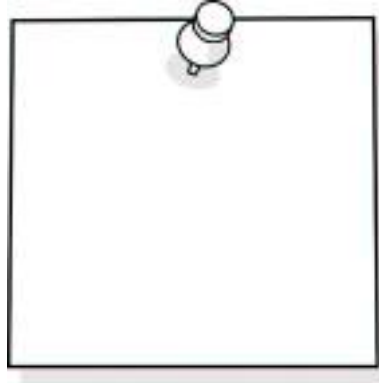
وقوع انقلاب أطاح بالنظام الملكي وقطع العلاقات مع بريطانيا.

تنصيب فيصل بن الحسين ملكا على العراق.

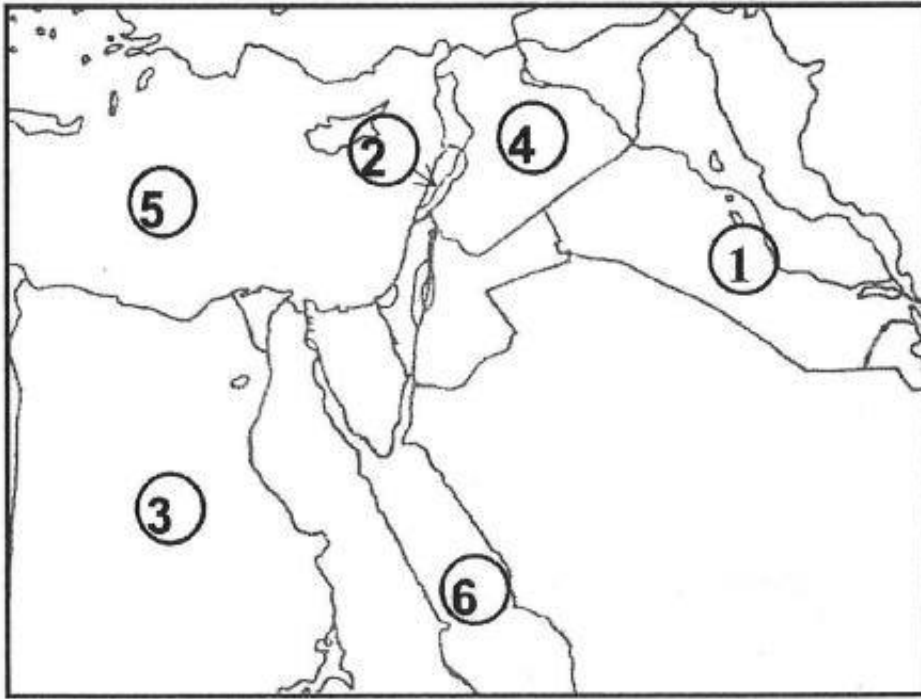
اعتراف بريطانيا باستقلال العراق.

دخول العراق في حلف بغداد.

السؤال الثالث: اذكر البنود التي نصت عليها المعاهدة البريطانية المصرية 1936م. ★ ★ ★



ثانيًا: من خلال دراستك لدرس 'حركة الاستقلال في المشرق العربي'، أمامك خريطة صماء لدول المشرق العربي، أجب عن الأسئلة التي تليها:



أ- اكتب ما تمثله الأرقام على الخريطة في الجدول الآتي حسب البيانات الواردة فيه:

الرقم على الخريطة	الدولة العربية	الاستعمار الأوروبي
1	-----	-----
2	-----	-----
3	-----	-----
4	-----	-----

ب- الرقمان (5) و (6) يشيران إلى مسطحين مائيين هما:

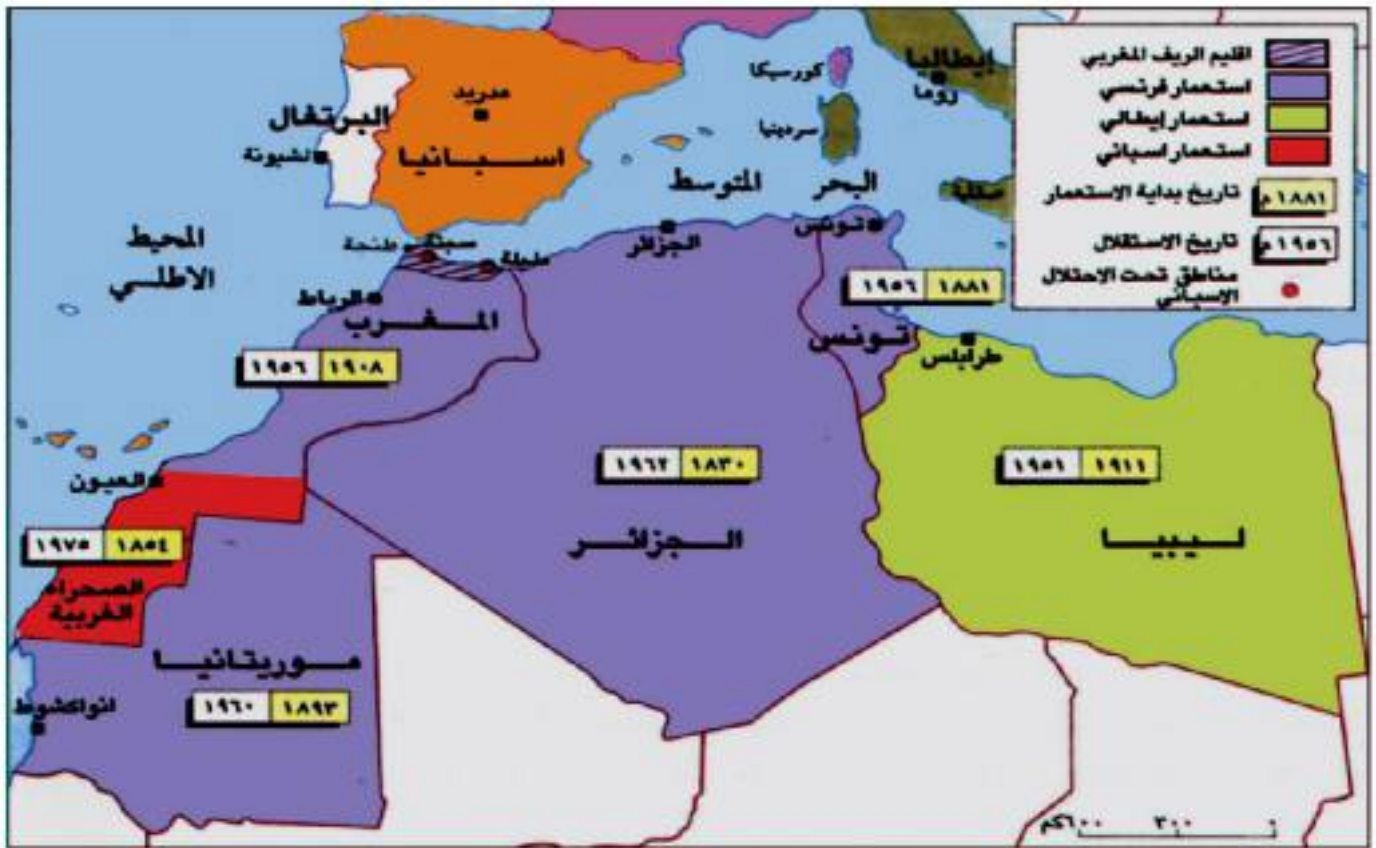
-6-

-5-

حركات الاستقلال في المغرب العربي

بداية القرن 19م اتجهت أنظار الاستعمار الأوروبي إلى المغرب العربي.

الدولة الاستعمارية	الدول العربية
إيطاليا	ليبيا
فرنسا	تونس-الجزائر
فرنسا-إسبانيا	المغرب



١ استقلال دول المغرب العربي

الحركة الاستقلالية في ليبيا (1922م - 1951م)

الدولة الاستعمارية: إيطاليا

السنة	الأحداث
	<ul style="list-style-type: none"> ■ اتخذت المقاومة طابعاً وطنياً ودينياً. علل: بسبب 1 استخدام الاستعمار الإيطالي أعنف الأساليب من أجل إحكام سيطرتها. 2 إلغاء شخصية الدولة العربية والإسلامية.
1922م	■ بلغت المقاومة ذروتها عندما تسلم راية الجهاد عمر المختار .
1931م	■ حيث أظهر بطولة أسطورية ضد الاحتلال لأنه أسروا وأعدم.
الحرب العالمية الثانية	<ul style="list-style-type: none"> ■ قاتل الليبيون مع الحلفاء في الحرب العالمية الثانية من أجل التخلص من الاستعمار الإيطالي والحصول على الاستقلال. ■ ولكن بريطانيا لم تف بوعدها إلى الليبيين وتقاسمت ليبيا مع فرنسا.
1947م	<ul style="list-style-type: none"> ■ نتيجة لذلك قامت هيئة تحرير ليبيا بدعم من الدول العربية. ■ برفع قضيتها إلى هيئة الأمم المتحدة.
1951م	<p>س: الحاكم الذي اختاره الليبيون سنة 1951م هو</p> <p>✗ أختار الليبيون محمد إدريس السنوسي ملكاً عليهم.</p> <p>✗ اعترف العالم باستقلالهم في 24/ نوفمبر / 1951م.</p>





الحركة الاستقلالية في تونس (1907م - 1956م)

الدولة الاستعمارية: فرنسا	
السنة	الأحداث
	<ul style="list-style-type: none"> تصدى التونسيون للاستعمار الفرنسي. أنشأوا أحزابا عدة طالبت بالاستقلال. خلال الحرب العالمية الثانية التفت الشعب التونسي حول الباي محمد المنصف. أيد موقف بورقيبة الداعي إلى مساندة الحلفاء.
1946م	<ul style="list-style-type: none"> عقد الوطنيون مؤتمرا اتفقوا فيه على المطالبة بالاستقلال ورفض الحماية الفرنسية.
1954م	<ul style="list-style-type: none"> نشأت مقاومة مسلحة في بعض المدن والمناطق الجبلية. منحت فرنسا تونس الحكم الذاتي.
1956م	<ul style="list-style-type: none"> أجبرت فرنسا على الاعتراف باستقلال تونس.



الحركة الاستقلالية في المغرب (1920م - 1956م)


الدولة الاستعمارية: فرنسا + إسبانيا	
السنة	الأحداث
	<p>س: هل واجه الشعب المغربي استعمارا واحدا؟</p> <ul style="list-style-type: none"> كلا، بل واجه الشعب المغربي استعمارين (الإسباني والفرنسي) واجه الشعب المغربي الاستعمار بسلسلة من الثورات وأخطرها التي قادها محمد عبد الكريم الخطابي ضد الاحتلال الإسباني للريف.
1944م	<ul style="list-style-type: none"> نادى حزب الاستقلال بزعامة علال الفاسي الذي ساندته السلطان محمد الخامس باستقلال المغرب وعروبته.
1953م	<ul style="list-style-type: none"> ولكن فرنسا عزلت السلطان ونفته، واندلعت ثورة مغربية أجبرت فرنسا على إعادة السلطان محمد الخامس إلى بلاده.
1956م	<ul style="list-style-type: none"> وإعلان الاستقلال في 2 مارس، 1956م

الحركة الاستقلالية في الجزائر (1926م - 1962م)

الحركة الاستقلالية في الجزائر (1926م-1962م)

الدولة الاستعمارية: فرنسا

السنة	الأحداث
1926م	■ أسس مصالي الحاج جمعية «نجم شمال إفريقيا»
1931م	■ ظهرت حركة مناوئة لدمج الجزائر مع فرنسا.
1942م	■ أصدر مؤسس الاتحاد الديمقراطي فرحات عباس بياناً دعا فيه إلى إشراك الجزائريين في إدارة شؤون بلادهم.
1945م	■ واجهت فرنسا مظاهرات الجزائريين بارتكاب مجازر رهيبة في عدة مناطق ذهب ضحيتها مئات الآلاف من الشهداء.
1954م	■ انطلقت الثورة الجزائرية المسلحة وامتدت في العام التالي إلى جميع المناطق. ■ في المقابل حشدت فرنسا قوات كبرى منيت بخسائر فادحة.
1958م	■ دعت الجمعية العامة للأمم المتحدة إلى إيجاد حل عادل للقضية الجزائرية. واما عازلة فرنسا الدولية.
1959م	■ أعلن الجنرال ديغول اعترافه بمبدأ استقلال الجزائر. مما مهد لمفاوضات في مدينة إيفيان بين الحكومة الفرنسية وزعماء جبهة التحرير الوطني الجزائرية 1962م.
1962م	■ أدت الى استقلال الجزائر. حيث أصبح أحمد بن بلا أول رئيس لها



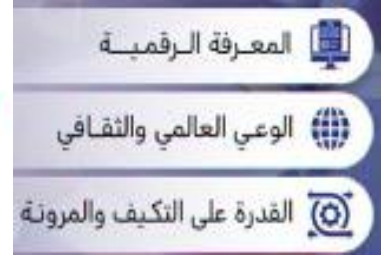


الدرس (33)

حركات الاستقلال في المغرب العربي

الكفايات الرئيسية:

- يبين حركات الاستقلال في المغرب العربي.



مهارات القرن ٢١



السؤال الأول: ضع علامة [✓] أمام العبارات الصحيحة وعلامة [x] أمام العبارات الخاطئة: ★

- 1- ☐ الحاكم الذي اختاره الليبيون ملكا على ليبيا سنة 1951م هو علال الفاسي.
- 2- ☐ قاتل الليبيون إلى جانب الحلفاء خلال الحرب العالمية الثانية.
- 3- ☐ مارس الاستعمار الإيطالي في تونس أعنف الأساليب من أجل إحكام سيطرته على البلاد.
- 4- ☐ أصبحت المقاومة الليبية للاستعمار الفرنسي في ذروتها عندما تسلم رايتها عمر المختار.
- 5- ☐ وقعت ليبيا تحت الاستعمار الإيطالي.
- 6- ☐ وقعت تونس تحت الاستعمار الفرنسي.
- 7- ☐ أسس محمد عبد الكريم الخطابي جمعية نجم شمال أفريقيا عام 1926م.
- 8- ☐ واجه الشعب المغربي الاستعمارين الفرنسي والأسباني.



■ قتال الليبيين إلى جانب الحلفاء خلال الحرب العالمية الثانية.

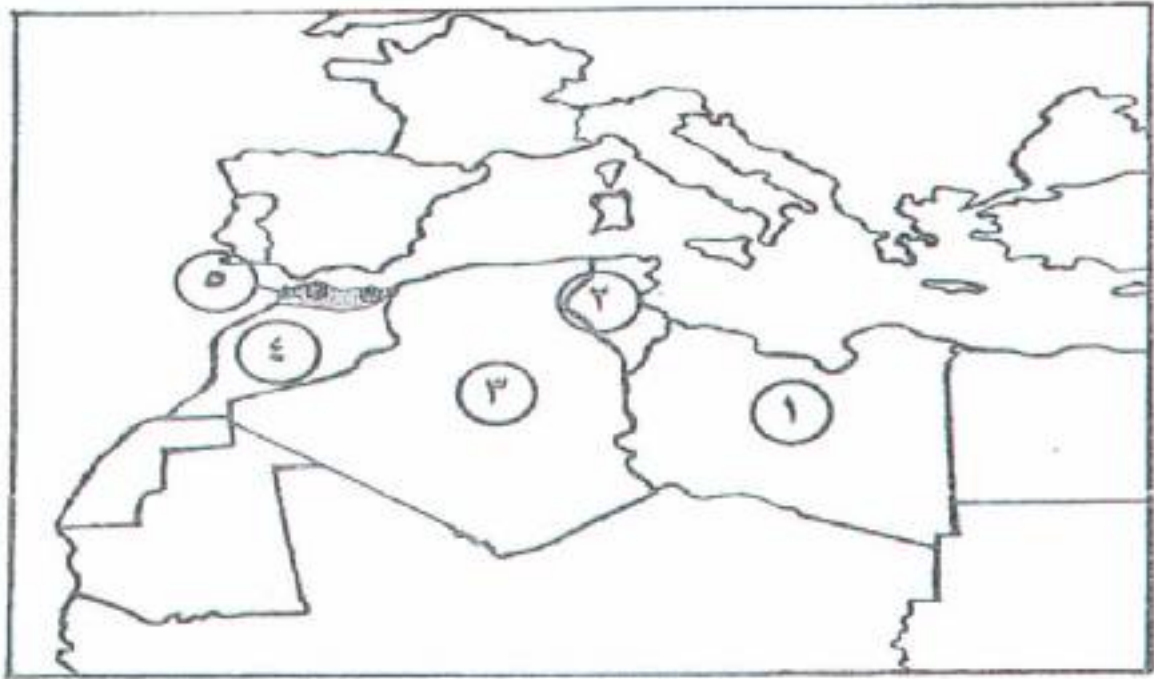


السؤال الثالث: أكمل الجدول بحسب البيانات المطلوبة للأحداث التاريخية الآتية: ★ ★ ★

الدولة	موقفها من الحلفاء بالحرب العالمية الثانية	أسباب اتخاذها هذا الموقف	نتائج هذا الموقف
العراق			
ليبيا			
تونس			



السؤال الرابع، أمامك خريطة لدول المغرب العربي، اكتب ما تمثله الأرقام التي عليها بالجدول الذي يليها حسب البيانات الواردة فيه،



الدولة الاستعمارية	المنطقة / الدولة العربية	الرقم على الخريطة
		(1)
		(2)
		(3)
		(4)
		(5)



استقلال دول الخليج العربي (1)

س: بيني أهمية الخليج العربي في القرون الوسطى!

1. منطقة بالغة الأهمية بالنسبة لتجارة الشرق.
2. دائرة الصراع الاستعماري بين البرتغال وهولندا وبريطانيا.



س: في القرن 18م عقدت بريطانيا سلسلة من معاهدات التحالف مع مشايخ الخليج!

1. تأمين طريق الهند.
2. وفي القرن العشرين أدى اكتشاف النفط إلى تفرد بريطانيا في السيطرة على الخليج العربي وينابيع ذهبه الأسود.



استقلال دول الخليج العربية

سلطنة عمان 1971م

هذا الدرس
بالبوابة
التعليمية



65

السنة	الأحداث
1615م	<ul style="list-style-type: none"> ▪ اخضع ساحل عمان للحكم البرتغالي. علل؛ لكونه أهم نقطة استراتيجية على مدخل الخليج العربي. ▪ تمكن العمانيون من طرد الاستعمار البرتغالي بعد حكم دام أكثر من قرن. ▪ حكمت البلاد أسرة البوسعيد.
1913م الانتفاضة الاولى	<ul style="list-style-type: none"> ▪ ثار العمانيون على الحماية البريطانية. ▪ انقسمت عمان لسلطتين: 1. المنطقة الداخلية من عمان [سالم بن راشد] 2. سلطنة مسقط شملت الساحل [أسرة البوسعيد]
1920م	ثار العمانيون للمرة الثانية.
1955م	نجح سعيد بن تيمور في ضم عمان لمسقط واصبحت كلاتهما دولة واحدة.
1970م	<ul style="list-style-type: none"> ▪ تولى قابوس بن سعيد الحكم. ▪ محققا استقلال البلاد وموثقا علاقتها مع العرب.
2020م	وبعد وفاة السلطان قابوس تولى السلطان هيثم بن طارق آل سعيد حكم عمان

هيثم بن طارق آل سعيد

قابوس بن سعيد

سعيد بن تيمور

سالم بن راشد

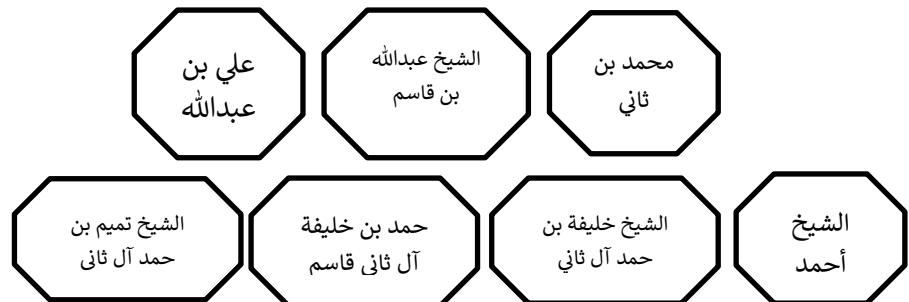
اسرة البوسعيد



دولة قطر 1971م



السنة	الأحداث
القرن 18م	<ul style="list-style-type: none"> قدم آل ثاني إلى قطر لي كان يحكمها آل خليفة. من إقليم الوشم في نجد القرن 18م
1851م	<ul style="list-style-type: none"> أصبح الشيخ محمد بن ثاني حاكم على الدوحة حافظ على ولائه لآل خليفة حكام قطر والبحرين. حتى تدخلت بريطانيا بفرض اتفاقية عام 1868م
1916م	<ul style="list-style-type: none"> اجبرت ظروف الحرب العالمية الاولى الشيخ عبد الله بن قاسم على عقد معاهدة مع بريطانيا.
1926م	<ul style="list-style-type: none"> حصلت بريطانيا بعد انتهاء الحرب على امتياز تنقيب النفط.
1949م	<ul style="list-style-type: none"> تولى الشيخ علي بن عبد الله.
1960م	<ul style="list-style-type: none"> تنازل علي بن عبد الله الحكم لابنه أحمد.
1971م	<ul style="list-style-type: none"> تمكن الشيخ أحمد من الحصول على استقلال بلاده. اصبحت قطر عضوا في جامعة الدول العربية والأمم المتحدة.
1972م	<ul style="list-style-type: none"> تسلم الشيخ خليفة بن حمد آل ثاني الحكم.
1995م	<ul style="list-style-type: none"> تولى الشيخ حمد بن خليفة آل ثاني الحكم. الذي تنازل عام 2013م عن الحكم لابنه.
2013م	<ul style="list-style-type: none"> تولى الشيخ تميم بن حمد آل ثاني مقاليد الحكم.



الكفايات الرئيسية:

- يبين أهمية الخليج العربي في القرون الوسطى.
- يعلل في القرن 18 م عقدت بريطانيا سلسلة من معاهدات التحالف مع مشايخ الخليج؛

67



مهارات القرن ٢١



السؤال الاول: ضع دائرة حول الحرف الدال على الإجابة الصحيحة من بين البدائل الآتية: ★

1- الأسره التي كانت تحكم قطر قبل قدوم آل ثاني إليها في أوائل القرن 18 م وهي:

أ/ آل الصباح

ب/ آل سعود

ج/ آل خليفة

د/ آل نهيان

2- القائد الذي نجح في ضم عمان إلى مسقط في دولة واحدة عام 1955 م هو:

أ/ سعيد بن تيمور

ب/ قابوس بن سعيد

ج/ سالم بن راشد

د/ هيثم بن طارق آل سعيد

3- قدم آل ثاني إلى شبه جزيرة قطر من إقليم:

أ/ حفرباطن

ب/ سدير

ج/ العارض

د/ الوشم

4- يرتبط تاريخ عمان الحديث بأسره:

أ/ آل صباح

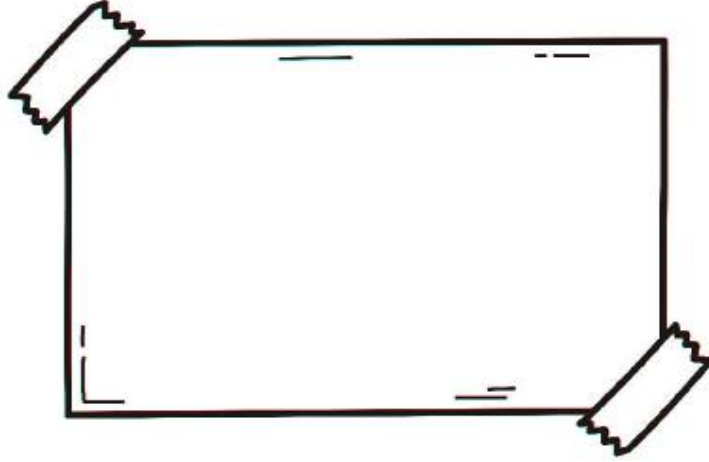
ب/ آل ثاني

ج/ آل نهيان

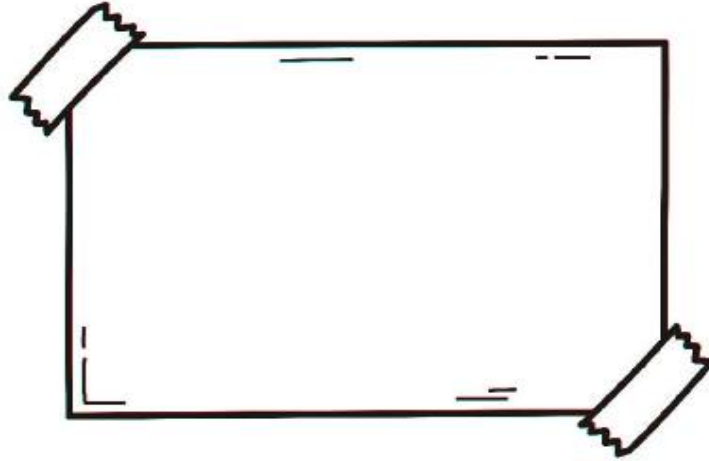
د/ البوسعيد



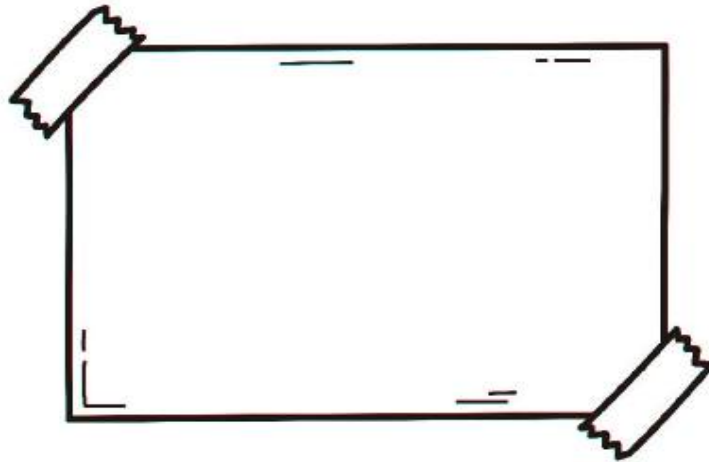
- سيطرته بريطانيا على منطقة الخليج العربي وعقدها سلسلة من معاهدات التحالف مع مشايخها.



- خضوع ساحل عمان للحكم البرتغالي سنة 1615م.



- وضع بنود المعاهدة التي وقعتها بريطانيا مع الشيخ عبد الله بن قاسم في قطر سنة 1916م



استقلال دول الخليج العربي (2)

دولة الكويت
1961م



69

السنة	الأحداث
أواسط القرن 18م	<ul style="list-style-type: none"> هاجر آل صباح من نجد إلى الكويت في أواسط القرن 18م. وكان أول حكامها الشيخ صباح بن جابر. كانت الكويت تخضع اسمياً للسيادة العثمانية.
1899م	<ul style="list-style-type: none"> عقدت بريطانيا معاهدة مع حاكم الكويت الشيخ مبارك علي. بسبب القلق من مشروع الخط الحديدي بين الأستانة والبصرة. اعترفت بريطانيا بأماره الشيخ صباح بن جابر مقابل رفضه لهذا المشروع [خط حديد].
1921م	<ul style="list-style-type: none"> بعد انتهاء الحرب العالمية الأولى تولى حكم الكويت الشيخ أحمد الجابر الصباح.
1936م	<ul style="list-style-type: none"> منحت الشركات البريطانية والأمريكية امتياز التنقيب عن النفط. شهدت الكويت عهداً من الازدهار اقتصادياً ونهضة اجتماعية وعلمية مرموقة. تم تأسيس مدينة الأحمدية نسبة إلى أحمد بن جابر الصباح.
1950	<ul style="list-style-type: none"> تولى الشيخ عبد الله السالم الصباح. [من امتحان سابق أبرز أعماله] ألغى المحاكم الأجنبية في الكويت. طالب بريطانيا بالاستقلال وفعلاً استقلت عام 1961م. أصدر عملة وطنية.
1961م	<ul style="list-style-type: none"> تابع سياسة الإعمار. انضمام الكويت لجامعة الدول العربية وهيئة الأمم المتحدة.
2006م	<ul style="list-style-type: none"> تولى الحكم الشيخ صباح الأحمد الصباح.
2020م	<ul style="list-style-type: none"> تولى الحكم من بعده أخيه الشيخ نواف الاحمد الصباح.



أحمد الجابر
الصباح

الشيخ صباح بن
جابر

الشيخ نواف الاحمد
الصباح

الشيخ صباح
الاحمد الصباح

الشيخ عبد الله
السالم الصباح




الامارات العربية المتحدة 1971م



الأحداث	السنة
<ul style="list-style-type: none"> تتشكل من سبع امارات وهي أبو ظبي، دبي، الشارقة، أم القيوين، رأس الخيمة، عجمان والفجيرة س، الدولة الخليجية التي عرفت بالساحل المتصالح خلال القرن 19 م هي عرفت الإمارات في القرن 19 م باسم الساحل المتصالح. سعت بريطانيا إلى اذكاء الخلافات بين المشيخات. 	القرن 19 م
<ul style="list-style-type: none"> برزت أبو ظبي بسبب اكتشاف النفط. أكبر إمارات الساحل المتصالح 	1960 م

	<ul style="list-style-type: none"> شهدت تطور ملحوظ في الحياة الاجتماعية والاقتصادية والعمرانية. لحقت بها دبي بعد اكتشاف النفط. 	
1968م	<ul style="list-style-type: none"> 18 فبراير اتفق الشيخ زايد آل نهيان حاكم أبوظبي مع الشيخ راشد سعيد آل مكتوم حاكم دبي على إقامة اتحاد فيدرالي. 	
1971م	<ul style="list-style-type: none"> ثم اتفقوا كل من أبوظبي ودبي وأربع إمارات على إقامة اتحاد الإمارات العربية المتحدة. أعلنت بريطانيا عزمها على الانسحاب من الساحل. 	
	<ul style="list-style-type: none"> كانت إيران قبل الانسحاب البريطاني بيومين باحتلال طنب الكبرى وطنب الصغرى وأبو موسى الواقعة في مضيق هرمز، وهي تتبع أمارتي الشارقة ورأس الخيمة. قامت إيران بتوسيع نفوذها في الجزر الثلاث بأقامة مبان وتحصينات عسكرية. وتسعى الامارات إلى إقامة مفاوضات مباشرة أو إحالة النزاع إلى محكمة العدل الدولية. <p>س: ما موقف جامعة الدول العربية من الاحتلال الإيراني للجزر الاماراتية؟</p> <ol style="list-style-type: none"> 1. رفضت هذا الاحتلال. 2. أكدت جامعة الدول العربية عروبة الجزر الثلاث. 3. أدانت الاحتلال الإيراني. <ul style="list-style-type: none"> وأكد دول مجلس التعاون على سيادة الامارات العربية على الجزر الثلاث. 	
1971م	<ul style="list-style-type: none"> أصبحت دولة مستقلة. دخلت في عضوية جامعة الدول العربية ومنظمة الأمم المتحدة. انتخاب حاكم أبوظبي رئيساً لها الشيخ زايد بن سلطان آل نهيان و حاكم دبي راشد بن سعيد آل مكتوم نائب للرئيس. 	
1972م	<ul style="list-style-type: none"> التحقت بالاتحاد إماره رأس الخيمة. 	
2004م	<ul style="list-style-type: none"> تولى الشيخ خليفة بن زايد آل نهيان رئيساً خلفاً لوالده. 	
2022م	<ul style="list-style-type: none"> تولى الرئاسة أخوه الشيخ محمد بن زايد آل نهيان. 	





الدرس (37)

استقلال دول الخليج العربي (2)

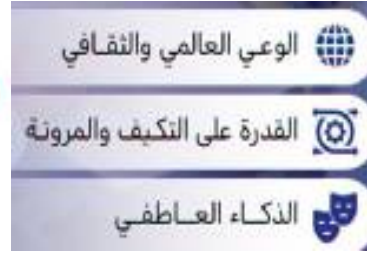
الكفايات الرئيسية:

- يذكر مراحل استقلال دول الخليج 2

73



مهارات القرن 21



السؤال الاول، ضع دائرة حول الحرف الدال على الإجابة الصحيحة من بين البدائل الآتية:



1- نزحت أسرة آل الصباح من نجد إلى الكويت في أواسط القرن الميلادي:

أ/ 16م

ب/ 17م

ج/ 18م

د/ 19م

2- عرفت الإمارات العربية المتحدة خلال القرن 19م باسم:

أ/ الساحل المتصالح

ب/ الخليج العربي

ج/ ساحل الامارات

د/ ساحل العاج

3- أول من حكم الكويت من آل الصباح هو الشيخ:

أ/ صباح الأحمد الصباح

ب/ عبد الله السالم الصباح

ج/ أحمد بن جابر الصباح

د/ صباح بن جابر الصباح

4- الشيخ الذي تم انتخابه رئيساً للإمارات العربية المتحدة بعد الاتحاد في عام 1971م هو

أ/ خليفة بن زايد آل نهيان

ب/ راشد بن سعيد آل مكتوم

ج/ زايد بن سلطان آل نهيان

د/ محمد بن زايد آل نهيان

5- تتشكل الإمارات العربية المتحدة:

أ/ 5 امارات

ب/ 10 امارات

ج/ 6 امارات

د/ 7 امارات

السؤال الثاني، صحح ما تحته خط. ★ ★


1- منذ عام 2006م تولى الشيخ صباح بن جابر الحكم في دولة الكويت.....

2- أكبر إمارات الساحل المصالح في القرن 19م هي عجمان.....

السؤال الثالث: أهم إنجازات الشيخ عبد الله السالم الصباح بعد توليه حكم دولة الكويت سنة 1950م، ★ ★ ★



السؤال الرابع: ما موقف جامعة الدول العربية من الاحتلال الإيراني للجزر الإماراتية؟ طنب الكبرى والصغرى وأبو موسى: ★ ★ ★





مبادرة

استقلال دول الخليج العربي (2)

باستخدام برنامج الذكاء الصناعي GEMINI ADVANCED ابحث عن حاكم دولة الكويت بالوقت الحالي مع دعمها بالصور





أمامك خريطة الامارات العربية المتحدة، أجب عما يلي:-

1. الجزر التي احتلها إيران قبل الانسحاب البريطاني بيومين هي جزيرة و

2. أكبر امارات الساحل المتصالح هي

3. اتفقوا أربع امارات على إقامة اتحاد الامارات العربية المتحدة سنة 1971 م هي و

4. في عام 1971 م تم انتخاب حاكم أبو ظبي رئيسا لها وهو وحاكم دبي

نائب للرئيس وهو

البرتغاليون في البحرين

- برزت البرتغال خلال حركة الاكتشافات الجغرافية.
- اتجهت أطماعها إلى المحيط الهندي والخليج العربي، حيث ظلت سيدهُ الموقف خلال معظم سنوات القرن 16م.
- س، عانت البرتغال من شغرة في مواصلاتها الشرقية. عللي؛
- تجلت في بقاء عدن خارج سيادتها.
- مقاومة البحرين للبرتغاليين.

السيطرة البرتغالية على البحرين:

س، سيطر البرتغاليون على البحرين في مطلع القرن 16م مستغلين عنف الصراع بين الدولتين، العثمانية والصفوية؛

- في مطلع القرن 16 استغل البرتغاليون عنف الصراع الواقع بين الدولة العثمانية والدولة الصفوية في إيران.
- سيطرت البرتغال على عدد من القواعد البحرية في الخليج العربي.
- 1521م بسطت البرتغال نفوذها على البحرين بصعوبة، وذلك بسبب قيادة أهل البحرين حركة المقاومة الخليجية.
- س، لم يستقر النفوذ البرتغالي في الخليج العربي؛
- نتيجة لمقاومة السكان المحليين.
- منافسة قوى اجنبية متعددة لهم.

الانسحاب البرتغالي من البحرين:

كل ذلك لم يشكل تهديداً على النفوذ البرتغالي في البحرين ومنطقة الخليج.

- 1602م قام أهل البحرين بأجلاء القوات البرتغالية.
- واليعاربة في مسقط حققوا انتصارات على البرتغاليين.
- 1650م انتهى الحضور البرتغالي في منطقة الخليج العربي.
- تميزت الفترة من القرن 16م حتى القرن 18م بتوالي عائلات عربية على حكم البحرين (الجبور آل مذكور) ... كل منها لم تحقق الاستقرار السياسي أو الازدهار الاقتصادي.
- وفي نهاية القرن 18م تولى آل خليفة حكم البحرين، والذين نجحوا بفضل حكمتهم وحنكتهم السياسية في جعل البحرين بلداً مستقراً اقتصادياً واجتماعياً وثقافياً.



الدرس (38)

البرتغاليون في البحرين

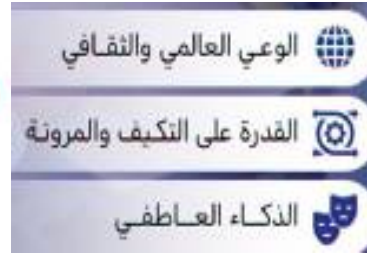
الكفايات الرئيسية:

■ يبين كيف واجه الشعب البحريني الاحتلال البرتغالي.

78



مهارات القرن ٢١



السؤال الاول: ضع دائرة حول الحرف الدال على الإجابة الصحيحة من بين البدائل الآتية:

★

1- سيطر البرتغاليون على البحرين في مطلع القرن 16م مستغلين عنف الصراع بين

الدولتين:


ب/ العثمانية والصفوية

أ/ البريطانية والعثمانية

د/ الصفوية والفرنسية

ج/ الهولندية والبريطانية

السؤال الثاني: علل. عدم استقرار النفوذ البرتغالي في البحرين إبان القرن 16م: ★ ★



السؤال الثالث: اكتب الاحداث التاريخية التالية داخل الخط الزمني مراعي التسلسل الصحيح
من الأقدم للأحدث. ★ ★ ★

اجلاء أهل البحرين القوات البرتغالية 1602م - بسط البرتغاليون نفوذهم في البحرين
1521م - معركة الزبارة 1782م



التغذية الراجعة المعلم			
ممتاز	جيد جدا	جيد	مرضي
الوصف	التعزيز	التطوير	
<input type="checkbox"/> اجابتك سليمة من الازخطاء .	<input type="checkbox"/> شكرا لك والى الامام دائما.	<input type="checkbox"/> صحي الازخطاء مستعينة بالكتاب.	
<input type="checkbox"/> وظفت المطلوب منك	<input type="checkbox"/> اقدر جهودك .	<input type="checkbox"/> تدريبي أكثر مستعينة بالكتاب.	
<input type="checkbox"/> عملك رائع ومتقن	<input type="checkbox"/> سعدت بمحاولاتك .	<input type="checkbox"/> ستجزي أفضل بانتباهك للدرس.	
<input type="checkbox"/> اجابتك متميزة .	<input type="checkbox"/> تطور ملحوظ واصلي العطاء.	<input type="checkbox"/> راجعي اجابتك وأكملها.	
التاريخ ،		الدرجة ،	
توقيع ولي الامر <input type="checkbox"/> ملاحظات			

هجرة آل خليفة إلى الزبارة والبحرين

- العتوب أكبر فروع هذه المجموعة من قبيلة عنزة التي اتخذت نجد موطنًا لها.
- يرجع نسب آل خليفة للعتوب. [البحرين]
- **س: ينتسب آل خليفة إلى قبيلة عنزة العربية الشهيرة التي اتخذت من نجد موطنًا لها. [✓]**
- يرجع نسب آل صباح للعتوب. [الكويت]
- يرجع نسب آل سعود للعتوب. [نجد]

- وأن هجرة آل خليفة من قلب الجزيرة العربية إلى السواحل الشرقية للخليج العربي، تشكل المنعطف الأكثر أهمية في تاريخ البحرين الحديث والمعاصر.

من الأفلاج إلى الزبارة

- هاجر العتوب في القرن 17 م من قرية الهدار في منطقة الأفلاج، حيث كانت مساكنهم الأولى، إلى الأحساء. ومنها إلى قطر التي كانت تابعة لنفوذ بني خالد.
- بداية القرن 18 م اجتمعوا في الكويت، ومن الكويت انتقل فرع منهم، على راسه الشيخ محمد بن خليفة إلى الزبارة 1762 م، الزبارة تقع على الساحل الشمالي الغربي لشبة جزيرة قطر، حيث تشتهر بصيد اللؤلؤ.



إطلال قلعة مريير في قطر

**بماذا تميز محمد بن خليفة؟
عليه التضاف أهل الزبارة حول الشيخ محمد بن**

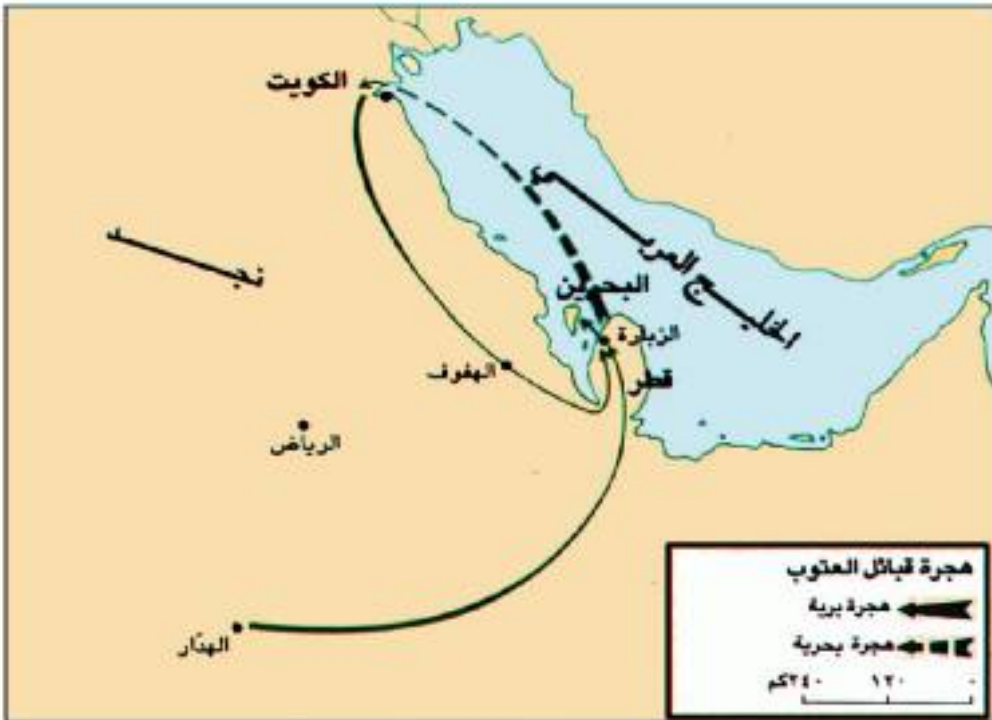
- 1 [الورع.
- 2 رجاحة العقل.
- 3 تكريم العلماء والفقهاء.
- 4 بناء المدارس والمساجد، كما بنى قلعة

توفي الشيخ محمد بن خليفة 1772 م خلفه ابنه خليفة، بماذا تميز عهده؟

- ازدهرت الزبارة.
- تصدى لحملة نصر بن مذكور حاكم بوشهر والبحرين.

من الزبارة للبحرين

- بعد انتصار آل خليفة على نصر آل مذكور في معركة الزبارة تشجع الشيخ أحمد بن محمد آل خليفة في بسط سيطرته على جميع أنحاء البحرين، وضمها لحكم آل خليفة، فشرع في حشد القوات اللازمة وتقدم بها نحو البحرين وقضى على حاميتها الصغيرة دون مقاومة تذكر وتمكن من فتح البحرين عام 1783م.
- وعلى اثر ذلك لقب الشيخ أحمد بن محمد آل خليفة بالفاتح.
- يعد أول حاكم من آل خليفة يحكم البحرين..
- لم يتسرع الشيخ أحمد بن محمد آل خليفة بنقل عاصمة حكمه من الزبارة الى البحرين حتى تستقر الأوضاع الداخلية والخارجية.
- نظم شؤونها، وعين عليها أميراً من قبله ثم عاد الى الزبارة.
- حيث كان يقضي فصل الشتاء بالزبارة والصيف للبحرين. حتى وافته المنية في البحرين ودفن في المنامة عام 1795م.
- توفي الشيخ أحمد الفاتح اخذ الحكم ابنه الشيخ سلمان بن أحمد آل خليفة الذي نقل مركز حكمه نهائياً من الزبارة للبحرين.
- هكذا نشأت دولة عربية مستقلة.
- شمل مجالها الجغرافي جزر البحرين التي تقع في وسط الخليج العربي.
- وانطلقت مسيرة بناء اقتصاد البحرين القائم على الزراعة وتجارة اللؤلؤ أساساً.
- واستطاعت أن تؤلف بين مجموعة من القبائل والعشائر نتيجة ما وفرته من أمن واستقرار.





13
جلالة الملك حمد بن عيسى آل خليفة
ملك البلاد المعظم حفظه الله ورعاه
تولى الحكم في مارس 1999م



12
الشيخ عيسى بن سلمان آل خليفة
1961-1999م



11
الشيخ سلمان بن حمد آل خليفة
1942-1961م



10
الشيخ حمد بن عيسى آل خليفة
1932-1942م



9
الشيخ عيسى بن علي آل خليفة
1869-1932م



7
الشيخ علي بن خليفة آل خليفة
1868-1869م



6
الشيخ محمد بن خليفة بن سلمان آل خليفة
1843-1868م

8
الشيخ محمد بن عبدالله آل خليفة
من سبتمبر إلى ديسمبر 1869م



5
الشيخ عبدالله بن أحمد آل خليفة
1821-1843م

الشيخ خليفة (لم يحكم)

4
الشيخ سلمان بن أحمد آل خليفة
1795-1821م

3
الشيخ أحمد بن محمد آل خليفة
(الفتاح)
1762-1795م

2
الشيخ خليفة بن محمد آل خليفة
1772-1782م

1
الشيخ محمد بن خليفة
1762-1772م

شجرة حكام آل خليفة الكرام

٣ شجرة حكام آل خليفة الكرام (عقدان مزهران) (ص ٥١)

هجرة آل خليفة إلى الزبارة والبحرين

الكفايات الرئيسية:

■ يوضح خط هجرة آل خليفة للزبارة والبحرين.

83



مهارات القرن ٢١



السؤال الأول: ضع علامة [✓] أمام العبارة الصحيحة وعلامة [x] أمام العبارة الخاطئة فيما يلي:



1- ☐ ينتسب آل خليفة إلى قبيلة عنزة العربية الشهيرة التي اتخذت من نجد موطنها.

لها.

2- ☐ بداية القرن 18م اجتمعوا في الكويت، ومن الكويت انتقل فرع منهم، على راسة

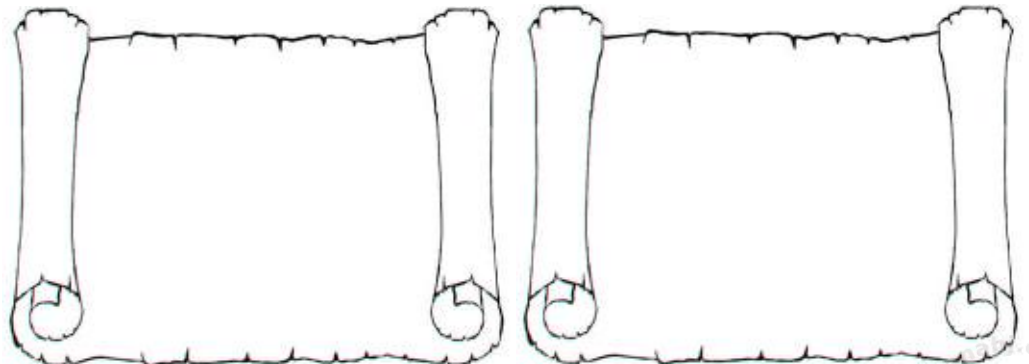
الشيخ محمد بن خليفة إلى الزبارة 1762م.

3- ☐ توفي الشيخ محمد بن خليفة 1772م خلفه ابنه علي.

4- ☐ نزح العتوب في القرن 17 م من قرية الهدار في منطقة الأفلاج.

السؤال الثاني: علل. التفاف سكان الزبارة حول الشيخ محمد بن خليفة بعد هجرته إليها عام

1762م. ★★



السؤال الثالث: في ضوء دراستك لموضوع هجرة آل خليفة إلى الزبارة والبحرين، رتب المناطق التي نزحوا اليها ترتيبا زمنيا من الاقدم إلى الأحدث، ★★★



الإحصاء - البحرين - الكويت - الزبارة - الأتقلاج - قطر.

القرن 17م	بداية القرن 18م	1762م	1783م
.....



أولاً: حدّد خط سير هجرة العتوب، وذلك بترتيب المعطيات أدناه من الأقدم إلى الأحدث:

الكويت - قطر - الهنار - الإحصاء - الزبارة

.....١٢٣٤٥
--------	--------	--------	--------	--------

هجرة آل خليفة إلى الزبارة والبحرين



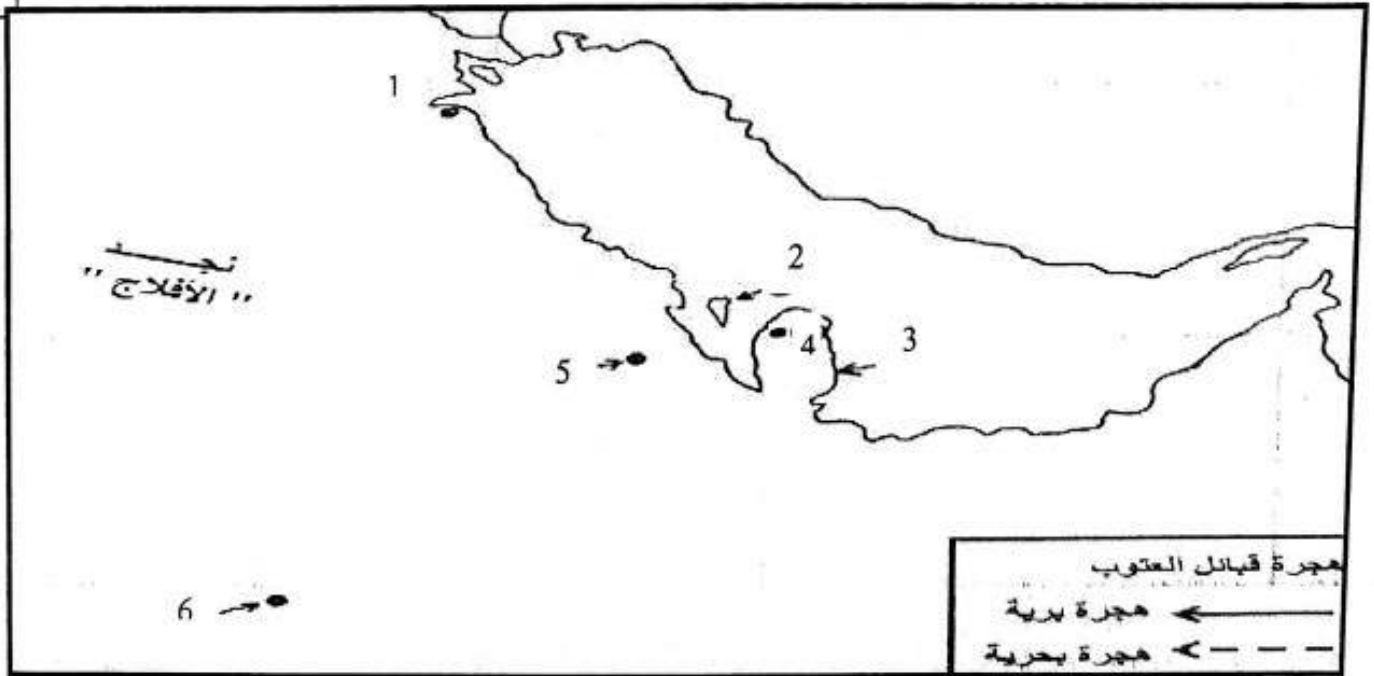
ثالثًا: على الخريطة التي أمامك اكتب ما تمثله هذه الأرقام تبعًا لموقعها على الخريطة حسب الترتيب وفق المعطيات بالجدول المرفق.

دول وصل إليها آل خليفة في هجرتهم إلى نجد

١-	٢-	٣-
مناطق ومدن وصل إليها آل خليفة في هجرتهم إلى نجد		
٤-	٥-	٦- الهذار



86 ثانياً: على الخريطة التي أمامك، اكتب ما تمثله هذه الأرقام تبعاً لموقعها على الخريطة حسب الترتيب وفق المعطيات بالجدول المرفق.



دول وصل إليها آل خليفة في هجرتهم إلى نجد	مناطق ومدن وصل إليها آل خليفة في هجرتهم إلى نجد
1	4
2	5
3	6

البحرين من 1821م-1961م

التطور السياسي

- بقي الشيخ سلمان في الحكم حتى 1821م. خلفه اخوه الشيخ عبدالله، ثم الشيخ محمد بن خليفة بن سلمان، ثم الشيخ علي بن خليفة، ثم لابنه الشيخ عيسى بن علي [1869م-1932م].
- بنى آل خليفة تقاليد متينة لتوارث الحكم.
- نجحوا في بناء علاقات ولاء مع أطراف المجتمع، حتى أصبحت البحرين إمارة إحدى الكيانات السياسية الكبرى في المنطقة.
- بسطت آل خليفة حكمها على مجموع السكان وعلى المجال الجغرافي له معالم واضحة.
- في بداية القرن 19م نجحت في التصدي إلى تهديدات القوى المجاورة، والخطر الأكبر كان مصدره النفوذ البريطاني.

اهم الانجازات	حكام آل خليفة	
نشأة التعليم النظامي 1919م	عهد الشيخ عيسى بن علي	
بدأ استغلال النفط وتركيز المؤسسات الإدارية	عهد ابنه الشيخ حمد بن عيسى [1932م-1942م]	
سمح بتوظيف أعداد من البحرينيين في الأجهزة الحكومية	الشيخ سلمان بن حمد [1942م-1961م]	

النفوذ البريطاني

- ظلت البحرين كغيرها من الكيانات السياسية في الخليج العربي تتعرض لمحاولات التدخل البريطاني
- قامت بريطانيا بعقد معاهدات مع الدولة.
- آخر معاهدة عقدت بالبحرين 1892م التي أرست نفوذا بريطانيا على العلاقات الدبلوماسية والتجارية البحرينية.
- وتدل تعدد المعاهدات على أن الأمر لم يستتب لبريطانيا، إذ تواصلت سلطة الدولة على المجال الجغرافي وعلى السكان.

ردود الفعل الوطنية

س: بيني اثنتين من ردود الفعل الوطنية البحرينية للحد من النفوذ البريطاني في النصف الأول من القرن العشرين؛

- تمكن الوطنيين البحرينيين بقيادة عبد الوهاب الزباني من إقناع حاكم البحرين بأنشاء مجلس تأسيسي يحد من النفوذ البريطاني.
- انعقاد مجلس وطني سنة 1923م.
- أرغم التوافق بين الحاكم والشعب بريطانيا على الاكتفاء بتعيين بيلغريف مستشارا لدى حكومة البحرين.
- شهدت الحركة الوطنية انتعاشه قوية نتيجة اكتشاف النفط، وظهور فئات اجتماعية جديدة مثل العمال والطلاب.
- اتحاد الوطنيين البحرينيين سنة 1938م في المطالبة بالإصلاحات الإدارية والسياسية.
- صدور مجلة صوت البحرين في الأربعينات، وقد نادت هذه المجلة بوضع حد للنفوذ البحريني.
- أصبحت الحركة الوطنية في الخمسينات أكثر شعبية، فقد ركزت في نقد السياسة البريطانية ودعت للحد من تدخل بيلغريف في الاقتصاد والإدارة.



الشيخ خالد بن حميد الزباني (ت 1985م)



<p>علل: ازدياد نشاط الحركة الوطنية البحرينية وقوتها خلال فترة الثلاثينات والأربعينات من القرن العشرين.</p> <p>شهدت الحركة الوطنية انتعاشه قوية بسبب:</p> <ul style="list-style-type: none"> ▪ اكتشاف النفط. ▪ ظهور فئات اجتماعية جديدة مثل العمال والطلاب. ▪ نتيجة تأثير أزمة 1929م الاقتصادية العالمية. ▪ اتحد الوطنيون 1938م في المطالبة بالإصلاحات الإدارية والسياسية. 	<p>الثلاثينات</p>
<ul style="list-style-type: none"> ▪ صدرت مجلة صوت البحرين ونادت بوضع حد للنفوذ البريطاني. ▪ أضحت الحركة أكثر شعبية. وركزت في نقد السياسة البريطانية والدعوة للحد من تدخل بيلغريف في الاقتصاد والادارة. 	<p>الأربعينات</p> <p>الخمسينات</p>



الكفايات الرئيسية:

- يعلل ازدياد نشاط الحركة الوطنية البحرينية وقوتها خلال فترة الثلاثينات والاربعينات من القرن العشرين.

90



مهارات القرن ٢١



السؤال الأول: ضع دائرة حول الحرف الدال على الإجابة الصحيحة من بين البدائل الآتية: ★

1- شهد عهد حاكم البحرين الشيخ عيسى بن علي آل خليفة سنة 1919م،

ب / افتتاح مطار البحرين

أ / اكتشاف النفط

د / نشأة التعليم النظامي

ج / إنشاء مدينة عيسى

2- المجلة التي صدرت في فترة الاربعينات في البحرين ونادت بوضع حد للنفوذ

البريطاني هي :

ب / الحرية

أ / صوت البحرين

د / صدى البحرين

ج / الوثيقة



3- شهد عهد حاكم البحرين الشيخ حمد بن عيسى آل خليفة:

ب / افتتاح جسر الملك فهد

أ / إنشاء مدينة زايد


د / استغلال النفط

ج / نشأة التعليم النظامي

السؤال الثاني: بين ردود الفعل الوطنية البحرينية للحد من النفوذ البريطاني في النصف الأول من القرن 20م! ★★



استراتيجية اشحن بطاريتك



السؤال الثالث: شهدت الحركة الوطنية انتعاشة قوية ضد النفوذ البريطاني في فترة الثلاثينات والاربعينات ★★

التغذية الراجعة: المعلم			
ممتاز	جيد جدا	جيد	مرضي
الوصف	التعزيز	التطوير	
<input type="checkbox"/> اجابتك سليمة من الالخطاء . <input type="checkbox"/> وظفت المطلوب منك <input type="checkbox"/> عملك رائع ومتقن <input type="checkbox"/> اجابتك متميزه .	<input type="checkbox"/> شكرا لك والى الامام دائما . <input type="checkbox"/> اقدر جهودك . <input type="checkbox"/> سعدت بمحاولاتك . <input type="checkbox"/> تطور ملحوظ واصلي العطاء .	<input type="checkbox"/> صحي الالخطاء مستعينة بالكتاب . <input type="checkbox"/> تدريبي أكثر مستعينة بالكتاب . <input type="checkbox"/> ستنجزين أفضل بانتباهك للدرس . <input type="checkbox"/> راجعي اجابتك وأكملها .	
التاريخ : الدرجة :			
توقيع ولي الامر <input type="checkbox"/> ملاحظات			

تأسيس الدولة العصرية



أولاً: العوامل المساعدة

في الستينات [على الصعيد السياسي]	الثلاثينات شهدت البحرين نهضة حديثة
<p>6. شاركت البحرين بعض لجان جامعة الدول العربية.</p> <p>7. استضافت البحرين العديد من المؤتمرات العربية والعالمية.</p> <ul style="list-style-type: none"> 1968م: أعلنت بريطانيا عزمها على الانسحاب من الخليج العربي. طالبات إيران بالبحرين. 1970م: أرسل يوثانت الأمين العام للأمم المتحدة بعثة لتقصي الحقائق في البحرين والوقوف على آراء السكان بشأن مستقبلهم السياسي. قابلت البعثة لتي ترأسها الإيطالي كوي كادري مختلف الهيئات الرسمية والشعبية ورفعت تقريرها. جاء في التقرير ان الجميع يتطلعون إلى البقاء في دولة عربية مستقلة. <p>8. 11 مايو 1970م: صادق مجلس الأمن بالإجماع على تقرير البعثة الدولية مما وضع حداً للمطالب الإيرانية، فأصبحت البحرين مهياً لتحول سياسي جديد.</p>	<p>1. النهضة الحديثة التي شهدها المجتمع البحريني، اذ نشأت أولى المدارس في 1919م ، فارتفع عدد الطلاب، وانتقل عدد من البحرينيين للدراسة في الخارج.</p> <p>2. اكتشاف النفط أدى إلى ظهور فئة عمالية.</p> <p>3. وبعد الحرب العالمية الثانية انتشر المذيع ونشأت الصحافة.</p> <p>4. ازدياد نشاط الحركة التجارية، واستقرار فئات متزايدة بالمدن.</p> <p>5. تأسيس عدد من الأندية الأدبية والرياضية والنسائية.</p>

ثانيا: بيان 14 أغسطس 1971م



وضحي النتائج التي ترتبت على استقلال مملكة البحرين 1971م؛

<ul style="list-style-type: none"> في 14 من اغسطس 1971م أعلن الشيخ خليفة نيابة عن اخيه الشيخ عيسى بن سلمان آل خليفة بيان تضمن: <ol style="list-style-type: none"> 1 إنهاء جميع المعاهدات مع بريطانيا. 2 سيادة حكومة البحرين على كامل مجالها. 3 حق البحرين في الانضمام إلى المنظمات الإقليمية والدولية. 	في 14 من اغسطس 1971م
<ul style="list-style-type: none"> صدر مرسوم أميري حيث اتخذ الشيخ عيسى بن سلمان لقب أمير البحرين. 	وفي 16 اغسطس 1971م
<ul style="list-style-type: none"> انضمت البحرين إلى جامعة الدول العربية. 	11 سبتمبر 1971م
<ul style="list-style-type: none"> انضمت إلى منظمة الأمم المتحدة كدولة مستقلة كاملة العضوية. وحرزت اعترافا دوليا سريعا. 	21 سبتمبر 1971م

ثالثا: النهضة الحديثة

بداية السبعينات: عهد الشيخ عيسى بن سلمان وعهد الملك حمد

- تسارع النمو الاقتصادي.
- تعدد مظاهر التنمية بفضل ارتفاع أسعار النفط والمشاريع الانمائية.
- ساعدت العائدات المالية بالعناية بالبنية الاساسية وانشاء الجهاز الإنتاجي
- وتوسيع الخدمات الاجتماعية.

س: اذكر أبرز مجالات النهضة في البحرين منذ بداية سبعينات القرن الماضي؛

مجالات النهضة في البحرين منذ بداية سبعينات		
المجال الاجتماعي	المجال الاقتصادي	مجال البنية الأساسية
<ul style="list-style-type: none"> انتشرت الخدمات التعليمية والثقافية والصحية. انتشرت خدمات الاسكان تعددت الجامعات. نشأت إدارة وهياكل عصرية في كل القطاعات. خدمات الكهرباء والماء بأسعار ميسرة. كل الأسر البحرينية حصلت على نصيب وافر من التجهيزات المنزلية. احتلت البحرين المرتبة 39 عالميا و 3 عربيا ضمن البلدان ذات التنمية البشرية المرتفعة. 	<ul style="list-style-type: none"> استخراج النفط وتكريره. صناعة الألمنيوم. اتسع النشاط البنكي. ازدهرت التجارة تدل على كثرة الاسواق. اتجهت الدولة الى تنويع جهاز الانتاج للحد من الاعتماد على النفط. 	<ul style="list-style-type: none"> 1972م افتتاح مطار البحرين الدولي. 1986م جسر الملك فهد. تكثيف العناية بالطرق والجسور. نشأت مدن جديدة مثل مدينة عيسى، مدينة حمد، مدينة زايد. تطورت القرى التقليدية الى مدن عصرية.

بداية الالفية الجديدة عهد الملك حمد بن عيسى آل خليفة

بداية الالفية الجديدة: اهم المنجزات بهذه الفترة: « في عهد الملك حمد بن عيسى آل خليفة »

- توسع نطاق الحرية الاقتصادية.
- توسعت الخدمات الاجتماعية في التعليم والصحة والاسكان.
- اعتنت الدولة بالإصلاح السياسي، «وضحي الإصلاحات الدستورية في عهد الملك حمد بن عيسى آل خليفة»

- 1- حيث تم اقرار ميثاق العمل الوطني بنسبة 98.4٪ أثر استفتاء 2001م.
- 2- صدر الدستور 2002م فأصبحت البحرين مملكة دستورية.
- 3- تعددت الجمعيات السياسية والمدنية 526 جمعية 2011م.
- 4- توالت الانتخابات النيابية والبلدية كل أربع سنوات.
- 5- تمت العناية بحقوق الانسان وتمكين المرأة.

6- تنفيذ عدة برامج توظيف حتى نزلت البطالة الى 3.6٪ عام 2011م مما حقق التشغيل الكامل للموارد البشرية.

7- تعددت الإصدارات الصحفية والمنتجات الثقافية.

من أهم النتائج التي حققتها هذه المنجزات هي:

1 كل ذلك أدى إلى إنشاء مجتمع عصري متضامن، تمثل الطبقة الوسطى أهم مكوناته.

2 والانفتاح الثقافي.

3 تزايد خروج المرأة للعمل وللمشاركة العامة.

إقبال البحرنيين على التعليم وعلى وسائل العيش والعمل الجديدة.



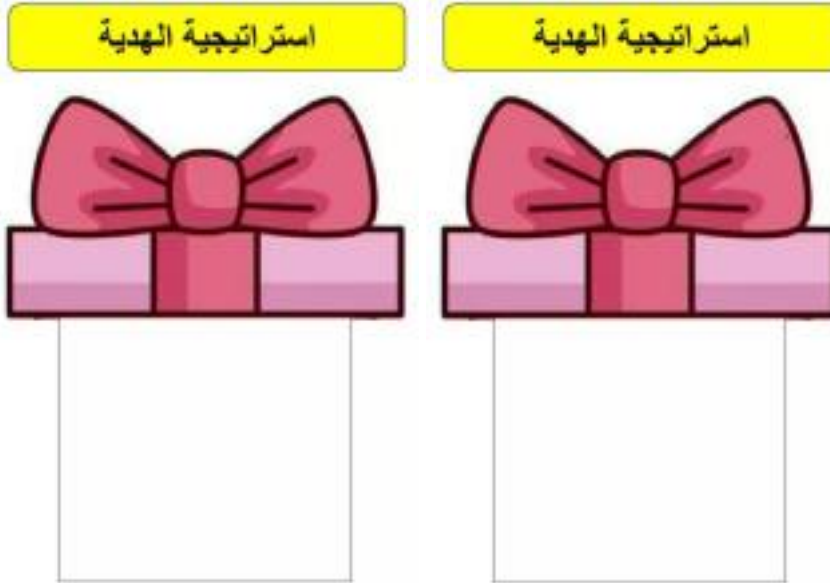
- يذكر أبرز مجالات النهضة في البحرين منذ بداية سبعينات القرن الماضي.



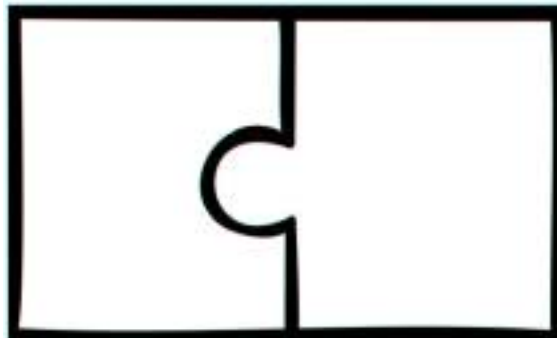
مهارات القرن ٢١



السؤال الأول: اشرح مظاهر النهضة في مجال الإصلاح السياسي في عهد جلالة الملك حمد بن عيسى آل خليفة. ★



السؤال الثاني: وضح أبرز مجالات نهضة البحرين في مجال البنية الأساسية منذ بداية سبعينات القرن العشرين. ★★



السؤال الثالث : ★★★



أولاً- اختر من العمود (ب) أسماء الشخصيات التاريخية المناسبة للعبارة المبينة في العمود (أ) ،
ثم أكتب الحرف الدال على الإجابة الصحيحة في المكان المخصص له:

العمود (أ)	الإجابة	العمود (ب)
1- اعترفت بريطانيا باستقلال الكويت في عهده سنة 1961م.	أ- الشيخ محمد بن خليفة آل خليفة.
2- بنى قلعة مريـر في الزبارة.	ب- الملك حمد بن عيسى آل خليفة.
3- أقنع حاكم البحرين بإنشاء مجلس تأسيسي للحد من النفوذ البريطاني.	ج- الشيخ عيسى بن سلمان آل خليفة.
4- شهد عهده افتتاح جسر الملك فهد سنة 1986م.	د- عبدالوهاب الزباني.
5- شهد عهده الاستفتاء على ميثاق العمل الوطني سنة 2001م.	هـ- عبدالله السالم الصباح.

السؤال الثاني: أجب عن الأسئلة الآتية: (15 علامة، لكل نقطة علامة ونصف)

1- سم اثنان من الجزر الإماراتية الثلاثة التي احتلتها إيران . (يكتفى بنقطتين، لكل نقطة علامة ونص)

- طنب الكبرى.
- طنب الصغرى.
- أبو موسى.

امتحانات سابقة مع الاجابة



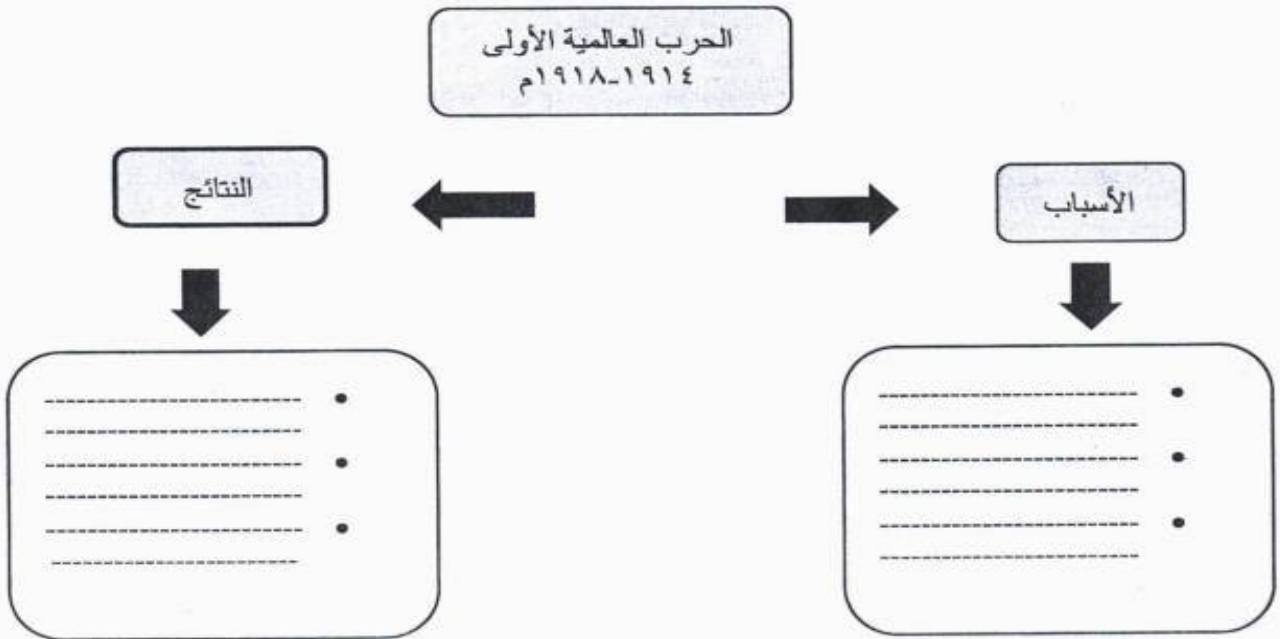
10

أولاً- اختر من العمود (ب) أسماء الشخصيات التاريخية المناسبة للعبارة المعبئة في العمود (أ)، ثم اكتب الحرف الدال على الإجابة الصحيحة في المكان المخصص له:

العمود (ب)	الإجابة	العمود (أ)
أ-موسوليني	1-اعترفت بريطانيا باستقلال الكويت في عهده سنة 1961.
ب-الملك حمد بن عيسى آل خليفة	2-وقع معاهدة الحلف الفولاني مع هتلر.
ج-الشيخ عيسى بن سلمان آل خليفة	3-أقنع حاكم البحرين بإنشاء مجلس تأسيسي للحد من النفوذ البريطاني.
د- عبد الوهاب الزباني	4-شهد عهده افتتاح جسر الملك فهد سنة 1986.
هـ-عبدالله السالم الصباح	5- شهد عهده الاستفتاء على ميثاق العمل الوطني سنة 2001م.



رابعاً: أكمل خريطة المفاهيم الآتية عن الحرب العالمية الأولى: (بدون شرح)





أولاً: اختر من العمود (ب) أسماء الشخصيات التاريخية المناسبة للمنجزات والأعمال المبينة في العمود (أ)، ثم اكتب الحرف الدال على الإجابة الصحيحة في المكان المخصص له:

العمود (أ)	الإجابة	العمود (ب)
١- شنَّ هجوماً على الدنمارك والنرويج فاحتلها (أبريل ١٩٤٠م).		أ- مصالي الحاج.
٢- نُصِب ملكاً على العراق سنة ١٩٢١م.		ب- السلطان هيثم بن طارق آل سعيد.
٣- أسس جمعية نجم شمال أفريقيا.		ج- فيصل بن الحسين.
٥- تولّى حكم عُمان بعد وفاة السلطان قابوس.		د- الشيخ عيسى بن علي آل خليفة.
٦- شهد عهده نشأة التعليم النظامي في البحرين ١٩١٩م.		هـ- هتلر.



أولاً: اختر من العمود (ب) أسماء الشخصيات التاريخية المناسبة للمنجزات والأعمال الميينة في العمود (أ)، ثم اكتب الحرف الدال على الإجابة الصحيحة في المكان المخصص له:

العمود (أ)	الإجابة	العمود (ب)
١- أعلن قيام حكومة فرنسا الحرة في المنفى سنة ١٩٤٠م.		أ- أحمد بن بيلا.
٢- أعلن إلغاء الانتخاب على سوريا ولبنان سنة ١٩٤١م.		ب- السلطان سعيد بن ثيمور
٣- أصبح أول رئيس للجزائر بعد الاستقلال.		ج- كاترو.
٤- أسس مدينة الأحمدى التي نسبت إليه.		د- الشيخ أحمد بن محمد الفاتح.
٥- نجح في ضم عُمان الى مسقط وأصبحت كلتاها دولة واحدة.		هـ- بيتان.
٦- تمكن من فتح البحرين عام ١٧٨٣م.		و- أحمد الجابر الصباح.
		ي- ديفول.

السؤال الثالث: أولاً: اختر من العمود (ب) أسماء الشخصيات التاريخية المناسبة للعبارات المبينة في العمود (أ) ، ثم اكتب الحرف الدال على الإجابة الصحيحة في المكان المخصص له:

العمود (أ)	الإجابة	العمود (ب)
1- اعترفت بريطانيا باستقلال الكويت في عهده سنة 1961م.	أ- الشيخ محمد بن خليفة آل خليفة.
2- بنى قلعة مرير في الزبارة.	ب- الجنرال كاترو.
3- أجلى الإنجليز عن قناة السويس وأَمَمَها باسم الشعب المصري سنة 1956م.	ج- الشيخ عيسى بن سلمان آل خليفة.
4- شهد عهده افتتاح جسر الملك فهد سنة 1986م.	د- جمال عبدالناصر.
5- ممثل حكومة فرنسا الحرة في القاهرة الذي أعلن إلغاء الانتداب على سوريا ولبنان.	هـ- الشيخ عبدالله السالم الصباح.

ثانياً: اكتب كل نتيجة من النتائج الآتية أمام ما يناسبها من الأحداث الواردة في الجدول الذي يليها:

- | | |
|--|---|
| - قيام الحرب العالمية الثانية. | - تشجيع آل خليفة على فتح البحرين. |
| - سيادة حكومة البحرين على كامل مجالها. | - انهيار المعسكر الشرقي (الإتحاد السوفيتي). |
| - إنهاء جميع المعاهدات مع بريطانيا. | - أقيمت في فلسطين منطقة دولية. |



الحدث التاريخي	النتائج
معركة الزبارة (1783-1782م)
توقيع بيان البحرين (أغسطس 1971م)
احتلال ألمانيا أراضي بولندا (1939م)
اتفاقية سايكس بيكو (1916م)

ثانيًا: صوّب ما تحته خط في العبارات الآتية:

1. أقرّ ميثاق العمل الوطني بنسبة 98.4% إثر استفتاء 2001م في عهد الشيخ عيسى بن سلمان آل خليفة.

(.....)

2. في 2 نوفمبر عام 1917م أصدر اللورد بلفور وزير الخارجية الفرنسي تصريحه المعروف بـ"وعد بلفور" والفاضي برغبة دولته في إقامة دولة لليهود على أراضي فلسطين.

(.....)

3. عُرفت الكويت في القرن التاسع عشر الميلادي باسم الساحل المتصالح.

(.....)

4. انضمت مملكة البحرين إلى جامعة الدول العربية في عهد الشيخ سلمان بن أحمد.

(.....)

5. حققت عُمان استقلالها في عهد السلطان سعيد بن تيمور.

(.....)

6. استخدمت ألمانيا في ليبيا أعنف الأساليب من أجل سيطرته على البلاد بإلغاء شخصيتها العربية

والإسلامية.

(.....)



ثانيًا: ضع علامة (√) أمام العبارة الصحيحة وعلامة (×) أمام العبارة الخاطئة:

١. الدولة التي قادت حركة الاستعمار في أواخر القرن الـ١٦م هي بريطانيا. ()

٢. ازدهرت الزبارة في عهد الشيخ خليفة بن محمد آل خليفة (١٧٧٢-١٧٨٢م). ()

٣. تمكّن الشيخ عبدالوهاب الزباني من إقناع حاكم البحرين بإنشاء مجلس تأسيسي للحد من النفوذ الفرنسي ()

٤. أعلن الجنرال كاترو ممثل حكومة فرنسا الحرة في القاهرة إلغاء الانتداب على مصر والعراق. ()

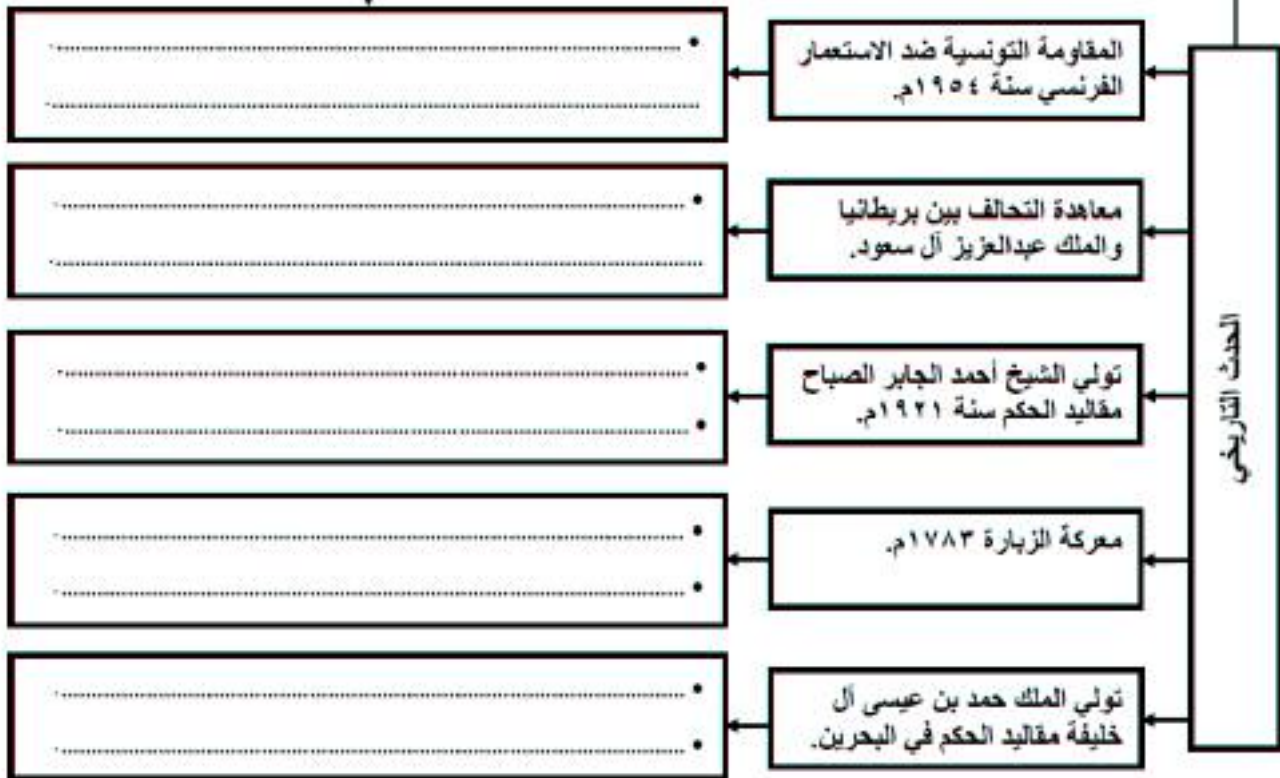
٥. أكبر إمارات الساحل المتصالح في القرن ١٩ م هي أبو ظبي. ()



أولاً- صنف النتائج الآتية حسب الحدث الذي يناسبها في المخطط التالي:

- النتائج: - تشجيع آل خليفة على فتح البحرين. - تأسيس مدينة الأحمدى. - هزيمة نصر آل منكور.
- إقرار ميثاق العمل الوطني. - منح تونس حكماً ذاتياً. - إعلان البحرين مملكة دستورية.
- معاملة الشريف حسين كملك على الحجاز فقط. - منح الشركات البريطانية والأمريكية امتياز التنقيب عن النفط.

النتائج المترتبة





ثانيًا: أكمل الفراغ مستعينًا بالمعطيات أدناه:

(فيصل بن الحسين، الريف، محمد السنوسي، بشارة الخوري، الضباط الأحرار)

1. اعترف العالم باستقلال ليبيا في نوفمبر 1951م، تحت حكم
2. واجه محمد عبد الكريم الخطابي الاحتلال الإسباني في المغرب في منطقة
3. جرت في لبنان انتخابات نيابية أسفرت عن وصول إلى رئاسة الجمهورية.
4. قامت في مصر عام 1952م ثورة ضد الاحتلال البريطاني أطلق عليها اسم ثورة
5. نُصب ملكًا على العراق سنة 1921م.



السؤال الثالث:

أولاً- اختر من العمود (ب) أسماء الشخصيات التاريخية المناسبة للعبارة المبنية في العمود (أ)، ثم اكتب الحرف الدال على الإجابة الصحيحة في المكان المخصص له:

25
10

العمود (أ)	الإجابة	العمود (ب)
1- وقع معاهدة الحلف الفولاذي مع هتلر.	أ- السلطان سعيد بن تيمور
2- نجح في ضم عمان إلى مسقط عام 1955.	ب- الشيخ خليفة بن سلمان آل خليفة
3- أقنع حاكم البحرين بإنشاء مجلس تأسيسي للحد من النفوذ البريطاني.	ج- الشيخ عيسى بن سلمان آل خليفة
4- شهد عهده افتتاح جسر الملك فهد سنة 1986.	د- عبد الوهاب الزباني
5- أعلن بيان 14 أغسطس 1971م.	هـ- موسوليني

ثانيًا - أمامك أحداث العراق خلال الفترة من (1921 إلى 1958)، رتبها بالأرقام من 1 إلى 5 من الأقدم إلى الأحدث.

5

دخول العراق في حلف بغداد.

اعتراف بريطانيا باستقلال العراق.

تصيب فيصل بن الحسين منًا على العراق.

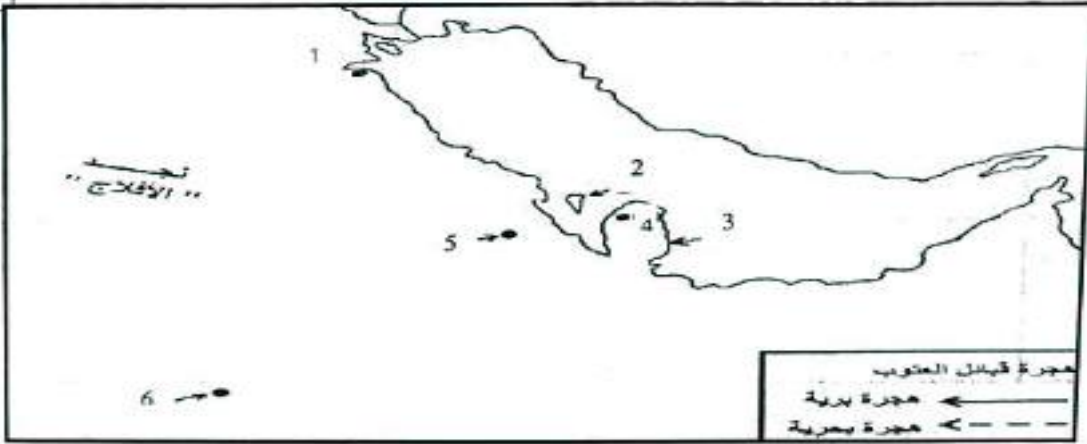
وقوع انقلاب رشيد عالي الكيلاني.

قيام ثورة 14 يوليو، وإعلان الجمهورية.

الدولة	موقفها من الحلفاء بالحرب العالمية الثانية	أسباب اتخاذها هذا الموقف	نتائج اتخاذها هذا الموقف
العراق			
ليبيا			
تونس			

ثانياً: على الخريطة التي أمامك، اكتب ما تمثله هذه الأرقام تبعاً لموقعها على الخريطة حسب الترتيب وفق المعطيات بالجدول المرفق.

15



دول وصل إليها آل خليفة في هجرتهم إلى نجد	مناطق ومدن وصل إليها آل خليفة في هجرتهم إلى نجد
1	4
2	5
3	6

لاحظ أن أسئلة الامتحان في هجرتهم إلى نجد

صفحة (4)

المواد الاختصاصية المسار: (الإعدادية المعادلة)

ثالثاً: اكتب الأحداث التاريخية التالية داخل الخط الزمني مراعيًا التسلسل الصحيح من الأقدم للأحدث:

(إجلاء أهل البحرين القوات البرتغالية 1602م - يسطر البرتغاليون نفوذهم في البحرين 1521م - معركة الزبارة 1782م)

.....
.....



بحرين نور العين

الامتحانات الوزارية للأعوام السابقة

الفصل الدراسي الثاني - تاريخ

الرقم	الامتحان الوزاري	الإجابة النموذجية	السنة
1			امتحان الشهادة الإعدادية 2024-2023
2			امتحان الشهادة الإعدادية للمكفوفين 2024-2023