

## مذكرة المواد الاجتماعية لنهاية الفصل الأول



### تم تحميل هذا الملف من موقع مناهج مملكة البحرين

موقع المناهج ← مناهج مملكة البحرين ← الصف التاسع ← المواد الاجتماعية ← الفصل الأول ← ملفات متنوعة ← الملف

تاريخ إضافة الملف على موقع المناهج: 2025-12-25 15:39:53

ملفات اكتب للمعلم اكتب للطالب ا اختبارات الكترونية ا اختبارات ا حلول ا عروض بوربوينت ا أوراق عمل  
منهج انجليزي ا ملخصات وتقارير ا مذكرات وبنوك ا الامتحان النهائي ا للمدرس

المزيد من مادة  
المواد  
الاجتماعية:

### التواصل الاجتماعي بحسب الصف التاسع



صفحة مناهج مملكة  
البحرين على  
فيسبوك

الرياضيات

اللغة الانجليزية

اللغة العربية

التربية الاسلامية

المواد على تلغرام

### المزيد من الملفات بحسب الصف التاسع والمادة المواد الاجتماعية في الفصل الأول

الأسئلة المكررة في المواد الاجتماعية للثالث الإعدادي

1

ملخص النهائي في المواد الاجتماعية

2

المراجعة الشاملة للمواد الاجتماعية لاختبار الثالث

3

ملخص المواد الاجتماعية للاختبار النهائي الخاص بالفصل الأول

4

مراجعة الاختبار الثاني في المواد الاجتماعية

5



## مذكرة المواد الإجتماعية - الثالث الإعدادي

لنهاية الفصل الدراسي الأول 2025 - 2026

إعداد: أ. عقيل علي حسين



ملاحظة: الكتاب المدرسي هو المصدر الأساسي للطالب

# مذكرة المواد الإجتماعية - الثالث الإعدادي

لنهاية الفصل الدراسي الأول 2025 - 2026

ملاحظة: الكتاب المدرسي هو المصدر الأساسي للطالب

## الدرس الأول: البحرين ( الموقع والمساحة )

السؤال الأول: أجب عما يلي:

- 1- جزر مملكة البحرين هي جزيرة **الأم البحرين**.
- 2 - تقع البحرين بم 1 - أكبنتصف المسافة بين **مضيق هرمز و مصب شط العرب**.
- 3 - تبعد البحرين حوالي 22 كم عن الساحل **الشرقي** للمملكة العربية السعودية.
- 4 - تغير شكل سواحل البحرين واتسعت مساحتها بسبب **الردم المستمرة للأرصفة و الشعاب المرجانية القريبة من السواحل**.
- 5 - افتتح جسر **الملك فهد** عام 1986 الذي يربط البحرين بالسعودية مروراً بجزيرة **أم النعسان** ويبلغ طوله **25 كم**.
- 6 - الموقع الفلكي للبحرين بين دائرتي عرض **25 - 27** شمال خط الاستواء و بين خطي طول **50 - 51** شرق خط غرينتش.
- 7- علل : إنشاء نظام المحافظات في مملكة البحرين  
أ. دعم كفاءة الحكم لمحلي في تطبيق طط التنمية والخدمات الاجتماعية والثقافية.  
ب. الحفاظ على الأمن والنظام العام. ج. تدعيم الأنشطة الاجتماعية وتفعيلها.
- 8- وضح أهمية الموقع الجغرافي لدولة البحرين قديماً وحديثاً.  
أ. تتوسط البحرين حوض الخليج العربي الذي كان يشكل ممراً مائياً مهماً.  
ب. تصل البحرين بين أقاليم العالم الكبرى وهما شرق آسيا وغرب أوروبا.  
ج. احتلت البحرين مركزاً استراتيجياً يمثل همزة وصل بالعالم الخارجي، إذ تقع عبر طريق حيوي هو أحد أهم طرق التجارة الرئيسية.
- 9- ما الدور الذي كانت تقوم به الأرصفة والشعاب المرجانية حول سواحل البحرين ؟  
أ. تمثل حماية طبيعية من أطار الأمواج والتيارات البحرية.  
ب. تهئي قيام بيئة بحرية غنية بالثروة السمكية.

# مذكرة المواد الإجتماعية - الثالث الإعدادي

لنهاية الفصل الدراسي الأول 2025 - 2026

ملاحظة: الكتاب المدرسي هو المصدر الأساسي للطالب

## الدرس الثاني: البحرين ( مظاهر السطح )

السؤال الأول: أجب عما يلي:

- 1- ظهرت قبة البحرين فوق مياه البحر بسبب اصطدام الكتلة العربية بالكتلة الآسيوية الأوروبية بالزمن الثالث .
- 2 - تركّز سكان البحرين منذ القدم في السهل الشمالي .
- 3 - تشكل المنخفض الدالي وتبددت بعض أجزاء المرتفعة كجبل الدان بسبب عوامل التعرية .
- 4 - كانت مياه البحر تغمر سواحل البحرين حيناً وتنحسر عنها أحياناً أرى بسبب التغيرات المناخية .
- 5 - تتميز الأطراف الجنوبية للسماهلين السماهلين الشرقي والغربي منطقة رأس البر في مملكة البحرين بكثرة السبخات .
- 6 - انكشفت معظم أراضي البحرين بالزمن الجيولوجي الثالث .
- 7 - ارتفعت نسبة الملوحة في المياه الجوفية بالبحرين في الزمن الجيولوجي الرابع بسبب تسرب مياه البحر للطبقات الجوفية .
- 8- علل : تركّز الإنسان منذ القدم في السهل الشمالي من الأراضي المنخفضة الساحلية (شمال جزيرة البحرين )  
أ. وجود مساحات واسعة من التربة الصالحة للزراعة  
ب. انتشار العيون المائية فيها
- 9- ما مظاهر السطح في البحرين ؟

الخصائص	الموقع	مظاهر السطح
بيضاوي الشكل يحيط به جدار صخري يتكون من جزئين هما: كتلة تل جبل الدخان و منخفض الشبك و الغينة .	يقع في قلب البحرين	المنخفض الداخلي ( الحوض الداخلي )
ينحدر من أعالي الجدار الصخري للأطراف الساحلية، تقطعه ممرات وادي بوري و وادي الزلاق.	تحيط بالمنخفض الداخلي	المنحدرات
يمتاز الشريط السهلي الساحلي الشرقي والغربي: بكثافة الرمال و ارتفاع نسبة الملوحة و تكثر السبخات و يمتاز السهل الشمالي: بوجود مساحات واسعة من التربة الصالحة للزراعة وانتشار العيون المائية فيها.	تحيط بالمنحدرات و تمتد إلى الساحل	الأراضي المنخفضة

# مذكرة المواد الإجتماعية - الثالث الإعدادي

لنهاية الفصل الدراسي الأول 2025 - 2026

ملاحظة: الكتاب المدرسي هو المصدر الأساسي للطالب

## الدرس الثالث: درس البحرين ( المناخ )

السؤال الأول: أجب عما يلي:

- 1- المناخ الذي يسود البحرين هو **الصحراوي** .
- 2- ترتفع الحرارة في البحرين صيفاً في الفترة من **مايو إلى أكتوبر** وتعتدخ الحرارة شتاً في الفترة من **نوفمبر إلى أبريل** .
- 3- أدت مظاهر المدنية الحديثة وأسلوب تعامل الإنسان مع البيئة في مملكة البحرين إلى ارتفاع **درجة الحرارة** .

4- علل: تعتبر البحرين منطقة نموذجية بالنسبة لاحتمال استغلال الطاقة الشمسية كطاقة مستقبلية بديلة للنفط.

بسبب أ. تعرض البحرين لمدة إشماس طويلة خصوصاً بالصيف.  
ب. طول ساعات النهار .  
ج. صفاء السماء.

5- علل : ارتفاع درجة الحرارة في البحرين صيفاً في الفترة من مايو حتى أكتوبر  
بسبب تعامد أشعة الشمس على المنطقة الواقعة بين الإستواء ومدار السرطان قريباً من  
البحرين.

6- علل : اعتدال درجة الحرارة في البحرين شتاءً في الفترة من نوفمبر حتى أبريل  
بسبب وصول أشعة الشمس للبحرين بشكل مائل حين تكون عمودية على المنطقة الواقعة  
بين الإستواء ومدار الجدي.

7- علل: ارتفاع درجة الحرارة في مدن مملكة البحرين في الوقت الحاضر  
بسبب أ. مظاهر المدنية الحديثة. ب. أسلوب تعامل الإنسان مع البيئة.  
من أمثلة ذلك ( سفلة الشوارع - الحوائط الإسمنتية - مكيفات المنازل - الغازات المنبعثة  
من المصانع والسيارات ) .

8- علل : قلة سطوع الشمس خلال الشتاء  
أ. تشكل الضباب وارتفاع نسبة الغيوم التي تحجب الشمس.  
ب. قصر ساعات النهار .

# مذكرة المواد الإجتماعية - الثالث الإعدادي

لنهاية الفصل الدراسي الأول 2025 - 2026

ملاحظة: الكتاب المدرسي هو المصدر الأساسي للطالب

9- علل: ارتفاع ساعات سطوع الشمس خلال الصيف  
بسبب أ.صفاء السماء معظم شهور الصيف  
ب. طول ساعات النهار

10- علل: ترتفع نسبة الرطوبة طوال السنة صيفا وشتاء في البحرين؟  
لأن البحرين أرخبيل ( مجموعة جزر ) يحيطها مياه البحر من جميع الجهات.

11- قارن بين أنواع الرياح التي تهب على البحرين في فصلي الصيف والشتاء وخصائصها .

الفصل	اسم الرياح	خصائصها "أثرها على المناخ"
الصيف	رياح البارح الشمالية	محملة بالغبار و الأتربة ( بسبب قلة الأمطار و عدم تماسك التربة )
	رياح الكوس الجنوبية الشرقية	حارة و رطبة (بسبب مرورها بمياه الخليج)
الشتاء	رياح شمالية غربية "متوسطة"	دافئة و رطبة (تساقط الأمطار قليلة)
	رياح شمالية غربية "قطبية"	باردة و جافة

# مذكرة المواد الإجتماعية - الثالث الإعدادي

لنهاية الفصل الدراسي الأول 2025 - 2026

ملاحظة: الكتاب المدرسي هو المصدر الأساسي للطالب

## الدرس الرابع: درس البحرين ( المياه )

السؤال الأول: أجب عما يلي:

- 1- تعتبر المياه الجوفية في البحرين محدودة جداً بسبب **قلة الأمطار + ارتفاع معدلات التبخر**.
- 2 - الطبقة الرئيسية التي تعتمد عليها البحرين في الحصول على المياه للمنازل هي طبقة **الخبر**.
- 3- أكبر القطاعات المستهلكة للمياه هو **القطاع منزلي**.
- 4 - تقع محطة معالجة مياه الصرف الصحي التي أنشأتها البحرين في منطقة **توبلي**.
- 5- علل : العجز في الميزان المائي لطبقتي العلات والخبر في البحرين ؟ أي خطر النضوب (النفاذ)؟  
**أ. النمو السكاني واقتصادياً ب. تغير نمط الحياة ج. كميات المياه المستخرجة منهما أكثر من كمية التغذية الواردة إليهما**
- 6- علل: ارتفاع نسبة الملوحة في المياه الجوفية للبحرين بسبب **الإستغلال المكثف للمياه الجوفية مما أدى إلى انخفاض منسوبها ف تغلغلت مياه البحر و مياه أم الرضمة المالحة إليها**.
- 7- علل: ما الإجراءات التي اتخذتها البحرين لتنمية مواردها المائية ؟  
**أ. توعية المواطنين وترشيد الإستهلاك ب. زيادة الإنتاجية من المياه غير تقليدية (محطات التحلية). ج. اعتماد طرق الري الحديثة. د. وضعت برامج وتشريعات لضبط وتقنين استخدام المياه. هـ. انتقاء أنواع من النباتات والأشجار لا تحتاج إلى كميات كبيرة من المياه .**
- 8- ما هو دورك كمواطن للمحافظة على الثروة المائية؟  
**أ. ترشيد استهلاكك وعدم هدر المياه ب. استخدام الطرق المثلى في استهلاك المياه**
- 9- قارن بين طبقات المياه الجوفية في البحرين من حيث نوعية مياهها ومميزاتها ومجال الاستخدام.

الطبقات الجوفية	نوعية مياهها	كميتها و مجال الاستخدام
العلات	مقبولة	كمياتها محدودة وتستخدم للزراعة
الخبر	جيدة	هي الرئيسية التي تعتمد عليها البحرين في الحصول على المياه للاستخدام المنزلي
الروس - أم الرضمة	مالحة	كمياتها كبيرة و لا تصلح للاستخدام إلا بعد التحلية أو استخدامها للأغراض الصناعية

# مذكرة المواد الإجتماعية - الثالث الإعدادي

لنهاية الفصل الدراسي الأول 2025 - 2026

ملاحظة: الكتاب المدرسي هو المصدر الأساسي للطالب

## الدرس الخامس: درس البحرين ( النفط و الغاز الطبيعي )

السؤال الأول: أجب عما يلي:

- 1- اكتشف النفط في البحرين عام 1932 م من حقل **البحرين البري** .
- 2- يستخرج اكثر الغاز الطبيعي المستقل عن النفط في البحرين من طبقة **الخف** .
- 3- مصدر الطاقة المستخدم في معظم محطات توليد الكهرباء هو **الغاز الطبيعي** .
- 4- تقع مسؤولية الإشراف على الثروة النفطية وتنميتها في مملكة البحرين على **المجلس الأعلى للنفط** .
- 5- المحطة الوحيدة التي تستخدم الديزخ في توليد الكهرباء هي **محطة المحرق** .
- 6- القطاع الذي يستهلك معظم الطاقة الكهربائية هو **القطاع المنزلي** .
- 7- تستخرج مملكة البحرين والسعودية النفط من حقل **أبو سعفة البحري** .
- 8- انضمت البحرين في العام 1970 م إلى منظمة **الأوبك** .
- 9- يتم استخراج الغاز الطبيعي من حقل البحرين أما **مصاباً للنفط** أو **مستقلاً عن النفط** .
- 10- عدّد الإجراءات التي تقوم بها البحرين لتدارك نفاذ احتياطيها من النفط والغاز الطبيعي  
أ. البحث عن آبار جديدة.  
ب. تشجيع الأبحاث العلمية حول الطاقة الشمسية كبديل للنفط.  
ج. توعية المواطن في استهلاك الكهرباء .  
11- بين أهمية دور المواطن في المحافظة على الطاقة؟  
**استخدام الطرق المثلى في استهلاك الطاقة. (مثل اختيار أجهزة ومصابيح موفرة للطاقة وعدم تشغيلها دون الحاجة لها)**  
12- فسر ارتفاع الطلب على الطاقة الكهربائية واستهلاكها في مملكة البحرين ؟  
**بسبب النمو السكاني و الإقتصادي والعمراني**  
13- ماذا فعلت البحرين لامتلاك ثروتها النفطية والأشراف عليها ؟  
أ. أنشأت المجلس الأعلى للنفط ليشرف على الثروة النفطية.  
ب. انضمت الى منظمة ( الأوبك ) عام 1970 م  
ج. ساهمت في رؤوس أموال العديد من الشركات التابعة لها.  
د. أنشأت عدداً من المؤسسات والشركات كشركة نفط البحرين الوطنية (بابكو) وشركة غاز البحرين ( بناغاز ) .



# مذكرة المواد الإجتماعية - الثالث الإعدادي

لنهاية الفصل الدراسي الأول 2025 - 2026

ملاحظة: الكتاب المدرسي هو المصدر الأساسي للطالب

## الدرس الرابع: درس البحرين ( الخصائص السكانية )

السؤال الأول: أجب عما يلي:

1 - الكثافة السكانية في البحرين مرتفعة بسبب **صغر مساحتها بالنسبة لعدد السكان المتزايد.**

2 - أكثر مناطق البحرين في الكثافة السكانية هي [ **محافظة العاصمة** ] وأدناها هي [ **المحافظة الجنوبية** ].

3 - ارتفاع الزيادة الطبيعية للسكان في البحرين بسبب **ارتفاع نسبة الولادات و انخفاض نسبة الوفيات.**

4 - علل : ارتفاع معدّل النمو السكاني في البحرين؟

**بسبب أ. ارتفاع معدّخ الزيادة الطبيعية ( للبحريين ) .**

**ب. الهجرة الوافدة للبلاد ( من غير البحرينيين ) .**

5 - ما أهم العوامل التي جعلت البحرين مركزاً للهجرة البشرية وارتفاع النمو السكاني في العشرية الأخيرة؟

**بسبب الإزدهار الإقتصادي الذي حققته البحرين.**

**( مما جعلها منطقة جذب للعمالة ولعدد من الكفاءات وأصحاب المؤسسات )**

6- علل : شهدت البحرين حركة انتقال سكاني داخل مناطقها مؤخراً حيث انخفض التركيز السكاني في العاصمة؟

**أ. الإكتظاظ السكاني . ب. منح القروض الميسرة.**

**ج. إنشاء مشاريع إسكانية جديدة مثل مدينة عيسى ومدينة حمد ومدينة زايد.**

7- اذكر بالجدول التالي التحولات التي شهدتها سكان البحرين بين سنتي 1971 - 2014 م وانعكاسات نتائج تلك التحولات؟

التحولات الاجتماعية بين عامي ( 1971 - 2014 )	انعكاسات ( نتائج ) تلك التحولات
1- التأخر في سن الزواج. 2- تدني نسبة المترملين بسبب قلة الوفيات للتقدم الصحي. 3- تدني نسبة الطلاق نتيجة للوعي والتقارب الفكري و الثقافي 4- انخراط المرأة البحرينية في النشاط الإقتصادي.	1- تدني نسبة الزيادة الطبيعية ( انخفاض الخصوبة و الولادات ) 2- انخفاض حجم الأسرة البحرينية ( يبلغ معدلها حوالي 6 أفراد ) 3- انخفاض نسبة الأطفال وتزايد نسبة القادرين على العمل والإنتاج. 4- ارتفاع إسهام المرأة في العمل والنشاط الإقتصادي. 5- ارتفاع عدد العاملين البحرينيين وانخفاض نسبة البطالة.

# مذكرة المواد الإجتماعية - الثالث الإعدادي

لنهاية الفصل الدراسي الأول 2025 - 2026

ملاحظة: الكتاب المدرسي هو المصدر الأساسي للطالب

## الدرس الخامس: درس التنمية البشرية ( الصحة )

1-قارن بين إنجازات البحرين ف مجال الصحة؟

المجالات	إنجازات مملكة البحرين
الرعاية الوقائية	أ. مراقبة الأغذية والمياه ب. مكافحة الأمراض المعدية ج. نشر الوعي الصحي د. تأمين لقاحات الأطفال
الرعاية العلاجية	أ. حوّلت السلمانية إلى مجمع طبي بعد توسيعه وتجهيزه بأحد الأجهزة ب. إنشاء مستشفيات متخصصة في مجاخ الوتدة والطب النفسي والعجزة ج. السماح بعمل المستشفيات الخاصة.
الرعاية الأولية	أ. إنشاء المراكز الصحية ونشرها في جميع مناطق البحرين ب. تزويد المراكز الصحية بالمعدات و اخصائيين وفنيين
توفير الجهاز البشري الطبي	أ. استقدام أطبا وأ صائيين في مختلف المجاتت الطبية من الخارج. ب. إرسال كوادرها الطبية للتخصص في الخارج ج. إنشاء كلية العلوم الصحية لتخريج ممرضين

2- اذكر نتائج اهتمام مملكة البحرين بالصحة.

- أ. ارتفاع متوسط عمر الإنسان .  
ب. انخفاض نسبة الوفيات.  
ج. القضاء على الكثير من الأمراض.  
د. ارتفاع نسبة الأطفال المصحنين.  
هـ. انخفاض عدد الأشخاص بالنسبة للطبيب الواحد.

3- ما اسم الجهة الحكومية التي تشرف على مجاخ الصحة في البحرين؟  
وزارة الصحة

# مذكرة المواد الإجتماعية - الثالث الإعدادي

لنهاية الفصل الدراسي الأول 2025 - 2026

ملاحظة: الكتاب المدرسي هو المصدر الأساسي للطالب

## الدرس السادس: درس التنمية البشرية ( التعليم )

1- اذكر نتائج اهتمام مملكة البحرين بالتعليم؟

أ. انخفاض نسبة الأمية

ب. نالت البحرين المرتبة الأولى عربياً في مجاخ توفير التعليم للجميع

ج. ارتفاع نصيب الطالب الواحد من المصاريف التعليمية

د. ارتفاع عدد المدرسين والطلاب وحاملي الشهادات العليا

2 - ما الخدمات التي قدمتها حكومة البحرين لتكوين مجتمع متعلما منتجاً؟

أ. وضع الخطط التربوية لرفع المستوى التعليمي.

ب. جعل التعليم الأساسي إلزامياً ومجانياً في جميع مراحله.

ج. زادت عدد المدار للجنسين.

د. جهزت المدار بالمختبرات والمكتبات والملاعب والصاتت

3 - وضح الإجراءات التي اتخذتها حكومة البحرين منذ أوائل الثمانينات لجعل التعليم

استثماري؟

أ. اهتمام بنوعية التعليم

ب. وضع الخطط التربوية الحديثة

ج. تحديد المناهج الدراسية وتطويرها

د. تطبيق نظام توحيد المسارات اكايمية في الثانوية

4 - بين اهتمام حكومة البحرين بالتعليم العالي؟

أ. إنشاء جامعة البحرين

ب. انشا كلية العلوم الصحية

ج. عضويتها ضمن جامعة الخليج العربي

د. انشا معهد البحرين للتدريب

هـ. تقديم منح وبعثات دراسية الى الخارج

5 - بين اهتمام حكومة البحرين بالتعليم النظامي لمحو الامية وتعليم الكبار؟

انشاء مراكز متخصصة بنشر التعليم و فض نسبة الأمية بين الكبار.

# مذكرة التربية للمواطنة - الثالث الإعدادي

لنهاية الفصل الدراسي الأول 2025 - 2026 م

ملاحظة: الكتاب المدرسي هو المصدر الأساسي للطالب

10- اعطي أمثلة من انجازات مملكة البحرين في مجال التنمية المستدامة (الأبعاد الاجتماعية) ؟

الإنجازات	المجالات
أ. عدد كبير من المراكز الصحي ب. تكامل الخدمات الصحية ج. تميز المستشفيات الحكومية د. تعزيز الصحة الوقائية	الصحة
أ. رفع مستوى وجودة التدريس والتعليم ب. تشجيع الاستثمار في قطاع التعليم ج. رفع مستوى التعلي	التعليم
هو توفير المناخ الملائم للعمل المفيد، من خلال التزام جمع أطراف العمل للحقوق و الواجبات	الإجتماعي

# مذكرة المواد الإجتماعية - الثالث الإعدادي

لنهاية الفصل الدراسي الأول 2025 - 2026

ملاحظة: الكتاب المدرسي هو المصدر الأساسي للطالب

## الدرس السابع: درس التنمية البشرية ( الإسكان )

- 1- تقع مسئولية تقديم الخدمات الإسكانية في مملكة البحرين على وزارة: الإسكان.
- 2 - تقدم حكومة البحرين ثلاثة أنواع للقروض الإسكانية هي: **بناء مسكن خاص / ترميم مسكن قائم / شراء مسكن .**
- 3 - بلغت نسبة الأسرى البحرينية التي استفادت من دماء الإسكان المتنوعة أكثر من : **66 % .**
- 4 - ما انعكاس تنفيذ المشاريع الاسكانية على المجتمع في البحرين؟  
**أ. تدني نسبة الأسر الممتدة. ب. توفير العديد من المساكن لكثير من الأسر الجديدة**
- 5 - علل: ضرورة التوسع في المشاريع الإسكانية بالبحرين؟  
**أ. النمو السكاني الذي تشهده البلاد. ب. الكثافة السكانية المرتفعة و صوصا في المنامة والمحرق.**
- 6 - علل: ارتفاع نسبة البناءات العمودية في مملكة البحرين؟  
**اتجاه مملكة البحرين نحو الحفاظ على احتياطي اراضي السكنية للمستقبل**
- 7- بين التسهيلات التي تقدمها مملكة البحرين (وزارة الإسكان) في مجال الإسكان للأسرة البحرينية؟  
**أ. قروض ميسرة ب. توزيع الأراضي السكنية ج. توزيع الشقق والبيوت كهبات ملكية**
- 8- اذكر أهم المشاريع الإسكانية التي تم تنفيذها في مملكة البحرين  
**أ. إنشاء المدن الحديثة المتكاملة مثل مدينة عيسى ومدينة حمد ومدينة زايد  
ب. إنشاء المجمعات السكنية في المدن والقرى مثل: عالي والجسرة وعسكر ودمستان و....**

# مذكرة المواد الإجتماعية - الثالث الإعدادي

لنهاية الفصل الدراسي الأول 2025 - 2026

ملاحظة: الكتاب المدرسي هو المصدر الأساسي للطالب

## الدرس الثامن: درس التنمية الإقتصادية

- 1- تعتمد التنمية اقتصادية والنشاط اقتصادي بشكل أساسي على: **النفط**.
- 2 - من أجل نجاح الخطط والبرامج التنموية اقتصادية في البحرين وفرت **البنية التحتية**.
- 3 - من القطاعات اقتصادية التي ارتفعت في المساهمة في الناتج المحلي البحريني: **الخدمات**.
- 4 - علل : تميز الاقتصاد البحريني بالتوازن بين مختلف قطاعاته وتنوعه ؟  
**أ. التنمية الإقتصادية**  
**ب. سياسة الحرية الإقتصادية**
- 5 - علل : إتباع حكومة البحرين سياسة التنوع في مصادر الدخل؟  
**بسبب إدراك حكومة البحرين لخطر نضوب ( نفاذ) النفط.**
- 6- عدّد التدابير التي اتخذتها البحرين على صعيد البنية التحتية لإنجاح خططها التنموية؟  
**أ. أنشأت المناطق الصناعية**  
**ب. مدّت شبكات المياه والكهرباء والمجاري لمختلف المناطق**  
**ج. طورت شبكة المواصلات و الإتصالات**  
**د. طورت شبكة المواصلات البرية والجوية والبحرية**
- 7 - بما تمثلت سياسة الحرية الاقتصادية التي تتبعها مملكة البحرين والتي أدت إلى جذب المستثمرين؟  
**أ. إعطاء المستثمرين الحرية في إدخال رؤوس الأموال وإخراجها**  
**ب. إعفاء الشركات من الضرائب لمدة معينة**  
**ج. السماح للأجانب بامتلاك جميع أسهم الشركات**  
**د. تقديم التسهيلات للشركات في الدوائر الحكومية**
- 8- اشرح باختصار أبرز نتيجة للتنمية الاقتصادية والحرية الاقتصادية التي اتبعتها مملكة البحرين  
**أ. توسع قاعدة اقتصاد البحريني وتنوع**  
**ب. سم الناتج المحلي الإجمالي يشبه توازن بين مختلف قطاعاته**  
**ج. انخفضت نسبة اسهام القطاع النفطي مقابل ارتفاع نسبة اسهام القطاعات الإقتصادية الأخرى**

# مذكرة المواد الإجتماعية - الثالث الإعدادي

لنهاية الفصل الدراسي الأول 2025 - 2026

ملاحظة: الكتاب المدرسي هو المصدر الأساسي للطالب

## الدرس الثامن: درس القطاع الزراعي، الحيواني، صيد الأسماك

- 1- تنحصر أراضي الصالحة للزراعة بالبحرين بشريط يمتد من **المنامة شمالاً** حتى **الزلاق غرباً**.
- 2 - استفادت البحرين في ري الأراضي الزراعية من المياه المعالجة في محطة **توبلي**.
- 3- تستورد مملكة البحرين الأسماك في فصل الشتاء من دولتي **الإمارات وعمان**.

4 - علل : محدودية الأراضي الصالحة للزراعة في البحرين؟

أ. **قلة مياه الري**      ب. **ملوحة التربة**      ج. **افتقارها للمواد العضوية**

5- وضح جهود مملكة البحرين لتطوير قطاعها الزراعي؟

أ. **تقديم القروض ومستلزمات الإنتاج.**

ب. **إجراء البحوث الميدانية لإدخال البذور المحسنة**

ج. **تقديم الخدمات الإرشادية**

د. **توفير خدمات الوقاية الزراعية**

هـ. **إنشاء مشاريع نموذجية ( مثل مشروع هورة عالي، البحير، عذاري و بوري لإنتاج الأعلاف و الفواكه)**

6 - علل : لا تزال تربية الحيوانات (المواشي) في مملكة البحرين محدودة و ضعفية الإنتاج ؟

أ. **ارتفاع نسبة تكاليف الإنتاج**

ب. **تربية مواشي بطرق تقليدية تنتمي إلى سلالات ضعيفة الإنتاجية**

ج. **عدم وجود مراعي طبيعية**

د. **عزوف السكان عن العمل في هذا القطاع وتوجههم الى قطاعات كالصناعة والخدمات**

7- وضح جهود مملكة البحرين لتطوير قطاعها الحيواني؟

أ. **تقديم القروض ومستلزمات الإنتاج**

ب. **تقديم الخدمات الإرشادية**

ج. **توفير خدمات الرعاية البيطرية**

د. **إدخال السلالات الحيوانية العالية الإنتاج.**

هـ. **إنشاء مشاريع نموذجية (مثل مشروع الهمة لتربية الأغنام والماعز)**

# مذكرة المواد الإجتماعية - الثالث الإعدادي

لنهاية الفصل الدراسي الأول 2025 - 2026

ملاحظة: الكتاب المدرسي هو المصدر الأساسي للطالب

- 8- اذكر جهود مملكة البحرين لتطوير قطاعها السمكي
- أ. طورت بعض الموانئ كفرضتي سترة والمحرق والحد
- ب. قدّمت الإعانات المادية ومستلزمات الصيد للصيادين
- ج. قدمت القروض الميسرة
- د. أسست مشروع رأس حيان لتربية الأحياء البحرية
- هـ. نظمت دورات تدريبية للصيادين

9- كيف يمكن زيادة الإنتاج السمكي في مملكة البحرين؟

- أ. تحديث معدات وسفن الصيد
- ب. مكافحة التلو النفطي
- ج. الحد من الحفر والردم البحري
- د. التنسيق بين دوح مجلس التعاون
- هـ. زيادة تدريب الصيادين وزيادة القروض الميسرة
- و. زيادة المشاريع النموذجية
- ي. زيادة عدد الموانئ وتطويرها

10- قارن بين المشاريع النموذجية الزراعية والحيوانية والسمكية التي انشأتها البحرين بالجدول التالي:

القطاع	المشاريع النموذجية	انتاجها / الغرض منها
الزراعي	- مشروع هورة عالي و البحر - مشروع عذاري و منطقة بوري	لإنتاج الأعلاف و الفواكه
الحيواني	مشروع الهملة	لتربية الأغنام و الماعز
السمكي	مشروع رأس حيان	لتربية الأحياء البحرية / و إجراء البحوث العلمية



# مذكرة المواد الإجتماعية - الثالث الإعدادي

لنهاية الفصل الدراسي الأول 2025 - 2026

ملاحظة: الكتاب المدرسي هو المصدر الأساسي للطالب

## الدرس التاسع: واقع الصناعة في البحرين

- 1- علل: اعتماد البحرين على النفط والغاز الطبيعي كركيزة أساسية لبناء اقتصادها الحديث؟  
أ. مصدر تمويل لإقامة مشروعات اقتصادية وصناعية  
ب. مصدر رئيسي لتوليد الطاقة  
2 - علل : إنشاء الصناعات التصديرية المتنوعة في مملكة البحرين .  
أ. توافر النفط والغاز كمصدرين رئيسيين في توليد الطاقة  
ب. ضيق السوق المحلية  
ج. توافر رؤو الأمواخ الضخمة  
3 - اشرح الجهود التي قامت بها حكومة البحرين الحوافز التي قدمتها لتنمية القطاع الصناعي؟  
أ. أنشأت المناطق الصناعية  
ج. سمحت للأجانب بإنشا مؤسسات صناعية  
د. قدمت القروض  
و. توفير الأراضي بأجر رمزي لأصحاب المشاريع  
ز. أصدرت قوانين لحماية الصناعات الوطنية مثل ( فرض جمارك على السلع المستوردة و إعفاء الآلات والمواد الأولية من الجمارك ).  
4- ما النتائج المترتبة على الحوافز التي قدمتها حكومة البحرين لتنمية القطاع الصناعي؟  
أ. تنويع القاعدة الإنتاجية للإقتصاد الوطني  
ج. زيادة الإستثمار المحلي والأجنبي في القطاع الصناعي  
5- قارن بين الصناعات التصديرية وصناعة إحلال الواردات في مملكة البحرين ؟

النوع	الأمثلة	المميزات	الصعوبات - المشكلات
صناعات تصديرية	تكرير النفط / بتروكيماويات تسيل الغاز الطبيعي الألومنيوم / كريات الحديد بناء السفن و اصلاحها	1- ضخامة رؤوس الأموال 2- تشغيل قوى عاملة كبيرة 3- تشترك الحكومة في ملكيتها 4 - وفرة الإنتاج	1- المنافسة الشديدة 2 - البعد عن الأسواق المستهلكة 3 - تقلبات الأسعار في الأسواق العالمية 4 -التكاليف المرتفعة للمواد الأولية المستوردة
صناعة إحلال الواردات	مواد غذائية / ورق/ اثاث مشروبات غازية / الزجاج مياه معدنية / مواد بناء منتجات الأخشاب / النسيج	1- صغر رؤوس الأموال 2 - قلة القوى العاملة 3 - ملكيتها الخاصة (أفراد) 4- صغر حجم إنتاجها	1- اعتماد على الخارج في تأمين المواد الأولية 2 - قلة تنوعها في السوق الداخلية 3 -التنافس بين منتجاتها بالسوق الداخلية 4 -منافسة الصناعة المستوردة المماثلة

# مذكرة المواد الإجتماعية - الثالث الإعدادي

لنهاية الفصل الدراسي الأول 2025 - 2026

ملاحظة: الكتاب المدرسي هو المصدر الأساسي للطالب

## الدرس العاشر: طرق المواصلات و الإتصالات

- 1- كانت البحرين قديماً تعتمد في تجارتها على ميناء **المنامة** .
- 2 - أنشئت البحرين مينا سترة لتصدير **النفط**.
- 3 - شركة طيران التي تمتلكها مملكة البحرين هي **طيران الخليج** .
- 4 - أنشئت البحرين مينا ألبا تستيراد **الأمونيا** وتصدير **منتجات الألمنيوم** .
- 5- الطرق السريعة هي: **الطرق التي تربط بين المدن أو تحيط بها** (مثل شارع الشيخ عيسى بن سلمان وشارع الملك فيصل).
- 6 - الطرق الداخلية الفرعية الخدمية هي: **الطرق المتفرعة من الشوارع إلى داخل الأحياء السكنية والتجارية** .
- 7- الطرق الدالية الرئيسية هي: [ **طرق تحيط بأحياء سكنية وتجارية، وتربط بين أجزاء المدن الداخلية بشكل دائري تقطعه الشوارع الإشعاعية** ]
- 8- وضع جهود مملكة البحرين في تطوير المواصلات البرية والبحرية والجوية و الاتصالات السلكية واللاسلكي

القطاع	جهود مملكة البحرين (التطورات)
المواصلات البرية	أنشأت شبكة من الطرق البرية المتطورة والتمتيزه بمواصفاتها العالية وتضم هذه الشبكة مجموعتين من الطرق هي : 1. <b>الجسور</b> : التي تربط الجزيرة اتم بالجزر المجاورة وكذلك تربط البحرين بالسعودية 2. <b>مجموعة الطرق الداخلية</b> : التي تتألف من 3 أقسام وهي ( الطرق الدالية الفرعية (الخدمية) - الطرق الداخلية الرئيسة - الطرق السريعة)
المواصلات البحرية	أ. بناء ميناء سلمان عام 1958 م ب) تطوير ميناء سلمان من حيث التوسيع والتجهيز ج. ركزت محطات الحاويات في ميناء سلمان د. تأهيل العاملين في الملاحة وفنون إدارة الموانئ هـ. إقامة منطقة صناعية حرة حول ميناء سلمان وأنشئت فيها مصانع عديدة لشركات أجنبية و. انشاء موانئ أخرى مثل ميناء سترة، ومينا ألبا، وميناء خليفة بن سلمان
المواصلات الجوية	أ. كان مطار البحرين محطة عبور ة اذ كانت نسبة الركاب المارين عبره 90% ب. زادت أهمية المطار بعد النهضة الإقتصادية حين ارتفعت نسبة القادمين والمغادرين ج. تم توسيع المطار وتجهيزه حديثاً ليوكب التطور د. تمتلك البحرين شركة طيران الخليج
الإتصالات السلكية و اللا سلكية	أ. تعتبر البحرين رائدة في استخدام نظم اتصاخ السلكي واللاسلكي المتطورة ب. تم إد اخ نظم اتصاخ متطورة كالهاتف النقاه وشبكة الإنترنت ج. تعمل جميع البدانت الهاتفية بالنظام الرقمي هـ. إصدار جرائد ومجلات د. تعمل الاتصالات من خلل الأقمار الإصطناعية

# مذكرة المواد الإجتماعية - الثالث الإعدادي

لنهاية الفصل الدراسي الأول 2025 - 2026

ملاحظة: الكتاب المدرسي هو المصدر الأساسي للطالب

## الدرس الحادي عشر: القطاع المالي

- 1- الجهاز الذي يشرف على تنظيم القطاع المصرفي ومراقبته في مملكة البحرين **مصرف البحرين المركزي**.
- 3- القطاع الذي يشكل دعامة اقتصاد البحرين لكونه مموتاً لجميع المشاريع الإنمائية هو **القطاع المصرفي**.
- 4- من أسباب تأسيس مؤسسة نقد البحرين عام 1973 م **الفوائض المالية**.
- 5- تغير مسمى مؤسسة نقد البحرين إلى **مصرف البحرين المركزي**.
- 6- علل: تطور القطاع المصرفي في مملكة البحرين ؟ أو (ما العوامل التي جعلت البحرين مركزاً مالياً مهماً بين الأسواق العالمية) ؟
  - أ. الموقع الوسطي المتميز
  - ب. تطور الاتصالات والمواصلات
  - ج. التمتع بموقع زمني مناسب لأكبر البورصات العالمية
  - د. توفر الكوادر الفنية المدربة
  - هـ. الحرية الاقتصادية من حين تسهيل عمليات التحويل الخارجي وعدم فرض ضرائب
- 7- اذكر أبرز المهام التي تقوم بها مؤسسة نقد البحرين (مصرف البحرين المركزي) ؟
  - أ. رسم السياسة النقدية واتئتمانية وتنفيذها
  - ب. تنظيم القطاع المالي
  - ج. إصدار الأوراق المالية
  - د. الرقابة على البنوك وشركات الإستثمار
  - هـ. المساعدة على توفير بيئة أعمال متطورة
- 8- بين النتائج المترتبة على تطور القطاع المصرفي في البحرين ؟
  - أ. ساهم في توفير فرص عمل للكوادر الوطنية
  - ب. نجح في اجتذاب مؤسسات مصرفية أجنبية لإنشاء مكاتب لها بالبحرين
  - ج. يقوم بإعادة استثمار فائض الإيرادات النفطية
  - د. الإستفادة من فرص تمويل الإقتصاد الوطني

# مذكرة المواد الإجتماعية - الثالث الإعدادي

لنهاية الفصل الدراسي الأول 2025 - 2026

ملاحظة: الكتاب المدرسي هو المصدر الأساسي للطالب

## الدرس الثاني عشر: السياحة في البحرين

1- اشرح مقومات السياحة في مملكة البحرين؟

المقومات السياحية	الأمثلة
المعطيات الطبيعية	1- الموقع الجغرافي بين الأقاليم 2- صغر مساحة البحرين 3- الطبيعة الجزرية و طوخ سواحلها الرملية 4 - المناخ الشتوي الربيعي
المعطيات التاريخية	1- قلعة البحرين 2 - مقابر عالي 3 - قلعة الشيخ سلمان 4 - بيت الجسرة 5 - قلعة عراد 6 - معابد باربار 7 - مسجد الخميس 8 - بيت سيادي
المعطيات الحضارية الحديثة	1 - المتحف الوطني 2 - المجمعات التجارية 3 - مركز الصناعات الحرفية 4 - بيت القران 5 - المنزهات 6 - قاعة المؤتمرات والمعارض
توافر خدمات	الفنادق والمطاعم والشقق والمواصلات وانتصاات والبنوك الموجودة في مختلف مناطق البحرين

2- ما الإجراءات التي قامت بها البحرين لتنمية قطاعها السياحي؟ / علل: نمو قطاع السياحة في البحرين بشكل متسارع؟

أ. أنشأت عدداً من الإدارات المختصة بالسياحة والآثار

ب. وضع الخطط والمشاريع السياحية

ج. أعدت عمالة وطنية متخصصة في مجاا السياحة

د. التنقيب عن الآثار وترميمها واتعتنا بها.

هـ. تعريف العالم الخارجي بإمكانيات البحرين السياحية

و. توافر مقومات السياحة المتنوعة في البحرين

ز. شجعت وكاتت السفر والسياحة الأجنبية على فتح مكاتب لها في البحرين

3- ما النتائج المترتبة على تطور القطاع السياحي في مملكة البحرين ؟

أ. تنشيط القطاع الفندقي

ب. تنشيط قطاع النقل وانتصاات

ج. تنشيط وتنمية القطاع التجاري

د. ا تيار المنامة عاصمة السياحة العربية عام 2013 و السياحة اتسيوية عام 2014 م

# مذكرة المواد الإجتماعية - الثالث الإعدادي

لنهاية الفصل الدراسي الأول 2025 - 2026

ملاحظة: الكتاب المدرسي هو المصدر الأساسي للطالب

## الدرس الثالث عشر: التجارة الخارجية

1- علل : تحتل البحرين مركزا تجاريا مميزا بين دول المنطقة .  
أ. تعدد طط إنما قطاعات اتقتصاد البحريني ب. التقاليد التجارية العريقة  
ج. تغير نمط العيش وتحسن ظروفه  
د. مؤشر الحرية الإقتصادية و انعدام الضرائب على الأرباح - انعدام الحواجز الإدارية واللوجستية

2- علل : حقق الميزان التجاري البحريني فائضاً مستمراً؟  
أ. ارتفاع حجم اجمالي الصادرات غير النفطية وقيمته  
ب. ارتفاع حجم الصادرات النفطية وقيمتها

3- علل : تدنت نسبة النفط من إجمالي الصادرات في البحرين ؟  
أ. إتباع سياسة تنويع مصادر الدخل  
ب. عدم اعتماد على مصدر النفط وحده

4- استكمل الجدولين الاتيين لأهم صادرات مملكة البحرين و وارداتها؟

النوع	الأمثلة	تصديرها إلى دول
الصادرات	1- النفط 2- الحديد 3 - بتروكيماويات 4- الألومنيوم 5 - الملابس	1-دول مجلس التعاون 2-الأمريكتين 3- اسيا الجنوبية 4- جنوب شرق اسيا

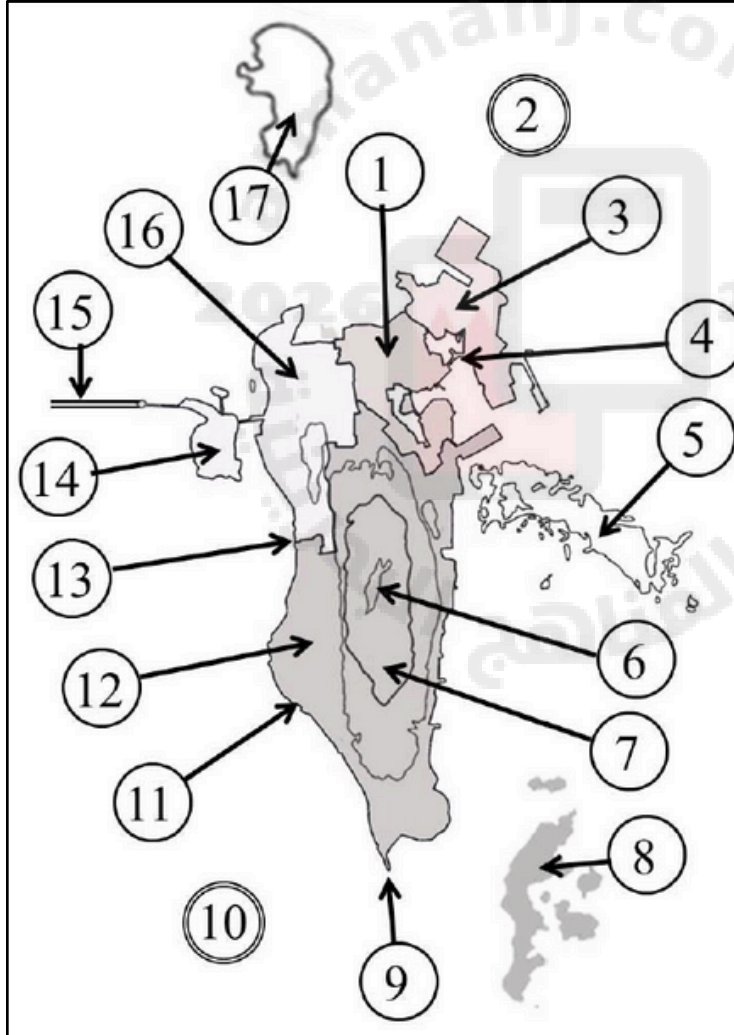
النوع	الأمثلة	تستوردها البحرين من
الواردات	السلع النفطية: 1- المواد الغذائية 2- معدات النقل 3- التجهيزات الصناعية	المملكة العربية السعودية: 1- دول أوروبا الغربية 3- البرازيل 2- الصين 4- الولايات المتحدة الأمريكية

# مذكرة المواد الإجتماعية - الثالث الإعدادي

لنهاية الفصل الدراسي الأول 2025 - 2026

ملاحظة: الكتاب المدرسي هو المصدر الأساسي للطالب

من خلال دراستك اكتب امام كل من الظواهر الجغرافية الواردة في الجدول الرقم الدال عليها وفقاً لموضع الأرقام المبينة على الخريطة ؟



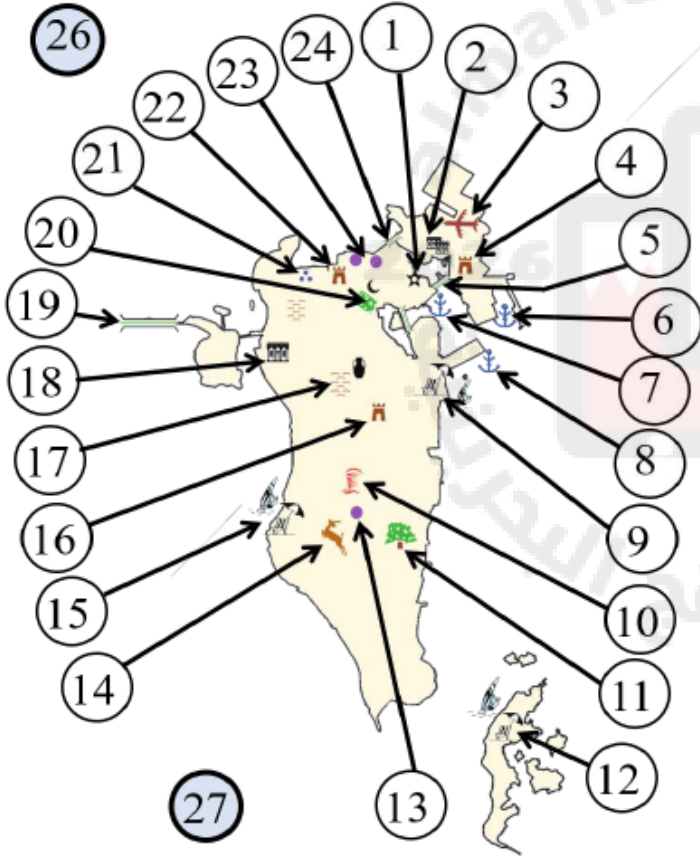
الرقم	الظواهر الجغرافية
1	محافظة العاصمة
3	محافظة المحرق
16	محافظة الشمالية
12	محافظة الجنوبية
8	جزر حوار
14	جزيرة ام نعسان
17	فشت الجارم
5	فشت العظم
9	رأس البر
11	رأس الجزائر
13	رأس الزلاق
6	تل جبل الدخان
7	منخفض داخلي
4	جسر الشيخ خليفة
15	جسر الملك فهد
2	الخليج العربي
10	الخليج البحرين

# مذكرة المواد الإجتماعية - الثالث الإعدادي

لنهاية الفصل الدراسي الأول 2025 - 2026

ملاحظة: الكتاب المدرسي هو المصدر الأساسي للطالب

اكتب امام كل من الظواهر الجغرافية الواردة في الجدول الرقم الدال عليها وفقا لموضوعه على الخريطة



الرقم المناس ب	الجسور
5	جسر الشيخ خليفة
19	جسر الملك فهد
24	جسر الشيخ عيسى

الرقم المناس ب	المطار و الموانئ
3	مطار البحرين
6	ميناء خليفة
7	ميناء سلمان
8	ميناء سترة


الرقم المناس ب	الظاهرة الجغرافية
9	منتجع البندر
12	منتجع حوار
11	شجرة الحياة
15	بلاج الجزائر
4	قلعة عراد
16	قلعة الشيخ سلمان بن احمد الفاتح
17	مقابر عالي
18	بيت الجسرة
21	معابد باربار
22	قلعة البحرين
2	بيت سيادي

2	بيت الشيخ عيسى بن علي
20	مسجد الخميس
1	المتحف الوطني
1	بيت القرآن
10	حلبة البحرين
13	جنة دلمون المفقودة
14	محمية العرين
20	منتزه عذاري
23	مجمع ستي سنتر
23	مجمع السيف
23	مجمع العالي
26	الخليج العربي
27	خليج البحرين



# نماذج امتحانات وزارية سابقة مع الحل

## لمادة الاجتماعيات - الثالث الإعدادي

السؤال الأول: 

- أولاً- اختر الإجابة الصحيحة لكل عبارة من العبارات الآتية:
- 1- المرتبة التي حصلت عليها مملكة البحرين عربياً في مجال التنافسية السياحية:
- أ- الأولي.  
ب- الثانية.  
ج- الثالثة.  
د- الرابعة.
- 2- الطبقة الرئيسية التي تعتمد عليها مملكة البحرين في الحصول على المياه للمنازل:
- أ- العلات.  
ب- الخبر.  
ج- الدمام.  
د- أم الرضمة.
- 3- تستخدم محطة المحرق في إنتاجها للطاقة الكهربائية:
- أ- الديزل.  
ب- الكورسين.  
ج- الغاز الطبيعي.  
د- الفحم الحجري.
- 4- السهل الممتد من المنامة شرقاً إلى البديع غرباً يسمى:
- أ- الجنوبي.  
ب- الشمالي.  
ج- الشرقي.  
د- الغربي.
- 5- يسود جزر مملكة البحرين مناخ يسمى:
- أ- المداري.  
ب- الاستوائي.  
ج- القطبي.  
د- الصحراوي.
- 6- يعود ارتفاع النمو السكاني في مملكة البحرين في العشرية الأخيرة إلى الازدهار:
- أ- الاقتصادي.  
ب- الثقافي.  
ج- السياسي.  
د- العمراني.
- 7- تعتمد مملكة البحرين قديماً في تجارتها الخارجية على ميناء:
- أ- سلمان.  
ب- خليفة.  
ج- المنامة.  
د- سترة.
- 8- السبب الذي جعل تربية المواشي في مملكة البحرين محدودة هو:
- أ- انخفاض تكاليف إنتاجها.  
ب- صعوبة تسويق منتجاتها.  
ج- توافر المراعي الطبيعية.  
د- الظروف المناخية.



# نماذج امتحانات وزارية سابقة مع الحل

## لمادة الاجتماعيات - الثالث الإعدادي

أولاً- اختر الإجابة الصحيحة لكل عبارة من العبارات الآتية:

- 1- يقع المشروع النموذجي لتربية الأغنام والماعز في مملكة البحرين في منطقة:  
أ- الهفلة.  
ب- عذاري.  
ج- البحير.  
د- رأس حيان.
- 2- تهب على مملكة البحرين رياح جنوبية شرقية تزيد من نسبة الرطوبة ودرجات الحرارة فتسمى رياح:  
أ- البارح.  
ب- الطوز.  
ج- الكوس.  
د- الخماسين.
- 3- القطاع الذي يشكل دعامة الاقتصاد الوطني لتمويله المشاريع الإنمائية في مملكة البحرين:  
أ- التجاري.  
ب- المصرفي.  
ج- الصناعي.  
د- الزراعي.
- 4- انضمت مملكة البحرين عام 1970م إلى منظمة:  
أ- اليونسكو.  
ب- الأمم المتحدة.  
ج- الأوابك.  
د- يونيسيف.
- 5- تستورد مملكة البحرين السلع النفطية من:  
أ- المملكة العربية السعودية.  
ب- الإمارات العربية المتحدة.  
ج- الكويت.  
د- عمان.
- 6- الطرق التي تحيط بالأحياء السكنية والتجارية وتربط أجزاء المدن الداخلية ببعضها ببعض هي:  
أ- السريعة.  
ب- الخارجية.  
ج- الداخلية الفرعية.  
د- الداخلية الرئيسية.
- 7- استطاعت مملكة البحرين رفع طاقتها الإنتاجية من الأسماك من خلال:  
أ- تحديث سفن الصيد.  
ب- رفع الرسوم المالية.  
ج- زيادة حجم الواردات.  
د- زيادة الأيدي العاملة.

أولاً- ضع دائرة حول رمز الإجابة الصحيحة فيما يأتي:

- 1- تبعد مملكة البحرين عن الساحل الشرقي للمملكة العربية السعودية حوالي:  
أ. 22 كم.  
ب. 32 كم.  
ج. 28 كم.  
د. 38 كم.
2. يلتحم السهلان الشرقي والغربي في مملكة البحرين عند منطقة رأس:  
أ. البر.  
ب. القرن.  
ج. النقاة.  
د. الجزائر.
3. تهب على مملكة البحرين رياح حارة رطبة في شهري أغسطس وسبتمبر وتسمى رياح:  
أ. البارح.  
ب. الكوس.  
ج. الطوز.  
د. الصبا.
4. يستخرج النفط في البحرين من حقلين أحدهما بري والآخر بحري، والحقل البحري هو حقل:  
أ. أم النخل.  
ب. مرجان.  
ج. أبو سعدة.  
د. الغوار.
5. لا تتجاوز نسبة المساحة القابلة للزراعة في مملكة البحرين من المساحة العامة:  
أ. 9%.  
ب. 19%.  
ج. 29%.  
د. 39%.
6. تحتل مملكة البحرين من حيث مؤشر الحرية الاقتصادية في العالم المرتبة:  
أ. الأولى.  
ب. الخامسة.  
ج. السابعة.  
د. العاشرة.

# نماذج امتحانات وزارية سابقة مع الحل لمادة الاجتماعيات - الثالث الإعدادي

أولاً- ضع دائرة حول رمز الإجابة الصحيحة فيما يأتي:

- 1- اتصلت البحرين لأول مرة بجسر بري بالساحل الشرقي للمملكة العربية السعودية في عام:  
أ. 1976م.  
ب. 1976م.  
ج. 1986م.  
د. 1996م.
2. كانت البحرين مغمورة بالمياه حتى منتصف الزمن الجيولوجي:  
أ. الأول.  
ب. الثاني.  
ج. الثالث.  
د. الرابع.
3. تهب على مملكة البحرين رياح تدوم 40 يوماً في شهري يونيو ويوليو وتسمى رياح:  
أ. البارح.  
ب. الكوس.  
ج. الطوز.  
د. الصبا.
4. طبقة مياه جيدة تستخدم في الزراعة ولكن مياهها محدودة جداً وهي طبقة:  
أ. العلات.  
ب. الخبر.  
ج. الروس.  
د. أم رضمة.
5. جميع محطات توليد الكهرباء تستخدم الغاز الطبيعي إلا محطة واحدة تستخدم الديزل وهي محطة:  
أ. المنامة.  
ب. سترة.  
ج. الرفاع.  
د. المحرق.
6. أعلى محافظات مملكة البحرين في الكثافة السكانية هي محافظة:  
أ. العاصمة.  
ب. الشمالية.  
ج. المحرق.  
د. الجنوبية.

أولاً: ضع دائرة حول رمز الإجابة الصحيحة للعبارة الآتية:

- 1- المرتبة التي احتلتها مملكة البحرين عربياً في مجال توفير التعليم للجميع:  
أ. الأولى.  
ب. الثانية.  
ج. الرابعة.  
د. الخامسة.
2. كانت البحرين مغمورة بالمياه حتى منتصف الزمن الجيولوجي:  
أ. الأول.  
ب. الثاني.  
ج. الثالث.  
د. الرابع.
3. القطاع الذي يعتبر المحرك الأساسي للنشاط الاقتصادي البحريني هو:  
أ. الزراعي.  
ب. النفط.  
ج. التجاري.  
د. الخدمي.
4. طبقة مياه ذات نوعية جيدة وتعتمد عليها البحرين في توفير احتياجاتها من المياه الصالحة للاستخدام المنزلي تسمى:  
أ. العلات.  
ب. الخبر.  
ج. الروس.  
د. أم رضمة.
5. جميع محطات توليد الكهرباء تستخدم الغاز الطبيعي إلا محطة واحدة تستخدم الديزل وهي محطة:  
أ. المحرق.  
ب. المنامة.  
ج. الرفاع.  
د. سترة.
6. السهل الذي يمتد من المنامة شرقاً إلى البديع غرباً ويمتاز بوجود مساحات واسعة من التربة الصالحة للزراعة وانتشار العيون المائية يسمى:  
أ. الجنوبي.  
ب. الشرقي.  
ج. الشمالي.  
د. الغربي.

# نماذج امتحانات وزارية سابقة مع الحل لمادة الاجتماعيات - الثالث الإعدادي

## السؤال الأول:

أولاً- ضع دائرة حول الحرف الدال على الإجابة الصحيحة من بين البدائل الآتية:

- 1- الجزيرة الأكبر مساحة في البحرين هي جزيرة:  
أ- حوار      ب- البحرين      ج- المحرق      د- أم النعسان
- 2- تستورد مملكة البحرين السلع النفطية من:  
أ- الولايات المتحدة الأمريكية      ب- المملكة العربية السعودية      ج- دول شرق آسيا      د- دول غرب أوروبا
- 3- تعتمد التنمية الاقتصادية في مملكة البحرين منذ مطلع السبعينات بشكل أساسي على:  
أ- الإيرادات النفطية      ب- زيادة الإنتاج الزراعي      ج- تنمية القطاع السياحي      د- الاستثمارات الصناعية
- 4- يبلغ عدد الجسور البحرية في مملكة البحرين:  
أ- ثلاثة      ب- سبعة      ج- أربعة      د- خمسة
- 5- تحتل المرتبة الأولى في الصادرات البحرينية:  
أ- التجهيزات الصناعية      ب- الألمنيوم      ج- النفط      د- المنتجات الزراعية
- 6- الجهة المسؤولة عن تنظيم القطاع المالي في مملكة البحرين هي:  
أ- مصرف البحرين      ب- وزارة المالية      ج- بورصة البحرين      د- مجلس التنمية الاقتصادي
- 7- أول جامعة حكومية أنشئت في مملكة البحرين عام 1986م هي جامعة:  
أ- الخليج العربي      ب- دلمون      ج- العلوم التطبيقية      د- البحرين

- 1- تستمد مملكة البحرين احتياجاتها المائية من المياه الطبيعية ممثلة بالمياه:  
أ- الجوفية      ب- المعالجة      ج- العيون      د- الآبار
- 2- انضمت مملكة البحرين منذ عام 1970م إلى منظمة:  
أ- اليونسكو      ب- اليونسيف      ج- الأوبك      د- الصحة العالمية
- 3- كانت البحرين قديماً تعتمد في تجارتها الخارجية على ميناء:  
أ- ألبا      ب- سترة      ج- سلمان      د- المنامة
- 4- من أمثلة الصناعات التصديرية في مملكة البحرين هي:  
أ- مواد البناء      ب- البتروكيماويات      ج- المياه المعدنية      د- الزجاج
- 5- المناخ الذي يسود جزر البحرين هو المناخ:  
أ- الصحراوي      ب- المداري      ج- الاستوائي      د- المتوسطي
- 6- جميع المحطات تستخدم الغاز الطبيعي لتوليد الكهرباء إلا محطة المحرق تستخدم:  
أ- الغاز      ب- النفط      ج- كيوسين      د- الديزل

# نماذج امتحانات وزارية سابقة مع الحل

## لمادة الاجتماعيات - الثالث الإعدادي

أولاً- ضع دائرة حول الحرف الدال على الإجابة الصحيحة من بين البدائل الآتية:

1- عمدت مملكة البحرين منذ مطلع السبعينات إلى توظيف إيراداتها:

أ- الزراعة      ب- السياحة      ج- النفطية      د- السمكية

2- استفادت مملكة البحرين من المياه المعالجة لري الأراضي الزراعية من خلال محطة:

أ- توبلي      ب- الدور      ج- أبو جرجور      د- الهمة

3- يُعدُّ شارع الملك فيصل في مملكة البحرين من الطرق:

أ- الإقليمية      ب- الداخلية الرئيسية      ج- الداخلية الفرعية      د- السريعة.

4- السبب الذي يجعل تربية المواشي في مملكة البحرين محدودة هو:

أ- انخفاض تكاليف إنتاجها      ب- صعوبة تسويق منتجاتها      ج- توافر المراعي الطبيعية      د- تربيتها بالطرق التقليدية.

5- منتجات صناعة إحلال الواردات في مملكة البحرين هي:

أ- الأولية      ب- الوسيطة      ج- الخفيفة      د- الثقيلة.

6- من انعكاسات تطور القطاع المصرفي على الاقتصاد البحريني هو:

أ- توفير فرص عمل للبحرنيين      ب- تراجع الناتج المحلي الإجمالي      ج- إنشاء مؤسسة نقد البحرين      د- التمتع بموقع زمني مناسب.

7- من أمثلة الصناعات التصديرية في مملكة البحرين:

أ- مواد البناء      ب- الأثاث      ج- المواد الغذائية      د- البتروكيماويات

أولاً- ضع دائرة حول الحرف الدال على الإجابة الصحيحة من بين البدائل الآتية:

1- يعاني القطاع الزراعي في مملكة البحرين من محدودية الأراضي الصالحة للزراعة بسبب:

أ- الرعي الجائر      ب- التلوث النفطي      ج- ملوحة التربة      د- المنافسة الخارجية

2- الطرق المتفرعة من الشوارع إلى داخل الأحياء السكنية والتجارية تُسمى:

أ- الداخلية الفرعية      ب- الداخلية الرئيسية      ج- الخارجية      د- السريعة

3- حققت مملكة البحرين فائضا في ميزانها التجاري بفضل:

أ- الضرائب على الأرباح      ب- ارتفاع حجم الواردات      ج- انخفاض أسعار النفط      د- ارتفاع حجم الصادرات.

4- القطاع الذي يمول المشاريع الإنمائية في مملكة البحرين هو القطاع:

أ- الصناعي      ب- التجاري      ج- المصرفي      د- السياحي

5- تستورد مملكة البحرين الأسماك شتاء من:

أ- سلطنة عمان      ب- دولة الكويت      ج- المملكة العربية السعودية      د- اليمن.

6- من أمثلة الصناعات التصديرية في مملكة البحرين:

أ- مواد البناء      ب- الأثاث      ج- المواد الغذائية      د- البتروكيماويات

# نماذج امتحانات وزارية سابقة مع الحل

## لمادة الاجتماعيات - الثالث الإعدادي

1- انضمت مملكة البحرين منذ عام 1970م إلى منظمة:

أ- الأمم المتحدة. ب- اليونسيف. ج- الأوبك. د- اليونسكو.

2- أنشأت الحكومة جامعة البحرين عام:

أ- 1970. ب- 1979م. ج- 1980. د- 1986.

3- نالت مملكة البحرين في شخص صاحب السمو الملكي الأمير خليفة بن سلمان جائزة:

أ- المساكن. ب- المستوطنات البشرية. ج- المشاريع الإسكانية. د- العمران.

4- الرياح التي تهب على البحرين صيفاً وتحمل معها كميات من الغبار والأتربة:

أ- البارج. ب- الكوس. ج- القطبية. د- المتوسطية.

5- يمتاز بوجود مساحات واسعة من التربة الصالحة للزراعة وانتشار العيون المائية:

أ- رأس البر. ب- جبل الدخان. ج- السهل الشمالي. د- المنخفض الداخلي.

6- من المشاريع التي أسستها مملكة البحرين لتربية الأحياء البحرية وإجراء البحوث العلمية:

أ- المحرق. ب- رأس حيان. ج- سترة. د- الحد.

1- يقع المشروع النموذجي لتربية الأغنام والماعز في مملكة البحرين في:

أ- عذاري. ب- الهملة. ج- رأس حيان. د- البجير.

2- تغير مسمى مؤسسة نقد البحرين منذ سبتمبر سنة 2006م إلى:

أ- مصرف البحرين المركزي. ب- بنك البحرين الوطني. ج- مؤسسة البحرين المالية. د- مجلس النقد الوطني.

3- تعتمد التنمية الاقتصادية منذ مطلع السبعينات في مملكة البحرين بشكل أساسي على:

أ- تنمية القطاع السياحي. ب- الاستثمارات الصناعية. ج- الإيرادات النفطية. د- زيادة الإنتاج الزراعي.

ثانياً- ضع علامة (✓) أمام العبارات الصحيحة وعلامة (x) أمام العبارات الخاطئة:

1- (✓) تستورد البحرين السلع النفطية من المملكة العربية السعودية.

2- (✓) يعود فائض الميزان التجاري البحريني إلى ارتفاع حجم وقيمة الصادرات النفطية وغير النفطية.

3- (x) كانت البحرين قديماً تعتمد في تجارتها الخارجية على ميناء سلمان. ميناء المنامة الصغير.

4- (✓) يُعدُّ بيت سيادي في مملكة البحرين أحد المعالم السياحية التاريخية.

ثانياً- ضع علامة (✓) أمام العبارة الصحيحة وعلامة (x) أمام العبارة الخطأ فيما يأتي:

1. (x) أعلى قمة في مملكة البحرين جبل الدخان ويصل ارتفاعه إلى 334م. 134م

2. (x) يبلغ متوسط الرطوبة السنوي في مملكة البحرين في حده الأعلى 45%. 81%

3. (✓) انضمت مملكة البحرين إلى منظمة أوبك في عام 1970م.

4. (✓) يفوق متوسط عمر الإنسان في مملكة البحرين المتوسط العالمي.

5. (✓) تحتل مملكة البحرين المرتبة الأولى عربياً في مجال توفير التعليم للجميع.

6. (✓) يعود ضعف إنتاجية القطاع الحيواني في مملكة البحرين إلى الظروف المناخية.



# نماذج امتحانات وزارية سابقة مع الحل

## لمادة الاجتماعيات - الثالث الإعدادي

ثانياً - ضع علامة ( ✓ ) أمام العبارات الصحيحة وعلامة ( ✗ ) أمام العبارات الخاطئة:

- 1 - ( ✓ ) نالت مملكة البحرين المرتبة الأولى عربياً في مجال توفير التعليم للجميع.
- 2 - ( ✓ ) تمتاز منطقة رأس البر بكثافة الرمال وارتفاع نسبة الملوحة حيث تكثر السبخات.
- 3 - ( ✓ ) نالت مملكة البحرين في شخص صاحب السمو الملكي الأمير خليفة بن سلمان جائزة المستوطنات البشرية .
- 4 - ( ✗ ) تتفاوت الكثافة السكانية بين محافظات مملكة البحرين فتبلغ أقصاها في المحافظة الجنوبية. **العاصمة**
- 5 - ( ✗ ) يعود فائض الميزان التجاري البحريني إلى انخفاض حجم وقيمة الصادرات النفطية والغير النفطية. **ارتفاع**
- 6 - ( ✓ ) مثل مستشفى الملك حمد الجامعي المحدث عام ٢٠١٣م نقلة نوعية في مجال تعميم الخدمات الصحية.
- 7 - ( ✗ ) يتولى مصرف البحرين المركزي مهمة تنظيم القطاع الزراعي . **المالي**

ثانياً - ضع علامة ( ✓ ) أمام العبارات الصحيحة وعلامة ( ✗ ) أمام العبارات الخاطئة:

- 1 - ( ✓ ) من أهم السلع التي تستوردها مملكة البحرين المواد الغذائية.
- 2 - ( ✓ ) تقع مملكة البحرين بين مضيق هرمز ومصب شط العرب.
- 3 - ( ✗ ) تحولت مؤسسة نقد البحرين عام 2006م إلى المؤسسة المالية الوطنية. **مصرف البحرين المركزي**
- 4 - ( ✓ ) يعود تدني نسبة الأسر الممتدة في مملكة البحرين إلى توفير المساكن للأمر الجديدة.
- 5 - ( ✗ ) بدأ التعليم النظامي في مملكة البحرين عام 1928م. **1919م**
- 6 - ( ✗ ) حولت الحكومة البحرينية مستشفى عوالي إلى مجمع طبي بعد توسيعه و تجهيزه بالمعدات الطبية. **مجمع السلمانية الطبي**

ثانياً: ضع علامة ( ✓ ) أمام العبارة الصحيحة وعلامة ( ✗ ) أمام العبارة الخطأ فيما يأتي:

1. ( ✓ ) تهب على مملكة البحرين رياح تدوم 40 يوماً في شهري يونيو ويوليو وتسمى رياح البارح الشمالية.
2. ( ✗ ) تم اكتشاف النفط في البحرين عام 1950. **1932م**
3. ( ✓ ) يسود جزر البحرين مناخ صحراوي.
4. ( ✓ ) تعتبر الكثافة السكانية في مملكة البحرين من أعلى الكثافات في العالم.
5. ( ✗ ) بدأ التعليم النظامي في البحرين مع نهاية القرن العشرين. **بداية القرن العشرين**
6. ( ✓ ) يحتل النفط المرتبة الأولى في صادرات مملكة البحرين.

# نماذج امتحانات وزارية سابقة مع الحل لمادة الاجتماعيات - الثالث الإعدادي

ثانياً- أكمل كل عبارة من العبارات الآتية بما يناسبها:

- 1- شكل مستشفى الملك حمد الجامعي نفلة نوعية في مجال تعميم الخدمات ..... **الصحية**
- 2- نشأت مؤسسة نقد البحرين وتحولت منذ عام 2006م إلى مصرف ..... **البحرين المركزي**
- 3- استفادت مملكة البحرين من ثروتها النفطية في إنتاج الطاقة ..... **الكهربائية**
- 4- زيادة المشاريع والتسهيلات الإسكانية في مملكة البحرين أدت إلى تدني نسبة الأسر ..... **الممتدة**
- 5- تستورد مملكة البحرين الأسماك شتاءً من دولة الإمارات العربية المتحدة و ..... **عمان**
- 6- قامت وزارة التربية والتعليم بوضع الخطط التربوية لرفع المستوى التعليمي، فجعلت التعليم الأساسي إلزامياً و ..... **مجانياً**
- 7- استفادت مملكة البحرين من المياه المعالجة لري الأراضي الزراعية من خلال محطة ..... **توبلي**
- 8- لمملكة البحرين موقع جغرافي وسطي مميز، جعلها منذ القدم مركزاً ..... **تجارياً مهماً**

ثانياً- أكمل كل عبارة من العبارات الآتية بما يناسب

- 1- يتولى مصرف البحرين المركزي مهمة تنظيم القطاع ..... **المالي والمصرفي**
- 2- نالت مملكة البحرين في مجال التنافسية السياحية عربياً المرتبة ..... **الثالثة**
- 3- حقق الميزان التجاري البحريني فائضاً مستمراً نتيجة ارتفاع حجم وقيمة ..... **صادراته**
- 4- من أهم مظاهر تطوير التعليم في مملكة البحرين الانتقال إلى التمكين ..... **الرقمي**
- 5- في مملكة البحرين، أدى توفير المساكن لكثير من الأسر الجديدة إلى تدني نسبة الأسر ..... **الممتدة**
- 6- زادت أهمية مملكة البحرين كم منطقة جذب لرؤوس الأموال؛ نتيجة اتباعها سياسة ..... **الحرية الاقتصادية**

ثانياً- أكمل كل عبارة من العبارات الآتية بما يناسب:

- 1- زادت أهمية البحرين في جذب لرؤوس الأموال والمستثمرين؛ نتيجة سياسة ..... **الحرية الاقتصادية**
- 2- الميناء الذي أنشأته مملكة البحرين لاستيراد الأمونيا وتصدير منتجات الألمنيوم، هو ميناء ..... **البا**
- 3- تغير مسمى مؤسسة نقد البحرين منذ سبتمبر سنة 2006م إلى ..... **مصرف البحرين المركزي**
- 4- مشاريع هورة عالي وعذاري وبوري في مملكة البحرين لإنتاج ..... **الأعلاف والفواكه**
- 5- الطرق التي تحيط بالأحياء وتربط أجزاء المدن الداخلية هي الطرق ..... **الداخلية الرئيسية**
- 6- تستورد مملكة البحرين السلع النفطية من ..... **المملكة العربية السعودية**

# نماذج امتحانات وزارية سابقة مع الحل

## لمادة الاجتماعيات - الثالث الإعدادي

ثانياً- صحّح ما تحته خط في كل عبارة من العبارات الآتية، واكتب الإجابة الصحيحة في السطر الذي يليها:

- 1- تُعد قلعة البحرين في مملكة البحرين إحدى المعالم السياحية الطبيعية. التاريخة
- 2- القطاع الاقتصادي الإنتاجي الذي يعاني من مشكلة التلوث النفطي في مملكة البحرين هو قطاع السياحة. الصيد البحري
- 3- جاءت ضرورة التوسع في المشاريع الإسكانية نتيجة النمو السكاني والكثافة السكانية المرتفعة خصوصاً في مدينتي الرفاع وعالي. المنامة والمحرق
- 4- مراقبة الأغذية ومياه الشرب من جهود مملكة البحرين في مجال الرعاية العلاجية. الرعاية الوقائية
- 5- في نهاية الزمن الجيولوجي الثالث كانت معظم أراضي البحرين مغمورة بالمياه. مكشوفة
- 6- يسود مملكة البحرين المناخ المداري. الصحراوي

أولاً- أكمل الجدول التالي بحسب المطلوب بكتابة الإجابة في الخانة المقابلة:

الرقم	العبارة	الإجابة
1	دولة تقع في منتصف المسافة تقريباً بين مضيق هرمز ومصب شط العرب.	البحرين
2	يحتل قلب الجزيرة الأم، بيضاوي الشكل، ذو أرضية مستوية.	المنخفض الداخلي
3	أول ميناء يتم بناءه في مملكة البحرين عام 1958م.	ميناء سلمان
4	حقل تنتجه مملكة البحرين والمملكة العربية السعودية مناصفة.	أبو سعفة
5	من المعطيات التاريخية في مملكة البحرين.	قلعة عراد - قلعة البحرين - بيت الجسرة - بيت سيادي - مدافن عالي - معابد بار يار - مسجد الخميس

أولاً- أكمل الجدول التالي بحسب المطلوب بكتابة الإجابة في الخانة المقابلة:

الرقم	العبارة	الإجابة
1	تنتج محطة المحرق الطاقة الكهربائية باستخدام.	الديزل
2	من التسهيلات السكنية التي تقدمها حكومة مملكة البحرين للأسر البحرينية.	القروض الميسرة والطويلة الأمد
3	مؤسسة تهدف إلى رسم السياسات النقدية والائتمانية وتنظيم القطاع المالي.	مصرف البحرين المركزي
4	من المقومات السياحية في مملكة البحرين المعطيات الحضارية مثل.	المتحف الوطني، بيت القرآن، مركز الصناعات اليدوية، قاعات المعارض والمؤتمرات، جسر الملك فهد، الأسواق التجارية (السيف، العالي، الدانة)، منتزه عذاري، منتزه عين قشاري
5	تحتل المرتبة الأولى بين إجمالي واردات البحرين.	السلع النفطية



# نماذج امتحانات وزارية سابقة مع الحل

## لمادة الاجتماعيات - الثالث الإعدادي

ضع المفهوم المناسب أمام العبارة المناسبة له في الجدول أدناه:

(أسرة ممتدة - الميزان التجاري - الناتج المحلي الإجمالي - سبحة - الحماية الجمركية)

الرقم	العبارة	الإجابة
1	هو القيمة النقدية لكل السلع والخدمات التي ينتجها المجتمع خلال فترة من الزمن (عادة خلال سنة) ويعبر عنها بوحدة نقدية مثل الدولار.	الناتج المحلي الإجمالي
2	هي الأسرة المكونة من الزوج والزوجة والأبناء والأشقاء العازبين ومن تبقى على قيد الحياة من الأجداد.	أسرة ممتدة
3	منطقة مستنقعية تنتهي إليها مجاري المياه الفصليّة، يتبخر ماؤها في فصل الجفاف.	سبحة
4	هو الفرق بين قيمة صادرات وواردات البلد، ويعتبر فائضاً إذا كانت قيمة صادراته أعلى من قيمة وارداته، ويكون هناك عجزاً إذا كانت قيمة وارداته أعلى من قيمة صادراته.	الميزان التجاري
5	رسوم جمركية تفرضها الدولة على المنتجات المستوردة التي ينتج مثلها محلياً، لحماية الصناعة المحلية.	الحماية الجمركية

ثانياً- ضع علامة (✓) أمام العبارة الصحيحة وعلامة (×) أمام العبارة الخطأ مع تصحيح الخطأ في السطر الذي يليه:

1- بدأ التعليم النظامي في البحرين عام (1919م) مع بداية القرن العشرين (✓).

2- تنخفض الكثافة السكانية في مملكة البحرين في المحافظة الشمالية (×).

الجنوبية

3- يمتد السهل الشمالي في مملكة البحرين من المنامة شرقاً إلى البديع غرباً (✓).

4- تعتمد مملكة البحرين احتياجاتها المائية من المياه غير التقليدية ممثلة بالمياه الجوفية (×).

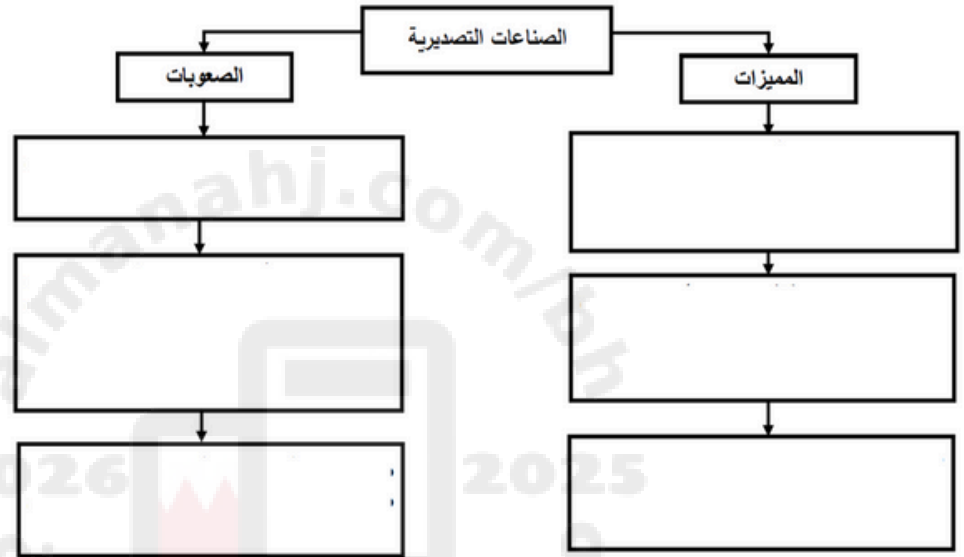
التحلية / مياه الصرف الصحي المعالجة

5- قدمت حكومة البحرين للأسر البحرينية تسهيلات إسكانية شملت القروض الميسرة والطويلة الأمد (✓).

# نماذج امتحانات وزارية سابقة مع الحل لمادة الاجتماعيات - الثالث الإعدادي

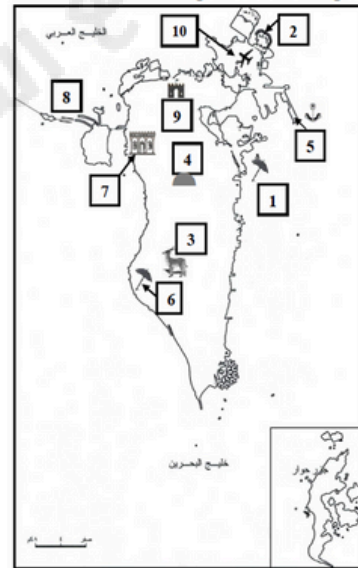
أولاً- أكمل الشكل البياني الذي أمامك بما يناسبه:

خلال دراستك لموضوع " واقع الصناعة في مملكة البحرين " أكمل المخطط الآتي بكتابة أبرز مميزات وصعوبات الصناعات التصديرية:



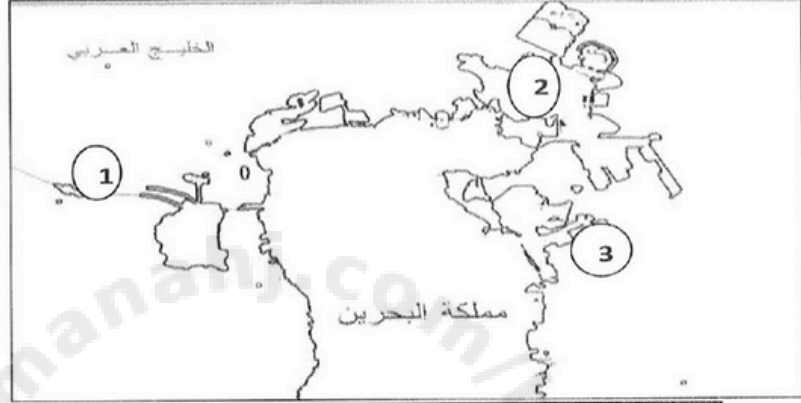
ثانياً- على خريطة البحرين الصماء مجموعة من الأرقام تمثل عدداً من الظواهر الجغرافية، اكتب ما تمثله هذه الأرقام تبعا لموقعها على الخريطة ووفق المعطيات بالجدول المرفق.

الرقم	الظاهرة الجغرافية	الرقم	الظاهرة الجغرافية
1		2	
3		4	
5		6	
7		8	
9		10	



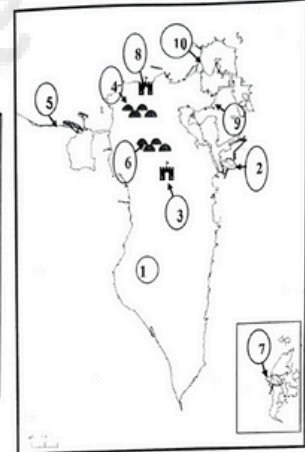
# نماذج امتحانات وزارية سابقة مع الحل لمادة الاجتماعيات - الثالث الإعدادي

أولاً - اكتب الرقم الذي تمثل كل ظاهرة من الظواهر التالية أمام ما يناسبها حسب الجدول التالي:



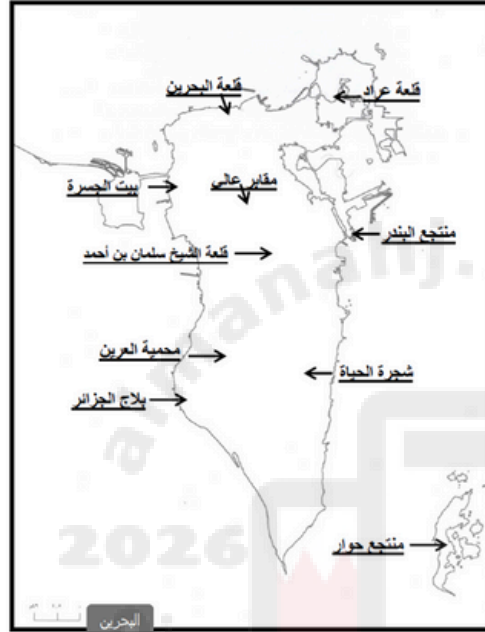
الرقم	اسم الظاهرة
.....3.....	ميناء سترة
.....1.....	جسر الملك فهد
.....2.....	مطار البحرين الدولي

من خلال دراستك لجغرافية البحرين، اكتب أمام كل من الظواهر الجغرافية الواردة في الجدول الرقم الدال عليها وفقاً لموضعه على خريطة البحرين المساهة:



الرقم المناسب	الظواهر الجغرافية	الرقم المناسب	الظواهر الجغرافية
4	الظواهر الجغرافية	1	الظواهر الجغرافية
7	الظواهر الجغرافية	2	الظواهر الجغرافية
3	الظواهر الجغرافية	6	الظواهر الجغرافية
10	الظواهر الجغرافية	9	الظواهر الجغرافية
8	الظواهر الجغرافية	5	الظواهر الجغرافية

# نماذج امتحانات وزارية سابقة مع الحل لمادة الاجتماعيات - الثالث الإعدادي



ثانياً- اكتب أسماء المعالم السياحية في مواقعها الصحيحة:  
قلعة عراد- بيت الجسرة - بلاج الجزائر - قلعة البحرين - محمية العرين- منتجع حوار -  
شجرة الحياة - منتجع البندر- مقابر عالي- قلعة الشيخ سلمان بن أحمد.

