

تم تحميل هذا الملف من موقع المناهج البحرينية



مراجعة نهائية نماذج واختبارات

موقع المناهج ← المناهج البحرينية ← الصف التاسع ← المواد الاجتماعية ← الفصل الأول ← اختبارات ← الملف

تاريخ إضافة الملف على موقع المناهج: 2024-12-31 11:55:48

ملفات اكتب للمعلم اكتب للطالب الاختبارات الالكترونية الاختبارات ا حلول اعروض بوربوينت ا أوراق عمل
منهج انجليزي ا ملخصات وتقارير ا مذكرات وبنوك الامتحان النهائي للمدرس

المزيد من مادة
المواد
الاجتماعية:

التواصل الاجتماعي بحسب الصف التاسع



صفحة المناهج
البحرينية على
فيسبوك

الرياضيات

اللغة الانجليزية

اللغة العربية

التربية الاسلامية

المواد على تلغرام

المزيد من الملفات بحسب الصف التاسع والمادة المواد الاجتماعية في الفصل الأول

المذكرة الذهبية للمواد الاجتماعية

1

مراجعة الاجتماعيات والتربية للمواطنة

2

تلخيص درس المناطق المناخية

3

مذكرة مراجعة المواد الاجتماعية

4

ملخص الدروس تحضيراً للتطبيق الأول

5



مراجعة اختبار لمادة الاجتماعيات (نماذج الاختبارات السابقة)

السؤال الأول:

- أولاً- ضع دائرة حول الحرف الدال على الإجابة الصحيحة من بين البدائل الآتية:
- 1- القطاع الذي يُعدُّ المحرك الأساسي للنشاط الاقتصادي في مملكة البحرين هو:
- أ- السمكي. ب- انفتحي. ج- السياحي. د- الزراعي.
- 2- تستورد مملكة البحرين الأسماك خلال أشهر الشتاء خصوصاً من:
- أ- سلطنة عمان. ب- دولة الكويت. ج- دولة قطر. د- المملكة العربية السعودية.
- 3- يُعدُّ شارع الشيخ خليفة بن سلمان في مملكة البحرين من الطرق:
- أ- الداخلية الفرعية. ب- الداخلية الرئيسية. ج- الإقليمية. د- السريعة.
- 4- المدينة التي أختيرت عاصمة السياحة العربية عام 2013م هي:
- أ- النمامة. ب- القاهرة. ج- تونس. د- عمان.
- 5- الطرق التي تحيط بالأحياء السكنية والتجارية وترتبط أجزاء المدن الداخلية في مملكة البحرين هي :
- أ- الداخلية الرئيسية. ب- الفرعية الداخلية. ج- الخارجية. د- السريعة.
- 6- المرتبة التي حصلت عليها مملكة البحرين عربياً في مجال التنافسية السياحي هي :
- أ- الأولى. ب- الثانية. ج- الثالثة. د- الرابعة.
- 7- المشكلة التي تعاني منها صناعة إحلال الواردات في مملكة البحرين هي :
- أ- الرسوم الجمركية المرتفعة. ب- ضعف جودتها. ج- قلة تنوعها في السوق. د- بعد الأسواق المستهلكة.
- 8- المرتبة التي احتلتها مملكة البحرين عربياً في مجال توفير التعليم للجميع:
- أ- الرابعة. ب- الثالثة. ج- الثانية. د- الأولى.
- 9- كانت البحرين مغمورة بالمياه حتى منتصف الزمن الجيولوجي :
- أ- الرابع. ب- الثالث. ج- الثاني. د- الأول.

10- طبقة مياه ذات نوعية جيدة تعتمد عليها البحرين في توفير احتياجاتها من المياه الصالحة للاستخدام المنزلي:

د- العلات. ج- لخبر. ب- الروس. أ- ام الرضمة .

11- جميع محطات توليد الكهرباء تستخدم الغاز الطبيعي إلا محطة واحدة تستخدم الديزل هي :

د- المحرق. ج- الرفاع. ب- المنامة. أ- سترة.

12- السهل الذي يمتد من المنامة شرقا الي البديع غربا ويمتاز بوجود مساحات واسعة من التربة الصالحة للزراعة وانتشار العيون المائية يسمى :

د- الجنوبي . ج- الشرقي . ب- الشمالي . أ- الغربي .

13- تبعد مملكة البحرين عن الساحل الشرقي للمملكة العربية السعودية حوالي :

د- 22كم. ج- 32. ب- 28كم. أ- 38كم.

14- يلتحم السهلان الشرقي والغربي في مملكة البحرين عند منطقة راس :

د- البر. ج- القرين. ب- النقاة. أ- الجزائر.

15- تهب على مملكة البحرين رياح حارة ورطبة في شهري أغسطس وسبتمبر وتسمى رياح :

د- البارح. ج- لكوس. ب- الطور. أ- الصبا.

16- يستخرج النفط في البحرين من حقلين احدهما بري والأخر بحري هو :

د- ام الدلخ. ج- مرجان . ب- أبو سعة. أ- الغوار.

17- تحتل البحرين من حيث مؤشر الحرية الاقتصادية في العالم المرتبة :

د- الاولى. ج- الخامسة . ب- السابعة . أ- العاشرة.

18- يقع المشروع النموذجي لتربية الأغنام والماعز في مملكة البحرين في منطقة

د- الهمة . ج- غذاري . ب- البحير. أ- رأس حين.

19- تهب على مملكة البحرين رياح جنوبية شرقية تزيد من نسبة الرطوبة ودرجات الحرارة وتسمى :

د- البارح . ج- الطور. ب- الكوس . أ- الخماسين.

20- القطاع الذي يشكل دعامة الاقتصاد الوطني لتمويله المشاريع الإنمائية في مملكة البحرين

د- التجاري . ج- المصرفي . ب- الصناعي . أ- الزراعي.

21- انضمت مملكة البحرين عام 1970 الي منظمة :

د- اليونسكو. ج- الأمم المتحدة . ب- الأوبك. أ- يونسيف.

22- استطاعت مملكة البحرين رفع طاقتها الإنتاجية من الأسماك من خلال:

د- تحديث سفن الصيد. ج- رفع الرسوم المالية. ب- زيادة حجم الواردات . أ- زيادة الايدي العاملة.

23- تستورد مملكة البحرين السلع النفطية من :

د- السعودية . ج- الامارات. ب- الكويت. أ- عمان.

24- استفادت مملكة البحرين من المياه المعالجة لري الأراضي الزراعية من خلال محطة:

د- توبلي . ج- الدور. ب- أبو جرجور. أ- الهملة.

25- يعد شارع الملك فيصل في مملكة البحرين من الطرق:

د- الاقليمية . ج- الداخلية الرئيسية. ب- الداخلية الفرعية. أ- السريعة.

26- منتجات صناعة إحلال الواردات في مملكة البحرين هي :

د- أولية . ج- وسيطة. ب- الخفيفة . أ- الثقيلة.

27- من انعكاسات تطور القطاع المصرفي على الاقتصاد البحريني هو :

د- توفير فرص عمل. ج- تراجع الناتج المحلي . ب- انشاء مؤسسة النقد. أ- التمتع بموقع زمني.

28- من امثلة الصناعات التصديرية في مملكة البحرين:

د- مواد البناء . ج- الأثاث . ب- المواد الغذائية. أ- البتروكيماويات.

29- عمدت مملكة البحرين من مطلع السبعينات إلى توظيف إيراداتها :

د- الزراعة . ج- السياحة . ب- النفطية. أ- السمكية.

30- السبب الذي يجعل تربية المواشي في مملكة البحرين محدودة هو:

د- انخفاض التكاليف. ج- صعوبة تسويقها . ب- التوافر المراعي الطبيعية. أ- تربيته بالطرق التقليدية.

السؤال الثاني:

أولاً- علل ما يأتي:

1- محدودية الأراضي الصالحة للزراعة في مملكة البحرين.

- 1- محدودية الأراضي الصالحة للزراعة في مملكة البحرين
- 2- ندرة مياه الري
- 3- ملوحة التربة
- 4- افتقار التربة للمواد العضوية

2- أدى اتباع سياسة الحرية الاقتصادية في مملكة البحرين إلى جذب المستثمرين إليها.

- ❖ إعطاء الحرية في إدخال رؤوس الأموال وإخراجها
- ❖ السماح للأجانب بامتلاك جميع أسهم الشركات التي يؤسسونها

3- ارتفاع الحرارة من مايو حتى أكتوبر في مملكة البحرين.

بسبب تعامد اشعة الشمس على المنطقة الواقعة بين خط الاستواء ومدار السرطان

4- تطور القطاع المصرفي في مملكة البحرين واحتلالها مركزا ماليا مهما بين الأسواق المالية العالمية.

- موقع البحرين المتميز في وسط منطقة الخليج
- ج- توافر الكوادر الفنية المدربة
- تمتع المنطقة بموقع زمني مناسب بين البورصات الاوربية والشرق الأقصى
- د- تسهيل عمليات التحويل الخارجي
- سهولة الانتقال والاتصال بين المنطقة والعالم الخارجي
- هـ - عدم فرض أي نوع من الضرائب

5- نمو القطاع السياحي في مملكة البحرين بشكل متسارع في السنوات الأخيرة .

- انشاء عدد من الإدارات التي تختص بالسياحة والأثار
- التفتيح عن الأثار وترميمها والاعتناء بها وبالأماكن الأثرية
- وضع الخطط و المشاريع السياحية
- اعداد عمالة وطنية متخصصة في ميدان السياحة
- توفير الخدمات السياحية كالفنادق والمطاعم وغيرها

6- حقق الميزان التجاري البحريني فائضا مستمرا.

1- ارتفاع حجم الصادرات النفطية وقيمتها

2- ارتفاع حجم الصادرات الغير نقطية

7- يعاني القطاع الزراعي من محدودية الأراضي الصالحة للزراعة في مملكة البحرين

- ❖ ندرة مياه الري
- ❖ ملوحة التربة
- ❖ افتقار التربة الي المواد العضوية (قلة خصوبتها)

8- ادخال نظام المحافظات في مملكة البحرين.

- لدعم كفاءة الحكم المحلي
- تطبيق خطط التنمية والخدمات الاجتماعية والثقافية
- دعم الأنشطة الاجتماعية وتفعيلها
- الحفاظ على الأمن والنظام العام

9- زيادة الاستثمار المحلي والاجنبي في القطاع الصناعي

❖ انشاء المناطق الصناعية	❖ اتاحة الحصول على قطعة ارض بأجر رمزي
❖ توفير مسلزات البنية التحتية الكافية	❖ اصدار قوانين لحماية الصناعات الوطنية ودعمها
❖ تقديم القروض للقطاع الصناعي	❖ اعفاء المصانع من الرسوم الجمركية

10-ازدياد أهمية القطاع التجاري بمملكة البحرين.

❖ تعدد خطط إنماء قطاعات الاقتصاد البحرين (عملية التنمية الاقتصادية الشاملة)
❖ التقاليد التجارية العريقة
❖ تغيير نمط الحياة وتحسن ظروف العيش - اتباع سياسة الحرية الاقتصادية

11- التوسع في المشاريع الاسكانية في مملكة البحرين.

➤ النمو السكاني الذي شهدته البلاد
➤ الكثافة السكانية المرتفعة
➤ احتياجات المواطنين على اختلاف مستوياتهم الاجتماعية والاقتصادية

12-مملكة البحرين في طليعة الدول العربية اهتمت بالقطاع التعليمي

➤ اهتمام البحرين بقطاع التعليم خاصة بعد استقلالها
➤ بدء التعليم النظامي منذ وقت مبكر في البحرين حيث بدء سنة 1919م
➤ وزارة التربية والتعليم تشرف على جميع المؤسسات التربوية في المملكة سوى الحكومية او الخاصة

السؤال الثالث: اجب عن ما يأتي:

1- اكتب ثلاثة جهود قامت بها مملكة البحرين من اجل تنمية القطاع السمكي

❖ طورت بعض الموانئ كفضتي سترة والمحرق	❖ أسست مشروع رأس حيان لتربية الأحياء البحرية
❖ قدمت الإعانات المادية ومستلزمات الصيد	❖ نظمت دورات تدريبية للصيادين

2- بين النتائج المترتبة على تطور القطاع المصرفي في مملكة البحرين

❖ تدعيم مركز البحرين كمحور مصرفي إقليمي	❖ ساهم في توفير فرص العمل للكوادر الوطنية
❖ المصرفي	❖ المؤهلة للعمل في القطاع المصرفي

3- اذكر خمسة من الأماكن السياحية التاريخية في مملكة البحرين

➤ قلعة البحرين ، عراد ، الرفاع	❖ منتجع جزر حوار ، بندر الدار ، الفاتح
➤ بيت الشيخ عيسى ، السيادي ، الجسرة	❖ ساحل بلاج الجزائر

4- عدد الموانئ في مملكة البحرين

➤ ميناء سترة (لتصدير النفط)	❖ ميناء سلمان
➤ ميناء البا (لاستيراد الامونيا	❖ ميناء خليفة

5- الإجراءات التي قامت بها مملكة البحرين لتأمين الوقاية الصحية

❖ مراقبة الأغذية ومياه الشرب	❖ نشر الوعي الصحي بين السكان
❖ مكافحة الامراض المعدية	❖ اعداد البرامج التثقيفية الصحية في الإذاعة والتلفزيون

6- التدابير التي اتخذتها البحرين على صعيد البنية التحتية لإنجاح خطتها التنموية

❖ أنشأت المناطق الصناعية	❖ جعلت شبكات الاتصالات السلكية والاسلكية حديثة تيسر عملية الاتصالات مع العالم الخارجي
❖ مدت شبكات المياه والكهرباء والمجاري	

7- الخدمات التعليمية التي وفرتها حكومة البحرين من اجل مجتمع متعلم ومنتج

❖ جعلت التعليم الأساسي إلزامياً ومجانياً	❖ جعلت التعليم استثمارياً
❖ زادت عدد المدارس للجنسين	❖ وضع خطط تربوية

8- دور مملكة البحرين في المحافظة على الثروة المائية

❖ رفع مستوى الإنتاج من المياه الغير تقليدية	❖ تعميم طرق الري الحديث للحد من الهدر الحاصل في المياه
❖ وضع اطر تشريعية لضبط وتقنين استخدام	

9- العوامل التي ساعدت على تطور القطاع المصرفي في مملكة البحرين.

❖ موقع البحرين المتميز وسط منطقة الخليج العربي	❖ تمتع المنطقة بموقع زمني مناسب بين البورصات العالمية
❖ سهولة الانتقال والاتصال بين المنطقة والعالم	❖ عدم فرض أي نوع من الضرائب

10- نتائج العناية بالتعليم في مملكة البحرين :

➤ ارتفاع نصيب الطالب الواحد من المصاريف التعليمية
➤ انخفاض نسبة الامية - تصنيف اليونسكو البحرين من الدول ذات المؤشر العالي في التعليم

11- نتائج العناية بالصحة في مملكة البحرين :

➤ تدني عدد الأشخاص بالنسبة للطبيب الواحد	➤ انخفاض نسبة الوفيات خصوصاً الرضع
➤ ارتفاع متوسط عمر الانسان	➤ القضاء على الكثير من الامراض والابوئة

12- نتائج جهود مملكة البحرين في مجال الإسكان :

➤ نالت البحرين جائزة المستوطنات البشرية عام 2009 في شخص الأمير خليفة بن سلمان
➤ انخفضت نسبة الاسر الممتدة - حصلت العدد من الاسر الجديدة على مسكن ملائم

اكمل العبارات التالية بما يناسب:

- 1- يتولى مصرف البحرين المركزي مهمة تنظيم القطاع.....**المصرفي (المالي)**
- 2- نالت مملكة البحرين في مجال التنافسية السياحية عربيا المرتبة.....**الثالثة**
- 3- حقق الميزان التجاري البحريني فائضا مستمر نتيجة ارتفاع حجم وقيمة.....**الصادرات النفطية**
- 4- من أهم مظاهر تطوير التعليم في مملكة البحرين الانتقال إلى التمكين.....**التمكين الرقمي**
- 5- في مملكة البحرين أدى توفير المساكن لكثير من الاسر الجديدة الي تدني نسبة الاسر.....**الممتدة**
- 6- زادت أهمية مملكة البحرين كمنطقة جذب لرؤوس الأموال، نتيجة اتباعها سياسة.....**الحرية الاقتصادية**
- 7- تنتج محطة المحرق الطاقة الكهربائية باستخدام.....**الديزل**
- 8- من التسهيلات السكنية التي تقدمها حكومة مملكة البحرين للأسر البحرينية.....**تقديم القروض الميسرة**
- 9- مؤسسة تهدف رسم السياسات النقدية والائتمانية وتنظيم القطاع المالي.....**البنك المركزي البحريني**
- 10- من المقومات السياحية في مملكة البحرين المعطيات الحضارية مثل.....**متحف البحرين الوطني**
- 11- تحتل المرتبة الأولى بين اجمالي واردات البحرين.....**المنتجات النفطية**
- 12- اعلى قمة في مملكة البحرين جبل دخان ويصل ارتفاعها الي **132م**.....
- 13- تتميز صناعات إحلال الواردات في مملكة البحرين بملكيتها.....**للقطاع الخاص / الافراد**
- 14- أدى موقع البحرين الزمني بالنسبة لوقت عمل البورصات العالمية الي تطور قطاعها.....**المصرفي / المالي**
- 15- حقق الميزان التجاري البحريني فائضا بسبب ارتفاع.....**الصادرات النفطية والغير نفطية**

صحح العبارات التالية :

- 1- تتميز الأرصفة في مملكة البحرين بعمق مياهها (**ضحالة مياهها**)
- 2- يسود جزر البحرين مناخ مداري (**مناخ صحراوي**)
- 3- تنتج مصفاة سترة حوالي خمسة أنواع من المنتجات النفطية (**عشرة انواع**)
- 4- حولت الحكومة مستشفى الملك حمد الجامعي الي مجمع طبي (**مستشفى السلمانية**)
- 5- بدا التعليم النظامي في البحرين مع بداية القرن التاسع عشر (**القرن العشرين**)
- 6- يعتمد صيد الأسماك في مملكة البحرين على الطرق الحديثة (**الطرق التقليدية**)

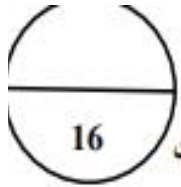
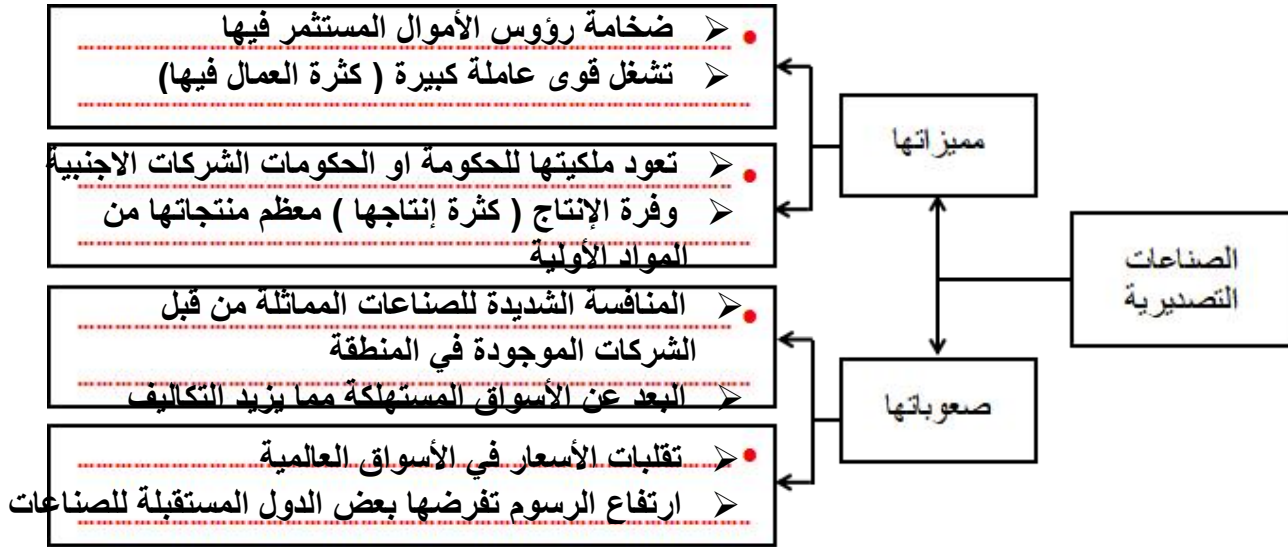
صنف كل معلم من المعالم السياحية حسب المقومات التي تنتمي اليها

المقومات الطبيعية	المقومات التاريخية	المقومات الحضارية الحديثة
✓ بلاج الجزائر	✓ بيت الجسرة	✓ بيت القران
✓ منتجع البندر	✓ مسجد الخميس	✓ منتزة عداري
✓ كرنيش الملك فيصل	✓ قلعة البحرين	✓ مجمع السيف

اجب عن ما يأتي :

وضح جهود مملكة البحرين في المجالات التالية ؟

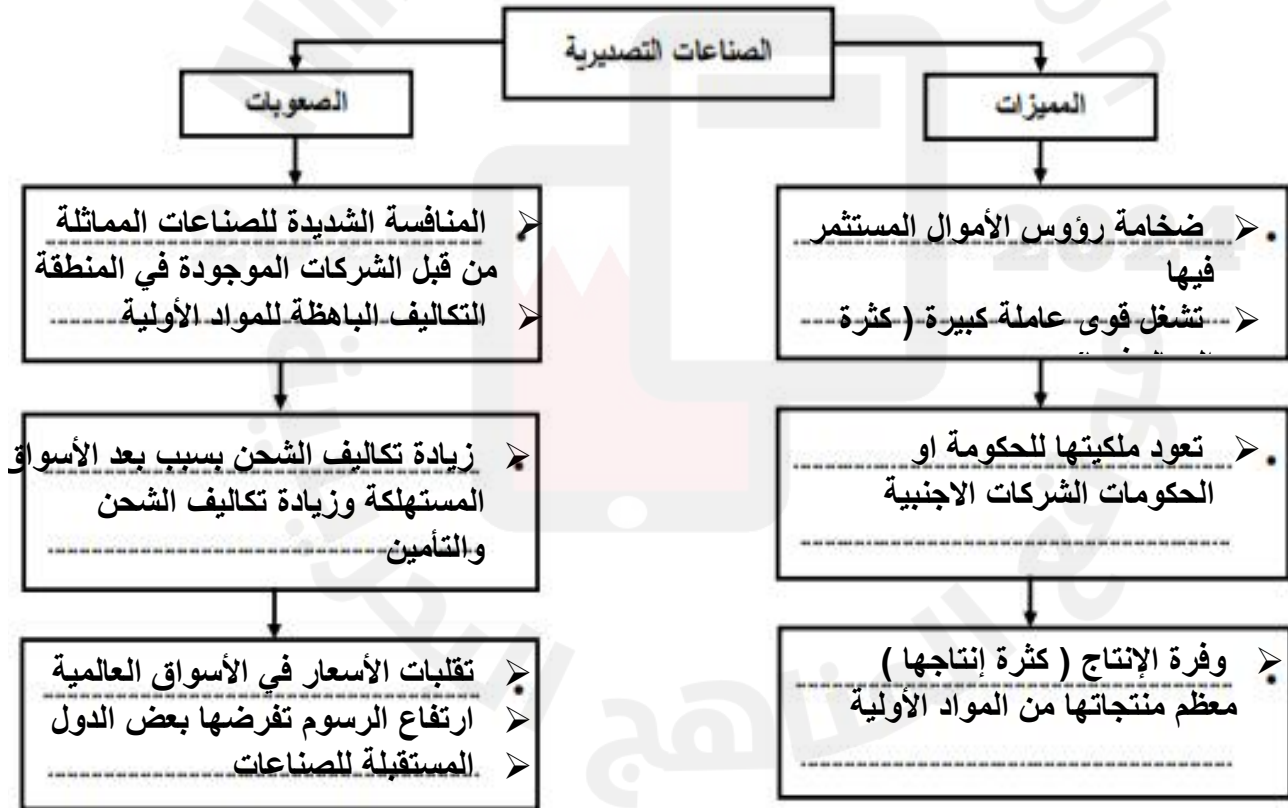
المجال	الجهود التي قامت بها البحرين
الرعاية الوقائية	<ul style="list-style-type: none"> ❖ مكافحة الأمراض المعدية ❖ تأمين لقاحات الأطفال على اختلافها ❖ مراقبة الأغذية ومياه الشرب ❖ نشر الوعي الصحي بين السكان ❖ اعداد البرامج التثقيفية الصحية ❖ اصدار العديد من الكتب والنشرات الصحية
الرعاية العلاجية	<ul style="list-style-type: none"> ❖ تحويل مستشفى السلمانية الي مجمع طبي ❖ وتوسيعه وتجهيزه بأحدث الأدوات والمعدات ❖ استحداث اقسام تخصصية داخل المستشفى ❖ انشاء عدد من المستشفيات المتخصصة ❖ وجود عدد من المستشفيات الخاصة التي تسهم في توفير الرعاية العلاجية للمواطنين
الرعاية الأولية	<ul style="list-style-type: none"> ❖ انشاء العديد من المراكز الصحية في جميع المحافظات ❖ تم تزويد المراكز بالمختبرات والاختصاصيين والمعدات اللازمة
توفير الطاقم الطبي البشري	<ul style="list-style-type: none"> ❖ استفدت اخصائيين لمختلف التخصصات الطبية ❖ أرسلت كوادرها الطبية للخارج ❖ أنشأت كلية العلوم الصحية ❖ اعداد متخصصين في المهن المساندة ❖ الانضمام لعضوية جامعة الخليج العربي
القطاع الزراعي	<ul style="list-style-type: none"> ➤ زيادة مساحات الأراضي الزراعية من خلال استصلاحها ومعالجة ملوحة التربة ➤ تقديم مستلزمات الإنتاج والقروض الميسرة ➤ توفير خدمات الوقاية الزراعية ومكافحة الآفات ❖ تقديم الخدمات الارشادية من خلال الزيارات الميدانية ❖ اجراء البحوث الميدانية أذخال البذور المحسنة ❖ انشاء المشاريع الزراعية النموذجية
القطاع السمكي	<ul style="list-style-type: none"> ➤ تطوير بعض مواني استقبال السفن كفضة المحرق وسترة والحد ➤ قدمت الإعانات المادية للصيادين من خلال توفير مستلزمات الصيد المختلفة ➤ تقديم القروض الميسرة وطويلة الامد ➤ تنظيم دورات تدريبية للصيادين ➤ تأسيس مشروع راس حيان لتربية الأحياء البحرية و اجراء البحوث العلمية عليها
القطاع الحيواني	<ul style="list-style-type: none"> ➤ تقديم القروض الميسرة ومستلزمات الإنتاج ➤ تقديم الخدمات الارشادية ➤ توفير خدمات الرعاية البيطرية ➤ ادخال السلالات الحيوانية العالية الإنتاج ➤ انشاء مشاريع نموذجية كـ (الهمة)
المواصلات البحرية	<ul style="list-style-type: none"> ➤ بناء ميناء سلمان 1958 م ➤ تطوير ميناء سلمان منذ فترة السبعينات من حيث التوسيع والتجهيز ➤ تأهيل العاملين في مجال الملاحة وإدارة الموانئ ➤ تركيز محطات حاويات في ميناء سلمان ➤ إقامة منطقة صناعية حرة حول ميناء سلمان ➤ انشاء مواني أخرى مثل ميناء سترة ومينا خليفة
القطاع السياحي	<ul style="list-style-type: none"> ➤ انشاء عدد من الإدارات مختصة بالسياحة والآثار ➤ التفتيش عن الآثار والاعتناء بها ➤ وضع الخطط والمشاريع السياحية ➤ تشجيع وكالات السفر والسياحة الأجنبية فتح فروع لها في البلاد ➤ اعداد عمالة وطنية متخصصة في السياحة ➤ توفير الخدمات السياحية



السؤال الرابع:

أولاً- أكمل الشكل البياني الذي أمامك بما يناسبه:

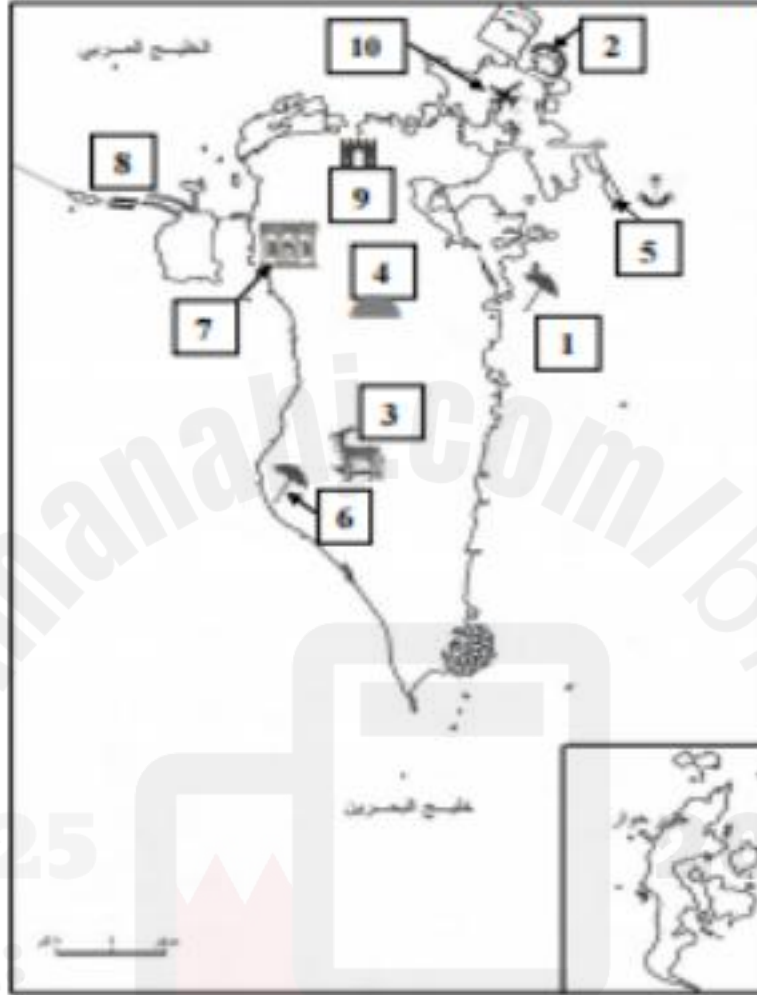
خلال دراستك لموضوع " واقع الصناعة في مملكة البحرين" أكمل المخطط الآتي بكتابة أبرز مميزات وصعوبات الصناعات التصديرية:



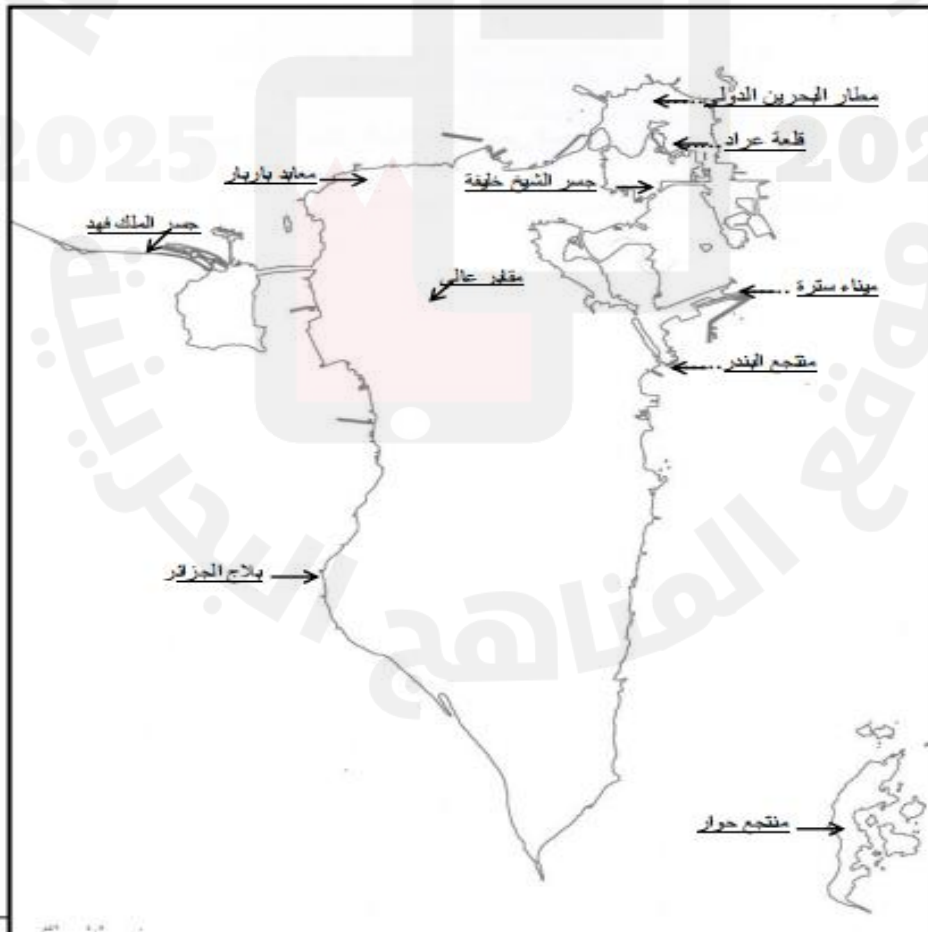
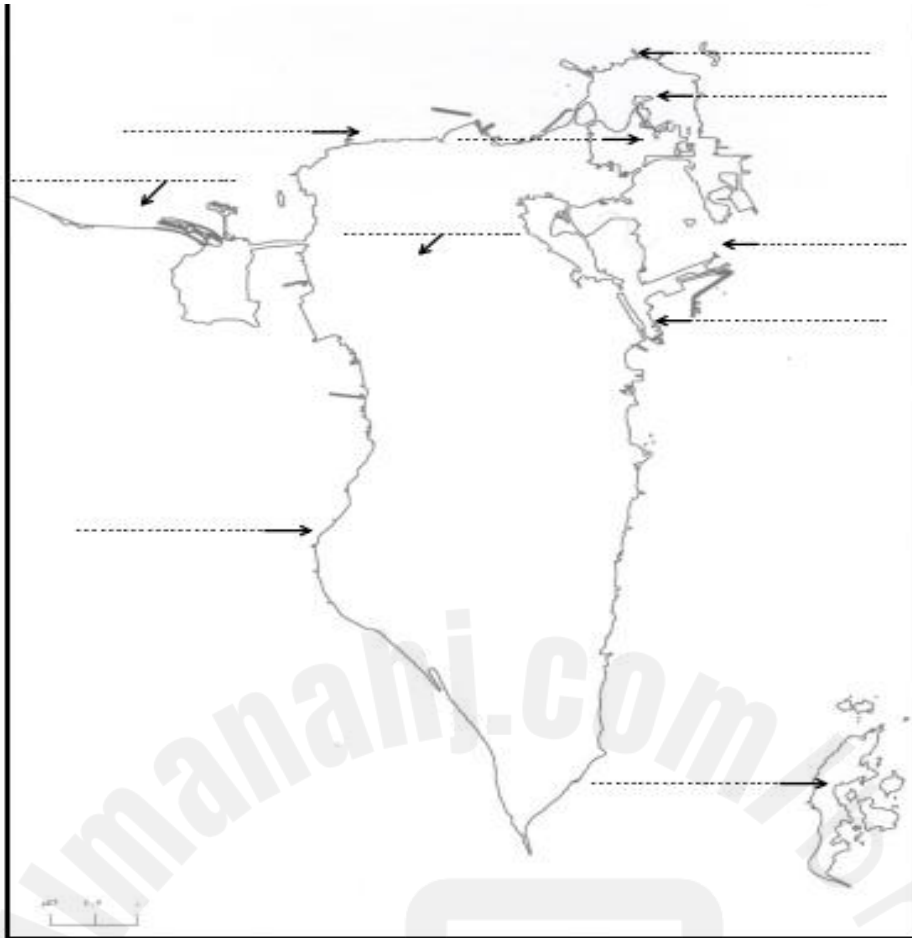
لاحظ أن أسئلة الامتحان تقع في 8 صفحات

نموذج الامتحان المسرد: (الإحصائية العامة والبيئة) صفحة (5)

ثانياً- على خريطة البحرين الصماء مجموعة من الأرقام تمثل عددًا من الظواهر الجغرافية، اكتب ما تعثه هذه الأرقام تبعًا لموقعها على الخريطة ووفق المعطيات بالجدول المرفق.



الظاهرة الجغرافية	الرقم المناسب	الظاهرة الجغرافية	الرقم المناسب
جزر أمواج	2	منتجع البندر	1
مقابر عالي الأثرية	4	محمية العرين	3
بلاج الجزائر	6	ميناء خليفة بن سلمان	5
جسر الملك فهد	8	بيت الجسرة	7
مطار البحرين الدولي	10	قلعة البحرين	9



مملكة البحرين مواقع أثرية وتراثية



مع تمنياتي لكم بالتفوق
أ.محمد احمد العجي