

ملخص المواد الاجتماعية للاختبار النهائي الخاص بالفصل الأول



تم تحميل هذا الملف من موقع مناهج مملكة البحرين

موقع المناهج ← مناهج مملكة البحرين ← الصف التاسع ← المواد الاجتماعية ← الفصل الأول ← ملفات متنوعة ← الملف

تاريخ إضافة الملف على موقع المناهج: 19:24:19 2025-12-19

ملفات اكتب للمعلم اكتب للطالب | اختبارات الكترونية | اختبارات | حلول | عروض بوربوينت | أوراق عمل
منهج انجليزي | ملخصات وتقارير | مذكرات وبنوك | الامتحان النهائي | للمدرس

المزيد من مادة
المواد
الاجتماعية:

التواصل الاجتماعي بحسب الصف التاسع



صفحة مناهج مملكة
البحرين على
فيسبوك

الرياضيات

اللغة الانجليزية

اللغة العربية

التربية الاسلامية

المواد على تلغرام

المزيد من الملفات بحسب الصف التاسع والمادة المواد الاجتماعية في الفصل الأول

مراجعة الاختبار الثاني في المواد الاجتماعية

1

ملخص دروس الاختبار الثاني في المواد الاجتماعية

2

مراجعة المواد الاجتماعية للصف الثالث الإعدادي الاختبار الثاني

3

مذكرة ذهبية في مراجعة الاختبار الثاني في المواد الاجتماعية

4

مراجعة الاختبار الثاني في المواد الاجتماعية

5



وزارة التربية والتعليم

مدرسة الخليل بن أحمد الاعدادية للبنين

قسم الاجتماعيات

ملخص للاختبار النهائي

لمادة الاجتماعيات

صف ثالث اعدادي

ملاحظة : عزيزي الطالب لا تنسى الكتاب المدرسي هو المرجع الأساسي للمادة

اعداد : أ . عبدالرحمن بوعياش

الاسم :

الصف : ثالث اعدادي

الرقم	الدروس المطلوبة	الصفحة من الكتاب
1	الموقع والمساحة	16
2	مظاهر السطح في البحرين	18
3	المناخ	20
4	الموارد الطبيعية - المياه	22
5	الموارد الطبيعية - النفط والغاز الطبيعي	26
6	الخصائص السكانية	30
7	التنمية البشرية - الصحة	34
8	التنمية البشرية - التعليم	40
9	التنمية البشرية - الاسكان	42
10	التنمية الاقتصادية	44
11	القطاع الزراعي ، الحيواني ، صيد الاسماك	46
12	واقع الصناعة في مملكة البحرين	52
13	طرق المواصلات والاتصالات	66
14	القطاع المالي	67
15	السياحة	70
16	التجارة الخارجية	74

عزيزي الطالب

تذكر أن الامتحان هو بوابة لتحقيق طموحاتك ، واغمر نفسك في المذاكرة بجد واجتهاد، ونظم وقتك بحكمة
هذه المذكرة بين يديك لمساعدتك على لمراجعة، ولاتنس فكل خطوة تخطيها بعزيمة تقربك نحو النجاح
فأنت قادر على تحقيق المستحيل ، امنياتي لك بالتوفيق

موقع البحرين الجغرافي	موقع البحرين الفلكي
<ul style="list-style-type: none"> • تقع في منتصف المسافة بين مضيق هرمز ومصب شط العرب • تبعد المملكة العربية السعودية حوالي 22 كم (غرب البحرين) • وتبعد حوالي 25 كم عن شبه جزيرة قطر (شرق البحرين) 	<ul style="list-style-type: none"> • بين دائرتي عرض 27,10 و 25,32 شمال خط الاستواء • بين خطي طول 51,7 و 50,16 شرق خط غرينيتش.

➤ سمات او خصائص او مميزات موقع البحرين :

- تمثل البحرين همزة وصل بالعالم الخارجي
- تقع على أحد أهم طرق التجارة الرئيسية
- تصل بين إقليمين من أقاليم العالم الكبرى هما شرق آسيا وغرب أوروبا.
- تتوسط البحرين حوض الخليج العربي باعتباره ممرا مائياً مهماً

➤ بماذا تتميز الأرصفة و الشعب المرجانية ؟

- ضحالة مياهها.
- تمثل حماية طبيعية من اخطار الأمواج والتيارات البحرية.
- تهئ قيام بيئة بحرية غنية بالثروة السمكية

➤ مساحة البحرين :

- علل /زادت مساحة البحرين وتغير شكل سواحلها منذ أواخر الستينات واول التسعينات
- بسبب عمليات الردم بغرض استغلالها في الأنشطة العمرانية والاقتصادية
- ارتفعت مساحة البحرين من 662 كم2 عام 1969م إلى 711 كم2 عام 2014م
- تشكل الجزيرة الام البحرين 80% من المساحة الاجمالية.
- من اهم الجسور جسر الملك فهد الذي يربط بين البحرين والسعودية الذي يمر بجزيرة ام النعسان يبلغ طوله 25 كم

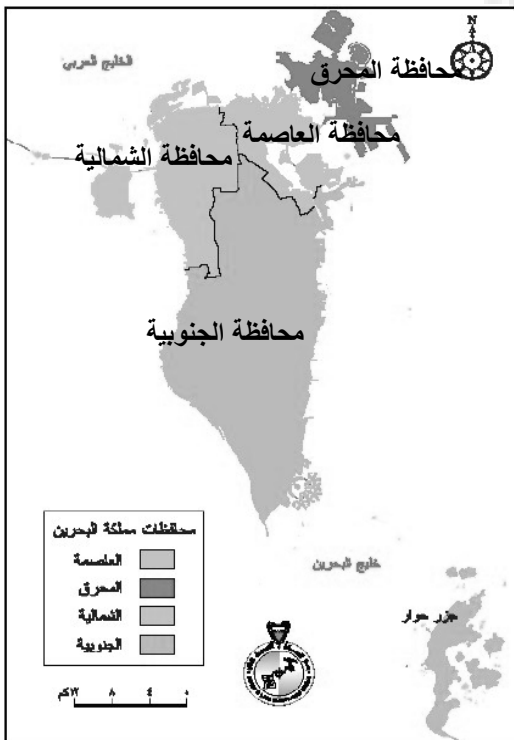
➤ نظام المحافظات :

انشا نظام المحافظات في البحرين عام 1996م بهدف :

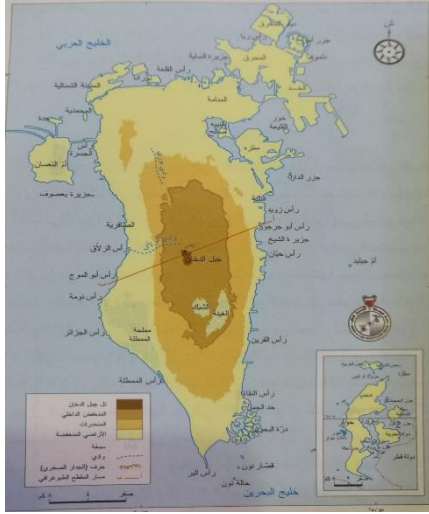
- دعم كفاءة الحكم المحلي في تطبيق خطط التنمية والخدمات.
- تدعيم الأنشطة الاجتماعية وتفعيلها.
- الحفاظ على الأمن والنظام العام.

منذ عام 2014م أصبحت مملكة البحرين تضم أربع محافظات هي

- 1- الشمالية 2- الجنوبية 3- المحرق 4 - العاصمة



➤ تتنوع التضاريس على رغم صغر مساحت البحرين ويعتبر سطح البحرين منبسطة وقليل الارتفاع



بنية منطقة مملكة البحرين	
الزمن الجيولوجي الرابع	الزمن الجيولوجي الثالث
<ul style="list-style-type: none"> • في البحرين كانت مياه البحر تغمر السواحل و تنحسر عنها أحياناً بسبب التغيرات المناخية • وعند طغيان مياه البحر تسربت من المياه المالحة إلى الطبقات الجوفية، فارتفعت نسبة الملوحة فيها 	<ul style="list-style-type: none"> • ظلت البحرين حتى منتصف الزمن الجيولوجي الثالث مغمورة بالمياه • اصطدام الكتلة العربية بالآسيوية الأوروبية، تسبب بالتواء الصخور وبدأت تظهر فوق البحر • وفي نهاية الزمن الجيولوجي الثالث كانت معظم أراضي البحرين مكشوفة
<p>علل / لماذا تنوعت اشكال الأرض والتضاريس في البحرين ؟</p> <p>بسبب : بسبب عوامل التعرية في الزمن الجيولوجي الثالث والرابع</p>	

اهم مظاهر سطح البحرين

2- المنحدرات	1- المنخفض الداخلي
<p>خصائصه :</p> <ul style="list-style-type: none"> • موقعه : تحيط بالمنخفض الداخلي (من اعالي الجدار الصخري منحدره نحو الاطراف) • اهم اودية هذه المنحدرات : 1. وادي بوري 7 كم 2. وادي الزلاق 6 كم 	<p>خصائصه :</p> <ul style="list-style-type: none"> • موقعه: يحتل قلب الجزيرة الام • بيضاوي الشكل ذو ارضية مستوية • يحيط به جدار صخري ذو ارتفاع متفاوت وتتقاطع ممرات : • ممر بوري • ممر الزلاق • يتكون من جزاين ارضيين مهمين : • تل جبل الدخان الذي يبلغ طوله 134 م • منخفضي او سبختي الغينة والشبك يصل انخفاضهم الى 5 م

3- الاراضي المنخفضة

تحيط بالمنحدرات وتمتد الى سواحل البحرين وتنقسم الى :

2- السهل الشمالي	1- السهل الشرقي والغربي
<p>➤ يمتد من المنامة شرقاً إلى البديع غرباً</p> <p>➤ س/ بماذا يمتاز السهل الشمالي؟</p> <p>يمتاز بتربة صالحة للزراعة وانتشار عيون الماء</p> <p>➤ مما ساعد على تمركز السكان فيه</p>	<p>➤ يتسع على الساحل الغربي ابتداء من الزلاق و الوسمية حتى راس الممطة</p> <p>➤ يصل أقل عرض له في الساحل الشرقي الممتد من عسكر حتى أم جدر. يلتحم السهلان الشرقي والغربي عند راس البر</p> <p>➤ س/ بماذا يمتاز السهل الشرقي والغربي ؟</p> <p>يمتاز بكثافة الرمال وارتفاع نسبة الملوحة</p>

مناخ البحرين صحراوي حار ، و يوجد فصلين في مملكة البحرين فصل الصيف وفصل الشتاء

فصل الشتاء (اعتدال الحرارة وتساقط الامطار)

المدة : من نوفمبر حتى ابريل (شهر 11 الى 4)
الحرارة : معتدل الحرارة، حيث تبلغ 20,8 درجة مئوية (ما السبب)
السبب : ميلان اشعة الشمس
الرياح :

رياح شمالية غربية	رياح جنوبية شرقية	رياح قطبية (شمالية غربية)
دافئة ورطبة	دافئة ورطبة	باردة وجافة

الامطار : الامطار (قليله) يصل معدلها السنوي حوالي 77,1 ملم

فصل الصيف (ارتفاع الحرارة وجفاف)

المدة : من مايو الى اكتوبر (من شهر 5 الى 10)
الحرارة : تكون الحراره فيه مرتفعه تصل الى 32 درجة مئوية (ما السبب؟)
السبب : تعامد اشعة الشمس على المنطقة بين خط الاستواء ومدار السرطان
علل / يصل متوسط السطوع إلى أعلى مدة في فصل الصيف ؟
طول ساعات النهار.
صفاء السماء معظم شهور الصيف

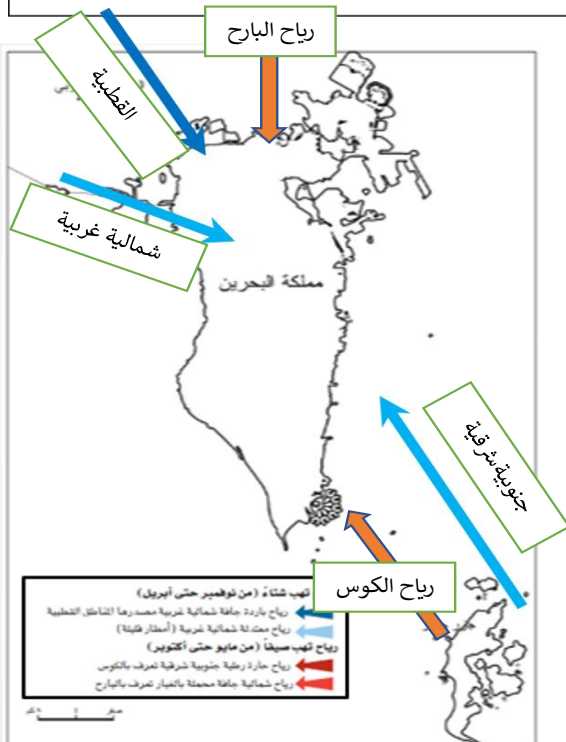
الرياح :

رياح الكوس (الجنوبية الشرقية)	رياح البارح (الشمالية)
<ul style="list-style-type: none"> هي رياح حارة ورطبة بسبب: مرورها على مياه الخليج التي ينتج عنها : <ol style="list-style-type: none"> 1. زيادة نسبة الرطوبة 2. ارتفاع درجة الحرارة 	<ul style="list-style-type: none"> تهب رياح "البارح" الشمالية لحوالي 40 يوما (من 5 يونيو إلى 20 يوليو) تحمل كميات كبيرة من الغبار والأتربة، بسبب: قلة الامطار. عدم تماسك التربة

الرطوبة : يبلغ متوسطها السنوي في الحد الأعلى 81% والأدنى 45%.

➤ ماهي أسباب ارتفاع الحرارة في المدن البحرينية في الوقت الحالي ؟

- الغازات المنبعثة من المصانع والسيارات.
- الهواء الساخن المنبعث من أجهزة التكييف خارج البيوت.
- سفلتة الشوارع
- سقوط اشعة الشمس على الحوائط الإسمنتية للمباني



➤ الموارد المائية في مملكة البحرين :

موارد تقليدية	موارد غير تقليدية
<ul style="list-style-type: none"> المياه الجوفية العيون والآبار 	<ul style="list-style-type: none"> معالجة مياه الصرف الصحي تحلية مياه البحر

➤ لماذا تعتبر الموارد المائية في البحرين محدودة ؟

- بسبب عدم وجود أنهار وبحيرات في البحرين
- المياه الجوفية محدودة، بسبب ندرة الأمطار وارتفاع معدلات التبخر

الطبقات المائية التي تخزن المياه الجوفية :

➤ أنظمة تخزين المياه في البحرين هما نظامان :

- نظام خزان الدمام الجوفي
- نظام الروس - أم الرضمة الجوفي

الطبقات الجوفية :

الطبقة	العلات	الخبر	الروس - أم الرضمة
النظام	نظام خزان الدمام الجوفي	نظام الروس - أم الرضمة الجوفي	نظام الروس - أم الرضمة الجوفي
الخصائص	<ol style="list-style-type: none"> المياه مقبولة. كمية المياه المخزنة محدودة. تستخدم للزراعة 	<ol style="list-style-type: none"> المياه جيدة. للاستخدام المنزلي 	<ol style="list-style-type: none"> لا تصلح للاستخدام نظراً لشدة ملوحتها. كمية المياه المخزنة كبيرة. تستخدم في عمليات التحلية، أو للأغراض الصناعية

➤ ما أسباب تعرض طبقة الخُبر والعلات إلى خطر النضوب والتملُّح؟

- النضوب : بسبب زيادة الطلب على المياه بسبب النمو السكاني والاقتصادي
- التملُّح : بسبب ، بسبب ارتفاع نسبة استخراج المياه من طبقتي العلات والخبر مما أدى إلى تسرب مياه البحر وارتفاع معدل الملوحة بالمياه الجوفية

➤ لجأت البحرين لحلول بديلة لمواجهة نقص المياه :

- أنشأت محطات لتحلية المياه مثل : سترة وأبو جرجور والدور والحد
- أنشأت محطات لمعالجة مياه الصرف الصحي أهمها محطة توبلي

كيف يمكننا الحفاظ على الثروة المائية في البحرين ؟

- ❖ رفع مستوى الإنتاج من المياه غير التقليدية.
- ❖ وضع قوانين لضبط وتقنين استخدام المياه.
- ❖ تنظيم حملات إعلامية لتوعية المواطنين
- ❖ تعميم طرق الري الحديثة
- ❖ انتقاء أنواع من النباتات والأشجار التي لا تحتاج إلى كميات كبيرة من المياه

كيف يتم استخراج النفط والغاز الطبيعي في مملكة البحرين

حقول النفط	حقول الغاز الطبيعي
<ul style="list-style-type: none"> ➤ حقل البحرين البري الذي اكتشف عام 1932 ➤ حقل أبو سعفة البحري الذي اكتشف عام 1963 والذي ينتج مناصفة بين البحرين والسعودية 	<ul style="list-style-type: none"> ➤ مصاحباً للنفط: من حق البحرين البري من طبقة العرب ➤ مستقلاً: من طبقة الخف التي تشكل 77 % من مجمل انتاج الغاز الطبيعي في البحرين

لماذا / النفط والغاز الطبيعي في البحرين موارد مهددة بالنضوب

لأنه من الموارد المحدودة ، وأدى التطور الاقتصادي إلى زيادة الطلب على المنتجات النفطية والغاز الطبيعي

- تستهلك البحرين حوالي 9,5% من مجمل منتجاتها النفطية
- تستخدم الغاز الطبيعي في مملكة البحرين :

1. إعادة حقن ابار النفط لتحسين انتاجها
2. تشغيل محطات الكهرباء والماء و مصنع البنا

لأهمية النفط سعت مملكة البحرين لتملك الثروة النفطية

ما الإجراءات التي سعت اليها مملكة البحرين لتملك ثروتها النفطية والاشراف عليها :

- انشاء المجلس الأعلى للنفط يشرف على الثروة النفطية
- انشاء شركة نفط البحرين (بابكو)
- انشاء شركة غاز البحرين (بنا غاز)
- ساهمت في رؤوس أموال الشركات التابعة لها
- انضمت الى منظمة الاوابك عام 1970

أنشأت مملكة البحرين محطات توليد الكهرباء بالاعتماد على الغاز الطبيعي

اذكر أسماء المحطات ؟

وهي محطات المنامة، سترة، الرفاع، الحد ومحطة مصنع البنا

هل جميع محطات البحرين تعمل على الطاقة الكهربائية ؟

لا ، ما عدا محطة المحرق تعتمد على الديزل

- في السبعينات شهد قطاع الكهرباء تطور ونمو كبير في الإنتاج
- نصف الإنتاج الكهربائي يتم استخدامه في المنازل

ما إجراءات التي قامت بها البحرين لتدارك نفاذ احتياطها من النفط والغاز الطبيعي ؟

1. البحث عن مكامن إضافية لرفع نسبة احتياطها من النفط والغاز الطبيعي
2. شجعت الأبحاث العملية حول الطاقة الشمسية
3. حث المواطن من ترشيد استهلاك الكهرباء لاعتمادها على الغاز الطبيعي

دور المواطن في الحفاظ على الطاقة : استخدام الطرق المثلى في استخدامها وخصوصا الكهرباء لأنها تعتمد على الغاز الطبيعي

سكان مملكة البحرين :

- قُدِّر عدد السكان بـ 1.424 مليوناً عام 2016م منهم 665 ألف بحريني و 759 غير بحريني
- يتوقع ان يبلغ 1.5 مليوناً في 2020م ويتجاوز المليونين في 2030م
- حيث نسبة الأطفال تتجاوز الربع و الشيوخ تبلغ 2.2 من مجموع عدد السكان

النمو السكاني في مملكة البحرين :

النمو السكاني مرتفع منذ ستينات ، إلا أنه تراجع بين 1991م و 2001م، بسبب تراجع الولادات، ثم عاد للارتفاع في العشرية الأخيرة

اذكر أسباب ارتفاع عدد السكان في السنوات العشرية الأخيرة ؟

- بسبب الازدهار الاقتصادي في المملكة
- الزيادة الطبيعية بالنسبة الى البحرينيين (ارتفاع الولادات وانخفاض الوفيات)
- الهجرة الوافدة لغير البحرينيين

التوزيع الجغرافي للسكان وكثافتهم

- تبلغ الكثافة الإجمالية في مملكة البحرين 1705 نسمة/كم² وتعتبر من أعلى الكثافات في العالم (لماذا)

لان مساحة البحرين صغيرة

- تتفاوت الكثافة بين المحافظات أقصاها في محافظة العاصمة وادناها في المحافظة الجنوبية

يوجد عوامل ساهمت في انتقال سكان المنامة الى مناطق أخرى :

- الانتقال الى المناطق الأقل ازدحاماً
- المشاريع السكنية التي قامت بها حكومة البحرين: مدينة عيسى، مدينة حمد ومدينة زايد.
- منح المواطنين قروضاً إسكانية ميسرة

طرأت على المجتمع البحريني تحولات اقتصادية واجتماعية أدت إلى تغيير في بنيته السكانية بسبب ارتفاع العوائد النفطية

مما أدى الى استيراد العمالة من الخارج بسبب :

- لعجز القوى العاملة عن القيام بعمليات التنمية
- لتنمية قواها البشرية.

أبرز انعكاسات (نتائج) ملامح التغير السكاني

- تدني نسبة الزيادة الطبيعية (مما أدى إلى انخفاض عدد أفراد الأسرة النواة)
- تدني نسبة البحرينيين الأقل من 15 سنة و ارتفاع نسبة كبار السن
- ارتفاع اسهام المرأة في النشاط الاقتصادي
- ارتفاع عدد المشتغلين الخاضعين لنظام التأمين الاجتماعي بالقطاع الخاص
- انخفاض نسبة البطالة بفضل جهود المملكة في بحرنة الوظائف

التحولات الاجتماعية التي شهدتها بنية السكان

- تأخر سن الزواج (بسبب اتجاه الشباب لمواصلة التعليم العالي)
- انخراط المرأة في النشاط الاقتصادي
- تدني نسبة المترملين (بسبب التقدم الصحي)
- تدني نسبة الطلاق (بسبب التقارب الفكري والثقافي بين الجنسين)

جهود مملكة البحرين في الرعاية الصحية :

اهتمت البحرين بالرعاية الصحية عن طريق		
1-الرعاية الوقائية	2-الرعاية العلاجية	3-الرعاية الاولى
<ul style="list-style-type: none"> • مراقبة الأغذية ومياه الشرب. • مكافحة الأمراض المعدية. • تأمين لقاحات الأطفال. • نشر الوعي الصحي بين السكان من خلال برامج التثقيف الصحي و إصدار العديد من الكتب والنشرات والملصقات 	<ul style="list-style-type: none"> • تحويل مستشفى السلمانية إلى مجمع طبي • استحداث أقسام تخصصية لمعالجة مختلف الأمراض. • إنشاء المستشفيات المتخصصة في مجال الولادة والطب النفسي والعجزة. • انشاء عدد من المستشفيات الخاصة 	<ul style="list-style-type: none"> • إنشاء العديد من المراكز الصحية في جميع المحافظات • إنشاء مستشفى الملك حمد الجامعي المحدث عام 2013م
4-توفير الكادر البشري		
<ul style="list-style-type: none"> • استقدام اخصائيين في مختلف المجالات من الخارج • ارسال الكوادر لتخصص في الخارج • انشاء كلية العلوم الصحية التي تخرج الممرضين والممرضات والاشعة والصيدلة وغيرها 		

ما نتائج الاهتمام بالرعاية الصحية في مملكة البحرين ؟

- تدني عدد الأشخاص بالنسبة للطبيب الواحد
- انخفاض نسبة الوفيات وانخفاض نسبة الوفيات الرضع
- ارتفاع متوسط عمر الانسان من حوالي 60 سنة الى 78.5 سنة
- القضاء على الكثير من الامراض المعدية
- ارتفاع نسبة الأطفال المحصنين حتى قاربت 100%

الدرس الثامن: التنمية البشرية – التعليم ص 41

اهتمت البحرين بالتعليم كونه أساس في تنمية الموارد البشرية منذ عام 1971

حيث وفرت المستلزمات الضرورية لبناء مجتمع مُتعلِّم ومُنْتِج من خلال :

- 1- التعليم النظامي 2- التعليم العالي 3- التعليم العالي

التعليم النظامي	
<ul style="list-style-type: none"> بدأ مع بداية القرن العشرين (1919م) تشرف وزارة التربية والتعليم على جميع المؤسسات التعليمية الحكومية والخاصة في المملكة. جهود وزارة التربية والتعليم في التعليم النظامي 	
جهود السبعينات	جهود الثمانينات
<ul style="list-style-type: none"> جعلت التعليم الأساسي إلزاميًا ومجانيًا في جميع مراحل التعليم في المدارس الحكومية. زادت عدد المدارس للجنسين لتشمل جميع المحافظات. جهزت المدارس بالمختبرات العلمية والمكتبات والملاعب والصالات الرياضية 	<ul style="list-style-type: none"> اهتمت بنوعية التعليم تحديث المناهج وتطويرها طبقت نظام توحيد المسارات في الثانوية استحدثت التعليم الصناعي والتلمذة المهنية انتقلت إلى التمكين الرقمي.

التعليم العالي
<p>جهود مملكة البحرين في التعليم العالي :</p> <ul style="list-style-type: none"> أنشأت الحكومة جامعة البحرين عام 1986م أنشأت كلية العلوم الصحية أنشأت معهد البحرين للتدريب عضويتها في جامعة الخليج العربي. تخريج طلاب يتحملون مسؤولياتهم في عملية التنمية الاقتصادية. إنشاء كلية البوليتكنيك . تقديم المنح والبعثات الدراسية إلى الخارج للطلاب

التعليم الغير نظامي (محو الأمية)

انشاء مراكز متخصصة بنشر التعليم وخفض نسبة الأمية بين الكبار

- ماهي النتائج التي تحققت بفضل الاهتمام بالتعليم ؟
- ارتفاع نصيب الطالب الواحد من مجموع المصاريف التعليمية
 - انخفاض نسبة الأمية بين البحرينيين الى 2.6 %
 - ارتفاع عدد المدرسين والطلاب وحاملي الشهادات العليا
 - نالت مملكة البحرين المرتبة الأولى عربيًا في مجال توفير التعليم للجميع
 - تُصنّف بين الدول ذات المؤشر العالي في التعليم بحسب اليونسكو

- ما العوامل التي أدت الى توسع البحرين في المشاريع الاسكانية ؟
1. النمو السكاني الذي تشهده البلاد
 2. الكثافة السكانية المرتفعة في بعض مناطق خصوصاً في المنامة والمحرق
- ما هي الأهداف التي وضعتها البحرين لتنمية الاسكانية
1. توفير المسكن اللائم لكل أسرة بحرينية لا تملك أو لا تستطيع أن تنشئ مثل هذا السكن
 2. مواكبة النمو والكثافة السكانية في البحرين
 3. وضع خطط اسكانية شاملة مع اخذ بعين الاعتبار :
- احتياجات المواطنين على اختلاف مستوياتهم الاجتماعية والاقتصادية
 - العادات والتقاليد المحلية
 - الخصائص العمرانية التي تتميز بها البلاد
- عدد اهم المشاريع الإسكانية التي تم تنفيذها في مملكة البحرين ؟
- إنشاء المجمعات السكنية في المدن والقرى
 - إنشاء مدن حديثة متكاملة مثل مدينة حمد وعيسى
 - إنشاء البنايات العمودية في السنوات الأخيرة (ما السبب)
- السبب : الحفاظ على احتياطي الأراضي السكنية أمام الحاجة المتزايدة للبناء
- تطوير القرى والمدن : كتطوير الجسرة، عسكر، جو، دمستان
 - وتشييد الضواحي السكنية في أم الحصم وعراد والسنابس والبديع وشمال المحرق
- التسهيلات او الخدمات التي تقدمها وزارة الاسكان للمواطنين :
- القروض الميسرة تعطى الى :
- 1- بناء مسكن خاص
 - 2- ترميم مسكن قائم
 - 3- شراء مسكن
- توزيع القسائم السكنية
 - الهبات الملكية
- ماهي نتائج إجراءات الحكومة لتوفير الخدمات السكنية للمواطنين ؟
- بلغت نسبة الأسر البحرينية التي الاستفادة من خدمات الإسكان أكثر من 66%.
 - ازدياد عدد المشاريع والتسهيلات الاسكانية و الوحدات السكنية
 - توفير العديد من المساكن للأسر البحرينية الجديدة ادى الى تدني نسبة الاسر الممتدة
 - نالت البحرين جائزة المستوطنات البشرية في عام 2009م من الأمم المتحدة في عهد الأمير خليفة بن سلمان ال خليفة .

منذ اكتشاف النفط في البحرين عام 1932 والقطاع النفطي يشكل المحرك الأساسي للنشاط الاقتصادي في البحرين

اتبعت حكومة البحرين سياسة تنوع مصادر الدخل منذ السبعينات لماذا ؟
وذلك لأدراكها خطر نزوب النفط (أي انتهائه)

- وفرت حكومة مملكة البحرين البنية التحتية اللازمة لنجاح خططها الاقتصادية , اذكرها :
1. أنشأت المناطق الصناعية
 2. مدّت شبكات المياه والكهرباء والمجاري إلى مختلف البلاد
 3. حدّثت شبكات الاتصال السلكية واللاسلكية
 4. طوّرت شبكة المواصلات البرية والجوية
 5. حسنت جميع الخدمات العامة بالأخص الخدمات الصحية والتعليمية والإسكانية

س /لماذا تعتبر الخدمات الصحية والتعليمية والإسكانية من الخدمات المهمة في التنمية الاقتصادية ؟

لدورها في تنمية الموارد البشرية وزيادة انتاجها لأنها اهم العوامل التي تساهم في التنمية الاقتصادية

س/ على ماذا ساعد نجاح خطة التنمية الاقتصادية في مملكة البحرين ؟

ساعد نجاح خطة التنمية الاقتصادية على جذب رؤوس الأموال الخارجية

➤ سياسة الحرية الاقتصادي

سياسة الحرية الاقتصادية تمثلت في اصدار قوانين شجعت المستثمرين على العمل في البحرين

ماهي القوانين التي وضعتها البحرين لتشجيع المستثمرين ؟

1. إعطاء الحرية في إدخال رؤوس الأموال وإخراجها
2. السماح للأجانب بامتلاك جميع أسهم الشركات التي يؤسسونها دون الحاجة لشريك بحريني فيها
3. إعفاء الشركات الصناعية والمؤسسات المصرفية من الضرائب لفترة زمنية محددة بعد التأسيس.
4. التسهيلات التي تقدمها الدوائر الحكومية لاستصدار تراخيص التأسيس لمختلف الشركات.

ماهي انعكاسات(نتائج) سياسة الحرية الاقتصادية على الاقتصاد البحريني . اذكرها

1. توسع قاعدة الاقتصاد البحريني وتنوعه
2. أصبح القطاع النفطي يشكل أقل من 20% من الناتج المحلي الإجمالي
3. ارتفعت نسبة اسهام القطاعات الاقتصادية الأخرى وعلى الأخص قطاعي الصناعة التحويلية والخدمات
4. اتسم الناتج الإجمالي بشبه توازن بين مختلف قطاعاته
5. ارتفعت نسبة مساهمة قطاع البناء والتشييد والقطاع المالي والتصنيع إلى في عام 2012م

انخفضت نسبة مساهمة القطاعات في الناتج المحلي الإجمالي بسبب الظروف الطبيعية والبشرية
وتسعى البحرين لدعم هذه القطاعات لسد حاجة السوق المحلي

واقع القطاعات في مملكة البحرين

القطاع الزراعي	القطاع الحيواني	قطاع صيد الاسماك
<ul style="list-style-type: none"> • محدودية الأراضي الصالحة للزراعة بسبب : <ol style="list-style-type: none"> 1. ندرة مياه الري. 2. ملوحة التربة. 3. افتقار التربة للمواد العضوية • تنحصر الأراضي الصالحة للزراعة التي لم يزرع منها سوى نسبة 74% في شريط ضيق يمتد من المنامة شمالاً حتى الزلاق غرباً 	<ul style="list-style-type: none"> • تربية الحيوانات محدوده : <ul style="list-style-type: none"> تستخدم الطرق التقليدية في تربيتها وانتاجيتها ضعيفة بسبب : <ol style="list-style-type: none"> 1. عدم وجود مراعي طبيعية 2. ارتفاع تكاليف الإنتاج 3. عزوف السكان عن العمل في هذا القطاع للعمل في قطاعات أخرى • تربية الدواجن متطورة : <ul style="list-style-type: none"> ➢ إذ تتم تربيتها في مزارع متخصصة لإنتاج بيض المائدة والدجاج اللحم. ➢ شهد الإنتاج تحسناً مستمراً، لكنه لا يكفي حاجة السوق المحلي 	<ul style="list-style-type: none"> • يعتمد صيد الأسماك على الطرق التقليدية: <ol style="list-style-type: none"> 1. الحظرة وشباك الصيد. 2. القوارب الخشبية الصغيرة لا تستطيع الدخول إلى عمق البحر • قلة الأيدي العاملة الذي بلغ عددهم 95 % ونصفهم اجانب • الحاجة الى ارفصة لاستقبال السفن • الحاجة الى مراكز تدريب للصيادين • عمليات الردم والحفر بالسواحل • التلوث النفطي

جهود مملكة البحرين للاهتمام بالقطاعات الانتاجية

زيادة مساحة الأراضي الزراعية من خلال	زيادة الإنتاج الزراعي والحيواني من خلال
<ul style="list-style-type: none"> • إنشاء شبكات تصريف المياه من الأراضي الزراعية • التغلب على مشكلة ملوحة التربة • الاستفادة من المياه المعالجة بمحطة توبلي في الري 	<ul style="list-style-type: none"> • تشجيع على استهدام افضل الوسائل الحديثة لتطوير الإنتاج . • تقديم مختلف مستلزمات الإنتاج. • تقديم القروض الميسرة. • توفير خدمات الوقاية الزراعية ومكافحة الآفات الزراعية والرعاية البيطرية. • توفير الخدمات الإرشادية، عن طريق الزيارات الميدانية. • إجراء البحوث الميدانية • إدخال السلالات الحيوانية الجيدة والعالية الإنتاج
إنشاء المشاريع النموذجية من خلال	تنمية القطاع السمكي من خلال
<ul style="list-style-type: none"> • اعتماد الأسلوب العلمي في إقامة المشاريع الزراعية والحيوانية • اذكر بعض المشاريع النموذجية في البحرين ؟ • مشروع هورة عالي، والبحير، ومشروع عذاري ومنطقة بوري، لإنتاج الأعلاف والفواكه. • مشروع الهمة لتربية الأغنام والماعز 	<ul style="list-style-type: none"> • تطوير موانئ استقبال سفن القطاع التقليدي كفرصة المحرق وسترة والحد • تقديم الإعانات المادية • تقديم القروض الميسرة والطويلة الأمد • تنظيم الدورات التدريبية • تأسيس مشروع راس حيان لتربية الأحياء البحرية

ما انعكاس (نتائج) الجهود التي قدمتها مملكة البحرين لتطوير قطاعاتها الإنتاجية :

- الإنتاج الزراعي والحيواني محدوداً، لذا تلجأ البحرين لاستيراد باقي حاجاتها من الخارج.
- زاد الإنتاج السمكي في البحرين
- يرتبط الإنتاج السمكي بمواسم الصيد، ففي الصيف يزيد الإنتاج ويصدر الى السعودية، أما في الشتاء يقل الإنتاج فتلجأ إلى استيراد السمك من الإمارات عُمان.
- تستطيع البحرين رفع طاقتها الإنتاجية من الأسماك من خلال:
- تحديث سُفن الصيد.
- التنسيق بين دول مجلس التعاون لتحقيق الاكتفاء الذاتي وزيادة حجم صادراتها السمكية وتصنيعها .



- طورت البحرين القطاع الصناعي بحيث شكل الدعامة الرئيسية لخطتها لتنويع مصادر الدخل
- لماذا اعتمدت البحرين على النفط والغاز الطبيعي كركيزة أساسية لبناء اقتصادها الحديث ؟

1- مصدري تمويل لإقامة مشروعات اقتصادية وصناعية

2- مصدري رئيسيين في توليد الطاقة.

- بماذا وضفت مملكة البحرين رؤوس الأموال الضخمة التي وفرتها إيرادات النفط ؟ انشاء

• صناعات تصديرية كبرى

• صناعة إحلال الواردات

- ماهي الصناعات التصديرية وإحلال واردات :

الصناعات التصديرية	صناعة إحلال واردات
<ul style="list-style-type: none"> • صناعة تكرير النفط وتسييل الغاز الطبيعي • صناعة الألمنيوم • صناعة البتروكيماويات • الصناعات الهندسية (بناء السفن وإصلاحه) 	<ul style="list-style-type: none"> المواد الغذائية -المشروبات الغازية -المياه المعدنية - تقطير المياه مواد البناء -الجلود -النسيج - الأثاث -منتجات الأخشاب -الورق -الزجاج -الخزف

- اذكر مميزات وعيوب الصناعات التصديرية وإحلال واردات :

الصناعات	المميزات	المشكلات
الصناعات التصديرية	ضخامة رؤوس الأموال المستثمرة فيها.	البُعد عن الأسواق المستهلكة مما يزيد في تكاليف الشحن والتأمين.
	تُشغّل أعداد كبيرة من القوى العاملة.	المنافسة الشديدة من قبل الشركات الموجودة في العالم.
	تشارك الحكومة في ملكيتها، أو بعضها تابع لشركات خارجية.	الرسوم الجمركية المرتفعة التي تفرضها بعض الدول المستقبلية.
	وفرة الإنتاج.	تقلبات الأسعار في الأسواق العالمية.
	غالبية منتجاتها من المواد الأولية والمواد الوسيطة.	التكاليف الباهظة للمواد الأولية المستوردة.
صناعات إحلال واردات	صغر حجم رؤوس الأموال المستثمرة فيها.	اعتمادها على الخارج في تأمين المواد الأولية والمعدات
	قلة القوى العاملة، والتي لا تزيد في معظمها على ٥٠ عاملاً.	قلة تنوعها في الأسواق الداخلية.
	ملكيتها الخاصة (أفراد).	عدد كبير من المؤسسات تنتج أنواعاً متشابهة من السلع.
	صغر حجم إنتاجها.	التنافس بين منتجاتها في الأسواق الداخلية.
	سلع مُعدّة للاستهلاك المباشر.	منافسة الصناعات المستوردة المماثلة.

- اذكر الحوافز التي قدمتها الحكومة لتنمية القطاع الصناعي في مملكة البحرين :

- أنشأت المناطق الصناعية، كميناء سلمان وشمال سترّة ومنطقة جنوب الحد
- وفرت مستلزمات البنية التحتية كافة
- أتاحت لأصحاب المشاريع الصناعية فرصة الحصول على قطعة أرض بأجر رمزي (قليل) لإنشاء المصنع
- أصدرت قوانين لحماية الصناعة الوطنية ودعمها :
- 1- بفرض الرسوم الجمركية على السلع المستوردة المماثلة للسلع المُنتجة محلياً
- 2- أعفت من الرسوم الجمركية المعدات الرأسمالية والمواد الأولية التي تحتاج إليها صناعاتها.
- أعطت الأفضلية للمنتجات المحلية عند تنفيذ مشاريعها
- أعفت المصانع من الضرائب المفروضة على الأرباح
- قدّمت القروض للقطاع الصناعي من خلال المؤسسات المصرفية

- نتائج للحوافز التي قدمتها مملكة البحرين لتطوير القطاع الصناعي :
- شجعت الحوافز المستثمرين المحليين والأجانب على الاستثمار في القطاع الصناعي
- القوانين سمحت للمستثمرين الأجانب بإنشاء مؤسسات صناعية على أرضها.
- تنويع القاعدة الإنتاجية للاقتصاد الوطني.
- توفير فرص عمل للمواطنين.

ارتفعت نسبة مساهمة هذا القطاع إلى 9% من الناتج المحلي الإجمالي.

طرق المواصلات		
شبكة الطرق البرية		
الجسور	الطرق الداخلية	
<p>هي التي تربط الجزيرة الأم بالجزر المجاورة وبالمملكة العربية السعودية، حيث تربط المنامة :</p> <p>➤ من جهة الشرق بالبحر المحرق تربطها 3 جسور :</p> <ul style="list-style-type: none"> • جسر الشيخ حمد • جسر لشيخ عيسى • جسر الشيخ خليفة. <p>➤ من جهة الجنوب بستره يربطها بجسر ستره</p> <p>➤ من جهة الغرب بالسعودية يربطها بجسر الملك فهد الذي يمر بجزيرة ام النعسان</p>	تنقسم الطرق الداخلية إلى 3 أقسام	
	الطرق السريعة	الطرق الداخلية الفرعية (الخدمية)
	<p>وهذه الطرق تربط بين المدن أو تحيط بها مثل :</p> <ul style="list-style-type: none"> • شارع الشيخ خليفة بن سلمان • شارع الشيخ عيسى بن سلمان • شارع الملك فيصل. 	<ul style="list-style-type: none"> • تتفرع من الشوارع إلى داخل الأحياء السكنية والتجارية • تربط أجزاء المدن الداخلية بعضها • تضيق في المناطق القديمة وتتسع في الحديثة • تكون ضيقة في الأحياء القديمة ومتسعة في الأحياء الحديثة. • أحيانا تكون الطرق الترابية
شبكة المواصلات البحرية		
<ul style="list-style-type: none"> • ميناء المنامة الصغير كانت البحرين قديماً تعتمد في تجارتها الخارجية عليه. • ميناء سلمان عام 1985 تم بناءه بعد النهضة التي شهدتها البحرين إثر اكتشاف النفط • شهد منذ السبعينات تطويراً من حيث التوسيع والتجهيز بالحواريات وتأهيل العاملين فيه في الملاحة وفنون إدارة الموانئ، وحوله منطقة تضم العديد من المصانع. • ميناء ستره لتصدير النفط. • ميناء ألبا لاستيراد الأمونيا وتصدير منتجات الألومنيوم. • ميناء خليفة بن سلمان جنوب شرق الحد 		
شبكة الخطوط الجوية		
<ul style="list-style-type: none"> • كان مطار البحرين الدولي قبل السبعينات محطة عبور وكانت نسبة المارين عبره 90% من جملة الركاب. • بعد النهضة الاقتصادية، ارتفعت نسبة القادمين والمغادرين إلى 83% من جملة الركاب • لمواكبة التطور تم توسيع المطار إلى حوالي 10 ملايين مسافر سنوياً. • تمتلك مملكة البحرين شركة طيران الخليج. 		
الاتصالات		
شبكة الاتصالات السلكية واللاسلكية		
<ul style="list-style-type: none"> • تعتبر مملكة البحرين الرائدة في المنطقة في إدخال نظم الاتصال السلكي واللاسلكي تعمل بحسب النظام الرقمي • وجميع الاتصالات المحلية والدولية تتم من خلال محطة تتصل بالأقمار الاصطناعية • تصدر مملكة البحرين عدة صحف ومجلات باللغة العربية وبلغات أجنبية 		

- تحولت البحرين إلى مركز مالي متطور على مستوى المنطقة والعالم بفضل:
- الجهود المبذولة من مملكة البحرين
- وتوافر العوامل الجغرافية والاقتصادية الملائمة

القطاع المالي	
قبل السبعينات	بعد السبعينات
<ul style="list-style-type: none"> • عدد المصارف قليلا وظيفتها : • ايداع الأموال • تمويل بعض عمليات الاستيراد والتصدير 	<ul style="list-style-type: none"> • ازداد عدد المصارف الوطنية والأجنبية • بسبب اغرائها بارتفاع أسعار النفط وفوائض مالية ضخمة
ومع ازدياد النشاط المصرفي نشأت مؤسسة نقد البحرين 1973 وتحولت إلى مصرف البحرين المركزي عام 2006م	

- ماهي مهام مصرف البحرين المركزي :
- رسم السياسات النقدية والائتمانية وتنفيذها من خلال تنظيم القطاع المالي.
- ممارسة الرقابة على البنوك وشركات الاستثمار
- إصدار الأوراق المالية
- توفير بيئة أعمال متطورة في المنتجات والأدوات المالية
- ما العوامل التي ساعدت في تطوير القطاع المصرفي :
- موقع البحرين المتميز في وسط منطقة الخليج، التي تتمتع بفوائض مالية
- تمتع المنطقة بموقع زمني مناسب ما بين وقت عمل البورصات الأوروبية و بورصات الشرق الأقصى.
- سهولة الانتقال والاتصال بين المنطقة والعالم الخارجي
- البحرين واحدة من المحطات الرئيسية لحركة المواصلات الجوية والبحرية العالمية
- تسهيل عملية التحويل من المنطقة وإليها
- عدم فرض أي نوع من الضرائب
- توفر الكوادر الفنية المدربة
- هل يشكل القطاع المصرفي دعامة للاقتصاد الوطني؟ نعم :
- اجتذب الكثير من المؤسسات المصرفية الأجنبية لإنشاء مكاتب لها في المملكة.
- تعزز النمو في هذا القطاع لارتفاع أسعار النفط، وما ترتب عليها من زيادة في السيولة
- دور المصارف إعادة استثمار فائض الإيرادات النفطية والاستفادة من فرص تمويل الاقتصاد الوطني.

ارتفعت نسبة مساهمة هذا القطاع في الناتج المحلي الإجمالي من 1,4% إلى 4,7% عام 2010م

- اذكر الإجراءات التي قامت بها مملكة البحرين لتنمية القطاع السياحي ؟
- أنشأت المملكة عددًا من الإدارات التي تختص بالسياحة والآثار مهامها :
 - التنقيب عن الآثار
 - ترميم والاعتناء بالمناطق الأثرية
- وضع الخطط والمشاريع السياحية.
- تعريف العالم الخارجي بالأماكن السياحية
- تم إعداد عمالة وطنية متخصصة في ميدان السياحة.
- شجعت وكالات السياحة والسفر الأجنبية على فتح مكاتب لها في البحرين

المقومات السياحية في مملكة البحرين		
معطيات طبيعية	معطيات تاريخية	معطيات حديثة
<ul style="list-style-type: none"> • الموقع الجغرافي بين أقاليم متباينة حضارياً وثقافياً وطبيعياً • بالطبيعة الجزرية وطول سواحلها وتعدد اشكالها : <ol style="list-style-type: none"> 1. سواحل رملية مثل بلاج الجزائر 2. والسواحل الجرفية مثل منتجع جزر حوار • صغر مساحة البلاد التي تمكن الزائر من مشاهدتها في فترة قصيرة وبكلفة قليلة. • المناخ الشتوي الربيعي الذي يساعد على الترحال والسفر والتخييم 	<ul style="list-style-type: none"> • التاريخية • قلعة البحرين • قلعة عراد • قلعة الشيخ سلمان بن أحمد الفاتح • مقابر عالي • مسجد الخميس • معبد باربار • بيت الشيخ عيسى بن علي آل خليفة • بيت الجسرة • بيت سيادي 	<ul style="list-style-type: none"> • المتحف الوطني الذي أفتتح عام 1988م. • بيت القرآن الذي أفتتح عام 1990م • مركز الصناعات اليدوية • قاعات المعارض والمؤتمرات • جسر الملك فهد • الأسواق التجارية كمجمع السيف • منتزه عين عذاري ومنتزه عين قصاري. • الخدمات الفندقية والمطاعم الفخمة والشقق والمراكز المالية والبنوك، إضافة إلى شبكة الاتصالات السلكية واللاسلكية وشبكة المواصلات .

هل للقطاع السياحي دور في تنشيط القطاعات الاقتصادية ؟

نعم له دور في تنشيط العديد من القطاعات الاقتصادية عن طريق :

- ارتفع عدد السياح من مختلف الجنسيات
- تساهم نفقات هؤلاء السياح في تنشيط قطاع النقل والاتصالات والتجارة
- نالت مملكة البحرين المرتبة الثالثة عربياً والخامسة والخمسين دولياً في مجال التنافسية السياحية
- تم اختيار المنامة عاصمة السياحة العربية عام 2013م، والسياحة الآسيوية عام 2014م.

➤ ما هي نتائج التنمية الاقتصادية الشاملة ؟

1. تنوع السلع المصدرة والمستوردة
2. اتساع حركة التبادل التجاري حتى أصبحت تشمل مختلف دول العالم.

➤ اذكر عوامل ازدياد الأهمية التجارية في البحرين ؟

1. تعدد خطط انماء قطاعات الاقتصاد البحريني
2. التقاليد التجارية العريقة .
3. تغير نمط العيش و تحسن ظروفه.
4. أضحى كل السكان يعيشون في مدن عصرية .

➤ نتائج العوامل على التجارة في البحرين

1. صبحت مملكة البحرين مركز استقطاب لمختلف رجال الأعمال.
2. احتلت مركزاً تجارياً مميزاً بين دول المنطقة .
3. حصلت البحرين على المرتبة الأولى عربياً والعاشر عالمياً من حيث مؤشر الحرية الاقتصادية حيث تنعدم :
 - الضرائب على الأرباح .
 - الحواجز غير الجمركية (الإدارية واللوجستية).

التجارة الخارجية

الواردات	الصادرات
تتألف الواردات من سلع نفطية و سلع غير نفطية السلع النفطية : حيث تستورد مملكة البحرين السلع النفطية من المملكة العربية السعودية، وهي تحتل المرتبة الأولى بين إجمال واردات البحرين. السلع الغير نفطية : تحتل المرتبة الأولى فيها المواد الغذائية والتجهيزات الصناعية ومعدات النقل. الدول التي يتم الاستيراد منها : • دول الخليج العربي • دول أوروبا الغربية • الصين • البرازيل • والولايات المتحدة الأمريكية. وتزيد نسبة الواردات غير النفطية من هذه الدول عن 70%.	أولا النفط : يحتل النفط المرتبة الأولى في الصادرات نسبته الصادرات النفطية تدنت من 88% الى 77% عام 2012م السبب : بفضل سياسة تنويع مصادر الدخل وإلى عدم الاعتماد على النفط وحده ثانيا : الألمنيوم ثالثا : السلع البتروكيماوية رابعا : الحديد خامسا : الملابس الدول التي يصدر إليها : تتوجه الصادرات إلى أكثر من 60 دولة بالاخص الى : • دول مجلس التعاون • دول آسيا الجنوبية • الأمريكيتين (الشمالية والجنوبية) • جنوب شرق آسيا

➤ الميزان التجاري : هو الفرق بين قيمة صادرات و واردات البلد وبناء على ذلك :

- ويعتبر الميزان فائضاً إذا كانت قيمة صادراته أكبر من قيمة وارداته
- ويكون هناك عجز إذا كانت قيمة وارداته أكبر من قيمة صادراته
- ويكون متساويا إذا تساوت قيمة الواردات بالصادرات

ما هو الميزان الذي يمثل الميزان التجاري الى البحرين ؟

حقق الميزان التجاري البحريني فائضاً مستمراً

ماهي أسباب فائض الميزان التجاري في البحرين ؟

- ارتفاع حجم إجمالي الصادرات غير النفطية وقيمتها الذي
- يشتمل على الألمنيوم والحديد والملابس والمنتجات الكيماوية.
- ارتفاع حجم الصادرات النفطية وقيمتها

أولاً - ضع دائرة حول الحرف الدال على الإجابة الصحيحة من بين البدائل الآتية:

1- القطاع الذي يستهلك أكبر كمية من الطاقة الكهربائية في مملكة البحرين هو:

- أ- الزراعي. ب- السياحي. ج- المنزلي. د- الصناعي.

2- الوزارة التي تشرف على التعليم في مملكة البحرين هي:

- أ- وزارة الداخلية. ب- وزارة الإسكان. ج- وزارة التنمية الاجتماعية. د- وزارة التربية والتعليم.

3- من أمثلة صناعة إحلال الواردات في مملكة البحرين هي:

- أ- البتروكيماويات. ب- المواد الغذائية. ج- تسيل الغاز الطبيعي. د- تكرير النفط.

4- تهب على مملكة البحرين في فصل الصيف رياح شمالية تحمل كميات كبيرة من الغبار والأتربة تسمى:

- أ- البارح. ب- الخماسين. ج- الكوس. د- المتوسطية.

5- يُعد شارع الشيخ خليفة بن سلمان في مملكة البحرين من الطرق:

- أ- الداخلية الفرعية. ب- الداخلية الرئيسية. ج- الإقليمية. د- السريعة.

6- استفادت مملكة البحرين من المياه المعالجة لري الأراضي الزراعية من خلال محطة:

- أ- أبو جرجور. ب- نوبلي. ج- الدور. د- المنامة.

ثانياً - ضع علامة (✓) أمام العبارات الصحيحة وعلامة (✗) أمام العبارات الخاطئة:

1 - () يعود فائض الميزان التجاري البحريني إلى ارتفاع حجم وقيمة الصادرات النفطية والغير النفطية.

2 - () يهدف نظام المحافظات في مملكة البحرين إلى تدعيم الأنشطة الاجتماعية وتفعيلها.

3 - () يعود النمو السكاني للبحرينيين أساساً إلى الهجرة الوافدة.

4 - () متل مستشفى الملك حمد الجامعي المحدث عام ٢٠١٣م نقلة نوعية في مجال تعميم الخدمات الصحية.

5 - () يمتاز السهل الشمالي بوجود مساحات واسعة من التربة الصالحة للزراعة.

6 - () الميناء الذي أنشأته مملكة البحرين لاستيراد الأمونيا وتصدير منتجات الألمنيوم هو ميناء سلمان.

1- التوسع في المشاريع الإسكانية في مملكة البحرين.

-
-

2 - نمو القطاع السياحي في مملكة البحرين نموًا ملحوظًا في السنوات الأخيرة.

-
-

3 - ازدياد أهمية البحرين التجارية، واحتلالها مركزًا تجاريًا مميزًا بين دول المنطقة.

-
-

ثانيًا - وضح ما يأتي:

1- نتائج العناية بقطاع التعليم والارتقاء بمستواه في مملكة البحرين.

-
-

2- التدابير التي اتخذتها مملكة البحرين لتطوير البنية التحتية اللازمة لإنجاح خططها التنموية الاقتصادية.

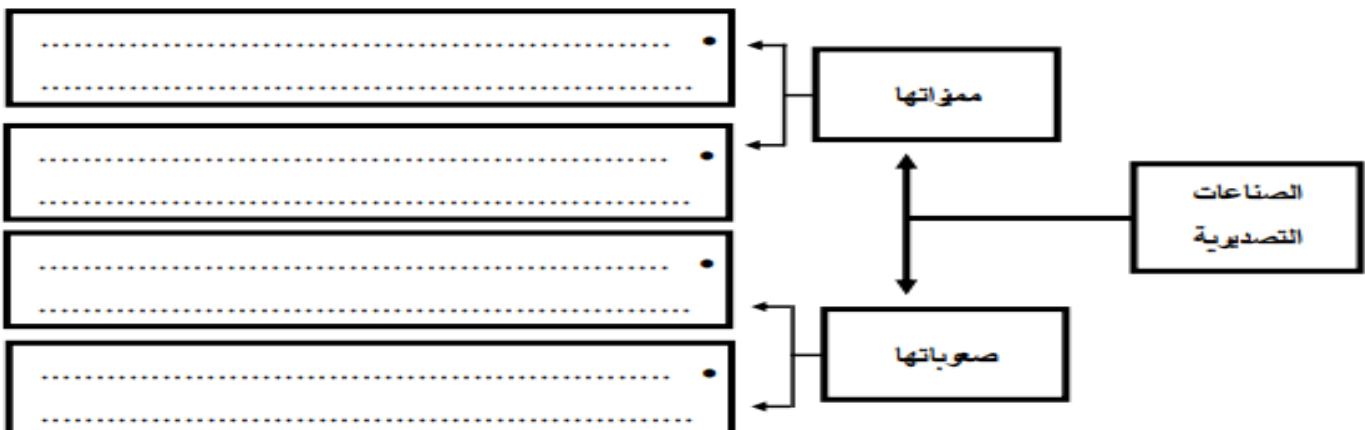
-
-

3 - بين مهام مصرف البحرين المركزي.

-
-

السؤال الثالث:

أولاً - أكمل المخطط الآتي، بكتابة مميزات الصناعات التصديرية والصعوبات التي تواجهها في مملكة البحرين.

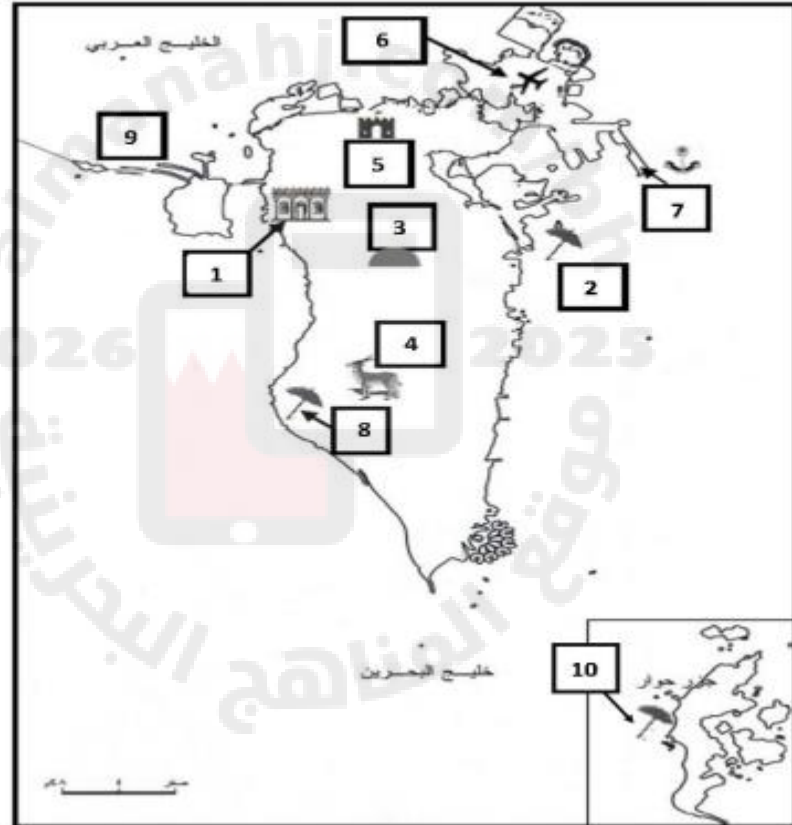


ثانيًا: صنّف المشاكل والجهود التالية في القطاعات الاقتصادية حسب معطيات الجدول الذي يليها:

- إنشاء مشروع الهمة. - ندرة مياه الري. - سلالات تقليدية ضعيفة. - إنشاء شبكات تصريف المياه. - ندرة المراعي الطبيعية. - الرعاية البيطرية. - الاستفادة من المياه المعالجة. - ملوحة التربة.

القطاعات الاقتصادية	المشاكل	جهود المملكة
الزراعي
الحيواني

ثانيًا - أكتب أمام كل من المعالم السياحية و طرق و وسائل المواصلات الواردة في الجدول الرقم الدال عليها وفقًا لموضع الأرقام المبيّنة على خريطة مملكة البحرين.



الرقم المناسب	معالم سياحية و طرق مواصلات	الرقم المناسب	معالم سياحية و طرق مواصلات
	منتجع جزر حوار		محمية العرين
	جسر الملك فهد		بلاج الجزائر
	بيت الجسرة		مطار البحرين الدولي
	ميناء خليفة بن سلمان		منتجع البندر
	مقابر عالي الأثرية		قلعة البحرين

السؤال الأول: (24 درجة موزعة كما يأتي)

12 علامة لكل نقطة علامتان

أولاً - ضع دائرة حول الحرف الدال على الإجابة الصحيحة من بين البدائل الآتية:

1- ج - القطاع المنزلي

2- د - وزارة التربية والتعليم

3- ب - المواد الغذائية

4- أ - البارح

5- د - السريعة

6- ب - توبلي

12 علامة لكل نقطة علامتان

ثانياً - ضع علامة (✓) أمام العبارات الصحيحة وعلامة (✗) أمام العبارات الخاطئة:

1 - (✓)

2 - (✓)

3 - (✗)

4 - (✓)

5 - (✓)

6 - (✗)

أولاً - علل ما يأتي:

يكتفى بنقطتين

1- التوسع في المشاريع الإسكانية في مملكة البحرين.

• النمو السكاني الذي تشهده البلاد .

• الكثافة السكانية المرتفعة في بعض مناطق البحرين خصوصاً في مدينتي المنامة والمحرق .

يكتفى بنقطتين

2 - نمو القطاع السياحي في مملكة البحرين نموًا ملحوظًا في السنوات الأخيرة.

• أنشأت المملكة عددًا من الإدارات تختص بالسياحة والآثار .

• وضع الخطط والمشاريع السياحية وتعريف العالم الخارجي بالإمكانيات السياحية.

• أعدت المملكة عمالة وطنية متخصصة في ميدان السياحة.

• شجعت وكالات السفر والسياحة الأجنبية على فتح مكاتب لها في البلاد.

- تعدد خطط إنماء قطاعات الاقتصاد البحريني .
- التقاليد التجارية العريقة .
- تغير نمط العيش وتحسن ظروفه ، حيث يعيش السكان في مدن عصرية .
- احتلال البحرين مرتبة متقدمة في مؤشر الحرية الاقتصادية (عدم فرض ضرائب على الأرباح - انعدام الحواجز غير الجمركية ، أي الإدارية واللوجستية) .

ثانياً - وضح ما يأتي:

يُكتفى بنقطتين

1- نتائج العناية بقطاع التعليم والارتقاء بمستواه في مملكة البحرين.

- ارتفاع نصيب الطالب الواحد من مجموع المصاريف التعليمية .
- انخفاض نسبة الأمية بين البحرينيين الذين تبلغ أعمارهم 15 سنة فما فوق .
- ارتفاع عدد المدرسين والطلاب وحاملى الشهادات العليا بوتيرة متسارعة .
- نالت مملكة البحرين المرتبة الأولى عربياً في مجال توفير التعليم للجميع وأصبحت تصنف بين الدول ذات المؤشر العالي في التعليم بحسب اليونسكو

2- التدابير التي اتخذتها مملكة البحرين لتطوير البنية التحتية اللازمة لإنجاح خططها التنموية الاقتصادية.

يُكتفى بنقطتين

- أنشأت المناطق الصناعية .
- مد شبكات المياه والكهرباء والمجاري إلى مختلف البلاد .
- جعلت شبكات الاتصالات السلكية واللاسلكية حديثة لتسيير عملية الاتصال بين المناطق ومع العالم الخارجي .
- طورت شبكة المواصلات البرية والجوية لتنمية الحركة التجارية والسياحية فيها .
- إرساء البنية التحتية للبلاد لتحسين جميع الخدمات العامة وتطويرها ولا سيما الخدمات الصحية والتعليمية والإسكانية

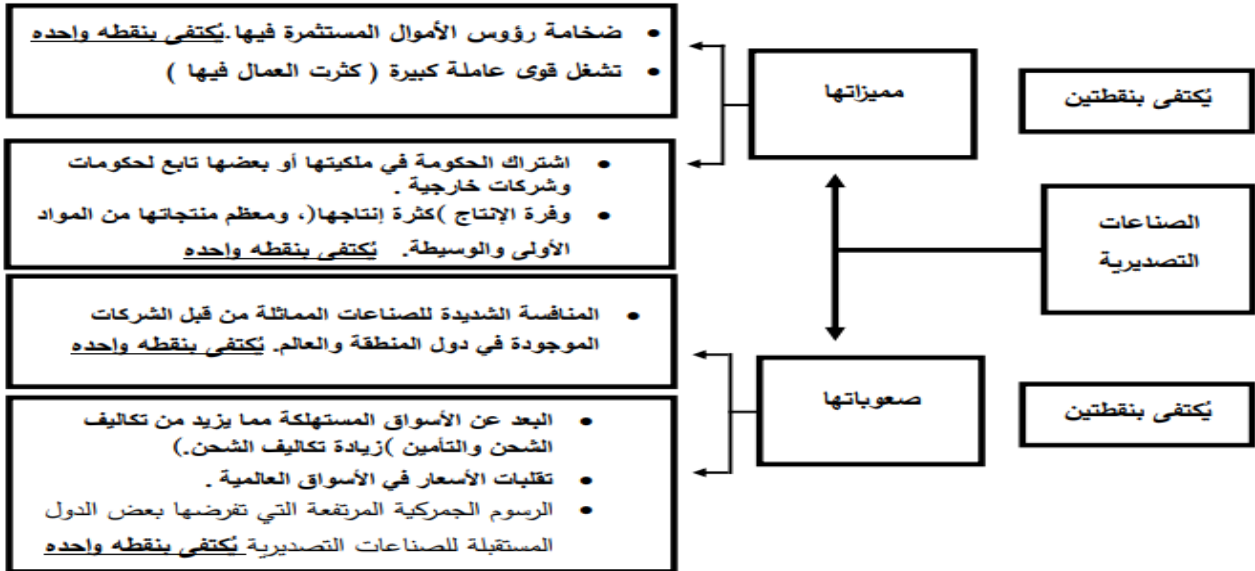
3 - بين مهام مصرف البحرين المركزي.

يُكتفى بنقطتين

- رسم السياسة النقدية والائتمانية وتنفيذها من خلال تنظيم القطاع المالي .
- ممارسة الرقابة على البنوك وشركات الاستثمار .
- إصدار الأوراق المالية
- توفير بيئة أعمال متطورة من أجل رفع مقدرة البحرين التنافسية إقليمياً وعالمياً بمزيد من الابتكار والتطوير في المنتجات والأدوات المالية

أولاً - أكمل المخطط الآتي، بكتابة مميزات الصناعات التصديرية والصعوبات التي تواجهها في مملكة البحرين.

4 علامات لكل نقطة علامة



ثانياً: صنّف المشاكل والجهود التالية في القطاعات الاقتصادية حسب معطيات الجدول الذي يليها: 16 علامة لكل نقطة علامتان

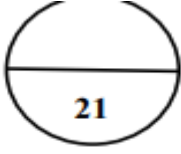
- إنشاء مشروع الهمة. - ندرة مياه الري. - سلالات تقليدية ضعيفة. - إنشاء شبكات تصريف المياه. - ندرة المراعي الطبيعية. - الرعاية البيطرية. - الاستفادة من المياه المعالجة. - ملوحة التربة.

القطاعات الاقتصادية	المشاكل	جهود المملكة
الزراعي	<ul style="list-style-type: none"> ندرة مياه الري . ملوحة التربة . 	<ul style="list-style-type: none"> إنشاء شبكات تصريف المياه . الاستفادة من المياه المعالجة .
الحيواني	<ul style="list-style-type: none"> سلالات تقليدية ضعيفة . ندرة المراعي الطبيعية . 	<ul style="list-style-type: none"> إنشاء مشروع الهمة. الرعاية البيطرية .

ثانياً - أكتب أمام كل من المعالم السياحية و طرق و وسائل المواصلات الواردة في الجدول الرقم الدال عليها وفقاً لموضع الأرقام المبينة على خريطة مملكة البحرين.

10 علامات لكل نقطة علامة

الرقم المناسب	معالم سياحية و طرق مواصلات	الرقم المناسب	معالم سياحية و طرق مواصلات
10	منتجع جزر حوار	4	محمية العرين
9	جسر الملك فهد	8	بلاج الجزائر
1	بيت الجسرة	6	مطار البحرين الدولي
7	ميناء خليفة بن سلمان	2	منتجع البندر
3	مقابر عالي الأثرية	5	قلعة البحرين



السؤال الأول:



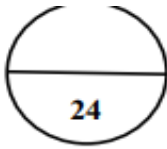
أولاً- اختر الإجابة الصحيحة لكل عبارة من العبارات الآتية:

- 1- يقع المشروع النموذجي لتربية الأغنام والماعز في مملكة البحرين في منطقة:
أ- الهملة.
ب- عذاري.
ج- البحير.
د- رأس حيان.
- 2- تهب على مملكة البحرين رياح جنوبية شرقية تزيد من نسبة الرطوبة ودرجات الحرارة فتسمى رياح:
أ- البارح.
ب- الطوز.
ج- الكوس.
د- الخماسين.
- 3- القطاع الذي يشكل دعامة الاقتصاد الوطني لتمويله المشاريع الإنمائية في مملكة البحرين:
أ- التجاري.
ب- المصرفي.
ج- الصناعي.
د- الزراعي.
- 4- انضمت مملكة البحرين عام 1970م إلى منظمة:
أ- اليونسكو.
ب- الأمم المتحدة.
ج- الأوابك.
د- يونيسيف.
- 5- تستورد مملكة البحرين السلع النفطية من:
أ- المملكة العربية السعودية.
ب- الإمارات العربية المتحدة.
ج- الكويت.
د- عمان.
- 6- الطرق التي تحيط بالأحياء السكنية والتجارية وتربط أجزاء المدن الداخلية بعضها ببعض هي:
أ- السريعة.
ب- الخارجية.
ج- الداخلية الفرعية.
د- الداخلية الرئيسية.
- 7- استطاعت مملكة البحرين رفع طاقتها الإنتاجية من الأسماك من خلال:
أ- تحديث سفن الصيد.
ب- رفع الرسوم المالية.
ج- زيادة حجم الواردات.
د- زيادة الأيدي العاملة.

ثانياً- ضع علامة (√) أمام العبارة الصحيحة وعلامة (×) أمام العبارة الخطأ مع تصحيح الخطأ في السطر الذي يليه:



- 1- بدأ التعليم النظامي في البحرين عام (1919م) مع بداية القرن العشرين ().
- 2- تنخفض الكثافة السكانية في مملكة البحرين في المحافظة الشمالية ().
- 3- يمتد السهل الشمالي في مملكة البحرين من المنامة شرقاً إلى البديع غرباً ().
- 4- تستمد مملكة البحرين احتياجاتها المائية من المياه غير التقليدية ممثلة بالمياه الجوفية ().
- 5- قدمت حكومة مملكة البحرين للأسر البحرينية تسهيلات إسكانية شملت القروض الميسرة والطويلة الأمد ().



المؤال الثاني:

أولاً- علل ما يأتي:



1- الفائض في الميزان التجاري في مملكة البحرين.

.....

.....

2- تطور القطاع المصرفي في مملكة البحرين.

.....

.....

3- نمو القطاع السياحي في مملكة البحرين نموًا ملحوظًا في السنوات الأخيرة.

.....

.....

ثانيًا- وضح ما يأتي:



1- الخدمات التعليمية التي وفرتها حكومة البحرين من أجل مجتمع متعلم ومنتج.

.....

.....

2- التدابير التي اتخذتها مملكة البحرين على صعيد البنية التحتية لإنجاح خططها التنموية.

.....

.....

3- دور مملكة البحرين في المحافظة على الثروة المائية.

.....

.....

14

أكمل الجدولين الذي أمامك بما يناسبه:



أولاً- أبرز الجهود التي قامت بها مملكة البحرين لتطوير القطاعات الزراعية والمواصلات البحرية والسمكية:

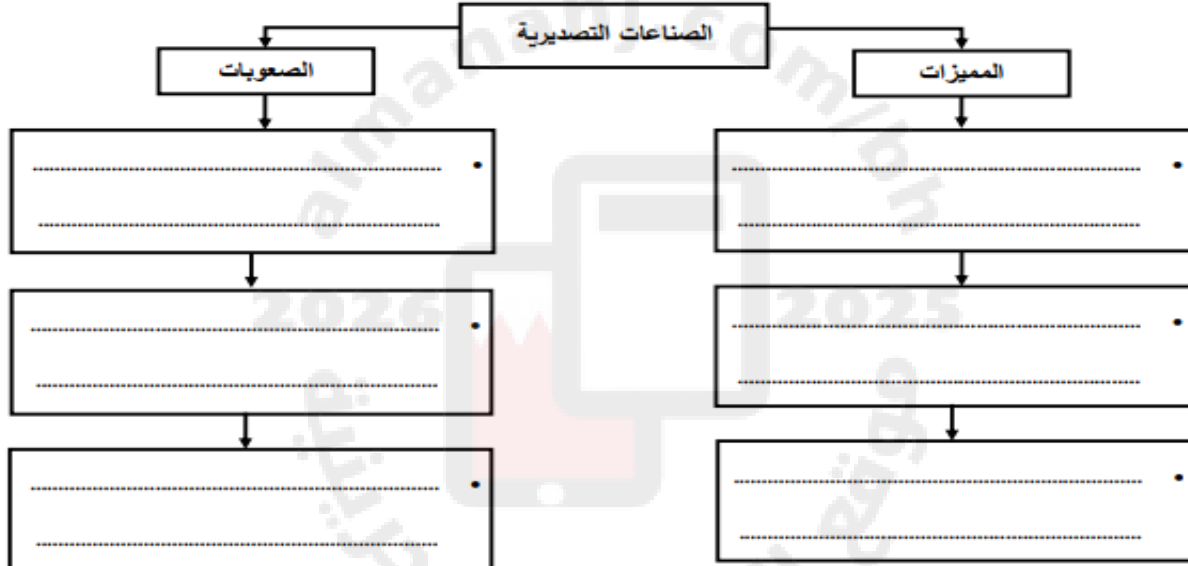
القطاع	جهود مملكة البحرين في تطويره
الزراعي
المواصلات البحرية
السمكي

المجالات	الإنجازات
الرعاية
العلاجية
الرعاية
الوقائية

السؤال الرابع:

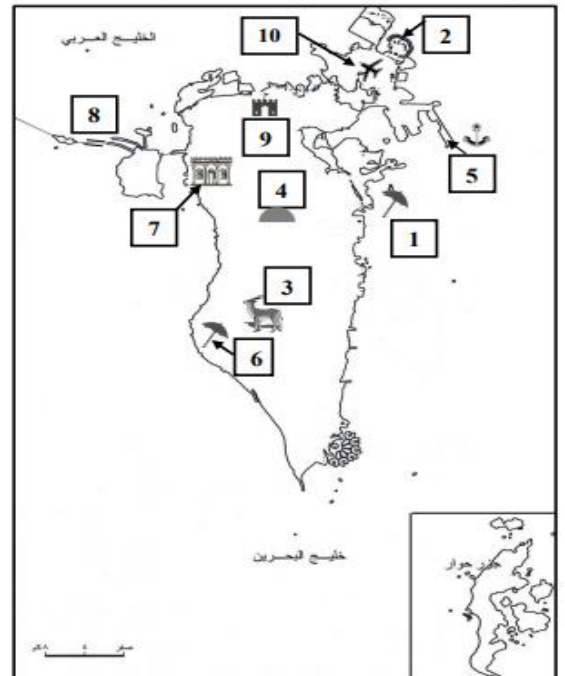
أولًا- أكمل الشكل البياني الذي أمامك بما يناسبه:

خلال دراستك لموضوع " واقع الصناعة في مملكة البحرين " أكمل المخطط الآتي بكتابة أبرز مميزات وصعوبات الصناعات التصديرية:



ثانيًا- على خريطة البحرين الصماء مجموعة من الأرقام تمثل عددًا من الظواهر الجغرافية، اكتب ما تمثله هذه الأرقام تبعًا لموقعها على الخريطة ووفق المعطيات بالجدول المرفق.

الرقم المناسب	الظاهرة الجغرافية	الرقم المناسب	الظاهرة الجغرافية
1	2
3	4
5	6
7	8
9	10



السؤال الأول: (21 علامة موزعة كما يأتي)

أولاً- اختر الإجابة الصحيحة من بين الإجابات الخاطئة فيما يأتي: **14 علامات لكل نقطة علامتان**

- 1- أ- الهمة.
- 2- ج- الكوس.
- 3- ب- المصرفي.
- 4- ج- الأوابك.
- 5- أ- المملكة العربية السعودية.
- 6- د- الداخلية الرئيسية.
- 7- ج- تحديث سفن الصيد.

ثانياً- ضع علامة (√) أمام العبارة الصحيحة وعلامة (×) أمام العبارة الخطأ مع تصحيح الخطأ في السطر الذي يليه:

- 1- (√) .
- 2- (×) الجنوبية.
- 3- (√) .
- 4- (×) المحلاة / مياه الصرف الصحي.
- 5- (√) .

السؤال الثاني: (24 علامة لكل نقطة علامتان)

أولاً- علل ما يأتي:

يُكتفى بنقطتين

- 1- الفائض في الميزان التجاري في مملكة البحرين.
- ارتفاع حجم إجمالي الصادرات غير النفطية وقيمتها.
- ارتفاع حجم الصادرات النفطية وقيمتها.

يُكتفى بنقطتين

- 2- تطور القطاع المصرفي في مملكة البحرين.
- موقع البحرين المتميز في وسط منطقة الخليج.
- تمتع المنطقة بموقع زمني مناسب من حيث وقوعها ما بين وقت عمل البورصات الأوروبية وبورصات الشرق الأقصى.
- سهولة الانتقال والاتصال بين المنطقة والعالم الخارجي فالبحرين.
- تسهيل عملية التحويل الخارجي من المنطقة وإليها.
- عدم فرض أي نوع من الضرائب سواء كانت ضرائب مشروعات أو ضرائب دخل.
- توفر الكوادر الفنية المدربة التي يمكنها تلبية طلبات المؤسسات والمصارف العاملة في البحرين.

يُكتفى بنقطتين

- 3- نمو القطاع السياحي في مملكة البحرين نموًا ملحوظًا في السنوات الأخيرة.

- أنشأت المملكة عددًا من الإدارات تختص بالسياحة والآثار.
- وضع الخطط والمشاريع السياحية وتعريف العالم الخارجي بالإمكانيات السياحية.
- أعدت المملكة عمالة وطنية متخصصة في ميدان السياحة.
- شجعت وكالات السفر والسياحة الأجنبية على فتح مكاتب لها في البلاد.

يكتفى بنقطتين

- 1- الخدمات التعليمية التي وفرتها حكومة البحرين من أجل مجتمع متعلم ومنتج.
 - جعلت التعليم الأساسي إلزاميًا ومجانًا في جميع مراحل التعليم في المدارس الحكومية.
 - زادت عدد المدارس للجنسين لتشمل مختلف المحافظات.
 - جهزت المدارس بالمختبرات العملية والمكتبات والملاعب والصالات الرياضية.
 - جعلت التعليم استثماريًا.
 - وضع الخطط التربوية الحديثة.
 - اهتمت بنوعية التعليم وتحديث المناهج الدراسية وتطويرها.
 - في المرحلة الثانوية تم تطبيق نظام توحيد المسارات الأكاديمية، يتيح للطلبة دراسة عدة تخصصات تناسب قدراتهم وورقياتهم واحتياجات التنمية في المملكة، بالإضافة إلى متطلبات سوق العمل في البلاد.
 - أحدث التعليم الصناعي ثم التلمذة المهنية بحسب التخصصات التي تحتاجها القطاعات الاقتصادية في المملكة.
 - الاهتمام بالقطاع التعليمي مرحلة التعليم العالي.
 - أنشاء جامعة البحرين، كلية العلوم الصحية، معهد البحرين للتدريب بالإضافة إلى عضويتها ضمن جامعة الخليج جامعة الخليج العربي، بالإضافة إلى كلية البوليتكنيك.
 - تقديم المنح والبعثات الدراسية إلى الخارج للطلاب الراغبين في استكمال تحصيلهم العلمي وتطويره، بهدف دعم مسيرة البحث العلمي من دعم التنمية الشاملة في المملكة.

2- التدابير التي اتخذتها مملكة البحرين على صعيد البنية التحتية لإنجاح خططها التنموية.

يكتفى بنقطتين

- أنشأت المناطق الصناعية.
- مد شبكات المياه والكهرباء والمجاري إلى مختلف مناطق البلاد.
- جعلت شبكات الاتصالات السلكية واللاسلكية حديثة لتسيير عملية الاتصال بين المناطق ومع العالم الخارجي.
- طورت شبكة المواصلات البرية والجوية لتنمية الحركة التجارية والسياحية.
- تحسين جميع الخدمات العامة وتطويرها ولا سيما الخدمات الصحية والتعليمية والإسكانية لتنمية موارد البحرين البشرية وزيادة إنتاجها.

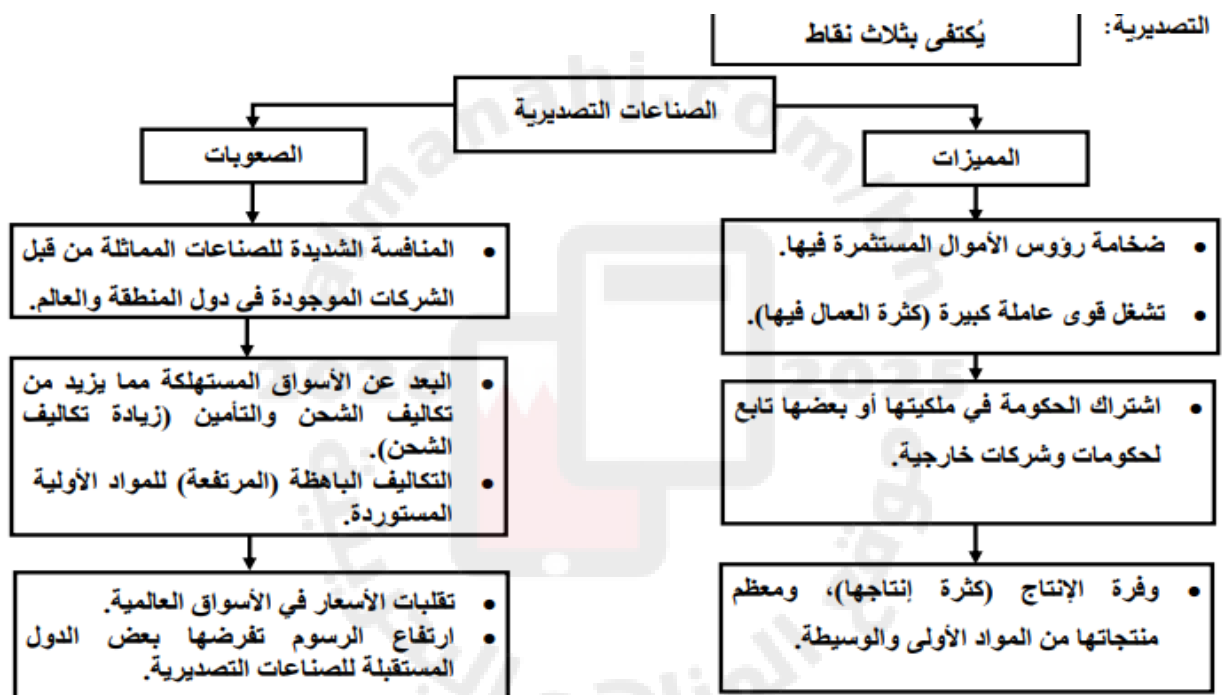
يكتفى بنقطتين

3- دور مملكة البحرين في المحافظة على الثروة المائية.

- رفع مستوى الإنتاج من المياه غير التقليدية. • وضع أطر تشريعية لضبط وتقنين استخدام المياه.
- حملات إعلامية لتوعية بأهمية الثروة المائية وضرورة المحافظة عليها.
- تعميم طرق الري الحديثة للحد من الهدر الحاصل في المياه المستخدمة للزراعة.
- ضرورة انتقاء أنواع من النباتات والأشجار التي لا تحتاج إلى كميات كبيرة من المياه. • (تقبل أي إجابة صحيحة).

القطاع	جهود مملكة البحرين في تطويره
الزراعي	<ul style="list-style-type: none"> • زيادة مساحة الأراضي الزراعية، واستصلاح الأراضي الزراعية من خلال إنشاء شبكات تصريف المياه من الأراضي الزراعية والتغلب على مشكلة ملوحة التربة، ومن خلال الاستفادة من المياه المعالجة بمحطة توبلي في الري. • تقديم لهم القروض الميسرة. • زيادة الإنتاج الزراعي: شجعت الحكومة المزارعين على تطوير إنتاجهم وتطبيق أفضل الوسائل الحديثة. • تقديم مختلف مستلزمات الإنتاج. • تأمين خدمات الوقاية الزراعية ومكافحة الآفات الزراعية حيث تقو بالرش الدوري للحظائر بالمبيدات الحشرية. • الخدمات الإرشادية المختلفة عن طريق الزيارات الميدانية. • أجراء المملكة البحوث الميدانية لإدخال البذور المحسنة في أصناف الخضار، ورفع إنتاجيتها وزيادة مقاومتها للأمراض.
المواصلات البحرية	<ul style="list-style-type: none"> • بناء ميناء سلمان. • تطوير الميناء من حيث التوسيع والتجهيز. • تأهيل العاملين في الميناء في مجال الملاحة وفنون إدارة الموانئ. • أقامت منطقة حرة أنشئت فيها مصانع عديدة لشركات أجنبية. • التركيز في محطات الحاويات.
السمكي	<ul style="list-style-type: none"> • تطوّر بعض موانئ استقبال سفن القطاع التقليدية كفرصة المحرق وسترة، والحد. • قدمت الإعانات المادية للصيادين من خلال توفير مستلزمات الصيد المختلفة. • تقديم القروض الميسرة وطويلة الأمد. • تنظيم دورات تدريبية للصيادين. • تأسيس مشروع رأس حيان لتربية الأحياء البحرية وإجراء البحوث العلمية عليها.

المجالات	الإنجازات
الرعاية العلاجية	<ul style="list-style-type: none"> • تحويل مستشفى السلمانية إلى مجمع طبي وتوسيعه وتجهيزه بأحدث الأدوات والمعدات الطبية. • استحداث أقسام تخصصية داخل المستشفى لمعالجة مختلف الأمراض. • إنشاء عدد من المستشفيات المتخصصة في مجالات الولادة والطب النفسي والعجزة. • وجود عدد من المستشفيات الخاصة التي تسهم في توفير الرعاية العلاجية للمواطنين.
الرعاية الوقائية	<ul style="list-style-type: none"> • مراقبة الأغذية، ومياه الشرب. • مكافحة الأمراض المعدية. • تأمين لقاحات الأطفال المختلفة. • اتباع سياسة نشر الوعي الصحي بين السكان. • أعداد برامج للتثقيف الصحي في الإذاعة والتلفزيون. • إنشاء عدد من المستشفيات المتخصصة في مجالات الولادة والطب النفسي والعجزة. • وجود عدد من المستشفيات الخاصة تسهم في توفير الرعاية العلاجية للمواطنين.



ثانياً- على خريطة البحرين الصماء مجموعة من الأرقام تمثل عدداً من الظواهر الجغرافية، اكتب ما تمثله هذه الأرقام تبعا لموقعها على الخريطة ووفق المعطيات بالجدول المرفق.

الرقم المناسب	الظاهرة الجغرافية	الرقم المناسب	الظاهرة الجغرافية
1	منتجع البندر	2	جزر أمواج
3	محمية العرين	4	مقابر عالي الأثرية
5	ميناء خليفة بن سلمان	6	بلاج الجزائر
7	بيت الجسرة	8	جسر الملك فهد
9	قلعة البحرين	10	مطار البحرين الدولي