

تم تحميل هذا الملف من موقع المناهج البحرينية



* للحصول على أوراق عمل لجميع الصفوف وجميع المواد اضغط هنا

<https://almanahj.com/bh>

* للحصول على أوراق عمل لجميع مواد الصف التاسع اضغط هنا

<https://almanahj.com/bh/9>

* للحصول على جميع أوراق الصف التاسع في مادة اجتماعيات ولجميع الفصول, اضغط هنا

<https://almanahj.com/bh/9social>

* للحصول على أوراق عمل لجميع مواد الصف التاسع في مادة اجتماعيات الخاصة بـ الفصل الأول اضغط هنا

<https://almanahj.com/bh/9social1>

* لتحميل كتب جميع المواد في جميع الفصول للـ الصف التاسع اضغط هنا

<https://almanahj.com/bh/grade9>

[almanahjbhbot/me.t//:https](https://t.me/almanahjbhbot)

للتحدث إلى بوت على تلغرام: اضغط هنا

مملكة البحرين

وزارة التربية والتعليم

إدارة الامتحانات / قسم الامتحانات

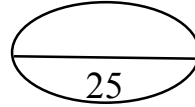
امتحان الشهادة الإعدادية العامة والدينية للعام الدراسي 2017/2018م

الفصل الدراسي الأول

الزمن: ساعتان

المادة: المواد الاجتماعية (الجغرافيا/التربية للمواطنة)

10



القسم الأول: الجغرافيا

السؤال الأول:

أولاً- ضع دائرة حول الحرف الدال على الإجابة الصحيحة من بين البدائل الآتية:

- 1- الطرق التي تحيط بالأحياء السكنية والتجارية وتربط أجزاء المدن الداخلية في مملكة البحرين هي:
 - أ- السريعة.
 - ب- الخارجية.
 - ج- الداخلية الفرعية.
 - د- الداخلية الرئيسية.
- 2- المرتبة التي حصلت عليها مملكة البحرين عربيا في مجال التنافسية السياحية هي:
 - أ- الأولى.
 - ب- الثانية.
 - ج- الثالثة.
 - د- الرابعة.
- 3- المشكلة التي تعاني منها صناعة إحلال الواردات في مملكة البحرين هي:
 - أ- بعد الأسواق المستهلكة.
 - ب- قلة تنوعها في السوق.
 - ج- ضعف جودتها.
 - د- الرسوم الجمركية المرتفعة.
- 4- نتيجة عوامل التعرية؛ أصبحت الجبال قديمة التكوين هضابا متوسطة الارتفاع لا تتجاوز أعلى قممها 2500م في:
 - أ- النرويج.
 - ب- إسبانيا.
 - ج- فرنسا.
 - د- إيطاليا.
- 5- المناخ الذي يسود المناطق الداخلية من قارة أمريكا الشمالية هو:
 - أ- المحيطي.
 - ب- المداري.
 - ج- القاري.
 - د- الاستوائي.

6

ثانياً- ضع علامة (✓) يمين العبارات الصحيحة وعلامة (x) يمين العبارات الخاطئة:

- 1- () اهتمت مملكة البحرين بتحسين الخدمات العامة وتطويرها لتنمية مواردها البشرية.
- 2- () يستعمل البحارة في مملكة البحرين معدات الصيد والسفن الحديثة.
- 3- () تستورد مملكة البحرين السلع النفطية من الولايات المتحدة الأمريكية.
- 4- () الجهة الحكومية التي تتولى مهمة إصدار الأوراق المالية في مملكة البحرين هي بنك البحرين الوطني.
- 5- () تحتل أوروبا المتوسطة المرتبة الأولى في العالم من حيث استقبالها السياح.
- 6- () جُلب السود بالقوة من أفريقيا للعمل كعبيد في الزراعات المدارية بأمريكا الشمالية والوسطى.

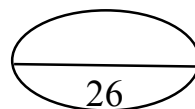
ثالثاً- صنف كل معلم من المعالم السياحية الآتية حسب المقومات السياحية التي تنتمي إليها في الجدول التالي:

- بلاج الجزائر. - المتحف الوطني. - معبد باربار. - منتزه عذاري. - كورنيش النادي البحري.

- مجمع الدانة. - قلعة الشيخ سلمان بن أحمد. - منتجع جزر حوار. - بيت الشيخ عيسى بن علي.

المقومات الطبيعية	المقومات التاريخية	المقومات الحضارية الحديثة
..... - - -
..... - - -
..... - - -

السؤال الثاني:



أولاً- علل ما يأتي:

11

1- تطور القطاع المصرفي في مملكة البحرين واحتلالها مركزاً مالياً مهماً بين الأسواق المالية العالمية.

- •
- •
- •

2- نمو القطاع السياحي في مملكة البحرين بشكل متسارع في السنوات الأخيرة.

- •
- •
- •

3- استمرار التراجع في ثقل أوروبا الديموغرافي مقارنة بقارات العالم الأخرى.

- •
- •

4- تطور القطاع الزراعي في قارة أمريكا الشمالية.

- •
- •
- •

ثانيا- أجب عن الأسئلة الآتية:

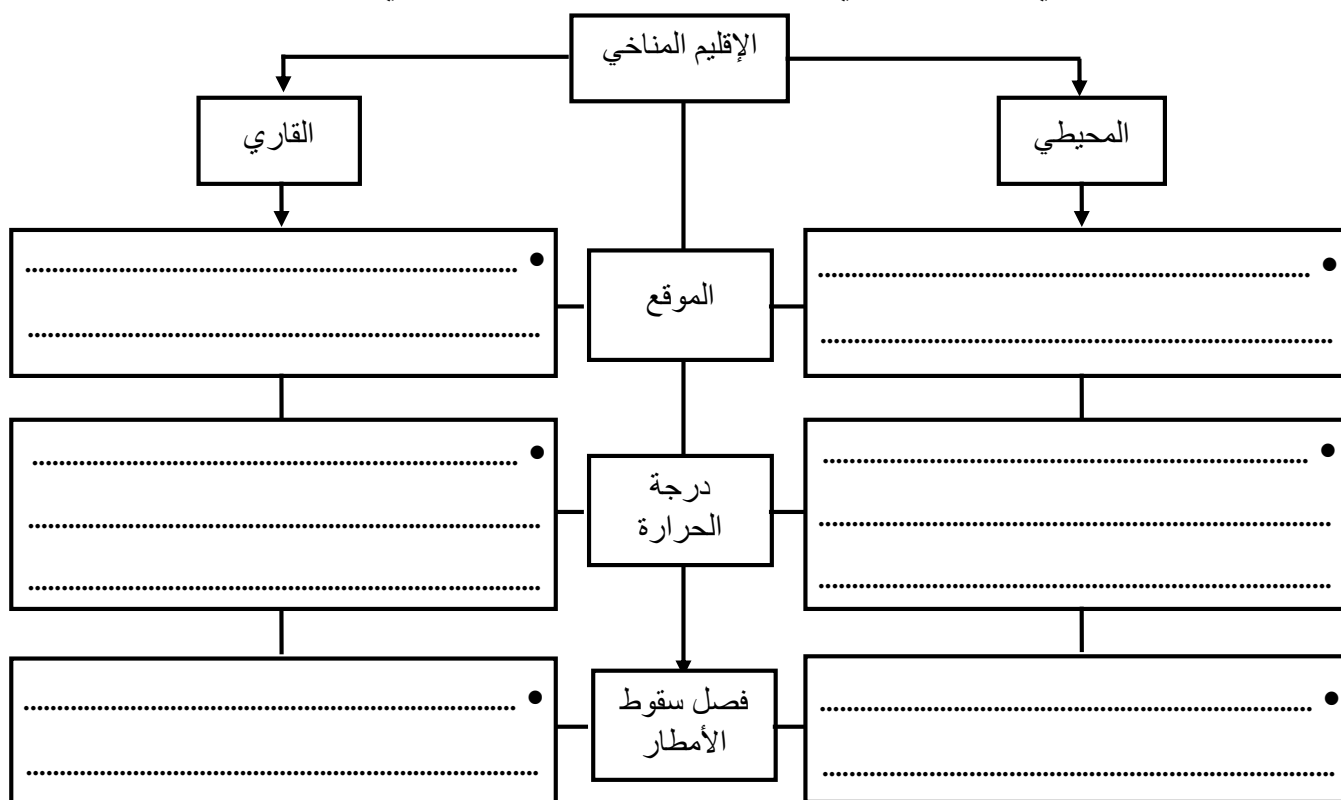
1- اذكر ثلاثة من المواد الطبيعية المتجددة المتوفرة في قارة أوروبا.

-
-
-

2- أكمل الجدول الآتي، بكتابة جهود مملكة البحرين في تطوير قطاعي الزراعة والمواصلات البحرية:

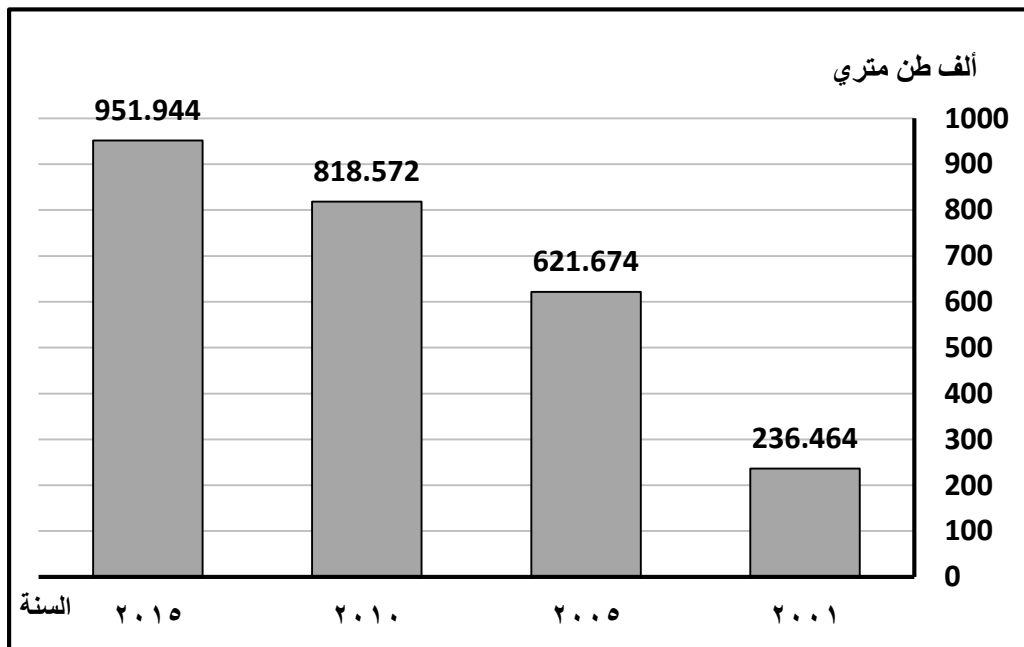
القطاع	جهود مملكة البحرين
الزراعة	<ul style="list-style-type: none">
المواصلات البحرية	<ul style="list-style-type: none">

3- قارن بين الإقليم المحيطي والإقليم القاري في قارة أوروبا حسب معطيات المخطط الآتي:



أولاً- من خلال الرسم البياني لصادرات الألمنيوم في مملكة البحرين (بالألف طن متري)، وفي ضوء ما درست،
أجب عما يأتي:

12



(أ) أكمل العبارات الآتية بما يناسب:

- 1- السنة الأكثر في حجم صادرات الألمنيوم في مملكة البحرين هي سنة
- 2- السنة الأقل في حجم صادرات الألمنيوم في مملكة البحرين هي سنة
- 3- بلغ حجم صادرات الألمنيوم في مملكة البحرين سنة 2010م حوالي ألف طن متري.
- 4- بلغ حجم صادرات الألمنيوم حوالي 621.674 ألف طن متري بمملكة البحرين في سنة

(ب) مما درست، اكتب ثلاثاً من مميزات الصناعات التصديرية في مملكة البحرين.

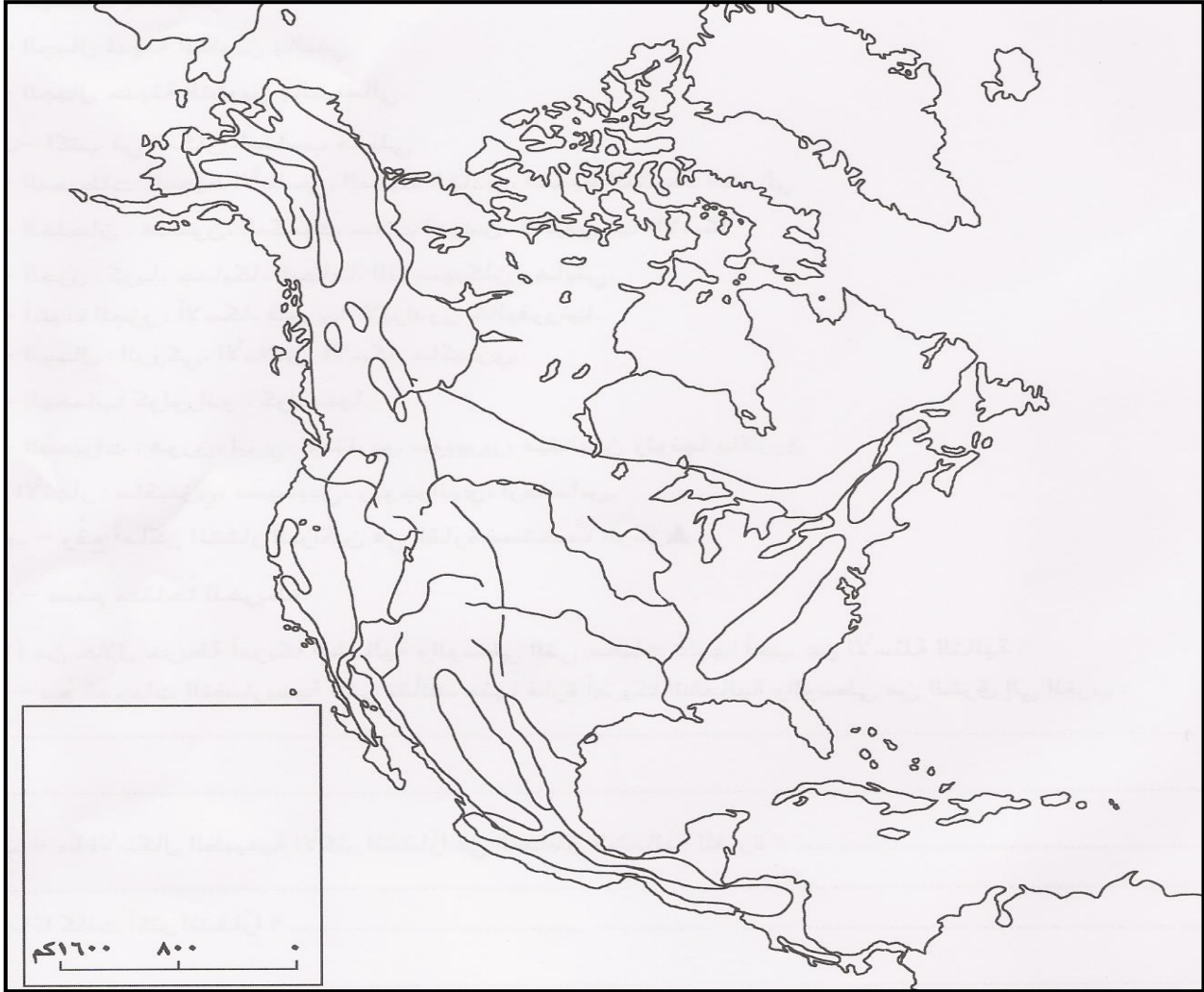
-
-
-

(ج) لماذا تَدَنَّت نسبة صادرات النفط من بين الصادرات في مملكة البحرين؟

-
-

12

ثانيا- من خلال دراستك لجغرافية أمريكا الشمالية والوسطى، اكتب أمام كلٍ من الظواهر الجغرافية الواردة في الجدول الرقم الدال عليها وفقا لموضع الأرقام المبينة على الخريطة:



الظاهرة الجغرافية	الرقم المناسب	الظاهرة الجغرافية	الرقم المناسب
مدار السرطان		تيار لابرادور البحري	
جبال الأبالاش		منخفض الحوض العظيم	
نهر نلسون		خليج المكسيك	
جبال الكسكيد		الدائرة القطبية الشمالية	
تيار كاليفورنيا البحري		المحيط الهادي	
جبال الروكي		نهر الميسوري	

أولاً- ضع علامة (✓) يمين العبارات الصحيحة وعلامة (x) يمين العبارات الخاطئة:

4

- 1- () يُعدُّ التلوث من أبرز الأخطار التي تهدد البيئة في العالم.
- 2- () العمل الحر هو العمل الذي يقوم به الشخص لفائدة الغير.
- 3- () تهدف التنمية الشاملة إلى تحقيق العدالة الاجتماعية وتوفير الفرص لبعض فئات المجتمع.
- 4- () يؤدي التفاوت العلمي والتكنولوجي إلى تهديد السلم والاستقرار في العالم.

11

ثانياً- أجب عن الأسئلة الآتية:

1- اكتب في الجدول الآتي مثالين لكل من مصادر التلوث الطبيعية ومصادر التلوث البشرية:

مصادر التلوث الطبيعية	مصادر التلوث البشرية
..... • •
..... • •

2- بين أهمية العمل للفرد.

-
-

3- حدّد أي المواقف صائبة وأيها خاطئة، بوضع علامة (✓) في الخانة المناسبة في الجدول الآتي، معللاً إجابتك.

الموقف	صواب	خطأ	التعليل
طارق شاب يعمل ميكانيكي سيارات، ويحصل على دخل جيد؛ لكنه ترك عمله، لأنه مُتعب، وظل يبحث عن عمل مكتبي مريح في القطاع الحكومي.		
شكّل الشاب عبدالله مع أصدقاءه فريقاً، للقيام بحملة تنظيف في منتزه ومحمية دوحة عراد في الإجازة الأسبوعية.		

4- ما الأدوار التي يمكن أن يقوم بها المواطن في مواجهة التفاوت العلمي والتكنولوجي القائم؟

-
-

ثالثاً- اقرأ النص الآتي، ثم أجب عن الأسئلة التي تليه انطلاقاً منه، وفي ضوء ما درست:

تبذل مملكة البحرين جهوداً حثيثة في مجال حماية البيئة والموارد الطبيعية والمحافظة عليها، وتهدف من وراء هذه الجهود إلى ضمان استدامة عملية التنمية في مجالات متعددة، (..)، حيث أقر الدستور وميثاق العمل الوطني كفالة حماية البيئة وتحقيق التوازن بين متطلبات التنمية والنواحي الاجتماعية والاقتصادية، وكذلك في رؤية البحرين الاقتصادية 2030 (..)، وقامت مملكة البحرين بإنشاء العديد من المؤسسات والأجهزة الحكومية واللجان المهمة بوضع البرامج والسياسات والاستراتيجيات الهادفة إلى تحقيق الاستدامة بأبعادها المختلفة، (..). ويعمل المجلس الأعلى للبيئة على تعزيز مبادرات التنمية المستدامة المتوائمة مع النظم البيئية (..)، كما يسعى المجلس جاهداً لتحقيق أهدافه في مجال حماية البيئة، في عدة مجالات تؤثر على قطاع البيئة والموارد الطبيعية.

الموقع الإلكتروني للمجلس الأعلى للبيئة في مملكة البحرين

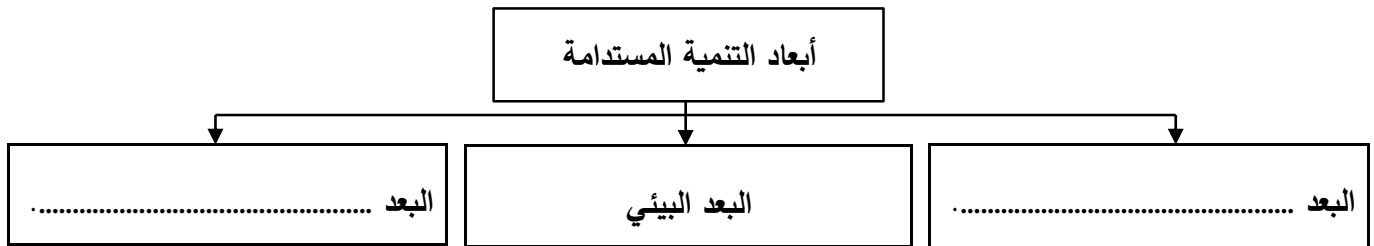
أ- حدّد الهدف الذي تسعى إليه مملكة البحرين من جهودها المبذولة في مجال حماية البيئة والموارد الطبيعية.

.....

ب- استخرج من النص، ما يدل على الحماية القانونية للبيئة في مملكة البحرين.

.....

ج- استكمل المخطط الآتي، بكتابة أبعاد التنمية المستدامة:



د- بيّن اثنتين من المهام التي يقوم بها المجلس الأعلى للبيئة في مملكة البحرين.

.....

.....

هـ- سمّ مؤسستين أو هيئتين حكوميتين (لم يرد ذكرهما في النص) أنشأتها مملكة البحرين بهدف تحقيق التنمية المستدامة.

.....

.....

و- بيّن اثنين من جهود مملكة البحرين على الصعيد العالمي (الدولي) في مجال المحافظة على البيئة.

.....

.....

انتهت الأسئلة، مع تمنياتنا للجميع بالنجاح والتوفيق