


تم تحميل هذا الملف من موقع المناهج البحرينية



الملف ملخص العلوم للصف الثالث الإعدادي في صور خرائط مفاهيمية

موقع المناهج ← ← الصف التاسع ← علوم ← الفصل الثاني ← الملف

روابط مواقع التواصل الاجتماعي بحسب الصف التاسع



روابط مواد الصف التاسع على تلغرام

[الرياضيات](#)

[اللغة الانجليزية](#)

[اللغة العربية](#)

[التربية الاسلامية](#)

المزيد من الملفات بحسب الصف التاسع والمادة علوم في الفصل الثاني

[الفصل العاشر الوراثة شرح درس مادة الوراثة DNA ' ودرس علم الوراثة](#)

1

[الفصل التاسع التفاعلات الكيميائية شرح درس المعادلات الكيميائية وسرعة التفاعلات الكيميائية](#)

2

[شرح درس البناء الفري والروابط الكيميائية](#)

3

[الفصل السابع المغناطيسية شرح لدروس الخصائص العامة للمغناطيس، والتيار الكهربائي والمغناطيسية](#)

4

[الصفائح الأرضية وعلاقتها بالزلازل والبراكين](#)

5



عزيزتي الطالبة لا تعتمدى على هذا  
الملخص، بل ارجعي إلى الكتاب.

مملكة البحرين  
وزارة التربية والتعليم  
مدرسة عالي الإعدادية للبنات  
قسم العلوم



# ملخص العلوم للصف الثالث الإعدادي

في صورة فرائط مفاهيمية

للفصل الدراسي الثاني للعام الدراسي 2021-2022 م

يهدى ثواب هذا العمل إلى روح الغالين أمي و أبي ❀

يعتمد مديرة المدرسة:  
أ. كريمة عبدالكريم




إعداد الأستاذة: عاتقة جعفر

atika\_science.teacher



# الصفائح الأرضية

و علاقتها بالزلازل و البراكين



فرائط مفاهيميه للفصل السادس

عزيزتي الطالبة لا تعتمدى على هذا  
الملخص فقط، بل ارجعي إلى الكتاب.



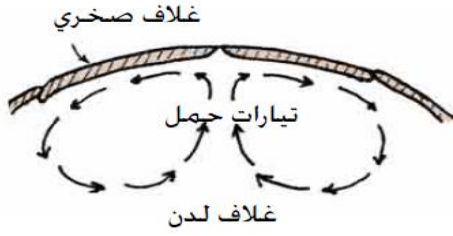
يهدى ثواب هذا العمل إلى روح الغاليتين أمي و أبي



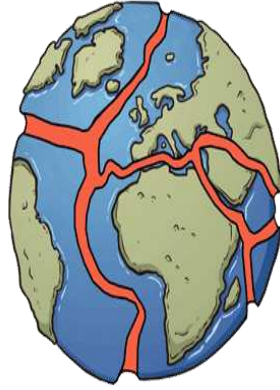
يعتمد مديرة المدرسة :  
أ. كريمة عبدالكريم

إعداد الأستاذة : عاتقة جعفر





تيارات الحمل في الوشاح



نظرية الصفائح الأرضية

تنص على أن الغلاف الصخري للأرض المكون من من القشرة الأرضية و أعلى الوشاح مقسم إلى قطع تسمى الصفائح ( عددها 13 صفيحة رئيسية ) ، تتحرك على طبقة لدنة من الوشاح والتي تسمى الغلاف المائع ، وينتج عن هذه الحركة جميع المعالم الجيولوجية مثل الزلازل و البراكين و تكون الجبال و المحيطات .

ما الذي يحرك الصفائح الأرضية؟

## الصفائح الأرضية

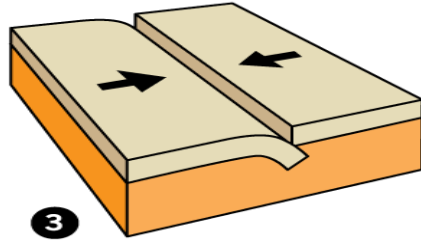
أنواعها

2

صفائح قارية

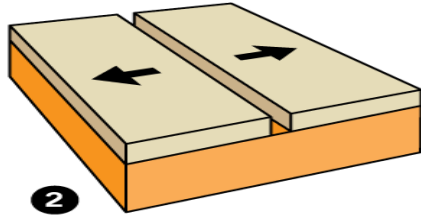
1

صفائح محيطية



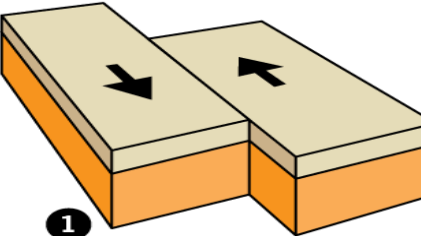
3

حدود تقارب



2

حدود تباعد



1

حدود جانبية

أنواع الحدود بين الصفائح

1

2

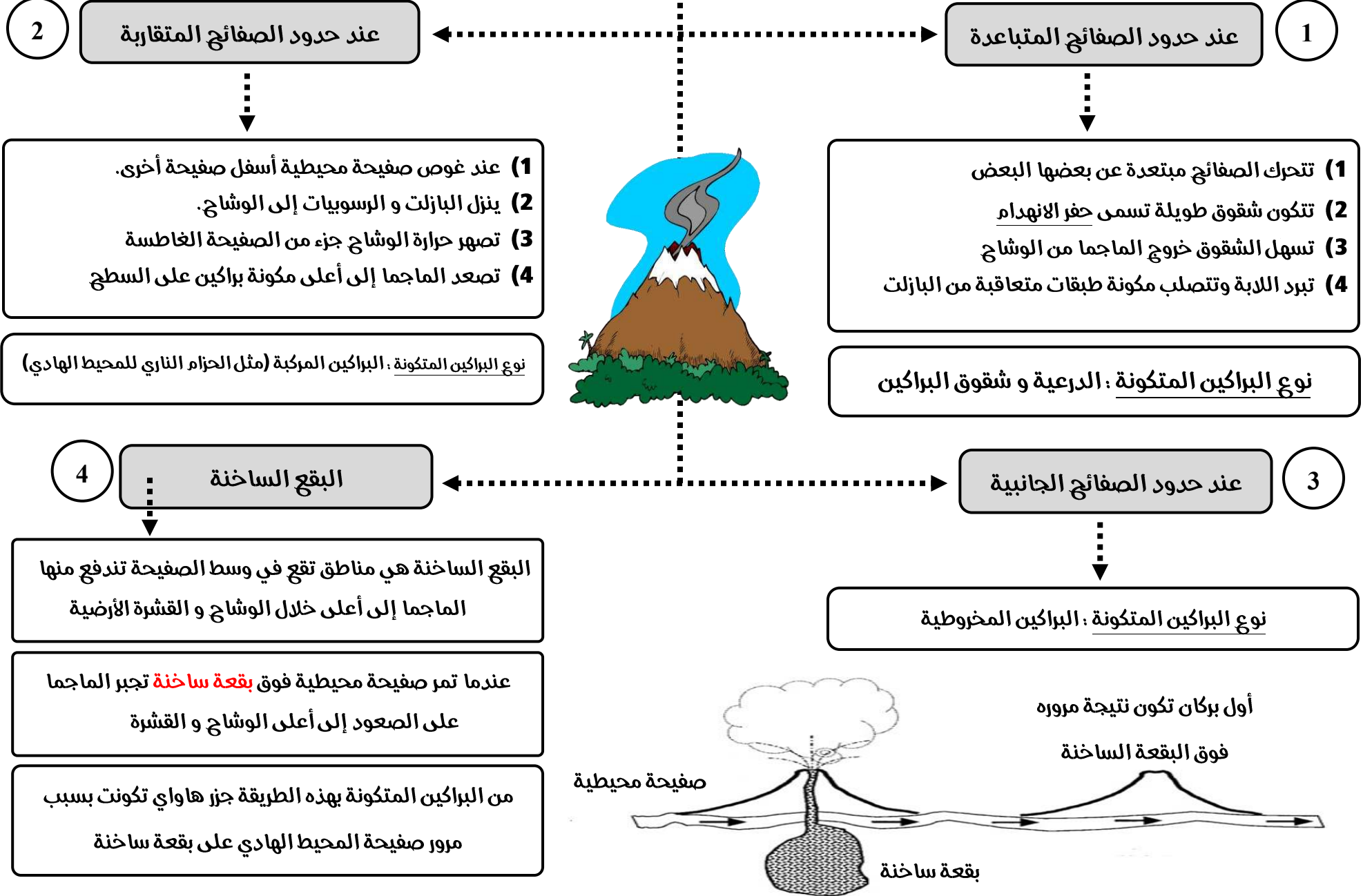
3

أقل كثافة من الصفائح المحيطية  
تقع أسفل القاراتأعلى كثافة من الصفائح القارية  
تقع أسفل المحيطات

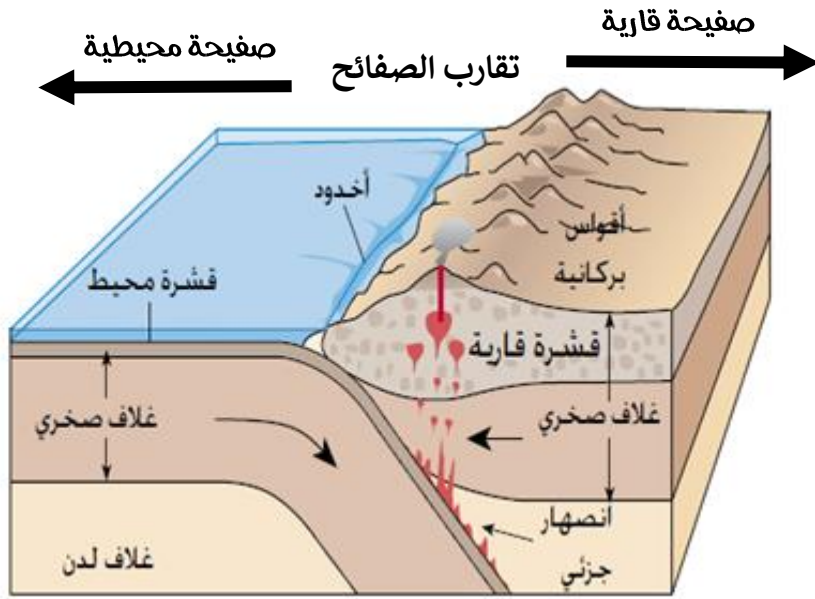
مناطق التقاء الصفائح مع بعضها البعض

حدود الصفائح

## أين تتشكل البراكين ؟

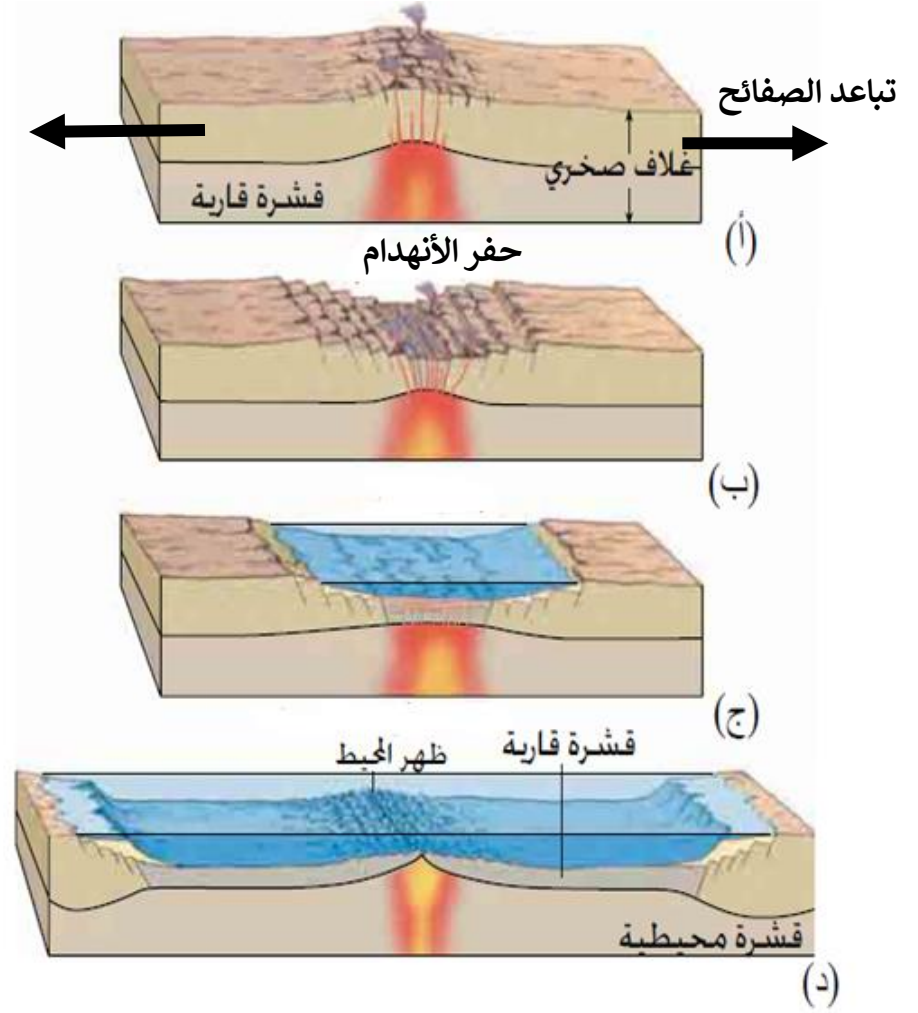


### تشكل البراكين عند حدود الصفائح المتقاربة (مناطق الطرح)

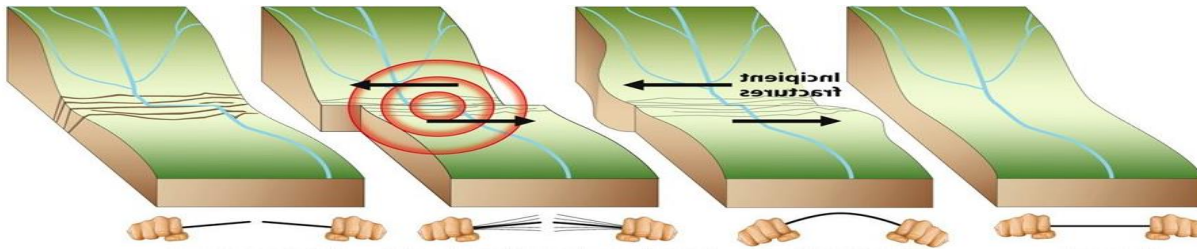


ملاحظة : الصفائح المحيطية أقل سمكاً و أكثر كثافة من الصفائح القارية ، فعند التقاء صفیحة محيطية بصیفة قارية تغوص الصفیحة المحيطية أسفل الصفیحة القارية لأنها أعلى كثافة.

### تشكل البراكين عند حدود الصفائح المتباعدة



ملاحظة : عند تباعد الصفائح عن بعضها البعض تتكون شقوق طويلة تسمى حفر الانهدام



## أسباب حدوث الزلازل

من النظريات التي  
تفسر حدوث  
الزلازل

تنص النظرية

نظرية الأرتداد المرن

1 عند تعرض الصخور للإجهادات تتراكم طاقة داخلها

2 تنكسر الصخور و تتحرر الطاقة المخزنة فيها

3 تؤدي هذه التكرسات إلى حدوث اهتزازات (الزلازل)

4 تعود الأجزاء المكسورة سريعاً إلى مكانها الأصلي وتسمى هذه العملية **بالارتداد المرن**.

## الزلازل

تصنف حسب نوع:

الصدوع

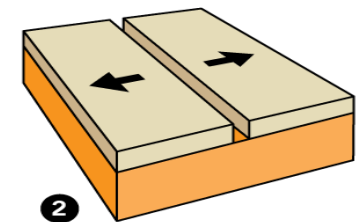
تعرف بأنها

كسر تتحرك على امتداده الصخور وتنزلق

تصنف حسب القوة المؤثرة

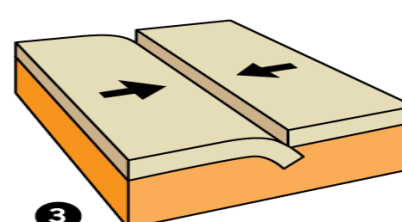
قوى شد

صدع عادي



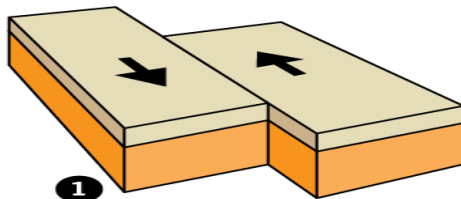
قوى ضغط

صدع عكسي



قوى قص

صدع جانبي










عزيزتي  
الطالبة لا  
تعتمدي  
على هذا  
الملخص،  
بل ارجعي إلى  
الكتاب.

فرائط مفاهيميه للفصل السابع

# المخناطيسية

يهدى ثواب هذا العمل إلى روح الغالبيه أمي و أبي



يعتمد هديره المدرسه :  
أ. كريمه عبدالكريم

إعداد الأستاذة : عاتقة جعفر

امسح الكود للاطلاع  
على درس المغناطيس



المجناثيت

جزء من معدن

- 1) منحنية و مشدودة
- 2) لا تتقاطع
- 3) تتقارب في المناطق التي يكون فيها المجال قوي .
- 4) تتباعد في المناطق التي يكون فيها المجال ضعيف .
- 5) تخرج من القطب الشمالي و تدخل في القطب الجنوبي .

خصائص خطوط المجال

الحديد

1

الكوبلت

2

النيكل

3

المغناطيس

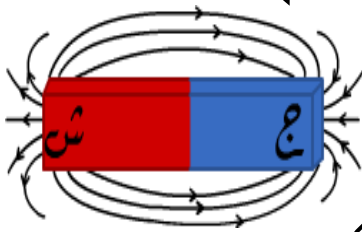
يجذب المواد المصنوعة من

تسمى المنطقة المحيطة به

المجال المغناطيسي

من خصائصه

امسح الكود للاطلاع على  
درس المجال المغناطيسي



يتم الكشف عنه بواسطة

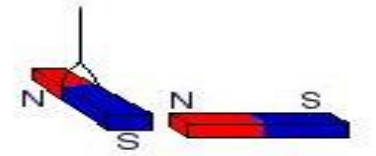


1 لكل مغناطيس قطبان : ( قطب شمالي ) و ( قطب جنوبي )

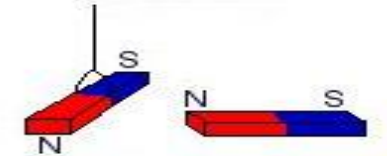
2 الأقطاب المتشابهة ( تتنافر ) والأقطاب المختلفة ( تتجاذب )

3 تتركز قوة المغناطيس في القطبين وتقل في منتصف المغناطيس .

4 قوة قطبا المغناطيس الواحد متساوية .



الأقطاب المختلفة تتجاذب



الأقطاب المتماثلة تتنافر


برادة الحديد

1

البوصلة

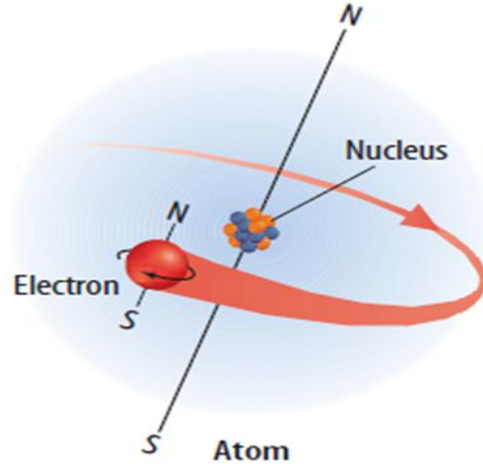
2

لتحديد اتجاه المجال



تحتوي ذرت المغناطيس على  
إلكترونات متحركة بترتيب  
معين فتبدو كل ذرة وكأنها  
مغناطيس صغير

كيف ينشا المجال المغناطيسي داخل المغناطيس ؟



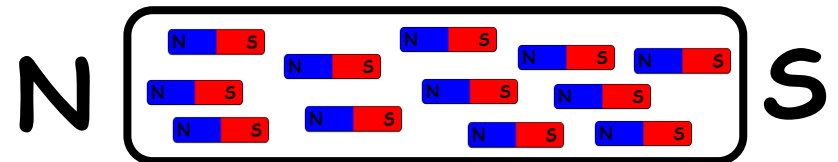
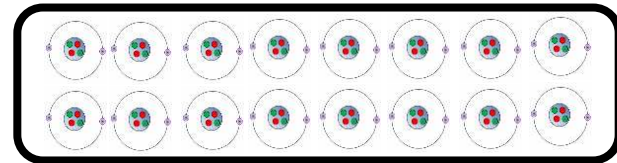

1 تحتوي كل ذرة على جسيمات مشحونة بشحنة سالبة تسمى إلكترونات

2 تتحرك الإلكترونات حركة دائرية حول النواة و حركة مغزلية حول نفسها

3 ينتج عن هذه الحركة المجال المغناطيسي




تحتوي ذرات المغناطيس على إلكترونات متحركة بترتيب  
معين فتبدو كل ذرة وكأنها مغناطيس صغير




مجموعة من الذرات تتوافق في اتجاه مجالاتها المغناطيسية

المناطق المغناطيسية



بعد تقريب المغناطيس



قبل تقريب المغناطيس

ماذا يحدث للمناطق المغناطيسية عند تقريب المغناطيس من الحديد؟

تترتب المناطق المغناطيسية في الحديد و تنجذب للمغناطيس

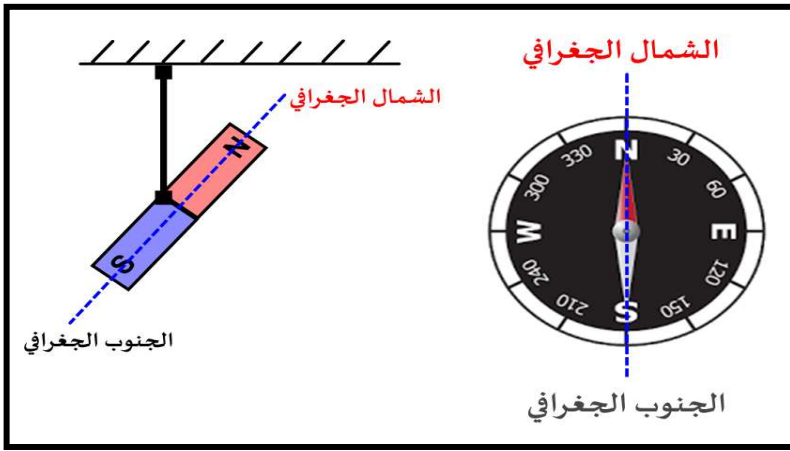
ماذا يحدث للمناطق المغناطيسية عند تقريب المغناطيس إلى الورق؟

لا ينجذب الورق للمغناطيس لان الورق لا يحتوي على مناطق مغناطيسية لأن المجال المغناطيسي لذرات هذه المواد يلغي بعضه بعضاً

### وجه المقارنة بين المواد المغناطيسية و المواد الغير مغناطيسية

مواد غير مغناطيسية	مواد مغناطيسية	وجه المقارنة
لا تحتوي على مناطق مغناطيسية	تحتوي على مناطق مغناطيسية	وجود المناطق المغناطيسية
غير قابلة للتمغنت	قابلة للتمغنت	القابلية للتمغنت
الورق ، البلاستيك ، الخشب	الحديد ، الكوبلت ، النيكل	أمثلة

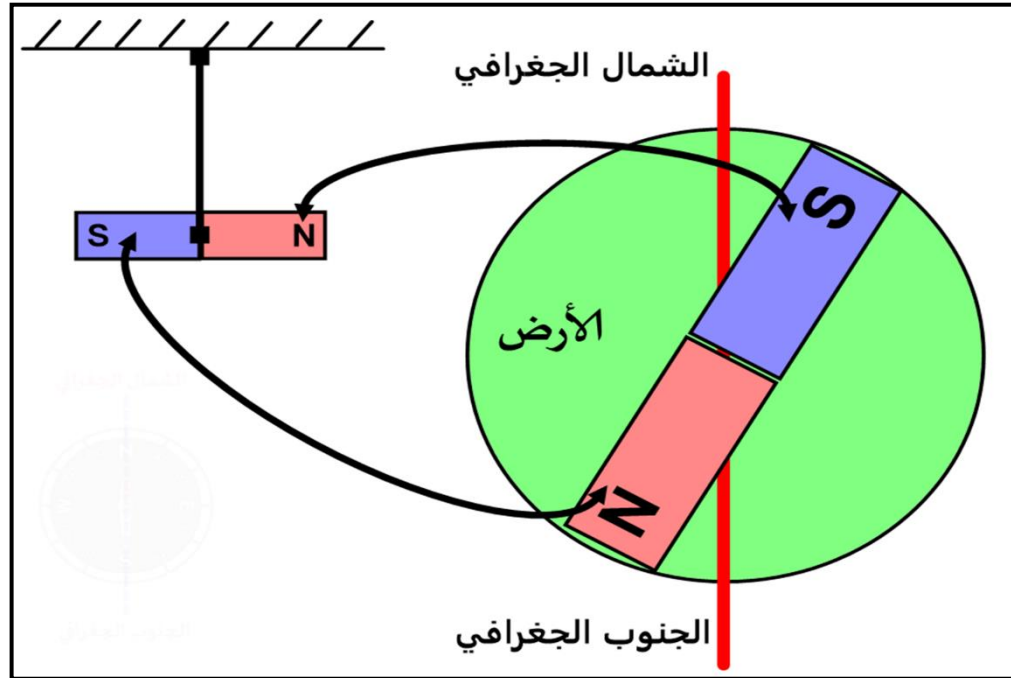




ما سبب اتخاذ البوصلة اتجاه الشمال - الجنوب الجغرافي عند استقرارها ؟



ما سبب اتخاذ المغناطيس اتجاه الشمال - الجنوب الجغرافي عند تعليقه تعليقاً حراً ؟



الجواب : بسبب المجال المغناطيسي للأرض حيث يتجه القطب الشمالي للمغناطيس المعلق تعليقاً حراً نحو القطب الجنوبي لمغناطيس الأرض الموجود في شمال الكرة الأرضية

امسح الكود للاطلاع على عمل البوصلة

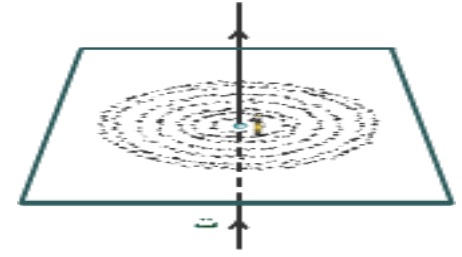


# التيار و المغناطيسية



امسح الكود للاطلاع على  
درس التيار و المغناطيسية

## المجال المغناطيسي



دوائر متحدة المركز

يكون على شكل

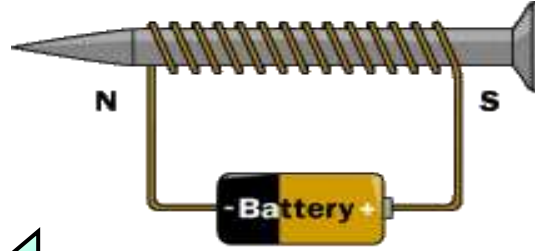
سلك مستقيم

يتولد عند مرور

تيار كهربائي في



**ملاحظة:** تزداد قوة المجال المغناطيس للمغناطيس الكهربائي عندما يكون داخل الملف قلب من الحديد .  
لأن القلب الحديدي يصبح ممغنطاً بالإضافة للمجال المتولد في سلك الملف نفسه.



1 زيادة شدة التيار

1

2 زيادة عدد اللفات

2

3 بوضع قلب حديدي داخل الملف

3

يزداد المجال

ملف لولبي

يطلق عليه

ملف / مغناطيس كهربائي /  
نابض مطرقة / رافعة حديدية

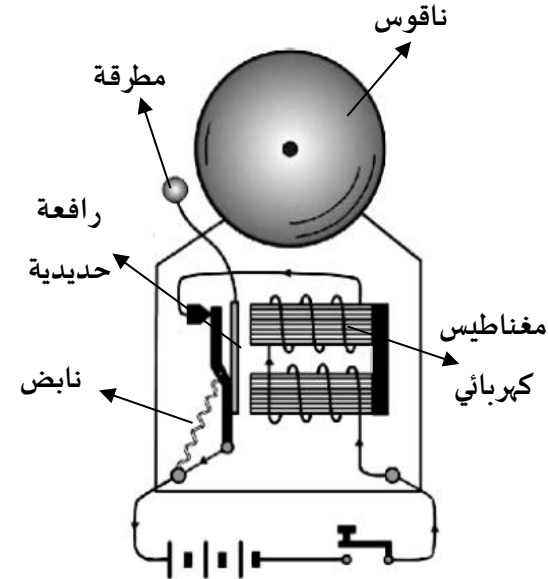
مغناطيس كهربائي

يتكون من:

الجرس الكهربائي

آلية العمل

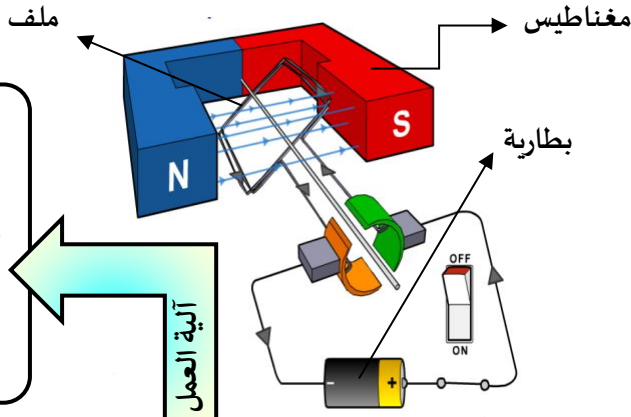
- 1 عند ضغط المفتاح تغلق الدائرة الكهربائية
- 2 يبدأ عمل المغناطيس الكهربائي
- 3 يجذب المغناطيس رافعة حديدية مثبتة في نهايتها مطرقة صغيرة تقوم بطرق الناقوس
- 4 عندما تضرب المطرقة الناقوس تفتح الدائرة الكهربائية ويتوقف المغناطيس عن العمل
- 5 يسحب النابض المطرقة بعيداً عن المغناطيس فتغلق الدائرة وتكرر الخطوات ما بقي الزر مضغوطاً.



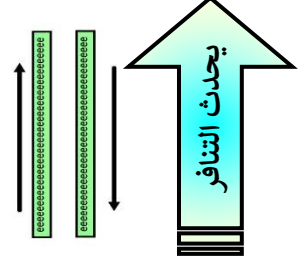


امسح الكود للاطلاع على  
درس المحرك الكهربائي

عند مرور تيار كهربائي في الملف يصبح مغناطيسياً كهربائياً فتنشأ ، قوة تنافر و تجاذب بين الملف و أقطاب المغناطيس ، مما يؤدي إلى دوران الملف ، فتتحول الطاقة الكهربائية إلى طاقة حركية .



تقريب سلكان يسري  
فيهما تيار ان كهربائيان  
متعاكسان في الاتجاه



تحويل الطاقة الكهربائية إلى طاقة حركية

مبدأ عمله

المحرك الكهربائي

يوظف في

التجاذب و التنافر المغناطيسي

يوظف في

الجلفانومتر

يستخدم في

يحدث التجاذب

تقريب سلكان يسري  
فيهما تيار ان كهربائيان  
في الاتجاه نفسه



آلية العمل

عند مرور تيار كهربائي في الملف يصبح مغناطيسياً كهربائياً فتنشأ ، قوة تنافر و تجاذب بين الملف و أقطاب المغناطيس ، مما يؤدي إلى دوران الملف ، لكن بمقدار يتناسب مع مقدار التيار المار به ، لكن الزنبرك يحول دون دوران المؤشر دورة كاملة .

3

2

1

الفولتميتر

الأميتر

عداد الوقود

وجه المقارنة	التركيب	طريقة التوصيل	الكمية المقاسة	كمية التيار المار
الفولتميتر	جلفانومتر + مقاومة كبيرة	التوالي	فرق الجهد	لا يمر تيار يذكر
الأميتر	جلفانومتر + مقاومة صغيرة	التوازي	شدة التيار	تيار الدائرة كله
عداد الوقود	وجه المقارنة	طريقة التوصيل	الكمية المقاسة	كمية التيار المار

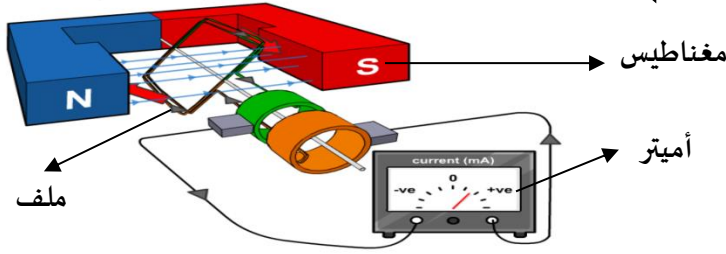


تحويل الطاقة الحركية إلى طاقة كهربائية

مبدأ عمله

المولد الكهربائي

آلية العمل



يتم توليدها بواسطة



امسح الكود للاطلاع على  
درس المولد الكهربائي



عند دوران السلك بين قطبي المغناطيس من خلال قوة خارجية ، يؤثر المجال المغناطيسي على إلكترونات السلك ، فيحركها وينشأ تيار كهربائي يغير اتجاه كل نصف دورة ، ويسمى هذا التيار بالتيار المتناوب (AC) .

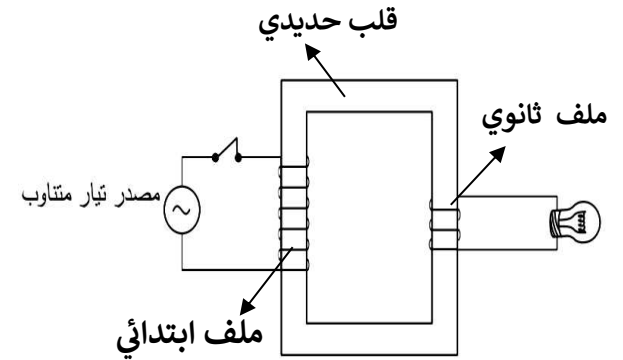
يتم نقلها من محطات توليد الطاقة إلى المنازل

الطاقة الكهربائية

بواسطة أسلاك متصلة بـ

آلية عملها

عند مرور التيار المتناوب في الملف الابتدائي يتولد مجال مغناطيسي في القلب الحديدي ويكون هذا المجال متغير في الاتجاه مما يؤدي إلى توليد تيار متردد آخر في الملف الثانوي .



قلب حديدي  
ملف ابتدائي  
ملف ثانوي



امسح الكود للاطلاع على  
درس المحول الكهربائي



$$\frac{\text{ن ملف ثانوي}}{\text{ن ملف الابتدائي}} = \frac{\text{جه ملف ثانوي}}{\text{جه ملف الابتدائي}}$$

المحولات الكهربائية

تتكون من

أنواعها

محولات رافع للجهد

تعمل على

رفع الجهد الكهربائي

لأن

عدد لفات الملف الثانوي < عدد لفات الملف الابتدائي

محولات خافض للجهد

تعمل على

خفض الجهد الكهربائي

لأن

عدد لفات الملف الابتدائي < عدد لفات الملف الثانوي



تصوير مقاطع داخل جسم الإنسان للكشف عن الأنسجة التالفة أو الأمراض أو الأورام الخبيثة .

سبب الاستخدام

التصوير بالرنين المغناطيسي

امسح الكود للاطلاع على درس الرنين المغناطيسي



آلية العمل



(1) تشكل ذرات الهيدروجين نسبة ٦٣ % من ذرات جسم الإنسان.

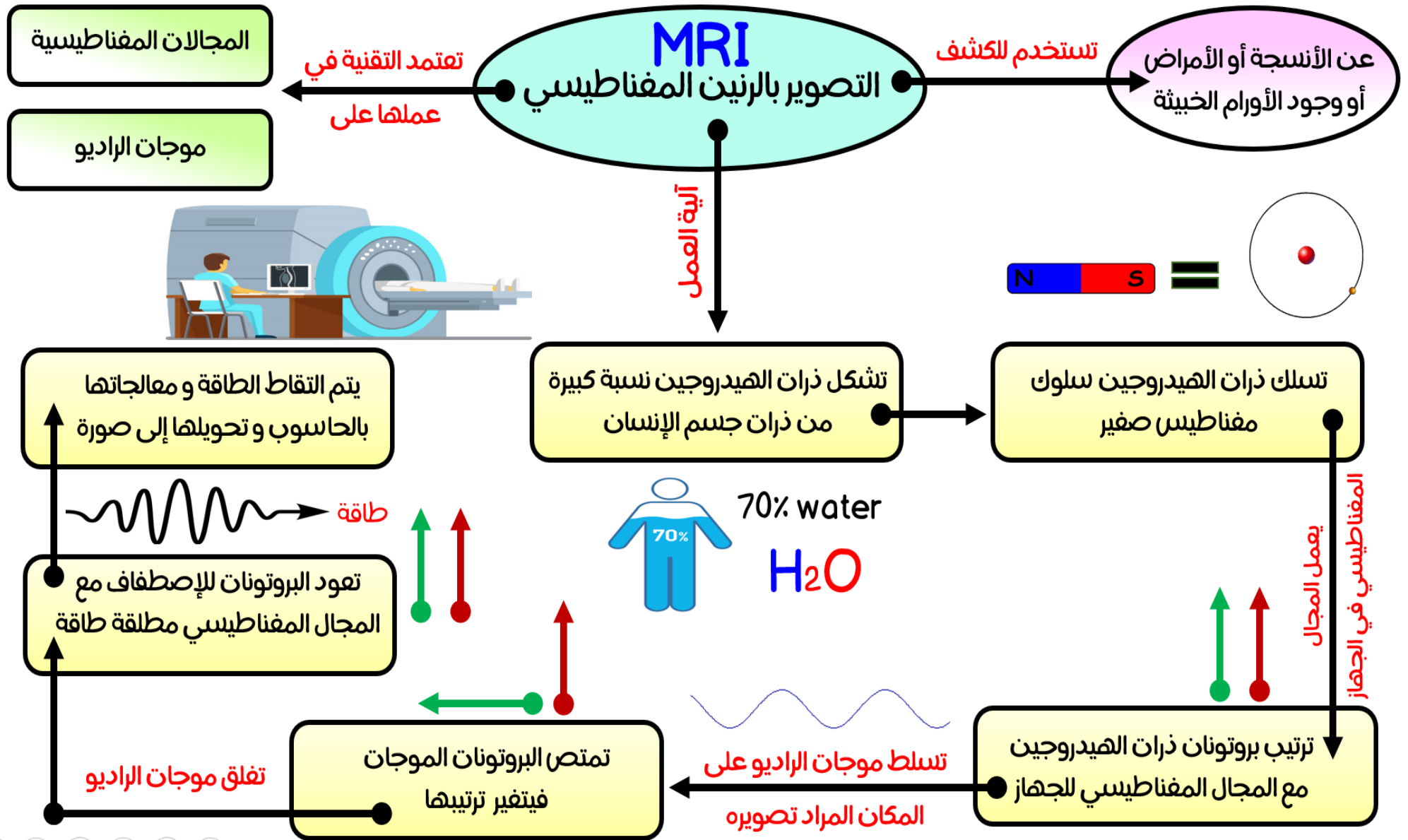
(2) يعمل المجال المغناطيسي القوي في الجهاز على ترتيب بروتونات ذرات الهيدروجين مع المجال المغناطيسي .

(3) تسلط موجات راديو على المكان المراد تصويره لتمتصها البروتونات فيتغير ترتيبها.

(4) عند غلق مصدر موجات الراديو تعود البروتونات إلى الاصطفاف مع المجال المغناطيسي مطلقة الطاقة التي امتصتها .

(5) يتم التقاط الطاقة ومعالجتها بالحاسوب وتحويلها إلى صورة للعضو المراد تصويره.







عزيرتي الطالبة لا تعتمد علي هذا  
المخلص، بل ارجعي إلى الكتاب.

مملكة البحرين  
وزارة التربية و التعليم  
مدرسة عالي الإعدادية للبنات  
قسم العلوم




خرائط مفاهيميه للفصل الثامن

# البناء الذري و الروابط الكيميائية



اعداد الأستاذة : عاتقة جعفر



Atika\_science\_teacher



يهدى ثواباً - هذا العمل إلى روح العالمة أبي و أبي

## كيف نرسم التوزيع الإلكتروني

- 1) نحدد عدد الإلكترونات من خلال العدد الذري (العدد الذري = عدد الإلكترونات)
- 2) نرسم المستوى الأول و نمثله بالإلكترونات مع مراعاة أن المستوى الأول يستوعب إلكترونين فقط.
- 3) إذا زاد عدد الإلكترونات عن اثنين نرسم المستوى الثاني و نمثله ببقية الإلكترونات مع مراعاة أن المستوى الثاني يستوعب 8 إلكترونات فقط.
- 4) إذا زاد عدد الإلكترونات في المستوى الثاني عن ثمانية نرسم المستوى الثالث و نمثله ببقية الإلكترونات مع مراعاة أن المستوى الثالث يستوعب 8 إلكترون فقط في الدورة الثالثة.



امسح الكود للاطلاع على  
درس التوزيع الإلكتروني



الذرة

تتكون من

نواة

تحتوي على

بروتونات

و

نيوترونات

في منطقة تعرف ب

السحابة الإلكترونية

إلكترونات

تدور حولها

تتوزع في

مدارات

تعرف ب

مستويات الطاقة

عددها

7

اضغطي على الرابط أدناه  
لمتابعة شرح درس التوزيع  
الإلكتروني  
للأستاذة عاتقة جعفر



[https://youtu.be/afkJQr\\_MZ](https://youtu.be/afkJQr_MZ)

<https://youtu.be/aC13zUn7b>

يتسع كل مستوى لعدد محدد من  
الإلكترونات حسب القاعدة

$2n^2$

يزداد طاقة المستوى

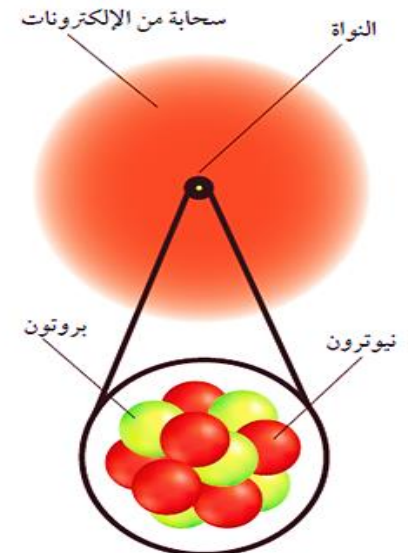
المستوى الأول = 2

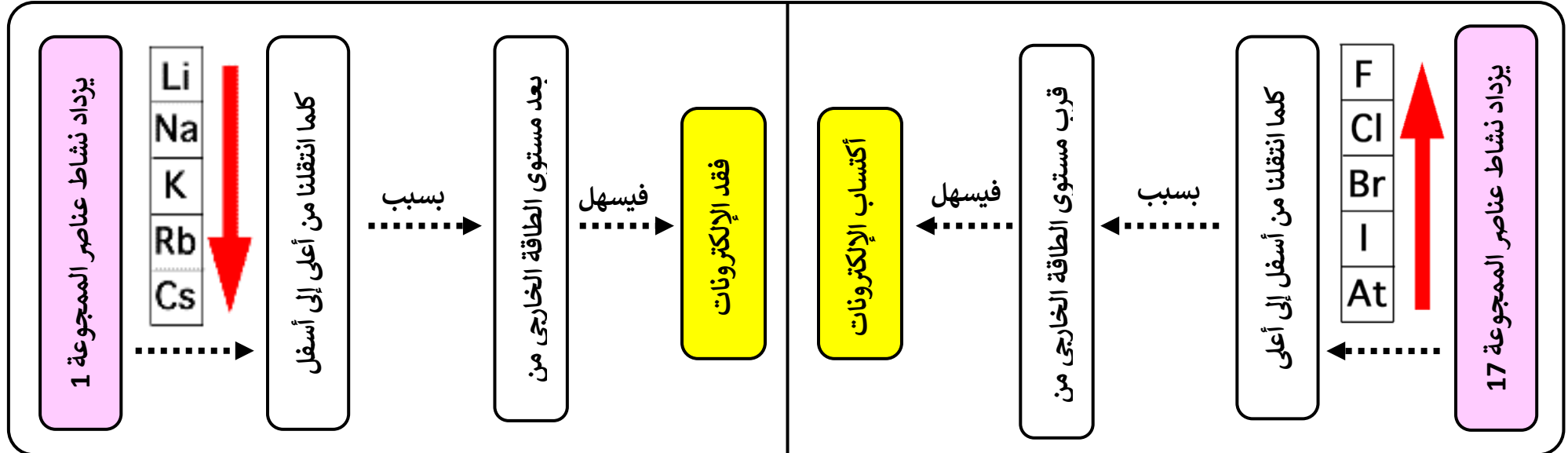
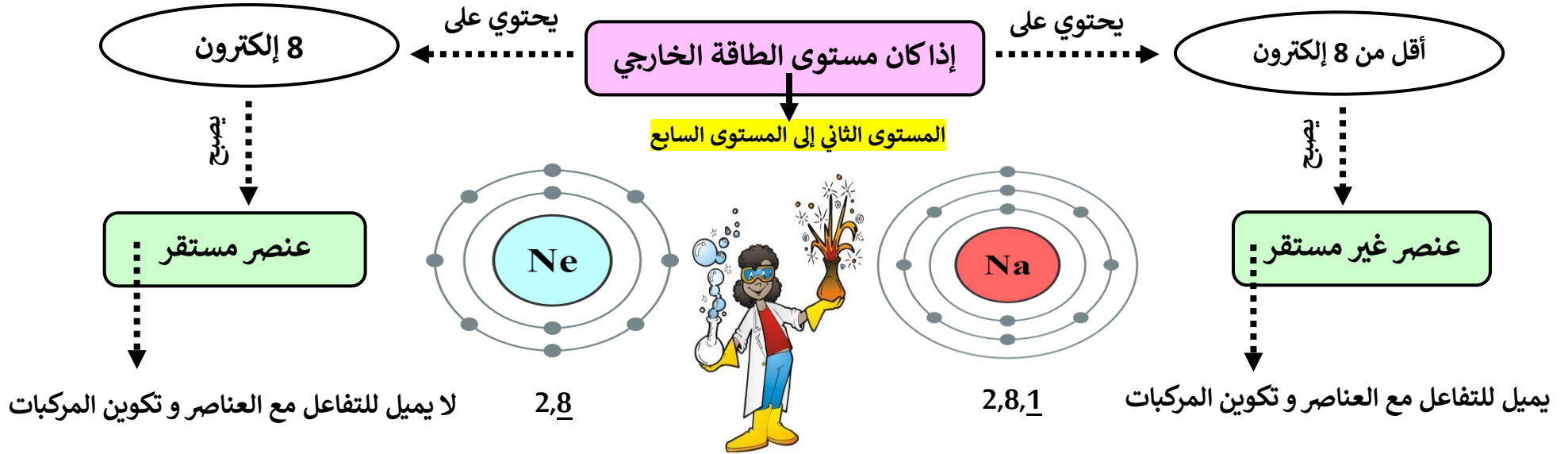
المستوى الثاني = 8

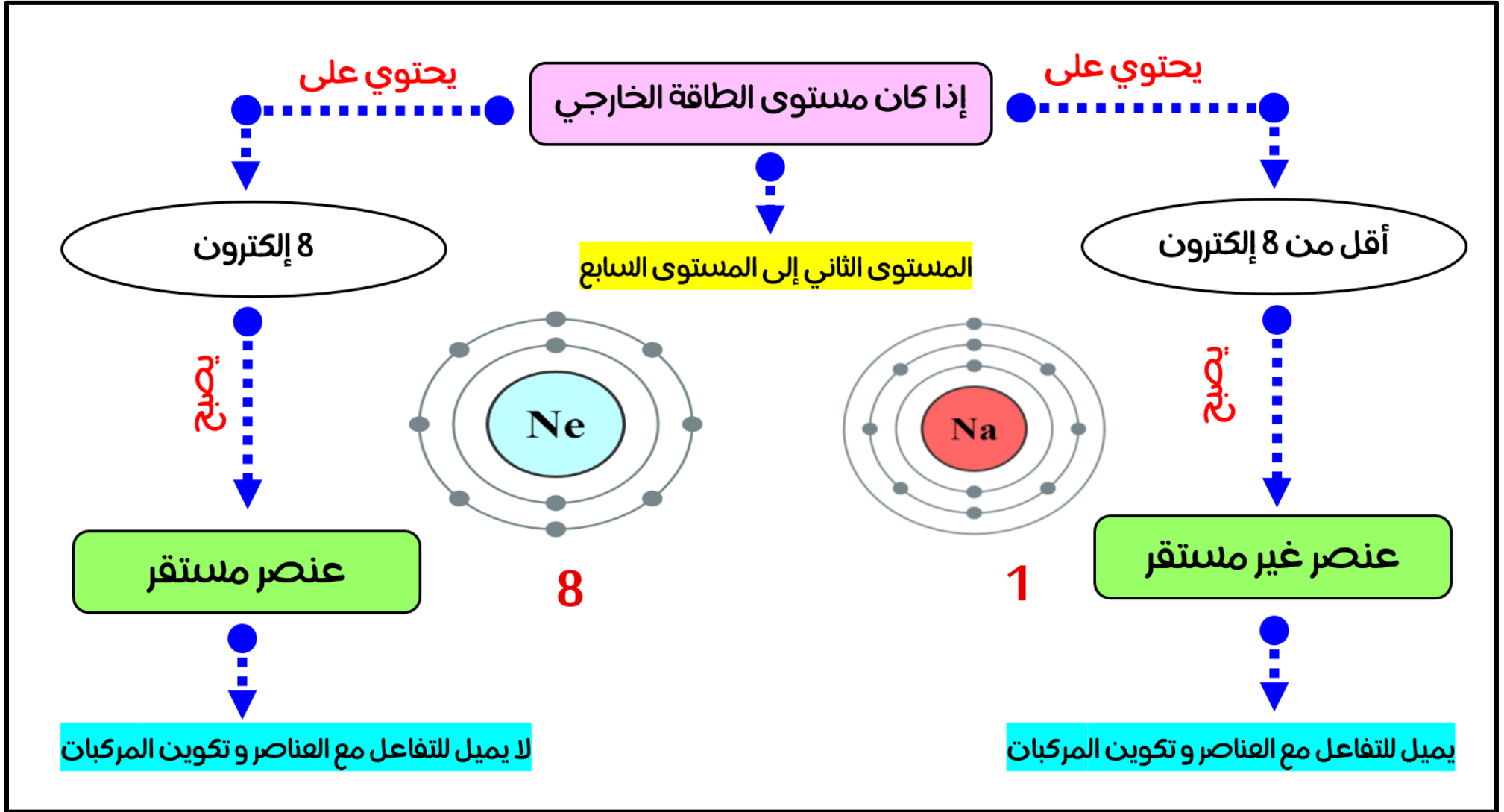
المستوى الثالث = 18

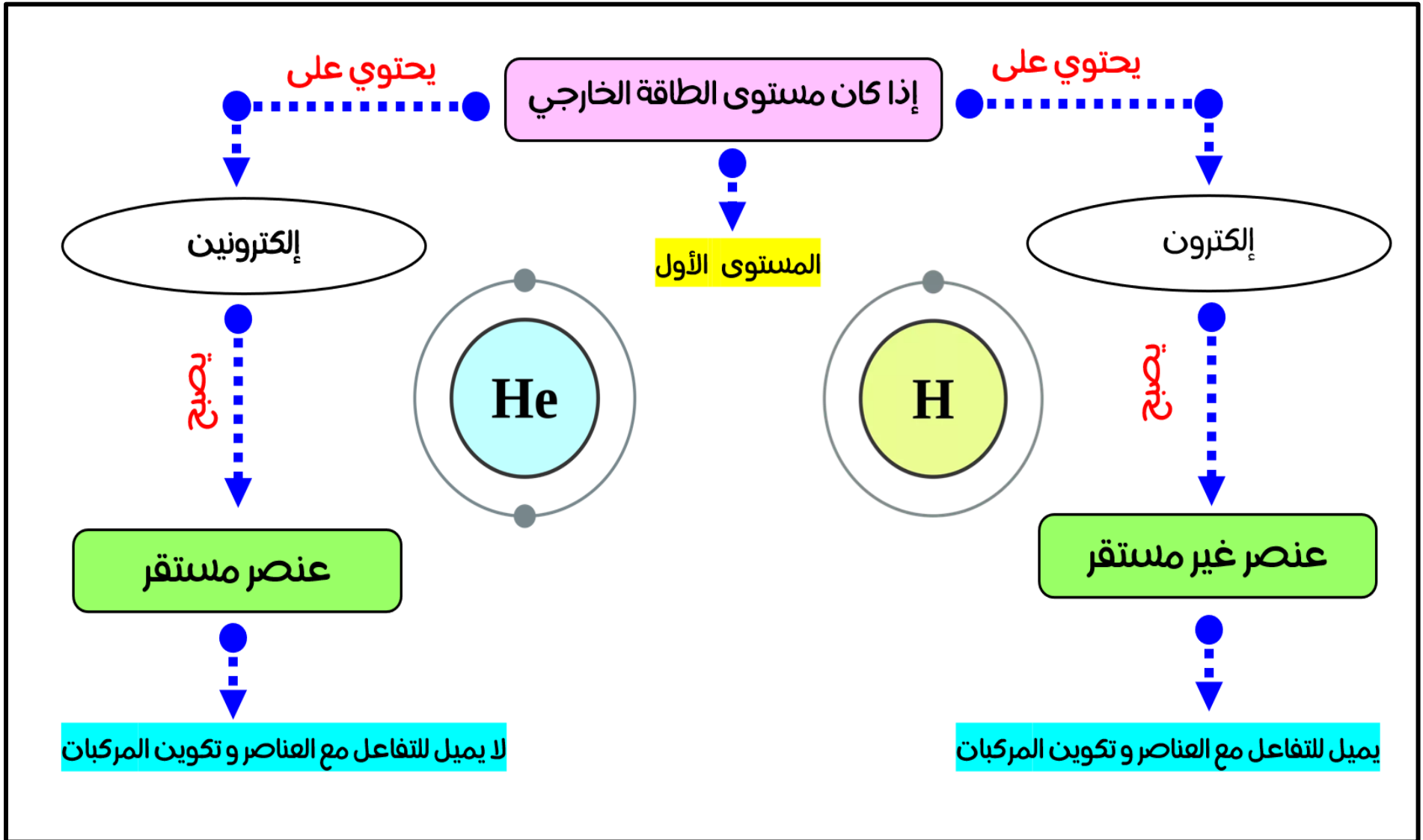
المستوى الرابع = 32

2










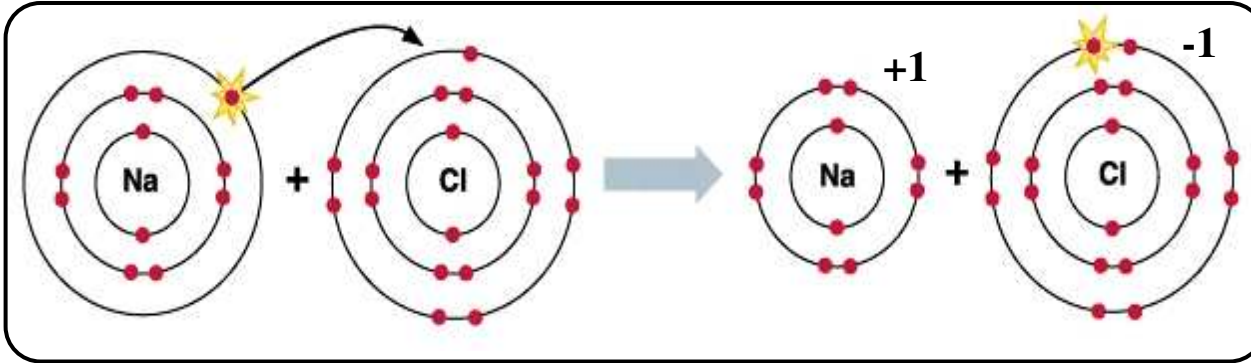


**مثال 1: وضح كيفية تكوين الرابطة الأيونية في جزئ كلوريد الصوديوم (NaCl).**  
( Cl = 17 , Na = 11 )

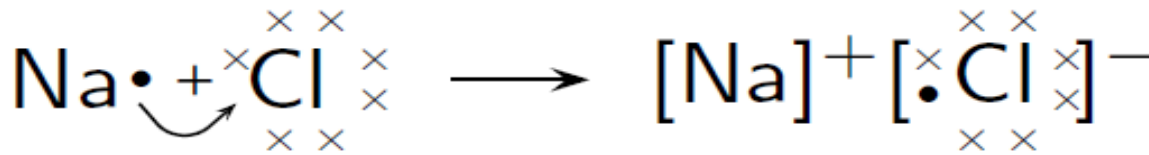
- 1) ذرة الصوديوم (2,8,1) تحتوى على إلكترون في المستوى الأخير تفقده وتتحول إلى أيون موجب ( Na<sup>+</sup> ) ويصبح تركيبها الإلكتروني مشابه للتركيب الإلكتروني لغاز النيون (2,8).
- 2) ذرة الكلور (2,8,7) تحتوى على سبعة إلكترونات تكتسب إلكترون وتتحول إلى أيون سالب ( Cl<sup>-</sup> ) ويصبح تركيبها الإلكتروني مشابه للتركيب الإلكتروني لغاز الأرجون (2,8,8).
- 3) يحدث تجاذب كهربى بين الأيون (Na<sup>+</sup>) الموجب والأيون السالب (Cl<sup>-</sup>) وتتكون الرابطة.



**تمثيل الرابطة بالتوزيع الإلكتروني**



**تمثيل الرابطة بالتمثيل النقطي**



6

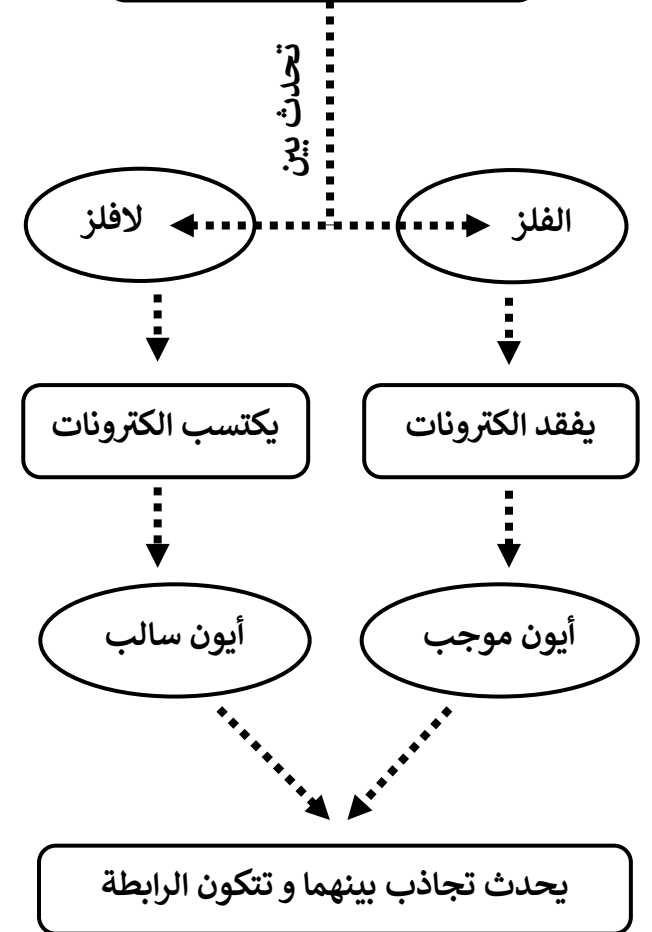


امسح الكود للاطلاع على  
درس الرابطة الأيونية



**الروابط الكيميائية**

**أولاً: الرابطة الأيونية**



نحن متقدمان إلى الأبد.



## ثانياً: الرابطة التساهمية

## المركبات التساهمية

هي الوحدة البنائية إلى

الجزئيات

امسح الكود للاطلاع على  
درس الرابطة التساهمية



الافلزات

تحدث بين

الرابطة التساهمية

ينتج عنها تكوين

المشاركة بالألكترونات بشكل غير متساوي

قطبية

مثل

HCl

H<sub>2</sub>O

NH<sub>3</sub>

HF

امسح الكود للاطلاع على  
درس الجزئيات القطبية



حسب استثثار العناصر بالزوج المشترك

حسب عدد الألكترونات المشاركة

أنواعها

H<sub>2</sub>

Cl<sub>2</sub>

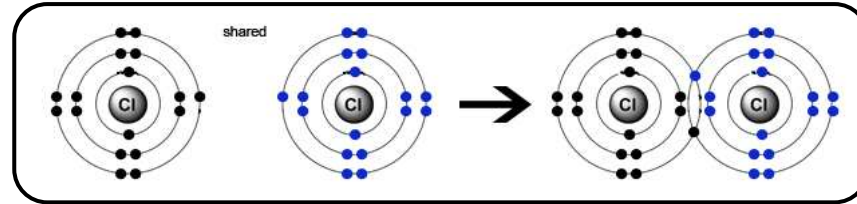
N<sub>2</sub>

O<sub>2</sub>

غير قطبية

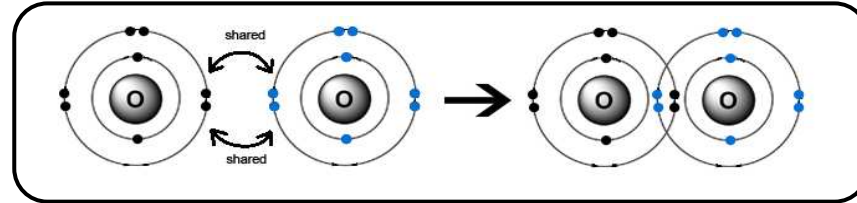
مثل

المشاركة بالألكترونات بشكل متساوي



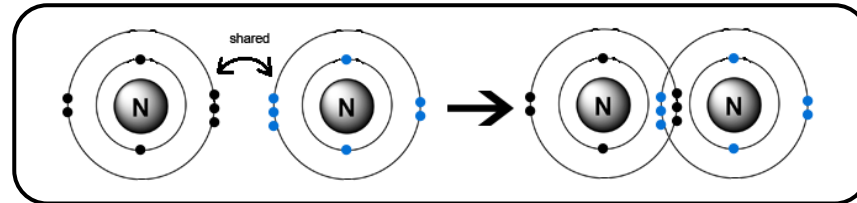
التساهمية أحادية

تساهم كل ذرة بإلكترون



التساهمية ثنائية

تساهم كل ذرة بإلكترونين



التساهمية ثلاثية

تساهم كل ذرة بثلاث إلكترونات

مثال 1: وضح كيفية تكوين الرابطة التساهمية في جزيء فلوريد الصوديوم (HF).

( F= 9 ,H= 1)

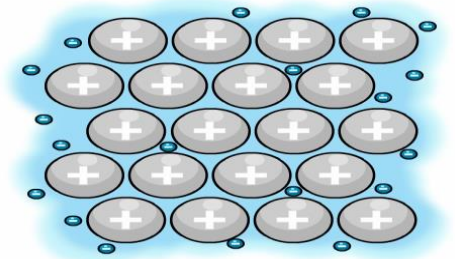
1) ذرة الهيدروجين (1) تحتوى على إلكترون واحد في المستوى الأخير ، فهي تحتاج إلكترون واحد ويصبح تركيبها الإلكتروني مشابه للتركيب الإلكتروني لغاز الهليوم (2) ، فبالتالي تساهم بالإلكترون واحد .

2) ذرة الفلور (2,7) تحتوى على سبعة الكترونات ، فهي تحتاج إلكترون واحد ويصبح تركيبها الإلكتروني مشابه للتركيب الإلكتروني لغاز النيون (2,8) ، فبالتالي تساهم بالإلكترون واحد .

3) تساهم كل ذرة بالإلكترون واحد وتتكون رابطة تساهمية أحادية بين الذرتين.



ثالثاً : الرابطة الفلزية



رابطة تنشأ نتيجة للتجاذب بين الكترونات المستوى الخارجي مع نواة الذرة من جهة ونوى الذرات الأخرى من جهة ثانية داخل الفلز في حالته الصلبة.

الفلز

تحدث بين ذرات

الرابطة الفلزية

تعرف بأنها

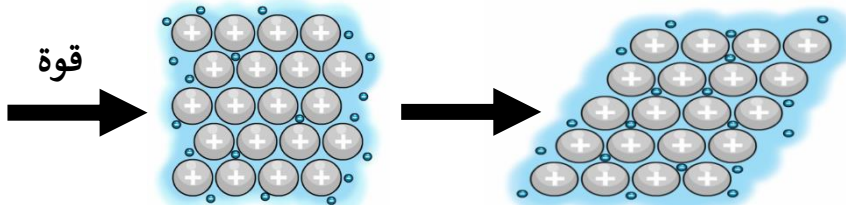
خصائصها

تجعل ذرات الفلز أكثر تماسكا

لها دور في التوصيل الكهربائي

عند سحب الفلز أو طرقه فإنه لا ينكسر

قوة



عدد الإلكترونات التي تفقدها أو تكتسبها أو تساهم بها الذرة للوصول إلى حالة الاستقرار

يعرف بأنها

التكافؤ




التكافؤ	كيف يصل إلى الأستقرار	التوزيع الإلكتروني	العدد الذري	العنصر
2-	يكتسب 2	2.6	8	الأكسجين
3-	يساهم ب3 أو يكتسب 3	2.5	7	النيتروجين
1+	يفقد 1	2.8.1	11	الصوديوم
2+	يفقد 2	2.8.2	12	المغنسيوم

تعبير عن العناصر المكونة للمركب و عدد ذرات كل منها

تعرف بأنها

الصيغة الكيميائية

عدد ذرات كل عنصر	رموز العناصر	العناصر المكونة	عدد الجزئيات	الاسم	الصيغة الكيميائية
6	N	نيتروجين	3	نيتروجين	3N <sub>2</sub>
12	H	هيدروجين	6	الماء	6H <sub>2</sub> O
6	O	أكسجين			
6	H	هيدروجين	2	حمض الفوسفوريك	2H <sub>3</sub> PO <sub>4</sub>
2	P	فسفور			
8	O	أكسجين			



مجموعة من الذرات تسلك سلوك الذرة الواحدة مثل مجموعة الهيدروكسيد (OH)

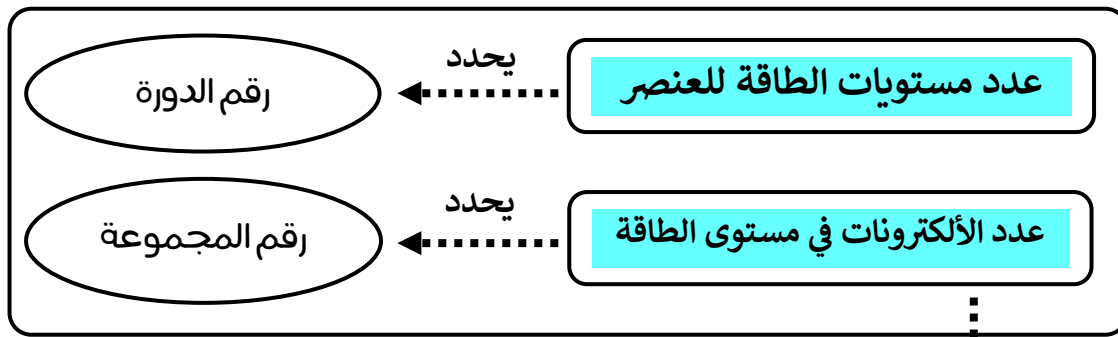
تعرف بأنها

المجموعة الذرية



9

ملاحظة : ارجعي إلى الكتاب المدرسي صفحة 147 لحفظ تكافؤات و رموز العناصر المجموعات الذرية

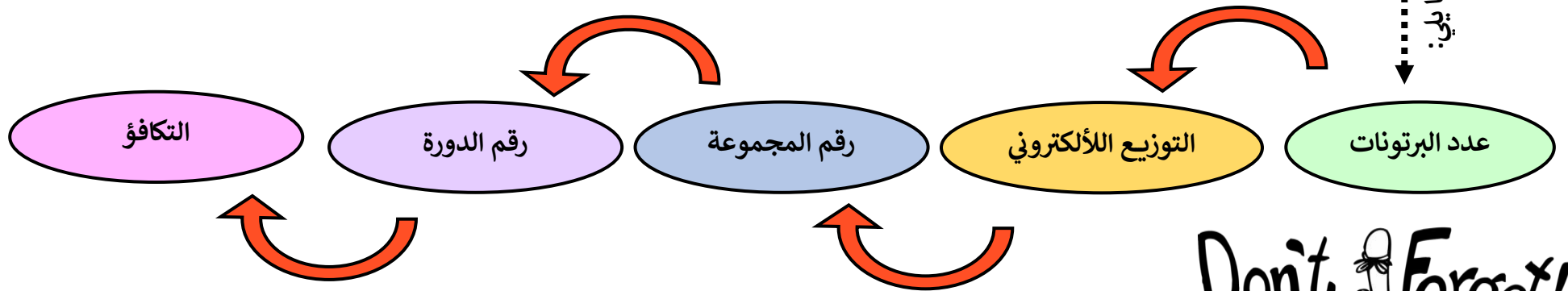


ملاحظات هامة

من العدد الذري

يمكن تحديد ما يلي:

إذا زاد عدد الإلكترونات في آخر مستوى عن 2 ، نضيف العدد 10 على عدد الإلكترونات لتحديد رقم المجموعة .



Don't Forget!

العنصر	عدد البروتونات	التوزيع الإلكتروني	رقم الدورة	رقم المجموعة	التكافؤ
الأكسجين	8	2,6	2	16	-2
النيروجين	7	2,5	2	15	-3
الصوديوم	11	2,8,1	3	1	+1
المغنسيوم	12	2,8,2	3	2	+2

الصيغة الكيميائية	اسم المركب	الصيغة الكيميائية	اسم المركب
$Fe_2O_3$	أكسيد الحديد	$NH_4OH$	هيدروكسيد الأمونيوم
$Li_3N$	نيتريد الليثيوم	$Na_2SO_4$	كبريتات الصوديوم
$Fe(OH)_3$	هيدروكسيد الحديد	$CaCO_3$	كربونات الكالسيوم
$NaNO_3$	نترات الصوديوم	$Al_2(SO_4)_3$	كبريتات الألمنيوم
$KClO_3$	كلورات البوتاسيوم	$Mg(OH)_2$	هيدروكسيد المغنسيوم

## تسمية المركبات

الخطوات

تطبيق الخطوات

التسمية	العنصر
أكسيد	أكسجين
نيتريد	نيتروجين
كربيد	كربون
هيدريد	هيدروجين
فوسفيد	فوسفور
كبريتيد	كبريت

عند إضافة المقطع يد إلى بعض العناصر  
تحذف بعض أحرف العنصر لتسهيل اللفظ

يسمى العنصر الموجود عن يمين المركب مع إضافة المقطع  
(يد) وفي بعض العناصر يضاف المقطع (يد) بعض حذف  
الحروف للتخفيف من اللفظ ثم يذكر اسم العنصر الذي  
يقع عن يسار المركب.

مثال



كلوريد الصوديوم



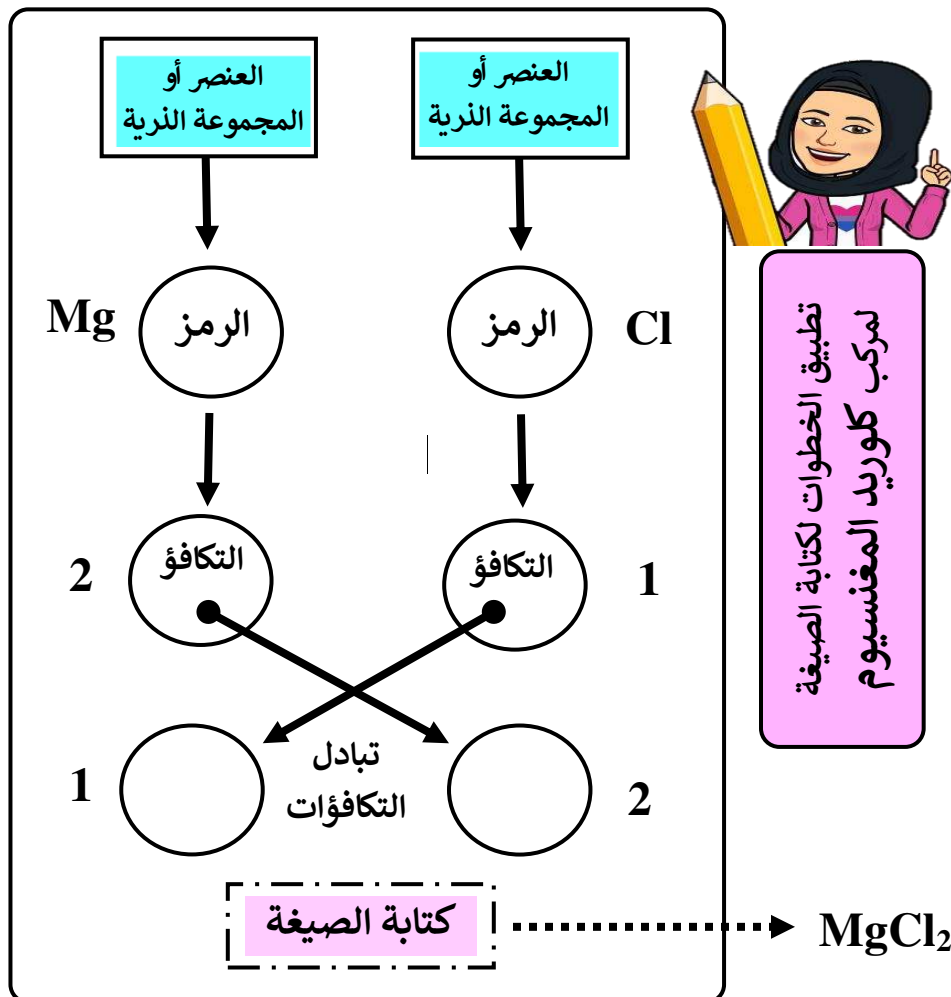
فوسفات الأمونيوم (NH <sub>4</sub> ) <sub>3</sub> PO <sub>4</sub>	كربونات البوتاسيوم CaCO <sub>3</sub>	كلوريد المغنسيوم MgCl <sub>2</sub>
نترات الفضة AgNO <sub>3</sub>	هيدروكسيد الألمنيوم Al(OH) <sub>3</sub>	أكسيد الصوديوم Na <sub>2</sub> O

تطبيق للخطوات



كتابة الصيغة الكيميائية

الخطوات



- 1) اكتب رمز العنصر أو المجموعة الذرية تحت المقطع الذي يمثله في المركب.
- 2) اكتب التكافؤ للعنصر أو المجموعات الذرية أسفل رموزها.
- 3) اكتب الصيغة الكيميائية بأبسط نسبة من الذرات ثم قومي بإبدال التكافؤ وضعيها أسفل يمين الرمز لتدل على عدد ذرات كل عنصر أو مجموعة ذرية.
- 4) اكتب الصيغة الكيميائية النهائية.

يهدى ثواب هذا العمل إلى روح الغالين أمي و أبي

مملكة البحرين  
وزارة التربية و التعليم  
مدرسة عالي الإعدادية للبنات  
قسم العلوم



عزيزتي الطالبة لا  
تعتمدي على هذا  
الملخص، بل ارجعي  
إلى الكتاب.



خرائط مفاهيميه للفصل التاسع


# التفاعلات الكيميائية



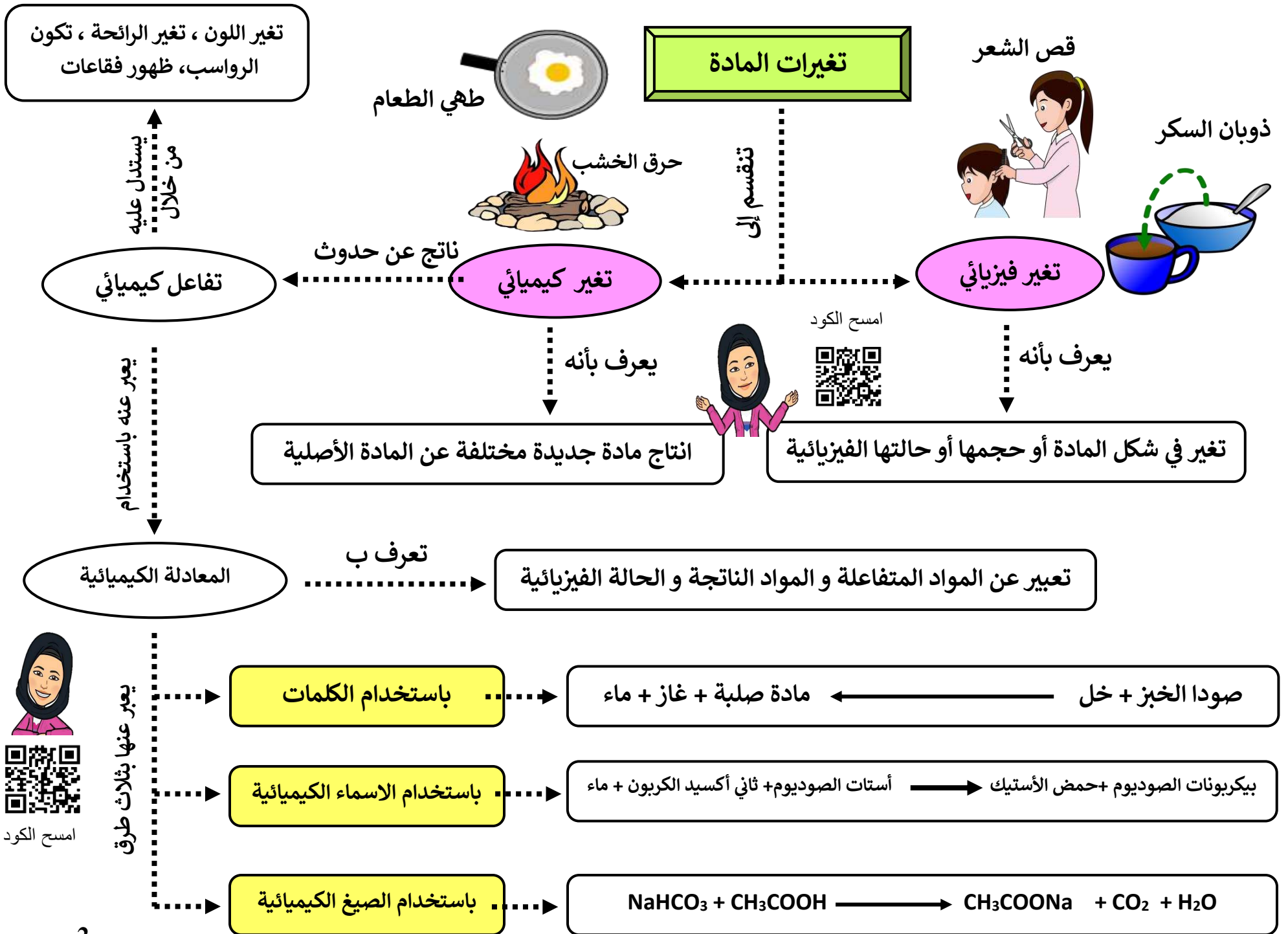
atika\_science.teacher



إعداد الأستاذة : عاتقة جعفر الجواهري







## ترتيب العناصر حسب نشاطها الكيميائي

تعرف ب


سلسلة النشاط الكيميائي

بوتاسيوم  
صوديوم  
كالسيوم  
مغنسيوم  
ألومنيوم  
كربون  
زنك  
حديد  
رصاص  
هيدروجين  
نحاس  
فضة  
ذهب

يزداد النشاط الكيميائي


تفاعلات الإحلال:

(1) **إحلال بسيط**: تفاعلات يحل فيها عنصر نشيط كيميائياً محل عنصر آخر أقل نشاطاً. يتوقف حدوث تفاعلات الإحلال البسيط على موقع الفلز في متسلسلة النشاط الكيميائي.




وتنقسم تفاعلات الإحلال البسيط إلى نوعين هما:



**إحلال فلز محل هيدروجين الأحماض المخففة:**



**إحلال فلز محل فلز آخر في أحد محاليل أملاحه:**



(2) **إحلال مزدوج**: تفاعل يتم بين مركبين بأن يحل الأيون الموجب من أحدهما محل الأيون الموجب في الآخر.



## الكتلة في التفاعلات الكيميائية

## حفظ الكتلة

تخضع لقانون

## التفاعلات الكيميائية

ينص على أن

كتلة المتفاعلات تساوي كتلة النواتج

أو

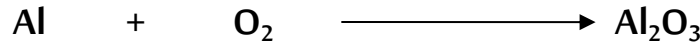
عدد الذرات و نوعها يجب أن يكون متساوياً في المتفاعلات و النواتج



امسح الكود



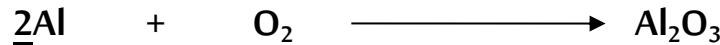
مثال




لوزن المعادلة الكيميائية

1 تحديد العناصر في المتفاعلات و النواتج ( الألمنيوم ، الأكسجين )

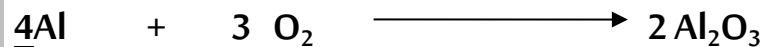
2 بما أن عدد ذرات الألمنيوم في المتفاعلات 1 و في النواتج 2 ، و لتحقيق الموازنة نضرب عدد ذرات الامنيوم في المتفاعلات في 2



3 بما أن عدد ذرات الأكسجين في المتفاعلات 2 و في النواتج 3 ، و لتحقيق الموازنة نضرب عدد ذرات الأكسجين في المتفاعلات في 3 و أكسيد الالمنيوم في النواتج في 2



4 لكن ذرات الألمنيوم اختلف عددها عند موازنة الأكسجين ، و عليه نعود لموازنة الألمنيوم بضرب عدد الذرات في 4 بدل 2



نتبع الخطوات التالية

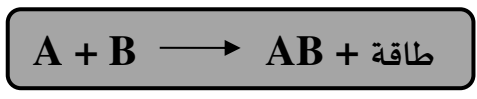
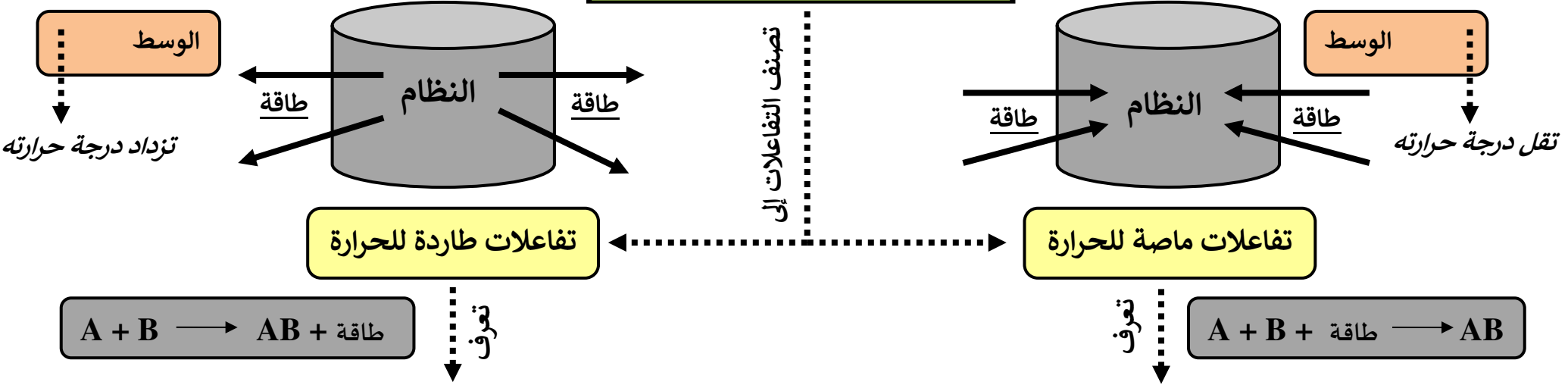


امسح الكود



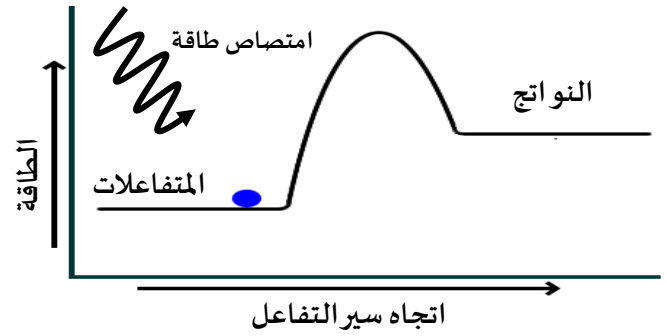
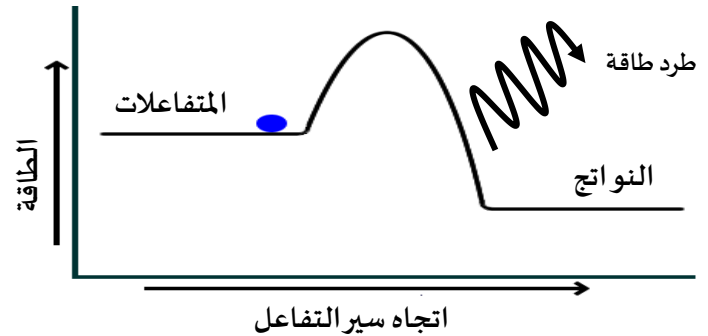
## الطاقة في التفاعلات الكيميائية

النظام : المتفاعلات و النواتج  
الوسط المحيط : أي شيء يحيط بالتفاعل



تفاعلات كيميائية يتم فيها طرد طاقة إلى الوسط المحيط

تفاعلات كيميائية يتم فيها امتصاص طاقة من الوسط المحيط



طاقة الروابط بين النواتج أقل من طاقة الروابط بين المتفاعلات


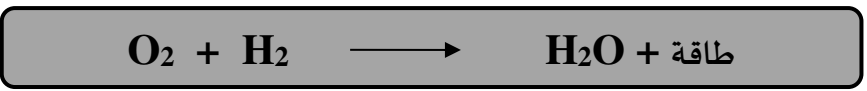
طاقة الروابط بين المتفاعلات أقل من طاقة الروابط بين النواتج

النواتج أكثر استقراراً من المتفاعلات

المتفاعلات أكثر استقراراً من النواتج

مثل : احتراق الخشب ، اللحم

مثل : تحلل الماء ، الكمادات الباردة ، البناء الضوئي



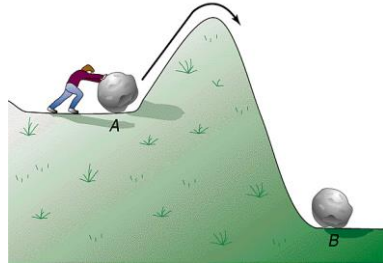
# التفاعلات الكيميائية

تحتاج إلى

طاقة تنشيط

تعرف بأنها

أقل مقدار من الطاقة لبدأ التفاعل الكيميائي



سرعة اختفاء أحد المتفاعلات أو سرعة تكون أحد النواتج

تقاس سرعتها

تؤثر في سرعتها ثلاثة عوامل هي

درجة الحرارة

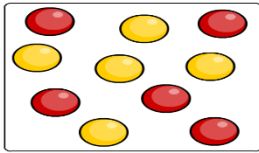
تزداد سرعة التفاعل بزيادة درجة الحرارة لأنه بارتفاع درجة الحرارة تزداد سرعة الجزيئات و عدد التصادمات بين الجزيئات مما يوفر طاقة كافية لكسر الروابط.

هو كمية المادة الموجودة في حجم معين

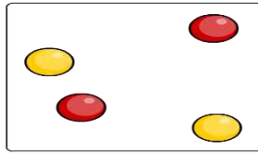
تركيز المتفاعلات

تزداد سرعة التفاعل بزيادة تركيز المتفاعلات

تركيز عالي




تركيز منخفض



مساحة السطح المعرضة للتفاعل

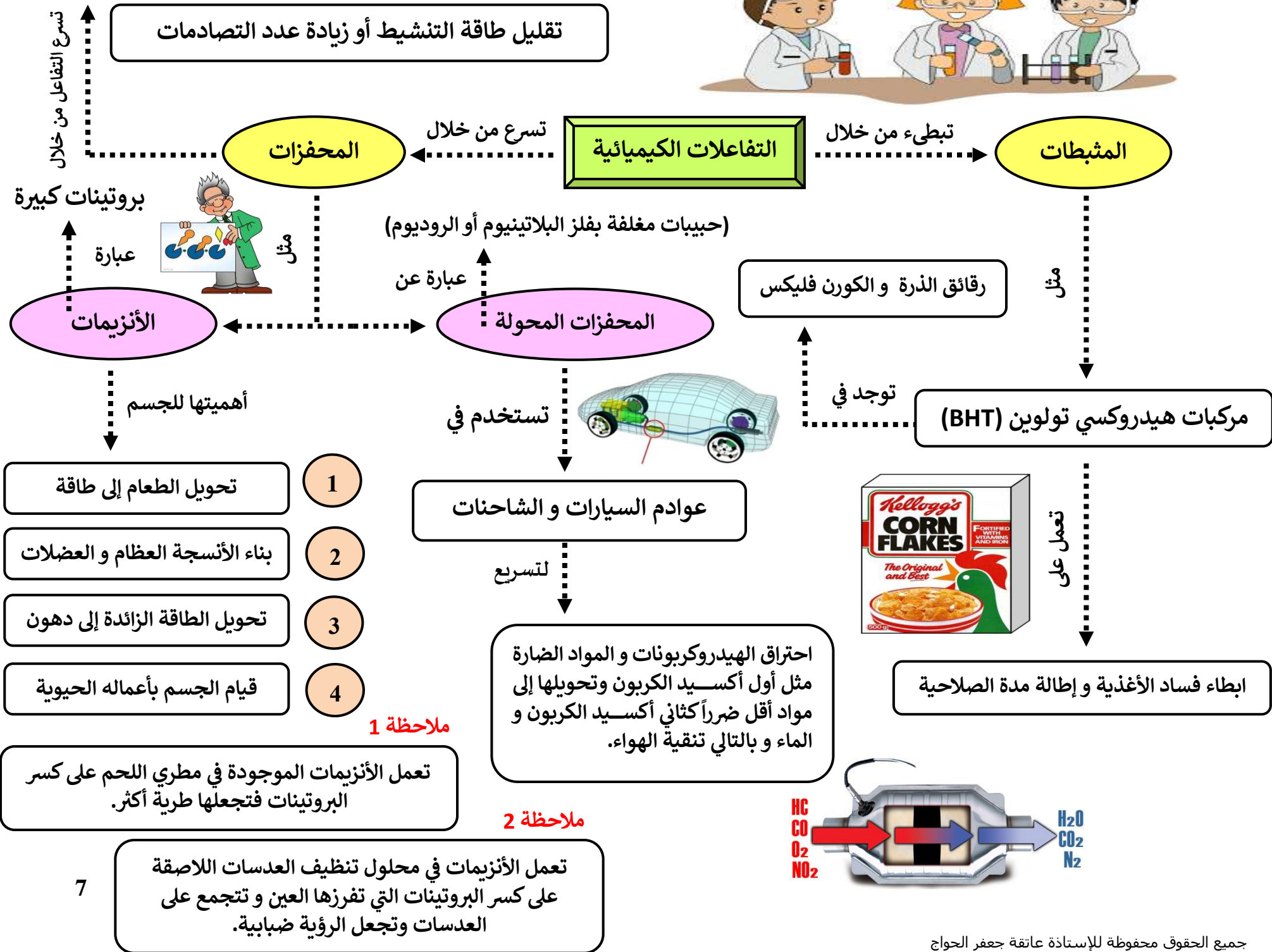
تزداد سرعة التفاعل بزيادة مساحة السطح المعرضة للتفاعل

مساحة السطح المعرضة للتفاعل صغيرة



مساحة السطح المعرضة للتفاعل كبيرة







عزيزتي طالبة لا تعتمدني  
على هذا الملخص، بل  
ارجعي إلى الكتاب.



إعداد الأستاذة : عاتقة جعفر

يهدى ثواب هذا العمل إلى روح الخالدين أبي و أمي



atika\_science.teacher



مادة كيميائية توجد في نواة الخلية تسجل فيها كل المعلومات عن الكائن الحي

تسمى

الحمض النووي الرايبوسي منقوص الأكسجين

يرمز له

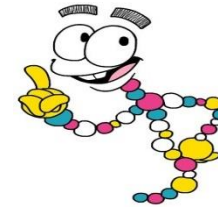
DNA

يحدث خلال التطور البيئي

يرمز له

المادة الوراثية

اكتشافها



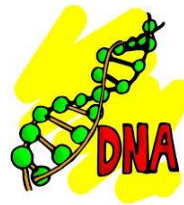
• منتصف 1800 م اكتشف العلماء أن نواة الخلية تحتوي على الأحماض النووية .

• 1950م عرف العلماء مكونات DNA دون معرفة شكل ترتيب مكوناته .

• 1953 م بنى كل من جيمس واتسن و فرانسيس كريك نموذج لـ DNA .

- 1) تنفصل السلسلتان في الـ DNA إحداهما عن الأخرى عند حدوث عملية التضاعف يساعد ذلك إنزيم معين ( إنزيم فك الحلزنة ) .
- 2) ترتبط قواعد نيتروجينية جديدة بالقواعد النيتروجينية الأصلية .
- 3) يتج جزئان جديان متطابقان من الـ DNA .

نسخ الـ DNA

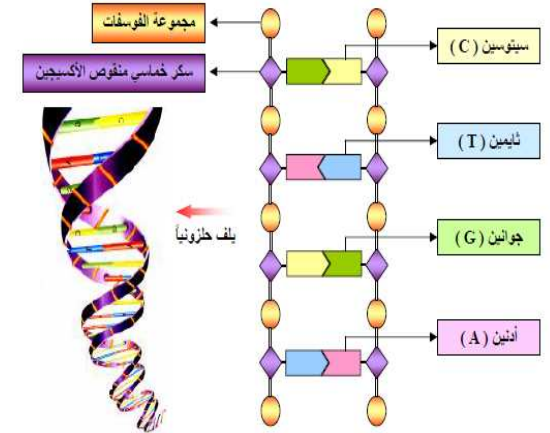


الشكل

يشبه شكل الـ DNA السلم الحلزوني

يتكون من

تعاقب سكر خماسي رايبوزي منقوص الأكسجين و مجموعة الفوسفات بينما درجاته مكونة من القواعد النيتروجينية ( وعددها 4 قواعد ) هي الادينين ( A ) والجوانين ( G ) والسيتوسين ( C ) والثايمين ( T ) .



لأحظ العلماء أن :

كمية السيتوسين = كمية الجوانين / كمية الثايمين = كمية الادينين

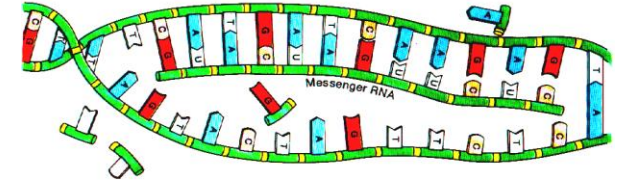
فافترضوا أن القواعد تكون على شكل أزواج مرتبطة ، حيث يرتبط الادينين دائما مع الثايمين في كما يرتبط الجوانين مع السيتوسين .

امسح الكود






# بناء الخلايا والأنسجة و تعمل كإنزيمات



DNA



البروتينات

صفات الكائن الحي

تحصل على المعلومات لصنع البروتين من

الخلايا

تصنع في

تعتمد على

تتكون من

سلسلة من الأحماض الأمينية

الرايبسومات

بواسطة

الراسل

mRNA

يقوم بالتنقل بين النواة والريبوسوم حاملاً شفرة تصنيع البروتين

سلسلة واحدة تتكون من سكر خماسي رايبوزي و فوسفات و يحتوي على أربعة قواعد نيتروجينية (A/G/C/U)

يتكون من

RNA

أنواعه

الرايبوسومي

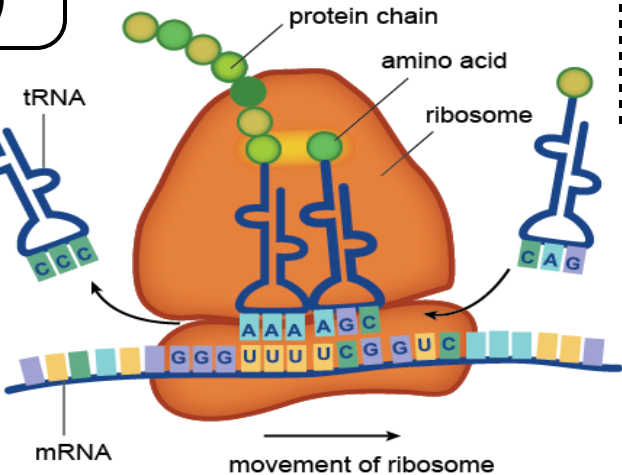
rRNA

يوجد في الريبوسومات ويعمل على ربط الأحماض في سلسلة عديد البيبتيد.

الناقل

tRNA

يقوم بنقل الأحماض الامينية إلى الريبوسومات وربطها وفق الشفرة التي يحملها الراسل.



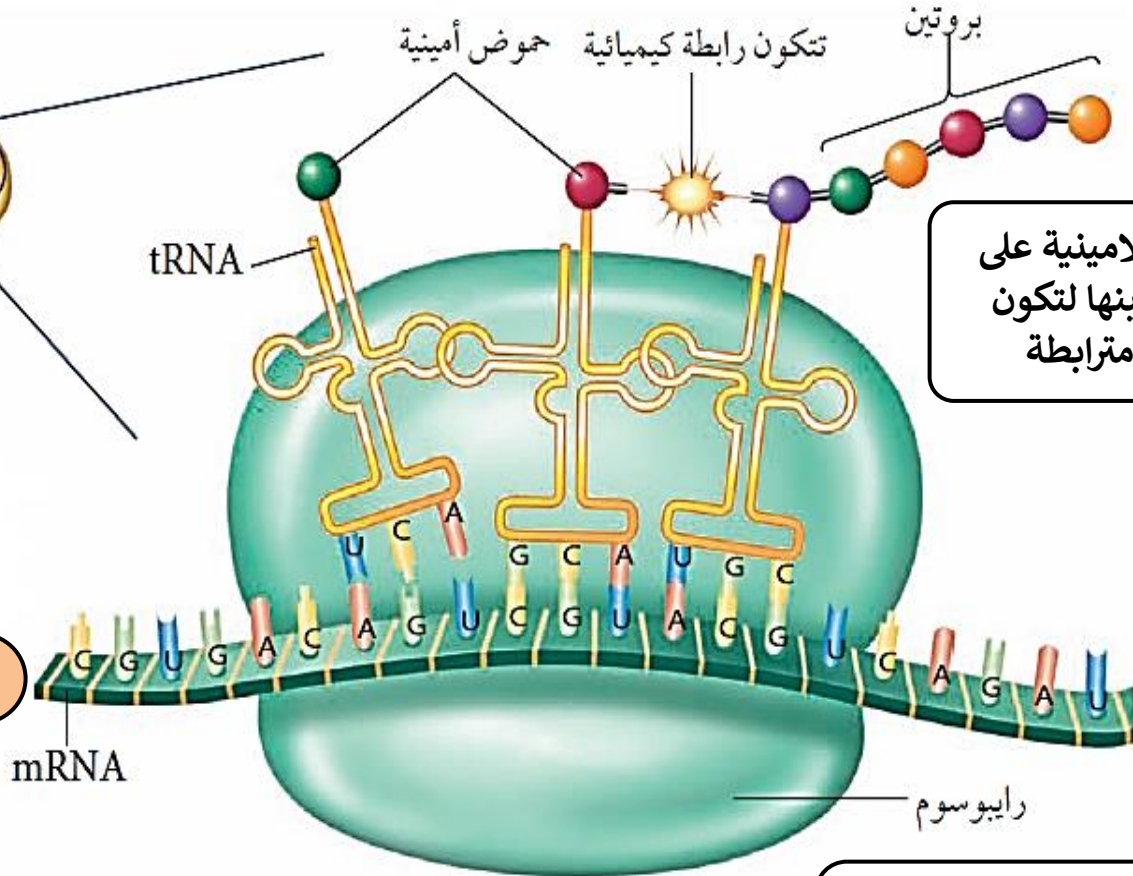
## مراحل تصنيع البروتينات داخل الخلية

1 ينتقل ال mRNA من النواة إلى  
ال سيتوبلازم  
حاملًا شفرة تصنيع البروتين



3 ترتبط كل قاعدة نيتروجينية من  
ال mRNA مع ما يقابلها في  
tRNA وتستمر العملية

mRNA



4 ترتبط الاحماض الامينية على  
ال tRNA فيما بينها لتكون  
سلسلة طويلة مترابطة

2 يرتبط ال mRNA مع  
ال رايوسومات التي تحتوي على  
ال rRNA المنتشرة في سيتوبلازم  
ال خلية



امسح الكود

العالم مندل

أسسه

علم الوراثة

مبادئها

- 1) تتحكم الجينات المتقابلة المحمولة على الكروموسومات في الصفات الوراثية .
- 2) يكون تأثير الجين إما سائداً أو متنحياً .
- 3) انفصال الكروموسومات في الانقسام المنصف .

يطلق على العلم الذي يدرسها

الوراثة

عملية انتقال

الصفات الوراثية

من

الآباء إلى الأبناء

يتحكم فيها

زوجين من الجينات

تعرف الجينات

قطعة من ال DNA تتحكم في صفة وراثية واحدة



يطلق عليهما

الجينات المتقابلة

إذا كانت

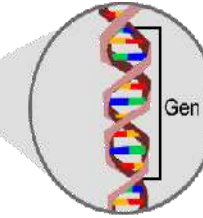
متماثلة

إذا كانت

غير متماثلة



Chromosom



Gen

تنقسم الجينات إلى



امسح الكود



جين متنحي

جين سائد

نقية


هجينة

تكون الصفة

تكون الصفة

تختفي في وجود الجين السائد ولا تظهر الا في الحالة النقية

تسود و تمنع ظهور الصفة المتنحية



الاحتمالات هو فرع من فروع الرياضيات تساعد على توقع فرصة حدوث شيء ما.  
ويستعمل لتسهيل عملية التوقع أداة تسمى **مربع بانيت**

## الأحتمالات و توقع الصفات

تطبيق

ارجواني هجين


	F	f
f	Ff	ff
f	Ff	ff

أبيض نقي

ما لون أزهار نبات البازلاء الناتجة عن تلقيح نبات أزهاره بيضاء نقية مع نبات أزهاره أرجوانية هجينة ؟ علماً بأن اللون الأرجواني صفة سائدة و اللون الأبيض صفة متنحية .

الحل:

لنعطي العامل المسؤول عن اللون الإرجواني حرف ( F )  
و العامل المسؤول عن اللون الأبيض حرف ( f )



النسبة المئوية	الطرز الجينية	الطرز المظهرية
%50	Ff	أرجواني هجين
%50	ff	أبيض نقي

