

تم تحميل هذا الملف من موقع المناهج البحرينية

*للحصول على أوراق عمل لجميع الصفوف وجميع المواد اضغط هنا

<https://almanahj.com/bh>

* للحصول على أوراق عمل لجميع مواد الصف الثامن اضغط هنا

<https://almanahj.com/bh/8>

* للحصول على جميع أوراق الصف الثامن في مادة اجتماعيات ولجميع الفصول, اضغط هنا

<https://almanahj.com/bh/8>

* للحصول على أوراق عمل لجميع مواد الصف الثامن في مادة اجتماعيات الخاصة بـ اضغط هنا <https://almanahj.com/bh/8>

* لتحميل كتب جميع المواد في جميع الفصول للـ الصف الثامن اضغط هنا

<https://almanahj.com/bh/grade8>

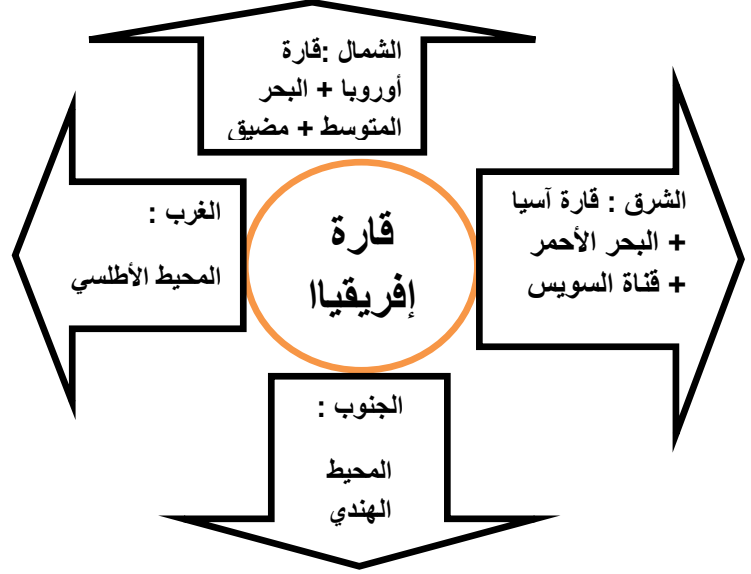
[almanahjbhbot/me.t//:https](https://t.me/almanahjbhbot)

للتحدث إلى بوت على تلغرام: اضغط هنا

الموقع ومظاهر السطح 1

أولا / الموقع

حددي الموقع الجغرافي لقارة إفريقيا :



هل تعلمين عزيزتي الطالبة:

تعتبر قارة إفريقيا من قارات العالم القديم .

تحتل إفريقيا المركز الثاني من حيث المساحة

ثانيا/ اذكرى مميزات القارة الإفريقية ؟ (على قارة إفريقيا كتلة متماسكة)

- 1- كتلة متماسكة
- 2- شواطئها شبه منتظمة .
- 3- يقطعها القليل من الخلجان . مثل (خليج غينا و خليج سرت وخليج مابوتوا) ابحثي عنهم على الخريطة وأشيري إليهم.
- 4- جزرها وأشباه جزرها قليلة . مثال الجزر (جزيرة مدغشقر وجزر القمر) شبه الجزيرة مثل (الصومال) أشير إليهم في الخريطة .

ثالثا: قارنى بين تضاريس القارة الإفريقية ؟ (ملاحظة يجب على الطالبة الإشارة على الاسماء على الخريطة)

التضاريس المميزات	الجبال	الهضاب	السهول
1- تتركز في الأطراف. الشمال : جبال أطلس الغرب : جبال فوتاتجالون والكامرون الجنوب : جبال داركسبرغ الشرق : مرتفعات أثيوبيا وجبل رونزوري وجبل كلمنجارو (أعلى قمة وتكسوها الثلوج برغم أنها على خط الاستواء) 2- تنتشر البراكين النشطة والبحيرات بالقرب من المرتفعات الشرقية. اسماء البحيرات : مالاوي / تنجنيقا / فكتوريا / توركانا	1- منبسطة . علي؟ بسبب عوامل التعرية. أسماء الهضاب : -هضبة الصحراء الكبرى (الأكبر) 2- تقطع الهضاب جبال منعزلة وبعض المنخفضات والأودية . *الجبال: الأحجار وتبتستي ودارفور * المنخفضات: النيجر وتشاد والكونغو والسود *الأودية: مثل نهر النيل والكونغو والزامبيزي والنيجر.	1-تمتد على طول سواحل قارة إفريقيا. 2- تكون ضيقة عند السواحل ومنتسعة حول الأنهار مثل (سهل الكونغو والنيجر ودلتا النيل)	

المناخ 2

السؤال الأول / علي غياب الأقاليم الباردة عن القارة الأفريقية ؟

بسبب بعدها عن القطبين الشمالي والجنوبي

مرورها على خط الاستواء الشديد الحرارة

السؤال الثاني/ قارني بين الأقاليم المناخية للقارة الإفريقية من حيث الموقع والخصائص المناخية والنبات :

الأقاليم المناخية	الموقع	عدد الفصول	الخصائص حرارة وأمطار	النبات	الصعوبات في هذا الإقليم
الاستوائي	حوض الكونغو خليج غينيا	فصل واحد فقط	رطوبة: مشبعة الأمطار: غزيرة ومنتظمة الحرارة: معتدلة 26.3	غابات استوائية -دائمة الخضرة -أشجار عملاقة -نباتات متسلقة	1-عدم وصول أشعة الشمس بسبب كثافة الغابات. 2-صعوبة عيش الإنسان فيها لعدم قدرته على اجتيازها.
المداري الرطب	المناطق الواقعة على جانبي الإقليم الاستوائي	فصلان ممطر في الصيف جاف في الشتاء	الحرارة : مرتفعه تصل إلى 25 شتاء و30 صيفا. الأمطار : غير منتظمة تقل تدريجيا كلما اتجهنا إلى الإقليم الصحراوي.	غابات السافانا	قلة الأمطار والنباتات كلما ابتعدنا شمالا أو جنوبا .
الصحراوي	المناطق الواقعة بالقرب من المدارين صحراء كلهاري والصحراء الكبرى و صحراء ناميبيا	فصلان صيف طويل وشتاء قصير	الحرارة: مرتفعة تتعدى 40 درجة صيفا . الأمطار: قليلة تتناقص كلما اتجهنا إلى الداخل عند منطقة القحط	أعشاب شوكيه أشجار متناثرة	الحرارة المرتفعة جدا وندرة الأمطار
المتوسطي	أطراف أفريقيا شمالا وجنوبا	فصلان الصيف: حار وجاف الشتاء: معتدلا وممطر	حار جاف صيفا معتدل ممطر شتاء	غابات الصنوبر والأرز والسنديان	لا يوجد

الخصائص السكانية 4

السؤال الأول/ علي اختلاف الكثافة السكانية من منطقة إلى أخرى في القارة الأفريقية؟

بسبب تنوع المناخات والتضاريس. حيث تبلغ 2 نسمة كلم في الصحاري والغابات و 20 نسمة كلم عند المناطق الأخرى.

أسباب التركيز في المناطق الأخرى:

- 1- سيادة المناخ المتوسطي ووفرة المياه (المغرب العربي جنوب أفريقيا)
- 2- اعتدال الحرارة . (الهضاب الأثيوبية والبحيرات)
- 3- توافر السهول الخصبة والمياه . (حول نهر النيل وسهول سواحل غينيا)

السؤال الثاني: علي ارتفاع الزيادة الطبيعية في القارة الأفريقية.

1- بسبب ارتفاع نسبة الولادات وانخفاض نسبة الوفيات

هل تعلمين:

ربع سكان أفريقيا
يسكنون حول نهر
النيل وفي المغرب
العربي

السؤال الثالث/ علي فتوة المجتمع الأفريقي

بسبب ارتفاع عدد الأشخاص من فئة الفتيان (أعمارهم تحت 15 سنة) بنسبة 42% من نسبة السكان.

السؤال الرابع/علي النزوح من الريف الأفريقي إلى المدن؟ وما النتائج؟

النتائج: انتشار الأحياء الفقيرة وأكواخ
البؤس عند أطراف المدن.



بسبب الفقر وبحثا عن فرص للعمل .

السؤال الخامس/ علي انتشار الأمية في القارة الأفريقية. وما النتائج؟

النتائج: الحد من تحسين الظروف الاجتماعية
والاقتصادية.



بسبب النقص في أعداد المعلمين والمدارس.

الزراعة 5

السؤال الأول: قارني بين كل من الزراعة المعيشية والزراعة التجارية في القارة الأفريقية:

الخصائص	الزراعة المعيشية	الزراعة التجارية
الهدف منها	تؤمن احتياج قسم كبير من الأفريقيين.	معظمها ملك الدولة او الشركات الأجنبية او كبار الملاكين وتصدر للخارج.
الأدوات	الوسائل التقليدية	الوسائل الحديثة
المنتجات في المناخ الاستوائي (تعتمد على حرق الغابات)	الموز الذرة الأرز والنباتات التي تشبه البطاطا مثل المانيوت والانيام.	زيت النخيل والمطاط والكاكاو وجوز الهند والموز وقصب السكر والبن والانناس.
المنتجات في المناخ المداري (تعتمد على مياه الأمطار)	الدخن الذرة البيضاء القمح.	الفول السوداني والأرز والقطن.
المشاكل	-ارتفاع عدد السكان بشكل يفوق كمية الإنتاج الزراعي -استخدام وسائل تقليدية . -الفقر الذي يعيق تطوير الزراعة.	-المنافسة من قارات أخرى يؤدي إلى انخفاض الصادرات وتدني في الأسعار مما يؤثر سلبا على دخل أفريقيا.

السؤال الثاني: وضح خصائص طريقة حرق أشجار الغابات في المناطق الاستوائية للزراعة المعيشية؟

تفرض على المزارع التنقل باستمرار من مكان إلى آخر لكي لا يهلك أرضه ويستنفد قدرتها على الإنتاج .

السؤال الثالث: ما هي المشاكل التي تواجه الزراعة المعيشية في الإقليم المداري؟

التعرض للأخطار الجفاف عند انحباس الأمطار خصوصا في الأطراف الشمالية والجنوبية القريبة من المناخ الصحراوي .

السؤال الرابع: اذكر نتائج العجز في إنتاج الزراعة المعيشية ؟

الحل:
زيادة واردات المزروعات المعيشية والمواد.

- 1-سوء التغذية او نقص التغذية .
- 2-التعرض إلى المجاعة بسبب الكوارث الطبيعية كالجفاف وموجات الجراد.

السؤال الخامس: ما ابرز نتائج المنافسة التي تتعرض لها المزروعات التجارية الأفريقية ؟

- 1-انخفاض صادرات دول أفريقيا من منتجاتها الزراعية .
- 2-تدني أسعارها مما أدى إلى انخفاض دخل دول أفريقيا.

ملاحظة : هذا الدرس يقتصر على دول أفريقيا الوسطى والجنوبية أما أفريقيا الشمالية سيتم تناولها في دروس الوطن العربي.

الصناعة 6

السؤال الأول: بيني أسباب ضعف الإنتاج الصناعي في دول

أفريقيا رغم امتلاكها ثروات باطنية ضخمة؟

عزيزتي الطالبة:

جميع دول أفريقيا
إنتاجها الصناعي
قليل يصل 1%

ما عدى

دولة جنوب أفريقيا

عزيزتي الطالبة:

تعتبر الدول
الأفريقية غنية
ب:

1-الثروة
المعدنية

1- قلة الطب الداخلي عليها بسبب ارتفاع الأسعار وفقر السكان.

2- افتقار هذه الدول لرؤوس الأموال الوطنية.

3- افتقار الأيدي العاملة المتخصصة .

4- النقص في وسائل النقل.

السؤال الثاني: قارني بين كل من الصناعة الاستخراجية والصناعة التحويلية مميزاتها ومشاكلها

الخصائص	الصناعة الاستخراجية	الصناعة التحويلية	الصناعة المحلية (خفيفة)
أهم الصناعات	استخراج المعادن/ مصادر الطاقة.	الألات والأدوات الزراعية والمواد الكيميائية	صناعة النسيج الصناعات الغذائية مثل تعليب الفواكه والأسماك وتكرير السكر والزيوت النباتية
عملية التصنيع	خارج الدول الأفريقية في أوروبا واليابان والولايات المتحدة الأمريكية تقوم هذه الدول بتعدين المعادن وتكرير النفط	موجودة في دول أفريقيا ولكن كمياتها محدودة	محليا وتكفي الاستهلاك المحلي
الأسباب قلة التصنيع	عدم توافر الألات والخبراء	قلة المصانع والخبراء	لا يوجد

(السياسات التنموية لدول افريقيا)

المرحلة الثالثة: ماهي الحلول لمعالجة
أسباب فشل السياسات التنموية؟

اعتماد دول أفريقيا سياسات تنموية
جديدة:

-تشجيع القطاع الخاص على المشاركة
في الأنشطة الاقتصادية.

-تشجيع رؤوس الأموال الأجنبية على
الاستثمار في أراضيها.

المرحلة الثانية: ما أسباب فشل السياسات التنموية وما النتائج؟

فشلت هذه المشاريع بسبب:

-عجز دول أفريقيا عن المنافسة .

-الافتقار للخبراء أدى إلى عدم صيانة المصانع.

النتيجة: تدني الإنتاج الصناعي الأفريقي وحلول خسائر مادية كبيرة
جعلتها تستدين من الخارج لدفع رواتب الموظفين وإبقاء المستشفيات
والمدارس قيد العمل.

المرحلة الأولى: ما السياسات
التنموية التي اعتمدها دول
أفريقيا بعد الاستقلال؟

1-إنشاء العديد من المصانع
الحديثة كصناعة الاسمنت
والفولاذ و 2 -عمل السود

3-وتطوير طرق المواصلات
نفذت هذه المشاريع بمساعدات

الموقع والمميزات 7

هل تعلمين؟

عدد دول الوطن العربي
22 دولة.

انضمت جزر القمر إلى
جامعة الدول العربية
1993 م .

ما الروابط المشتركة
لدول الوطن العربي ؟
-الإسلام.

-اللغة الواحدة (العربية).
-التاريخ المشترك.
-الحضارة الواحدة .

علي : اعتبار الوطن
العربي معبر للطرق
التجارية العالمية البرية
والبحرية؟

بسبب إشرافه على ممرات
بحرية ومنها : قناة السويس
ومضائق هرمز وباب
المنندب وجبل طارق.

كيف تخلصت الدول العربية من الاستعمار الأجنبي؟

بتضامنها وتعاونها في منظمة جامعة الدول العربية. فاستعادت أراضيها وثرواتها بعد ان
نالت استقلالها .

حددي موقع الوطن العربي الجغرافي ؟

الشمال: البحر المتوسط ثم قارة أوروبا
ومضيق جبل طارق.

الغرب:
المحيط
الأطلسي



الشرق
قارة:
آسيا

الجنوب : قارة أفريقيا + المحيط
الهندي

علي: العوامل التي جعلت الوطن العربي مهما
ومحل أطماع للغرب وانعكاسات ذلك عليه؟

العوامل (الأسباب):

- 1-الموقع الوسطي للوطن العربي بين القارات.
- 2-إشرافه على ممرات مائية مهمة.
- 3-كونه مليء بالخيرات كالنفط.

الانعكاسات:

- 1- وقوع الوطن العربي تحت الاستعمار الأجنبي كالبرتغال واسبانيا وفرنسا وبريطانيا.
- 2- تدافع الشركات الأوروبية والأمريكية واليابانية لاستثمار النفط في الوطن العربي.

أذكر المميزات
العامّة لبيئة الوطن
العربي؟

يقع في منطقة حارة
قليلة الأمطار.

-تغطي الصحاري
نسبة كبيرة مساحته.

-موارده المائية قليلة

-مساحة الغطاء
الزراعي والأراضي
الزراعية ضيقة.

مساحة الوطن العربي
بالنسبة لدول العالم:

-أكبر من مساحة
الولايات المتحدة
الأمريكية والصين ودول
المجموعة الأوروبية
والهند.

سكان الوطن العربي:

عدد سكان الوطن العربي
أقل من سكان الصين أو
الهند أو المجموعة
الأوروبية .

لكنه يزيد عن عدد سكان
الولايات المتحدة
الأمريكية.

السطح 9

يتألف سطح الوطن العربي من : الهضاب / الجبال / السهول

أولاً: الهضاب :

اسم الهضاب	موقعها	مميزاتها	التضاريس التي تقطعها
هضبة الصحراء الكبرى + هضبة شبه الجزيرة العربية	ليبيا المملكة العربية السعودية	1-الجفاف 2-تكثر فيها العروق والرقوق والحمادي. 3-تخترقها الاودية والجبال والمنخفضات. 4-لا تصلح للسكن عدى عند الواحات وحول الأنهار	الجبال: الأحجار /تبستي/ دارفور المنخفضات : القطاره (مصر) السودود (السودان) البحر الميت(فلسطين)
هضبة بادية الشام	سوريا	1-قليلة الجفاف 2-صخورها بركانية 3-تخترقها الجبال 4-تصلح للسكن لان تربتها خصبة وتتساقط فيها الأمطار فيمارس فيها الزراعة والرعي	الجبال: جبل العرب + جبال تدمر (سوريا)

ثانياً: الجبال تنقسم الى نوعان

عللي : تركز السكان في بادية الشام؟

لأنها قليلة الجفاف وتسقط فيها الأمطار مما يؤدي إلى خصوبة التربة ويجعلها تصلح للزراعة والرعي.

الجبال الالتوائية	الجبال قديمة التكوين
صخورها رسوبية	صخورها قديمة
جبال أطلس / جبال بلاد الشام جبال كردستان.	جبال عمان/ جبال حضر موت/ جبال عسير والحجاز / مرتفعات البحر الأحمر في مصر والسودان.

اذكري مميزات الجبال؟

مميزات الجبال المتوسطة :

وفرة الينابيع فيها وكثرة الأنهار
يمارس فيها الزراعة والرعي

1-وعرة المسالك

2-شديدة الانحدار.

3-معتدلة الحرارة.

ثالثاً : السهول نوعان

سهول ساحلية	سهول نهريّة
1-خصبة : تصلح للزراعة تكون قرب الجبال توجد السواحل من سوريا إلى جنوب فلسطين ومن تونس إلى المغرب. يتركز فيها السكان.	خصوبة تربتها / ضيقة ما عدى حول الأنهار الكبرى. مثل نهر النيل ونهري دجلة والفرات
2-رملية : تكثر فيها السبخات /قليلة التعاريج / تنتشر على سواحلها المرافئ	يتركز فيها السكان

البيئة المتوسطة 11

أولاً: الموقع والمناخ

البيئة المتوسطة الخصائص	الموقع	المناخ	فصل الشتاء	فصل الصيف
المناطق الشمالية المطلة على البحر المتوسط .	فصلين رئيسيين شتاء معتدل وممطر صيف حار وجاف أما فصلان الخريف والربيع فهما قصيران وانتقاليان وأمطارهم قليلة.	-الأمطار غزيرة -تسقط بين أكتوبر و ابريل. -تسبب انجراف التربة . -تزيد الأمطار عند الجبال المطلة على البحر المتوسط. -أما خلف الجبال تقل الأمطار فتسبب مناخ شبه صحراوي.	يتصف بمساحات المناخ الصحراوي حيث الحرارة مرتفعه والجفاف شديد.	

ثانياً: الغطاء النباتي

1-علي غياب رقعة الغابات في البيئة المتوسطة؟

- بسبب حاجة الإنسان إلى توفير مسكن ومراعي للحيوانات فقام بقطع هذه الأشجار.
- كثرة الحرائق التي تتعرض لها الغابات.

2-ما هي النباتات التي تنمو في المناطق الشرقية للجبال

المتوسطة؟

تغيب الغابات عنها وتسيطر الأعشاب الشوكية التي تتحمل الجفاف وقلة المياه.

ما هي الأشجار التي تنمو في الغابات دائمة الخضرة في البيئة المتوسطة؟

- الصنوبر
- السنديان
- الارز

اذكري أسماء النباتات التي نمت محل الغابات ؟

- النباتات المتشابكة والكثيفة مثل الماكي.
- النباتات المبعثرة مثل الغاريك.

ثالثاً: الأنهار

الأنهار	الموقع	الأسماء	مميزاتها في الشتاء	مميزاتها في الصيف
دائمة الجريان	تتبع من الجبال المتوسطة وتصب في البحر المتوسط.	العاصي الأردن مجردة الشليف ام الربيع	تكون غزيرة جدا فتسبب فيضان الأنهار. مشاكلها: أضرار بالطرق والمباني والأراضي الزراعية .	تكون شحيحة فتقل كميات المياه الضرورية لحاجة الإنسان والنبات. مشاكلها: كثرة استعمالها يؤدي إلى نضوبها .

البيئة الصحراوية 12

أولاً: المناخ + النبات

السؤال الأول: حددي موقع البيئة الصحراوية في الوطن العربي وأذكرى أبرز خصائصها؟

الموقع: تنحصر بين البيئة المتوسطية في الشمال والبيئة المدارية الرطبة في الجنوب
خصائصها: قليلة الأمطار وعدم انتظامها / ارتفاع الحرارة / تدني الرطوبة /
تتميز بوجود فصلين فصل جاف وطويل وفصل ممطر وقصير .

السؤال الثاني: أذكرى أقسام مناطق البيئة الصحراوية وخصائص كل منطقة؟

المناطق	الموقع	الأمطار	كمية الأمطار	النبات
الشبه صحراوي	الأطراف الشمالية والجنوبية	تتساقط الأمطار في الأطراف الشمالية شتاء والأطراف الجنوبية صيفا	منتظمة كمياتها لا تتعدى 300 ملم ف السنة	تمارس نشاطات زراعية فترة سقوط المطر تنمو الأعشاب والأشجار.
الصحراوي	يحيط بمنطقة القحط	الأمطار قليلة جدا	غير منتظمة كمياتها لا تتجاوز 100 ملم في السنة	الأعشاب الشوكية وشجيرات
القحط	المناطق الداخلية للبيئة الصحراوية	الأمطار نادرة	تغيب سنوات كمياتها لا تتجاوز 10 ملم في السنة	لا يوجد

ثانياً: النهار في البيئة الصحراوية

1- عللي قيام تجمعات سكنية ريفية على جوانب الأودية.

بسبب مياه السيول التي تحدثها الأمطار الغزيرة المفاجأة والتي تجري في الأودية الجافة.

2- عللي قيام سكان الصحراء بإقامة السدود عند مجاري الأودية الجافة

وذلك بسبب محدودية كميات مياه السيول وعدم انتظامها فقاموا ببناء السدود للحفاظ على المياه ولجأ والى حفر الافلاج والآبار واستخراج المياه الجوفية.

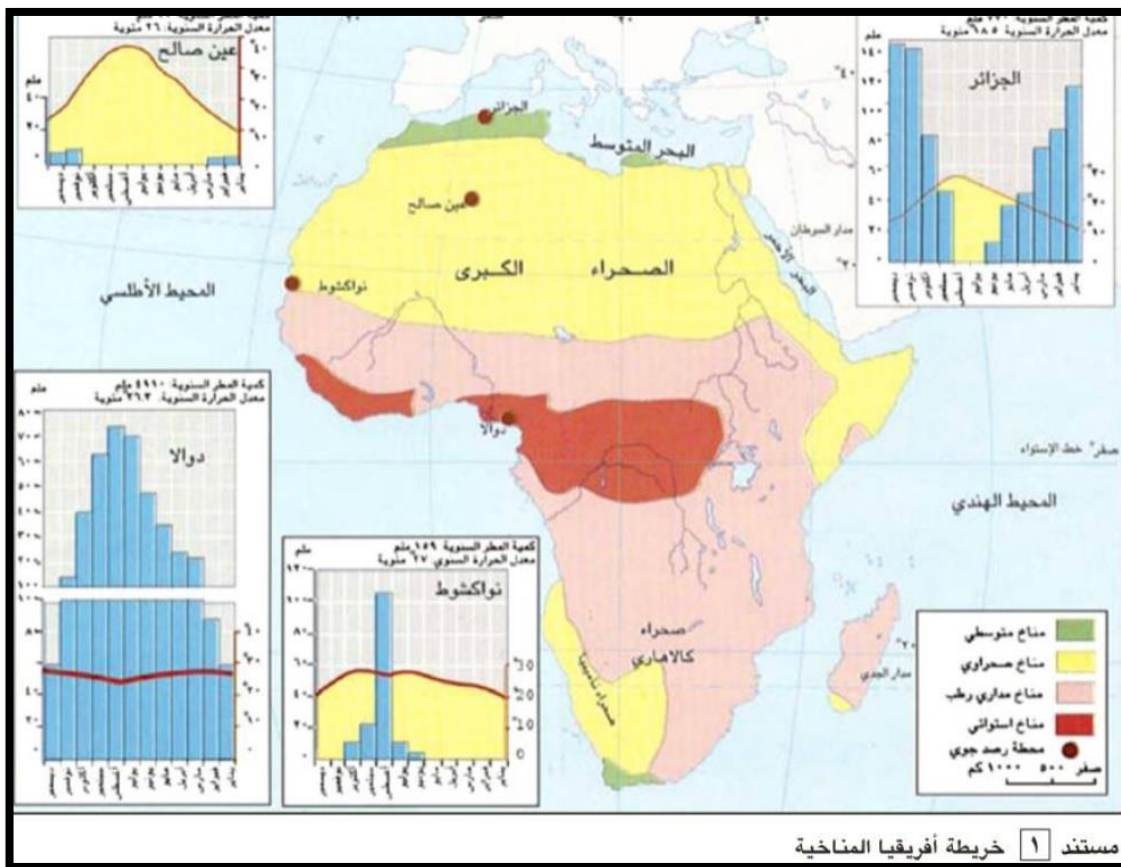
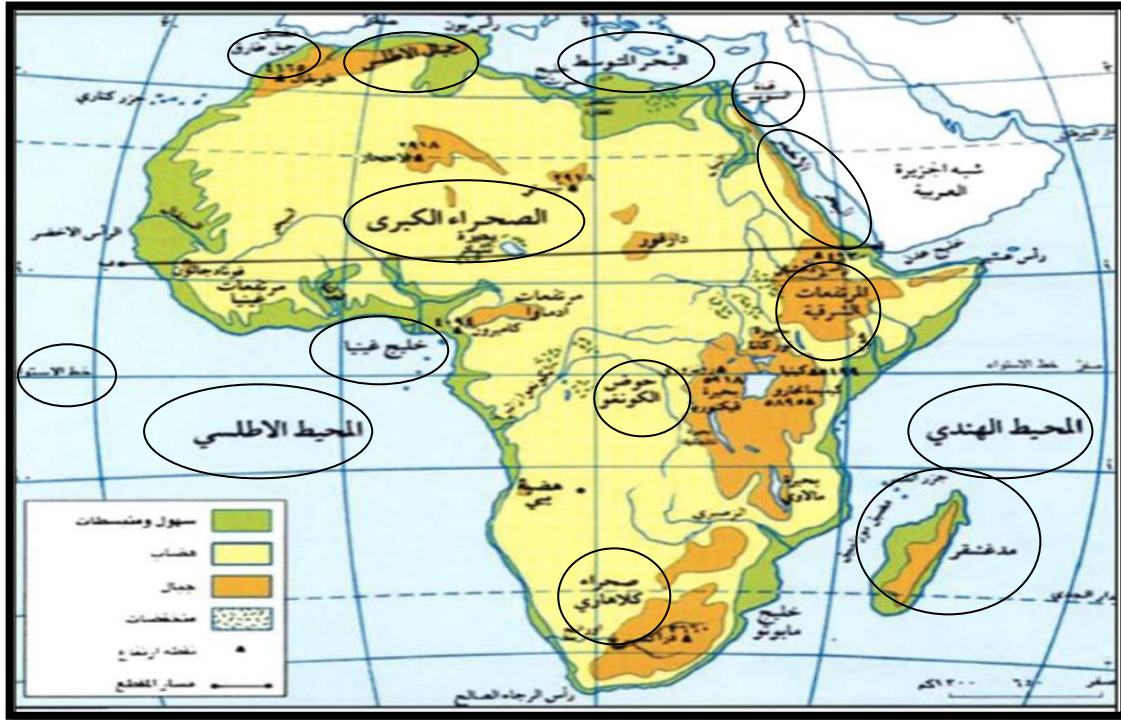
أذكرى أهم الأنهار التي تعبر البيئة الصحراوية؟

- 1- نهر النيل
- 2- نهري دجلة والفرات

أذكرى فوائد السيول؟

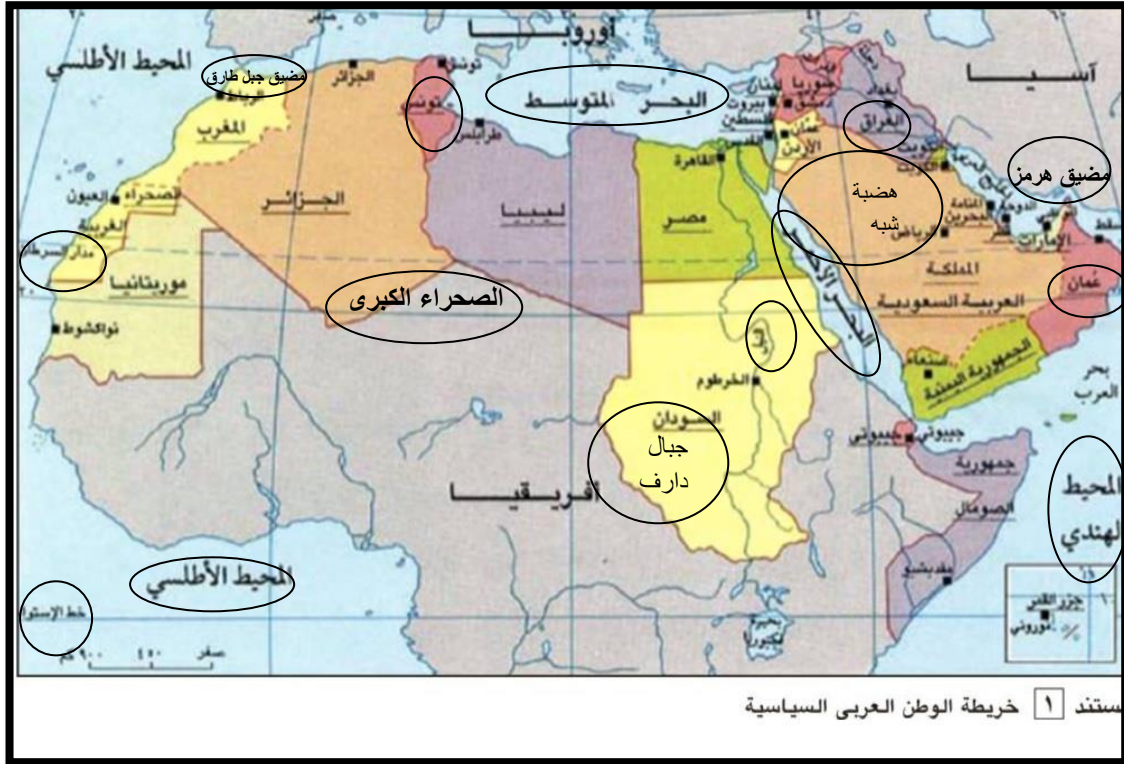
- 1-تسمح بري المزروعات
- 2-تسقي المواشي

الخرائط المطلوبة



حفظ موقع جميع الاقاليم المناخية

الخرائط المطلوبة



تم دمج خريطة الموقع مع السطح

مهارة مقياس الرسم



مقياس رسم الخريطة

مهارة

١- مقياس الخريطة

يبيّن مقياس الخريطة أو المخطط نسبة تصغير المسافات الحقيقية على الخريطة أو المخطط. ويُعبّر عنه بكسر يُبيّن العلاقة بين المسافة الواردة على الخريطة والمسافة الحقيقية المقابلة لها على الأرض. فالعدد الوارد في صورة الكسر يساوي دوماً واحداً، أما العدد الوارد في مخرجه فيشير إلى نسبة تصغير المسافة الحقيقية كما هي ممثلة على الخريطة. وهناك أنواع متعدّدة من الخرائط: بعضها ذو مقياس كبير، وبعضها ذو مقياس متوسط، وبعضها الآخر ذو مقياس صغير.

- خريطة ذات مقياس كبير: شرطها أن يكون العدد الوارد في مخرج الكسر صغيراً، مثل $\frac{1}{25000}$ أو $\frac{1}{40000}$ (مستند ١).

يبين هذا المقياس أن المسافة الحقيقية على الأرض قد صُغرت ٢٥٠٠٠ مرة. ويعني هذا أن كل ١ سنتم على الخريطة يساوي ٢٥٠٠٠ سنتم على الأرض أو ٢٥٠ م. ومن خصائص هذا النوع من الخرائط أنها تمكّن من إبراز التفاصيل التي تتميز بها منطقة ما.

- خريطة ذات مقياس متوسط: شرطها أن يكون العدد الوارد في مخرج الكسر متوسطاً، مثل $\frac{1}{100000}$ أو $\frac{1}{1000000}$ (مستند ٢).

يبين هذا المقياس أن المسافة الحقيقية على الأرض قد صُغرت ١٠٠٠٠٠ مرة، بمعنى أن كل ١ سنتم على الخريطة يساوي على الأرض مئة ألف سنتم أو ١ كلم.

- خريطة ذات مقياس صغير: شرطها أن يكون العدد الوارد في مخرج الكسر كبيراً، مثل $\frac{1}{1000000}$ أو $\frac{1}{10000000}$ (مستند ٣).

يبين هذا المقياس أن المسافة الحقيقية على الأرض قد صُغرت ١٠٠٠٠٠٠ مرة، بمعنى أن كل ١ سنتم على الخريطة يساوي فعلياً ١٠٠٠٠٠٠٠ سنتم أو ١٠ كلم على الأرض. ومن خصائص هذا النوع من الخرائط أنها تساعد على رسم مناطق شاسعة الأرجاء دون أن تبرز تفاصيلها.

٢- الاستدلال على خريطة

حفظ أنواع المقاييس داخل المستطيل.

الثقافة الشعبية في مملكة البحرين

تعريف الثقافة الشعبية

هي المعارف والخبرات والتصورات الموروثة وما يتصل بها من عادات وتقاليد وتعبيرات فنية (محكية , موسيقية, تشكيلية) تعكس أساليب المعيشة وقواعد العمل والسلوك والآداب والأخلاق الاجتماعية.

تراث البحر

صيد اللؤلؤ:

بدأ صيد اللؤلؤ فالبحرين منذ 2000 عام قبل الميلاد./ الفترة الذهبية امتدت من أواخر القرن 19 إلى الثلاثينيات من القرن 20.

مميزات صياد اللؤلؤ للبحريني:

يستطيع تحديد مغاصات اللؤلؤ وفن صيده واستخراجه والإبداع في صياغته وصنعه

أهمية البحر للبحريني:

- مصدر رزق.
- بيئة اجتماعية تعزز التسامح والوحدة الوطنية

صناعة السفن :

يطلق على طريقة بناء السفن (اوشار) وصانع السفينة (القلاف)

الخشب الذي تصنع منه السفينة:

(الساج) ومميزاته مقاوم للرطوبة والتآكل.

أنواع السفن :

البوم/البانوش/السمبوك/البغلة/السمبوك

وسائل صيد السمك:

-الشبكة (الغزل)/ الياروف/المنصب/القرقرور

الكوفة/الحظرة

طريق اللؤلؤ :

أدرج في قائمة التراث العالمي في 30 يونيو 2012م. من قبل منظمة اليونسكو المقر في مدينة المحرق عاصمة صيد اللؤلؤ في البحرين والمركز الأساسي لصيد اللؤلؤ في الخليج العربي قديما.

أسماء مصاد اللؤلؤ (الهيرات) : هير ابو لثامة / وهير ابو عمامه / وهير شتية .

يتميز المشروع بوجود المباني التاريخية والسواحل الطبيعية عند قلعة بوماهر جنوب المحرق يتميز المشروع انه مخصص للسير على الأقدام بين البيوت التراثية

المأثورات الشعبية

أهمية المأثورات الشعبية:

- التعرف على حضارة الشعب وأنماط عيشه وطرق تفكيره وقيمه الأخلاقية.
- التعرف بواسطتها على الأدب الشعبي بأنواعه (قصص و نوادر)
- تشكل المأثورات ذاكرتنا الوطنية وتجمع بيننا.
- تسهم في تهذيب أجيالنا وتقويم أخلاقنا وتساعدنا على التميز بين الصواب

1) الأغاني الشعبية :

يتعرف الطفل على الغناء من خلال علاقته بأمه لأنها تغني له من قلبها الحنون. أسماء أغاني شعبية

- هلولو يا بعد عمري هلولو
- صفاقة كا يا البابا
- صباحك الصباحي
- باجر العيد بندبح بقرة
- حبش لبش

2) الألعاب الشعبية :

تسهم الألعاب الشعبية في بناء الشخصية الاجتماعية وتربيتها من النواحي النفسية والوطنية والجسدية.

أسماء ألعاب شعبية:

- لعبة المدود / لعبة السكينة
- لعبة البروي / لعبة ظللوه / لعبة عمي كور
- لعبة خويط البريسم / لعبة البلبول

3) الفنون الشعبية :

- فن النهمه: يؤديها النهم أثناء رحلة الغوص ويحصل على اجر كبير تهدف الأغاني التي يغنيها النهم غالى بث الحماس وتشجيع الغواصين على العمل .
- فن الفجري :غناء السمر للغواصين ويمارس عند طلوع الفجر ويؤدى بعد الانتهاء من رحلة الغوص التي تمتد إلى 4 اشهر وعشرة أيام..
- فن العرضة: كانت تؤدي استعدادا للحرب وهي رقصة انتقلت من نجد إلى البحرين وتحمل مضامين مواجهة العدو ويلبسون الخناجر والبنادق والسيوف ويستعملون الطبل ويحملون العلم
- فن المراداه: تؤديها النساء من 2- الى 30 فتاه في المناسبات والأعياد وعند إنزال سفينة جديد ه او عودة المسافرين من السفر او شفاء مريض
- الفرعاعون تؤدي في نصف رمضان ويؤديها الأطفال وهي متعارفة في دول الخليج.

4) الأمثال الشعبية

إذا كنت في دارهم في دارهم

يقال للتعامل السليم مع الناس فإذا كنت في بلد ما فيجب ان لا تدم لهم ممدوحا ولا تمدح لهم مذموما.

الجدب حبله قصير

يقال المثل للكاذب والمخادع فانه لن يمضي في كذبه وسيكتشف ولن يصدقه احد

إلى ما يطيع يضيع

يقال المثل لمن لا يستمع للنصيحة ولا يأخذ بأراء الآخرين ويتمسك برأيه فقط

كيف نحافظ على التراث الشعبي؟

-احترام القوانين التي تصدرها هيئة البحرين للثقافة والآثار من اجل حماية الثقافة الشعبية.

-إقامة الفعاليات التي تدعو إلى المحافظة على الثقافة الشعبية.

-توعية المواطنين بوجوب المحافظة على الثقافة الشعبية.

-الترويج للثقافة الشعبية في الداخل والخارج.

المرأة ودورها في المجتمع

- 1- عددي المهن التي كانت تعمل بها المرأة البحرينية قديما؟
-الطبخ / تربية الأطفال / إدارة المنزل / خياطة الملابس / المتاجرة بالسلع البسيطة
- 2- رتبي مراحل التعليم المرأة البحرينية؟
القران الكريم .
أول مدرسة خديجة الكبرى 1928
إرسال البعثات للخارج (فترة الأربعينيات).
أول جامعه في البحرين 1986م.
زاد عدد الخريجات وقلت نسبة الأميه.
أصبحت تعمل في التدريس.
أصبحت تعمل في كافة المجالات
- 3- اذكرى ادوار المرأة البحرينية في العمل السياسي؟
أ-منح المرأة حق الانتخاب.
ب-أصبح لها وجود في السلطات الثلاث :
السلطة التشريعية أصبحت عضوا في مجلس الشورى والنواب.
السلطة التنفيذية تقلدت منصب وزير في وزارة الصحة ووزارة الثقافة ووزارة التنمية الاجتماعية ووزيرة شؤون الإعلام.
السلطة القضائية: أصبحت قاضية في المحكمة المدنية .
ج-على المستوى الدولي : انتخبت مرشحة البحرين رئيسا للدورة 61 للجمعية العامة للام المتحدة .
- 4- كم عدد الجمعيات النسائية ؟
15 جمعية حتى عام 2006.
- 5- كم عدد الجمعيات الاجتماعية ؟
67 جمعية حتى عام 2006.
- 6- اذكرى أسماء الجمعيات النسائية الأولى في المجتمع البحريني؟
-نادي البحرين للسيدات
-جمعية نهضة فتاة البحرين
-جمعية رعاية الطفولة والامومه.
- 7- اذكرى إسهامات الجمعيات النسائية البحرينية ؟
-أسهمت في برامج التنمية الاقتصادية والاجتماعية.
-نشر الوعي الصحي والتعليمي والثقافي والاجتماعي .
-تقديم المساعدات للأسر الفقيرة.
-تحسين ظروف المرأة .
-المشاركة في الأنشطة الفاعلة.
-المطالبة بالقضاء على جميع أشكال التمييز ضد المرأة بإصدار قانون الأحوال الشخصية .

المجلس الأعلى للمرأة

تأسس عام : 2001

رئيسة المجلس : الأميرة سبيكة بنت إبراهيم آل خليفة حرم جلالة الملك

عدد الأعضاء: 16

أهميته: تبعيته لجلالة الملك حمد بن عيسى آل خليفة ملك البلاد المفدى
رؤية المجلس الأعلى للمرأة : شراكه متكافئة لبناء مجتمع تنافسي مستدام

اتفاقية القضاء على التمييز ضد المرأة

-أصدرتها الأمم المتحدة عام 1979م

وتم تنفيذها عام 1981م

-انضمت البحرين للاتفاقية عام 2002م

1- ما هي مبادئ المجلس الأعلى للمرأة؟

أ- تمكين المرأة البحرينية وإدماجها في برامج التنمية.

ب- تعزيز مبدأ تكافؤ الفرص.

ت- ضمان تعدد وتنوع الخيارات المتاحة للمرأة البحرينية.

ث- التكامل مع الحلفاء والشركاء في العمل المؤسسي.

ج- بناء بيت خبره متخصص في شؤون المرأة.

2- عددي انجازات المجلس الأعلى للمرأة ؟

أ- إعداد خطة وطنية للنهوض بالمرأة البحرينية في جميع المجالات

ب- تبني المجلس برنامج التمكين السياسي للمرأة تحت شعار (معا نبني الوطن)

يهدف البرنامج إلى إيصال المرأة البحرينية إلى المجلس النيابي والمجلس البلدي

ج- تخصيص يوم للاحتفال بالمرأة البحرينية وهو (1 ديسمبر)

د- إنشاء لجان تكافؤ الفرص بمختلف الجهات الحكومية.

هـ - إعداد خطة وطنية لترسيخ القيم العليا وهي (العدالة وتمكين المرأة) مستند 11

ص28.

3- ما هي اللجان التابعة للمجلس الأعلى للمرأة؟

لجان التعليم / التدريب / السكان / البيئة / الثقافة والإعلام.

4- عددي المجالات التي شملتها اتفاقية القضاء على التمييز ضد المرأة؟

المجال السياسي/الحياة العامة/العمل والصحة/الزواج والأسرة/التعليم واستمراره

المساواة في العمل/اختيار المهنة/التمتع بنفس فرص الرجل في الوظائف/توفير

الرعاية للمرأة في الحمل والولادة والرضاعة.

5- ما الدليل على تطبيق مملكة البحرين على اتفاقية القضاء على التمييز ضد المرأة؟

-احتواء مبادئ الاتفاقية في دستور وميثاق مملكة البحرين.

-إصدار قانون أحكام الأسرة الذي يدعم حقوق المرأة.

-افتتاح المؤتمر الوطني الأول للمرأة البحرينية تحت شعار (دمج احتياجات المرأة

في برامج التنمية) .

ملخصات جميع دروس
ما قبل المنتصف
في مادة الجغرافيا
والتربية للمواطنة
للصف الثاني الإعدادي