

تم تحميل هذا الملف من موقع المناهج البحرينية



* للحصول على أوراق عمل لجميع الصفوف وجميع المواد اضغط هنا

<https://almanahj.com/bh>

* للحصول على أوراق عمل لجميع مواد الصف السابع اضغط هنا

<https://almanahj.com/bh/7>

* للحصول على جميع أوراق الصف السابع في مادة اجتماعيات ولجميع الفصول, اضغط هنا

<https://almanahj.com/bh/7social>

* للحصول على أوراق عمل لجميع مواد الصف السابع في مادة اجتماعيات الخاصة بـ الفصل الأول اضغط هنا

<https://almanahj.com/bh/7social1>

* لتحميل كتب جميع المواد في جميع الفصول للـ الصف السابع اضغط هنا

<https://almanahj.com/bh/grade7>

[almanahjbhbot/me.t//:https](https://t.me/almanahjbhbot)

للتحدث إلى بوت على تلغرام: اضغط هنا

مملكة البحرين

وزارة التربية والتعليم

إدارة الامتحانات / قسم الامتحانات

امتحان نهاية الفصل الدراسي الأول للعام الدراسي 2016/2015م

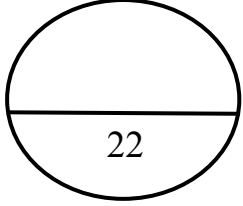
للمصف الأول الإعدادي

الزمن: ساعتان

المادة: المواد الاجتماعية (الجغرافيا والتربية للمواطنة)

القسم الأول: أسئلة الجغرافيا (75 علامة)

السؤال الأول :-



أولاً- ضع دائرة حول الحرف الدال على الإجابة الصحيحة من بين البدائل الآتية:

1- تقلص الغطاء النباتي في دول مجلس التعاون نتيجة :

- أ- الزحف العمراني
ب- إنحراف الأمطار على السواحل .
ج- كثرة الكثبان الرملية .
د- الرعي الجائر وقطع الأشجار .

2- الفئة العمرية التي تشكل حوالي نصف عدد السكان الإجمالي لدول مجلس التعاون هي:

- أ- الفتيان .
ب- الشباب .
ج- البالغين .
د- المسنين .

3- قبل اكتشاف النفط كانت غالبية السكان لدول مجلس التعاون يعيشون في :

- أ- المناطق الساحلية .
ب- المدن التجارية .
ج- البوادي والأرياف .
د- المناطق الجبلية .

4- أكثر الزراعات انتشاراً في دول مجلس التعاون هي:

- أ- زراعة النخيل .
ب- زراعة الزيتون .
ج- زراعة الحمضيات .
د- زراعة الأعلاف .

5- الدولة التي تنتج حوالي 80% من مجمل إنتاج دول مجلس التعاون من صناعة البتروكيمياويات هي :

- أ- الإمارات .
ب- الكويت .
ج- السعودية .
د- قطر .

6- تتميز الموانئ التجارية في دول مجلس التعاون بأنها:

- أ- مخصصة لتصدير النفط .
ب- مجهزة بخزانات وأنباب .
ج- مرتبطة بسكك حديدية .
د- مجهزة بمخازن وبرادات .

ثانياً- صحّح ما تحته خط في كل عبارة من العبارات الآتية، واكتب الإجابة الصحيحة بالسطر الذي يليها:

1- قبل اكتشاف النفط كانت النشاطات الإقتصادية تقنية.

2- تعتبر شركة طيران الخليج إحدى الشركات التابعة لدولة الكويت.

3- تنحسر صناعة السفن في السعودية وقطر.

4- تعتبر فرنسا في مقدمة الدول الخارجية لاستقطاب صادرات دول مجلس التعاون.

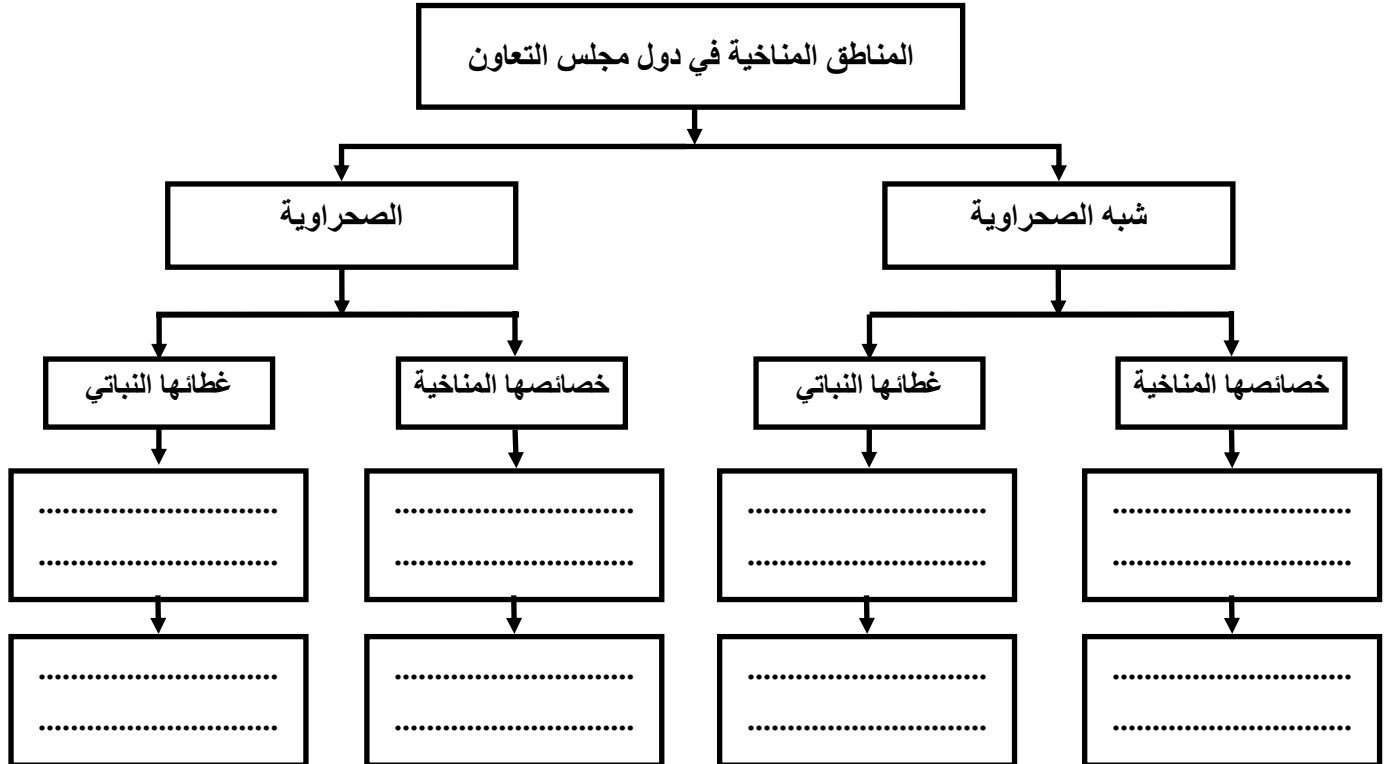
5- اعتمدت دول مجلس التعاون على طرق حديثة بغرض اقتصاد الإستهلاك في المياه كالري عن طريق السدود.

27

السؤال الثاني :-

أولاً: صنّف الخصائص المناخية والنباتية الآتية في المخطط الذي يليها حسب معيياته الواردة أدناه:

- حشائش مبعثرة.
- أمطار غير منتظمة.
- درجة حرارة شديدة.
- انتشار أشجار القرم البحري.
- أمطار منتظمة.
- انخفاض درجة الحرارة.
- غاباتها شبه مغلقة.
- انتشار أشجار لبان البخور.



ثانياً - علل ما يأتي :

1- انخفاض منسوب المياه الجوفية وتملحها في دول مجلس التعاون.

-
-

2- عدم وصول الرياح الموسمية الصيفية إلى أجزاء الربع الخالي .

-
-

3- توظيف دول مجلس التعاون قسم من إيراداتها النفطية لتنمية قطاعها الزراعي منذ السبعينات.

-
-

4- ازدهار الحركة التجارية في دول مجلس التعاون.

-
-

ثالثاً - وضح ما يأتي:

1- الأهداف التي من أجلها تم تأسيس مجلس التعاون .

-
-
-

2- العوائق التي تعترض تقدم القطاع الزراعي في دول مجلس التعاون.

-
-
-

3- النتائج المترتبة على جهود مجلس التعاون في قطاع التعليم.

-
-
-

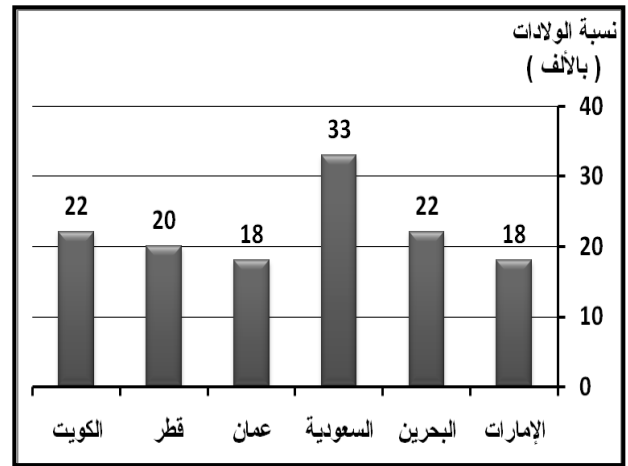
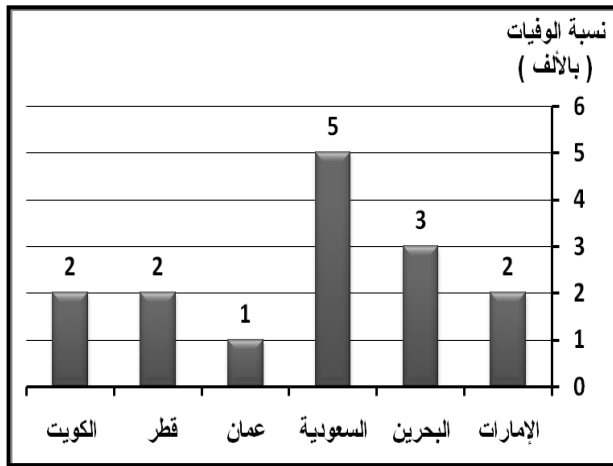
السؤال الثالث:-

أولاً- قارن بين المياه الجوفية المتجددة والمياه الجوفية غير المتجددة من حيث أماكن تواجدها، ومصدر تغذيتها حالياً، وكيفية الحصول عليها.

26

المياه الجوفية	المتجددة	غير المتجددة
أماكن تواجدها	•	•
مصدر تغذيتها حالياً	•	•
كيفية الحصول عليها	•	•

ثانياً- من خلال الرسمين البيانيين لنسب الولادات والوفيات في دول المجلس لعام 1997م، أجب عما يلي:



أ) سمّ الدولة الأعلى والأدنى في نسبي الولادات والوفيات حسب معطيات الجدول الآتي:

البيانات	الأعلى في نسبة الولادات	الأدنى في نسبة الولادات	الأعلى في نسبة الوفيات	الأدنى في نسبة الوفيات
الدولة	•	•	•	•

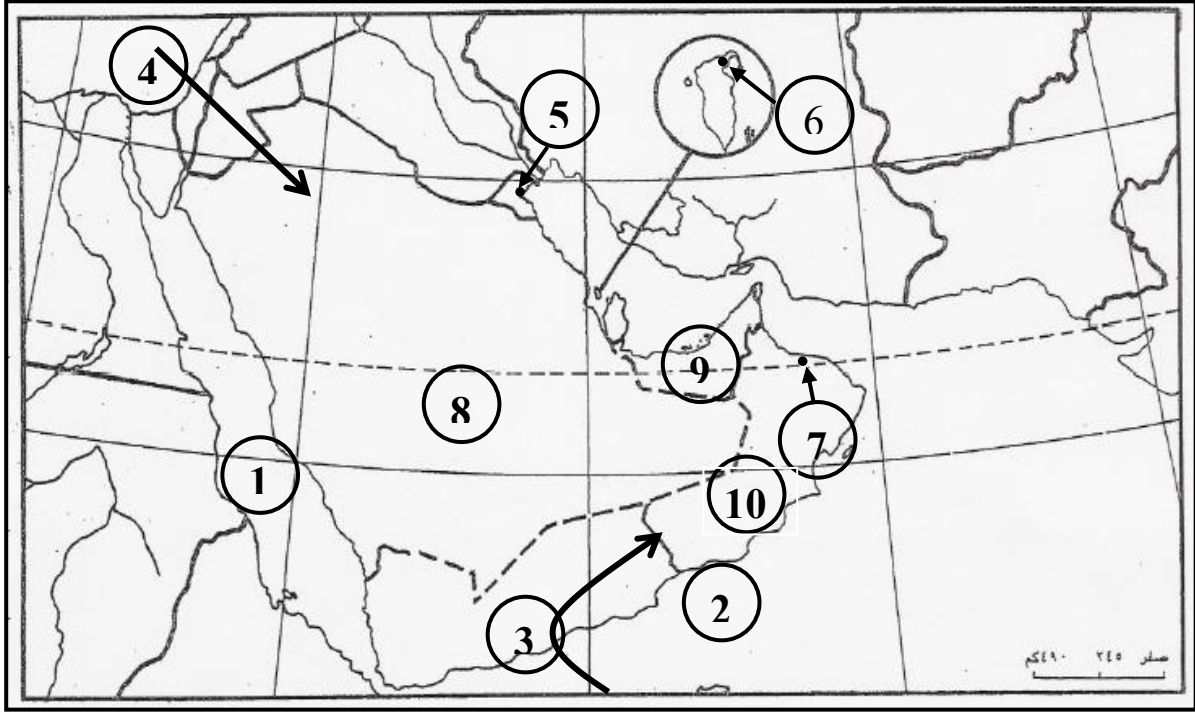
ب) ما الدولة التي سجلت أعلى نسبة في الزيادة السكانية الطبيعية من بين دول مجلس التعاون؟ احسب تلك النسبة.

- الدولة هي:
- بلغت نسبة الزيادة السكانية الطبيعية في هذه الدولة:

ج) استخلص من الرسمين البيانيين سبباً لارتفاع الزيادة السكانية الطبيعية في دول مجلس التعاون.

-

ثالثاً - أكتب ما تمثله مدلولات الأرقام المدونة على خريطة دول مجلس التعاون لدول الخليج العربية الصماء بحسب ما يناسبها في الجدول الذي يليها.



مدلولات الأرقام المدونة على الخريطة	نوع الظاهرة الجغرافية
..... -2	-1 - مسطحان مائيان.
..... -4	-3 - رياحان ممطرتان.
..... -6	-5 - مدن كبرى (عواصم).
..... -9	-7 - دولتان تمتلكان مصنع حديد.
..... -10	-8 - دولة تنتج النحاس.

القسم الثاني: أسئلة التربية للمواطنة (25 علامة)

أولاً : ضع علامة (✓) يمين العبارات الصحيحة وعلامة (x) يمين العبارات الخاطئة:

- 1- () تولى جلالة الملك حمد بن عيسى آل خليفة في 27 يونيو 1964م ولاية العهد.
- 2- () تشكلت لجنة إعداد مشروع العمل الوطني من شخصيات عسكرية.
- 3- () يتكون المجلس الوطني في مملكة البحرين من 80 عضوًا.
- 4- () بلغت نسبة موافقة شعب البحرين على ميثاق العمل الوطني 89,4%
- 5- () يعود حكم آل خليفة في البحرين إلى نهاية القرن الثامن عشر الميلادي.
- 6- () أطلق مسمى المملكة على البحرين عام 2002م.

ثانيًا-أجب عما يلي:

1-اذكر أربع دعائم للدولة الحديثة عمل على توطيدها الشيخ عيسى بن سلمان آل خليفة.

-
-
-
-

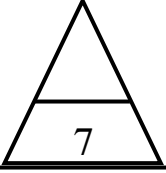
2- عرّف ميثاق العمل الوطني.

-
-

3- صنّف الإنجازات الآتية إلى إنجازات تحققت في عهد الشيخ عيسى بن سلمان آل خليفة، وبعضها الآخر في عهد

الملك حمد بن عيسى آل خليفة بوضع علامة (✓) بجانبها حسب المعطيات الواردة في الجدول الآتي:

عهد جلالة الملك حمد بن عيسى آل خليفة	عهد الشيخ عيسى خليفة بن سلمان آل خليفة	الإنجازات
		تأسيس الحياة النيابية.
		إعلان البحرين مملكة دستورية.
		وضع الدستور.
		إنشاء ديوان الرقابة المالية.
		إعادة الحياة النيابية.
		منح المرأة كافة حقوقها السياسية.



ثالثاً- اقرأ النص الذي أمامك، ثم أجب عن الأسئلة التي تليه انطلاقاً منه، ومستفيداً مما درست:

تلقى الشيخ حمد بن عيسى آل خليفة تعليمًا عصريًا حديثًا؛ واكتسب ثقافة عربية إسلامية، حيث كان يحضر مجالس والده، ويختلط بذوي الخبرة في مجالات العلم المختلفة، مما ساهم في تميزه بسعة الأفق والانفتاح على قضايا العالم وتمرسه بأمر الحكم، وتكونت لديه قدرات قيادية متنوعة مكنته من تحقيق العديد من الإنجازات أثناء توليه للعهد.

1. ضع عنوانًا مناسبًا للنص.

..... •

2. ما نوع التعليم الذي تلقاه الشيخ حمد بن عيسى آل خليفة أثناء ولايته للعهد؟

..... •

3. ما النتائج المترتبة عن اختلاط جلالة الملك حمد بذوي الخبرة في مجالات العلم المختلفة قبل توليه الحكم؟

..... •

..... •

..... •

4. اذكر مبدئين اثنين ركز عليهما الشيخ عيسى بن سلمان آل خليفة في إعلان ولاية العهد لابنه حمد.

..... •

..... •

انتهت الأسئلة

مع تمنياتنا بالتوفيق للجميع