

تم تحميل هذا الملف من موقع المناهج البحرينية



\* للحصول على أوراق عمل لجميع الصفوف وجميع المواد اضغط هنا

<https://almanahj.com/bh>

\* للحصول على أوراق عمل لجميع مواد الصف السابع اضغط هنا

<https://almanahj.com/bh/7>

\* للحصول على جميع أوراق الصف السابع في مادة التربية للمواطنة ولجميع الفصول, اضغط هنا

<https://almanahj.com/bh/7>

\* للحصول على أوراق عمل لجميع مواد الصف السابع في مادة التربية للمواطنة الخاصة بـ اضغط هنا

<https://almanahj.com/bh/7>

\* لتحميل كتب جميع المواد في جميع الفصول للـ الصف السابع اضغط هنا

<https://almanahj.com/bh/grade7>

[almanahjbhbot/me.t//:https](https://t.me/almanahjbhbot)

للتحدث إلى بوت على تلغرام: اضغط هنا

**- قسم المواد الاجتماعية - الفصل الدراسي الأول**

**مذكرة - المواد الاجتماعية - الفصل الدراسي الأول- للصف الثالث الإعدادي - الجزء الاول**



## السؤال الأول :- أكمل الفراغات الآتية بما يناسبها بالكلمات الصحيحة ؟

- 1- الكثافة السكانية في البحرين مرتفعة بسبب [ صغر مساحتها بالنسبة لعدد السكان المتزايد ] .
- 2- ظهرت قبة البحرين فوق مياه البحر بسبب [ اصطدام الكتلة العربية بالكتلة الآسيوية الأوروبية ] بالزمن الجيولوجي [ الثالث ] .
- 3- أكثر مناطق البحرين في الكثافة السكانية هي [ منطقة المنامة ] وأدناها هي [ المنطقة الجنوبية ] .
- 4- يعيش حوالي 37% من سكان البحرين منذ عام 2001م في مدينتي [ المنامة و المحرق ] وفيهما أكثر كثافة سكانية.
- 5- تعتبر المياه الجوفية في البحرين محدودة جداً بسبب [ قلة الأمطار + ارتفاع معدلات التبخر ] والمناخ صحراوي
- 6- الطبقات الخازنة للمياه الجوفية في البحرين هي امتداد طبيعي للطبقات المائية في الجزء الشرقي من [ السعودية ]
- 7- تقع مسؤولية الإشراف على الثروة النفطية وتنميتها في مملكة البحرين على [ المجلس الأعلى للنفط ] .
- 8- المناخ الذي يسود البحرين هو [ الصحراوي ]
- 9- أكبر جزر مملكة البحرين هي جزيرة [ البحرين الأم ] .
- 10- أجري أول تعداد سكاني في مملكة البحرين عام [ 1941 ]
- 11- اكتشف النفط في البحرين عام [ 1932 ] .
- 12- تقع جزر حوار ضمن المحافظة [ الجنوبية ]
- 13- تركّز سكان البحرين منذ القدم في السهل [ الشمالي ] .
- 14- المحطة الوحيدة التي تستخدم الديزل في توليد الكهرباء هي [ محطة المحرق ] .
- 15- حولت حكومة البحرين مستشفى السلمانية إلى مجمع طبي لتأمين خدمات الرعاية الصحية [ العلاجية ] .
- 16- الطبقة الرئيسية التي تعتمد عليها البحرين في الحصول على المياه للمنازل هي طبقة [ الخبر ]
- 17- المستهلك الأكبر للمياه الجوفية هو القطاع [ الزراعي ]
- 18- القطاع الذي يستهلك معظم الطاقة الكهربائية هو [ المنزلي ] .
- 19- أكثر إنتاج البحرين من النفط يستخرج من حقل [ أبو سعة البحري ] ويوجد حقل بري أيضاً هو حقل [ البحرين ]
- 20- يستخرج الغاز الطبيعي في البحرين من حقل [ البحرين ] .
- 21- يستخرج معظم الغاز الطبيعي في البحرين من طبقة [ الخف ]
- 22- مصدر الطاقة المستخدم في معظم محطات توليد الكهرباء هو [ الغاز الطبيعي ] .
- 23- أدت مظاهر المدينة الحديثة وأسلوب تعامل الإنسان مع البيئة في مملكة البحرين إلى ارتفاع [ درجة الحرارة ] .
- 24- تشكل المنخفض الداخلي وتبددت بعض أجزاء المرتفعة كجبل الدخان بسبب [ عوامل التعرية ] بالزمن الجيولوجي [ الرابع ] .
- 25- بدأ التعليم النظامي في البحرين منذ أوائل القرن [ العشرين ] في عام [ 1919 م ] .
- 26- كانت مياه البحر تغمر سواحل البحرين حيناً وتتحسر عنها أحياناً أخرى بسبب [ التغيرات المناخية ] بالزمن الجيولوجي [ الرابع ]
- 27- ارتفعت نسبة الملوحة في المياه الجوفية بالبحرين بسبب [ تسرب مياه البحر للطبقات الجوفية ] بالزمن الجيولوجي [ الرابع ] .
- 28- وضعت حكومة البحرين منذ أوائل الثمانينات ، خطة تهدف إلى جعل التعليم [ استثمارياً ] .
- 29- انكشفت معظم أراضي البحرين بالزمن الجيولوجي [ الثالث ] .
- 30- تتميز الأطراف الجنوبية للسهلين الساحليين الشرقي والغربي ( منطقة رأس البر ) في مملكة البحرين بكثرة [ السبخات ] . والتربة المالحة والرمال
- 31- ترتفع الحرارة في البحرين صيفاً في الفترة من [ مايو إلى أكتوبر ] وتعتدل الحرارة شتاءً في الفترة من [ نوفمبر إلى أبريل ] .
- 32- تغير شكل سواحل البحرين واتسعت مساحتها منذ أوائل الستينات وأواخر السبعينيات بسبب [ عمليات الردم والدفان التي قامت الحكومة بها للأرصيف والشباب المرجانية بالشواطئ الضحلة وذلك لاستغلالها في الأنشطة العمرانية والاقتصادية ] .
- 33- افتتح جسر الملك فهد عام [ 1986 ] الذي يربط البحرين بالسعودية مروراً بجزيرة [ أم النعسان ] ويبلغ طوله [ 25 كم ] .
- 34- تقع محطة معالجة مياه الصرف الصحي التي أنشأتها البحرين في منطقة [ توبلي ] .

## السؤال الثاني :- أجب عن الأسئلة التالية :

1- علل : ضرورة التوسع في المشاريع الإسكانية بالبحرين .

ب) (الكثافة السكانية المرتفعة خاصة بالمنامة والمحرق .

2- علل : إنشاء نظام المحافظات في مملكة البحرين .

أ) مساعدة الحكومة في تطبيق خطط التنمية وتقديم الخدمات الاجتماعية والثقافية .

ب) الحفاظ على الأمن والنظام العام .

ج) تدعيم وتفعيل الأنشطة الاجتماعية .

3- علل : تركّز الإنسان منذ القدم في السهل الشمالي من الأراضي المنخفضة الساحلية ( شمال جزيرة البحرين ) .

ب) ( وجود مساحات زراعية واسعة .

ب ) انتشار العيون العذبة فيها .

4- علل : تعتبر البحرين منطقة نموذجية بالنسبة لاحتمال استغلال الطاقة الشمسية كطاقة مستقبلية بديلة للنفط .

ب) ( تعرض البحرين لمدة إشماس طويلة خصوصاً بالصيف .

ب ) طول ساعات النهار .

ج ) صفاء السماء .

5- علل : تعتبر البحرين محطة تجارية مهمة قديماً .

ب) ( الموقع الهام ب) اشتهاها بصيد اللؤلؤ وتجارته ج) توفر المياه العذبة والزراعة . د- اكتشاف النفط والغاز الطبيعي في أراضيها

6- علل: اجتذبت البحرين قديماً المهاجرين إليها من الدول المجاورة ومن دول آسيا وأفريقيا.

بسبب (أ) موقعها الوسطي بين الحضارات القديمة (ب) مركز البحرين التجاري الهام على الطريق بين الشرق والغرب.  
(ج) وفرة المياه العذبة والزراعة المستقرة بها. (د) شهرتها بأنها أكبر مركز لتجميع اللؤلؤ وتسويقه.  
هـ - النقص في القوى العاملة مما أدى إلى استيرادها للقوى العاملة و - التنمية الشاملة و الاقتصادية خاصة بالدولة بسبب العوائد النفطية ز - تطوير الصحة والتعليم بالدولة

7- علل : ارتفاع درجة الحرارة في البحرين صيفاً في الفترة من مايو حتى أكتوبر .

بسبب تعامد أشعة الشمس على المنطقة الواقعة بين الاستواء ومدار السرطان قريباً من البحرين.

8- علل : ارتفاع درجة الحرارة في مدن مملكة البحرين في الوقت الحاضر .

بسبب مظاهر المدنية الحديثة وأسلوب تعامل الإنسان مع البيئة مثال ذلك (أ) سقوط أشعة الشمس على الحوائط الإسمنتية.  
(ب) سفلتة الشوارع. (ج) الهواء الساخن المنبعث من المكيفات خارج المنازل. (د) الغازات المنبعثة من المصانع والسيارات.

9- علل: اعتدال درجة الحرارة في البحرين شتاءً في الفترة من نوفمبر حتى أبريل.

بسبب وصول أشعة الشمس للبحرين بشكل مائل حيث تكون عمودية على المنطقة الواقعة بين الاستواء ومدار الجدي في النصف الجنوبي من الكرة الأرضية

10- علل : قلة سطوع الشمس خلال الشتاء

(أ) تشكل الضباب وارتفاع نسبة الغيوم التي تحجب الشمس. (ب) قصر ساعات النهار.  
ج- أشعة الشمس التي تصل مائلة

11- علل : ارتفاع ساعات سطوع الشمس خلال الصيف

بسبب (أ) صفاء السماء معظم شهور الصيف. (ب) طول ساعات النهار.  
ج- أشعة الشمس العمودية

12- علل: تتميز البحرين بارتفاع نسبة الرطوبة طيلة أيام السنة خصوصاً في الشتاء.

بسبب كون البحرين مجموعة من الجزر تحيط بها المياه من جميع الجهات وهبوب رياح الكوس عليها في فصل الصيف

13- علل : لم تكن البحرين تشهد عجزاً في ميزانها المائي حتى بداية الثلاثينات .

لأن كميات المياه المستخرجة من طبقتي العلات والخبر أقل من كمية التغذية الواردة إليهما من مياه الأمطار .

14- علل : عرّض طبقتي العلات والخبر إلى خطر النضوب (النفاد) والتملح .

\* خطر النضوب: بسبب النمو السكاني والاقتصادي الذي أدى إلى ازدياد الطلب على المياه.  
\* خطر التملح: بسبب الاستغلال المكثف لمياه طبقتي العلات والخبر مما أدى إلى انخفاض منسوبيهما ثم السماح بتسرب مياه البحر ومياه أم الرضمة المالحة إليهما.

15- علل : ارتفاع الزيادة الطبيعية للسكان في البحرين .

بسبب : (أ) ارتفاع نسبة الولادات . (ب) انخفاض نسبة الوفيات .

16- علل : ارتفاع معدل النمو السكاني في البحرين .

بسبب (أ) ارتفاع معدل الزيادة الطبيعية المرتبط بارتفاع الولادات. (ب) الهجرة الأجنبية الوافدة للبلاد .

17- علل : شهدت البحرين حركة انتقال سكاني داخل مناطقها مؤخراً حيث انخفض التركيز السكاني في المنامة والمحرق.

(أ) الاكتظاظ السكاني في المنامة والمحرق. (ب) منح القروض الميسرة . (ج) إنشاء مشاريع إسكانية جديدة مثل مدينة حمد وزايد .

18- علل : تشهد البحرين عجزاً في ميزانها المائي حالياً وخاصة في طبقتي العلات والخبر

لأن كميات المياه المستخرجة من طبقتي العلات والخبر أكثر من كمية التغذية الواردة إليهما من مياه الأمطار .وزيادة استغلال مياههما

**السؤال الثالث :- أجب عن الأسئلة التالية :**

1- اذكر نتائج اهتمام مملكة البحرين بالصحة .

(أ) انخفاض عدد الأشخاص بالنسبة للطبيب الواحد . (ب) ارتفاع نسبة الأطفال المحصنين .  
(ج) انخفاض نسبة الوفيات . (د) ارتفاع متوسط عمر الإنسان . (هـ) القضاء على الكثير من الأمراض.

2- اذكر نتائج اهتمام مملكة البحرين بالتعليم .

(أ) قلة الأمية . (ب) ارتفاع عدد حاملي الشهادات والمدرسين والطلبة. (ج) ارتفاع نصيب الطالب الواحد من المصاريف التعليمية.

### 3- عدد الإجراءات التي تقوم بها البحرين لعدم نفاذ احتياطها من النفط والغاز الطبيعي .

(أ) البحث عن آبار جديدة . (ب) تشجيع الأبحاث العلمية حول الطاقة الشمسية كبديل للنفط . (ج) توعية المواطن في استهلاك الكهرباء .

### 4- وضّح الإجراءات التي اتخذتها حكومة البحرين منذ أوائل الثمانينات لجعل التعليم استثمارياً في البحرين .

(أ) الاهتمام بالتعليم العالي مثل [ إنشاء جامعة البحرين والخليج وكلية العلوم الصحية ومعهد البحرين + تقديم منح وبعثات ]  
(ب) الاهتمام بنوعية التعليم . (ج) وضع الخطط التربوية الحديثة . (د) إنشاء مراكز لمحو الأمية وتعليم الكبار .  
(هـ) تطوير المناهج الدراسية . (و) تطبيق نظام المقررات في الثانوية . (ن) إنشاء مراكز علمية متخصصة .

### 5- ما الخدمات التي قدمتها حكومة البحرين لتكوين مجتمع متعلم ؟

(أ) وضع الخطط التربوية لرفع المستوى التعليمي . (ب) جعل التعليم الأساسي إلزامياً ومجانياً في جميع مراحل .  
(ج) زادت عدد المدارس للجنسين . (د) جهزت المدارس بالمختبرات والمكتبات والملاعب والصالات .

### 6- ما الإجراءات التي اتخذتها البحرين لتنمية مواردها المائية ؟

(أ) زيادة الإنتاجية بمحطات التحلية . (ب) توعية المواطنين وترشيد الاستهلاك . (ج) اعتماد طرق الري الحديثة .  
(د) تعميم زراعة نباتات لا تحتاج إلى كميات كبيرة من المياه . (هـ) اعتماد برامج وتشريعات لضبط و تقنين توزيع المياه .

### 7- اذكر بالجدول التالي التحولات التي شهدتها سكان البحرين بين سنتي 1971 – 2001م ونتائج تلك التحولات .

| تحولات شهدتها سكان البحرين بين سنتي 71- 2001م   | نتائج تلك التحولات   |
|---|--|
| (1) التأخر في سن الزواج .<br>(2) تدني نسبة المترملين بسبب قلة الوفيات للتقدم الصحي .<br>(3) تدني نسبة الطلاق نتيجة للوعي و التقارب الفكري والثقافي .<br>(4) انخراط المرأة البحرينية في النشاط الاقتصادي . | (1) تدني نسبة الزيادة الطبيعية ( انخفاض الخصوبة والولادات ) .<br>(2) انخفاض حجم الأسرة البحرينية ( يبلغ معدلها حوالي 6 أفراد ) .<br>(3) انخفاض نسبة الفتيان أدى إلى تدني نسبة الإعالة العمرية .<br>(4) ارتفاع إسهام المرأة في العمل والنشاط الاقتصادي .<br>(5) ارتفاع عدد العاملين البحرينيين وانخفاض نسبة البطالة . |

### 8- ما الدور الذي كانت تقوم به الأرصدة والشعاب المرجانية حول سواحل البحرين ؟

(أ) تمثل حماية طبيعية من أخطار الأمواج والتيارات البحرية . (ب) تهئى قيام بيئة بحرية غنية بالثروة السمكية .

### 9- عدد بعض التسهيلات التي تقدمها مملكة البحرين في مجال الإسكان للأسرة البحرينية.

(أ) قروض ميسرة لترميم أو بناء أو شراء مسكن . (ب) توزيع الأراضي السكنية . (ج) توزيع الشقق والبيوت كهبات ملكية

### 10- اذكر أهم المشاريع الإسكانية التي تم تنفيذها في مملكة البحرين .

(أ) إنشاء المدن الجديدة كمدينة حمد . (ب) إنشاء مجمعات سكنية في المدن والقرى مثل عالي والجسرة .

### 11- ماذا فعلت البحرين لامتلاك ثروتها النفطية والأشرف عليها .

(أ) أنشأت المجلس الأعلى للنفط ليشرف على الثروة النفطية . (ب) انضمت لمنظمة الأوبك ( العربية ) عام 1970م  
(ج) أنشأت المؤسسات والشركات كشركة نفط البحرين الوطنية (( بنوكو )) وشركة غاز البحرين (( بناغاز )) .  
(د) ساهمت في رؤوس أموال العديد من الشركات العربية التابعة لمنظمة الأوبك .

### 12- وضّح أهمية الموقع الجغرافي لدولة البحرين قديماً وحديثاً .

# قديماً : (أ) تتوسط البحرين حوض الخليج العربي الذي كان يشكل ممراً مهماً في العالم القديم .  
(ب) لذلك كانت البحرين مركزاً تجارياً مهماً منذ القدم وذلك بسبب موقعها الجغرافي الوسطي المميز .  
# حديثاً : (أ) ازداد موقع البحرين أهمية مع النهضة الاقتصادية لذلك تعتبر اليوم من أبرز المراكز التجارية والمالية بالمنطقة .  
(ب) تمثل البحرين همزة وصل بالعالم الخارجي فهي تقع عبر طريق حيوي يصل بين إقليمي شرق آسيا وغرب أوروبا .

### 13- ما مظاهر السطح في البحرين ؟

(أ) [ منخفض داخلي ] : يقع في وسط البحرين + بيضاوي الشكل + يحيط به جدار صخري + يتكون من كتلة جبل الدخان ومنخفضي الغينة والشبك .  
(ب) [ منحدرات ] : تحيط بالمنخفض الداخلي و ينحدر السطح فيها من الجدار الصخري للأطراف الساحلية .  
(ج) [ أراضي منخفضة ] : تحيط بالمنحدرات وتمتد على السواحل . وتشمل ( السهل الشرقي والغربي + السهل الشمالي ) .

### 14- قارن بين استخدامات النفط واستخدامات الغاز الطبيعي في البحرين .

| استخدامات النفط                     | استخدامات الغاز الطبيعي  |
|-------------------------------------|--|
| 1- وقود للطائرات . 2- وقود للسيارات | 1- إعادة حقن آبار النفط لتحسين إنتاجيتها . 2- تشغيل محطات الكهرباء والماء ومصنع ألبا . |

### 15- قارن بين أنواع الرياح التي تهب على البحرين في فصلي الصيف والشتاء وخصائصها .

| الفصل  | أسم الرياح                  | خصائصها ( أثرها على المناخ )                                      |
|--------|-----------------------------|---|
| الصيف  | رياح البارح الشمالية        | محملة بالغبار والأترربة بسبب قلة الأمطار وعدم تماسك التربة .      |
|        | رياح الكوس الجنوبية الشرقية | رطبة بسبب مرورها بمياه الخليج + حارة تسبب الإنهاك الحراري.        |
| الشتاء | رياح شمالية غربية متوسطة    | ارتفاع نسبة الرطوبة + تساقط الأمطار                               |
|        | رياح شمالية غربية قطبية     | جافة + باردة + تدني الرطوبة + تحمل معها أحياناً الغبار والأترربة. |
|        | رياح جنوبية شرقية           | رطبة ( تزيد من الرطوبة ) + دافئة ( ارتفاع درجات الحرارة )         |

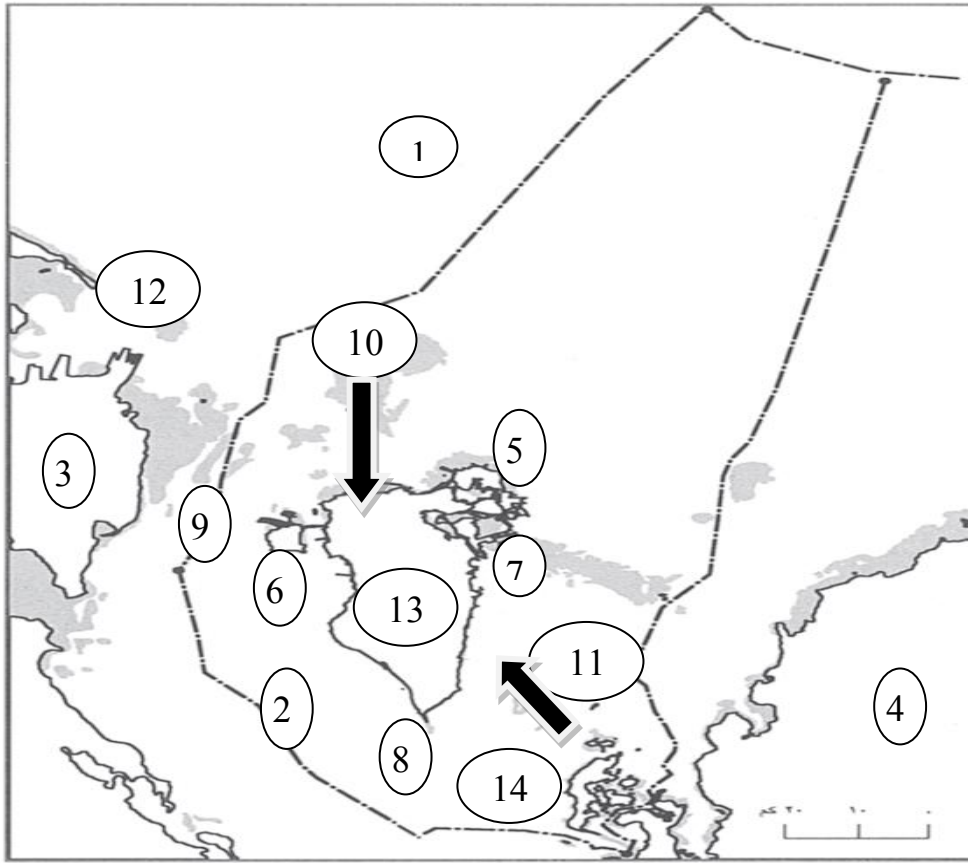
### 16- قارن بين طبقات المياه الجوفية في البحرين من حيث رمزها ونظامها ونوعية مياهها ومميزاتها .

| الرقم | الطبقات الجوفية الخازنة للمياه | رمزها | نظامها                       | مميزاتها ( خصائصها ) |  |
|-------|--------------------------------|-------|------------------------------|----------------------|--|
|       |                                |       |                              | نوعية مياهها         | كميتها ومجال الاستخدام   |
| 1     | طبقة العلات                    | أ     | نظام خزان الدمام الجوفي      | مقبولة               | كمياتها محدودة وتستخدم للزراعة   |
| 2     | طبقة الخبر                     | ب     | نظام خزان الدمام الجوفي      | جيدة                 | هي الرئيسية التي تعتمد عليها البحرين في الحصول على المياه للاستخدام المنزلي      |
| 3     | طبقة الروس- أم الرضمة          | ج     | نظام الروس- أم الرضمة الجوفي | مالحة                | كمياتها كبيرة ، ولا تصلح للاستخدام إلا بعد التحلية أو استخدامها للأغراض الصناعية |

### 17- قارن بين إنجازات البحرين بمجال [ الرعاية الوقائية + الرعاية العلاجية + الرعاية الأولية + توفير الجهاز البشري الطبي ] .

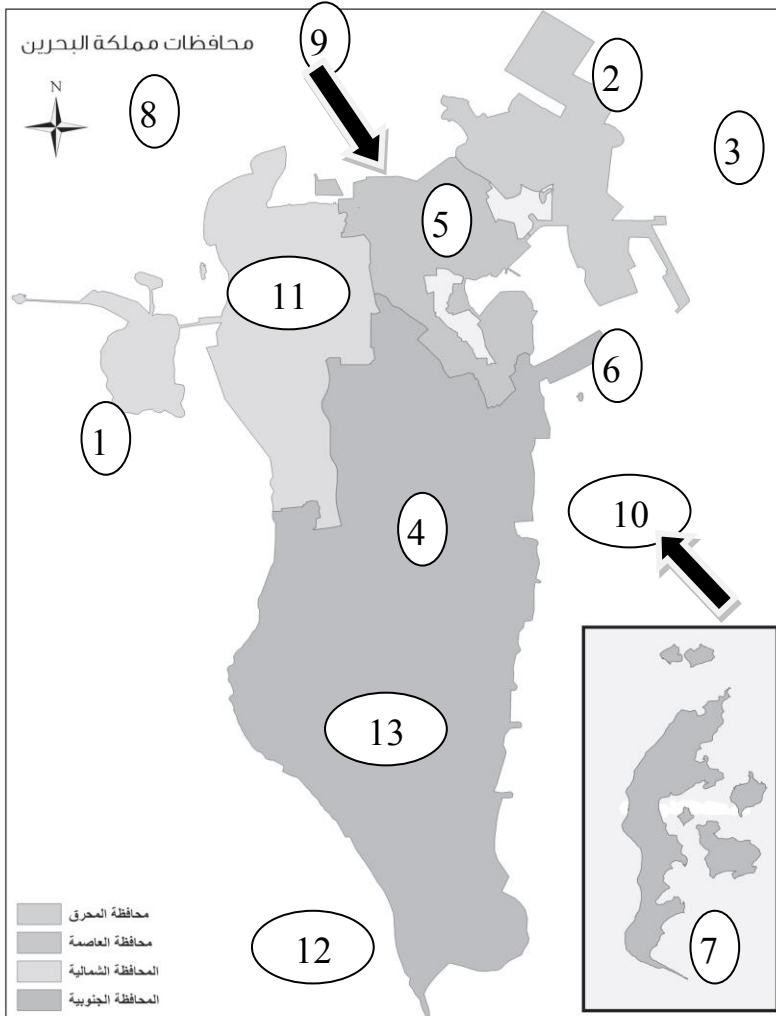
| المجال                    | إنجازات مملكة البحرين   |
|---------------------------|---|
| الرعاية الوقائية          | (1) مراقبة الأغذية والمياه. (2) مكافحة الأمراض المعدية. (3) نشر الوعي الصحي (4) تأمين لقاحات الأطفال.   |
| الرعاية العلاجية          | (1) حوّلت السلمانية إلى مجمع طبي بعد توسيعه وتجهيزه بأحدث الأجهزة. (2) إنشاء مستشفيات متخصصة في مجال الولادة والعجزة وغيرها. (3) السماح بعمل المستشفيات الخاصة. |
| الرعاية الأولية           | # إنشاء المراكز الصحية ونشرها في جميع مناطق البحرين .   |
| توفير الجهاز البشري الطبي | (1) استقدام أطباء وأخصائيين في مختلف المجالات الطبية من الخارج. (2) إرسال كوادرها الطبية للتخصص في الخارج. (3) إنشاء كلية العلوم الصحية لتخريج مرضين            |

## 18- أمامك خريطة صماء لمملكة البحرين – اكتب منها أسماء الظواهر الجغرافية التي تدل عليها الأرقام التالية



- 1- الخليج :- العربي
- 2- خليج :- البحرين
- 3- دولة :- المملكة العربية السعودية
- 4- دولة :- قطر
- 5- جزيرة :- المحرق ( محافظة المحرق )
- 6- جزيرة :- ام نعسان
- 7- جزيرة :- سترة
- 8- رأس :- البر
- 9- جسر الملك :- فهد
- 10- رياح :- البارح
- 11- رياح :- الكوس
- 12- حقل نفط بحري :- أبو سعة
- 13- حقل نفط وغاز بري :- البحرين
- 14- جزر :- حوار

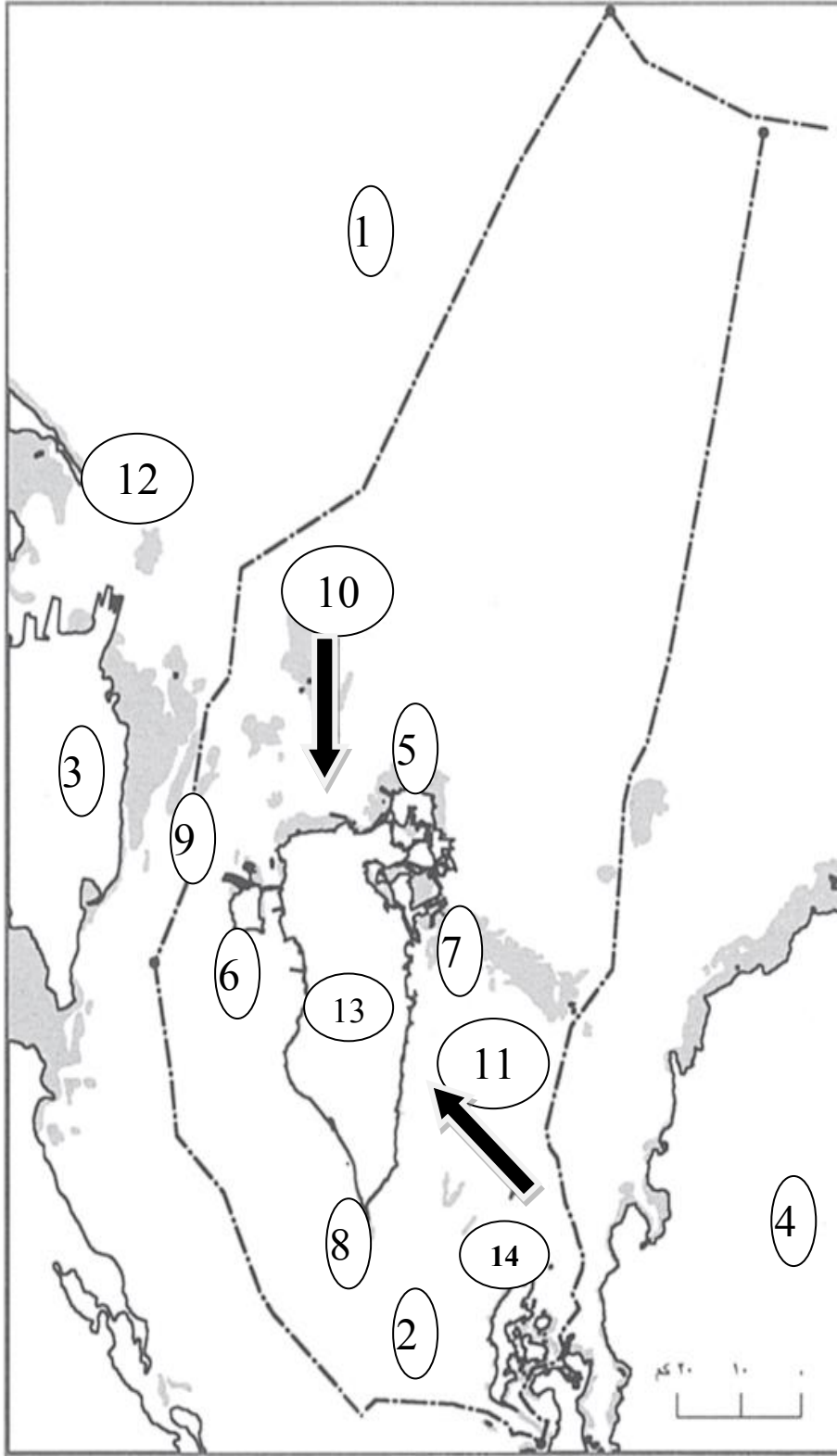
## 19- أمامك كل ظاهرة من الظواهر الجغرافية بالجدول اكتب أمامها الرقم الدال عليها من خريطة مملكة البحرين الصماء التي أمامك ؟



| اسم الظاهرة  | الرقم الدال عليها من الخريطة |
|--|------------------------------|
| أ- الخليج العربي   | 3                            |
| ب- جزيرة المحرق ( محافظة المحرق )                          | 2                            |
| ت- جزيرة أم نعسان  | 1                            |
| ث - جزيرة سترة   | 6                            |
| ج- جزر حوار  | 7                            |
| ح- الرياح الشمالية القطبية                                 | 9                            |
| خ- الرياح الشمالية الغربية الرطبة المعتدلة الدافئة الممطرة | 8                            |
| د- رياح الكوس  | 10                           |
| ذ- جبل الدخان  | 4                            |
| س- محافظة المنامة  | 5                            |
| ش- محافظة الشمالية   | 11                           |
| ص- المحافظة الجنوبية                                       | 13                           |
| ض- خليج البحرين  | 12                           |



س18 - أمامك خريطة صماء لمملكة البحرين – اكتب منها أسماء الظاهرات الجغرافية التي تدل عليها الأرقام التالية



1- الخليج :- العربي

2- خليج :- البحرين

3- دولة :- المملكة العربية السعودية

4- دولة :- قطر

5- جزيرة :- المحرق ( محافظة المحرق )

6- جزيرة :- ام نعسان

7- جزيرة:- سترة

8- رأس :- البر

9- جسر الملك :- فهد

10 – رياح :- البارح

11- رياح :- الكوس

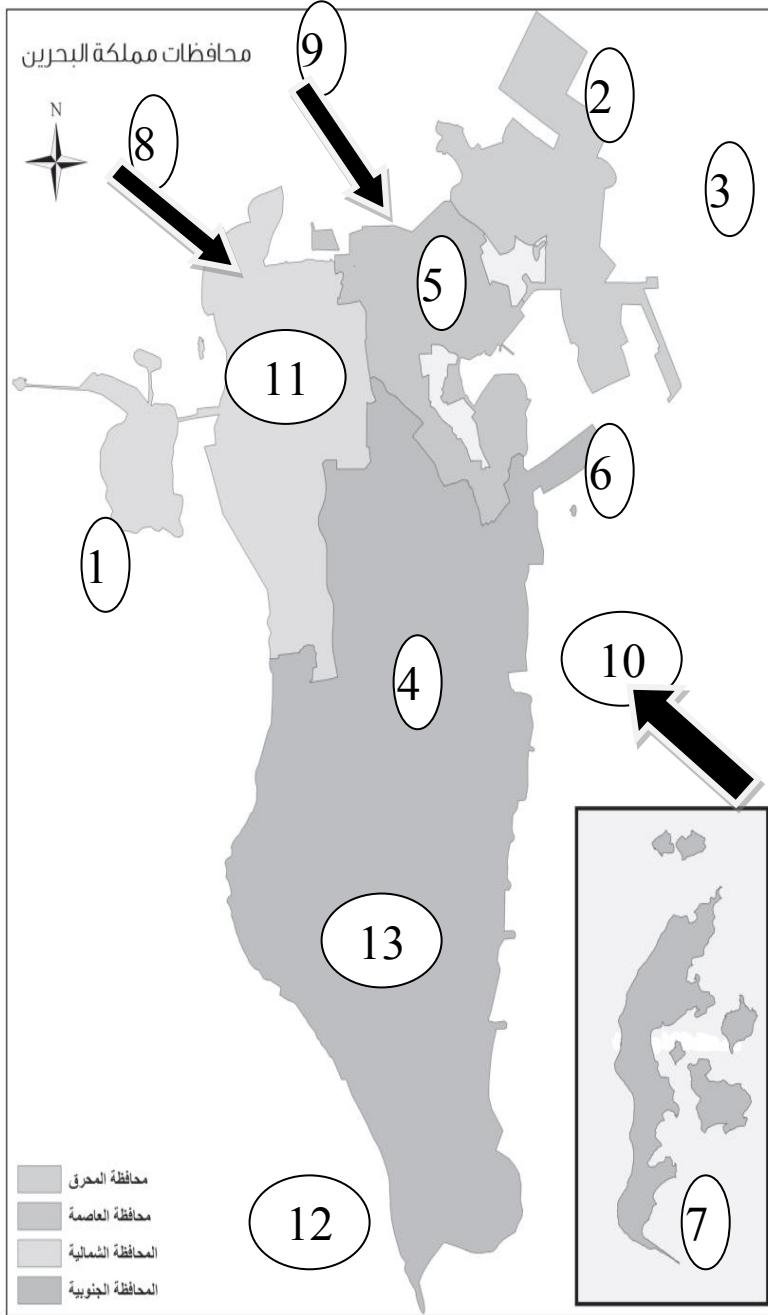
12 – حقل نفط بحري :- أبو سعدة

13 – حقل نفط وغاز بري :- البحرين

14 – جزر :- حوار



**19- أمامك كل ظاهرة من الظواهرات الجغرافية بالجدول اكتب أمامها الرقم الدال عليها من خريطة مملكة البحرين الصماء التي أمامك ؟**



| اسم الظاهرة  | الرقم الدال عليها<br>من الخريطة |
|--|---------------------------------|
| أ- الخليج العربي   | 3                               |
| ب- جزيرة المحرق ( محافظة المحرق )                          | 2                               |
| ت- جزيرة أم نعسان  | 1                               |
| ث - جزيرة سترة   | 6                               |
| ج- جزر حوار  | 7                               |
| ح- الرياح الشمالية القطبية                                 | 9                               |
| خ- الرياح الشمالية الغربية الرطبة المعتدلة الدافئة الممطرة | 8                               |
| د- رياح الكوس  | 10                              |
| ذ- جبل الدخان  | 4                               |
| س- محافظة المنامة  | 5                               |
| ش- محافظة الشمالية   | 11                              |
| ص- المحافظة الجنوبية                                       | 13                              |
| ض- خليج البحرين  | 12                              |

## التربية للمواطنة – الدرس الأول – الوحدة الوطنية – صفحة 9 إلى 12

**1- عرف الوحدة الوطنية ؟** هي الإيمان بوحدة الوطن أرضاً وشعباً ومن دونها يتحول الوطن إلى كيان ضعيف وهش تتقاذفه الصراعات في الداخل وتتلاعب به الأطماع من الخارج

**2- ما هي مقومات الوحدة الوطنية ؟** الالتزام بالدستور والقوانين – نشر ثقافة الحوار – تثبيت دعائم التسامح في المجتمع

**3- عرف الشعب ؟** هم جماعة من البشر تجمعهم مقومات رئيسية ومشتركة أبرزها الجغرافيا والتاريخ واللغة والثقافة

**4- كيف يحافظ المواطن على الوحدة الوطنية ؟** تمسك المواطن بروح المواطنة ألحقه – التزام المواطن بواجباته – معرفة المواطن حقوقه المنصوص عليها في الدستور – اتساع رؤية المواطن ومعرفة بحقوق الآخرين والتزاماتهم الدستورية – التعامل بشفافية وضبط الخلافات في طرح القضايا الوطنية من أجل ترسيخ السلم الأهلي وتحجيم فرص الانفلاتات الأمنية

**5- وضح الصفات التي ينبغي على المواطن التحلي بها للحفاظ على السلم الأهلي ؟**

التسامح – نبذ العنف – الإيمان بحرية التعبير والمعتقد – الإيمان بحق الاختلاف – اعتماد الحوار

**6- عرف كل من :- السلم الاجتماعي – الانفلات الأمني ؟**

**\*- السلم الاجتماعي :-** هو حالة من السلام والأمن والاستقرار يشهدها المجتمع بمختلف مكوناته – وتعتبر التنمية والتطور من أهم ما ينتج من هذه الحالة – كما أن السلم الاجتماعي نتاج للتنمية وشرط لازم لها

**\*- الانفلات الأمني :-** كل تجاوز للقانون ينجم عنه أضرار بحقوق المواطنين وعلى وجه الخصوص حقهم في الحياة والسلامة الجسدية وحماية ممتلكاتهم العامة

**7- هل الانفلات الأمني مناسب للتنمية ؟ علل إجابتك ؟**

لا – لأن الانفلات الأمني يحدث عندما يتجاوز بعض الأفراد القانون – وينتج عن هذا التجاوز أضرار بحقوق المواطنين وعلى وجه الخصوص حقهم في الحياة والسلامة الجسدية وحماية ممتلكاتهم والممتلكات العامة – وكل هذا يضر ويؤخر التنمية على مستوى الفرد والدولة

## التربية للمواطنة – الدرس الثاني – دور المواطن في ترسيخ الديمقراطية – صفحة 13 إلى 18

**1- من هو المواطن الفعال ؟** هو القادر على التفاعل مع المجتمع والالتزام بقضائيه وقوانينه

**2- كيف يتم إعداد المواطن الفعال ؟**

أ- عن طريق المؤسسات التربوية والسياسية والإعلامية ب – عن طريق جهود الأسرة ومؤسسات المجتمع المدني

**3- ما الفرق بين كل من ؟ الجمعية – النقابة – المجتمع المدني ؟**

**\*- الجمعية :-** هي هيئة أو منظمة أهلية مرخصة من الدولة لممارسة نشاط معين من دون غرض ربحي

**\*- النقابة :-** هي جمعية أهلية مهنية مرخصة من الدولة تهدف إلى الدفاع عن المصالح المشتركة لأشخاص يمارسون نفس الأنشطة المهنية

**\*- المجتمع المدني :-** نمط من التنظيم الاجتماعي يزدهر في ظل الدولة الديمقراطية ويشمل المؤسسات الأهلية السياسية والجمعيات والتنظيمات الاقتصادية والاجتماعية والحقوقية والثقافية المختلفة

**4- اذكر أهم الصفات التي تطلق على المواطن الفعال ؟**

أ- الوعي بالحقوق والواجبات ب- احترام القوانين ج- الانتماء إلى الوطن والولاء له والاستعداد الدائم للذود عنه

د- القدرة على التأثير في الآخرين هـ - الإسهام في إيجاد حلول للمشكلات الاجتماعية

و- التمتع بالكفاءة المهنية والحس العالي بالمسؤولية ز- المشاركة في الأعمال التطوعية ذات النفع الوطني

**5- ما الدليل على أن :- مملكة البحرين دولة تقوم على الحرية والعدالة ومشاركة الشعب في الحياة العامة ؟**

المشاركة الفعالة لشعب مملكة البحرين في الحياة السياسية

**6- ما أبرز أشكال المشاركة في الحياة الديمقراطية ؟**

أ- التصويت في الانتخابات ب- النشاط الأهلي ج- المشاركة في الاحتفالات والمناسبات الوطنية

**7- ما الفرق بين كل من ؟ الانتخاب – المرشح – النائب ؟**

**\*- الانتخاب :-** هو اختيار الناس عبر الاقتراع مرشحاً أو أكثر من أجل تمثيلهم ضمن هيئة أو مجلس

**\*- المرشح :-** هو الذي يتقدم بإرادته أو بتزكية من جماعة أو هيئة ما لخوض الانتخابات

**\*- النائب :-** هو ذاك المرشح الذي فاز في الانتخابات النيابية وأصبح ممثلاً لكل الشعب

**8- اذكر بعض من أشكال النشاطات الجماعية الأهلية ؟** إقامة المخيمات الكشفية والعمل التطوعي بحملات النظافة وزراعة الأشجار

ضمن المدرسة أو الحي – حملات الإنقاذ في أثناء الكوارث الطبيعية

**9 – اذكر بعض الاحتفالات والمناسبات الوطنية التي تقام في مملكة البحرين ؟** مناسبة العيد الوطني

**10- ضع علامة ( √ ) أمام العبارة الصحيحة وعلامة ( × ) أمام العبارة الخاطئة – لكل عبارة من العبارات التالية ؟**

أ- الانتخاب هو الأسلوب الذي تتبعه المجتمعات غير الديمقراطية لاختار المواطنين من يمثلهم في المجالس والهيئات النيابية ( )

ب- ينقسم الناس وقت الانتخابات إلى جماعات ( ناخبين ) تساند مجموعة من المرشحين ( )

ج- الذي يفوز في الانتخابات يصبح نائباً برلمانياً إذا كان مرشحاً للبرلمان أو عضواً بلدياً إذا كان مرشحاً للمجلس البلدي ( )

د- الانتخاب مسؤولية اجتماعية يجب القيام بها بأمانة وإخلاص ( )

## التربية للمواطنة – الدرس الثالث – مسؤولية الحفاظ على التراث – صفحة 19 إلى 23

### 1- ما أسباب ثراء التراث البحريني ؟

- أ- تاريخ مملكة البحرين الطويل وجزر البحرين كانت مأهولة بالسكان منذ فجر التاريخ  
 ب- البيئة الثقافية القائمة على الانفتاح والتسامح والسعي إلى الاستفادة من كل تقدم حضاري  
 2- عرف التراث ؟ هو الرصيد الحضاري والطبيعي المشترك الذي ورثته الأجيال الحاضرة لشعب من الشعوب عن الأجيال الماضية لذلك الشعب على مر تاريخه

### 3- اذكر مقاييس تصنيف المعالم والمواقع الأثرية ؟ بالجدول التالي ؟

| مقاييس التصنيف              | أهم المعالم والمواقع الأثرية  |
|-----------------------------|---|
| أ- حسب طبيعتها :-           | <p>1- معالم :- مثل قلعة – مسجد<br/>                 2- قطع أثرية :- أدوات – نقود – نحت – رسوم – مخطوطات<br/>                 3- أدوات حرفية 4- طرائق عمل وإنتاج<br/>                 5- نباتات وحيوانات ومشاهد حضرية وريفية وعادات<br/>                 6- ماثورات أدبية :- شعر – نثر – أمثال – حكم – قواعد لغوية – موسيقى<br/>                 7- إنتاج فكري – وتراث مادي ولا مادي مثل القيم والأخلاق<br/>                 8- تراث ثقافي – تراث – بيئي</p> |
| ب- حسب مرحلتها التاريخية :- | مثل ما قبل الإسلام – أو إسلامية   |
| ج- حسب مجال استعمالها :-    | مثل آثار دينية – عسكرية – اقتصادية – احتفالية   |
| د- المواد التي صنعت منها :- | مثل الخشب – النسيج – الصخر  |

### 4- ما سبب ثراء متحف البحرين الوطني ؟

يعود ثراء متحف البحرين الوطني إلى تنوع وتعدد معروضاته حيث يحتوي على العديد من المعروضات التي تؤرخ لتاريخ مملكة البحرين العريق – إذ تشتمل قاعاته على العديد من المخطوطات والآثار والحرف

### 5- اذكر دور الدولة – في مملكة البحرين للحفاظ على الآثار ( التراث ) ؟

- أ- سنت مملكة البحرين قانوناً خاصاً للحفاظ على الآثار  
 ب- جمعت مملكة البحرين عدداً من الآثار في المتحف الوطني  
 ج- اعتناء مملكة البحرين بالآثار في مواقعها

### 6- علل :- مملكة البحرين سنت قانوناً خاصاً بالحفاظ على الآثار ( التراث ) ؟

لمكانتها التاريخية الوطنية – وأهمية دورها الاقتصادي والاجتماعي والثقافي

### 7- اذكر ثلاثة إجراءات تضمنها القانون في مملكة البحرين للحفاظ على الآثار ( التراث ) ؟

- أ- يحظر إتلاف الآثار الثابتة أو غير الثابتة أو تحويلها أو إلحاق الضرر بها  
 ب- موافقة وزارة العدل والشئون الإسلامية في حالة ترميم المساجد وصيانتها  
 ج- يحظر الاتجار في الآثار الثابتة وغير الثابتة المتصلة بحضارة وتاريخ البحرين  
 د- يحظر تصدير الآثار إلى خارج البلاد

### 8- ما هو دور الفرد للحفاظ على الآثار في مملكة البحرين ؟

- أ- منع إتلاف الآثار أو تحويلها أو إلحاق الضرر بها  
 ب- قصر حق التنقيب عن الآثار على الجهة المختصة  
 ج- منع المتاجرة بآثار مملكة البحرين في الداخل والخارج  
 د- وجوب الإعلام عن كل قطعة أثرية مكتشفة وتسليمها إلى الجهة المختصة  
 هـ - ضرورة طلب ترخيص للقيام بكل ترميم أو صيانة

### 9- ما اسم الهيئة المختصة بالحفاظ على الآثار في مملكة البحرين ؟

- هيئة البحرين للثقافة والآثار  
 10 - علل :- الحفاظ على التراث مهمة عالمية وإنسانية ؟  
 لأن بعض الآثار تعد ملكاً للبشرية جمعاء – مثل المعالم ذات القيمة المعمارية أو الفنية أو العلمية – والمواقع الطبيعية – أو المهيأة من قبل الإنسان

### 11- ما اسم المنظمة العالمية بالحفاظ على الآثار في العالم ( التراث ) ؟

اليونسكو ( منظمة الأمم المتحدة للتربية والعلوم والثقافة )

### 12 - اذكر دور العالم في الحفاظ على الآثار ( التراث ) ؟

أقر المؤتمر العام لمنظمة الأمم المتحدة للتربية والعلوم والثقافة التي عقد بمدينة باريس بفرنسا في 16 نوفمبر عام 1972 م – اتفاقية لحماية التراث الثقافي والطبيعي – بهدف التعريف بالتراث – وتنظيم الحماية الوطنية والدولية له

### 13- كم عدد المعالم والمواقع الأثرية في العالم التي تضمها قائمة التراث العالمي ؟

850 معلماً وموقعاً – ومن ضمنها قلعة البحرين التي سجلت في القائمة عام 2005 م – ومشروع طريق اللؤلؤ الذي سجل عام 2012 م

## نشاط – 1 - التربية للمواطنة – الدرس رقم 1 و 2 و 3

### س1- أمام كل تعريف اكتب المصطلح الدال عليه مما درست ؟

| التعريف  | المصطلح الدال عليه |
|--|--------------------|
| 1- هي الإيمان بوحدة الوطن أرضاً وشعباً ومن دونها يتحول الوطن إلى كيان ضعيف وهش تتقاذفه الصراعات في الداخل وتتلاعب به الأطماع من الخارج   |                    |
| 2- هم جماعة من البشر تجمعهم مقومات رئيسية ومشاركة أبرزها الجغرافيا والتاريخ واللغة والثقافة  |                    |
| 3- هو حالة من السلام والأمن والاستقرار يشهدها المجتمع بمختلف مكوناته – وتعتبر التنمية والتطور من أهم ما ينتج من هذه الحالة – كما أن السلم الاجتماعي نتاج للتنمية وشرط لازم لها |                    |
| 4- كل تجاوز للقانون ينجم عنه أضرار بحقوق المواطنين وعلى وجه الخصوص حقهم في الحياة والسلامة الجسدية وحماية ممتلكاتهم العامة   |                    |
| 5- هو القادر على التفاعل مع المجتمع والالتزام بقضائيه وقوانينه   |                    |
| 6- هي هيئة أو منظمة أهلية مرخصة من الدولة لممارسة نشاط معين من دون غرض ربحي  |                    |
| 7- هي جمعية أهلية مهنية مرخصة من الدولة تهدف إلى الدفاع عن المصالح المشتركة لأشخاص يمارسون نفس الأنشطة المهنية   |                    |
| 8- نمط من التنظيم الاجتماعي يزدهر في ظل الدولة الديمقراطية ويشمل المؤسسات الأهلية السياسية والجمعيات والتنظيمات الاقتصادية والاجتماعية والحقوقية والثقافية المختلفة            |                    |
| 9- هو اختيار الناس عبر الاقتراع مرشحاً أو أكثر من أجل تمثيلهم ضمن هيئة أو مجلس   |                    |
| 10- هو الذي يتقدم بإرادته أو بتركية من جماعة أو هيئة ما لخوض الانتخابات  |                    |
| 11- هو ذاك المرشح الذي فاز في الانتخابات النيابية وأصبح ممثلاً لكل الشعب   |                    |
| 12- هو الرصيد الحضاري والطبيعي المشترك الذي ورثته الأجيال الحاضرة لشعب من الشعوب عن الأجيال الماضية لذلك الشعب على مر تاريخه   |                    |
| 13- ( منظمة الأمم المتحدة للتربية والعلوم والثقافة )   |                    |

### س2- ما هي مقومات الوحدة الوطنية ؟ الالتزام بالدستور والقوانين – ونشر ثقافة –

### س3- وضح الصفات التي ينبغي على المواطن التحلي بها للحفاظ على السلم الأهلي ؟

التسامح – ونبذ العنف –

### س4- اذكر أهم الصفات التي تطلق على المواطن الفعال ؟

- أ- الوعي بالحقوق والواجبات  
 ب- احترام القوانين  
 ج- الانتماء إلى الوطن والولاء له والاستعداد الدائم للذود عنه  
 د- القدرة على التأثير في الآخرين  
 هـ - الإسهام في إيجاد حلول للمشكلات الاجتماعية  
 و- التمتع بالكفاءة المهنية والحس العالي بالمسؤولية  
 ز - المشاركة في الأعمال التطوعية ذات النفع الوطني

### س5- ما أبرز أشكال المشاركة في الحياة الديمقراطية ؟

أ- التصويت في – – – – – ب- النشاط – – – – –

ج- المشاركة في – – – – –

### س6 – اذكر بعض الاحتفالات والمناسبات الوطنية التي تقام في مملكة البحرين ؟ مناسبة العيد الوطني

### س7- اذكر بعض من أشكال النشاطات الجماعية الأهلية ؟ إقامة المخيمات الكشفية والعمل التطوعي بحملات النظافة

وزراعة الأشجار ضمن المدرسة أو الحي – حملات الإنقاذ في أثناء الكوارث الطبيعية

### س8- ضع علامة ( √ ) أمام العبارة الصحيحة وعلامة ( × ) أمام العبارة الخاطئة – لكل عبارة من العبارات التالية ؟

- أ- الانتخاب هو الأسلوب الذي تتبعه المجتمعات غير الديمقراطية لاختار المواطنين من يمثلهم في المجالس والهيئات النيابية ( )  
 ب- ينقسم الناس وقت الانتخابات إلى جماعات ( ناخبين ) تساند مجموعة من المرشحين ( )  
 ج- الذي يفوز في الانتخابات يصبح نائباً برلمانياً إذا كان مرشحاً للبرلمان أو عضواً بلدياً إذا كان مرشحاً للمجلس البلدي ( )  
 د- الانتخاب مسؤولية اجتماعية يجب القيام بها بأمانة وإخلاص ( )

### س9- اذكر دور الدولة – في مملكة البحرين للحفاظ على الآثار ( التراث ) ؟

أ- سنت مملكة البحرين – – – – – خاصاً للحفاظ على الآثار

ب- جمعت مملكة البحرين عدداً من الآثار في – – – – –

ج- اعتناء مملكة البحرين بالآثار في – – – – –

## نشاط – 2 - التربية للمواطنة – الدرس رقم 1 و 2 و 3

**س1- علل :- مملكة البحرين سنت قانوناً خاصاً بالحفاظ على الآثار ( التراث ) ؟**  
لمكانتها التاريخية الوطنية – وأهمية دورها الاقتصادي والاجتماعي والثقافي

**س2- ما سبب ثراء متحف البحرين الوطني ؟**  
يعود ثراء متحف البحرين الوطني إلى تنوع وتعدد معروضاته حيث يحتوي على العديد من المعروضات التي تؤرخ لتاريخ مملكة البحرين العريق – إذ تشتمل قاعاته على العديد من المخطوطات والآثار والحرف

**س3- اذكر ثلاثة إجراءات تضمنها القانون في مملكة البحرين للحفاظ على الآثار ( التراث ) ؟**

- أ- يحظر إتلاف الآثار الثابتة أو غير الثابتة أو تحويلها أو إلحاق الضرر بها
- ب- موافقة وزارة العدل والشؤون الإسلامية في حالة ترميم المساجد وصيانتها
- ج- يحظر الاتجار في الآثار الثابتة وغير الثابتة المتصلة بحضارة وتاريخ البحرين
- د- يحظر تصدير الآثار إلى خارج البلاد

**س4- ما هو دور الفرد للحفاظ على الآثار في مملكة البحرين ؟**

- أ- منع إتلاف الآثار أو تحويلها أو إلحاق الضرر بها
- ب- قصر حق التنقيب عن الآثار على الجهة المختصة
- ج- منع المتاجرة بآثار مملكة البحرين في الداخل والخارج
- د- وجوب الإعلام عن كل قطة أثرية مكتشفة وتسليمها إلى الجهة المختصة
- هـ - ضرورة طلب ترخيص للقيام بكل ترميم أو صيانة

**س5- ما اسم الهيئة المختصة بالحفاظ على الآثار في مملكة البحرين ؟** هيئة البحرين للثقافة والآثار

**س6 – علل :- الحفاظ على التراث مهمة عالمية وإنسانية ؟**

لأن بعض الآثار تعد ملكاً للبشرية جمعاء – مثل المعالم ذات القيمة المعمارية أو الفنية أو العلمية – والمواقع الطبيعية – أو المهيأة من قبل الإنسان

**س7- ما أسباب ثراء التراث البحريني ؟**

- أ- تاريخ مملكة البحرين الطويل وجزر البحرين كانت مأهولة بالسكان منذ فجر التاريخ
- ب- البيئة الثقافية القائمة على الانفتاح والتسامح والسعي إلى الاستفادة من كل تقدم حضاري

**س8- اذكر مقاييس تصنيف المعالم والمواقع الأثرية ؟ بالجدول التالي ؟**

| مقاييس التصنيف              | أهم المعالم والمواقع الأثرية   |
|-----------------------------|--|
| أ- حسب طبيعتها :-           | <b>1- معالم :-</b> مثل قلعة – مسجد<br><b>2- قطع أثرية :-</b> أدوات – نقود – نحت – رسوم – مخطوطات<br><b>3- أدوات حرفية</b> 4- طرائق عمل وإنتاج<br><b>5- نباتات وحيوانات ومشاهد حضرية وريفية وعادات</b><br><b>6- ماثورات أدبية:-</b> شعر – نثر – أمثال – حكم – قواعد لغوية – موسيقى<br><b>7- إنتاج فكري – وتراث مادي ولا مادي مثل القيم والأخلاق</b><br><b>8- تراث ثقافي – تراث – بيئي</b> |
| ب- حسب مرحلتها التاريخية :- | مثل ما قبل الإسلام – أو إسلامية  |
| ج- حسب مجال استعمالها :-    | مثل آثار دينية – عسكرية – اقتصادية – احتفالية  |
| د- المواد التي صنعت منها :- | مثل الخشب – النسيج – الصخر   |

**س9 – اذكر دور العالم في الحفاظ على الآثار ( التراث ) ؟**

أقر المؤتمر العام لمنظمة الأمم المتحدة للتربية والعلوم والثقافة التي عقد بمدينة باريس بفرنسا في 16 نوفمبر عام 1972 م – اتفاقية لحماية التراث الثقافي والطبيعي – بهدف التعريف بالتراث – وتنظيم الحماية الوطنية والدولية له

**س10- كم عدد المعالم والمواقع الأثرية في العالم التي تضمها قائمة التراث العالمي ؟**

850 معلماً وموقعاً – ومن ضمنها قلعة البحرين التي سجلت في القائمة عام 2005 م – ومشروع طريق اللؤلؤ الذي سجل عام 2012 م

**س11- كيف يحافظ المواطن على الوحدة الوطنية ؟**

تمسك المواطن بروح المواطنة ألحقه – التزام المواطن بواجباته – معرفة المواطن حقوقه المنصوص عليها في الدستور – اتساع رؤية المواطن ومعرفة بحقوق الآخرين والتزاماتهم الدستورية – التعامل بشفافية وضبط الخلافات في طرح القضايا الوطنية من أجل ترسيخ السلم الأهلي وتحجيم فرص الانفلاتات الأمنية

**س12- كيف يتم إعداد المواطن الفعال ؟**

أ- عن طريق المؤسسات التربوية والسياسية والإعلامية ب – عن طريق جهود الأسرة ومؤسسات المجتمع المدني





۳۰۵ مشرقاً

- ۶۷۵۸



مناطق موفدة للسكان

مناطق جاذبة للسكان

١٠٠٠

- د- الرؤوس



س ٢- أمامك خريطة صماء لدولة البحرين . . . وضع عليها ما يأتي :-

أ- الكثافة السكانية لكل منطقة إدارية

باستخدام الرمز المناسب كما هو مبين

لك في مفتاح الخريطة .

ب- الرياح التي تهب على البحرين صيفا

وشتاء باستخدام رمز ( ← ) .

