

كراسة مراجعة شاملة للمنهج 2025-2026م



تم تحميل هذا الملف من موقع مناهج مملكة البحرين

موقع المناهج ← مناهج مملكة البحرين ← الصف السادس ← رياضيات ← الفصل الثاني ← ملفات متنوعة ← الملف

تاريخ إضافة الملف على موقع المناهج: 2026-04-10 14:57:08

ملفات اكتب للمعلم اكتب للطالب الاختبارات الالكترونية الاختبارات ا حلول ا عروض بوربوينت ا أوراق عمل
منهج انجليزي ا ملخصات وتقاير ا مذكرات وبنوك ا الامتحان النهائي للمدرس

المزيد من مادة
رياضيات:

إعداد: مدرسة القضيبيية الإبتدائية الإعدادية للبنين

التواصل الاجتماعي بحسب الصف السادس



صفحة مناهج مملكة
البحرين على
فيسبوك

الرياضيات

اللغة الانجليزية

اللغة العربية

التربية الاسلامية

المواد على تلغرام

المزيد من الملفات بحسب الصف السادس والمادة رياضيات في الفصل الثاني

الإجابات النموذجية لحل ملزمة الزوايا والقوانين

1

مهارة اختلاف التوقيت غير محلول

2

إجابة مراجعة شاملة للاختبار الأول

3

العنوان. إجابة مراجعة الاختبار الأول الفصل السادس النسبة والمعدل والفصل السابع النسبة المئوية والاحتمالات
2025-2026م

4

مراجعة الاختبار الأول الفصل السادس النسبة والمعدل والفصل السابع النسبة المئوية والاحتمالات 2025-2026م
غير محلول

5



كراسة الرياضيات للفصل الدراسي الثاني للعام الدراسي ٢٠٢٥ - ٢٠٢٦

ملاحظات هامة

- ١- المذكرة وجدت من أجل إثراء المنهج والكتاب المدرسي وليس من أجل الإستغناء عنه .
- ٢- ابتعد عن استخدام الآلة الحاسبة ليتم إنعاش ذاكرتك باستمرار .
- ٣- أتمنى دوام الإستفادة من هذه الكراسة .

اسم الطالب :

الصف :

الصف: سادس ابتدائي /

اسم الطالب:

رؤية المدرسة: بناء جيل مبدع يصون قيم وطنه يواكب مهارات عصره.

اتفاقية حقوقي وواجباتي

عزيزي التلميذ، عليك أن تحدد هدفك في البداية وأن تبذل كل الجهود المخلصة لتحقيقه، ونحن من خلال هذه الاتفاقية سنساعدك على تحقيق هدفك ببسر وسهولة:

واجباتي:

- أن احترم المعلم والتلاميذ.
- أن التزم بالقوانين الصفية.
- أن أحافظ على نظافة وممتلكات الصف والمدرسة.
- أن التزم بالحضور للحصة والتواجد قبل حضور المعلم.
- أن أشارك بفعاليات المدرسة، واحضر دروسي.
- أن التزم بمواعيد الاختبارات، وأحضر عذر مقبول في اليوم التالي لتحديد موعد آخر.

حقوقي:

- أن أعرف محتويات المقرر.
- أن أعرف توزيع الدرجات وموعد الاختبارات.
- أن يقوم المعلم بشرح المقرر وإنهائه قبل الاختبار.
- أن يوفر المعلم التقييم العادل.
- أن أحصل على التشجيع والتحفيز الدائم.
- أن أعبر عن رأيي بكل أدب واحترام.

أقر أنا الطالب: بما جاء في هذه الاتفاقية، وأن أبذل قصار جهدي لتحقيق أعلى الدرجات وأن ألتزم بالسلوك القويم وأن ألتزم بقوانين صفنا.

توقيع المعلم:

توقيع الطالب:

نشاط الدرس: النسبة والمعدل

١

1 اكتب كل نسبة على صورة كسر في أبسط صورة ، ثم اشرح معناها

لدى أحمد ٨ دجاجات و ١٢ حمامة ، ما نسبة عدد الحمام إلى عدد الدجاج ؟



نسبة أقلام الحبر إلى أقلام الرصاص

• النسبة :

• وهذا يعني :

• النسبة :

• وهذا يعني :

2 اكتب كل معدل مما يأتي على صورة معدل وحدة :

٣٦ ديناراً لأربعة تذاكر

٩ دنانير لثلاثة كعكات .




3 أوجد ناتج ما يلي:

أكل محمود في الأسبوع الماضي ٩ تفاحات ، و ٥ حبات موز ، و ٤ رمانات ، و ٧ حبات برتقال . أوجد النسبة والمعدل لعدد حبات الموز إلى العدد الكلي للفواكه التي أكلها محمود الأسبوع الماضي.

• عدد حبات الموز =

• العدد الكلي للفواكه =

• النسبة في أبسط صورة :



تغذية راجعة وصفية - أ. محمود عبدالجبار		
الوصف	التعزيز	الدعم المتقدم
<input type="checkbox"/> عمك متقن	<input type="checkbox"/> شكراً لجهودك الرائعة	<input type="checkbox"/> ارجع للكتاب للتصحيح صفحة
<input type="checkbox"/> إجابتك منسقة	<input type="checkbox"/> أقدر جهودك	<input type="checkbox"/> ارجع معك لتصحيح الأخطاء
<input type="checkbox"/> وظفت المطلوب منك بدقة	<input type="checkbox"/> سعدت بمحاولاتك	<input type="checkbox"/> تدرب أكثر مستعيناً بالأنشطة التدريبية
<input type="checkbox"/> لم تحقق المطلوب	<input type="checkbox"/>	<input type="checkbox"/> استعن بزميلك
التقدير: <input type="radio"/> ممتاز <input type="radio"/> جيد جداً <input type="radio"/> جيد <input type="radio"/> ضعيف		



نشاط الدرس: جداول النسب

٢

1 استعمل جداول النسب المعطاة لحل الأسئلة :

يحصل حمد على خصم مقداره ٧ دنانير كل شهر مقابل شرائه من أحد المتاجر . فما المبلغ الإجمالي للخصم الذي يأخذه حمد بعد ٤ أشهر ؟



			٧	الخصم (دينار)
٤			١	عدد الأشهر

المبلغ الإجمالي للخصم =

2 استعمل جداول النسب المعطاة لحل الأسئلة :

يقطع عمر بدراجته ١٢ كيلومتراً في ٦٠ دقيقة . كم دقيقة يحتاج عمر ليقطع كيلومترين وفق المعدل نفسه ؟



٢		١٢	مسافة المشي (كلم)
		٦٠	الزمن (دقيقة)

3 استعمل جداول النسب المعطاة لحل الأسئلة :

يحتوي ١٢ كوباً من العصير على ١٠ ملاعق من السكر . إذا عمل أحد الأشخاص ١٨ كوباً من العصير ، فكم ملعقة من السكر يستهلكها ؟



١٨		١٢	عدد أكواب العصير
		١٠	عدد ملاعق السكر

تغذية راجعة وصفية - أ. محمود عبدالجبار		
الدعم المتقدم	التعزيز	الوصف
<input type="checkbox"/> ارجع للكتاب لتصحيح صفحة.....	<input type="checkbox"/> شكراً لجهودك الرائعة	<input type="checkbox"/> عملك متقن
<input type="checkbox"/> ارجع معك لتصحيح الأخطاء	<input type="checkbox"/> أقدر جهودك	<input type="checkbox"/> إجابتك منسقة
<input type="checkbox"/> تدرب أكثر مستعيناً بالأنشطة التدريبية	<input type="checkbox"/> سعدت بمحاولاتك	<input type="checkbox"/> وظفت المطلوب منك بدقة
<input type="checkbox"/> استعن بزميلك	<input type="checkbox"/>	<input type="checkbox"/> لم تحقق المطلوب
التقدير: <input type="radio"/> ممتاز <input type="radio"/> جيد جداً <input type="radio"/> جيد <input type="radio"/> ضعيف		

1 هل الكميات في كل زوج من النسب أو المعدلات الآتية متناسبة أم لا؟ فسّر إجابتك
٢٧ سعرة حرارية في ٣ وجبات طعام ، ٤٥ سعرة حرارية في ٥ وجبات طعام .

هل يوجد تناسب؟

.....

2

ادخار ٣ دينارًا في ٢٤ أسابيع ، ادخار ٧ دينارًا في ٤٩ أسابيع .



هل يوجد تناسب؟

.....

3

يستطيع سلطان عمل تمرين الضغط ٧٥ مرة في ٣ دقائق ويستطيع خليل عمل التمرين نفسه ١٣٠ مرة في ٥ دقائق .
فهل هذان المعدلان متناسبان؟ فسّر إجابتك .



تغذية راجعة وصفية - أ. محمود عبدالجبار		
الوصف	التعزيز	الدعم المتقدم
<input type="checkbox"/> عملك متقن	<input type="checkbox"/> شكرًا لجهودك الرائعة	<input type="checkbox"/> ارجع للكتاب للتصحيح صفحة
<input type="checkbox"/> إجابتك منسقة	<input type="checkbox"/> أقدر جهودك	<input type="checkbox"/> راجع معك لتصحيح الأخطاء
<input type="checkbox"/> وظفت المطلوب منك بدقة	<input type="checkbox"/> سعدت بمحاولاتك	<input type="checkbox"/> تدرب أكثر مستعيناً بالأنشطة التدريبية
<input type="checkbox"/> لم تحقق المطلوب	<input type="checkbox"/>	<input type="checkbox"/> استعن بزميلك
التقدير: <input type="radio"/> ممتاز <input type="radio"/> جيد جداً <input type="radio"/> جيد <input type="radio"/> ضعيف		



نشاط الدرس: حل التناسب

٤

1 حل التناسب الآتي :

$$\frac{س}{٢٠} = \frac{٣}{٤}$$

س =

2 حل التناسب الآتي :

$$\frac{٢٠}{١٨} = \frac{ن}{٩}$$

ن =



3 هويات : إذا كان ١٧ طالباً من كل ٣٠ طالباً في إحدى المدارس يفضلون السباحة على غيرها من الرياضات ، فما عدد الطلاب الذين يفضلون السباحة من بين ٣٠٠ طالب ؟

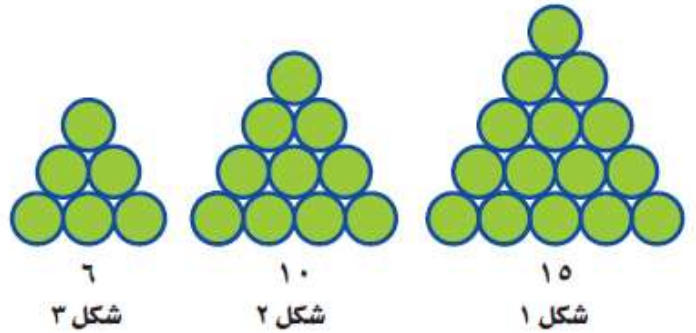


تغذية راجعة وصفية – أ. محمود عبدالجبار		
الوصف	التعزيز	الدعم المتقدم
<input type="checkbox"/> عملك متقن	<input type="checkbox"/> شكراً لجهودك الرائعة	<input type="checkbox"/> ارجع للكتاب للتصحيح صفحة
<input type="checkbox"/> إجابتك منسقة	<input type="checkbox"/> أقدر جهودك	<input type="checkbox"/> ارجع معك لتصحيح الأخطاء
<input type="checkbox"/> وظفت المطلوب منك بدقة	<input type="checkbox"/> سعدت بمحاولاتك	<input type="checkbox"/> تدرّب أكثر مستعيناً بالأنشطة التدريبية
<input type="checkbox"/> لم تحقق المطلوب	<input type="checkbox"/>	<input type="checkbox"/> استعن بزميلك
التقدير: <input type="radio"/> ممتاز <input type="radio"/> جيد جداً <input type="radio"/> جيد <input type="radio"/> ضعيف		

1 نقود : تأخذ سعاد من والدتها كل شهر مبلغاً يزيد ١٠ دنانير عن الشهر السابق ، إذا أخذت في شهر يناير ٢٠ ديناراً ، فأوجد مقدار ما تأخذه سعاد في شهر مايو ؟



2 ارسم الشكلين التاليين في النمط أدناه :



شكل ٥

شكل ٤

شكل ٣

شكل ٢

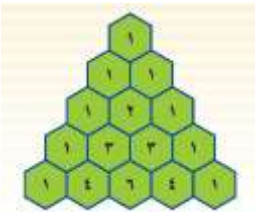
شكل ١

3 الحس العددي : صف النمط أدناه ، ثم أوجد الأعداد الثلاثة التالية :

٣ ، ٦ ، ١٠ ، ١٥ ، ٢١ ، ، ،

النمط هو :

4 نظرية الأعداد : يُعرف المثلث المجاور باسم مثلث باسكال . إذا استمر هذا النمط ، فما الأعداد في الصف التالي ؟



تغذية راجعة وصفية - أ. محمود عبدالجبار		
الوصف	التعزيز	الدعم المتقدم
<input type="checkbox"/> عملك متقن	<input type="checkbox"/> شكراً لجهودك الرائعة	<input type="checkbox"/> ارجع للكتاب لتصحيح صفحة
<input type="checkbox"/> إجابتك منسقة	<input type="checkbox"/> أقدر جهودك	<input type="checkbox"/> ارجع معك لتصحيح الأخطاء
<input type="checkbox"/> وظفت المطلوب منك بدقة	<input type="checkbox"/> سعدت بمحاولاتك	<input type="checkbox"/> تدرّب أكثر مستعيناً بالأنشطة التدريبية
<input type="checkbox"/> لم تحقق المطلوب	<input type="checkbox"/>	<input type="checkbox"/> استعن بزميلك
التقدير: <input type="radio"/> ممتاز <input type="radio"/> جيد جداً <input type="radio"/> جيد <input type="radio"/> ضعيف		



نشاط الدرس: النسبة المئوية والكسور الاعتيادية

٦

1 اكتب كل نسبة مئوية فيما يأتي على صورة كسر في أبسط صورة :



٨٠%

١٥%


2 اكتب كل نسبة مئوية فيما يأتي على صورة عدد كسري في أبسط صورة :



١٨٠%

١٢٥%

3 اكتب كلاً من الكسور أو الأعداد الكسرية الآتية على صورة نسبة مئوية :



$\frac{1}{20}$

$\frac{1}{4}$

تغذية راجعة وصفية - أ. محمود عبدالجبار		
الوصف	التعزيز	الدعم المتقدم
<input type="checkbox"/> عمك متقن	<input type="checkbox"/> شكراً لجهودك الرائعة	<input type="checkbox"/> ارجع للكتاب لتصحيح صفحة
<input type="checkbox"/> إجابتك منسقة	<input type="checkbox"/> أقدر جهودك	<input type="checkbox"/> راجع معك لتصحيح الأخطاء
<input type="checkbox"/> وظفت المطلوب منك بدقة	<input type="checkbox"/> سعدت بمحاولاتك	<input type="checkbox"/> تدرّب أكثر مستعيناً بالأنشطة التدريبية
<input type="checkbox"/> لم تحقق المطلوب	<input type="checkbox"/>	<input type="checkbox"/> استعن بزميلك
التقدير: <input type="radio"/> ممتاز <input type="radio"/> جيد جداً <input type="radio"/> جيد <input type="radio"/> ضعيف		



نشاط الدرس: النسبة المئوية والكسور العشرية

٧

1 اكتب كل نسبة مئوية مما يأتي على صورة كسر عشري :



٥٨%

٢%

2 اكتب كل نسبة مئوية مما يأتي على صورة كسر عشري :



١٣٦%

١٢٥%

3 اكتب كل كسر عشري مما يأتي على صورة نسبة مئوية :



٤,٣٦


٠,٣٢

تغذية راجعة وصفية - أ. محمود عبدالجبار		
الوصف	التعزيز	الدعم المتقدم
<input type="checkbox"/> عمك متقن	<input type="checkbox"/> شكراً لجهودك الرائعة	<input type="checkbox"/> ارجع للكتاب للتصحيح صفحة
<input type="checkbox"/> إجابتك منسقة	<input type="checkbox"/> أقدر جهودك	<input type="checkbox"/> راجع معك لتصحيح الأخطاء
<input type="checkbox"/> وظفت المطلوب منك بدقة	<input type="checkbox"/> سعدت بمحاولاتك	<input type="checkbox"/> تدرب أكثر مستعيناً بالأنشطة التدريبية
<input type="checkbox"/> لم تحقق المطلوب	<input type="checkbox"/>	<input type="checkbox"/> استعن بزميلك
التقدير: <input type="radio"/> ممتاز <input type="radio"/> جيد جداً <input type="radio"/> جيد <input type="radio"/> ضعيف		

نشاط الدرس: الاحتمال

٨

1 إذا أُدير مؤشر القرص الدوّار في الشكل المجاور مرة واحدة، فأوجد كلاً من الاحتمالات الآتية، واكتب إجابتك على صورة كسر اعتيادي، وكسر عشري، ونسبة مئوية:



ل (ليس ب)

ل (م أو س)



2 اختيرت بطاقة تحمل حرفاً بشكل عشوائي من البطاقات المجاورة. أوجد احتمال كل من الأحداث الآتية، واكتب إجابتك على صورة كسر اعتيادي:



ل (س أو ي أو ص)


ل (ب أو ي)



3 سُحبت بطاقة واحدة عشوائياً من بين ثماني بطاقات مرقمة بالأرقام من ٢ إلى ٩. أوجد احتمال كل من الأحداث الآتية، واكتب إجابتك على صورة كسر اعتيادي، وكسر عشري، ونسبة مئوية:

ل (عدد فردي)

ل (عدد أكبر من ٤)



تغذية راجعة وصفية - أ. محمود عبد الجبار		
الوصف	التعزيز	الدعم المتقدم
<input type="checkbox"/> عملك متقن	<input type="checkbox"/> شكراً لجهودك الرائعة	<input type="checkbox"/> ارجع للكتاب لتصحيح صفحة
<input type="checkbox"/> إجابتك منسقة	<input type="checkbox"/> أقدر جهودك	<input type="checkbox"/> ارجع معك لتصحيح الأخطاء
<input type="checkbox"/> وظفت المطلوب منك بدقة	<input type="checkbox"/> سعدت بمحاولاتك	<input type="checkbox"/> تدرب أكثر مستعيناً بالأنشطة التدريبية
<input type="checkbox"/> لم تحقق المطلوب	<input type="checkbox"/>	<input type="checkbox"/> استعن بزميلك
التقدير: <input type="radio"/> ممتاز <input type="radio"/> جيد جداً <input type="radio"/> جيد <input type="radio"/> ضعيف		

1 مبدأ العد الأساسي :



ما عدد النواتج الممكنة عند رمي مكعب أرقام ١ - ٦ ،
و اختيار حرف من الكيس المجاور ؟

2 استعمل القائمة :



الطلبة
فيصل
علي
ماجد

بكم طريقة يمكن اختيار هؤلاء الطلاب

3 استعمل الشجرة البيانية :

استعمل الشجرة البيانية لإيجاد عدد الحقائق المختلفة التي يمكن صنعها إذا كانت الحقائق من النايلون أو الجلد ، باللون الأحمر أو الأخضر أو الأسود.



تغذية راجعة وصفية - أ. محمود عبدالجبار		
الوصف	التعزيز	الدعم المتقدم
<input type="checkbox"/> عملك متقن	<input type="checkbox"/> شكراً لجهودك الزائفة	<input type="checkbox"/> ارجع للكتاب لتصحيح صفحة
<input type="checkbox"/> إجابتك منسقة	<input type="checkbox"/> أقدر جهودك	<input type="checkbox"/> ارجع معك لتصحيح الأخطاء
<input type="checkbox"/> وظفت المطلوب منك بدقة	<input type="checkbox"/> سعدت بمحاولاتك	<input type="checkbox"/> تدرب أكثر مستعينا بالأنشطة التدريبية
<input type="checkbox"/> لم تحقق المطلوب	<input type="checkbox"/>	<input type="checkbox"/> استعن بزميلك
التقدير: <input type="radio"/> ممتاز <input type="radio"/> جيد جداً <input type="radio"/> جيد <input type="radio"/> ضعيف		

1 نقود : حصل سعيد على خصم بنسبة ٢٠٪ من قيمة مشترياته ، إذا اشترى بمبلغ ٦٠٠ دينارًا ، فما مقدار الخصم الذي يحصل عليه ؟



2 ساعات : تصدر ساعة أحمد صوتًا كل ساعة . ما عدد المرات التي تصدر فيها صوتًا في أسبوع واحد ؟



3 تمرين : ركض فهد مسافة ٢ كم في الأسبوع الأول ، و ٤ كم في الأسبوع الثاني ، و ٨ كم في الأسبوع الثالث ، و ١٦ كم في الأسبوع الرابع وهكذا ؛ ... استعدادًا للمشاركة في سباق الماراثون . فكم كيلومترًا سيركض في الأسبوع الخامس إذا استمر على المعدل نفسه ؟

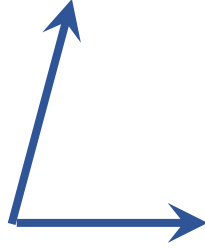
4 طوابع : مع خليل ٣٢ طابعًا ، ويريد أن يعطي كل واحد من أصدقائه الأربعة العدد نفسه من الطوابع . فما عدد الطوابع التي يحصل عليها كل واحد منهم ؟
عدد الطوابع =

تغذية راجعة وصفية – أ. محمود عبدالجبار		
الوصف	التعزيز	الدعم المتقدم
<input type="checkbox"/> عملك متقن	<input type="checkbox"/> شكرًا لجهودك الرائعة	<input type="checkbox"/> ارجع للكتاب لتصحيح صفحة
<input type="checkbox"/> إجابتك منسقة	<input type="checkbox"/> أقدر جهودك	<input type="checkbox"/> راجع معك لتصحيح الأخطاء
<input type="checkbox"/> وظفت المطلوب منك بدقة	<input type="checkbox"/> سعدت بمحاولاتك	<input type="checkbox"/> تدرب أكثر مستعينًا بالأنشطة التدريبية
<input type="checkbox"/> لم تحقق المطلوب	<input type="checkbox"/>	<input type="checkbox"/> استعن بزميلك
التقدير: <input type="radio"/> ممتاز <input type="radio"/> جيد جدًا <input type="radio"/> جيد <input type="radio"/> ضعيف		

نشاط الدرس: قياس الزوايا

١١

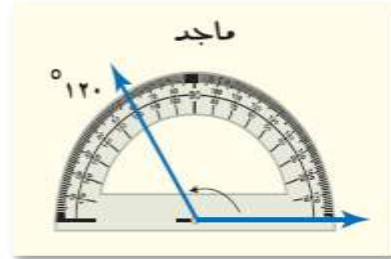
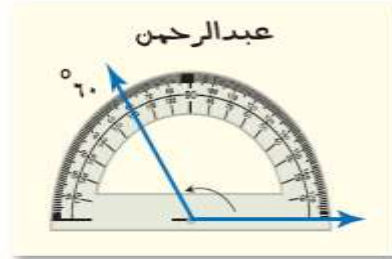

1 أوجد قياس الزوايا المطلوبة:



2 صنف الزوايا: حادة، منفرجة، قائمة، وعلل السبب:-



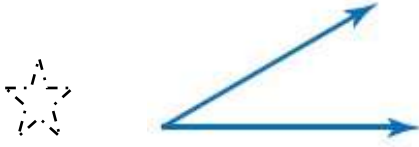
3 اكتشف الخطأ: يقيس ماجدٌ وعبْدُ الرحمنِ الزاويةَ في الشكلِ الآتي، فأيهما إجابتهُ صحيحةٌ؟ فسّر إجابتك.



تغذية راجعة وصفية - أ. محمود عبدالجبار

الوصف	التعزيز	الدعم المتقدم
<input type="checkbox"/> عمالك متقن <input type="checkbox"/> إجابتك منسقة <input type="checkbox"/> وظفت المطلوب منك بدقة <input type="checkbox"/> لم تحقق المطلوب	<input type="checkbox"/> شكراً لجهودك الرائعة <input type="checkbox"/> أقدر جهودك <input type="checkbox"/> سعدت بمحاولاتك <input type="checkbox"/>	<input type="checkbox"/> ارجع للكتاب لتصحيح صفحة..... <input type="checkbox"/> راجع معك لتصحيح الأخطاء <input type="checkbox"/> تدرّب أكثر مستعيناً بالأنشطة التدريبية <input type="checkbox"/> استعن بزميلك
التقدير: <input type="radio"/> ممتاز <input type="radio"/> جيد جداً <input type="radio"/> جيد <input type="radio"/> ضعيف		

1 قَدِّر قياس كل من الزوايا الآتية :



2 استعمل المنقلة والمسطرة لرسم كل من الزوايا التي لها القياسات الآتية:



١٧٠°

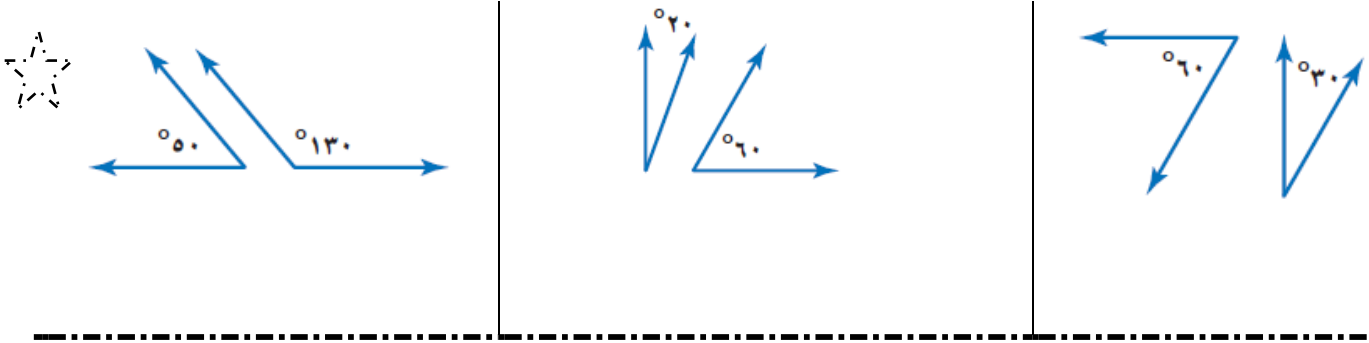
٢٥°

3 ارسم المثلث الذي قياسات زواياه ٧٠° ، ٦٠° ، ٥٠° مستعملاً المنقلة والمسطرة ، ثم اكتب قياس كل زاوية عليه.

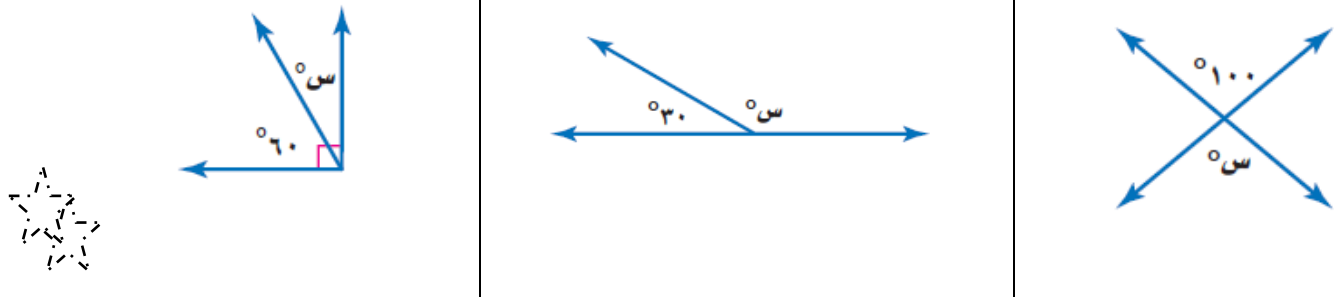


تغذية راجعة وصفية - أ. محمود عبدالجبار		
الوصف	التعزيز	الدعم المتقدم
<input type="checkbox"/> عملك متقن	<input type="checkbox"/> شكراً لجهودك الرائعة	<input type="checkbox"/> ارجع للكتاب للتصحيح صفحة
<input type="checkbox"/> إجابتك منسقة	<input type="checkbox"/> أقدر جهودك	<input type="checkbox"/> راجع معك لتصحيح الأخطاء
<input type="checkbox"/> وظفت المطلوب منك بدقة	<input type="checkbox"/> سعدت بمحاولاتك	<input type="checkbox"/> تدرب أكثر مستعيناً بالأنشطة التدريبية
<input type="checkbox"/> لم تحقق المطلوب	<input type="checkbox"/>	<input type="checkbox"/> استعن بزميلك
التقدير: <input type="radio"/> ممتاز <input type="radio"/> جيد جداً <input type="radio"/> جيد <input type="radio"/> ضعيف		

1 صنف كلاً من أزواج الزوايا الآتية إلى: متتامتين، متكاملتين، أو غير ذلك:



2 أوجد قيمة س في كل من الأشكال الآتية:



3 خيول: أوجد ناتج ما يلي: ما قيمة س في الحاجز المبين في الصورة المجاورة؟



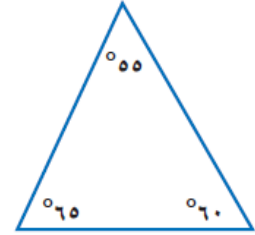
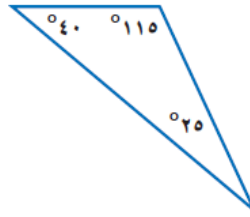
تغذية راجعة وصفية - أ. محمود عبدالجبار		
الدعم المتقدم	التعزيز	الوصف
<input type="checkbox"/> ارجع للكتاب للتصحيح صفحة.....	<input type="checkbox"/> شكراً لجهودك الرائعة	<input type="checkbox"/> عملك متقن
<input type="checkbox"/> راجع معك لتصحيح الأخطاء	<input type="checkbox"/> أقدر جهودك	<input type="checkbox"/> إجابتك منسقة
<input type="checkbox"/> تدرب أكثر مستعيناً بالأنشطة التدريبية	<input type="checkbox"/> سعدت بمحاولاتك	<input type="checkbox"/> وظفت المطلوب منك بدقة
<input type="checkbox"/> استعن بزميلك	<input type="checkbox"/>	<input type="checkbox"/> لم تحقق المطلوب
التقدير: <input type="radio"/> ممتاز <input type="radio"/> جيد جداً <input type="radio"/> جيد <input type="radio"/> ضعيف		

نشاط الدرس: المثلثات

١٤

1 صنف المثلثات الآتية إلى: حاد الزوايا أو قائم الزاوية أو منفرج الزاوية:

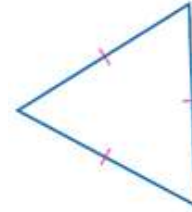
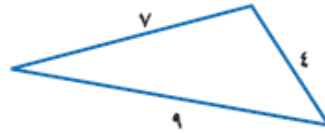
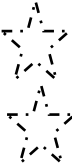
٠٩٠ ، ٠٧٥ ، ٠١٥




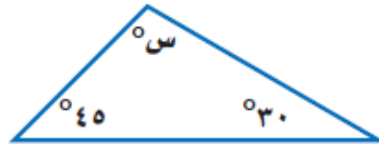
2 صنف المثلثات الآتية إلى:

مختلف الأضلاع أو متطابق الضلعين أو متطابق الأضلاع:

٥ سم ، ٦ سم ، ٥ سم



3 أوجد قيمة س في المثلثات الآتية:



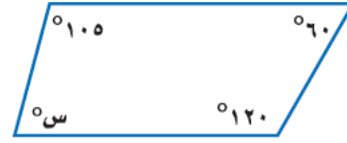
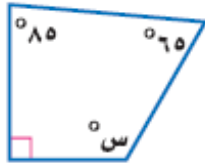
تغذية راجعة وصفية - أ. محمود عبدالجبار

الوصف	التعزيز	الدعم المتقدم
<input type="checkbox"/> عملك متقن _____ <input type="checkbox"/> إجابتك منسقة _____ <input type="checkbox"/> وظفت المطلوب منك بدقة _____ <input type="checkbox"/> لم تحقق المطلوب _____	<input type="checkbox"/> شكراً لجهودك الرائعة <input type="checkbox"/> أقدر جهودك <input type="checkbox"/> سعدت بمحاولاتك <input type="checkbox"/>	<input type="checkbox"/> ارجع للكتاب للتصحيح صفحة <input type="checkbox"/> ارجع معك لتصحيح الأخطاء <input type="checkbox"/> تدرب أكثر مستعينا بالأنشطة التدريبية <input type="checkbox"/> استعن بزميلك
التقدير: <input type="radio"/> ممتاز <input type="radio"/> جيد جداً <input type="radio"/> جيد <input type="radio"/> ضعيف		

نشاط الدرس: الأشكال الرباعية


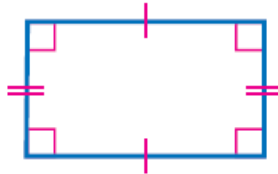
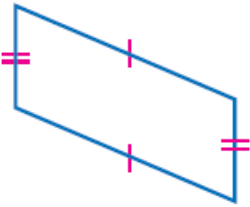
١٥

١ أوجد قيمة س في كل من الأشكال الرباعية الآتية :



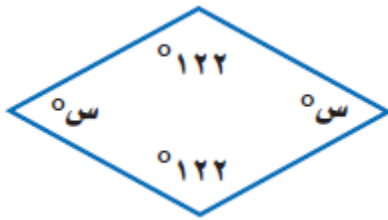

٢ صنف كلاً من الأشكال الرباعية الآتية :

2



٣ أوجد قيمة س في الشكل التالي:-

3



تغذية راجعة وصفية - أ. محمود عبدالجبار		
الوصف	التعزيز	الدعم المتقدم
<input type="checkbox"/> عمك متقن	<input type="checkbox"/> شكراً لجهودك الرائعة	<input type="checkbox"/> ارجع للكتاب للتصحيح صفحة
<input type="checkbox"/> إجابتك منسقة	<input type="checkbox"/> أقدر جهودك	<input type="checkbox"/> راجع معك لتصحيح الأخطاء
<input type="checkbox"/> وظفت المطلوب منك بدقة	<input type="checkbox"/> سعدت بمحاولاتك	<input type="checkbox"/> تدرّب أكثر مستعيناً بالأنشطة التدريبية
<input type="checkbox"/> لم تحقق المطلوب	<input type="checkbox"/>	<input type="checkbox"/> استعن بزميلك
التقدير: <input type="radio"/> ممتاز <input type="radio"/> جيد جداً <input type="radio"/> جيد <input type="radio"/> ضعيف		

١ أزهار : يرغب سليمان في أن يزرع شجيرات أزهار على الحدود الخارجية لحديقة مربعة الشكل . إذا أراد زرع ٨ شجيرات على كل جانب ، فما الحد الأدنى لعدد الشجيرات التي عليه زراعتها ؟

٢ نقود : اشترى عثمان كمية من الأرز بمبلغ ٥٥ دينارًا ، دفع ثمنها أوراقًا نقدية من فئة ١ دينار ، و ٥ دينار ، و ١٠ دينار . فإذا كان عدد الأوراق النقدية التي دفعها ١٢ ورقة ، فما عدد أوراق كل فئة ؟



٣ يوجد في غرفة أربعة أشخاص. إذا صافح كل واحد منهم جميع الأشخاص الآخرين مرة واحدة ، فما عدد المصافحات جميعها ؟



٤ هدايا : قدم كل فرد من العائلة هدية إلى كل واحد من الأفراد الآخرين في يوم العيد . إذا كان العدد الكلي للهدايا المقدمة ٣٠ هدية ، فما عدد أفراد العائلة ؟


تغذية راجعة وصفية – أ. محمود عبدالجبار		
الوصف	التعزيز	الدعم المتقدم
<input type="checkbox"/> عملك متقن	<input type="checkbox"/> شكرًا لجهودك الرائعة	<input type="checkbox"/> ارجع للكتاب للتصحيح صفحة
<input type="checkbox"/> إجاباتك منسقة	<input type="checkbox"/> أقدر جهودك	<input type="checkbox"/> راجع معلمك لتصحيح الأخطاء
<input type="checkbox"/> وظفت المطلوب منك بدقة	<input type="checkbox"/> سعدت بمحاولاتك	<input type="checkbox"/> تدرب أكثر مستعينًا بالأنشطة التدريبية
<input type="checkbox"/> لم تحقق المطلوب	<input type="checkbox"/>	<input type="checkbox"/> استعن بزميلك
التقدير: <input type="radio"/> ممتاز <input type="radio"/> جيد جدًا <input type="radio"/> جيد <input type="radio"/> ضعيف		

نشاط الدرس: تشابه الأشكال وتطابقها

١٧



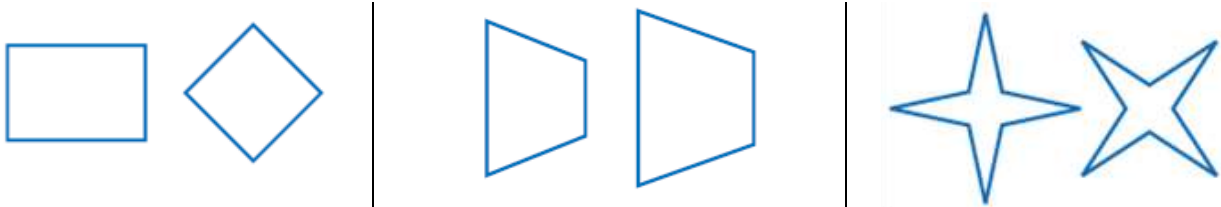
١ حلّ السؤالين التاليين ، مستعملاً التشابه بين طاولتي البلياردو أدناه .



ما الضلع في المستطيل ط م ي هـ الذي يَنَاطِرُ وس ؟

ما الضلع في المستطيل ع و س ص الذي يَنَاطِرُ ط م ؟

٢ حدد إن كان كل زوج من الأشكال الآتية : متطابقين أو متشابهين أو غير ذلك:



٣ أي المستطيلات أدناه يشابه المستطيل و س ص ع ؟



٢

١

١٨



٨



.....
.....
.....

.....
.....
.....

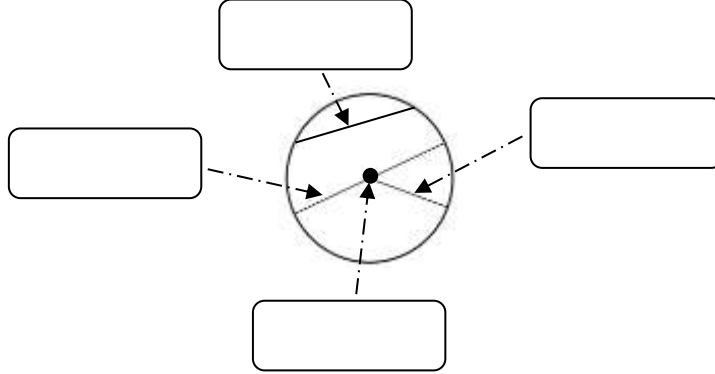
الجواب هو المستطيل مستطيل رقم (.....)

تغذية راجعة وصفية - أ. محمود عبدالجبار		
الدعم المتقدم	التعزيز	الوصف
<input type="checkbox"/> ارجع للكتاب للتصحيح صفحة	<input type="checkbox"/> شكراً لجهودك الرائعة	<input type="checkbox"/> عملك متقن
<input type="checkbox"/> ارجع معك لتصحيح الأخطاء	<input type="checkbox"/> أقدر جهودك	<input type="checkbox"/> إجابتك منسقة
<input type="checkbox"/> تدرب أكثر مستعياً بالأنشطة التدريبية	<input type="checkbox"/> سعدت بمحاولاتك	<input type="checkbox"/> وظفت المطلوب منك بدقة
<input type="checkbox"/> استعن بزميلك	<input type="checkbox"/>	<input type="checkbox"/> لم تحقق المطلوب
التقدير: <input type="radio"/> ممتاز <input type="radio"/> جيد جداً <input type="radio"/> جيد <input type="radio"/> ضعيف		

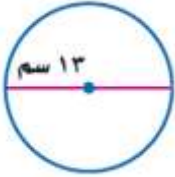
نشاط الدرس: محيط الدائرة

١٨

١ اكتب اسم كل جزء من أجزاء الدائرة في المكان المناسب:



٢ أوجد نصف القطر أو القطر لكل دائرة مما يأتي:



نق =

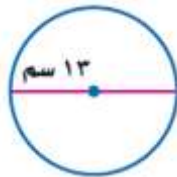
نق = ١٥ م

ق =

ق = ٢٠ ملم

نق =

٣ قَدِّر محيط كل دائرة ثم أوجد ناتج المحيط :-

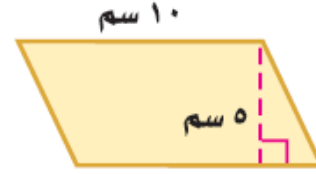
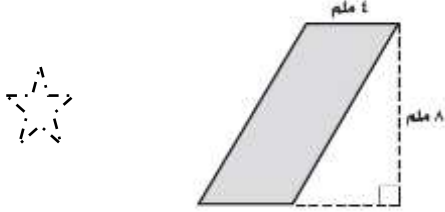


تغذية راجعة وصفية - أ. محمود عبدالجبار		
الدعم المتقدم	التعزيز	الوصف
<input type="checkbox"/> ارجع للكتاب لتصحيح صفحة	<input type="checkbox"/> شكراً لجهودك الرائعة	<input type="checkbox"/> عملك متقن
<input type="checkbox"/> ارجع معك لتصحيح الأخطاء	<input type="checkbox"/> أقدر جهودك	<input type="checkbox"/> إجابتك منسقة
<input type="checkbox"/> تدرب أكثر مستعيناً بالأنشطة التدريبية	<input type="checkbox"/> سعدت بمحاولاتك	<input type="checkbox"/> وظفت المطلوب منك بدقة
<input type="checkbox"/> استعن بزميلك	<input type="checkbox"/>	<input type="checkbox"/> لم تحقق المطلوب
التقدير: ممتاز <input type="radio"/> جيد جداً <input type="radio"/> جيد <input type="radio"/> ضعيف <input type="radio"/>		

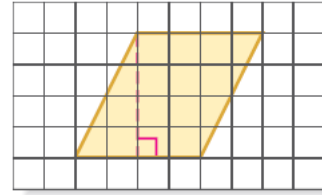
نشاط الدرس: مساحة متوازي الأضلاع

١٩

1 أوجد مساحة كل متوازي أضلاع فيما يأتي :



2 أوجد مساحة متوازي الأضلاع فيما يأتي :-



3 أوجد مساحة متوازي الأضلاع فيما يأتي :-



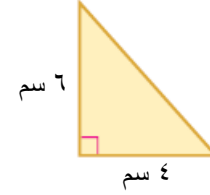
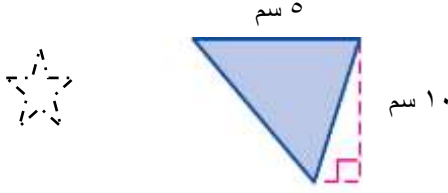
$$12 \times 10 \div 2 = 60$$

تغذية راجعة وصفية - أ. محمود عبدالجبار		
الوصف	التعزيز	الدعم المتقدم
<input type="checkbox"/> عملك متقن	<input type="checkbox"/> شكراً لجهودك الرائعة	<input type="checkbox"/> ارجع للكتاب لتصحيح صفحة
<input type="checkbox"/> إجابتك منسقة	<input type="checkbox"/> أقدر جهودك	<input type="checkbox"/> ارجع معك لتصحيح الأخطاء
<input type="checkbox"/> وظفت المطلوب منك بدقة	<input type="checkbox"/> سعدت بمحاولاتك	<input type="checkbox"/> تدرب أكثر مستعينا بالأنشطة التدريبية
<input type="checkbox"/> لم تحقق المطلوب	<input type="checkbox"/>	<input type="checkbox"/> استعن بزميلك
التقدير: <input type="radio"/> ممتاز <input type="radio"/> جيد جداً <input type="radio"/> جيد <input type="radio"/> ضعيف		

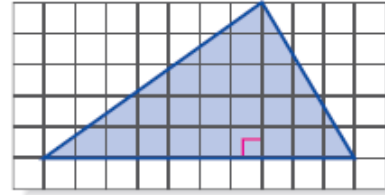
نشاط الدرس: مساحة المثلث

٢٠

١ أوجد مساحة كل مثلث فيما يأتي :



٢ أوجد مساحة المثلث فيما يأتي :-



٣ أوجد مساحة المثلث فيما يأتي :-



تغذية راجعة وصفية - أ. محمود عبدالجبار		
الوصف	التعزيز	الدعم المتقدم
<input type="checkbox"/> عملك متقن _____	<input type="checkbox"/> شكراً لجهودك الرائعة	<input type="checkbox"/> ارجع للكتاب للتصحيح صفحة
<input type="checkbox"/> إجابتك منسقة _____	<input type="checkbox"/> أقدر جهودك	<input type="checkbox"/> ارجع معك لتصحيح الأخطاء
<input type="checkbox"/> وظفت المطلوب منك بدقة _____	<input type="checkbox"/> سعدت بمحاولاتك	<input type="checkbox"/> تدرب أكثر مستعينا بالأنشطة التدريبية
<input type="checkbox"/> لم تحقق المطلوب _____	<input type="checkbox"/>	<input type="checkbox"/> استعن بزميلك
التقدير: <input type="radio"/> ممتاز <input type="radio"/> جيد جداً <input type="radio"/> جيد <input type="radio"/> ضعيف		

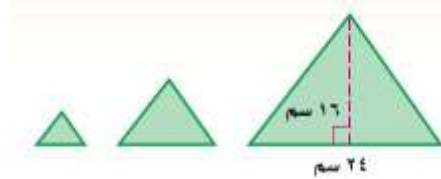
١ هندسة : أوجد جميع الإمكانيات لطول كل من القاعدة والارتفاع لمتوازي أضلاع مساحته ٢٤ سم^٢ . على أن تكون أعدادًا صحيحة .



٢ أكمل النمط الآتي لإيجاد الحد الرابع

٢٥ ، ٤٠ ، ٥٥ ،

٣ هندسة : إذا كان قياس كل من القاعدة والارتفاع في كل مثلث من المثلثات أدناه يساوي نصف قياسها في المثلث السابق له ، فما مساحة المثلث الرابع ؟



٤ حدائق : يبين الجدول أدناه أسعار تذاكر الدخول لحديقة الحيوانات . كم دينارًا ستدفع أسرة مكونة من أب وأم وأطفالهما الثلاثة لدخول الحديقة ؟

الشخص	الكبار	الصغار
سعرُ التذكرة بالدينار	٥	٢

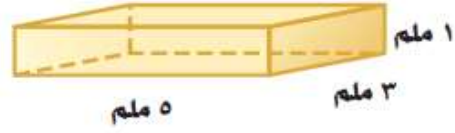
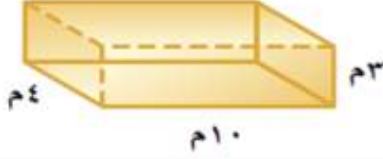
٥ اشترى حسين ثلاجة ثمنها ٣٠٠ دينار، واتفق مع البائع على تقسيط المبلغ على أقساط شهرية لمدة سنة. أوجد مقدار القسط الشهري.

تغذية راجعة وصفية - أ. محمود عبدالجبار		
الوصف	التعزيز	الدعم المتقدم
<input type="checkbox"/> عملك متقن	<input type="checkbox"/> شكرًا لجهودك الرائعة	<input type="checkbox"/> ارجع للكتاب للتصحيح صفحة
<input type="checkbox"/> إجابتك منسقة	<input type="checkbox"/> أقدر جهودك	<input type="checkbox"/> راجع معك لتصحيح الأخطاء
<input type="checkbox"/> وظفت المطلوب منك بدقة	<input type="checkbox"/> سعدت بمحاولاتك	<input type="checkbox"/> تدرب أكثر مستعينًا بالأنشطة التدريبية
<input type="checkbox"/> لم تحقق المطلوب	<input type="checkbox"/>	<input type="checkbox"/> استعن بزميك
التقدير: <input type="radio"/> ممتاز <input type="radio"/> جيد جدًا <input type="radio"/> جيد <input type="radio"/> ضعيف		

نشاط الدرس: حجم المنشور الرباعي

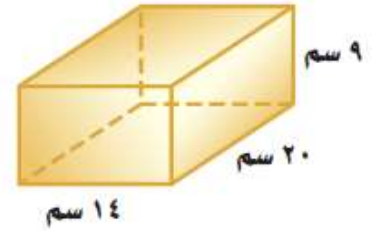
٢٢

1 أوجد حجم كل منشور رباعي فيما يأتي :



1

2 أوجد حجم المنشور الرباعي فيما يأتي :



2

3 سؤال تحدي!

أوجد عرض منشور رباعي طوله ٣ سم ، وارتفاعه ٤ سم ، وحجمه ٢٤ سم^٣



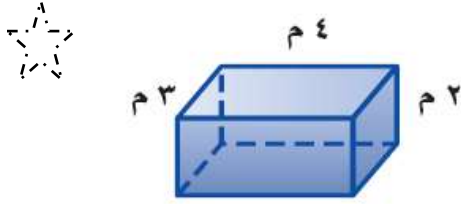
تغذية راجعة وصفية - أ. محمود عبدالجبار		
الوصف	التعزيز	الدعم المتقدم
<input type="checkbox"/> عمك متقن	<input type="checkbox"/> شكراً لجهودك الرائعة	<input type="checkbox"/> ارجع للكتاب لتصحيح صفحة
<input type="checkbox"/> إجابتك منسقة	<input type="checkbox"/> أقدر جهودك	<input type="checkbox"/> راجع معك لتصحيح الأخطاء
<input type="checkbox"/> وظفت المطلوب منك بدقة	<input type="checkbox"/> سعدت بمحاولاتك	<input type="checkbox"/> تدرب أكثر مستعينا بالأنشطة التدريبية
<input type="checkbox"/> لم تحقق المطلوب	<input type="checkbox"/>	<input type="checkbox"/> استعن بزميلك
التقدير: <input type="radio"/> ممتاز <input type="radio"/> جيد جداً <input type="radio"/> جيد <input type="radio"/> ضعيف		

نشاط الدرس: مساحة سطح المنشور الرباعي

٢٣

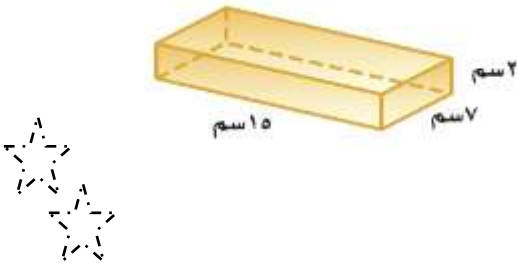
أوجد مساحة سطح المنشور فيما يأتي :

1



أوجد مساحة سطح المنشور فيما يأتي :

2



3 معروضات : يضع سلطان سيارته اللعبة داخل صندوق بلاستيكي شفاف كما في الشكل المجاور ؛ ليعرضها على أصدقائه . أوجد مساحة سطح هذا الصندوق .



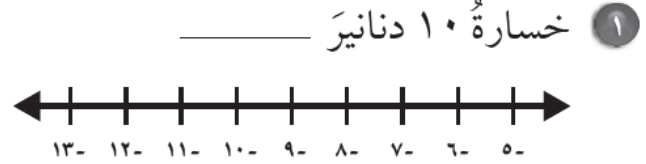



تغذية راجعة وصفية - أ. محمود عبدالجبار		
الوصف	التعزيز	الدعم المتقدم
<input type="checkbox"/> عملك متقن	<input type="checkbox"/> شكراً لجهودك الرائعة	<input type="checkbox"/> ارجع للكتاب للتصحيح صفحة
<input type="checkbox"/> إجابتك منسقة	<input type="checkbox"/> أقدر جهودك	<input type="checkbox"/> ارجع معك لتصحيح الأخطاء
<input type="checkbox"/> وظفت المطلوب منك بدقة	<input type="checkbox"/> سعدت بمحاولاتك	<input type="checkbox"/> تدرب أكثر مستعينا بالأنشطة التدريبية
<input type="checkbox"/> لم تحقق المطلوب	<input type="checkbox"/>	<input type="checkbox"/> استعن بزميلك
التقدير: <input type="radio"/> ممتاز <input type="radio"/> جيد جداً <input type="radio"/> جيد <input type="radio"/> ضعيف		

نشاط الدرس: الأعداد الصحيحة

٢٤

١ اكتب عدداً صحيحاً يمثل كل موقف مما يأتي ، ثم مثله على خط الأعداد :



2 اكتب عدداً صحيحاً يمثل كل موقفٍ فيما يأتي ، ثم اكتب معكوسه :

٦ فقدَ حمدٌ ٤ دنانيرٍ في طريقه إلى المدرسة.

٥ ارتفعت درجة الحرارة ٥ درجاتٍ سيليزية.

3 حدد الموقع الذي يختلف عن المواقع الثلاثة الأخرى، وفسر اجابتك:-

١٧ درجة/ سيليزية
تحت الصفر

فقدان ١٧ ديناراً

١٧ درجة سيليزية

١٧ مترًا تحت
سطح البحر

تغذية راجعة وصفية - أ. محمود عبد الجبار

الدعم المتقدم	التعزيز	الوصف
<input type="checkbox"/> ارجع للكتاب لتصحيح صفحة.....	<input type="checkbox"/> شكراً لجهودك الرائعة	<input type="checkbox"/> عملك متقن _____
<input type="checkbox"/> ارجع معك لتصحيح الأخطاء	<input type="checkbox"/> أقدر جهودك	<input type="checkbox"/> إجابتك منسقة _____
<input type="checkbox"/> تدرب أكثر مستعينا بالأنشطة التدريبية	<input type="checkbox"/> سعدت بمحاولاتك	<input type="checkbox"/> وظفت المطلوب منك بدقة _____
<input type="checkbox"/> استعن بزميلك	<input type="checkbox"/>	<input type="checkbox"/> لم تحقق المطلوب _____
التقدير: <input type="radio"/> ممتاز <input type="radio"/> جيد جداً <input type="radio"/> جيد <input type="radio"/> ضعيف		

نشاط الدرس: مقارنة الأعداد الصحيحة وترتيبها

٢٥



1 ضع إشارة < أو > في ○ لتكون كل جملة مما يأتي صحيحة :

١٠-	○	٦-	٣١	○	١٧
٣٨-	○	٨٣-	٨-	○	٩




2 رتب كل مجموعة أعداد صحيحة من الأصغر إلى الأكبر:

١	٨-	١٣-	٥-	٩	الأعداد غير مرتبة
					الأعداد مرتبة

3 حدد الموقع الذي يختلف عن المواقع الثلاثة الأخرى، وفسر اجابتك

إذا كانت فروق أوزان خمسة طلاب بالكيلوجرامات عن الوزن الطبيعي هي :
٠ ، ٤- ، ٣ ، ٢- ، ٧ .

مثل هذه الأعداد على خط الأعداد ، ثم اكتبها من الأصغر إلى الأكبر .



تغذية راجعة وصفية - أ. محمود عبدالجبار		
الدعم المتقدم	التعزيز	الوصف
<input type="checkbox"/> ارجع للكتاب للتصحيح صفحة <input type="checkbox"/> راجع معك لتصحيح الأخطاء <input type="checkbox"/> تدرب أكثر مستعيناً بالأنشطة التدريبية <input type="checkbox"/> استعن بزميك	<input type="checkbox"/> شكراً لجهودك الرائعة <input type="checkbox"/> أقدر جهودك <input type="checkbox"/> سعدت بمحاولاتك <input type="checkbox"/>	<input type="checkbox"/> عمك متقن <input type="checkbox"/> اجابتك منسقة <input type="checkbox"/> وظفت المطلوب منك بدقة <input type="checkbox"/> لم تحقق المطلوب
التقدير: ○ ممتاز ○ جيد جداً ○ جيد ○ ضعيف		



نشاط الدرس: جمع الأعداد الصحيحة

٢٦

1 أوجد ناتج الجمع مستعملاً قطع العد أو خط الأعداد إذا لزم الأمر:
(موجب وموجب)



$$= (2+) + 4$$

$$= (1+) + 3+$$

2 أوجد ناتج الجمع مستعملاً قطع العد أو خط الأعداد إذا لزم الأمر:
(سالِب وسالِب)



$$= (4-) + 6-$$

$$= (5-) + 3-$$

3 أوجد ناتج الجمع مستعملاً قطع العد أو خط الأعداد إذا لزم الأمر:
(موجب وسالِب)



$$= 9 + 4-$$

$$= (5-) + 2+$$

تغذية راجعة وصفية - أ. محمود عبدالجبار		
الوصف	التعزيز	الدعم المتقدم
<input type="checkbox"/> عملك متقن	<input type="checkbox"/> شكراً لجهودك الرائعة	<input type="checkbox"/> ارجع للكتاب للتصحيح صفحة
<input type="checkbox"/> إجابتك منسقة	<input type="checkbox"/> أقدر جهودك	<input type="checkbox"/> راجع معك لتصحيح الأخطاء
<input type="checkbox"/> وظفت المطلوب منك بدقة	<input type="checkbox"/> سعدت بمحاولاتك	<input type="checkbox"/> تدرب أكثر مستعيناً بالأنشطة التدريبية
<input type="checkbox"/> لم تحقق المطلوب	<input type="checkbox"/>	<input type="checkbox"/> استعن بزميك
التقدير: <input type="radio"/> ممتاز <input type="radio"/> جيد جداً <input type="radio"/> جيد <input type="radio"/> ضعيف		



نشاط الدرس: طرح الأعداد الصحيحة

٢٧

1 أوجد ناتج الطرح مستعملاً قطع العد أو خط الأعداد إذا لزم الأمر:
(موجب وموجب)



$$= 6 - 9$$

$$= 4 - 5$$


2 أوجد ناتج الطرح مستعملاً قطع العد أو خط الأعداد إذا لزم الأمر:
(سالِب وسالِب)



$$= (-1) - 6$$

$$= (-2) - 8$$

3 أوجد ناتج الطرح مستعملاً قطع العد أو خط الأعداد إذا لزم الأمر:
(موجب وسالِب)



$$= 3 - 12$$

$$= (-5) - 3$$

تغذية راجعة وصفية - أ. محمود عبدالجبار		
الوصف	التعزيز	الدعم المتقدم
<input type="checkbox"/> عمك متقن	<input type="checkbox"/> شكراً لجهودك الرائعة	<input type="checkbox"/> ارجع للكتاب للتصحيح صفحة.....
<input type="checkbox"/> إجابتك منسقة	<input type="checkbox"/> أقدر جهودك	<input type="checkbox"/> راجع معك لتصحيح الأخطاء
<input type="checkbox"/> وظفت المطلوب منك بدقة	<input type="checkbox"/> سعدت بمحاولاتك	<input type="checkbox"/> تدرب أكثر مستعيناً بالأنشطة التدريبية
<input type="checkbox"/> لم تحقق المطلوب	<input type="checkbox"/>	<input type="checkbox"/> استعن بزميلك
التقدير: <input type="radio"/> ممتاز <input type="radio"/> جيد جداً <input type="radio"/> جيد <input type="radio"/> ضعيف		

١ تصغر شيماء أختها رحمه بـ ٤ سنوات والتي يبلغ عمرها نصف عمر أختها نهال إذا كان عمر نهال ١٤ سنة فما عمر شيماء؟

٢ حفظت شيخة ١٣ صورة جديدة في ذاكرة آلة التصوير الرقمية التي تخصصها وحذفت ٣٢ صورة. إذا أصبح لديها إذا أصبح لديها الآن ١٠٨ صور فما عدد الصور التي حفظتها سابقاً؟



٣ تتطلب وصفة عصير فواكه ٨ اكواب من عصير البرتقال. إذا كانت زجاجه عصير البرتقال تحتوي على ٤ اكواب فكم زجاجه تحتاج إليها الوصفة؟

٤ الامتحانات الوطنية : وزع تاجر ٥٤٤ كيسا من السكر على ١٧ محلا بالتساوي فكم كيسا من السكر حصل عليه كل محل ؟



تغذية راجعة وصفية – أ. محمود عبدالجبار		
الوصف	التعزيز	الدعم المتقدم
<input type="checkbox"/> عملك متقن	<input type="checkbox"/> شكراً لجهودك الرائعة	<input type="checkbox"/> ارجع للكتاب لتصحيح صفحة
<input type="checkbox"/> إجابتك منسقة	<input type="checkbox"/> أقدر جهودك	<input type="checkbox"/> ارجع معك لتصحيح الأخطاء
<input type="checkbox"/> وظفت المطلوب منك بدقة	<input type="checkbox"/> سعدت بمحاولاتك	<input type="checkbox"/> تدرب أكثر مستعينا بالأنشطة التدريبية
<input type="checkbox"/> لم تحقق المطلوب	<input type="checkbox"/>	<input type="checkbox"/> استعن بزميلك
التقدير: <input type="radio"/> ممتاز <input type="radio"/> جيد جداً <input type="radio"/> جيد <input type="radio"/> ضعيف		



نشاط الدرس: حل معادلات الجمع

٢٩



1 حل المعادلة في ما يأتي:-

$$ص + ٣ = ١٢$$



2 حل المعادلة في ما يأتي:-

$$س + ٦ = ٢$$



3 حل المعادلة في ما يأتي:-

$$ب + ٤ = ٣-$$

تغذية راجعة وصفية - أ. محمود عبدالجبار		
الوصف	التعزيز	الدعم المتقدم
<input type="checkbox"/> عملك متقن _____	<input type="checkbox"/> شكراً لجهودك الرائعة	<input type="checkbox"/> ارجع للكتاب للتصحيح صفحة
<input type="checkbox"/> إجابتك منسقة _____	<input type="checkbox"/> أقدر جهودك	<input type="checkbox"/> راجع معك لتصحيح الأخطاء
<input type="checkbox"/> وظفت المطلوب منك بدقة _____	<input type="checkbox"/> سعدت بمحاولاتك	<input type="checkbox"/> تدرب أكثر مستعينا بالأنشطة التدريبية
<input type="checkbox"/> لم تحقق المطلوب _____	<input type="checkbox"/>	<input type="checkbox"/> استعن بزميلك
التقدير: <input type="radio"/> ممتاز <input type="radio"/> جيد جداً <input type="radio"/> جيد <input type="radio"/> ضعيف		



نشاط الدرس: حل معادلات الطرح

٣٠




1 حل المعادلة في ما يأتي:-

س - ٧ = ٤



2 حل المعادلة في ما يأتي:-

ب - ٤ = ٢



3 حل المعادلة في ما يأتي:-

س - ٤ = ٦

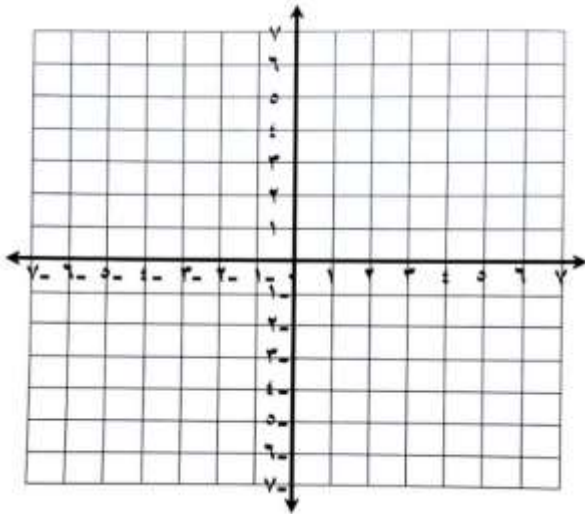
تغذية راجعة وصفية - أ. محمود عبدالجبار		
الوصف	التعزيز	الدعم المتقدم
<input type="checkbox"/> عمك متقن	<input type="checkbox"/> شكراً لجهودك الرائعة	<input type="checkbox"/> ارجع للكتاب للتصحيح صفحة
<input type="checkbox"/> إجابتك منسقة	<input type="checkbox"/> أقدر جهودك	<input type="checkbox"/> راجع معك لتصحيح الأخطاء
<input type="checkbox"/> وظفت المطلوب منك بدقة	<input type="checkbox"/> سعدت بمحاولاتك	<input type="checkbox"/> تدرب أكثر مستعينا بالأنشطة التدريبية
<input type="checkbox"/> لم تحقق المطلوب	<input type="checkbox"/>	<input type="checkbox"/> استعن بزميلك
التقدير: ممتاز <input type="radio"/> جيد جداً <input type="radio"/> جيد <input type="radio"/> ضعيف <input type="radio"/>		

١- أوجد الزوج المرتب لـ
المقصف ومعمل العلوم



٢- أوجد الزوج في الرسم السابق
الذي يمثل "الصالة الرياضية"

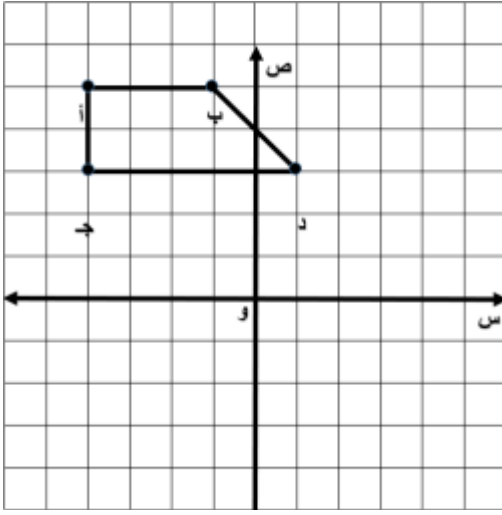
٣- مثل النقاط التالية ثم أكتب في أي ربع
أ (٣ ، ٠) ج (٣ ، ١)
ب (٠ ، ٤) د (١ ، ٤)



تغذية راجعة وصفية - أ. محمود عبدالجبار		
الدعم المتقدم	التعزيز	الوصف
<input type="checkbox"/> ارجع للكتاب لتصحيح صفحة	<input type="checkbox"/> شكراً لجهودك الرائعة	<input type="checkbox"/> عملك متقن
<input type="checkbox"/> ارجع معك لتصحيح الأخطاء	<input type="checkbox"/> أقدر جهودك	<input type="checkbox"/> إجابتك منسقة
<input type="checkbox"/> تدرب أكثر مستعينا بالأنشطة التدريبية	<input type="checkbox"/> سعدت بمحاولاتك	<input type="checkbox"/> وظفت المطلوب منك بدقة
<input type="checkbox"/> استعن بزميلك	<input type="checkbox"/>	<input type="checkbox"/> لم تحقق المطلوب
التقدير: <input type="radio"/> ممتاز <input type="radio"/> جيد جداً <input type="radio"/> جيد <input type="radio"/> ضعيف		

نشاط الدرس: الانسحاب

٣٢



1 اسحب شبه المنحرف أ ب د ج في الشكل المجاور ٥ وحدات إلى اليمين ، و ٣ وحدات إلى أسفل ، ومثل شبه المنحرف أ ب د ج في المستوى الإحداثي .

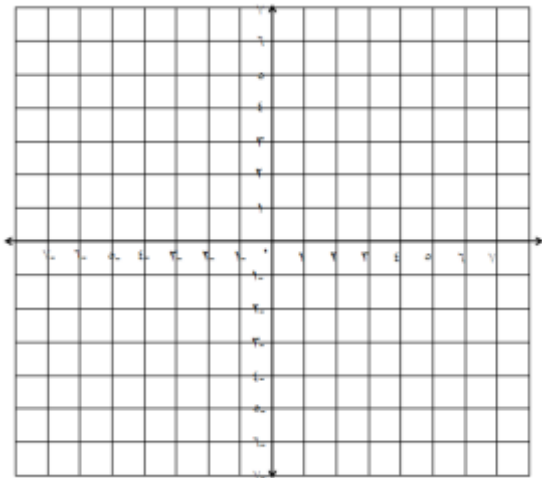


2 إحداثيات رؤوس مثلث هي : د (-٢ ، ١) ، هـ (٣ ، ٢) ، م (٣ ، ١) ، أوجد إحداثيات رؤوس المثلث بعد انسحاب وحدتان إلى اليسار ووحدة واحدة إلى أعلى .

د (..... ،)	هـ (..... ،)	م (..... ،)
---------------------	----------------------	---------------------



3 في السؤال الثاني مثل الأزواج المرتبة في السؤال والإجابة



تغذية راجعة وصفية - أ. محمود عبدالجبار		
الوصف	التعزيز	الدعم المتقدم
<input type="checkbox"/> عملك متقن	<input type="checkbox"/> شكراً لجهودك الرائعة	<input type="checkbox"/> ارجع للكتاب لتصحيح صفحة
<input type="checkbox"/> إجابتك منسقة	<input type="checkbox"/> أقدر جهودك	<input type="checkbox"/> ارجع معك لتصحيح الأخطاء
<input type="checkbox"/> وظفت المطلوب منك بدقة	<input type="checkbox"/> سعدت بمحاولاتك	<input type="checkbox"/> تدرب أكثر مستعينا بالأنشطة التدريبية
<input type="checkbox"/> لم تحقق المطلوب	<input type="checkbox"/>	<input type="checkbox"/> استعن بزميلك
التقدير: <input type="radio"/> ممتاز <input type="radio"/> جيد جداً <input type="radio"/> جيد <input type="radio"/> ضعيف		



نشاط الدرس: الانعكاس

٣٣


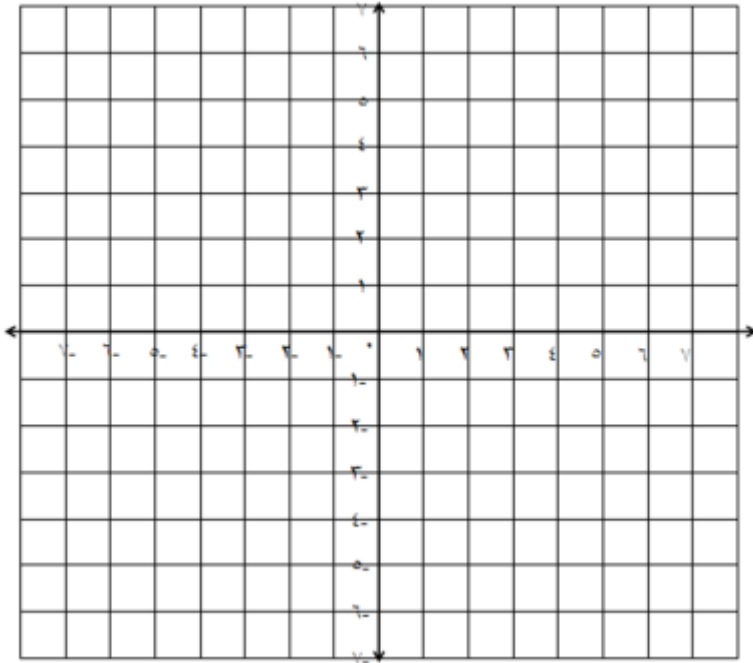
- 1 ارسم الشكل الرباعي س ص ع ل الذي إحداثيات رؤوسه هي :
س (١ ، ٤) ، ص (٢ ، ١) ، ع (-٣ ، ٠) ، ل (-٤ ، ٢) في المستوى الإحداثي .



- 2 كتب إحداثيات رؤوس الصورة بعد الإنعكاس.

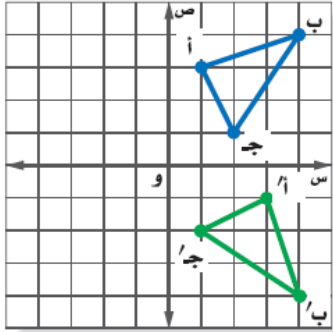
س (..... ،)	ص (..... ،)	ع (..... ،)	ل (..... ،)
---------------------	---------------------	---------------------	---------------------

- 3 ارسم صورته بالانعكاس
حول محور السينات ، واكتب
إحداثيات رؤوس الصورة .

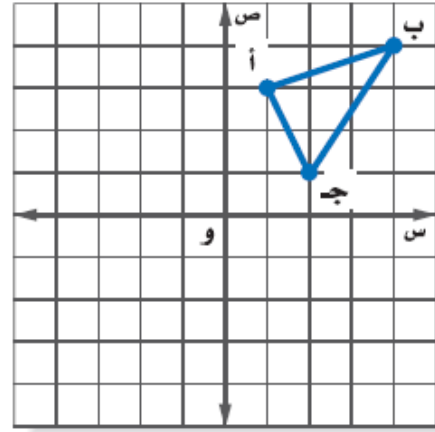


تغذية راجعة وصفية - أ. محمود عبدالجبار		
الوصف	التعزيز	الدعم المتقدم
<input type="checkbox"/> عملك متقن	<input type="checkbox"/> شكراً لجهودك الرائعة	<input type="checkbox"/> ارجع للكتاب لتصحيح صفحة
<input type="checkbox"/> إجابتك منسقة	<input type="checkbox"/> أقدر جهودك	<input type="checkbox"/> راجع معلمك لتصحيح الأخطاء
<input type="checkbox"/> وظفت المطلوب منك بدقة	<input type="checkbox"/> سعدت بمحاولاتك	<input type="checkbox"/> تدرب أكثر مستعينا بالأنشطة التدريبية
<input type="checkbox"/> لم تحقق المطلوب	<input type="checkbox"/>	<input type="checkbox"/> استعن بزميلك
التقدير: <input type="radio"/> ممتاز <input type="radio"/> جيد جداً <input type="radio"/> جيد <input type="radio"/> ضعيف		

1 اكتب نوع الدوران



2 اكتب الأزواج المرتبة للمثلث



3 بعد رسم الأزواج المرتبة في السؤال الثاني، ارسم الدوران ١٨٠ درجة عكس عقارب الساعة حول نقطة الأصل .



تغذية راجعة وصفية - أ. محمود عبدالجبار		
الوصف	التعزيز	الدعم المتقدم
<input type="checkbox"/> عملك متقن	<input type="checkbox"/> شكراً لجهودك الرائعة	<input type="checkbox"/> ارجع للكتاب للتصحيح صفحة
<input type="checkbox"/> إجابتك منسقة	<input type="checkbox"/> أقدر جهودك	<input type="checkbox"/> راجع معك لتصحيح الأخطاء
<input type="checkbox"/> وظفت المطلوب منك بدقة	<input type="checkbox"/> سعدت بمحاولاتك	<input type="checkbox"/> تدرب أكثر مستعيناً بالأنشطة التدريبية
<input type="checkbox"/> لم تحقق المطلوب	<input type="checkbox"/>	<input type="checkbox"/> استعن بزميلك
التقدير: <input type="radio"/> ممتاز <input type="radio"/> جيد جداً <input type="radio"/> جيد <input type="radio"/> ضعيف		