

مراجعة الاختبار الثالث



تم تحميل هذا الملف من موقع المناهج البحرينية

موقع المناهج ⇨ المناهج البحرينية ⇨ الصف الخامس ⇨ رياضيات ⇨ الفصل الثاني ⇨ ملفات متنوعة ⇨ الملف

تاريخ إضافة الملف على موقع المناهج: 16:01:50 2025-05-07

ملفات اكتب للمعلم اكتب للطالب | اختبارات الكترونية | اختبارات | حلول | عروض بوربوينت | أوراق عمل
منهج انجليزي | ملخصات وتقارير | مذكرات وبنوك | الامتحان النهائي | للمدرس

المزيد من مادة
رياضيات:

التواصل الاجتماعي بحسب الصف الخامس



صفحة المناهج
البحرينية على
فيسبوك

الرياضيات

اللغة الانجليزية

اللغة العربية

التربية الاسلامية

المواد على تلغرام

المزيد من الملفات بحسب الصف الخامس والمادة رياضيات في الفصل الثاني

مراجعة الاختبار الثالث	1
حل مراجعة الاختبار الثالث	2
مراجعة الاختبار الثالث الرياضيات	3
نشاط تدريبي قياس الزاوية	4
مراجعة الفصل الحادي عشر	5


أجب عما يأتي: -

أكتب نوع العلاقة بين المستقيمين في كل مما يأتي: -
(متوازيان - متعامدان - متقاطعان)





صِل الأشكال بالمفردات الهندسية الصحيحة فيما يلي: -

مستقيم
شعاع
قطعة مستقيمة



سمّ الأشكال الرباعية الآتية: -



أوجد محيط ومساحة المستطيل المجاور:-



٣ سم

٩ سم

المحيط =

المساحة =

أوجد محيط ومساحة المربع:-

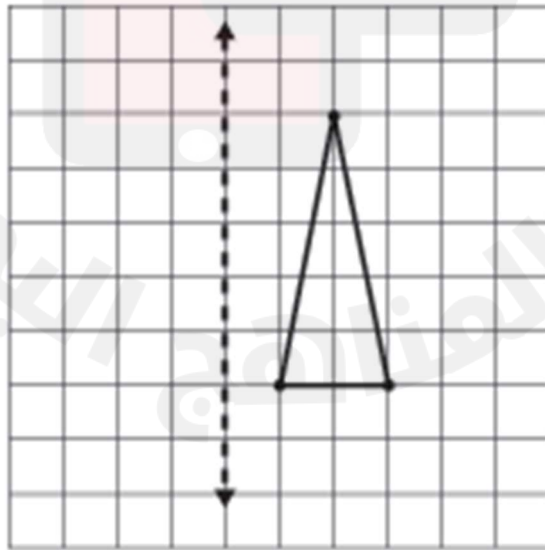


١٢ سم

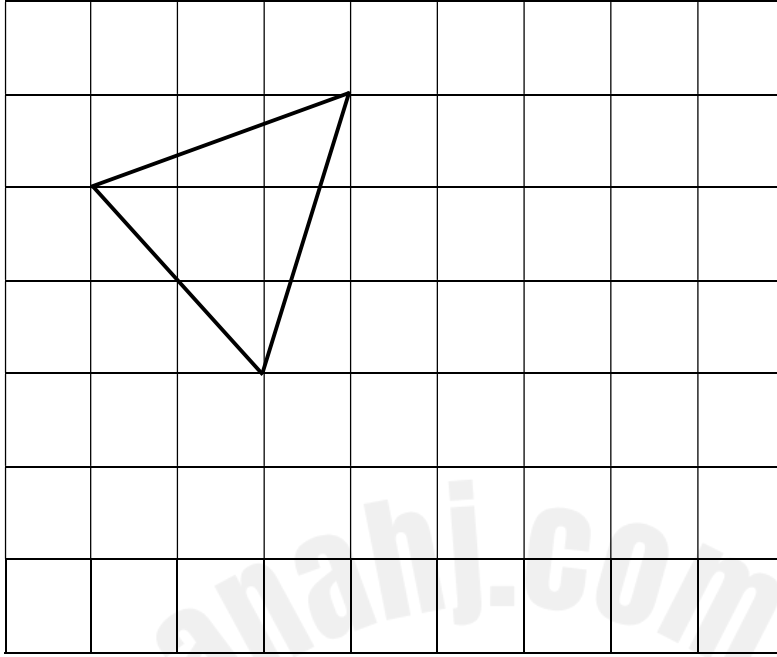
المحيط =

المساحة =

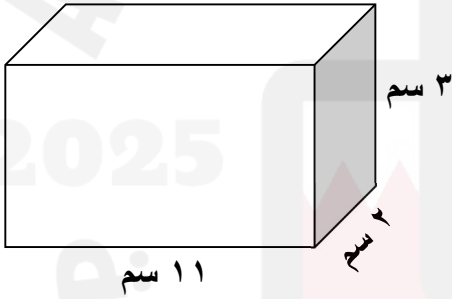
ارسم صورة المثلث بالإنعكاس حول المحور المرسوم. 2025



ارسم صورة المثلث تحت تأثير انسحاب ٣ وحدات إلى اليمين.

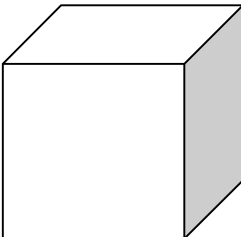


أوجد حجم كل منشور مما يلي:-



الحجم =

صنع جاسم صندوقاً خشبياً مكعباً طول ضلعه يساوي ١٠ سم
أوجد حجم هذا الصندوق.



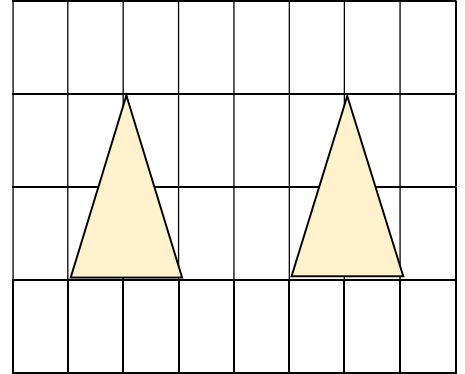
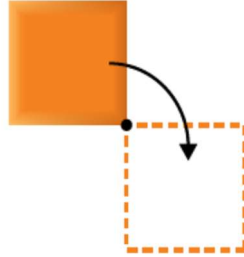
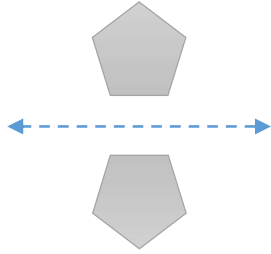
.....

.....

.....

أكتب نوع التحويل الهندسي:-

(انسحاب - انعكاس - دوران)




.....

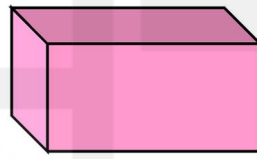
.....

.....

سمّ الأشكال الثلاثية الأبعاد فيما يأتي، ثم اكتب عدد الأوجه والرؤوس والأحرف:-



الشكل:



اسم الشكل:



اسم الشكل:

عدد الأوجه:

عدد الأوجه:

عدد الأوجه:

عدد الرؤوس:

عدد الرؤوس:

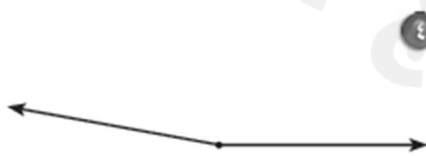
عدد الرؤوس:

عدد الأحرف:

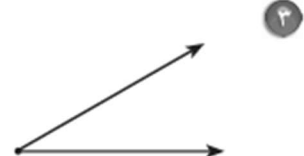
عدد الأحرف:

عدد الأحرف:

أوجد قياس كل زاوية ممّا يأتي مستعملًا المنقلة:



.....



.....

إِسْتَعْمِلِ الْمِنْقَلَةَ وَالْمُسَطَّرَةَ لِرَسْمِ كُلِّ مِنَ الزَّوَايَا الَّتِي لَهَا الْقِيَاسَاتُ الْآتِيَةُ:

٢٠°

٢

٧٠°

١

الأسئلة الذهنية: -

١- أوجد ناتج جمع خمس و ثلاثة أخماس =

٢- أوجد ناتج جمع ثمنين وثلاثة أثمان =

٣- أوجد ناتج $٨٤ \div ٤$ =

٤- أوجد ناتج $٩٨ \div ٢$ =

٥- اكمل النمط: ٠,٥ - ٠,٨ - ١,١ -

٦- اكمل النمط: ٢,١ - ٢,٣ - ٢,٥ -

قوانين مهمة للحفظ:-

محيط المضلع = جمع أطوال أضلاعه

قانون مساحة المربع = طول الضلع \times نفسه

قانون مساحة المستطيل = الطول \times العرض

قانون حجم المنشور = الطول \times العرض \times الارتفاع

😊 مع تمنياتنا لكم بالتوفيق والنجاح 😊