

نشاط تدريبي قياس الزاوية



تم تحميل هذا الملف من موقع المناهج البحرينية

موقع المناهج ⇨ المناهج البحرينية ⇨ الصف الخامس ⇨ رياضيات ⇨ الفصل الثاني ⇨ ملفات متنوعة ⇨ الملف

تاريخ إضافة الملف على موقع المناهج: 2025-04-27 16:05:46

ملفات اكتب للمعلم اكتب للطالب | اختبارات الكترونية | اختبارات | حلول | عروض بوربوينت | أوراق عمل
منهج انجليزي | ملخصات وتقارير | مذكرات وبنوك | الامتحان النهائي | للمدرس

المزيد من مادة
رياضيات:

التواصل الاجتماعي بحسب الصف الخامس



صفحة المناهج
البحرينية على
فيسبوك

الرياضيات

اللغة الانجليزية

اللغة العربية

التربية الاسلامية

المواد على تلغرام

المزيد من الملفات بحسب الصف الخامس والمادة رياضيات في الفصل الثاني

مراجعة الفصل الحادي عشر

1

مراجعة الاختبار الثاني

2

حل كراسة الحساب الذهني

3

نموذج الإجابة لمراجعة الاختبار الثالث

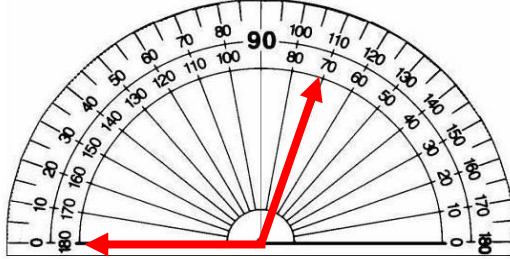
4

مراجعة الاختبار الثالث

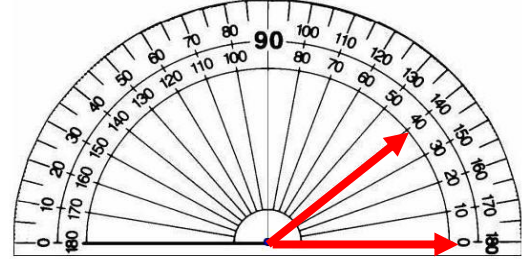
5

الاسم : الصف: خامس \

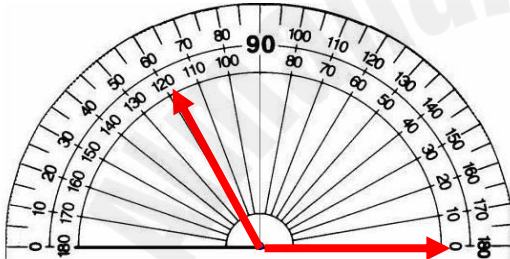
السؤال الأول : أوجدي قياس الزاوية و اذكرى نوعها :



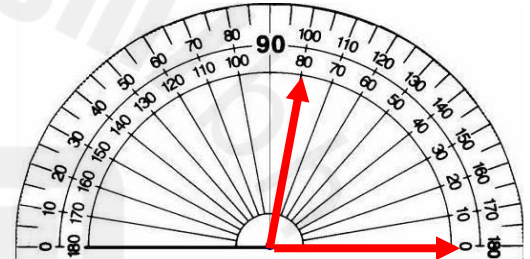
١١٠°	زاوية منفرجة قياسها أكبر من ٩٠°	التدريج الخارجي
------	---------------------------------	-----------------



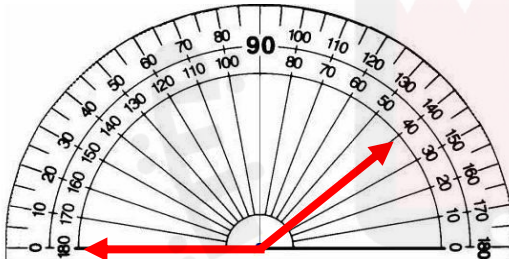
٤٠°	زاوية حادة قياسها أقل من ٩٠°	التدريج الداخلي
-----	------------------------------	-----------------



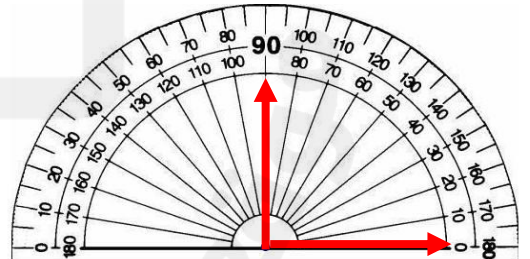
--	--	--



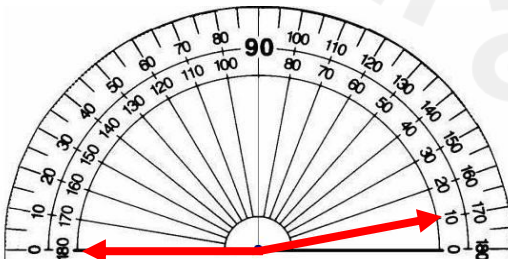
--	--	--



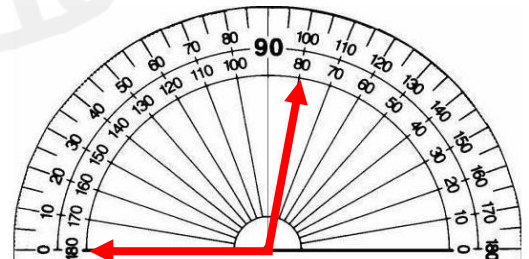
--	--	--



--	--	--




--	--	--



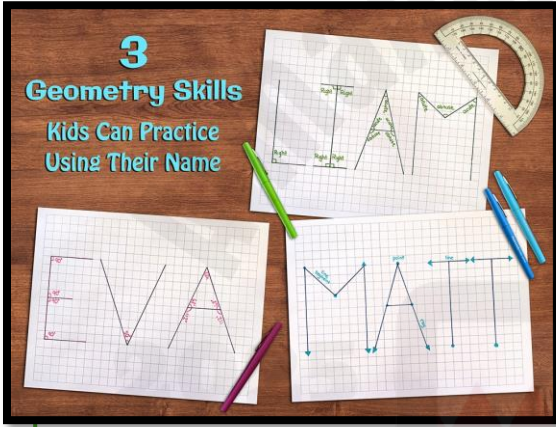
--	--	--

السؤال الثاني : أوجدي قياس الزاوية و اذكرى نوعها :



قياس الزاوية	نوع الزاوية

اكتبي اسمك باستخدام الزاوية :



2024