

مذكرة مراجعة للاختبار الثاني



تم تحميل هذا الملف من موقع المناهج البحرينية

موقع المناهج ⇨ المناهج البحرينية ⇨ الصف الخامس ⇨ المواد الاجتماعية ⇨ الفصل الثاني ⇨ ملفات متنوعة ⇨ الملف

تاريخ إضافة الملف على موقع المناهج: 2025-04-08 17:23:30

ملفات اكتب للمعلم اكتب للطالب ا اختبارات الكترونية ا اختبارات ا حلول ا عروض بوربوينت ا أوراق عمل
منهج انجليزي ا ملخصات وتقارير ا مذكرات وبنوك ا الامتحان النهائي ا للمدرس

المزيد من مادة
المواد
الاجتماعية:

التواصل الاجتماعي بحسب الصف الخامس



صفحة المناهج
البحرينية على
فيسبوك

الرياضيات

اللغة الانجليزية

اللغة العربية

التربية الاسلامية

المواد على تلغرام

المزيد من الملفات بحسب الصف الخامس والمادة المواد الاجتماعية في الفصل الثاني

حل مراجعة المواد الاجتماعية

1

مراجعة المواد الاجتماعية الاختبار الثاني

2

مذكرة المواد الاجتماعية والتربية للمواطنة

3

نشاط الرسم البياني

4

المنهج المساند لمادة الاجتماعيات

5

مذكرة مراجعة

في مادة : الاجتماعيات

للوقة التقويمية الثانية للفصل الدراسي الثاني

للعام الدراسي ٢٠٢٤-٢٠٢٥م

اسم الطالب : الصف ٥ /

موعد الامتحان : يوم الخميس ٢٠٢٥/٤/١٧

الدروس الداخلة في الامتحان :



١ مهارة: قراءة الرسم البياني المناخي.

٢ مناخ الوطن العربي.

٣ سكان الوطن العربي.

٤ كتاب الريادة: المزيد من الوظائف

في مجتمعي.



عند الامتحان يُكرم المرء أو يهان
وداعاً للعب ... أهلاً بالمذاكرة

تمنياتي للجميع بالنجاح
والتوفيق



ملاحظة : المذكرة عامل مساعد للمراجعة ولا تغني عن الكتاب المدرسي

الدرس : مُنَاخُ الوطن العربي (صفحة ٧٤)

الوطن العربي من أشد مناطق العالم حرارة وأكثرها جفافاً؛ لأن غالبية أراضيه تقع في المنطقة المناخية الحارة.

-المناخات السائدة في الوطن العربي هي ثلاثة:

١. المناخ المتوسطي.

٢. المناخ الصحراوي.

٣. المناخ المداري الرطب.

المناخ	المنطقة	الميزات
المتوسطي	المنطقة الساحلية المحاذية للبحر المتوسط، والسفوح الجبلية المشرفة عليها.	- الشتاء: حرارة معتدلة وأمطار غزيرة. - الصيف: حرارة مرتفعة وجفاف.
الصحراوي	معظم مناطق الوطن العربي جنوب المناخ المتوسطي	حرارة مرتفعة، وأمطار قليلة أو نادرة.
المداري الرطب	جنوب الصومال، جنوب الصومال، جنوب موريتانيا.	حرارة مرتفعة، وأمطار غزيرة صيفاً.

الدرس : سكان الوطن العربي (صفحة ٨٤)

الكثافة السكانية: هي متوسط عدد السكان لكل كيلو متر مربع.

أولاً: التوزيع الجغرافي للسكان في الوطن العربي:

يتوزع سكان الوطن العربي في مساحة تبلغ ١٤ مليون كلم^٢. أي أنه (تختلف الكثافة السكانية في الوطن العربي من منطقة إلى أخرى)

عدد السكان (نسمة)

- الكثافة السكانية =

مساحة الأرض (كم^٢)

(مثال)

٢٨٩٠٠٠٠٠٠

- في الوطن العربي =

١٤٠٠٠٠٠٠

٢١ شخصاً / كم^٢.

١٠٤٧٠٠٠

- في البحرين =

٧٣٠

١٤٣٤ شخصاً / كم^٢.

ثانياً: توزيع الكثافة السكانية في الوطن العربي:

أ- كثافة مرتفعة: في السواحل (المتوسط، الأحمر، الخليج) وأودية الأنهار (النيل، دجلة،

الفرات). لماذا؟ ١- خصوبة التربة. ٢- وفرة المياه. ٣- توافر المرافق التجارية، وفي المدن؛

لتوافر فرص العمل.

ب- كثافة منخفضة: في الصحارى؛ بسبب قسوة المناخ.

ثالثاً: أسباب نمو السكان وتزايدهم في الوطن العربي: ١- ارتفاع عدد الولادات. ٢- انخفاض

عدد الوفيات. ٣- ارتفاع عدد المهاجرين الأجانب إلى البلدان العربية الغنية بالنفط

الدرس : المزيد من الوظائف في مجتمعي (الريادة) (صفحة ٧٠)

الاعمال التجارية في المجتمع:

*المدن الكبيرة / مصانع كبيرة وشركات ، نبدأ العمل التجاري نفكر بما ينفع مدينتنا ومجتمعنا

* يجب ان نحترف مهنة.

* ماذا تريد أن تصبح في المستقبل؟

تذكر ذكرى ساعدتك في بدء . اسأل نفسك ما هو الشيء الذي تستمتع بفعله أكثر من غيره مسيرتك المهنية. على سبيل المثال، فكر في وظيفة تدريس إذا كنت تستمتع بالتدريس واللعب مع الأطفال. أو فكر في وظيفة محلل مالي إذا كنت تحب العمل بالأرقام وجدول البيانات

*هل تفضل العيش في المدن أم الريف؟ لماذا؟

*ما هي فوائد العيش في قرية؟

*أيهما الأفضل: العيش في مدينة أم في قرية؟

*ما الذي تفضله: العيش في البادية أم العيش في المدينة، مع تعليل جوابك؟

*هل السكن في البادية أفضل أم المدينة؟ ولماذا؟

الدرس : مهارة قراءة الرسم البياني المناخي (صفحة ٧٢)

- عناصر المناخ: ١- درجة الحرارة. ٢- المتساقطات (الأمطار)

- كيف نقرأ الرسم البياني المناخي ؟

١- نلاحظ أولاً الخط الأفقي المقسم إلى ١٢ قسمًا متساويًا

هذه الأقسام تمثل أشهر السنة

٢- نلاحظ الخط العمودي لجهة اليمين

وهو يمثل درجات الحرارة

٣- كما نلاحظ الخط العمودي إلى اليسار

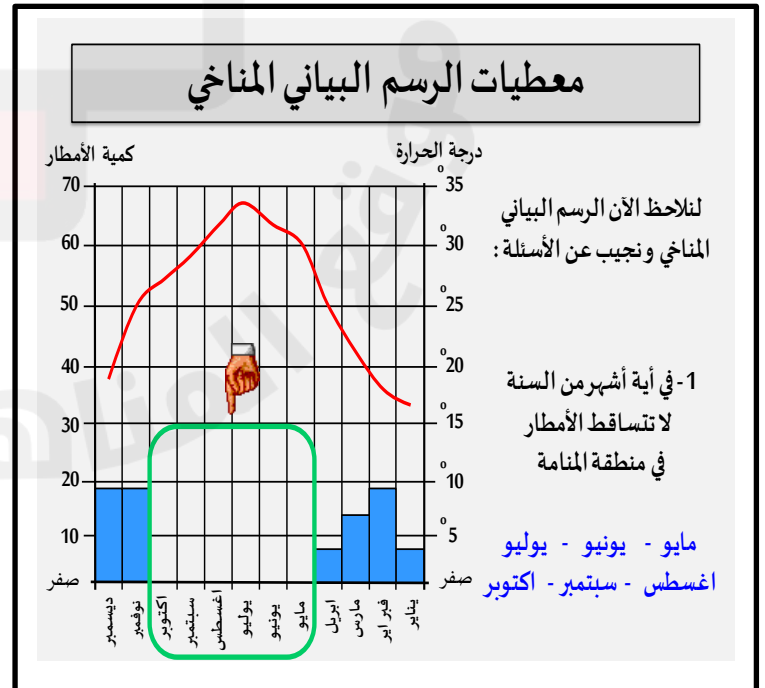
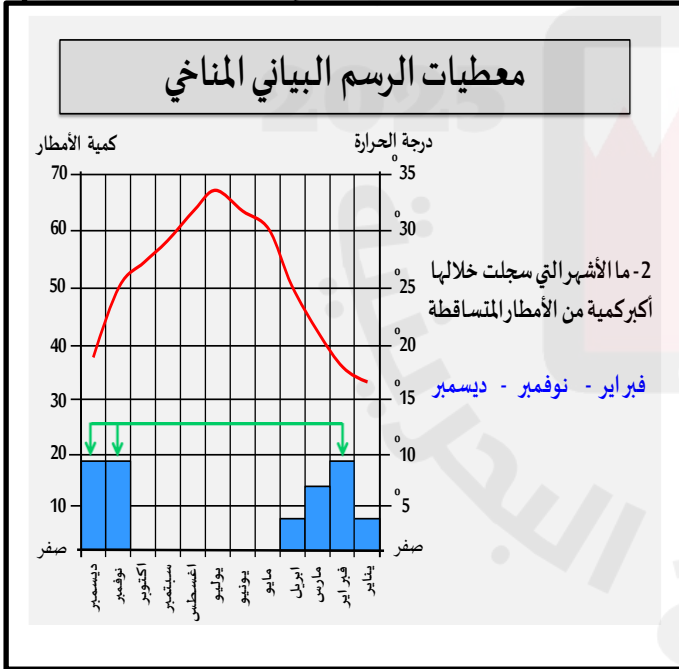
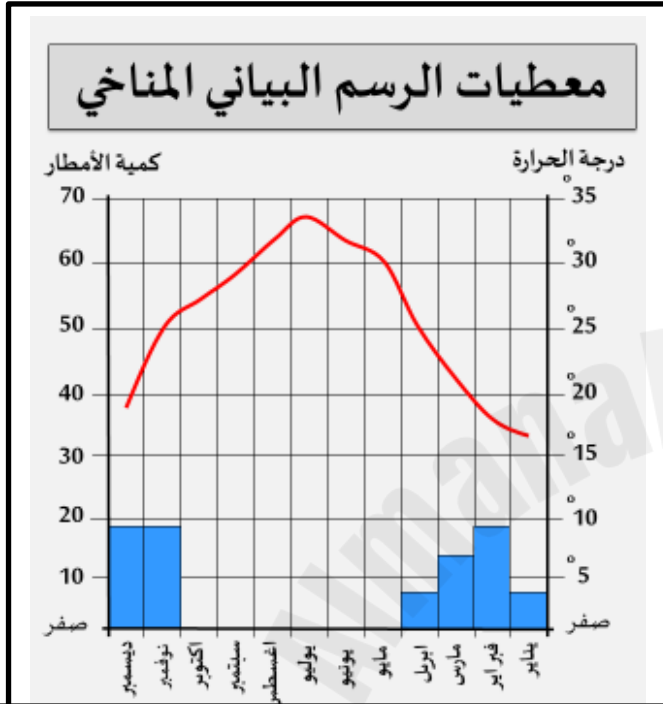
ويمثل كمية الأمطار المتساقطة بالمليمتر

٤- أما الأعمدة الزرقاء في الرسم فتتمثل

كمية الأمطار المتساقطة في الأشهر الممطرة من السنة

٥- أما الخط الأحمر في الرسم البياني، فيمثل

معدل درجات الحرارة طيلة أشهر السنة



الدرس : مُناخُ الوطن العربي (صفحة ٧٤)

- ضع علامة (✓) أمام العبارات الصحيحة وعلامة (x) أمام العبارات الخطأ فيما يلي:

١- () الجفاف هي حالة مناخية تسود في منطقة معينة بسبب قلة الأمطار عليها.

٢- () يعتبر الوطن العربي من حيث المناخ من أكثر مناطق العالم برودة.

٣- () يسود الجفاف منطقة المناخ المتوسطي في فصل الشتاء.

٤- () يمتاز المناخ المداري الرطب بارتفاع الحرارة معظم أيام السنة وأمطار غزيرة في الصيف وتزداد كلما اقتربنا لخط الاستواء

٥- () يشمل المناخ الصحراوي مناطق الوطن العربي الواقعة جنوب منطقة المناخ المتوسطي .

- أي مناخ من مناخات الوطن العربي تحب أن تعيش فيه؟ ولماذا؟

المناخات

الدرس : سكان الوطن العربي (صفحة ٨٤)

- أكمل الفراغات بما يناسبها مما بين القوسين ، فيما يأتي :-

(٣٦٠ - الصحراوية - ١٤ - ٢٥ - عالية)

- ١- بلغ عدد سكان الوطن العربي حوالي مليون نسمة سنة ٢٠١٠ م .
- ٢- يتوزع سكان الوطن العربي علي مساحة تبلغ حوالي مليون كلم ٢ .
- ٣- تبلغ الكثافة السكانية في الوطن العربي حوالي شخصًا يعيشون على كل كيلو متر مربع .
- ٤- البحرين ودلتا النيل في مصر تعتبر مناطق ذات كثافة سكانية
- ٥- المناطق لا تزيد كثافتها عن شخصين اثنين فقط في الكلم ٢ .

٢. أجب عن الأسئلة التالية :-

١- اشرح كيف نحسب الكثافة السكانية للوطن العربي.

٢- ترتفع الكثافة السكانية في الوطن العربي في المناطق الساحلية وحول مجاري الأنهار.

الدرس : المزيد من الوظائف في مجتمعي (الريادة) (صفحة ٧٠)

بعد دراستك لمقرر (الريادة) ،قم بالإجابة على السؤال الآتي:

١- فكر في المهنة أو الوظيفة التي تريد أن تتوظف بها في المستقبل ،ولماذا اخترتها؟

وضح اجابتك:

- وظيفتي في المستقبل:

- وسبب اختياري لها:

٢- برأيك - أين تحب أن تعيش ولماذا؟

*المكان/.....

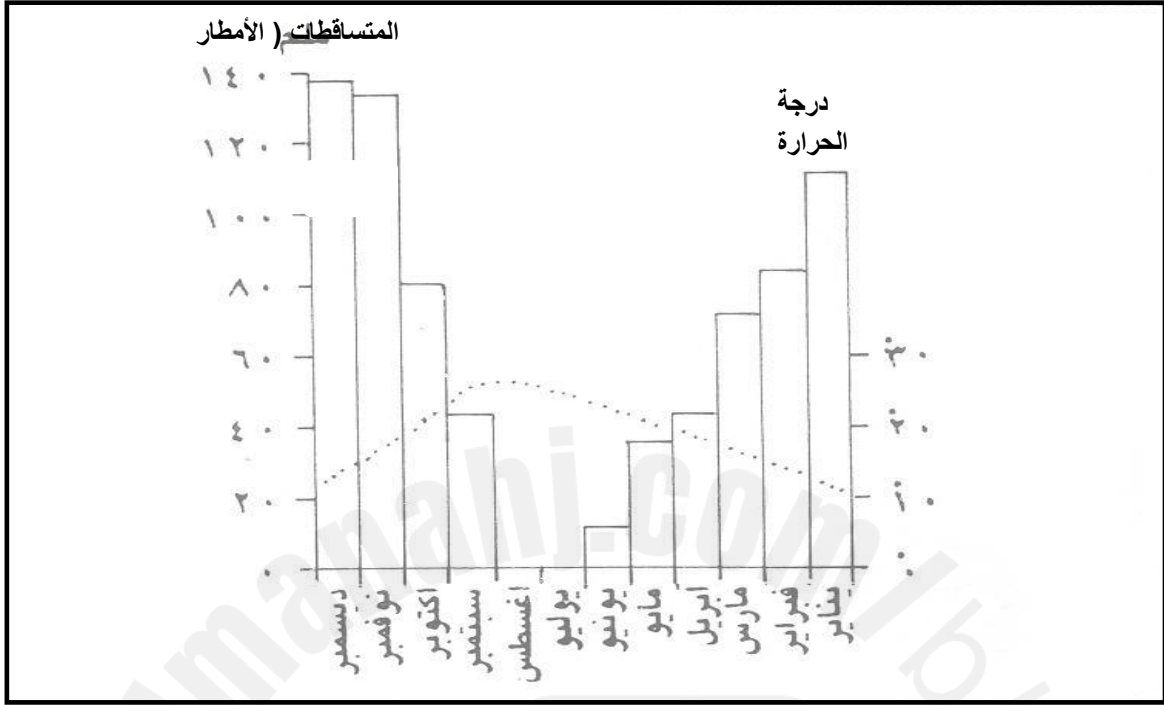
*السبب/.....

المميزات/.....

الدرس : مهارة قراءة الرسم البياني المناخي (صفحة ٧٢)

كتاب الاجتماعيات

استعن بالرسم البياني المناخي أدناه وأجب عن الأسئلة التالية:



رسم بياني مناخي لمحطة الجزائر المناخية

س ١ / عدد أبرز عناصر المناخ :

١-
٢-

س ٢ / اجب عن ما يلي :

- ١- في أي شهر سقطت أكبر كمية من الأمطار؟
- ٢- في أي شهر سقطت أقل كمية من الأمطار؟
- ٣- في أي شهر سجلت أقل درجة حرارة؟

أرجو لكم النجاح والتوفيق