

تم تحميل هذا الملف من موقع المناهج البحرينية



## نموذج كراسة التمارين


موقع المناهج ← المناهج البحرينية ← الصف الرابع ← المواد الاجتماعية ← الفصل الأول ← ملفات متنوعة ← الملف

تاريخ إضافة الملف على موقع المناهج: 2024-10-12 01:02:19

ملفات اكتب للمعلم اكتب للطالب الاختبارات الكترونية | اختبارات | حلول | عروض بوربوينت | أوراق عمل  
منهج انجليزي | ملخصات وتقارير | مذكرات وبنوك | الامتحان النهائي للمدرس

المزيد من مادة  
المواد  
الاجتماعية:

## التواصل الاجتماعي بحسب الصف الرابع



صفحة المناهج  
البحرينية على  
فيسبوك

الرياضيات

اللغة الانجليزية

اللغة العربية

التربية الاسلامية

المواد على تلغرام

## المزيد من الملفات بحسب الصف الرابع والمادة المواد الاجتماعية في الفصل الأول

مراجعة عامّة للوقفة التقييمية الأولى

1

أنشطة مادة الاجتماعيات

2

مراجعة مادة الاجتماعيات

3

المراجعة النهائية الجزء الثالث في مادة الاجتماعيات و التربية للمواطنة

4

ملخص درس البحرين في العهود الإسلامية

5

KINGDOM OF BAHRAIN  
Ministry of Education



مَمْلَكَة البَحْرَيْن  
وَزَارَة التَّعْلِيمِ



# نموذج إجابة كراسة التمارين الصف الرابع

## الجزء الأول

إعداد المعلمة:  
أ. مروة منير احمد

٢٢٢

2025

2024




ملاحظة : يرجى تلوين الصور



حجر الصوان



الزراعة



سكن الخيام



صيد الحيوانات

أقرأ هذا النص وأجيبُ عن الأسئلة التالية:

١- بِمِ وُصِفَتْ أَرْضُ دَلْمُونِ؟

أرض مقدسة وظهور

٢- ما الثروات التي اشتهرت بها دلمون؟

ينابيع المياه العذبة والحقول

٣- أستخرجُ من النص عبارتين يمكن أن أصف بهما البحرين اليوم.

على أرض البحرين لا يشتكي رجل من الشيخوخة - ولا تصبح المرأة عجوز.

٤- أستخرجُ من النص ما يشير إلى أهمية دلمون التجارية.

مدنها تصبح ميناء للعالم كله

360 قرية

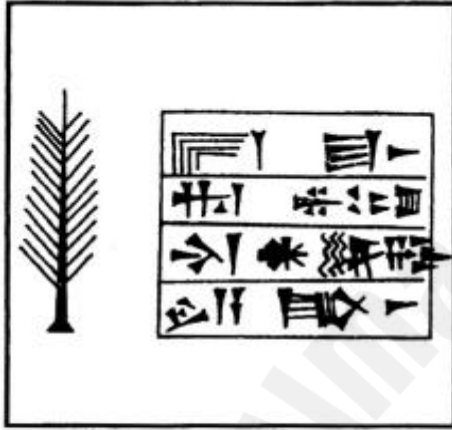
١- كم قريةً توجد في جزيرة أوال؟ .....

٢- كيف كان الفواصون يحصلون على الماء العذب من البحر؟ .  
من خلال محل مشوق اسمه القصاصير

٣- ورد في النص أن سفناً كثيرة تزور أوال ..... ماذا يعني ذلك؟ .  
أهمية الموقع التجاري للبحرين منذ القدم.

٤- اذكر أنواع الحيوانات التي عاشت في دلمون قديماً  
الخيول - الجمال - الأبقار - الغنم

٥- عدد المحاصيل الزراعية التي اشتهرت بها أوال.  
الرمان - التين - الزيتون - الليمون - النخيل



كتابة مسمارية



ختم دلموني



رأس الثور

ثالثًا: حملت البحرين في مراحل مختلفة من تاريخها الأسماء التالية:

أوال - البحرين - دلمون - تايلوس

أرتب هذه الأسماء من الأقدم تاريخيًا إلى الأحدث:

- ١ - دلمون
- ٢ - تايلوس
- ٣ - أوال
- ٤ - البحرين

رابعًا: أكملُ الجدول أدناه بوضع الاسم المناسب في مكان الفراغ:

اسم البلد اليوم	اسم البلد قديمًا
باكستان	بلاد الهند
العراق	بلاد ما بين النهرين
بلاد الشام	فينيقيا

2025

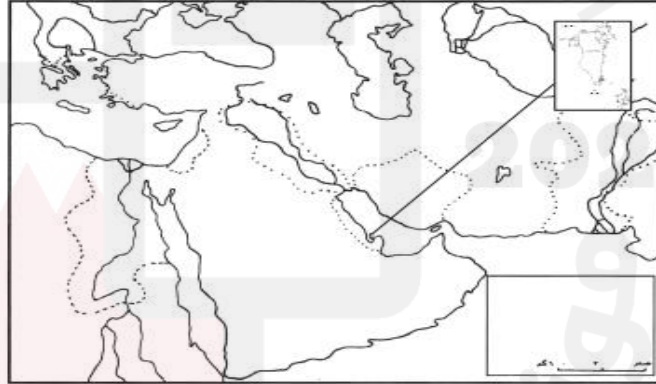
2024



# واجب صفحة 9

## أسئلة تقويم شاملة حول الموضوعات: (١-٢-٣-٤)

- أولاً: كانت دلمون في الماضي البعيد جداً مركزاً مهماً على طريق التجارة البحرية بين العديد من البلدان. ولهذا السبب تعرّضت للغزو أكثر من مرة.
- على الخريطة الصمّاء أدناه:
- ١- أحدّد جهة الشمال.
  - ٢- أكتب في المكان المناسب الأسماء التالية:  
دلمون- بلاد ما بين النهرين- بلاد فارس- بلاد الهند- بلاد اليونان- قينيقيا- مصر.
  - ٣- أرسم باللون الأحمر خط سير حملة الإسكندر المقدوني من بلاد اليونان إلى بلاد الهند.
  - ٤- أرسم باللون الأخضر خط سير حملة نيارخوس من بلاد الهند إلى دلمون. (تراجع خريطة الدرس ٤ صفحة ١٦).
  - ٥- أصمّم مفتاحاً للخريطة.



- كان الإنسان القديم يسكن في:

البيوت

المغاور

العمارات

- ظهرت القرى عندما اكتشف الإنسان القديم:

المعادن

النار

الزراعة

- وصفت الكتابات المسمارية دلمون على أنها:

مجموعة جزر

أرض مقدّسة

بلاد واسعة

أقرأ النص ثم أجب عن الأسئلة التالية:

الرسول صلى الله عليه وسلم

أ- من الذي دعا الوفد لزيارة المدينة المنورة؟

عشرون رجلاً

ب- ما عدد أعضاء الوفد الذي قَدِمَ إلى المدينة؟

عبد الله بن عوف الأشج

ج- من كان يرأس الوفد؟

تميم وعبد القيس

د- ما القبائل التي كان ينتمي إليها أعضاء الوفد؟



نلتقي الدرس القادم



إلى اللقاء

2023

2024

