

تم تحميل هذا الملف من موقع المناهج البحرينية



نشاط إثرائي لمادة الرياضيات الصف الرابع

موقع المناهج ← المناهج البحرينية ← الصف الرابع ← رياضيات ← الفصل الثاني ← ملفات متنوعة ← الملف

تاريخ إضافة الملف على موقع المناهج: 13:48:44 2025-03-10

ملفات اكتب للمعلم اكتب للطالب الاختبارات الكترونية | اختبارات | حلول | عروض بوربوينت | أوراق عمل
منهج انجليزي | ملخصات و تقارير | مذكرات و بنوك | الامتحان النهائي للمدرس

المزيد من مادة
رياضيات:

التواصل الاجتماعي بحسب الصف الرابع



صفحة المناهج
البحرينية على
فيسبوك

الرياضيات

اللغة الانجليزية

اللغة العربية

التربية الاسلامية

المواد على تلغرام

المزيد من الملفات بحسب الصف الرابع والمادة رياضيات في الفصل الثاني

مراجعة الاختبار الثاني في مادة الرياضيات

1

مراجعة الاختبار الثاني

2

ملخص الاختبار الأول

3

مراجعة الاختبار الثاني

4

مراجعة الاختبار الثاني

5

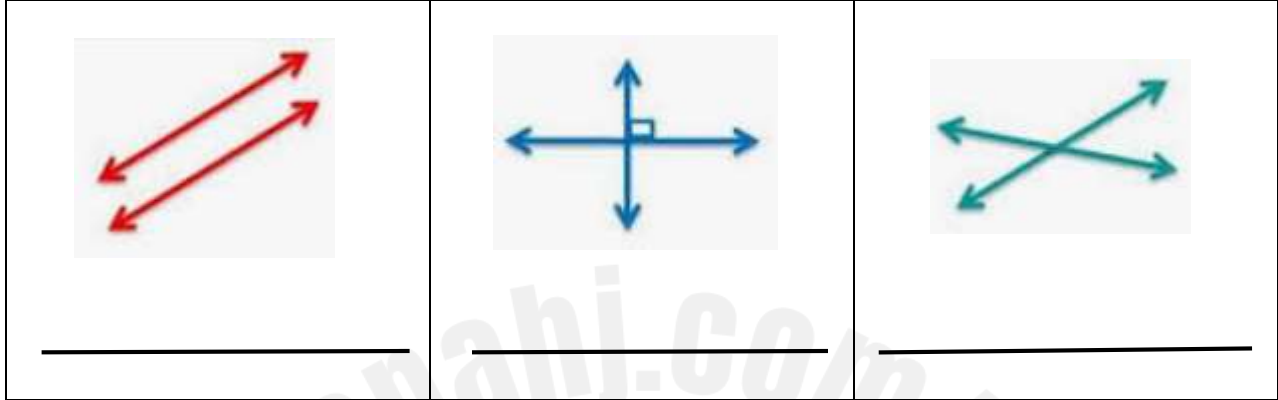
نشاط إثرائي لمادة الرياضيات للصف الرابع الابتدائي للعام الدراسي ٢٠٢٣ / ٢٠٢٤

التاريخ:

الصف:

اسم الطالبة:

السؤال الأول : صفي كلاً من الأشكال الآتية :



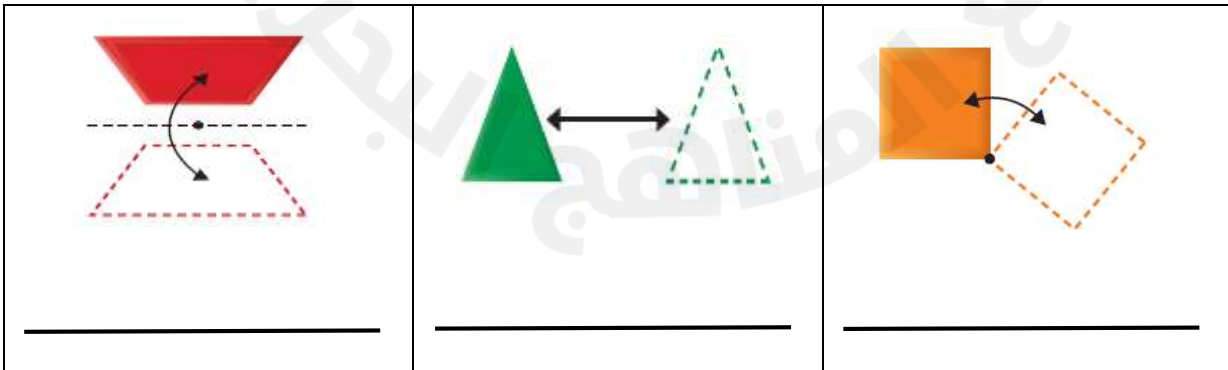
السؤال الثاني : اكتب المصطلح المناسب لتعريفات الآتية :

- () ليس له بداية ولا نهاية .

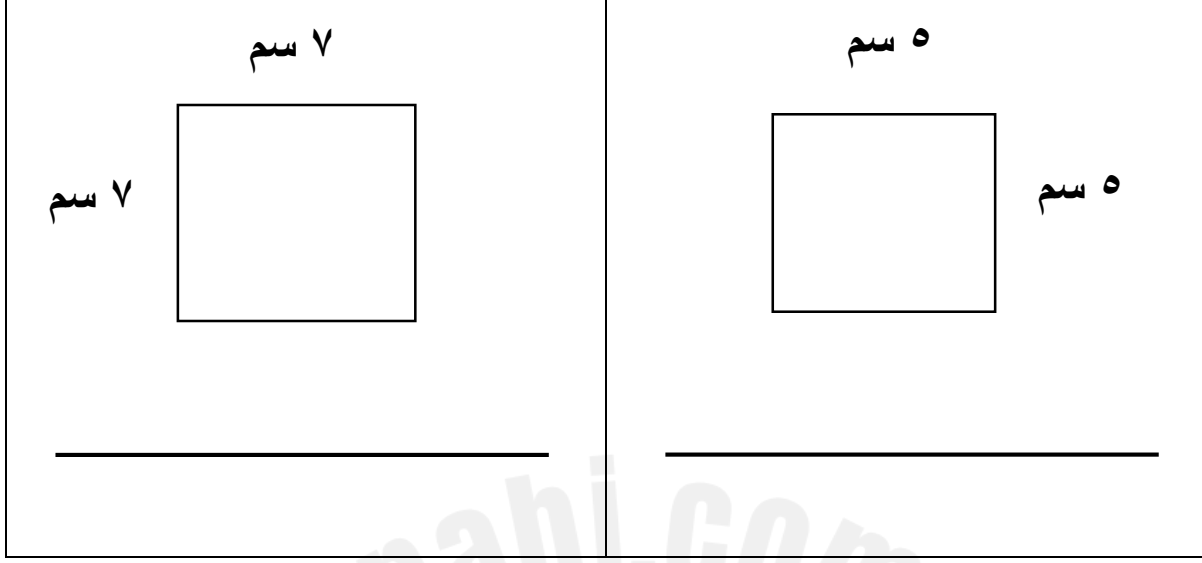
- () له نقطة بداية وليس له نهاية .

- () لها نقطة بداية ونقطة نهاية .

السؤال الثالث : حددي نوع التحويل الهندسي فيما يأتي :



السؤال الرابع : أوجد محيط المربعات الآتية :



السؤال الخامس : أوجد مساحة المستطيل الآتي :



السؤال السادس : ما الزمن الذي استغرقه سعيد في حل الواجب إذا بدأ الساعة ١٥ : ٦ وانتهى الساعة ٠٠ : ٧ ؟

Blank rounded rectangular box for the answer.