

مذكرة مراجعة مهمة قيمنا سر ارتقائنا 2022 و 2023م



تم تحميل هذا الملف من موقع مناهج مملكة البحرين

موقع المناهج ← مناهج مملكة البحرين ← الصف الرابع ← تربية للمواطنة ← الفصل الثاني ← ملفات متنوعة ← الملف

تاريخ إضافة الملف على موقع المناهج: 2026-02-15 13:55:52

ملفات اكتب للمعلم اكتب للطالب | اختبارات الكترونية | اختبارات | حلول | عروض بوربوينت | أوراق عمل
منهج انجليزي | ملخصات وتقارير | مذكرات وبنوك | الامتحان النهائي | للمدرس

المزيد من مادة
تربية للمواطنة:

إعداد: أشواق الجمري و ايمان سليمان

التواصل الاجتماعي بحسب الصف الرابع



صفحة مناهج مملكة
البحرين على
فيسبوك

الرياضيات

اللغة الانجليزية

اللغة العربية

التربية الاسلامية

المواد على تلغرام

المزيد من الملفات بحسب الصف الرابع والمادة تربية للمواطنة في الفصل الثاني

ملخص الاختبار الثالث في التربية للمواطنة

1

ملخص الاختبار الثالث

2

إجابة الاختبار الثاني

3

مراجعة الاختبار الثاني التربية للمواطنة (إصدار 2)

4

أنشطة التربية للمواطنة

5



مذكرة الاجتماعيات والتربية للمواطنة
للفيف الرابع الابتدائي
للفصل الدراسي الثاني للعام 2022-
2023م

اسم الطالبة: _____
الصف: _____



قِيمُنَا سر ارتقائنا

الانتماء والمواطنة / الولاء / الإيثار
الصدق / التعاون / تقدير الذات / الأمانة

إتفاقية الصف :

- 1- التزمي الأدب والهدوء في الفصل.
- 2- احترمي المعلمة واحترمي زميلاتك في الفصل.
- 3- رفع إصبعك عندما تريد الإجابة ، ولا تتم الإجابة جماعيًا إلا حين تطلب منك المعلمة.
- 4- الانتباه لشرح المعلمة وعدم شغل نفسك أو زميلاتك بغير الدرس.
- 5- تحضير الدروس وحل الواجبات وعمل ما يطلب منك بهدوء.
- 6- الاستئذان دائمًا من المعلمة قبل القيام بأي عمل .

مع تمنياتي لكن عزيزاتي بالنجاح والتفوق دائمًا

استمارة تواصل معلمة المادة مع ولي أمر التلميذة

[illegible]

أولاً/ مادة الإجتماعيات:

عدد الدروس	التاريخ	موضوع الدرس
1		موقع مملكة البحرين
2		سطح مملكة البحرين
3		مناخ مملكة البحرين
4		الموارد المائية في مملكة البحرين
5		الثروة البحرية في مملكة البحرين
6		النفط والغاز الطبيعي في مملكة البحرين
7		الصناعة في مملكة البحرين
8		التجارة في مملكة البحرين
9		المواصلات والاتصالات في مملكة البحرين
10		السياحة في مملكة البحرين
11		البياني/دراسة السكان مهارة الرسم
12		سكان مملكة البحرين

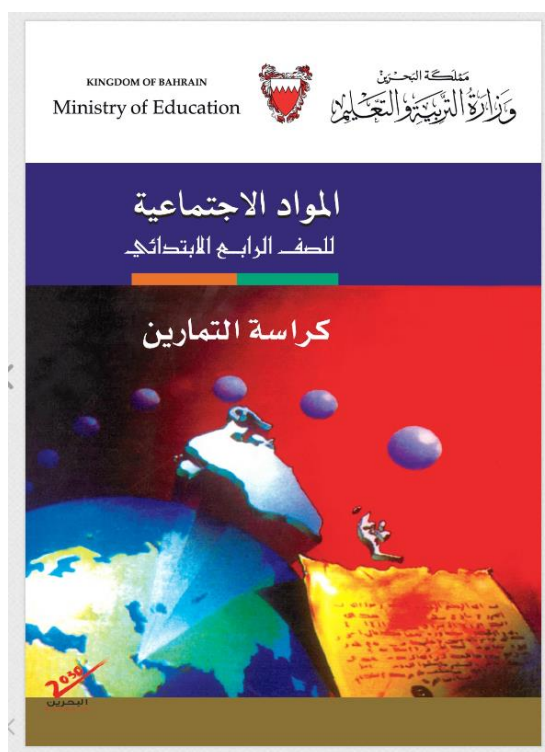
ثانياً/ مادة التربية الوطنية:

عدد الدروس	التاريخ	موضوع الدرس
1		جماعة الأصدقاء
2		القيادة السياسية
3		مصادر دخل الأسرة وتعاملاتها اليومية
4		مجلس التعاون الخليجي لدول الخليج العربية : السمات المشتركة
5		مجلس التعاون لدول الخليج العربية : الأهداف والإنجازات

تقييم المذكرة من قبل المعلمة

الدرجة	التسليم في الوقت	دقة الإجابة	النظافة والترتيب	التاريخ

الاجتماعيات



الدرس (1) موقع مملكة البحرين

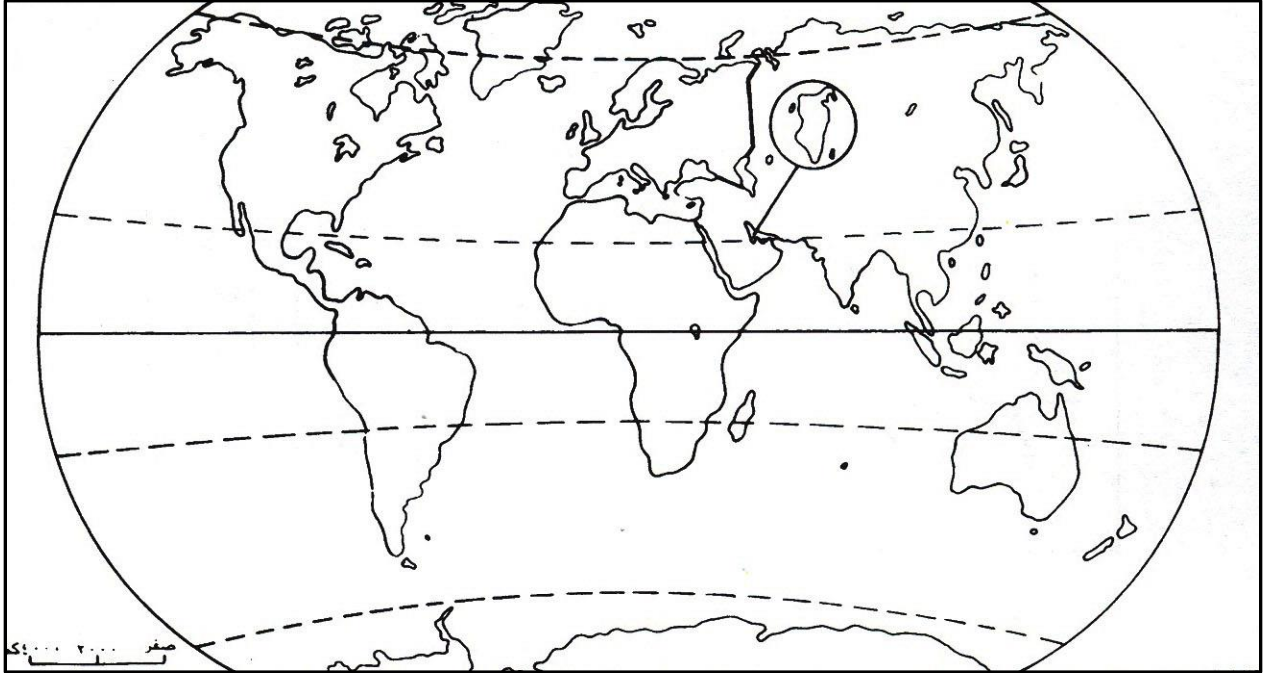
• موقع البحرين:

تحتل البحرين موقعاً جغرافياً مهماً في وسط الخليج العربي الذي يشكل الواجهة الشرقية لشبه الجزيرة العربية.

البحرين	موقعها
بالنسبة للخليج العربي	• تقع في وسط الخليج العربي (يمثل الجهة الشرقية لشبه الجزيرة العربية).
	• حدودها في الغرب (المملكة العربية السعودية) وفي الشرق (قطر).
بالنسبة للوطن العربي	• تقع في الجزء الشرقي من الوطن العربي.
بالنسبة للعالم	• في النصف الشمالي من الكرة الأرضية.
بالنسبة لقارة آسيا	• في جنوب غرب قارة آسيا.
بالنسبة لدوائر العرض	• بالقرب من مدار السرطان.

• أهمية موقع البحرين:

1. أصبحت البحرين مركزاً للمواصلات والتجارة .
2. حلقة وصل بين الدول الآسيوية والأوروبية



خريطة العالم

نشاط الدرس (1) موقع مملكة البحرين.

كفاية الدرس: أستنتج أهمية موقع البحرين الجغرافي.

★ السؤال الأول

اختر الإجابة الصحيحة من بين العبارات التالية بوضع إشارة ☒ أمام الصحيحة:

تحتل البحرين موقعاً مهماً في وسط:

☐ الخليج العربي ☐ البحر الأحمر ☐ الخليج الكاريبي ☐ البحر المتوسط

تقع البحرين في قارة:

☐ أوروبا ☐ آسيا ☐ أفريقيا ☐ أمريكا الشمالية

★★ السؤال الثاني

أجيب عن الأسئلة التالية:

« في أي جزء من الوطن العربي تقع البحرين؟

.....

« في أي نصف نصف من الكرة الأرضية تقع البحرين؟

.....

★★★ السؤال الثالث

فسري سبب أهمية موقع البحرين؟

.....

.....

الوصف	التعزيز	الدعم المقدم
<ul style="list-style-type: none">• عملك متقن• إجابتك منسقة• وظفت المطلوب منك بدقة• لديك أخطاء• لم تحققي المطلوب	<ol style="list-style-type: none">1. شكرا لجهودك الرائعة2. أقدر جهودك3. سعدت بمحاولاتك4. للامام دائما	<ul style="list-style-type: none">➤ ارجعي للكتاب للتصحيح ص➤ راجعي معلمتك لتصحيح الأخطاء➤ تدربي أكثر مستعين بالأنشطة التدريبية➤ استعيني بزميلك
➤ التقدير : ممتاز	جيد جدا	جيد
		متوسط

الدرس (2) سطح مملكة البحرين

- الجزيرة: قطعة من اليابسة تحيط بها المياه من جميع الجهات.
- الأرخبيل: مجموعة جزر متقاربة.
- الخور: جزء من البحر ضيق وطويل داخل في اليابسة.

مكوناته	أهم الجزر	مساحته
تتكون البحرين من 36 جزيرة متقاربة سميت ما يعرف باسم (أرخبيل).	1. جزيرة البحرين وهي أكبر جزيرة وعليها أطلق اسم مملكتنا. 2. هناك جزر رئيسية أخرى وهي: حوار، أم النعسان، المحرق، سترة، النبيه صالح، جدة.	مساحة أرخبيل البحرين حوالي 765.3 كم ²

• أشكال سطح البحرين:

مميزات الشواطئ			خصائص الارتفاعات
أ. كثرة التعاريح. ب. تتخللها الرؤوس والخلجان. ج. قليلة العمق باستثناء موانئ ومعاير السفن.			1. يتميز السطح بانبساطه وقلة ارتفاعه عن سطح البحر. 2. اقصى ارتفاع (134 مترا) عند جبل الدخان ، متر او مترين في الجنوب والجنوب الغربي من جزيرة البحرين.
الأخوار	الخلجان	الرؤوس البحرية	
▪ خور القليعة. ▪ خور الكاب.	▪ خليج عراد.	▪ رأس ابي جرجور. ▪ رأس حيان. ▪ رأس البر.	

نشاط الدرس (2) سطح مملكة البحرين.

كفاية الدرس: توضح مظاهر أشكال سطح البحرين ومميزاتها.

★ السؤال الأول

أكملي العبارات التالية بما يناسبها من كلمات ،مستعينة بالكلمات التالية بين الأقواس:

(جبل الدخان / جزيرة البحرين)

◀ تتألف مملكة البحرين من أكثر من 36 جزيرة، أكبرها

◀ تبلغ البحرين أقصى ارتفاع لها وهو (134 متراً) عند

★★ السؤال الثاني

◀ أذكرني أسماء الجزر الرئيسية التي تتألف منها البحرين.

.....(1)(2)(3)

.....(4)(5)(6)

★★★ السؤال الثالث

بم يتميز سطح جزر البحرين؟

.....
.....

الوصف	التعزيز	الدعم المقدم
<ul style="list-style-type: none">• عملك متقن• إجابتك منسقة• وظفت المطلوب منك بدقة• لديك أخطاء• لم تحقق المطلوب	<ol style="list-style-type: none">1.شكرا لجهودك الرائعة2.أقدر جهودك3.سعدت بمحاولاتك4.للامام دائما	<ul style="list-style-type: none">➤ ارجعي للكتاب للتصحيح ص➤ راجعي معلمتك لتصحيح الأخطاء➤ تدربي أكثر مستعن بالأنشطة التدريبية➤ استعيني بزميلك
➤ التقدير : ممتاز	جيد جدا	جيد
		متوسط

الدرس (3) مناخ مملكة البحرين

• أولاً: المناخ

العوامل المؤثرة في المناخ	موقع البحرين من مدار السرطان وضمن المنطقة الحارة الصحراوية
عناصر المناخ	الحرارة: تتلقى كمية كبيرة من حرارة الشمس. الأمطار: تتميز بقلة الأمطار.
فصول السنة	<div> <div> الصيف: شديد الحرارة والجفاف ، لا تسقط به الأمطار. </div> <div> الشتاء: تنخفض الحرارة قليلاً وتسقط كمية قليلة من الأمطار. </div> </div> <div> <div>فصلين أساسيين تتفاوت بهما درجة الحرارة.</div> <div>الربيع ، الخريف .</div> </div>
	فصلان قصيران في البحرين.

• ثانياً: النبات والحيوان والطيور

التصنيف	النبات	الحيوان	الطيور
طبيعتها	1. النباتات الطبيعية قليلة . لماذا؟ بسبب قلة سقوط الأمطار. 2. لا تختلف عن النباتات في سائر الخليج العربي. 3. تتحمل الجفاف.	تقل الحيوانات البرية في البحرين. لماذا؟ بسبب قلة الماء والنبات.	الطيور أعدادها قليلة.
أهم أنواعها	الأعشاب والشجيرات.	الغزال – الأرنب – النمس – الضب .	1. طيور مقيمة (الدوري – العقاب - البوم – البلبل). 2. طيور عابرة مهاجرة: (الغراب – السنونو – النورس).

نشاط الدرس (3) مناخ مملكة البحرين

كفاية الدرس: تتعرف مناخ البحرين في فصلي الصيف والشتاء

★ السؤال الأول

أجيبني عن الأسئلة التالية:

عددي ثلاثة من أنواع الحيوانات البرية التي تعيش في البحرين.

(1) (2) (3)

عددي ثلاثة من أنواع الطيور المقيمة والمهاجرة في البحرين.

(1) (2) (3)

★★ السؤال الثاني

بم يتميز مناخ البحرين في فصلي الصيف والشتاء؟

فصل الصيف:

فصل الشتاء:

★★★ السؤال الثالث

فسري قلة النبات الطبيعي في البحرين ؟

.....
.....

الوصف	التعزيز	الدعم المقدم
<ul style="list-style-type: none">• عملك متقن• إجابتك منسقة• وظفت المطلوب منك بدقة• لديك أخطاء• لم تحققي المطلوب	<ol style="list-style-type: none">1. شكرا لجهودك الرائعة2. أقدر جهودك3. سعدت بمحاولاتك4. للامام دائما	<ul style="list-style-type: none">➤ ارجعي للكتاب للتصحيح ص➤ راجعي معلمتك لتصحيح الأخطاء➤ تدربي أكثر مستعين بالأنشطة التدريبية➤ استعيني بزميلك
➤ التقدير : ممتازة	جيد جدا	جيد
		متوسط

الدرس (4) الموارد المائية في مملكة البحرين

• موارد المياه في الماضي:

اعتمد سكان البحرين لتأمين حاجاتهم من المياه في الماضي على:

- العيون.
- الينابيع.
- الكواكب.
- الآبار.

• أشهر العيون في البحرين:

- عين عذاري.
- عين قصاري.
- عين الحنينية.

• علل: تناقص المياه الجوفية في البحرين؟

بسبب:

1. الاستهلاك المتزايد.
2. تسرب مياه البحر إليها.

• ماذا انشأت مملكة البحرين لتأمين مصادر جديدة للمياه؟

1. أنشأت محطات لتحلية المياه.
2. أنشأت محطة لتكرير مياه المجاري ، لأستخدامها في ري المزروعات.

• ما هو دور المواطن في المحافظة على الثروة المائية؟

1. عدم الهدر اثناء استعماله.
2. الاقتصاد اثناء الاستهلاك.

نشاط الدرس (4) الموارد المائية في مملكة البحرين

كفاية الدرس: تتعرف على الموارد المائية في مملكة البحرين.

★ السؤال الأول

أجيب عن الأسئلة التالية:

اعتمد سكان البحرين لتأمين حاجاتهم من المياه في الماضي على:

(1) (2) (3)

★★ السؤال الثاني

أشهر العيون في البحرين :

(1) (2) (3)

★★★ السؤال الثالث

ماذا انشأت مملكة البحرين لتأمين مصادر جديدة للمياه؟

.....
.....

الوصف	التعزيز	الدعم المقدم
<ul style="list-style-type: none">• عملك متقن• إجابتك منسقة• وضفت المطلوب منك بدقة• لديك أخطاء• لم تحققي المطلوب	<ol style="list-style-type: none">1. شكرا لجهودك الرائعة2. أقدر جهودك3. سعدت بمحاولاتك4. للامام دائما	<ul style="list-style-type: none">➤ ارجعي للكتاب للتصحيح ص➤ راجعي معلمتك لتصحيح الأخطاء➤ تدربي أكثر مستعين بالأنشطة التدريبية➤ استعيني بزميلك
➤ التقدير : ممتازة	جيد جدا	جيد
		متوسط

الدرس (5) الثروة البحرية في مملكة البحرين

الثروة البحرية في مملكة البحرين:

- يحتوي بحرنا على حوالي 500 نوع من الأسماك.
- تعتبر الأسماك من الأغذية الرئيسية في البحرين.
- الفائض من الأسماك يصدر الى الخارج.
- بحرنا غني بمحار اللؤلؤ ويمتاز بجودته ، والبحرين أهم مركز لصيده ، والمنامة أهم مركز لتسويقه.

دور المملكة في رعاية الصيد والغوص:

- هناك اسباب اضعفت مهنتي صيد الأسماك والغوص على اللؤلؤ منها:
1. تحول قسم كبير من العاملين في الصيد والغوص الى أعمال أكثر ربحاً.
 2. منافسة زراعة اللؤلؤ الصناعي في اليابان.

وقد قامت مملكة البحرين لرعاية الصيد والغوص:

1. تطوير ميناء المحرق لصيد الأسماك.
2. شجعت الصيادين على استعمال مراكب الصيد الحديثة والشباك.
3. الصيد بالحظور الثابتة.
4. تشجيع الغواصين ومساعدتهم.

نشاط الدرس (5) الثروة البحرية في مملكة البحرين

كفاية الدرس: تستنتج مصادر الثروة البحرية في البحرين وجهود الدولة في تنميتها.

★ السؤال الأول

◀ بم يتميز لؤلؤ البحرين ؟

.....

.....

★★ السؤال الثاني

◀ ماذا فعلت مملكة البحرين لرعاية مهنتي الصيد والغوص؟

.....

.....

.....

★★★ السؤال الثالث

◀ فسري أسباب ضعف مهنتي صيد الأسماك والغوص على اللؤلؤ.

.....

.....

الوصف	التعزيز	الدعم المقدم
<ul style="list-style-type: none">• عملك متقن• إجابتك منسقة• وظفت المطلوب منك بدقة• لديك أخطاء• لم تحققي المطلوب	<ol style="list-style-type: none">1- شكرا لجهودك الرائعة2- أقدر جهودك3- سعدت بمحاولاتك4- دائما للامام	<ul style="list-style-type: none">➤ ارجعي للكتاب للتصحيح ص➤ راجعي معلمتك لتصحيح الأخطاء➤ تدربي أكثر مستعن بالأنشطة التدريبية➤ استعيني بزميلك
التقدير : ممتازة	جيد جدا	جيد
		متوسط

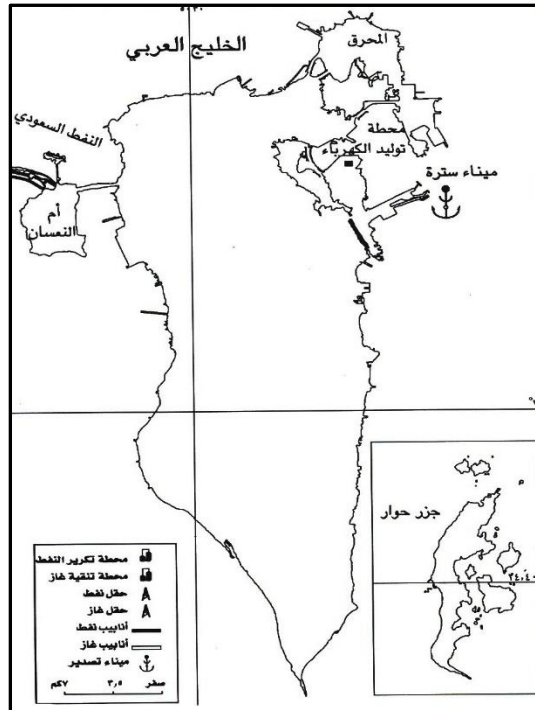
الدرس (6) النفط والغاز الطبيعي في مملكة البحرين

النفط والغاز الطبيعي:

- تم اكتشاف أول بئر نفط في مملكة البحرين عام 1932م في منطقة جبل الدخان.
- تمتلك مملكة البحرين ثروة كبيرة من الغاز الطبيعي.
- يتم استخدام الغاز الطبيعي في تشغيل محطات توليد الكهرباء ومصنع ألومنيوم.

دور النفط والغاز في حياة سكان مملكة البحرين:

- كانت عائدات النفط (الأموال الناتجة من بيع النفط) عاملاً أساسياً من عوامل نهضتنا الحديثة في مجالات : الصناعة ، الزراعة ، التجارة ، العمران ، والصحة والتعليم.
- أنشأت في سترة مصفاة لتكرير النفط الخام وهي من أكبر المصافي في دول الخليج العربية.
- يتم تصدير النفط المكرر من ميناء سترة الى أسواق النفط في العالم.



خريطة مملكة البحرين (النفط والغاز الطبيعي)

نشاط الدرس (6) النفط والغاز الطبيعي في مملكة البحرين

كفاية الدرس: تبين أثر اكتشاف النفط والغاز الطبيعي على حياة سكان البحرين.

★ السؤال الأول

اختر الإجابة الصحيحة من بين العبارات التالية بوضع إشارة ☒ أمام الصحيحة:

◀ أكتشف أول بئر للنفط في البحرين في:

☐ سترة ☐ جبل الدخان ☐ المحرق ☐ المنامة

◀ أكتشف أول بئر للنفط في البحرين سنة:

☐ 1922 م ☐ 1932 م ☐ 1942 م ☐ 1952 م

★★ السؤال الثاني

◀ سمي الميناء الذي يصدر منه النفط المكرر في البحرين إلى أسواق العالم.

◀ ماذا تستخدم البحرين لتشغيل محطات توليد الكهرباء ومصنع ألومنيوم؟

★★★ السؤال الثالث

◀ بيني أثر اكتشاف النفط والغاز الطبيعي على حياة سكان البحرين.

الوصف	التعزيز	الدعم المقدم
<ul style="list-style-type: none">• عملك متقن• إجابتك منسقة• وظفت المطلوب منك بدقة• لديك أخطاء• لم تحققي المطلوب	<ol style="list-style-type: none">1- شكرا لجهودك الرائعة2- أقدر جهودك3- سعدت بمحاولاتك4- دائما للامام	<ul style="list-style-type: none">➤ ارجعي للكتاب للتصحيح ص➤ راجعي معلمتك لتصحيح الأخطاء➤ تدريبي أكثر مستعن بالأنشطة التدريبية➤ استعيني بزميلك
➤ التقدير : ممتازة	جيد جدا	جيد
		متوسط

الدرس (7) الصناعة في مملكة البحرين

الصناعات والمناطق الصناعية:

تتنوع الصناعات في البحرين وتشمل:

1. **الصناعة الغذائية:** كتعليب التمور ، طحن الحبوب ، منتوجات الألبان ، الحلويات ، المرطبات.
2. **الصناعة الكيماوية:** كصناعة الأصباغ ، الأدوات البلاستيكية والورق ، صناعة مواد البناء والأثاث.

ومن الحرف القديمة في بلادنا:

- صناعة مراكب الصيد في المحرق والمنامة.
- صناعة الفخار في عالي.
- صناعة النسيج في بني جمرة.

أهم المناطق الصناعية في مملكة البحرين:

1. المنطقة الصناعية حول ميناء سلمان في المنامة.
2. المنطقة الصناعية في جزيرة سترة.
3. المنطقة الصناعية في جنوب مدينة الحد.

المصانع الكبرى في مملكة البحرين:

1. مصافي تكرير النفط وتسييل الغاز.
2. مصنع الألمنيوم.
3. مجمع البتروكيماويات لإنتاج الأسمدة الكيماوية.
4. الحوض الجاف لبناء السفن وإصلاحها.

نشاط الدرس (7) الصناعة في مملكة البحرين

كفاية الدرس: تحدد أنواع الصناعات وجهود الدولة في تطوير هذا المجال.

★ السؤال الأول

سمي أربعة أنواع من الصناعات الحديثة في البحرين.

.....(1)(2)

.....(3)(4)

★★ السؤال الثاني

أكملي الجدول التالي بكتابة الحرف القديمة في البحرين والمناطق التي تشتهر بها.

المناطق التي تشتهر بها	الحرف القديمة في البحرين

★★★ السؤال الثالث

أفسري سبب وضع حكومة مملكة البحرين خطة لتطوير الصناعة.

.....

الوصف	التعزيز	الدعم المقدم
• عملك متقن • إجابتك منسقة • وظفت المطلوب منك بدقة • لديك أخطاء • لم تحققي المطلوب	5- شكرا لجهودك الرائعة 6- أقدر جهودك 7- سعدت بمحاولاتك 8- دائما للامام	➤ ارجعي للكتاب للتصحيح ص
➤ التقدير : ممتازة	جيد جدا	جيد
		متوسط

الدرس (8) التجارة في مملكة البحرين

- **التجارة:** بفضل موقع البحرين الجغرافي تشهد البحرين نشاطاً تجارياً كبيراً.
- يصل البحرين يومياً الكثير من البضائع عن طريق : السفن ، البواخر ، الطائرات ، الشاحنات.
- ومن بلدان مختلفة مثل : اليابان ، ألمانيا ، مصر ، المملكة العربية السعودية.
- **الواردات:** وهي البضائع التي تشتري من الخارج مثل : الأدوات الكهربائية ، السيارات ، الأدوية ، الألبسة ، المواد الغذائية .
- وهذه السفن والطائرات تحمل معها من بلادنا بضائع يتم إنتاجها في البحرين مثل: النفط ، الألمنيوم ، التمور ، وهذه البضائع تسمى الصادرات.
- **الصادرات:** وهي البضائع التي تباع الى الخارج.
- مثل : النفط ، الألمنيوم ، التمور.
- **الترانزيت:** وهي البضائع التي تمر عبر مملكتنا الى بلدان أخرى.
- **المصارف ودورها في تنشيط التجارة:**
- نشأت المصارف في البحرين لتسهيل العمليات التجارية ، عن طريق تأمين الأموال.
- يوجد في البحرين عدد كبير من المصارف التي تخدم المواطن في البحرين ومنطقة الخليج العربي ، لهذا السبب أصبحت البحرين مركزاً مالياً مهماً.

نشاط الدرس (8) التجارة في مملكة البحرين

كفاية الدرس: تعلق اعتبار البحرين مركزاً مالياً مهماً.

★ السؤال الأول

صلي بخط بين العمود (أ) وما يناسبه من العمود (ب):

العمود (أ)	العمود (ب)
الواردات	كل المنتجات والبضائع التي تباع إلى الخارج.
الصادرات	كل المنتجات والبضائع التي تشتري من الخارج.
الترانزيت	التجارة العابرة. وهي عملية عبور البضائع من بلد لبلد آخر.

★★ السؤال الثاني

◀ صنف ما يلي في الجدول أدناه.

(نفط مكرر / سيارات / أدوية / ألمنيوم / تمور / أدوات كهربائية)

واردات	صادرات

★★★ السؤال الثالث

◀ لماذا أصبحت البحرين مركزاً مالياً مهماً؟

.....

الوصف	التعزيز	الدعم المقدم
<ul style="list-style-type: none"> • عملك متقن • إجابتك منسقة • وظفت المطلوب منك بدقة • لديك أخطاء • لم تحقق المطلوب 	<ol style="list-style-type: none"> 1- شكرا لجهودك الرائعة 2- أقدر جهودك 3- سعدت بمحاولاتك 4- دائما للامام 	<ul style="list-style-type: none"> ➤ ارجعي للكتاب للتصحيح ص ➤ ارجعي معلمتك لتصحيح الأخطاء ➤ تدريبي أكثر مستعن بالأنشطة التدريبية ➤ استعيني بزميلك
➤ التقدير : ممتازة	جيد جدا	جيد متوسط

الدرس (9) المواصلات والاتصالات في مملكة البحرين

■ يوجد في البحرين شبكة مواصلات.

مواصلات برية	مواصلات بحرية	مواصلات جوية
السيارات ، الباصات ، الشاحنات . (الطرق المعبدة)	السفن. (ميناء سلمان في المنامة)	الطائرات. (مطار البحرين الدولي)

أهم الجسور الداخلية في البحرين:

- 1- جسر الشيخ حمد ، جسر الشيخ عيسى ، جسر الشيخ خليفة (يربط المحرق بالمنامة).
- 2- جسر سترة (يربط جزيرة سترة بالمنامة).
- 3-

■ شبكة الاتصالات:

- 1- البريد.
- 2- الهاتف.
- 3- الفاكس.
- 4- التلكس.
- 5- الإنترنت.

■ أهمية الأقمار الصناعية:

- 1- تؤمن اتصال سريع بالخارج.
- 2- تنقل برامج تلفزيونية من أنحاء العالم.

نشاط الدرس (9) المواصلات والاتصالات في مملكة البحرين

كفاية الدرس: تبين أنواع المواصلات والاتصالات في مملكة البحرين.

★ السؤال الأول

1- سمي المواصلات التي يستعملها سكان البحرين للذهاب الى أعمالهم؟

(1)

(2)

★★ السؤال الثاني

◀ ترتبط البحرين بالعالم عبر شبكة اتصالات متطورة، تتنوع فيها وسائل الاتصال. أذكرني أربعة فقط من وسائل الاتصال المستخدمة في البحرين.

(1)

(2)

(3)

(4)

★★★ السؤال الثالث

◀ فصري سبب إنشاء شبكة الطرق والجسور في البحرين.

الوصف	التعزيز	الدعم المقدم
<ul style="list-style-type: none">• عملك متقن• إجابتك منسقة• وظفت المطلوب منك بدقة• لديك أخطاء• لم تحقق المطلوب	<ul style="list-style-type: none">5- شكرا لجهودك الرائعة6- أقدر جهودك7- سعدت بمحاولاتك8- دائما للامام	<ul style="list-style-type: none">➤ ارجعي للكتاب للتصحيح ص➤ راجعي معلمتك لتصحيح الأخطاء➤ تدريبي أكثر مستعن بالأنشطة التدريبية➤ استعيني بزميلتك
➤ التقدير : ممتازة	جيد جدا	جيد
		متوسط

الدرس (10) السياحة في مملكة البحرين

• المعالم السياحية في البحرين نوعان:

معالم أثرية	معالم طبيعية
<ul style="list-style-type: none">• مدافن عالي وسار.• مسجد الخميس.• بيت الشيخ عيسى بن علي آل خليفة	<ul style="list-style-type: none">• جزر متنوعة• شواطئ متنوعة

• المرافق التي تساعد على تنشيط السياحة:

أ- الفنادق الفخمة ب- المطاعم المتنوعة ج- المسابح

• الأعمال التي قامت بها مملكة البحرين لتنشيط السياحة:

- 1- أقامت المتاحف كمتحف البحرين الوطني ومركز التراث.
- 2- أنشأت كلية الخليج للضيافة والسياحة.
- 3- نظمت المهرجانات السياحية.
- 4- أنشأت المنتزهات (منتزه عين عذاري- عين قصاري- الحديقة المائية – بلاج الجزائر).
- 5- أقامت شبكة مواصلات واتصالات تربط البلاد بالعالم.

• كما يساعد جسر الملك فهد على تنشيط السياحة وتسهيل وصول السياح الى مملكتنا.

نشاط الدرس (10) : السياحة في مملكة البحرين

كفاية الدرس: تحدد المعالم السياحية في مملكة البحرين.

★ السؤال الأول

◀ تتنوع معالم البحرين السياحية، فمنها ما يرتبط بطبيعتها، ومنها ما يرتبط بتاريخها العريق.
سمّي أربعة فقط من المعالم السياحية التي تشتهر بها مملكة البحرين.

(1) (2)

(3) (4)

★★ السؤال الثاني

◀ ما الأعمال التي قامت بها حكومة مملكة البحرين لتنشيط السياحة؟

.....
.....
.....

★★★ السؤال الثالث

◀ مستعينة بشبكة الإنترنت اكتب فقرة عن أي معلم سياحي أثري في مملكة البحرين ، كقلعة البحرين ، أو مسجد الخميس ، أو معابد باربار ، أو مدافن عالي وغيرها.

.....
.....
.....

الوصف	التعزيز	الدعم المقدم
<ul style="list-style-type: none">• عملك متقن• إجابتك منسقة• وظفت المطلوب منك بدقة• لديك أخطاء• لم تحقق المطلوب	<ul style="list-style-type: none">■ شكرا لجهودك الرائعة■ أقدر جهودك■ سعدت بمحاولاتك■	<ul style="list-style-type: none">➤ ارجع للكتاب لتصحيح ص➤ راجع معلمتك لتصحيح الأخطاء➤ تدرب أكثر مستعن بالأنشطة التدريبية➤ استعن بزميلك
➤ التقدير : ممتاز	جيد جدا	جيد
		متوسط

الدرس (11) سكان مملكة البحرين

- أسباب تجمع سكان البحرين في المناطق الشمالية:

- 1- لأنها غنية بالمياه العذبة.
- 2- لأن تربتها صالحة للزراعة.

- أسباب خلو المناطق الجنوبية من السكان:

- 1- افتقارها للمياه العذبة.
- 2- افتقارها للتربة الصالحة للزراعة.

- يقيم حوالي $\frac{3}{4}$ سكان البحرين في المدن ويتوزع الربع الباقي في القرى.
- يتجمع حوالي نصف السكان في مدينتي المنامة والمحرق.
- ساعد اكتشاف النفط على ازدهار البحرين ، فتطور العمران وتوسعت المدن والقرى (اتصلت المدن ببعضها مثل مدينتي المنامة وجدحفص – أصبحت بعض القرى مدن مثل الرفاع).
- أنشأت مدينتي عيسى وحمد لسد الحاجات الناتجة عن ازدياد السكان.

- أسباب الزيادة السكانية التي شهدتها مملكة البحرين:

- 1- الإزدهار الذي شهدته البلاد.
- 2- النهضة الكبرى وخصوصاً في مجال الطب والعناية الصحية.
- 3- قلة الوفيات وازدياد عدد المواليد.

نشاط الدرس (11) : سكان مملكة البحرين

كفاية الدرس: تفسر نمو السكان في مملكة البحرين وتوزيعهم.

★ السؤال الأول

اختراري الإجابة الصحيحة من بين العبارات التالية بوضع إشارة ☒ أمام الصحيحة:

◀ يتجمع معظم السكان في البحرين في:

- ☐ المناطق الجنوبية
- ☐ المناطق الشمالية
- ☐ المناطق الجنوبية الشرقية
- ☐ المناطق الجنوبية الغربية

★★ السؤال الثاني

◀ لماذا يتجمع معظم سكان البحرين في المناطق الشمالية؟

.....

.....

★★★ السؤال الثالث

◀ فسري أسباب الزيادة السكانية التي شهدتها البحرين.

.....

.....

.....

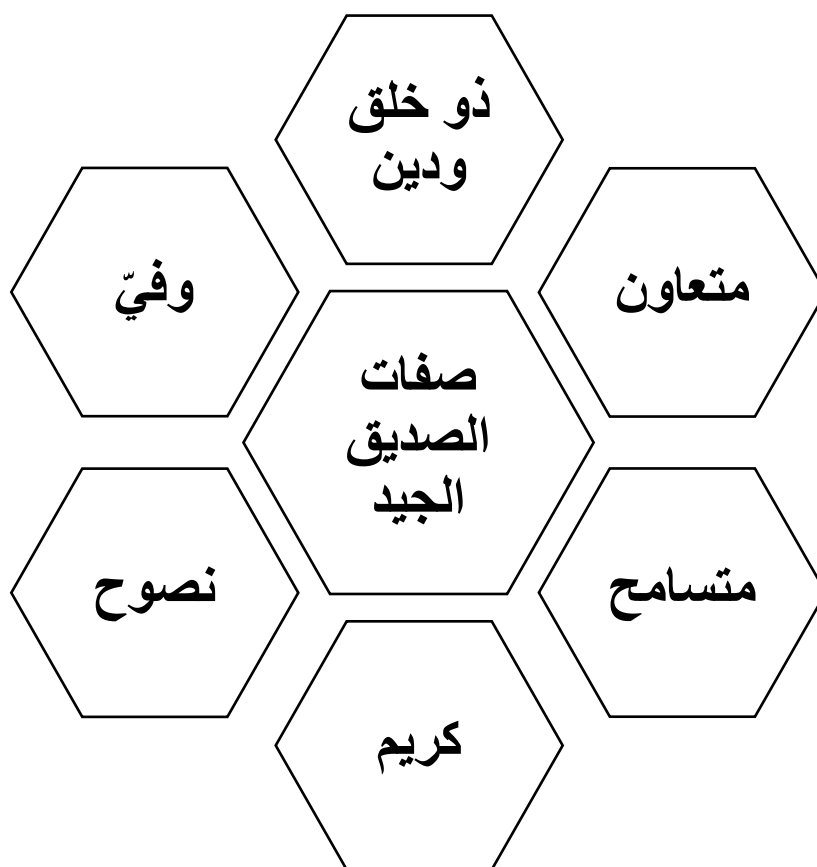
الوصف	التعزيز	الدعم المقدم
<ul style="list-style-type: none">• عملك متقن• إجابتك منسقة• وظفت المطلوب منك بدقة• لديك أخطاء• لم تحقق المطلوب	<ul style="list-style-type: none">▪ شكرا لجهودك الرائعة▪ أقدر جهودك▪ سعدت بمحاولاتك▪ دائما للامام	<ul style="list-style-type: none">➤ ارجعي للكتاب للتصحيح ص➤ راجعي معلمتك لتصحيح الأخطاء➤ تدريبي أكثر مستعن بالأنشطة التدريبية➤ استعيني بزميلك
➤ التقدير : ممتازة	جيد جدا	متوسط

التربية للمواطنة



الدرس (1) جماعة الأصدقاء

- من هم الأصدقاء؟
هم الأشخاص الذين تربطنا بهم في المدرسة أو المجتمع علاقة اجتماعية وثيقة ، تقوم على مشاعر الحب والاحترام ، ويشاركوننا أفراح الحياة وأحزانها.
- ما معنى الصداقة؟
علاقة انسانية بين شخصين أو أكثر لا ينتميان إلى نفس الأسرة.
- خصائص الصداقة:
المحبة / التناصح بين الصديقين / تقارب العمر بينهما في معظم الحالات.
- صفات الصديق الجيد:



آداب الصداقة:

1. أن تكون الصداقة في الله عزّ وجل ، وليس لمصلحة شخصية.
2. أن ينصح الصديق صديقه برفق ولين.
3. أن يزوره ويسأل عنه إذا غاب.
4. أن يشاركه أفراحه وأحزانه.

• أنواع الصداقة:

- **الأصدقاء المخلصون:** هم الذين يقفون إلى جانبك في أوقات الشدة والرخاء، ويتعاونون معك في إنجاز أعمالك مثل : (جماعة أصدقاء البيئة / جماعة أصدقاء المكتبة).
- **أصدقاء السوء:** وهم الذين لا يليق للإنسان الإلتقاء إليهم مثل : (الشباب المنحرفين في سلوكهم وتصرفاتهم / الذين يمارسون أعمالاً مخلة بالآداب / الذين يسيئون للوطن).

• أمثلة على أنواع الصداقات:

- **الصداقة الحقة مثل :** (التعاون / حفظ الأسرار / الوقوف مع الصديق وقت الشدة).
- **الصداقة الزائفة مثل :** (تكسير الطاولات / الكذب / المشاجرة).

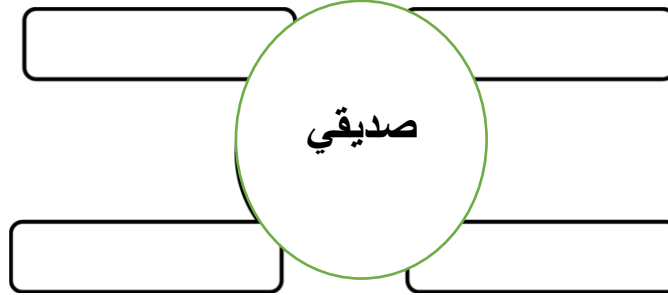


نشاط الدرس (1) : جماعة الأصدقاء.

كفاية الدرس: تميز بين أنواع الصداقة المختلفة.

★ السؤال الأول

أكملي الشكل التالي بكتابة صفات الصديق الجيد:



★★ السؤال الثاني

أذكرني اثنين فقط من آداب الصداقة التي يجب مراعاتها.

★★★ السؤال الثالث

ميزي بين الأصدقاء المخلصين وأصدقاء السوء.

الوصف	التعزيز	الدعم المقدم
• عملك متقن	▪ شكرا لجهودك الرائعة	➤ ارجعي للكتاب للتصحيح ص
• إجابتك منسقة	▪ أقدر جهودك	➤ راجعي معلمتك لتصحيح الأخطاء
• وظفت المطلوب منك بدقة	▪ سعدت بمحاولاتك	➤ تدريبي أكثر مستعن بالأنشطة التدريبية
• لديك أخطاء	▪ دائما للامام	➤ استعيني بزميلك
• لم تحقق المطلوب		
➤ التقدير : ممتازة	جيد جدا	جيد
		متوسط



الدرس (2) القيادة السياسية

- القيادة السياسية في مملكة البحرين: تتمثل في جلالة الملك حمد بن عيسى آل خليفة و ولي العهد الأمير سلمان بن حمد آل خليفة و رئيس الوزراء الأمير خليفة بن سلمان آل خليفة.
- ولد الملك حمد في: مدينة الرفاع في يوم 28 يناير 1950م.
- التحق الملك حمد بالدراسة الابتدائية: وهو في السادسة من عمره.
- تم الإعلان عن تولي الملك حمد بن عيسى كوليأ للعهد : في عام 1964م.
- التحق الملك حمد بن عيسى بالدراسة الثانوية: في مدرسة ليز.
- تخرج الملك حمد بن عيسى من : كلية مونز العسكرية للضباط بإنجلترا في 16 فبراير 1968م و عند عودته وضع خطة لإنشاء قوة دفاع البحرين.
- تولى الملك حمد حكم مملكة البحرين: بعد وفاة والده الشيخ عيسى بن سلمان آل خليفة.
- تولى الملك حمد حكم مملكة البحرين: في 6 مارس 1999م
- تولى الملك حمد حكم مملكة البحرين: وهو في 49 من عمره.

➤ ما نوع الحكم في مملكة البحرين؟

نوع الحكم في مملكة البحرين (ملكي وراثي دستوري).

➤ كيف ينتقل الحكم بين أبناء الحاكم في مملكة البحرين؟
بالوراثة

➤ ما المهام التي يقدمها جلالة الملك لوطنه؟

- 1- يرأس المملكة.
- 2- الحامي الأمين.
- 3- يحمي شرعية الحكم.
- 4- يرفع حقوق الأفراد ومصالحهم.

نشاط الدرس (2) : القيادة السياسية

كفاية الدرس: تتعرف القيادة السياسية في مملكة البحرين (الملك / ولي العهد / رئيس الوزراء) ودور كل منهم وتمثله.

حكم مملكة البحرين ملكي دستوري وراثي ، وقد تم إنتقاله من المغفور له الشيخ عيسى بن سلمان إلى ابنه الأكبر حمد بن عيسى ملك البلاد ، وينتقل من بعده إلى أكبر أبناءه.

دستور مملكة البحرين ، جريدة الأيام العدد 4371 ،

15 فبراير 2002/ص11

السؤال الأول: اقرئي النص واجب عن الأسئلة التالية:

1- ما نوع الحكم في مملكة البحرين؟

2- ما المقصود بكلمة (حكم وراثي)؟

3- من تولى حكم مملكة البحرين بعد وفاة المغفور له الشيخ عيسى بن سلمان آل خليفة؟

السؤال الثاني: أمامك مراحل تاريخية هامة من حياة صاحب الجلالة الملك حمد بن عيسى آل خليفة . أمثل تلك المراحل على الخط الزمني بالترتيب.

1950 : ميلاد صاحب الجلالة الملك حمد بن عيسى آل خليفة.

1999 : تولي صاحب الجلالة الملك حمد مقاليد الحكم.

1964 : تنصيب صاحب الجلالة الملك حمد ولياً للعهد.

1968 : إنشاء قوة دفاع البحرين.

--	--	--	--

السؤال الثالث: سمّي القيادة السياسية لمملكة البحرين وما تمثله. مستعينا بأسماء الشخصيات بين الأقواس.

(سلمان بن حمد بن عيسى آل خليفة / حمد بن عيسى آل خليفة / خليفة بن سلمان آل خليفة)

[ملك البحرين] :

[ولي العهد] :

[رئيس الوزراء] :

الدرس (3) مصادر دخل الأسرة وتعاملاتها اليومية

- الوظائف تنقسم الى :
 - 1- وظائف حكومية مثل: (العمل في احدى الوزارات)
 - معلم . -رجل أمن.- طبيب . -جندي.- مدير مدرسة
 - 2- وظائف القطاع الخاص: (العمل في المؤسسات والشركات أو أعمال حرة)
 - مدير بنك.
 - محاسب.
 - أعمال حرة مثل(فلاح ، خياط ، نجار).
- ما الهدف من العمل؟
 - 1- توفير دخل ثابت للأسرة.
 - 2- تأمين مستقبل العيش بكرامة.
- علل: فائدة العمل بالنسبة:
 - 1- للأسرة: تؤمن المال والحياة الكريمة.
 - 2- للوطن: تساهم في بناء المجتمع ورفي الوطن.
- ما هي مصروفات الأسرة؟ (خدمات توفرها الأسرة لأفرادها):
 1. غذاء 2. ملابس 3. كهرباء وماء 4. علاج 5. السكن
- ❖ علل: لا بد من وضع جدول لهذه المصروفات بحسب الأولويات.
حتى تقلل من صرف المال.
- ❖ ما الأعمال التي تقوم بها الأسرة لزيادة (الدخل):
 - 1- تقوم الأسرة بعمل مشاريع صغيرة.
 - 2- تشارك الأسرة بمنتجاتها في المعارض.
- المشاريع الصغيرة مثل: بيع بعض المأكولات مثل: الذرة والسمبوسة – بيع المتلجات – نسخ اشربة الكمبيوتر وبيعها – اصطياد الأسماك وبيعها – غسل السيارات – عمل البهارات والمخللات وغيرها من الأعمال البسيطة).

نشاط الدرس (3) : مصادر دخل الأسرة وتعاملاتها اليومية

كفاية الدرس: يتعرف مصادر الدخل في الأسرة، والأعمال والمهن التي يمارسها أفرادها.

س1/ ضعي علامة (✓) أمام العبارة الصحيحة وعلامة (x) أمام العبارة الخاطئة فيما يأتي:

- 1- تقل مصروفات الأسرة ويزيد دخلها بتحديد الأولويات في المصروفات () .
- 2- تحدد الدولة نوعية العمل الذي يختاره كل مواطن () .
- 3- يعتبر الدستور العمل واجب على كل مواطن () .
- 4- توفر الدولة فرص عمل للمواطنين () .
- 5- العمل يوفر دخل ثابت للأسرة ويجعلها تعيش بكرامة () .

س2/ صنفی الوظائف والمهن التالية حسب نوعها:

(موظف في بنك – شرطي مرور – موظف في شركة – مزارع – موظف في الجمارك – محامي – صياد- رجل أمن – طبيب في مستشفى خاص)

وظائف في القطاع الحكومي	وظائف في القطاع الخاص	مهن حرة

س3/ اذكر اربع خدمات توفرها الأسرة لأفرادها؟

- 1- _____
- 2- _____
- 3- _____
- 4- _____

س4/ بيني فائدة العمل بالنسبة للأسرة والوطن؟

بالنسبة للأسرة: _____

بالنسبة للوطن: _____

س5/ ضعي الكلمات الآتية في مكانها الصحيح:
(الفلاح – الكهربائي – الطبيب – الشرطي)

- 1- الشخص الذي يقوم بزراعة وحرث الأرض هو ----- .
- 2- الشخص الذي يقوم بإصلاح الأجهزة الكهربائية والمعدات عندما تتعطل هو ----- .
- 3- الشخص الذي يقوم بمعالجة المرضى هو----- .
- 4- الشخص الذي يقوم بالحفاظ على الأمن بين الناس هو ----- .

س6/ اكتبى رقم المهنة من العمود (ب) أمام المهمة التي تناسبها من العمود (أ) :

(أ)	رقم الإجابة	(ب)
يخطط الأراضي والبيوت		1- الطبيب
يعالج المرضى		2- المعلم
يعلم أبناء الوطن		3- المزارع
يزرع الأرض		4- المهندس

الوصف	التعزيز	الدعم المقدم
<ul style="list-style-type: none"> • عملك متقن • إجابتك منسقة • وظفت المطلوب منك بدقة • لديك أخطاء • لم تحققى المطلوب 	<ul style="list-style-type: none"> ▪ شكرا لجهودك الرائعة ▪ أقدر جهودك ▪ سعدت بمحاولاتك ▪ دائما للامام 	<ul style="list-style-type: none"> ➤ ارجعي للكتاب لتصحيح ص ➤ راجعي معلمتك لتصحيح الأخطاء ➤ تدربي أكثر مستعين بالأنشطة التدريبية ➤ استعيني بزميلك
➤ التقدير : ممتازة	جيد جدا	جيد
		متوسط

الدرس (4+5) مجلس التعاون لدول الخليج العربية: (السمات المشتركة – الأهداف والإنجازات)

• دول مجلس التعاون لدول الخليج العربية:

الدولة	العاصمة	الحاكم
البحرين	المنامة	الملك حمد بن عيسى آل خليفة
السعودية	الرياض	الملك عبدالله بن عبد العزيز آل سعود
الكويت	الكويت	الشيخ صباح الأحمد الصباح
الإمارات	أبو ظبي	الشيخ خليفة بن زايد آل نهيان
عمان	مسقط	السلطان قابوس بن سعيد آل سعيد
قطر	الدوحة	الشيخ تميم بن حمد بن خليفة آل ثاني

• الروابط والسمات المشتركة بين دول مجلس التعاون:

أولاً: السمات البشرية:

- 1- الدين الإسلامي.
- 2- اللغة العربية.
- 3- العادات والتقاليد.
- 4- التاريخ المشترك.
- 5- المصير الواحد.

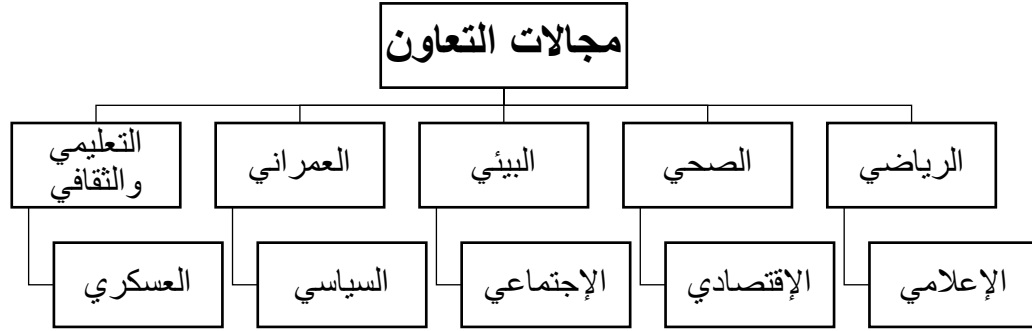
ثانياً: السمات الطبيعية:

- 1- الموقع الجغرافي.
- 2- وحدة الأرض.
- 3- الثروات الطبيعية (النفط والغاز).
- 4- الظروف الطبيعية المتشابهة (المناخ - السطح - النباتات والثروة المائية).



قادة دول مجلس التعاون

- متى تأسس مجلس التعاون الخليجي؟
عام 1981م.
- أين يقع المقر الرئيسي لمجلس التعاون لدول الخليج العربية؟
في مدينة الرياض في السعودية.
- أين انعقد أول مؤتمر لدول مجلس التعاون؟
في مدينة أبوظبي في الإمارات.
- عدد ي أهم أهداف مجلس التعاون لدول الخليج العربية:
 - 1- تحقيق الترابط والتكامل بين دول مجلس التعاون.
 - 2- وضع أنظمة متشابهة في جميع المجالات (التجارية – الصناعية – الرياضية)
 - 3- توثيق الروابط بين الشعوب.
 - 4- تطوير وتعزيز خطوات البحث العلمي.
 - 5- دفع عجلة التقدم العلمي والتقني.
- اذكر المجالات التي تتعاون فيها دول مجلس التعاون:



• إنجازات دول مجلس التعاون الخليجي:

- 1- معاملة مواطني دول المجلس نفس المعاملة في المستشفيات.
- 2- توحيد مواقف دول المجلس.
- 3- المساواة في معاملة الطلاب بين دول المجلس.
- 4- إنشاء جهاز الشرطة الخليجية.
- 5- توحيد العديد من الأنظمة والقوانين.
- 6- تأسيس السوق الخليجية المشتركة.

الآثار الإيجابية على المواطن الخليجي:

- التسهيلات الإقتصادية –
- الترابط الإجتماعي – سهولة
- التنقل بين دول مجلس التعاون
- أمن المواطن واستقراره.

نشاط الدرس 4+5 : السمات المشتركة بين دول مجلس التعاون لدول الخليج

كفاية الدرس: يتعرف السمات المشتركة بين دول مجلس التعاون الخليجي وأهدافه.

★ السؤال الأول

اختراري الإجابة الصحيحة من بين العبارات التالية بوضع إشارة ☒ أمام الصحيحة:

◀ تأسس مجلس التعاون الخليجي في عام 1981م ويقع مقره في مدينة:

☐ المنامة ☐ الرياض ☐ الدوحة ☐ الكويت

★★ السؤال الثاني

سمي دول مجلس التعاون الخليجي؟

(1) (2) (3)

(4) (5) (6)

★★★ السؤال الثالث

صنفي السمات البشرية والطبيعية المشتركة بين دول مجلس التعاون الخليجي في الجدول أدناه.

[الموقع الجغرافي المتميز / الدين الإسلامي / اللغة العربية / وحدة الأرض / التاريخ المشترك /

العادات والتقاليد / الظروف الطبيعية المتشابهة كالمناخ / الثروات الطبيعية المتشابهة كالنفط / المصير الواحد]

السمات الطبيعية المشتركة بين دول مجلس التعاون الخليجي	السمات البشرية المشتركة بين دول مجلس التعاون الخليجي

الوصف	التعزيز	الدعم المقدم
• عملك متقن	▪ شكرا لجهودك الرائعة	➤ ارجعي للكتاب للتصحيح ص
• إجابتك منسقة	▪ أقدر جهودك	➤ راجعي معلمتك لتصحيح الأخطاء
• وظفت المطلوب منك بدقة	▪ سعدت بمحاولاتك	➤ تدريبي أكثر مستعن بالأنشطة التدريبية
• لديك أخطاء	▪ دانما للامام	➤ استعيني بزميلك
• لم تحقق المطلوب		
➤ التقدير : ممتازة	جيد جدا	جيد
		متوسط

نشاط الدرس 4 + 5: مجلس التعاون لدول الخليج العربية: الأهداف والإنجازات

كفاية الدرس: تتعرف السمات المشتركة بين دول مجلس التعاون الخليجي وأهدافه.

★ السؤال الأول

تتعاون دول مجلس التعاون الخليجي في العديد من المجالات. أذكر هذه المجالات.

(1) (2) (3)

(4) (5) (6)

★★ السؤال الثاني

◀ ما أهداف مجلس التعاون لدول الخليج العربية ؟

(1)

(2)

★★★ السؤال الثالث

◀ ما الفوائد التي نجحت في تحقيقها دول الخليج العربية بفضل تعاونها ؟

.....
.....

الوصف	التعزيز	الدعم المقدم
• عملك متقن	▪ شكرا لجهودك الرائعة	➤ ارجعي للكتاب للتصحيح ص
• إجابتك منسقة	▪ أقدر جهودك	➤ راجعي معلمتك لتصحيح الأخطاء
• وظفت المطلوب منك بدقة	▪ سعدت بمحاولاتك	➤ تدريبي أكثر مستعن بالأنشطة التدريبية
• لديك أخطاء	▪ دائما للامام	➤ استعيني بزميلك
• لم تحقق المطلوب		
➤ التقدير : ممتازة	جيد جدا	جيد
		متوسط

لوحة النجوم

