

تم تحميل هذا الملف من موقع المناهج البحرينية



مراجعة الاختبار الثاني

موقع المناهج ← المناهج البحرينية ← الصف الرابع ← رياضيات ← الفصل الثاني ← اختبارات ← الملف

تاريخ إضافة الملف على موقع المناهج: 19:49:20 2025-03-09

ملفات اكتب للمعلم اكتب للطالب | اختبارات الكترونية | اختبارات | حلول | عروض بوربوينت | أوراق عمل
منهج انجليزي | ملخصات وتقارير | مذكرات وبنوك | الامتحان النهائي للمدرس

المزيد من مادة
رياضيات:

التواصل الاجتماعي بحسب الصف الرابع



صفحة المناهج
البحرينية على
فيسبوك

الرياضيات

اللغة الانجليزية

اللغة العربية

التربية الاسلامية

المواد على تلغرام

المزيد من الملفات بحسب الصف الرابع والمادة رياضيات في الفصل الثاني

نموذج الإجابة لاختبار الرياضيات

1

ملف الرياضيات للصف الرابع

2

مذكرة الرياضيات

3

شرح درس الأشكال الثلاثية الأبعاد

4

مراجعة الاختبار الأول في الرياضيات

5

مراجعة الاختبار الثاني - الفصل الدراسي الثاني في مادة:

الرياضيات

للمصف الرابع الابتدائي



اسم الطالبة:

المصف: الرابع /

ملاحظة: هذه المراجعة لا تغنيك عن الكتاب المدرسي.

مديرة المدرسة:

أميرة جاسم الخدري
0



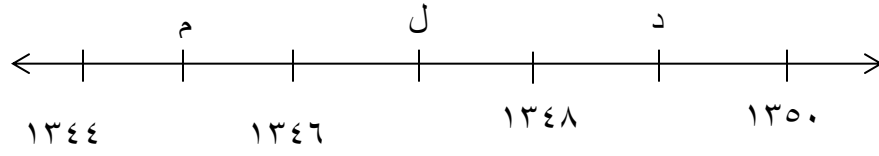
المديرة المساعدة:

شريفة سليس

اعداد:

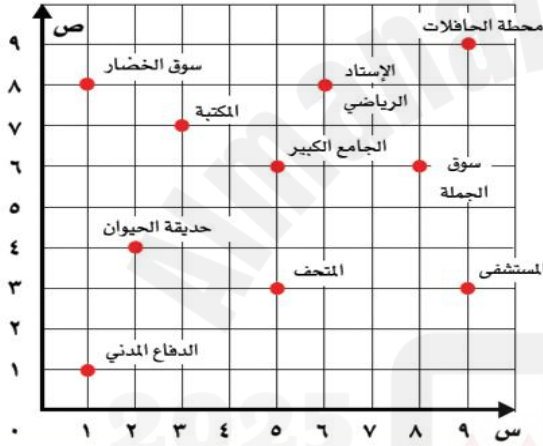
أ.الاء محمد أحمد

ما العدد الذي يمثله كل حرف على خط الأعداد؟



ل: م: د:

سم الموقع الذي يمثله كل زوج مرتب في كل مما يأتي؟

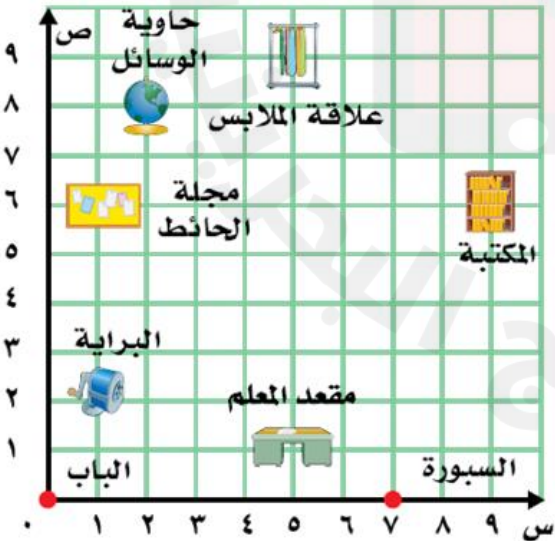


١. (٩, ٩)

٢. (٦, ٥)

٣. (٤, ٢)

حدد الزوج المرتب لكل من الأشياء التالية:

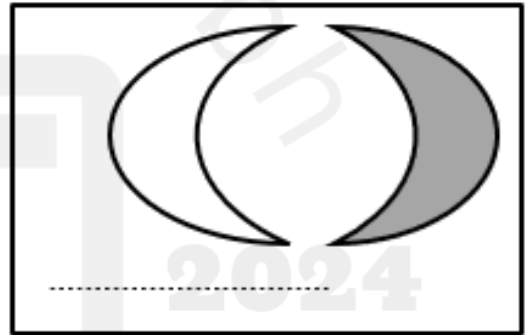
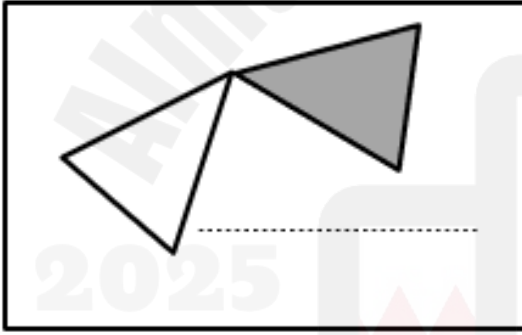
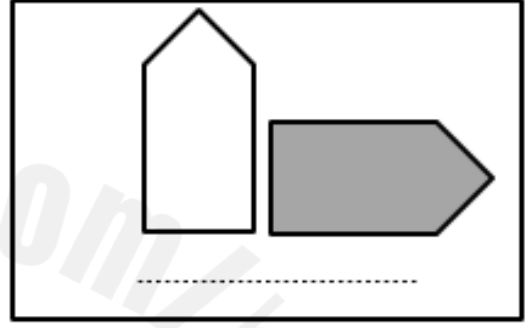

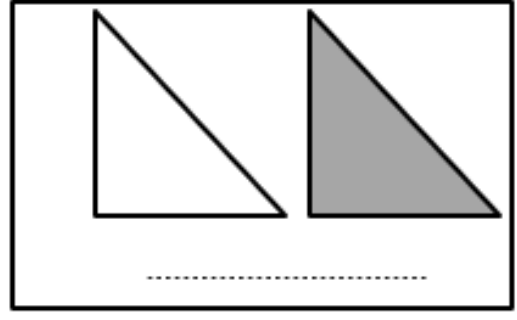
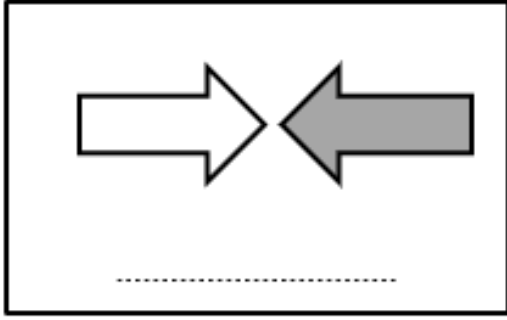


١. مقعد المعلم

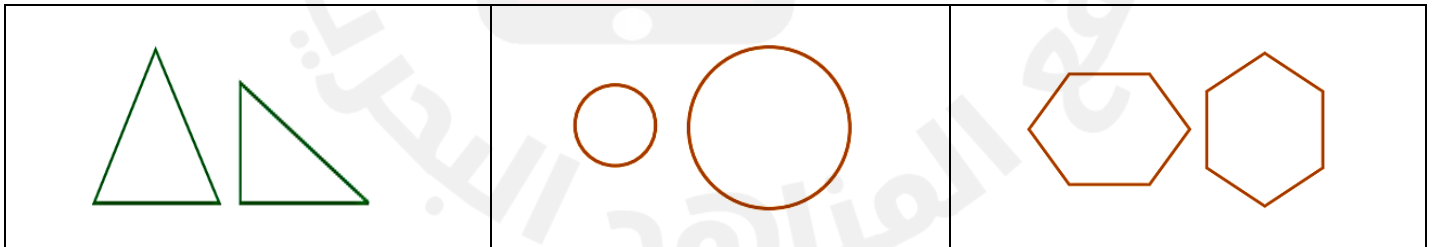
٢. علاقة الملابس

٣. حاوية الوسائل

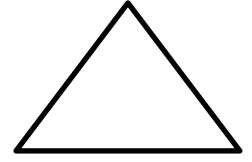
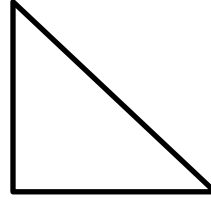
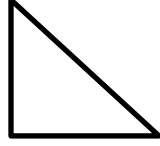
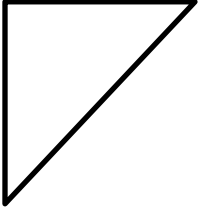
❖ حدد نوع التحويل الهندسي فيما يأتي :



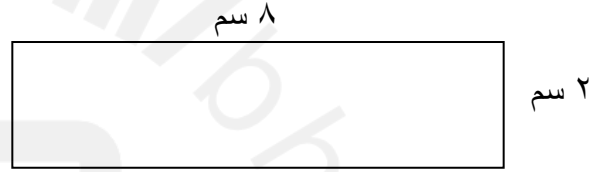

حدد الشكلين المتطابقين فيما يأتي ثم اذكر نوع التحويل إذا كانا متطابقين:



حوط الأشكال المتطابقة:

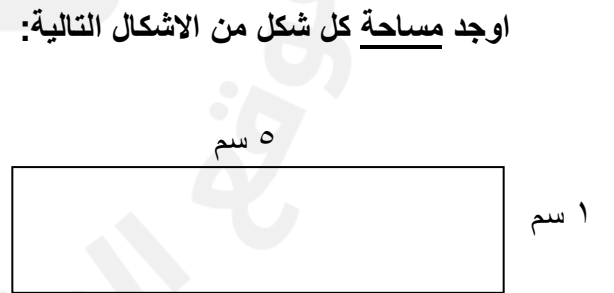


اوجد محيط كل شكل من الاشكال التاليه:



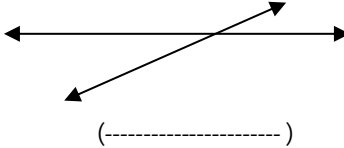





2025

2024






اوجد مساحة كل شكل من الاشكال التاليه:

صنف العبارات الآتية حسب الجدول أدناه:

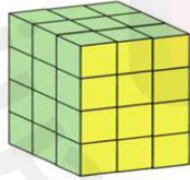
مفردات هندسية		
النقطة – المستقيم – الشعاع – القطعة المستقيمة – المستقيمان المتقاطعان – المستقيمان المتعامدان – المستقيمان المتوازيان		
بين نوع كل شكل فيما يأتي ، ثم عبر عنه بالرموز :		
 (.....)	 (.....)	 (.....)
 (.....)	 (.....)	 (.....)

أرسم محاور التماثل للأشكال التالية:



اختار التقدير الأفضل:

- (١) ما أفضل تقدير لطول الباب؟
أ) ٣ كم
ب) ٣ ملم
ج) ٣ م
- (٢) ما أفضل تقدير لطول رف الكتب؟
أ) ٣ سم
ب) ٣ ملم
ج) ٣ م
- (٣) ما أفضل تقدير لسعة علبة الحليب؟
أ) ٢ ل
ب) ٢ مل
- (٤) ما أفضل تقدير لسعة القطار؟
أ) ١ ل
ب) ١ مل
- (٥) ما أفضل تقدير لكتلة الحصان؟
أ) ٥٥٠ جم
ب) ٥٥٠ كجم
- (٦) ما أفضل تقدير لكتلة قلم الرصاص؟
أ) ٣ جم
ب) ٣ كجم
- (٧) ما طول الفترة الزمنية من الساعة ١٥ : ٤ مساءً وحتى الساعة ٣٠ : ٥ مساءً؟
أ) ساعة واحدة
ب) ساعة و ١٥ دقيقة
ج) ساعة و ٣٠ دقيقة
- (٨) حجم المجسم الآتي هو:



- ٣٦ وحدة مكعبة
○ ٤٥ وحدة مكعبة
○ ٥٤ وحدة مكعبة