

تم تحميل هذا الملف من موقع المناهج البحرينية



حل الوقفة التقويمية الثانية


موقع المناهج ← المناهج البحرينية ← الصف الرابع ← رياضيات ← الفصل الأول ← حلول ← الملف

تاريخ إضافة الملف على موقع المناهج: 01:30:38 2025-01-07

ملفات اكتب للمعلم اكتب للطالب الاختبارات الكترونية | اختبارات | حلول | عروض بوربوينت | أوراق عمل
منهج انجليزي | ملخصات و تقارير | مذكرات و بنوك | الامتحان النهائي للمدرس

المزيد من مادة
رياضيات:

التواصل الاجتماعي بحسب الصف الرابع



صفحة المناهج
البحرينية على
فيسبوك

الرياضيات

اللغة الانجليزية

اللغة العربية

التربية الاسلامية

المواد على تلغرام

المزيد من الملفات بحسب الصف الرابع والمادة رياضيات في الفصل الأول

مراجعة ضرب عدد مكون من رقمين في عدد مكون من رقم واحد مع إعادة التعيين

1

مراجعة الضرب في أعداد كبيرة

2

مراجعة الضرب مع وجود الأصفار

3

العنوان ومراجعة وحدة الضرب في عدد مكون من رقم واحد وعدد مكون من رقمين

4

مراجعة الاختبار الثالث

5



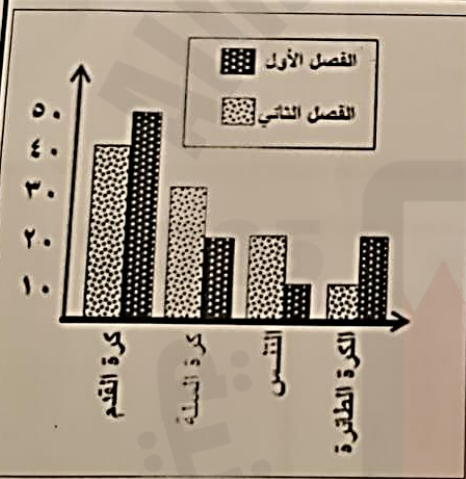
مراجعة الوقفة الثانية لمادة الرياضيات للصف الرابع الابتدائي - الفصل الأول ٢٠٢٤ / ٢٠٢٥ م

ينتج مصنع ١٠٠ كرة كل يوم ، كم كرة ينتج المصنع في ٧ أيام؟ **٧٠٠**

الأيام	١	٢	٣	٤	٥	٦	٧
عدد القصص	١٠٠	٢٠٠	٣٠٠	٤٠٠	٥٠٠	٦٠٠	٧٠٠

يقرأ علي ١٠٠ صفحة في اليوم ، فكم يوما سيحتاج لقراءة ٨٠٠ صفحة؟

الأيام	١	٢	٣	٤	٥	٦	٧	٨
عدد القصص	١٠٠	٢٠٠	٣٠٠	٤٠٠	٥٠٠	٦٠٠	٧٠٠	٨٠٠



• أكثر الألعاب تفضيلاً في الفصل الأول:

كرة القدم

• أقل الألعاب تفضيلاً في الفصل الثاني:

كرة الطاولة

• أي الفصلين أكثر تفضيلاً للعبة التنس:

الثاني

• قل الألعاب تفضيلاً في الفصل الأول:

التنس

• مجموع الطلبة الذين يفضلون لعبة كرة السلة:

٥٠ = ٣٠ + ٢٠ طالب



الوسيط: ٣

المنوال: ١

ما مجموع عدد التدريبات الرياضية الصفحة ٢

2025

2024

موقع المناهج والبحر الإلكترونية

الساعات التي يقضيها الطلبة في دراستهم

الرسم	التصوير	الرسم
التصوير	التصوير	الرسم
التصوير	التصوير	الرسم
التصوير	التصوير	الرسم
التصوير	التصوير	الرسم
التصوير	التصوير	الرسم



(٢) اوجد المتوال و الوسيط و القيمة المتطرفة لمجموعة القيم التالية :

ترتيب البيانات : ٥٠ / ٤٥ / ٤٠ / ٣٥ / ٣٠ / ٢٥ / ٢٠ / ١٥ / ١٠ / ٥

الدرجة	اسم الطالب
٥٠	محمد
٢٥	علي
٣٥	سعيد
٢٥	محمود
١٥	مهدي

المتوال	٢٥
الوسيط	٢١
القيمة المتطرفة	٥

(٣) مثل البيانات بالإشارات :

الرياضة	المفضلة	لطلبة	الصف الرابع
التنس	كرة اليد	السباحة	كرة اليد
السباحة	كرة القدم	كرة الصلة	كرة القدم
السباحة	كرة اليد	السباحة	كرة اليد
كرة القدم	كرة القدم	كرة اليد	التنس
كرة الصلة	كرة القدم	التنس	السباحة
السباحة	التنس	كرة القدم	كرة الصلة


الرياضة المفضلة	لطلبة الصف الرابع	الإشارات	التكرار
كرة القدم	١		٦
كرة اليد	١		٥
كرة الصلة	١		٣
التنس	١		٤
السباحة	١		٦

2025

2024

موقع المناهج والبحوث التربوية

البطولات الرياضية للصفوف الرابع



(ا) ما الفرق بين بطولات رابع ج ورابع د

$$7 - 2 = 5 \text{ بطولات}$$

(ب) مجموع بطولات الصفوف كلها

$$2 + 7 + 4 + 5 = 18 \text{ بطولة}$$



ما احتمال كل مما يلي:

(ا) ظهور العدد 60 مستحيل

(ب) ظهور عدد اكبر من 11 أقل احتمالاً (فقط 12)

(ج) غير 8 أكثر احتمالاً (6 و 4 و 2 و 10 و 12)

(د) ظهور عدد اصغر من 10 هو 5

(هـ) ظهور عدد اصغر من 7 متساوي الاحتمالية (2 و 4 و 6)

ص - ٤
 ك - ٤
 ص - ٥
 ك - ٥



ما هي النواتج الممكنة لتجربة إدارة القرص ورمي القطعة النقدية؟

ص	٥	ص	٤
ك	٥	ك	٤


تمثل الأعداد الآتية نقاط المشاركين في مسابقة: ١١ / ١٠ / ٩ / ٢٥ / ٩

• الترتيب = / / / /

• المنوال =
٩

• الوسيط =
٩

• القيمة المتطرفة =
٢٥




احتمال سحب بطاقة عليها مثلث هو:

3 من 6

احتمال سحب بطاقة عليها مربع هو:

2 من 6



أ- من خلال التمثيل بالخطوط ، أجب على الأسئلة التالية:

• أي الشهر كان أكثر حرارة:

..... أ. أغسطس ب. يوليو ج. يونيو د. مايو هـ. أبريل و. مارس

• ما الفرق بين درجة الحرارة في شهري

يوليو ويونيو: ج. ١ - ٢ = ٣

أ- ضع العلامة المناسبة + أو - لكي تصبح الإجابة صحيحة:

10 = 9 ⊖ 19

10 = 7 ⊕ 8


20 = 1 ⊕ 12

10 = 5 ⊖ 20

موقع المناهج البحثية


مثل الجملة العددية التالية ثم اكتبها:

• لدى أحمد ٦ أقلام زرقاء و ٥ حمراء و ٤ صفراء ، ما مجموع ما لديه من أقلام؟

الرسم: 

الجملة العددية: $6 + 5 + 4 = 15$ أقلام

• لدى مريم ١٥ ديناراً ، فإذا اشترت ب ٥ دنانير كتاباً و ب ٧ دنانير هدية لأمتها ، فكم

بقي عندها؟
الرسم: 

الجملة العددية: $15 - 5 - 7 = 3$ دنانير

مراجعة الذهني:

لضرب في ١٠ و ١٠٠

جمع مع ٩

تأق الجمع والطرح لمضاعفات ١٠ و ١٠٠

$34 + 9 = 43$	مكملة ال ٢٠ لل ١٠٠	$100 \times 0 = 0$
$22 + 9 = 31$	مكملة ال ٧٠ لل ١٠٠	$100 \times 6 = 600$
$79 + 9 = 88$	مكملة ال ٤٠ لل ١٠٠	$1000 \times 3 = 3000$
$78 + 9 = 87$	مكملة ال ٤٠٠ لل ١٠٠٠	$100 \times 3 = 300$
$66 + 9 = 75$	مكملة ال ٧٠٠ لل ١٠٠٠	$100 \times 6 = 600$
$31 + 9 = 40$	مكملة ال ٣٠٠ لل ١٠٠٠	$1000 \times 1 = 1000$