


تم تحميل هذا الملف من موقع المناهج البحرينية



## الملف أنشطة عامّة لدروس الاجتماعيات

[موقع المناهج](#) ⇌ [الصف الرابع](#) ⇌ [المواد الاجتماعية](#) ⇌ [الفصل الثاني](#) ⇌ [الملف](#)

## روابط مواقع التواصل الاجتماعي بحسب الصف الرابع



## روابط مواد الصف الرابع على تلغرام

[الرياضيات](#)

[اللغة الانجليزية](#)

[اللغة العربية](#)

[التربية الاسلامية](#)

## المزيد من الملفات بحسب الصف الرابع والمادة المواد الاجتماعية في الفصل الثاني

<a href="#">شرح الوحدة الرابعة الفصل الثامن / درس النظام الشمسي</a>	1
<a href="#">ملخص التطبيق الشامل لنهاية الفصل الدراسي الثاني في مادة الاجتماعيات.</a>	2
<a href="#">ورقة مساندة لامتحان نهاية الفصل الثاني</a>	3
<a href="#">مراجعة عامة لمنتصف الفصل الثاني</a>	4
<a href="#">ملخص المواد الاجتماعية</a>	5

ج

## درس موقع مملكة البحرين



ج

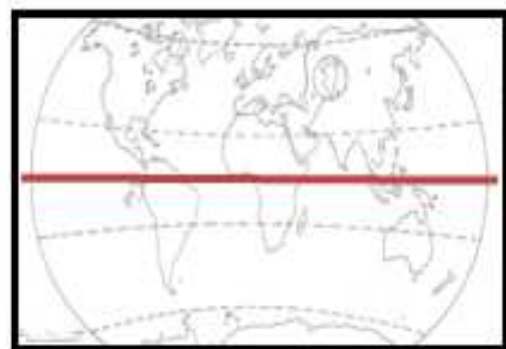
ب

السؤال الأول : ضعي علامة صح أو خطأ أمام العبارات التالية :

1. تقع البحرين في شمال قارة آسيا . ( )
2. تقع البحرين في النصف الشمالي من الكرة الأرضية . ( )
3. تقع البحرين في جنوب غرب آسيا . ( )
4. تقع البحرين في الواجهة الشرقية لشبه الجزيرة العربية . ( )

السؤال الثاني : أكمل الفراغات بما يناسبها من الكلمات :  
( المملكة العربية السعودية - دولة قطر - وسط - الشرقي - جنوب غرب )

1. تحتل البحرين موقع الجغرافيا في ..... الخليج العربي .
2. قبلى الغرب من مملكة البحرين تقع .....
3. وإلى الشرق منها تقع دولة .....
4. تقع البحرين بالنسبة إلى الوطن العربي في الجزء .....
5. و بالنسبة إلى دول العالم في جهة ..... لقارة آسيا .



أ ب

السؤال الثالث :

س 1 : ما أهمية موقع البحرين ؟

ج 1 : موقع مهم ..... و .....

2 : حلقة وصل بين بلدان آسيا ..... و .....

س 2 : في أي نصف من الكرة الأرضية تقع البحرين؟

ج 2 : .....

س 3: في أي قارة تقع البحرين .....

تشاط إتراني :  
أرسمي الخرائط موقع  
البحرين صفحة 52

## درس سطح مملكة البحرين

ج

السؤال الأول :

إختاري الإجابة الصحيحة من بين الكلمات :

- 1- من أبرز الخلجان في مملكة البحرين خليج ..... ( عراد - العريي )
- 2- أقصى ارتفاع في سطح البحرين عند جبل ..... ( رمال - دخان )
- 3- من أبرز الأخوار في مملكة البحرين خور ..... ( القليعة - القلم )
- 4- تتألف مملكة البحرين من أكثر من ..... جزيرة ( 36 - 43 )
- 5- البحرين مجموعة جزر قريبة من بعضها البعض تسمى ..... ( أرخبيل - شبه جزيرة العريية )

ب

أ

السؤال الثاني : صتفي الكلمات في مكانها المناسب :

( القليعة - رأس حيان - عراد - رأس الير - البحرين - المحرق - أم النعسان - سترة )

الجزر	الرؤوس	الخور	الخليج

ب . تخيلي إن سطح البحرين جبلية ، ماذا سيحدث ؟

.....  
.....  
.....  
.....

أ . ما مميزات شواطئ مملكة البحرين ؟

1. ....  
2. ....



Min

ج

ب

أ

المنطقة التعليمية  
وزارة التربية والتعليم

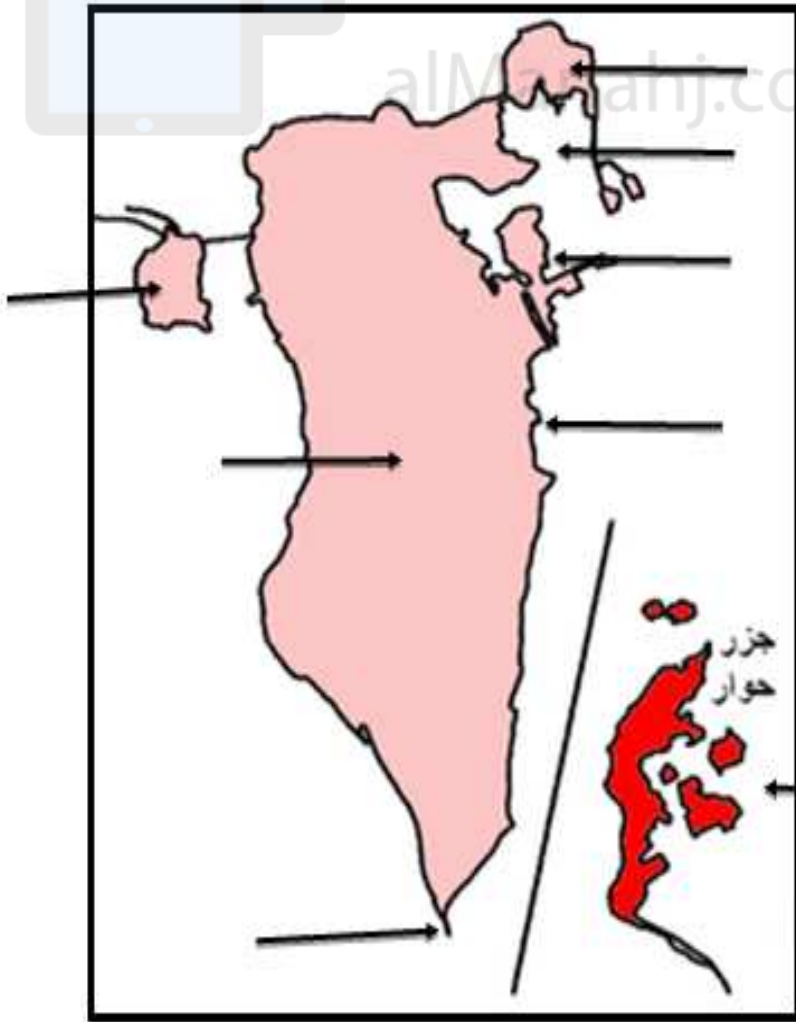
إم



السؤال الثالث : أمامك الخريطة ממملكة البحرين اكتب عليها ما يلي :

اكتب الجزر التالية :

- (1) المحرق \_ أم النعسان \_ سترة \_ جزر حوار
- (2) اكتب الرفوس التالية : رأس أبي جرجور \_ رأس الير .
- (3) اكتب في المكان المناسب على الخريطة : خور القليعة .
- (4) أعلى إرتفاع هو جبل الدخان .



رأي في النشاط

.....

.....





## درس مناخ مملكة البحرين



ج

السؤال الأول :

1. قارني بين مناخ فصل الشتاء و الصيف في مملكة البحرين ؟

فصل الصيف	فصل الشتاء
( حار - جاف ) أو شديد الحرارة ولا يسقط .....	( معتدل و قليل الأمطار ) أو تنخفض الحرارة و تسقط كميات قليلة من .....

ما اسماء الطيور التي  
تحب أن تربيها في  
البيت ؟

.....  
.....

ب

ا

السؤال الثاني :

1. عللي :

قلة الحيوانات في البحرين ؟

.....  
.....

2. عللي :

قلة النبات الطبيعي في البحرين ؟

.....  
.....

السؤال الثالث : 1. صنف أنواع الطيور في البحرين فيما يلي :  
 ( الغراب - العقاب - السنونو - الببيل - النورس - البوم )



طيور مقيمة	طيور عابرة

تم تحميل هذا الملف من  
 موقع المناهج البحرينية

ب

ا

نشاط إثرائي :  
 ألصقي صور عن حيوانات و طيور الموجودة في البحرين .

10

رأي في النشاط



## ( الموارد المائية في مملكة البحرين )



ج

السؤال الأول : ضع علامة صح أو خطأ :

1. اعتمد سكان البحرين في القديم على مياه الكواكب و الآبار في الشرب و ري المزروعات . ( )
2. حفر سكان البحرين الآبار في الماضي لاستخراج الذهب . ( )
3. عمدت البحرين إلى تأمين مصادر جديدة للمياه فأنشأت محطات لتحلية مياه البحر . ( )
4. المياه الجوفية محدودة بسبب تسرب مياه البحر إليها في بعض المناطق . ( )

السؤال الثاني :

ب

ا

2. اذكر ثلاث من مصادر المياه في الحاضر .

- 1- .....
- 2- .....
- 3- .....

1. افكري ثلاث من مصادر المياه في الماضي .

- 1- .....
- 2- .....
- 3- .....

السؤال الثالث :

ب

ا



. ما دورك كمواطنة في المحافظة على المياه؟

.....  
.....



## درس الثروة البحرية في مملكة البحرين

### السؤال الأول :

ضعي علامة ( ✓ ) أمام العبارة الصحيحة ، و علامة ( ✗ ) أمام العبارة الخاطئة فيما يلي :

ج

1. ( ) يحتوي بحر البحرين حوالي 60 نوع فقط من الأسماك .

2. ( ) عندما يفيض إنتاج الأسماك فإنه يصدر للخارج .

3. ( ) المحرق أهم مركز لتسويق اللؤلؤ .

4. ( ) ظهور اللؤلؤ الصناعي في البحرين .

ا

نشاط إثرائي :  
تخيلي اختفاء الأسماك من البحر الخليج  
العربي ، ماذا سيحدث ؟

### السؤال الثاني :

أذكر دور مملكة البحرين لرعاية مهنتي الصيد و الغوص .

ب

ا

1. .... 2. ....

2. .... 3. ....



### السؤال الثالث :

ج

نشاط إثرائي :  
أرسمي و أكتبني نوع من أنواع الأسماك  
الموجودة في مملكة البحرين .

ب

نشاط إثرائي :  
أكتبني أنواع الأسماك الموجودة في مملكة  
البحرين .

رأي في النشاط .....





## درس النفط و الغاز مملكة البحرين



ج

السؤال الأول :

ضعي علامة (✓) أمام العبارة الصحيحة وعلامة (X) أمام العبارة الخاطئة :

- 1- اكتشاف النفط في مملكة البحرين في سنة 1934م ( )
- 2- أول دولة خليجية اكتشاف النفط فيها هي مملكة البحرين ( )
- 3- تم اكتشاف أول بئر في مملكة البحرين في منطقة جبل الدخان ( )

السؤال الثاني : أكملّي الجمل بكلمات مناسبة :

حققت عائدات النفط عوامل النهضة الحديثة ، في مجالات مختلفة مثل ..... و ..... و .....

2. الميناء الذي يصدر منه النفط المكرر في البحرين الى اسواق العالم هو ميناء .....

السؤال الثالث: أجيب عن الاسئلة التالية :

ب

ا

1. ما هو استخدامات الغاز الطبيعي في البحرين : 1. ....

2. ....

نشاط إثرائي :

في عهد أي من حكام البحرين تم إكتشاف النفط ؟

.....

رأي في النشاط

.....

.....

ج

ب

ا



## درس الصناعة في مملكة البحرين

أ

السؤال الأول : اكمل الفراغات في الجدول بكلمات مناسبة :

المناطق التي تشتهر بها	الحرف التقليدية
في منطقة .....	صناعة مراقب الصيد
في منطقة .....	صناعة التسيج
في منطقة .....	صناعة الفخار

السؤال الثاني : صنفى الصناعات الحديثة في الجدول التالي :

ب

( تعبيل التمور - الأصباغ - الورق - طحن الحبوب - )

الصناعات الغذائية	الصناعات الكيماوية

ج

نشاط إثنائي :  
ارسمي أو الصقي صور لبعض مصنوعات  
البحرين .  
في قسم المبادرات



ب

أ

السؤال الثالث :

2. اذكر أهم المصانع الكبرى في البحرين ؟

1. مصافي تكرير ..... و تسيل .....
2. مصنع الألمونيوم ( ..... )
3. مصنع .....
4. مصنع الحوض الجاف لبناء السفن و .....

1. علي : عمدت البحرين لوضع خطة لتطوير  
الصناعة ؟

1. لزيادة .....
2. لتوفير فرص .....

رأي في النشاط .....



## درس التجارة في مملكة البحرين

Page

ج

نشاط الإثرائي : ارسمي أو ألصقي صور عن الصادرات في مملكة البحرين .

السؤال الأول : صنفِي الكلمات في مكانها المناسب :

( الأدوات الكهربائية - السيارات - التمور -  
الأدوية - النفط - الغاز الطبيعي -  
اللبسة و المواد الغذائية - الألمونيوم )

ب

الصادرات ( التي نبيعها )	الواردات ( التي نشتريها )

ب

ا

السؤال الثاني :

1. عللي : أصبحت البحرين مركزا ماليا مهما ؟  
سبب وجود عدد كبير من .....

2. عللي : أهمية المصارف في البحرين ؟

1. لتسهيل العمليات .....  
2. تأمين الأموال .

السؤال الثالث : ضعِي الكلمات ما يناسبه من عبارات مناسبة :  
( عائدات النفط - التقيب - ترانزيت )

ا

1. ( ..... ) الاموال الناتجة عن بيع النفط .

2. ( ..... ) التجارة العابرة.

3. ( ..... ) البحث عن النفط في جوف الأرض أو تحت مياه البحر .



رأي في النشاط .....

.....



## درس المواصلات و الاتصالات في مملكة البحرين

السؤال الأول : صنف الكلمات المناسبة في الجدول التالي :

ج ب ا

(( البريد , السفن , الانترنت , الشاحنات , السيارات , الفاكس , الهاتف

تم , الجرائد و المجلات , الإذاعة والتلفاز , الطائرات , الأقمار الصناعية ))



الاتصالات

المواصلات



موقع المناهج البحرينية

السؤال الثاني :

عللي : أقيمت شبكة الطرق و الجسور ؟

ا

1. ....

2. ....

السؤال الثالث :

ج

نشاط الاثرائي :

أي نوع من وسائل الاتصال تفضلين و لماذا ؟

.....  
.....  
.....

ا

أنواع شبكة المواصلات :

1. البرية عبر جسر ..... يربط بين البحرين و

السعودية .

2. البحرية عن طريق ميناء .....

3.

4. الجوية عن طريق ..... البحرين الدولي



رأي في النشاط

.....



10

### نشاط إسرائي :

اكملني الخريطة مملكة البحرين للمواصلات  
و استعيني بالكتاب المدرسي ص 78

3

i

• احمّل على خريطة مملكة البحرين أسماء شبكة المواصلات و الاتصالات

• **موقع المناهج البحرينية**



رأى في النشاط \_\_\_\_\_



## درس السياحة في مملكة البحرين

ب


ا

السؤال الأول : صنفى الكلمات المناسبة في الجدول التالي :

( مسجد الخميس - المجمعات التجارية - قلعة الرفاع - مقابر عالي - متحف البحرين الوطني  
- الفنادق الضخمة - قلعة البحرين - المطاعم )



المواقع السياحية	المعالم الأثرية السياحية



ج

السؤال الثاني : صنفى بين المعالم السياحية ( الطبيعية و الأثرية ) في مملكة البحرين :-

(( قلعة عراد - مسجد الخميس - جزر حوار - شاطئ يلاج الجزائر - مدافن عالي و سار -  
بيت الشيخ عيسى بن علي - جزر أمواج - منتزة عين عذاري ))



الأثرية	الطبيعية

مريم من دولة الكويت زارت مملكة البحرين في العطلة الصيفية ، ذهبت إلى الكثير من الأماكن  
أذكرني الأماكن التي زارتها مريم من معالم أثرية و مرافق سياحية في مملكة البحرين ؟

أ

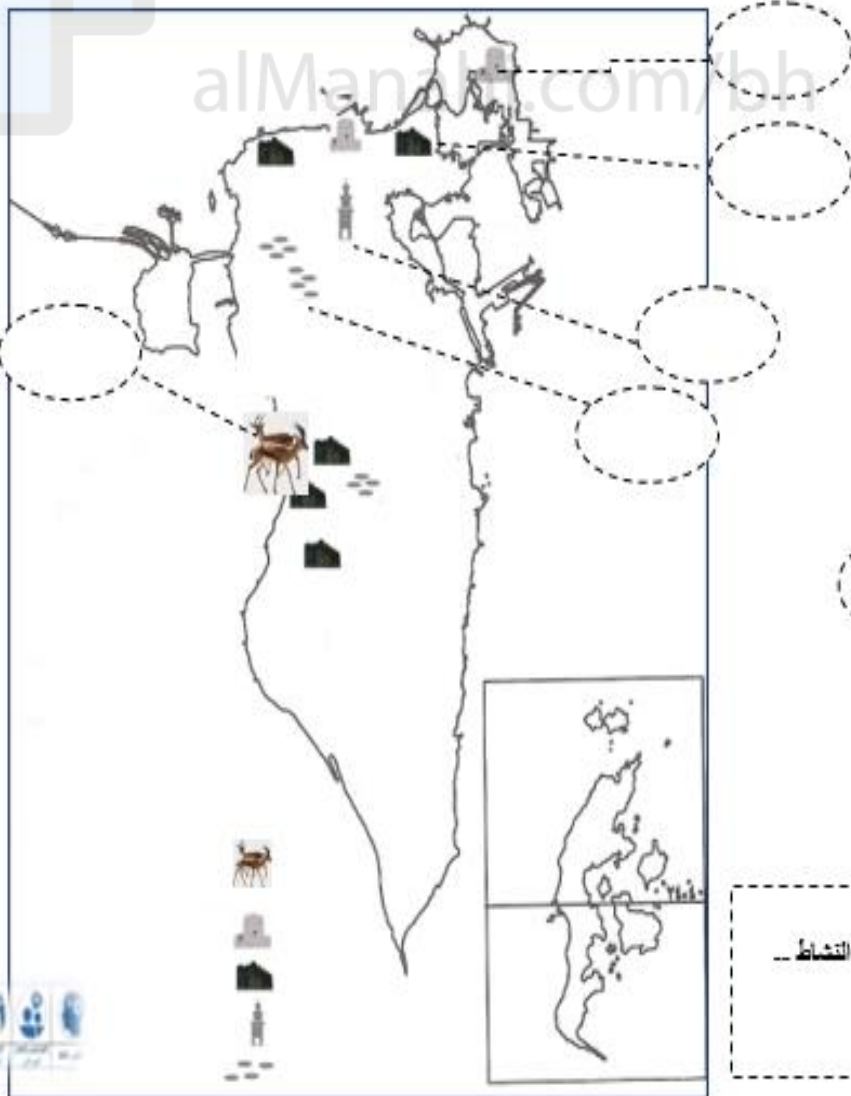
1. .... 2. ....
2. .... 4. ....

تحميل هذا الملف من

السؤال الثالث: قع المناهج البحرية  
من خلال دراستك لموضوع السياحة في مملكة البحرين ، أكتبني المعالم الأثرية .

ب

أ



1

رأي في النشاط ..

## درس السكان مملكة البحرين

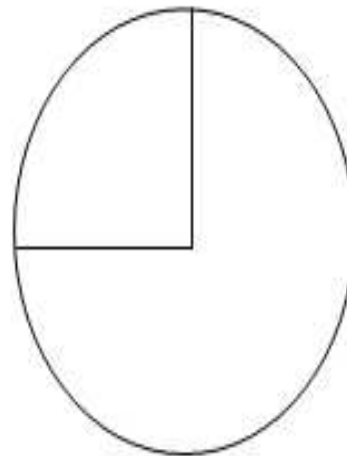
### السؤال الأول :

1. من خلال الخريطة ص 84 من الكتاب المدرسي ، حددي المحافظة المكتظة
2. بالسكان في مملكة البحرين

- 1- لماذا يتجمع السكان في المناطق الشمالية والشمالية الغربية من المملكة ؟

### السؤال الثاني :

أمامك الرسم البياني للمدن والقرى بيني كيف يتوزع سكان البحرين:



سكان المدن

سكان القرى

وضحي أسباب الزيادة السكانية التي  
شهدتها البحرين ؟

1. ....
2. ....
3. ....

### السؤال الثالث : ضعي علامة صح أو خطأ فيما يلي :

1. يتجمع معظم سكان العالم في منطقة الشمالية . ( )
2. يقيم حوالي ربع سكان البحرين في المدن . ( )
3. أنشأت مدن جديدة بسبب تزايد عدد السكان . ( )
4. تعتبر مدينتا المنامة و المحرق . ( )

رأي في النشاط

.....

.....