

تم تحميل هذا الملف من موقع المناهج العُمانية



* للحصول على أوراق عمل لجميع الصفوف وجميع المواد اضغط هنا

<https://almanahj.com/bh>

* للحصول على أوراق عمل لجميع مواد الصف الرابع اضغط هنا

<https://almanahj.com/bh/4>

* للحصول على جميع أوراق الصف الرابع في مادة اجتماعيات وجميع الفصول, اضغط هنا

<https://almanahj.com/bh/4social>

* للحصول على أوراق عمل لجميع مواد الصف الرابع في مادة اجتماعيات الخاصة بـ الفصل الثاني اضغط هنا

<https://almanahj.com/bh/4social2>

* لتحميل كتب جميع المواد في جميع الفصول للـ الصف الرابع اضغط هنا

<https://almanahj.com/bh/grade4>

* لتحميل جميع ملفات المدرس علي الزاكي وحسين الشيخ اضغط هنا

للتحدث إلى بوت على تلغرام: اضغط هنا

https://t.me/omcourse_bot

مملكة البحرين

وزارة التربية والتعليم

المعهد الديني الجعفري

قسم المواد الاجتماعية

ملاحظة : أسئلة الامتحان في ٥ صفحات

امتحان نهاية الفصل الدراسي الثاني في المواد الاجتماعية للصف الرابع

الابتدائي للعام الدراسي ٢٠١٤/٢٠١٥ م

اسم الطالب: الصف الرابع الابتدائي/.....

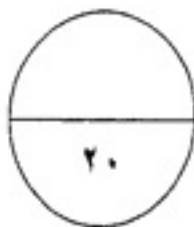
السؤال	الدرجة الكلية	درجة الطالب
الأول	٢٠	
الثاني	٨	
الثالث	١٠	
الرابع	١٧	
الخامس	٢٠	
المجموع	٧٥	

مدير المعهد:
أ. يوسف جمعة



إعداد مدرس المادة: أ. علي الزاكي
إشراف المدرس الأول: أ. حسين الشيخ

أ. حسين الشيخ



السؤال الأول: ضع دائرة حول رمز الإجابة الصحيحة في كل مما يلي:

١- يتم تصدير النفط المكرر من البحرين إلى دول العالم عن طريق ميناء:

- أ- خليفة بن سلمان ب- سلمان ج- سترة

٢- من أهم المحاصيل الزراعية التي تنتجها البحرين:

- أ- الكيوي ب- الكرز ج- الطماطم

٣- من أبرز أسباب تلاشي مهنة الغوص لاستخراج اللؤلؤ في البحرين هو المنافسة من اللؤلؤ الصناعي:

- أ- الياباني ب- الهندي ج- الكويتي

٤- تعد مصفاة تكرير النفط البحرينية من أكبر المصافي في منطقة الخليج وهي موجودة في:

- أ- جزيرة سترة ب- جزيرة أم النعسان ج- جزيرة المحرق

٥- مجموع الأموال التي يجنيها شعب بلد ما من الأعمال التي يمارسها أبناؤه في الزراعة والصناعة والتجارة تسمى:

- أ- الزكاة ب- الدخل الوطني ج- المصاريف

٦- المنتجات والبضائع التي تباع إلى الخارج تسمى:

- أ- واردات ب- صادرات ج- ترانزيت

٧- تم اكتشاف النفط في البحرين في عام:

- أ- ١٩٣٢م ب- ١٩٦٢م ج- ١٩٨٢م

٨- المنتجات والبضائع التي تشتري من الخارج تسمى:

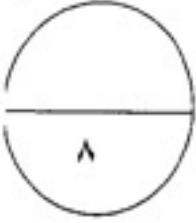
- أ- واردات ب- ترانزيت ج- صادرات

٩- الجسر الذي يربط البحرين بالسعودية يسمى جسر:

- أ- المنامة ب- الملك حمد ج- الملك فهد

١٠- تعتبر صناعة الفخار من الحرف القديمة في البحرين والتي لا تزال قائمة إلى اليوم وتشتهر بها قرية:

- أ- السنافس ب- الدراز ج- عالي



السؤال الثاني: أكمل الجمل بما يناسبها مستعينا بالكلمات التالية:

الشمالية / البيوت المحمية / المجاري / التجارية / الشمس

/ حديثة / جبل الدخان / الفنادق / الكواكب / الآبار

١- هي الينابيع البحرية التي كان الناس في البحرين يستخرجون منها الماء العذب.

٢- أنشأت حكومة البحرين محطة لتكرير مياه..... لاستخدامها في ري المزروعات.

٣- من المرافق التي تساعد على تنشيط السياحة.

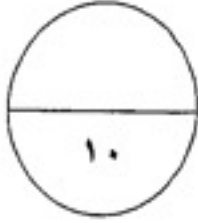
٤- توجد في البحرين مزارع..... لتربية الأبقار والأغنام والماعز والدجاج.

٥- شجعت مملكة البحرين على استعمال الوسائل الحديثة في الزراعة ك.....

٦- تم اكتشاف أول بئر في البحرين في منطقة.....

٧- نشأت المصارف في البحرين لتسهيل العمليات.....

٨- يتجمع معظم سكان البحرين، منذ القدم، في المناطق.....

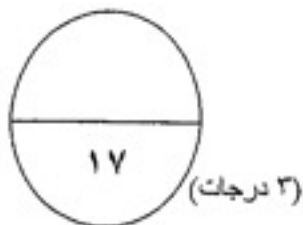


السؤال الثالث: ضع علامة (✓) أمام الإجابة الصحيحة وعبارة (x) أمام العبارة

الخاطئة في كل مما يلي من عبارات:

- ١- () تعتبر المنطقة الصناعية في جزيرة ستره من أبرز المناطق الصناعية في البحرين.
- ٢- () يعتبر الأرز من أهم المحاصيل الزراعية في البحرين.
- ٣- () يتم تشغيل مصنع ألبا للألمنيوم باستخدام ورق الأشجار.
- ٤- () كان لؤلؤ البحرين ، وما يزال، مشهورا بجودته العالية.
- ٥- () تتصف البحرين بكثرة الأمطار وبوجود عدد كبير من الأنهار والبحيرات.
- ٦- () ساعد اكتشاف النفط على ازدهار البحرين.
- ٧- () تستخدم حكومة البحرين عائدات النفط في عملية التطوير و التنمية.
- ٨- () نشطت مهنة الغوص على اللؤلؤ بعد اكتشاف النفط.
- ٩- () تتم المواصلات البحرية بواسطة الطائرات.
- ١٠- () وضعت حكومة البحرين خطة لتطوير الصناعة من أجل زيادة الإنتاج الصناعي.

السؤال الرابع: أجب عن الأسئلة التالية:



١- اذكر ثلاثا من المعالم السياحية الأثرية الموجودة في البحرين؟

أ-
ب-

ج-

(3 درجات)

٢- عدد أهم الصناعات الحديثة في مملكة البحرين.

أ-
ب-

ج-

(3 درجات)

٣- ما دورك كمواطن في المحافظة على الثروة المائية؟

.....

(3 درجات)

٤- عدد ثلاثا من وسائل الاتصالات.

أ- الهاتف
ب-

ج-
د-

(3 درجات)

٥- لماذا أصبحت البحرين مركزا ماليا مهما؟

.....

(درجتان)

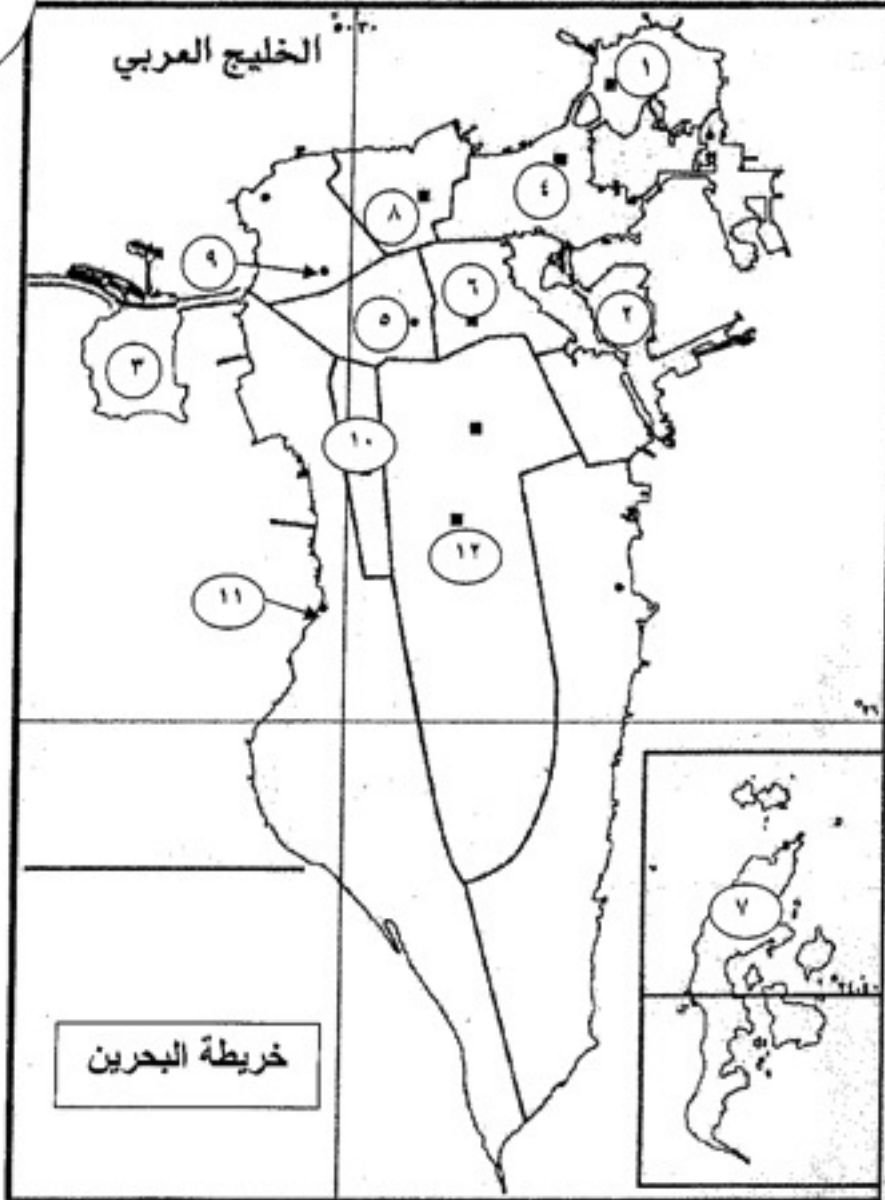
٦- اذكر أبرز الجهود التي بذلتها حكومة البحرين لرعاية مهنة صيد الأسماك.

أ-

ب-

السؤال الخامس: مستعينا بالأرقام التي على الخريطة ، أجب عن الأسئلة التي تليها:

٢٠



اكتب أمام كل رقم من الأرقام التالية اسم المنطقة التي يمثلها:

- (١) البحرين (٢) (٣) (٤)
(٥) (٦) (٧) (٨)
(٩) (١٠) (١١) الزبارة (١٢)

انتهت الأسئلة - مع تمنياتنا لكم بالتوفيق والنجاح