

تم تحميل هذا الملف من موقع المناهج البحرينية



## مراجعة الاختبار الثاني

موقع المناهج ⇨ المناهج البحرينية ⇨ الصف الرابع ⇨ رياضيات ⇨ الفصل الثاني ⇨ اختبارات ⇨ الملف

تاريخ إضافة الملف على موقع المناهج: 20:50:11 2025-03-09

ملفات اكتب للمعلم اكتب للطالب | اختبارات الكترونية | اختبارات | حلول | عروض بوربوينت | أوراق عمل  
منهج انجليزي | ملخصات وتقارير | مذكرات وبنوك | الامتحان النهائي للمدرس

المزيد من مادة  
رياضيات:

## التواصل الاجتماعي بحسب الصف الرابع



صفحة المناهج  
البحرينية على  
فيسبوك

الرياضيات

اللغة الانجليزية

اللغة العربية

التربية الاسلامية

المواد على تلغرام

## المزيد من الملفات بحسب الصف الرابع والمادة رياضيات في الفصل الثاني

ملخص دروس الاختبار الثاني

1

مراجعة الاختبار الثاني

2

نموذج الإجابة لاختبار الرياضيات

3

ملف الرياضيات للصف الرابع

4

مذكرة الرياضيات

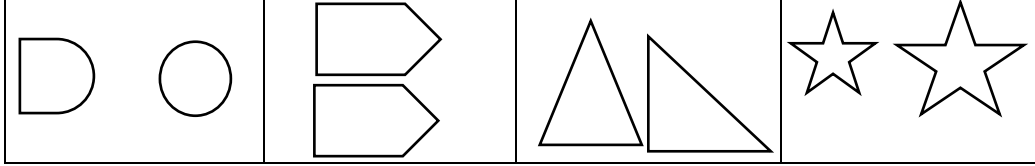
5

مراجعة الاختبار الثاني في مادة الرياضيات للصف  
الرابع الابتدائي

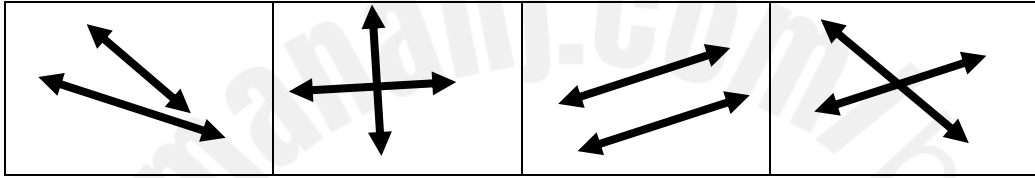
**الفصل التاسع: فهم الاستدلال المكاني**

**السؤال الأول: حوّل الإجابة الصحيحة في كل مما يأتي:**

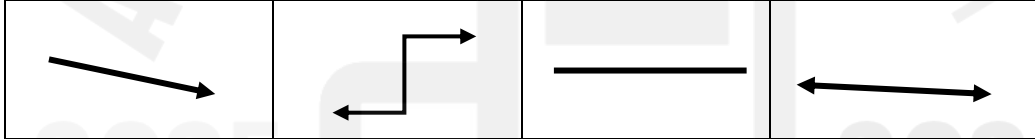
1- الشكلان المتطابقان هما :



2- المستقيمان المتعامدان هما :



3- الشعاع هو:

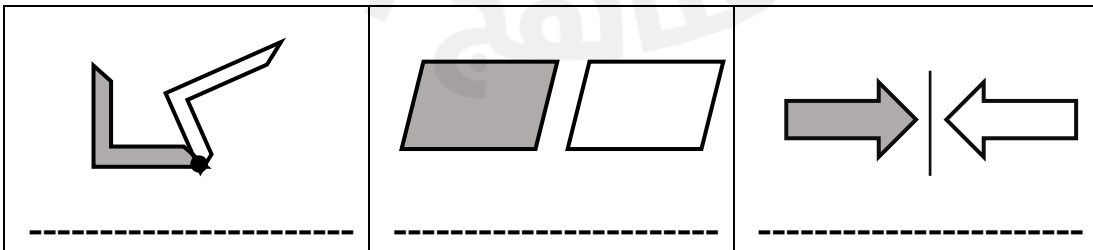


**السؤال الثاني : أجبني عن الأسئلة التالية :**

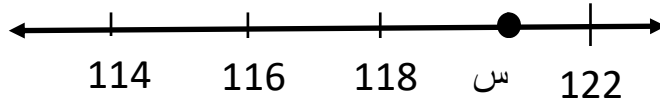
1- هل للشكل محور تماثل ؟ وكم عدد محاور التماثل ؟

عدد المحاور: .....

2- حددي نوع التحويل الهندسي للأشكال التالية ( انسحاب - دوران - انعكاس):

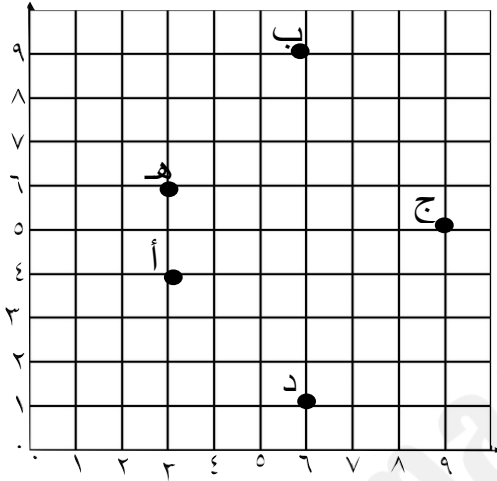


3- ما العدد الذي تمثله النقطة (س) في خط الأعداد:



س:-----

السؤال الثالث: في المستوى الإحداثي التالي، أجب عما يأتي:



1- حددي الزوج المرتب الذي يمثل موقع النقطة (أ)

أ. -----

2- النقطة التي تمثلها ( 9 ، 6 ) هي: -----

#### الفصل العاشر: القياس

السؤال الأول: ضعي دائرة حول الإجابة الصحيحة فيما يلي:

1- ما أفضل تقدير لطول باب الصف؟

- أ- 10 مليمترات  
ب- 4 سنتمترات  
ج- 2 متر  
د- 1 كيلومتراً

2- ما أفضل تقدير لسعة حوض استحمام؟

- أ- 500 مللتر  
ب- 5 مللتر  
ج- 50 مللتر  
د- 50 لتر

3- ما أفضل تقدير لكتلة حبة كرز؟

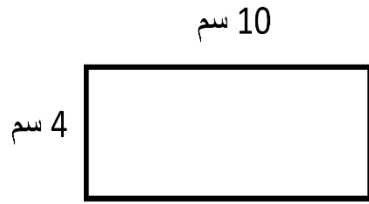
- أ- 800 جرام  
ب- 8 جرام  
ج- 8 كيلوجرام  
د- 80 كيلوجرام

### السؤال الثاني : أجيبي عما يلي :

بدأت سارة في رسم لوحاتها الفنية عند الساعة 5:00 مساءً وأنتهت من الرسم عند الساعة 6:45 مساءً ، ما الوقت الذي استغرقته سارة في الرسم؟

.....  
.....

### السؤال الثالث: أجيبي عن الأسئلة التالية :



1- أوجدي محيط المستطيل التالي :

.....

2- أوجدي مساحة المستطيل التالي :

.....



3- أوجدي حجم المجسم في الشكل المجاور:

.....

4- إذا وقفت كل من لولوة و مرام و بدور في صف ، وكانت لولوة هي الأقصر ، و مرام أقصر من بدور ، فمن هي الأطول بينهم؟

2025

2024

الأقصر

الأطول

### الحساب الذهني

رقم السؤال	السؤال	الإجابة
1	ما مكمل العدد 70 إلى 100	
2	ما نصف العدد 84	
3	ضعي دائرة حول الاعداد الزوجية : 14 ، 27 ، 43 ، 78	

مديرة المدرسة:  
أ. نعيمة محمد جناحي

المديرة المساعدة:  
أ. ثنوة خميس مبارك

المعلمة الأولى:  
أ. خديجة حسن عبدالله

إعداد:  
معلومات المادة