

تم تحميل هذا الملف من موقع المناهج البحرينية



نموذج الإجابة لاختبار الرياضيات

موقع المناهج ⇨ المناهج البحرينية ⇨ الصف الرابع ⇨ رياضيات ⇨ الفصل الثاني ⇨ اختبارات ⇨ الملف

تاريخ إضافة الملف على موقع المناهج: 18:58:02 2025-03-09

ملفات اكتب للمعلم اكتب للطالب | اختبارات الكترونية | اختبارات | حلول | عروض بوربوينت | أوراق عمل
منهج انجليزي | ملخصات وتقارير | مذكرات وبنوك | الامتحان النهائي للمدرس

المزيد من مادة
رياضيات:

التواصل الاجتماعي بحسب الصف الرابع



صفحة المناهج
البحرينية على
فيسبوك

الرياضيات

اللغة الانجليزية

اللغة العربية

التربية الاسلامية

المواد على تلغرام

المزيد من الملفات بحسب الصف الرابع والمادة رياضيات في الفصل الثاني

ملف الرياضيات للصف الرابع

1

مذكرة الرياضيات

2

شرح درس الأشكال الثلاثية الأبعاد

3

مراجعة الاختبار الأول في الرياضيات

4

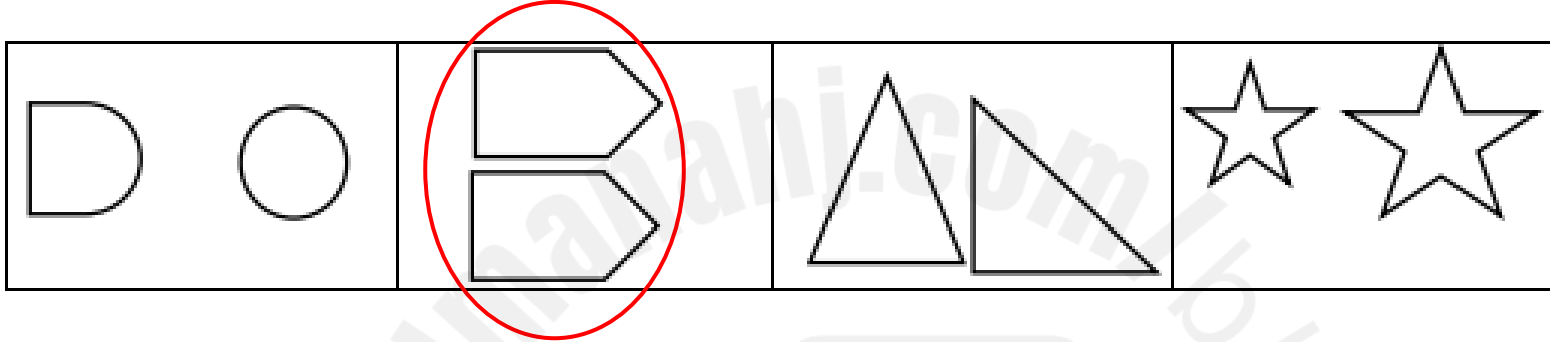
حل نشاط تدريبي إثرائي

5

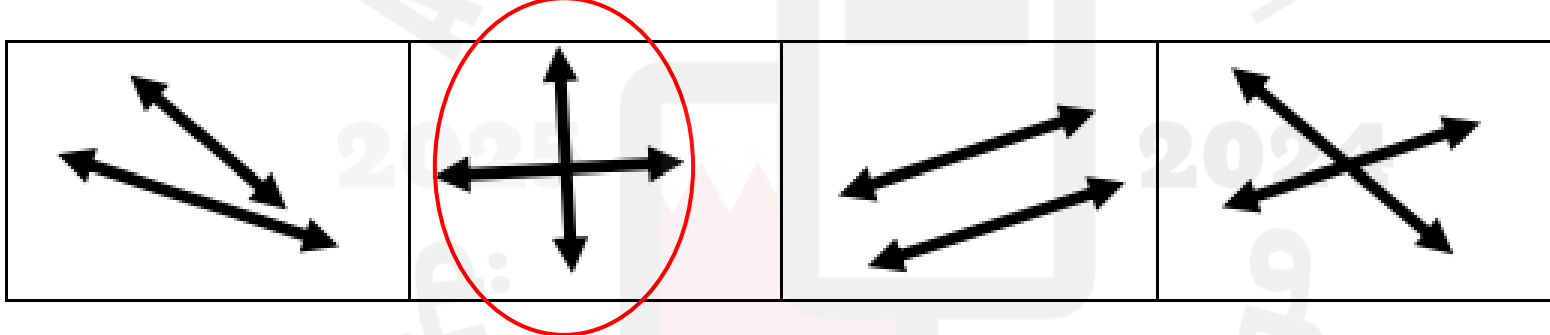
الفصل التاسع: فهم الاستدلال المكاني

السؤال الأول: حوّل الإجابة الصحيحة في كل مما يأتي:

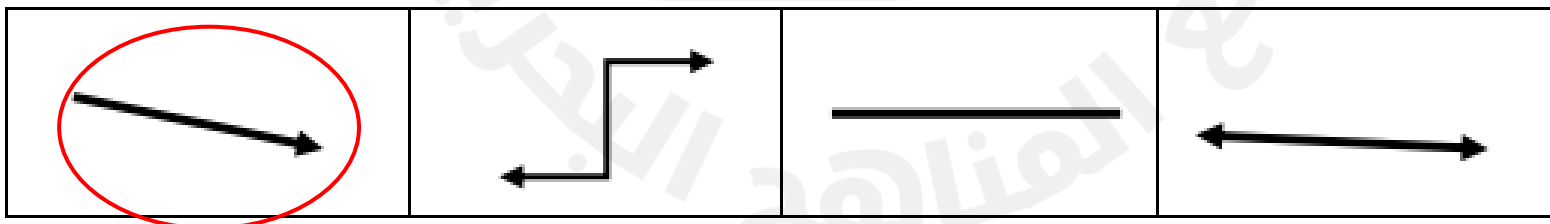
1- الشكلان المتطابقان هما :



2- المستقيمان المتعامدان هما :



3- الشعاع هو:

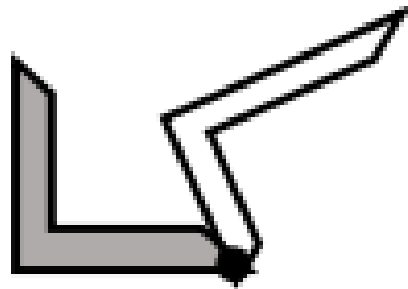


السؤال الثاني : أجيبي عن الأسئلة التالية :

1- هل للشكل محور تماثل ؟ وكم عددمحاور التماثل ؟

..... **نعم** عدد المحاور: ٢


2- حددي نوع التحويل الهندسي للأشكال التالية (انسحاب – دوران – انعكاس):



..... **دوران**

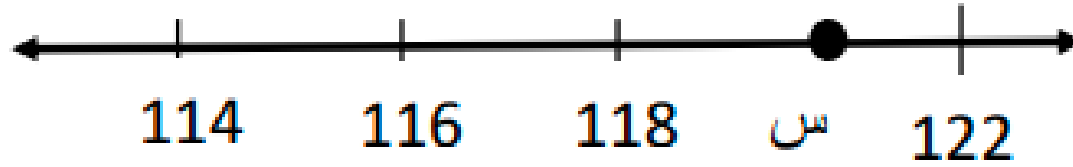


..... **انسحاب**



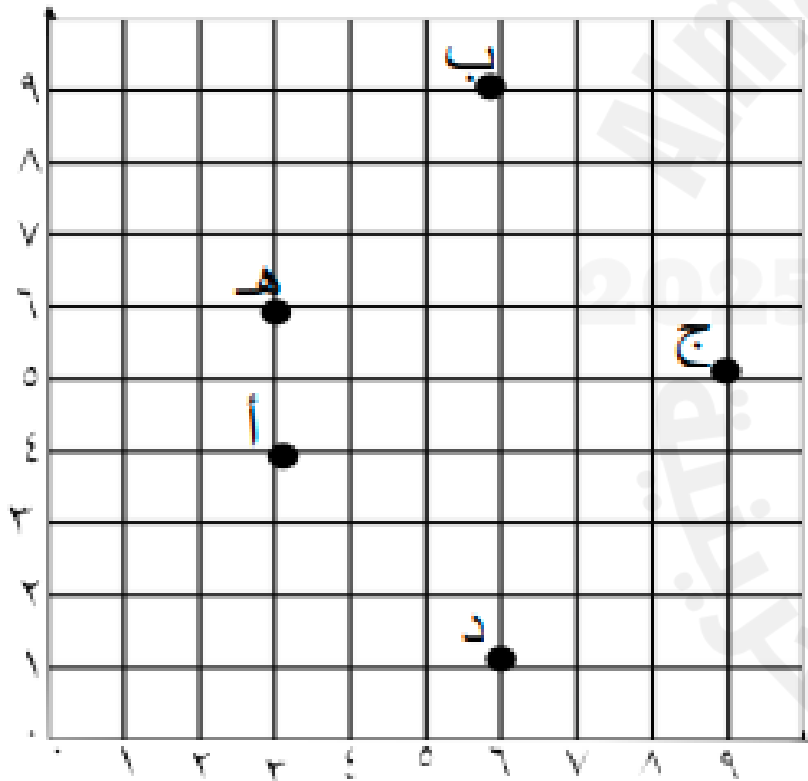
..... **انعكاس**

3- ما العدد الذي تمثله النقطة (س) في خط الأعداد:



س: ١٢٠

السؤال الثالث: في المستوى الإحداثي التالي، أجبني عما يأتي:



1- حددي الزوج المرتب الذي يمثل موقع النقطة (أ)

أ (٤، ٣)

2- النقطة التي تمثلها (9 ، 6) هي: **ب**

الفصل العاشر: القياس

السؤال الأول : ضعي دائرة حول الإجابة الصحيحة فيما يلي:

1- ما أفضل تقدير لطول باب الصف؟

- أ- 10 مِلْمترات
ب- 4 سنْمترات
ج- 2 مِتر
د- 1 كيلومتراً

2- ما أفضل تقدير لسعة حوض استحمام؟

- أ- 500 مللتر
ب- 5 مللتر
ج- 50 مللتر
د- 50 لتر

3- ما أفضل تقدير لكتلة حبة كرز؟

- أ- 800 جرام
ب- 8 جرام
ج- 8 كيلوجرام
د- 80 كيلوجرام

السؤال الثاني : أجيبي عما يلي :

بدأت سارة في رسم لوحاتها الفنية عند الساعة 5:00 مساءً وأنتهت من الرسم عند الساعة 6:45 مساءً ، ما الوقت الذي استغرقته سارة في الرسم؟

$$5 \text{ ساعة} + 6 \text{ دقيقة} + 45 \text{ دقيقة} = 6:45$$

الوقت المستغرق هو ساعة و ٤٥ دقيقة

السؤال الثالث: أجيبي عن الأسئلة التالية :



1- أوجدي محيط المستطيل التالي :

$$\text{المحيط} = 10 + 4 + 4 + 10 = 28 \text{ سم}$$

2- أوجدي مساحة المستطيل التالي :

$$\text{المساحة} = \text{الطول} \times \text{العرض} =$$

$$= 10 \times 4 = 24 \text{ سم}^2$$

3- أوجدي حجم الجسم في الشكل المجاور:



$$\text{الحجم} = 10 \text{ وحدات مكعبة}$$

4- إذا وقفت كل من لولوة و مرام و بدور في صف ، وكانت لولوة هي الأقصر ، و مرام أقصر من بدور ، فمن هي الأطول بينهم؟

..... بدور ، مرام ، لولوة

الأطول الأقصر

الحساب الذهني

رقم السؤال	السؤال	الإجابة
1	ما مكمل العدد 70 إلى 100	30
2	ما نصف العدد 84	42
3	ضعي دائرة حول الأعداد الزوجية : 14 ، 27 ، 43 ، 78	

أسئلة
إضافية
للمراجعة

رقم السؤال	السؤال	الاجابة
١	ما مكمل العدد ٣٥ إلى ١٠٠	٦٥
٢	ما نصف العدد ٤٦	٢٣
٣	ضعي دائرة حول الأعداد الفردية ٥٨ ، ٦٤ ، ٨١ ، ٢٥	

قومي بقياس طول الأشياء التالية إلى أقرب سنتيمتر:-

