

تم تحميل هذا الملف من موقع المناهج البحرينية



* للحصول على أوراق عمل لجميع الصفوف وجميع المواد اضغط هنا

<https://almanahj.com/bh>

* للحصول على أوراق عمل لجميع مواد الصف الثالث اضغط هنا

<https://almanahj.com/bh/3>

* للحصول على جميع أوراق الصف الثالث في مادة رياضيات وجميع الفصول, اضغط هنا

<https://almanahj.com/bh/3>

* للحصول على أوراق عمل لجميع مواد الصف الثالث في مادة رياضيات الخاصة بـ اضغط هنا <https://almanahj.com/bh/3>

* لتحميل كتب جميع المواد في جميع الفصول للـ الصف الثالث اضغط هنا

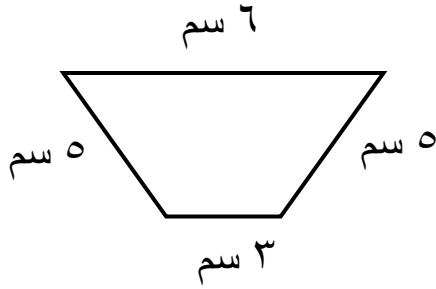
<https://almanahj.com/bh/grade3>

للتحدث إلى بوت على تلغرام: اضغط هنا [almanahjbhbot/me.t//:https](https://t.me/almanahjbhbot)

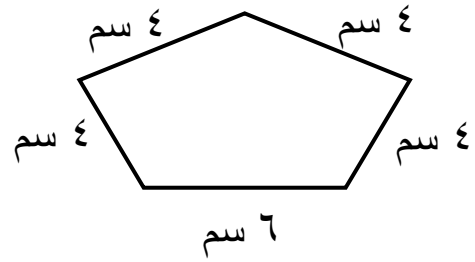


نشاط تدريبي في مادة الرياضيات (المحيط)
للفف الثالث الابتدائي للعام الدراسي ٢٠١٩ - ٢٠٢٠ م

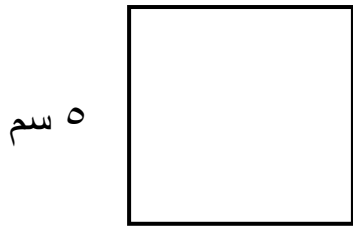
س ١: أوجد محيط كل شكل من الأشكال التالية:



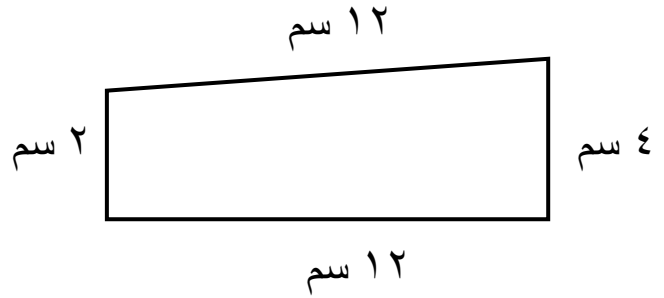
.....



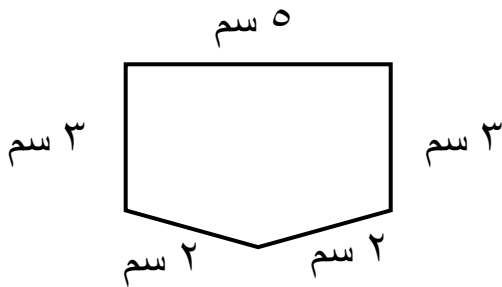
.....



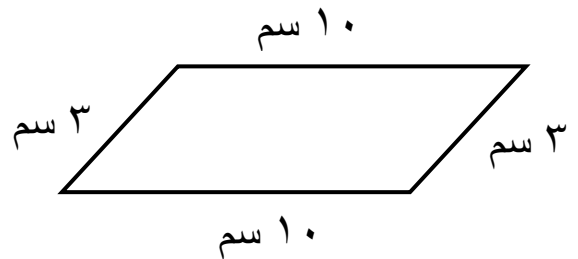
.....



.....




.....




.....


س٢: أظلل شكلاً على شبكة المربعات يكون طول محيطه كالاتي:




$$١ + ٥ + ١ + ٥$$




$$٨ + ٣ + ٨ + ٣$$




$$٧ + ٤ + ٧ + ٤$$



$$٢ + ٩ + ٢ + ٩$$



$$١٤ + ٥ + ٤ + ٥$$



$$٣ + ٦ + ٣ + ٦$$

إعداد: أ. رائده محمد الرسول القلافه