

تم تحميل هذا الملف من موقع المناهج البحرينية



الملف مذكرة الأرض السعيدة أنشطة الفصل الأول

[موقع المناهج](#) ⇐ ⇐ [الصف الثالث](#) ⇐ [المواد الاجتماعية](#) ⇐ [الفصل الأول](#)

روابط مواقع التواصل الاجتماعي بحسب الصف الثالث



روابط مواد الصف الثالث على تلغرام

[الرياضيات](#)

[اللغة الانجليزية](#)

[اللغة العربية](#)

[التربية الاسلامية](#)

المزيد من الملفات بحسب الصف الثالث والمادة المواد الاجتماعية في الفصل الأول

| | |
|--|---|
| أسئلة القارات والمحيطات | 1 |
| أسئلة المواقع الأثرية في بلادي | 2 |
| أوراق عمل الجهات الأربعة | 3 |
| أوراق عمل الجهات الأصلية والفرعية وتطور وسائل النقل في البر وتطور وسائل النقل في البحر وتطور وسائل النقل في الجو | 4 |
| نشاط تقويمي للجهات الأصلية والفرعية | 5 |



Teacher_huda



كرازة الأرض السعيدة للصف الثالث الابتدائي


تحتوي على أنشطة مادة الاجتماعيات

الفصل الدراسي الأول

الاسم: _____

الصف: الثالث ا _____

إعداد وتصميم الأستاذة هدى عبدالعزيز



الجهات الأصلية والفرعية

التاريخ:

السؤال (١) : أملأ الفراغ بما يناسبه :


المخطط

وردة الجهات

مفتاح المخطط

| | |
|--|--|
| رسم مبسط ومصغر للأشياء كما نراها من الأعلى . | |
| يستخدم لقراءة المخطط وتحديد مواقع الأماكن . | |
| تستخدم لمعرفة الاتجاهات . | |

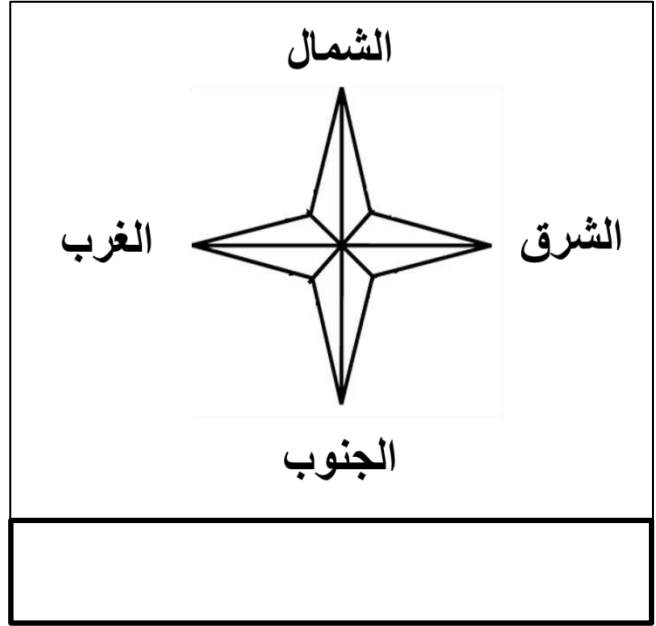
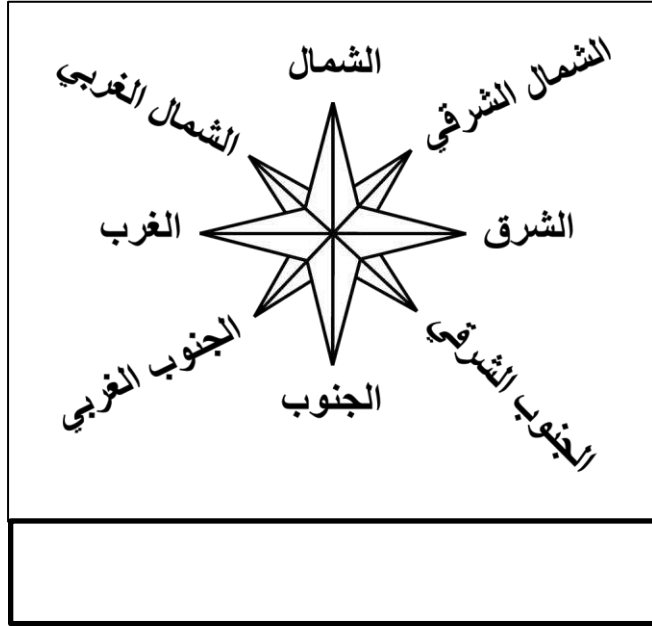
السؤال (٢) : أكتب على الرسم أسماء الجهات الأصلية باللون الأحمر والجهات الفرعية باللون الأخضر في أماكنها الصحيحة .



الجهات الأصلية والفرعية

التاريخ

السؤال (٣) : أحدد اسم وردة الجهات التالية ثم أجب عن الأسئلة :



- ما اسم الجهة التي تشرق منها الشمس ؟

- ما اسم الجهة التي تغرب منها الشمس ؟

- ما اسم الجهة التي تقع بين الشمال والشرق ؟

- ما اسم الجهة التي تقع بين الجنوب والشرق ؟

- ما اسم الجهة التي تقع بين الشمال والغرب ؟

- ما اسم الجهة التي تقع بين الجنوب والغرب ؟

الجهات الأصلية والفرعية

التاريخ:

السؤال (٤) : أجب عن الأسئلة بالاستعانة بمخطط مدينة صوفيا :

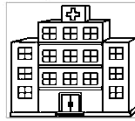
مفتاح مخطط مدينة صوفيا



المسجد



منزل صوفيا



المستشفى



المطار




مركز الشرطة



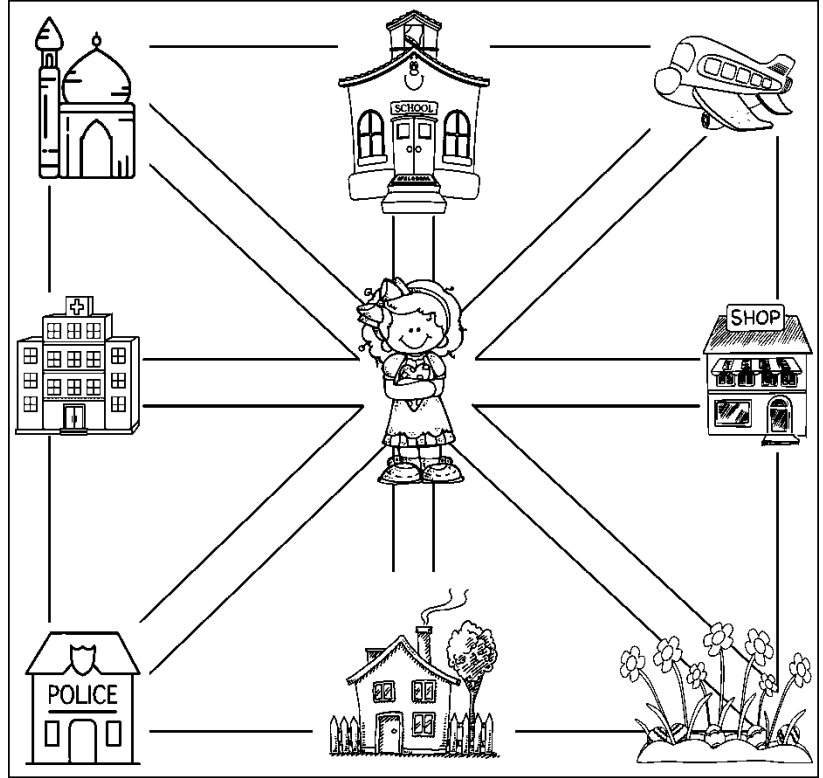
السوق



المدرسة



الحديقة



• في أي جهة يقع منزل صوفيا ؟

• ما اسم المكان الذي يقع في جهة الشمال ؟

• ما اسم المكان الذي يقع في جهة الغرب ؟

• أين يقع المطار ؟

• ما اسم المكان الذي يقع في الشمال الغربي ؟

• في أي جهة يقع مركز الشرطة ؟

كوكب الأرض


التاريخ

السؤال (١) : ألون المنطقة بالقارة التي تقع فيها بنفس اللون :


البرازيل




إنكلترا




مصر




اليابان



مملكة البحرين



المملكة العربية السعودية

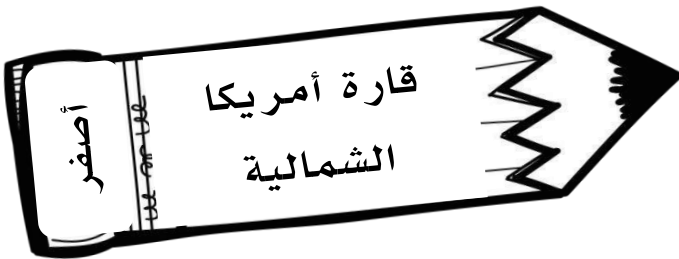


الولايات المتحدة الأمريكية



أصفر

قارة أمريكا الشمالية



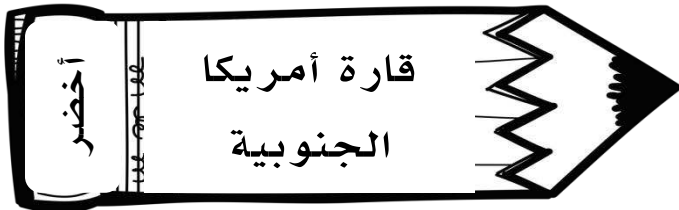
أحمر

قارة آسيا



أخضر

قارة أمريكا الجنوبية



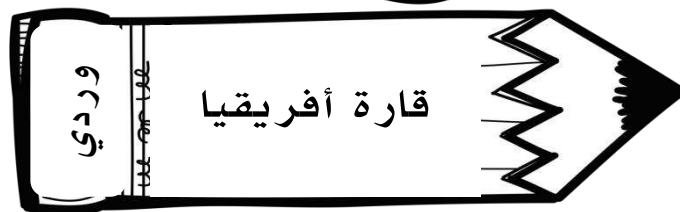
أزرق

قارة أوروبا



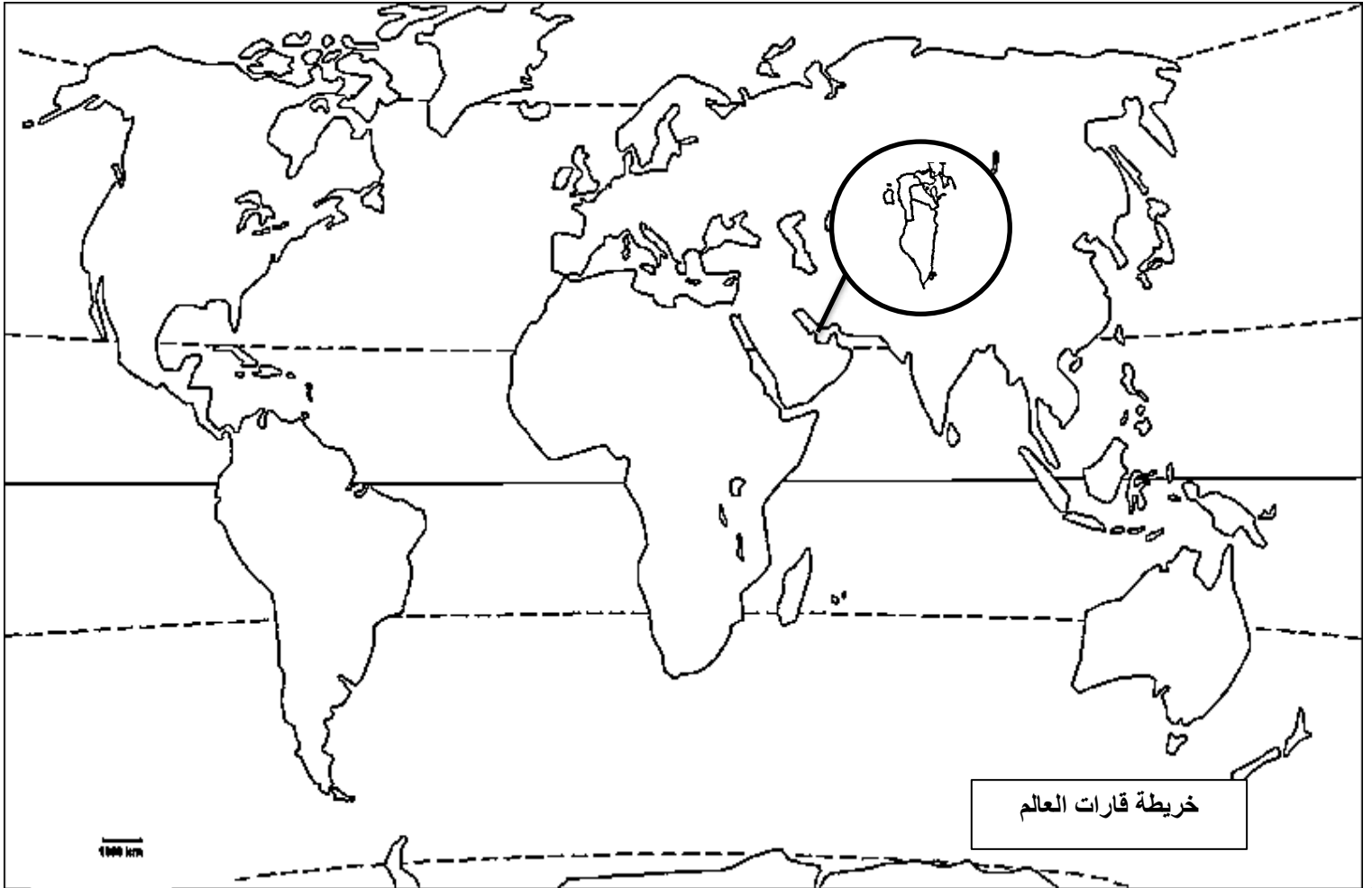
وردي

قارة أفريقيا



السؤال (٢) : أضع في المكان المناسب على الخريطة :

١. أسماء القارات : آسيا \ أوروبا \ أفريقيا \ أوقيانيا \ أمريكا الشمالية \ أمريكا الجنوبية \ القارة القطبية الجنوبية
٢. أسماء المحيطات : المحيط الأطلسي \ المحيط الهندي \ المحيط الهادئ \ المحيط المتجمد الشمالي \ المحيط المتجمد الجنوبي
٣. اسم خط الاستواء .



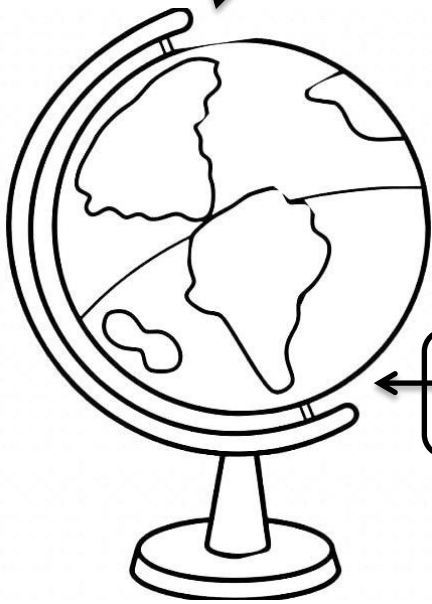
كوكب الأرض

التاريخ


السؤال (٣) : ألون الكرة الأرضية بحسب ما يلي ثم أكتب اسم أقطابها :

١. النصف الشمالي باللون الأحمر .
٢. النصف الجنوبي باللون الأصفر .
٣. خط الاستواء باللون الأزرق .

القطب _____



القطب _____



السؤال (٤) : ألون _____ العبارة الصحيحة باللون الأخضر بينما ألون _____

العبارة الخطأ باللون الأحمر :

في العالم سبع قارات .

القارة مساحة ضيقة من اليابسة .

المحيط أكبر من البحر .



تقسم الكرة الأرضية إلى قسمين متساويين .

يفصل بين نصفي الكرة الأرضية خط يسمى بخط السرطان .

أشكال سطح الأرض ١

التاريخ

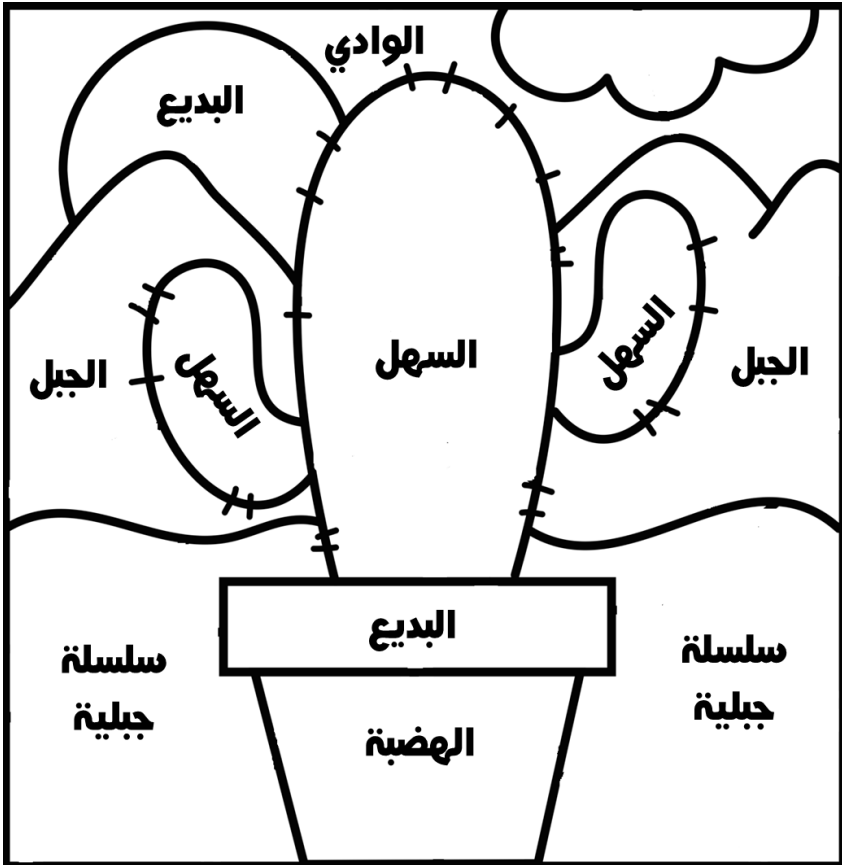
السؤال (١) : أصل بين كل شكل من أشكال سطح الأرض بالصورة التي تدل عليه :



أشكال سطح الأرض ١

التاريخ:

السؤال (٢) : ألون المصطلحات في الرسم بحسب لون معناها المناسب :



مكان منخفض بين مرتفعين



يتواجد فيها أراضي سهلية



اتصال مجموعة من الجبال بعضها ببعض .


أرض منبسطة يسهل السكن ، الزراعة ، والتنقل عليها .



أرض مرتفعة جداً تشرف على ما حولها من سطح الأرض .



أرض منبسطة ومرتفعة تتخلها أودية عميقة تصلح للزراعة والسكن .

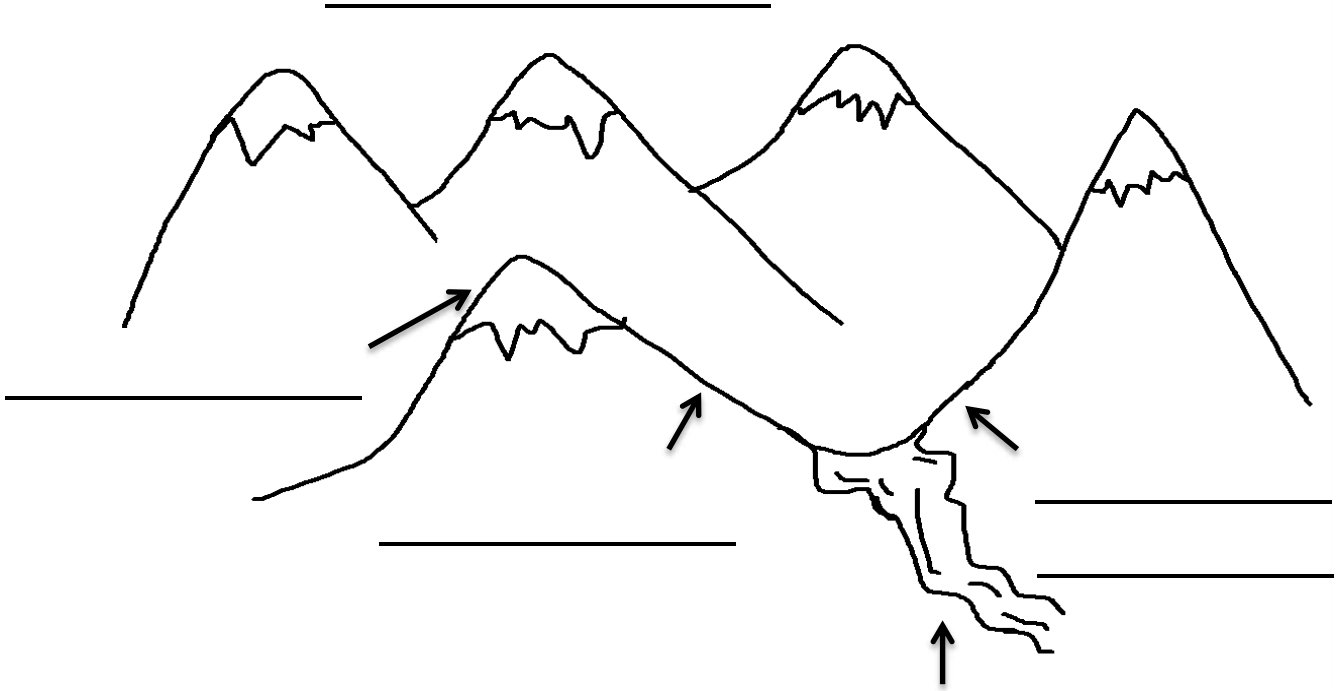


أشكال سطح الأرض ١

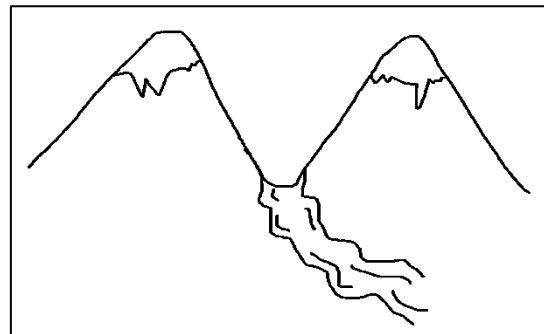
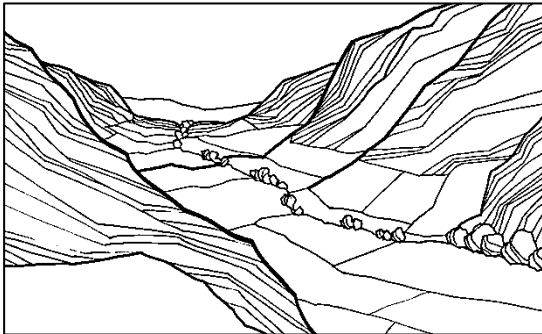
التاريخ:

السؤال (٣) : أكتب أقسام الجبل التالي :

وادي | سفح | سلسلة جبلية | قدم الجبل | قمة





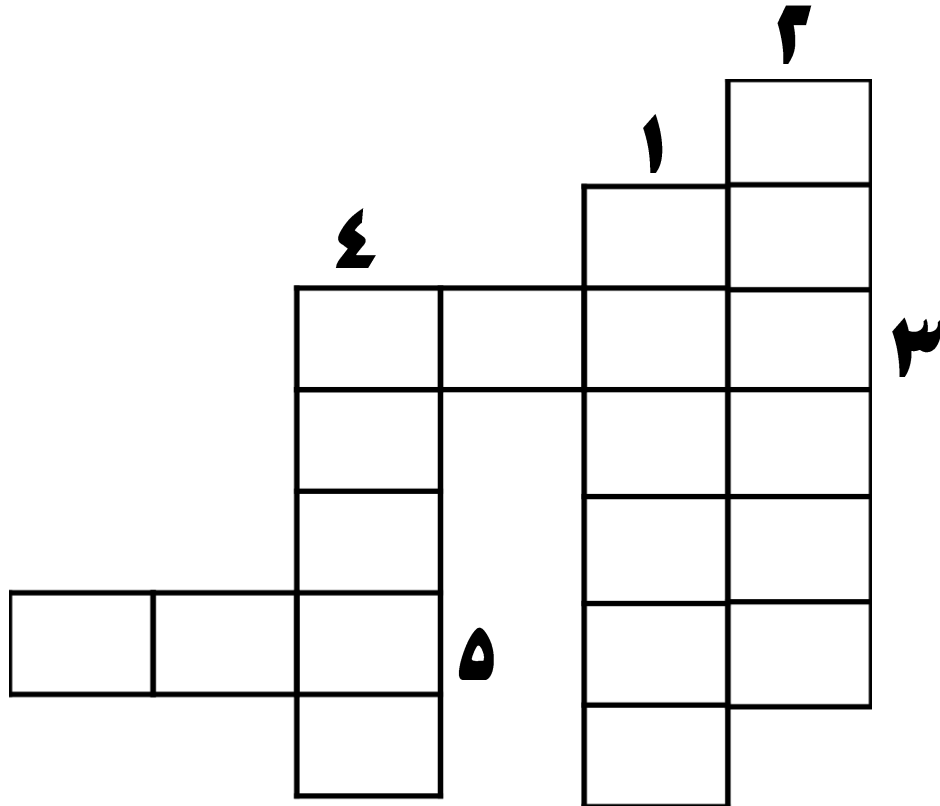
السؤال (٤) : أملأ الفراغ بما يناسبه: (وادٍ جاف | وادٍ يجري به نهر)



أشكال سطح الأرض ٢

التاريخ

السؤال (١) : أجد الكلمات المتقاطعة :





١ - قسم من اليابسة متصل بالبحر .

٢ - مجموعة من الجزر المتجاورة .

٣ - تقدمُ جزء من البحر إلى اليابسة .

٤ - قطعة من اليابسة تحيط بها الماء من كل الجهات .

٥ - تقدمُ جزء من اليابسة في البحر .



أشكال سطح الأرض ٢

التاريخ:

السؤال (٢) : أملأ البطاقات التعريفية لصديقتنا مملكة البحرين :



*هل أنا جزيرة ؟ نعم / لا

*هل أنا أرخبيل ؟ نعم / لا

الخلجان

الجزر

الرؤوس

أشكال سطح الأرض ٢

التاريخ

السؤال (٣) : أرسم شكل موقع كل من الآتي بالاستعانة بخريطة مملكة البحرين :





| الخلجان | |
|---------------|--|
| خليج القليعة | |
| خليج الكاب | |
| الرؤوس | |
| رأس أبو جرجور | |
| رأس حيان | |
| رأس الزلاق | |
| رأس البر | |
| الجزر | |
| جزر حوار | |
| أم النعسان | |
| المحرق | |

أشكال سطح الأرض ٢


التاريخ:

السؤال (٤) : أضع في المكان المناسب الكلمات الآتية :

رأس | خليج | شاطئ | جزيرة



السؤال (٥) : ما سبب تعرّج الشاطئ ؟



السؤال (١) : أحوّل الكلمات التي تدلّ على حاجات الإنسان ثم أكتبها في

الفراغ : 




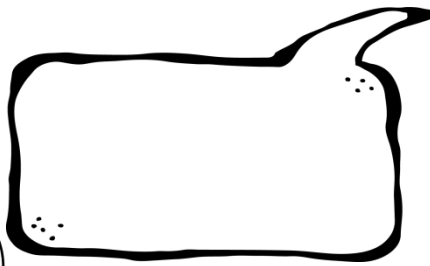



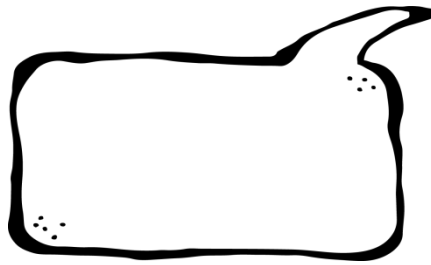



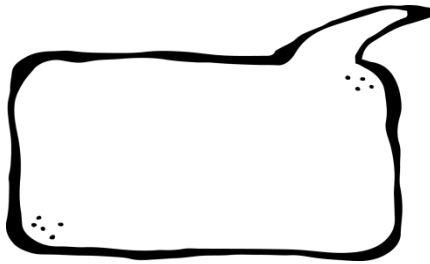

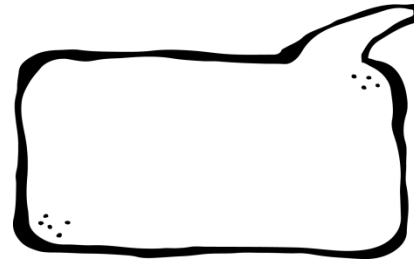


| | | | | |
|---|----|---|---|---|
| س | ب | ا | ي | ث |
| ي | نخ | ب | ك | ج |
| ا | ن | ك | س | م |
| ر | ر | ق | ط | ط |
| ة | ء | ا | م | ع |
| ض | ق | ر | و | ا |
| ث | ا | ث | أ | م |

Four large dashed-line boxes for writing, each with a cartoon character on top. The characters are arranged in two rows: the top row has four characters, and the bottom row has two characters centered under the first two boxes of the top row.

موارد الأرض في البر


التاريخ

السؤال (٢) : أكتب الحاجات التي أحصل عليها من خلال موارد الأرض التالية :





موارد الأرض في البر


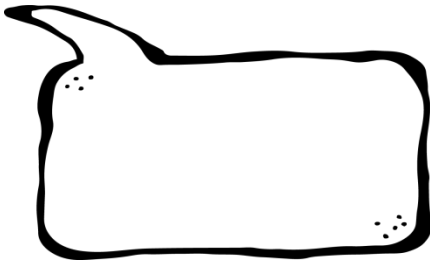
التاريخ:



أنا الغابة

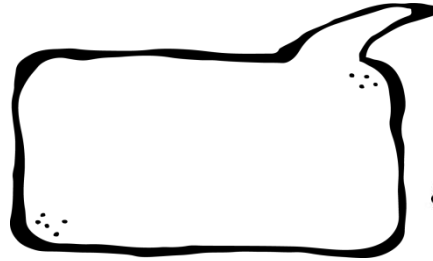
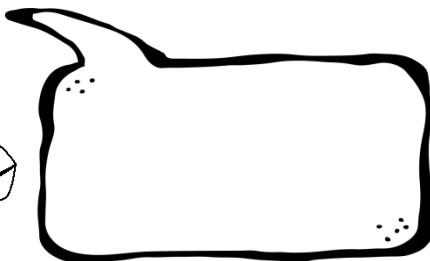
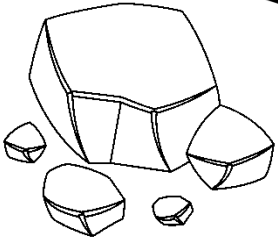


أنا المعادن



الفحم الحجري

النفط



النحاس

الحديد

موارد الأرض في البر

التاريخ:

السؤال (٣) : أملأ الفراغ بما يناسبه من كلمات :

من موارد الأرض :

ما يحصل عليه الإنسان من البر
والبحر يسمى

هذه دورة :


من الموارد الموجودة في باطن
الأرض :

للحصول على المعادن يحضر
الإنسان أنفاقاً في الأرض تسمى

موارد الأرض في البحر

التاريخ: _____

السؤال (١) : أذكر ثلاثة من موارد البحر :



السؤال (١) : أجب على أسئلة السمكة :



مرحباً أنا السمكة
فرفوشة

ما هي أدوات الصيد ؟

ماذا يحدث في الحظرة عندما تتقدم مياه البحر نحو الشاطئ ؟

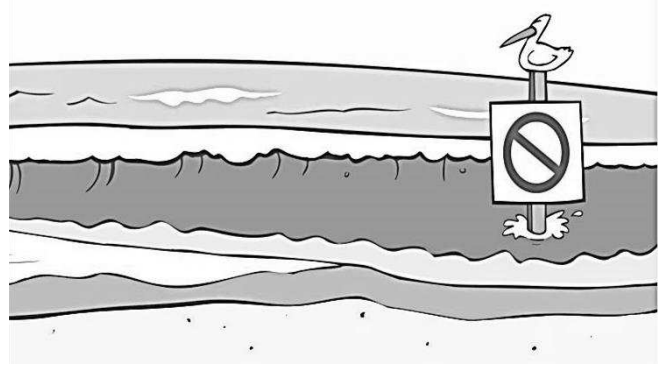
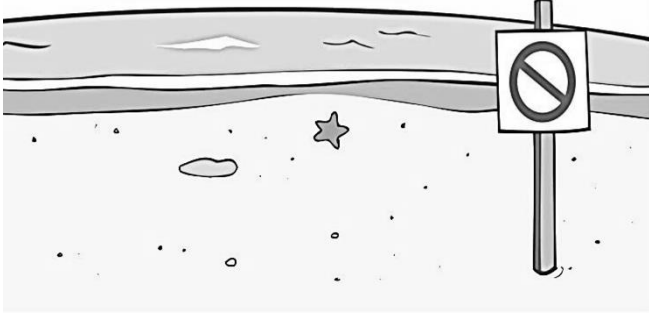
وماذا يحدث عندما تتراجع المياه ؟

ماذا أسمي حركة تقدم المياه وتراجعها ؟

موارد الأرض في البحر

التاريخ:

تابع السؤال : أجب على أسئلة السمكة فرفوشة :



هذه صورة ساحل البحر

أثناء _____

هذه صورة ساحل البحر

أثناء _____

السؤال (٢) : أكمل حديث مستر ملح :

يستعمل الإنسان _____ في الطعام ، فمياه البحر


تؤمن جزءاً كبيراً من _____ .

يحصل الإنسان على ملح الطعام من _____ التي يقيها

عند الشواطئ .


موارد الأرض في البحر

التاريخ:



السؤال (٣) : أكمل حديث لولو مرجانة :

تتضمن مياه البحار على _____، و _____ .
يستخرجه الصيادون من _____ البحر . يستعمله
الإنسان في صناعة _____ .
بلادنا مملكة الحرين مشهورة بـ _____



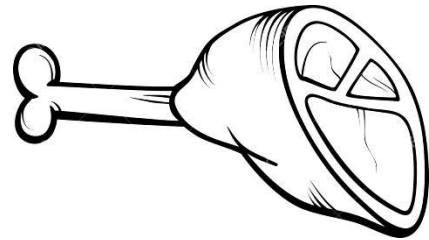


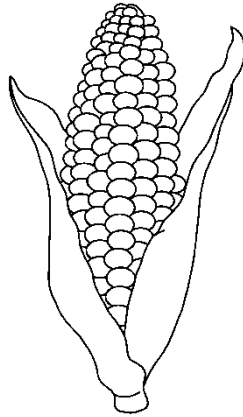



السؤال (٤) : أملأ البطاقات التالية بما يناسبها :

النشاطات التي يمارسها
الإنسان على شواطئ
البحار

من موانئ بلادي

تستخدم من أجل


ألون موارد البر باللون الأخضر بينما ألون موارد البحر باللون الأزرق :



من منتوجات بلادي

التاريخ:

السؤال (١) : أعدد ثلاثة من منتوجات بلادي :



السؤال (٢) : أجب على الأسئلة التالية :



• ما الذي يجعل أرض بلادي صالحة للزراعة ؟

• كيف ينتج المزارع المحاصيل الزراعية ؟

• ما معنى المحاصيل الزراعية ؟

من منتوجات بلادي

التاريخ:

السؤال (٣) : أملأ الفراغ بما يناسبه :

• مزارع مملكة البحرين الحديثة مجهزة بـ :


• تحول المصانع المنتوجات الحيوانية إلى :



• مصادر الطاقة في مملكة البحرين هي :

• من استخدامات مصادر الطاقة :


• من استخدامات الكهرباء : _____



من منتوجات بلادي

التاريخ:

السؤال (٤) : ألون الصور التالية بحسب اللون المحدد لنوعها :



المحاصيل الزراعية



أزرق

المزارع الحديثة



أصفر

المنتوجات الحيوانية




برتقالي

مصنوعات غذائية



أخضر

تبنى من أموال بيع النفط



بنفسجي

