

تم تحميل هذا الملف من موقع المناهج البحرينية



*للحصول على أوراق عمل لجميع الصفوف وجميع المواد اضغط هنا

<https://almanahj.com/bh>

* للحصول على أوراق عمل لجميع مواد الصف الثاني اضغط هنا

<https://almanahj.com/bh/2>

* للحصول على جميع أوراق الصف الثاني في مادة علوم ولجميع الفصول, اضغط هنا

<https://almanahj.com/bh/2science>

* للحصول على أوراق عمل لجميع مواد الصف الثاني في مادة علوم الخاصة بـ الفصل الثاني اضغط هنا

<https://almanahj.com/bh/2science2>

* لتحميل كتب جميع المواد في جميع الفصول للـ الصف الثاني اضغط هنا


<https://almanahj.com/bh/grade2>

* لتحميل جميع ملفات المدرس حسين غباشنة اضغط هنا

للتحدث إلى بوت على تلغرام: اضغط هنا

https://t.me/omcourse_bot

السؤال الأول : صل بخط بين الصورة والكلمة الدالة على الطقس فيها:

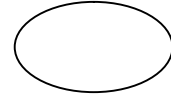
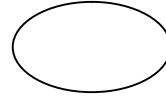
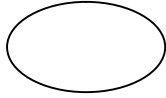
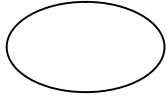



مثلج

مشمس

السؤال الثاني : أختار الكلمة المناسبة لكل فصل في الصورة وأكتبها أسفل الصورة في


(1) الربيع ،، (2) الصيف ،، (3) الخريف ،، (4) الشتاء



السؤال الثالث : أكمل بوضع الكلمة المناسبة من الكلمات المحصورة مستعينا بالصورة الدلالية :

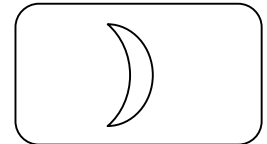
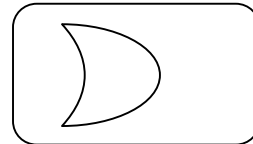
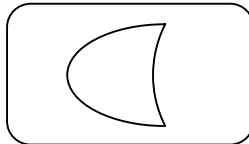



(□) : تسقط أوراق الأشجار في فصل (الشتاء / الخريف / الصيف / الربيع)



(□) : تنضج الثمار في فصل (الشتاء / الخريف / الصيف / الربيع)

السؤال الرابع : أكمل أطوار القمر بالرسم المناسب:



بدر

تربيع آخر

تربيع أول

هلال