

مراجعة فصل الكسور تمثيل مقارنة مسائل كلامية



تم تحميل هذا الملف من موقع مناهج مملكة البحرين

موقع المناهج ← مناهج مملكة البحرين ← الصف الثاني ← رياضيات ← الفصل الثاني ← ملفات متنوعة ← الملف

تاريخ إضافة الملف على موقع المناهج: 2026-04-09 14:54:53

ملفات اكتب للمعلم اكتب للطالب الاختبارات الكترونية الاختبارات حلول عروض بوربوينت أوراق عمل منهج انجليزي ملخصات وتقارير مذكرات وبنوك الامتحان النهائي للمدرس

المزيد من مادة رياضيات:

التواصل الاجتماعي بحسب الصف الثاني



صفحة مناهج مملكة البحرين على فيسبوك

الرياضيات

اللغة الانجليزية

اللغة العربية

التربية الاسلامية

المواد على تلغرام

المزيد من الملفات بحسب الصف الثاني والمادة رياضيات في الفصل الثاني

كراسة عباقرة الرياضيات تضم وحدات القياس والكسور والأعداد 2023-2024م

1

مذكرة شاملة كنوز المعرفة خاصة بمدينة سمس 2025 و 2026م

2

مذكرة رحلتي للتعلم في الرياضيات الأنشطة التدريبية الشاملة

3

الكراسة الشاملة سوبر الرياضيات 2024 و 2025م

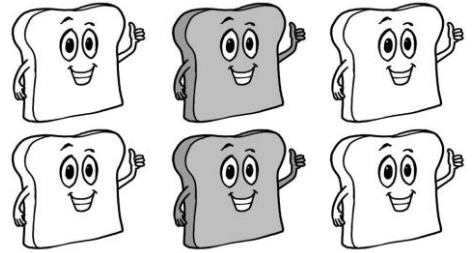



4

مذكرة براعم الرياضيات


5

أسئلة مراجعة في فصل الكسور


أولاً - اكتب رمز الكسر الذي يمثله المجموعة المظلة فيما يأتي :




ثانياً - لون الشكل حسب الكسر المكتوب بالأسفل :



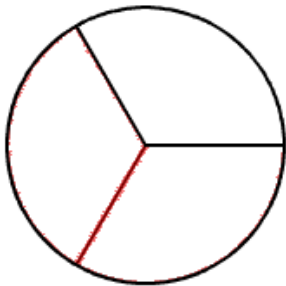
$$\frac{6}{10}$$



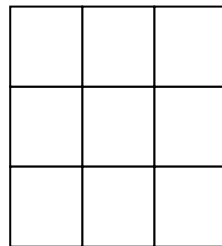
$$\frac{4}{8}$$



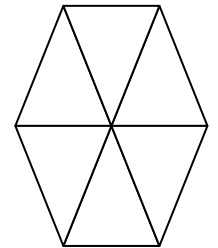
$$\frac{4}{10}$$



$$\frac{2}{3}$$

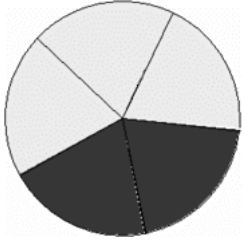


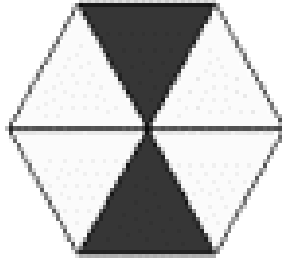
$$\frac{3}{9}$$

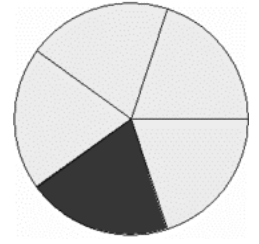


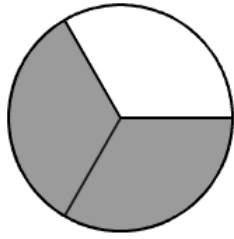
$$\frac{1}{6}$$

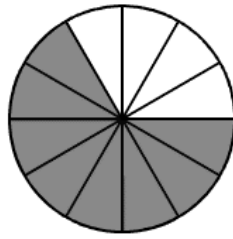
ثالثا - اكتب رمز الكسر للأجزاء المظلمة :

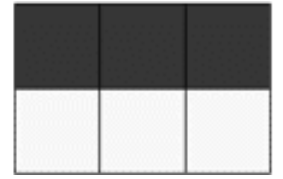












رابعاً - ضع (> ، <) في في

$$\frac{1}{1} \bigcirc \frac{1}{2}$$

$$\frac{1}{3} \bigcirc \frac{1}{4}$$

$$\frac{1}{6} \bigcirc \frac{1}{3}$$

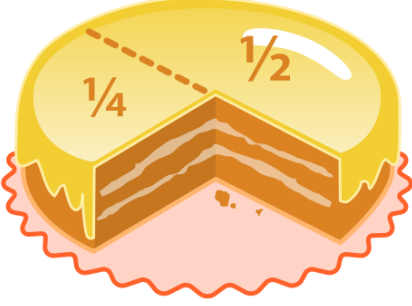
$$\frac{1}{7} \bigcirc \frac{1}{5}$$

$$\frac{1}{4} \bigcirc \frac{1}{7}$$

$$\frac{1}{3} \bigcirc \frac{1}{2}$$

خامسا - اقرأ المسائل التالية ، ثم حاول تمثيلها بالرسم لتوجد الكسر :

- ١- أعدت أمي كعكة برتقال و قسمتها إلى أربع قطع فأكلت قطعة واحدة ، فما الكسر الذي يدل على الأجزاء الباقية ؟



- ٢- في المزرعة ١٢ شجرة برتقال ٤ منها مثمرة و الباقي غير مثمر ، فما الكسر الدال على عدد الشجر المثمر ؟

- ٣- كان على الشجرة ٨ طيور ٢ منها كبيرة و الباقي صغيرة ، فما الكسر الدال على عدد الطيور الصغيرة ؟

- ٤- زرعت سعاد ٩ وردات ثلاث منها حمراء و الباقي صفراء ، فما الكسر الدال على الورود الحمراء ؟