

نشاط إضافي لمراجعة الفصل السادس



تم تحميل هذا الملف من موقع مناهج مملكة البحرين

موقع المناهج ← مناهج مملكة البحرين ← الصف الثاني ← رياضيات ← الفصل الأول ← ملفات متنوعة ← الملف

تاريخ إضافة الملف على موقع المناهج: 2025-12-28 17:02:22

ملفات اكتب للمعلم اكتب للطالب ا اختبارات الكترونية ا اختبارات ا حلول ا عروض بوربوينت ا أوراق عمل
منهج انجليزي ا ملخصات وتقارير ا مذكرات وبنوك ا الامتحان النهائي للمدرس

المزيد من مادة
رياضيات:

التواصل الاجتماعي بحسب الصف الثاني



صفحة مناهج مملكة
البحرين على
فيسبوك

الرياضيات

اللغة الانجليزية

اللغة العربية

التربية الاسلامية

المواد على تلغرام

المزيد من الملفات بحسب الصف الثاني والمادة رياضيات في الفصل الأول

حل كراسة الرياضيات

1

كراسة الرياضيات للفصل الدراسي الأول

2

مراجعة عامة لاختبار الرياضيات

3

ورقة عمل و نشاط في الطرح

4

ورقة عمل و نشاط في الرياضيات مسائل الطرح

5



نشاط إضافي لمراجعة الفصل السادس

السؤال الأول: أوجد ناتج طرح العشرات :

٦ عشرات - ٣ عشرات = _____ عشرات

_____ = _____ - _____

٥ عشرات - ٤ عشرات = _____ عشرات

_____ = _____ - _____

٤ عشرات - ٤ عشرات = _____ عشرات

_____ = _____ - _____

٥ عشرات - ٥ عشرات = _____ عشرات

_____ = _____ - _____

٦ عشرات - ٢ عشرات = _____ عشرات

_____ = _____ - _____

٨ عشرات - ١ عشرات = _____ عشرات

_____ = _____ - _____

٤ عشرات - ١ عشرات = _____ عشرات

_____ = _____ - _____

٥ عشرات - ١ عشرات = _____ عشرات

_____ = _____ - _____

٩ عشرات - ٣ عشرات = _____ عشرات

_____ = _____ - _____

٧ عشرات - ٦ عشرات = _____ عشرات

_____ = _____ - _____

٨ عشرات - ٣ عشرات = _____ عشرات

_____ = _____ - _____

٨ عشرات - ٧ عشرات = _____ عشرات

_____ = _____ - _____

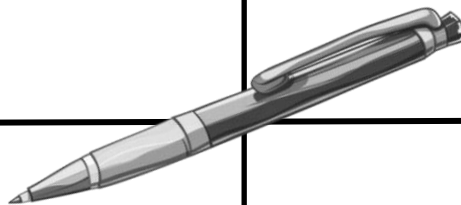
السؤال الثاني: أوجد ناتج الطرح مستعملاً حقيقة الطرح بالعد التنازلي:

٢ ٩

٣ -

٣ ٩

٠ ٣ -



٥ ٤

٤ -

٥ ٧

٣ ٢ -

٩ ٧

٢ -

٨ ٨

٦ ٣ -



٨ ٥

٣ -

٢ ٦

٠ ٣ -

السؤال الثالث: أوجد ناتج الطرح مستعملاً حقيقة الطرح بإعادة التجميع:



$$\begin{array}{r} 61 \\ - 16 \\ \hline \end{array}$$



$$\begin{array}{r} 63 \\ - 7 \\ \hline \end{array}$$



$$\begin{array}{r} 44 \\ - 9 \\ \hline \end{array}$$



$$\begin{array}{r} 52 \\ - 17 \\ \hline \end{array}$$




$$\begin{array}{r} 33 \\ - 19 \\ \hline \end{array}$$




$$\begin{array}{r} 23 \\ - 5 \\ \hline \end{array}$$

السؤال الرابع: أوجد ناتج طرح الأعداد التالية:

عشرات	آحاد
<input type="text"/>	
٣	٥
١	٨




عشرات	آحاد
<input type="text"/>	
٣	٦
١	٣




عشرات	آحاد
<input type="text"/>	
٢	٤
١	٦

عشرات	آحاد
<input type="text"/>	
٦	٥
٣	٨



عشرات	آحاد
<input type="text"/>	
٤	١
٢	٦



عشرات	آحاد
<input type="text"/>	
٤	٢
٢	٤

عشرات	آحاد
<input type="text"/>	
٨	٥
٤	٧



عشرات	آحاد
<input type="text"/>	
٩	٥
٤	٩



عشرات	آحاد
<input type="text"/>	
٧	١
٤	٤

السؤال الخامس: أوجد ناتج الطرح، ثم تحقق من صحة ناتج الطرح:

٦٥

+

٤٥

٤٥


+

٣٣

٦٤

+

٤٢



٩١

+

١١

٥٩

+

١١

٧٨

+

١٥

٢٥

+

١٤

٥٩


+

٣٢

٧٧

+

٤٥



٨٣

+

٢٢

٢٦

+

١٢

٩٣

+

٣٢

السؤال السادس: قرب إلى أقرب عشرة، قم أوجد ناتج الطرح:



٢ ٦



١ ٢

-




٢ ٧



١ ١

-





٤ ٥



١ ٦

-




٥ ٨



٢ ٧

-





٣ ٨



٣ ٠

-




٥ ٩



٣ ٥

-





٩ ١



٣ ٢

-



٦ ٩



٢ ٥


-

السؤال السابع: اقرأ المسائل جيداً ثم أوجد ناتج الطرح:



لدى أحمد ١٤ قلم ، أعطى صديقه ٧ أقلام ، فكم قلم لديه ؟

$$\text{قلم} \quad \underline{\hspace{2cm}} = \underline{\hspace{2cm}} \bigcirc \underline{\hspace{2cm}}$$



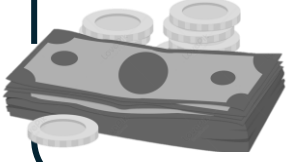
لدى جاسم ١٦ دفتر ، ووزع ٩ دفاتر ، فكم دفتر بقي مع جاسم ؟

$$\text{دفتر} \quad \underline{\hspace{2cm}} = \underline{\hspace{2cm}} \bigcirc \underline{\hspace{2cm}}$$



لدى فاطمة ٢٠ وردة ، وأعطت صديقاتها ٨ منهم ، فكم وردة بقيت معها ؟

$$\text{وردة} \quad \underline{\hspace{2cm}} = \underline{\hspace{2cm}} \bigcirc \underline{\hspace{2cm}}$$



لدى نور ١٨ ديناراً ، و دفعت ٧ دنانير ، فكم دينار تبقى لديها ؟

$$\text{دينار} \quad \underline{\hspace{2cm}} = \underline{\hspace{2cm}} \bigcirc \underline{\hspace{2cm}}$$



لدى مريم ٣٠ مقص ، ووزعت ٢٠ مقص على طالبات الصف ، فكم مقص تبقى لديها ؟

$$\text{مقص} \quad \underline{\hspace{2cm}} = \underline{\hspace{2cm}} \bigcirc \underline{\hspace{2cm}}$$



لدى إبراهيم ٦٠ ورقة ، ووزع ٤٠ ورقة ، فكم ورقة بقيت لديه ؟

$$\text{ورقة} \quad \underline{\hspace{2cm}} = \underline{\hspace{2cm}} \bigcirc \underline{\hspace{2cm}}$$