

تم تحميل هذا الملف من موقع المناهج البحرينية



مذكرة رياض 152

موقع المناهج ← المناهج البحرينية ← الصف الأول الثانوي ← رياضيات ← الفصل الثاني ← مذكرات وبنوك ← الملف

تاريخ إضافة الملف على موقع المناهج: 13:18:34 2025-03-11

ملفات اكتب للمعلم اكتب للطالب الاختبارات الكترونية الاختبارات ا حلول اعروض بوربوينت أوراق عمل
منهج انجليزي املخصات وتقارير ا مذكرات وبنوك الامتحان النهائي للمدرس

المزيد من مادة
رياضيات:

التواصل الاجتماعي بحسب الصف الأول الثانوي



صفحة المناهج
البحرينية على
فيسبوك

الرياضيات

اللغة الانجليزية

اللغة العربية

التربية الاسلامية

المواد على تلغرام

المزيد من الملفات بحسب الصف الأول الثانوي والمادة رياضيات في الفصل الثاني

مراجعة الاختبار الأول مقرر رياض 152

1

حل بطاقة مراجعة الاختبار الأول

2

ملف أعمال الطالب في مادة الرياضيات

3

مذكرة رياض 152


4

مراجعة الاختبار الثاني مقرر رياض 152

5


السؤال الثاني : ألون الجزء الذي يمثله الكسر :

نصف




$$\frac{1}{2}$$

ثمن




$$\frac{1}{8}$$

ثلث




$$\frac{1}{3}$$

سدس




$$\frac{1}{6}$$

خمس



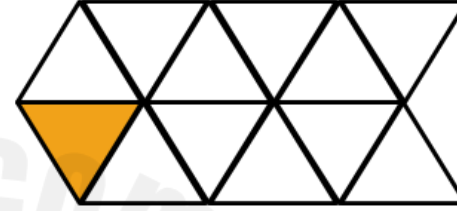
$$\frac{1}{5}$$

ربع



$$\frac{1}{4}$$

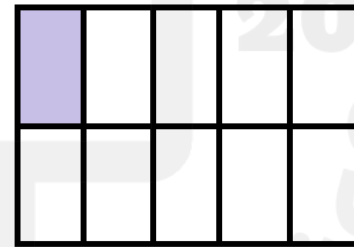
السؤال الأول : أكتب الكسر الدال على الجزء الملون :



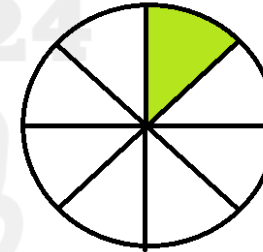
$$\frac{\square}{\square}$$



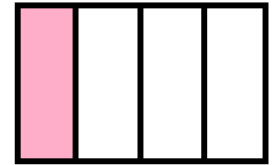
$$\frac{\square}{\square}$$



$$\frac{\square}{\square}$$

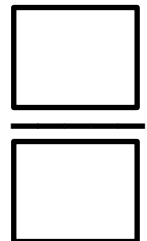
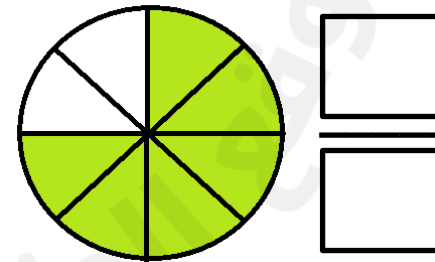

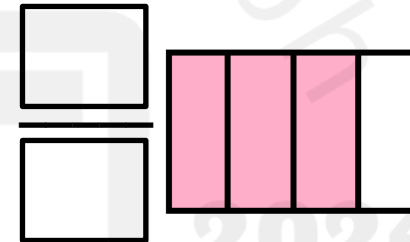
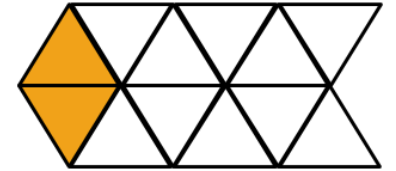
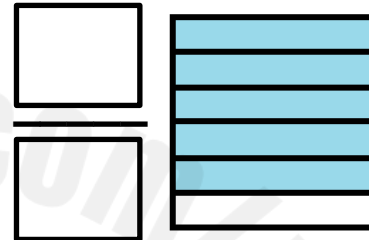


$$\frac{\square}{\square}$$

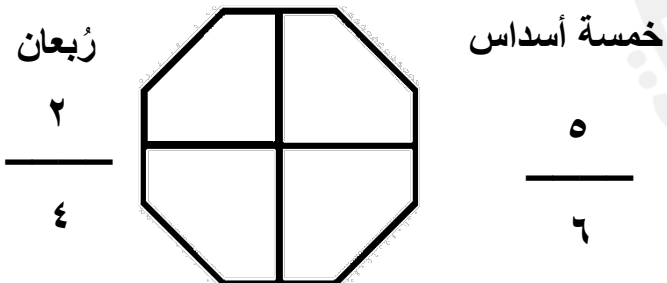
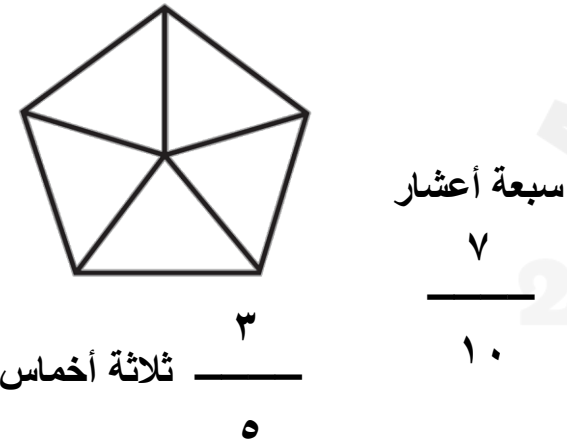
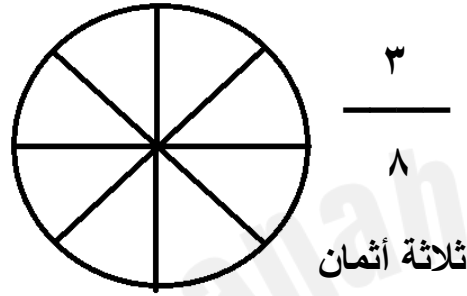
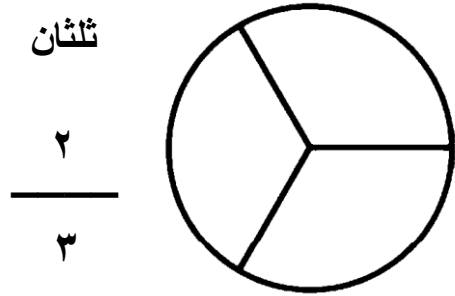


$$\frac{\square}{\square}$$

السؤال الأول : أكتب الكسر الدال على الجزء الملون :




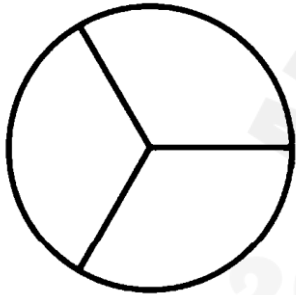
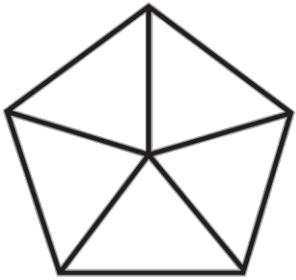


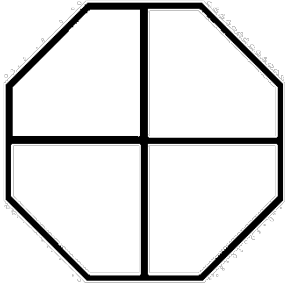
السؤال الثاني : أقرأ الكسر ثم ألون الأجزاء التي يمثلها:



التاريخ : ١١

صفحة ١٤ : كسور مساوية للواحد

ألون بحسب المطلوب :



$\frac{4}{4}$



أصفر

$\frac{4}{4}$



أخضر

$\frac{5}{5}$



بنفسجي

$\frac{5}{5}$



وردي

$\frac{4}{4}$



أزرق

$\frac{4}{4}$


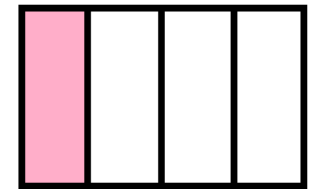
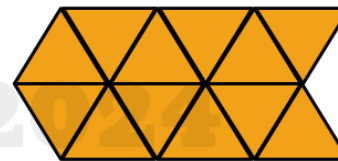
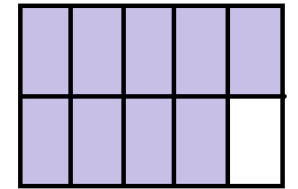
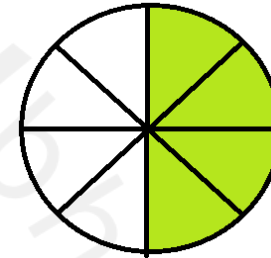
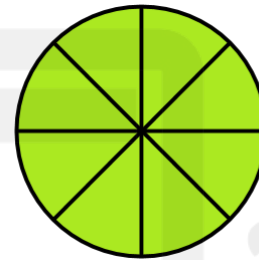
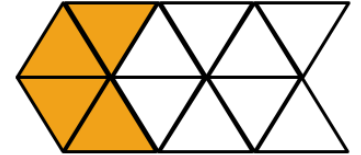
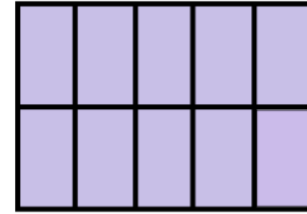



بحري

التاريخ : ١١

صفحة ١٣ : كسور مساوية للواحد



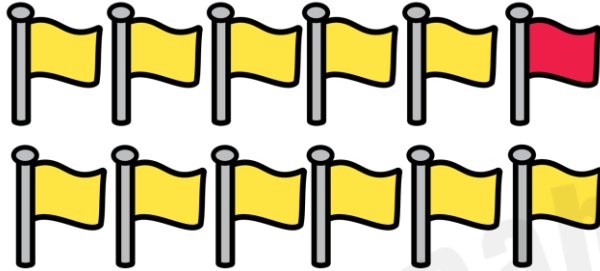
أحوط الكسور المساوية للواحد، ثم أكتبها :



التاريخ : ١١

صفحة ١٦ : الكسور كأجزاء من مجموعة

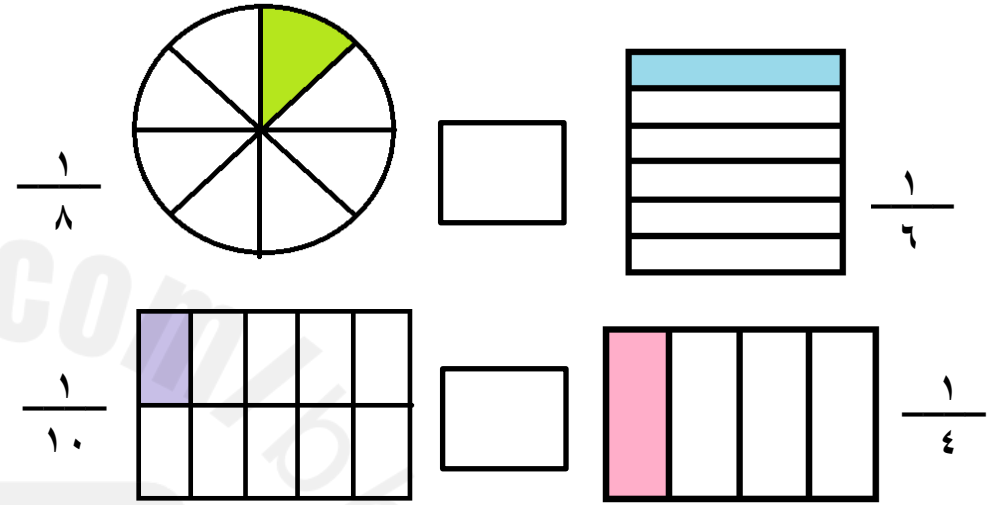
أكتب الكسر الدال على عدد الأشياء الملونة بالأحمر :



التاريخ : ١١

صفحة ١٥ : مقارنة الكسور

السؤال الأول : أقرن بين الكسور :



السؤال الثاني : أقرن بين الكسور ثم ألون الإشارة المناسبة:

